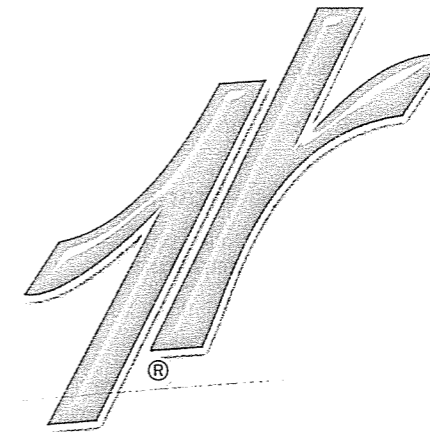


YGS

**Sosyal
Bilimler**

Denemeleri

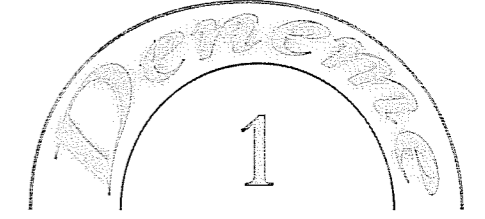
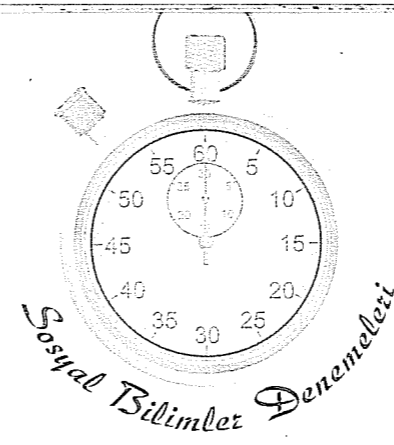


bry



İçindekiler

<i>Sosyal Bilimler Denemeleri 1</i>	7 – 14
<i>Sosyal Bilimler Denemeleri 2</i>	15 – 22
<i>Sosyal Bilimler Denemeleri 3</i>	23 – 30
<i>Sosyal Bilimler Denemeleri 4</i>	31 – 38
<i>Sosyal Bilimler Denemeleri 5</i>	39 – 46
<i>Sosyal Bilimler Denemeleri 6</i>	47 – 54
<i>Sosyal Bilimler Denemeleri 7</i>	55 – 62
<i>Sosyal Bilimler Denemeleri 8</i>	63 – 70
<i>Sosyal Bilimler Denemeleri 9</i>	71 – 78
<i>Sosyal Bilimler Denemeleri 10</i>	79 – 86
<i>Sosyal Bilimler Denemeleri 11</i>	87 – 94
<i>Sosyal Bilimler Denemeleri 12</i>	95 – 102
<i>Sosyal Bilimler Denemeleri 13</i>	103 – 110
<i>Sosyal Bilimler Denemeleri 14</i>	111 – 118
<i>Sosyal Bilimler Denemeleri 15</i>	119 – 126
<i>Sosyal Bilimler Denemeleri 16</i>	127 – 134
<i>Sosyal Bilimler Denemeleri 17</i>	135 – 142
<i>Sosyal Bilimler Denemeleri 18</i>	143 – 150
<i>Sosyal Bilimler Denemeleri 19</i>	151 – 158
<i>Sosyal Bilimler Denemeleri 20</i>	159 – 166
<i>Sosyal Bilimler Denemeleri 21</i>	167 – 174
<i>Sosyal Bilimler Denemeleri 22</i>	175 – 184
<i>Sosyal Bilimler Denemeleri 23</i>	185 – 192
<i>Sosyal Bilimler Denemeleri 24</i>	193 – 200
<i>Sosyal Bilimler Denemeleri 25</i>	201 – 208



1. I. Konya Çatalhöyük'te saban kalıntıları
II. Çanakkale Truva'da demir silahlar
III. Antalya Beldibi mağaralarındaki taş keskililer
IV. Kayseri Kültepe tabletleri

Yukarıdaki tarihsel buluntuları kronolojik düzende incelemek isteyen bir Anadolu tarihçisi sırasıyla hangi şehirleri gezmelidir?

- A) Çanakkale - Konya - Antalya - Kayseri
B) Antalya - Konya - Kayseri- Çanakkale
C) Antalya - Kayseri - Çanakkale- Konya
D) Kayseri - Antalya - Çanakkale- Konya
E) Antalya - Konya - Çanakkale - Kayseri

2. Kürşad ve arkadaşları, Çin'de esir olan Türkleri kurtarmak amacıyla Çin sarayını basıp isyan başlatmışlardır. Doğu Göktürklerin Çin'deki esaretini sonlandırmayı amaçlayan bu isyan esaret altındaki Türklere umut vermiştir.

Bu bilgilere bakılarak aşağıdakilerden hangisi söylenemez?

- A) Göktürklerde ikili teşkilat anlayışının görüldüğü
B) Çinlilerle Türkler arasında egemenlik mücadelesi yaşandığı
C) Göktürklerin Çin baskısına son verdiği
D) Göktürklerin eski gücünde olmadığı
E) Türklerin bağımsızlıklarına düşkün olduğu

3. Türklerin İslamiyet'i kabul etmesinde daha önceki dini inançlarının İslamiyet'e benzerlik göstermesi etkiliydi.

İslamiyet'in aşağıdaki özelliklerinden hangisi buna örnek gösterilemez?

- A) Tek tanrılı anlayışın olması
B) Ahiret inancının olması
C) Kurban kesme anlayışının olması
D) Cihad anlayışının var olması
E) Cennet, cehennem kavramlarının olması

4. Abbasilerin aşağıdaki özelliklerinden hangisi kurdukları devletin Emevilerdeki "Arap Devleti" niteliğinin aksine "İslam Devleti" niteliğinde olmasını sağlamıştır?

- A) Başkenti Şam'dan Bağdat'a taşınmaları
B) Helenistik eserleri Arapçaya çevirmeleri
C) Ordugah şehirler kurmaları
D) Ümmetçi bir anlayışa sahip olmaları
E) İslam rönesansı devrini başlatmaları

5. Kayseri'deki Hond Hatun Külliyesi, Anadolu Selçuklu hükümdarı I. Alaaddin Keykubat'ın hanımı Mahperi Hatun tarafından yaptırılmıştır.

Yukarıdaki bilgiye bakılarak hangisine ulaşılamaz?

- A) Anadolu Selçuklularında sağlık ve eğitime önem verildiğine
B) Anadolu Selçuklularında hatunların da toplumsal dayanışmaya katıldığına
C) Anadolu Selçuklularında mimari faaliyetlerin olduğuna
D) Anadolu Selçuklularında toplumsal faaliyetlerin hatunların yönetimine bırakıldığına
E) Anadolu Selçuklularının İslam kültüründen etkilendiğine

6. Anadolu Selçuklularının Türk-İslam tarihine en büyük katkıları Haçlılarla mücadele etmeleri ve Anadolu'da ticareti geliştirmeleridir.

Aşağıdakilerden hangisi Anadolu Selçuklularının ticareti geliştirmek amacıyla yaptıkları uygulamalardan değildir?

- A) Kervansaraylar inşa etmeleri
B) İta sistemini kurlmaları
C) Liman bölgelerini ele geçirmeleri
D) Yollarını güvenliğine önem vermeleri
E) Gümrük indirimleri uygulamaları

7. Fatih Sultan Mehmet, Osmanlı Devleti'ni sadece bir dünya devleti yapmakla kalmamış; merkezi otoriteyi güçlendirmeye de büyük önem vermiştir.

Buna göre Fatih dönemindeki aşağıdaki uygulamalardan hangisi merkezi otoriteyi güçlendirme amacı taşımaz?

- A) Yabancı bilim adamlarına İstanbul'da çalışma ortamı sağlanması
B) Kanunname-i Ali Osmaniye'nin hazırlanması
C) Enderun mektebinin kurulması
D) Divan üyelerinin aldıkları kararları arz odasında padişaha sunmaya başlaması
E) Topkapı Sarayı'nın yapılması

8. Osmanlı Devleti'nin kuruluş ve yükselme dönemindeki "Ocak devlet içindir." anlayışı, duraklama döneminde yerini "Devlet ocak içindir." anlayışına bırakmıştır. Bu anlayışla hareket eden yeniçeriler sık sık ayaklanmış ve karışıklıklara neden olmuştur. Yeniçeri isyanları "İstanbul isyanları" olarak da adlandırılır.

Aşağıdakilerden hangisi İstanbul isyanlarının sadece yeniçerilerden kaynaklanmadığını gösterir?

- A) Yeniçerilerin isyanlarına bağlı olarak padişah değişmesi
B) Fetihlerin durması ve ganimetlerin azalması
C) İsyanlara müderris, ulema ve esnafların da zaman zaman destek vermesi
D) Kafes sistemiyle yetişen padişahların tecrübesizliği
E) Tımarlı sipahilerin azalmasıyla taşrada asayişin bozulması

9. XIX. yy'da Osmanlı Devleti'nin tımar ve zeameti kaldırarak iltizam sistemine yönelmesi,

- I. Anadolu'da tarımsal üretimin aksamaması,
II. Hazineye nakit girişinin sağlanması,
III. Tımarlı sipahilerin sayısının azalması

gelişmelerinden hangisine ortam hazırlamıştır?

- A) Yalnız I
B) I ve II
C) I ve III
D) II ve III
E) I, II ve III

10. I. Dünya Savaşı'nda Osmanlı ordularına bazı cepheelerde Alman subaylar komuta etmiştir. Almanya'nın bu tutumunda,

- I. Osmanlı ordusunun insan gücünün yetersizliği,
II. Osmanlı ordusunun teknik yetersizliği,
III. Osmanlı ordusunun Müslüman askerlerden oluşması,

durumlarından hangilerinin etkili olduğu söylenemez?

- A) Yalnız I
B) I ve II
C) I ve III
D) II ve III
E) I, II ve III

11. Mondros Mütarekesi sonrası M. Kemal, Osmanlı hükümeti tarafından Samsun'a gönderilmiştir.

Buna göre,

- I. Samsun ve çevresindeki olayları önlemek,
II. Milli Mücadele'nin ilk adımını atmak,
III. Mondros Mütarekesi uyarınca bölgenin işgali-ni önlemek

durumlarından hangileri Mondros Mütarekesi'nden sonra M. Kemal'in Osmanlı hükümeti tarafından Samsun'a gönderiliş amaçlarından değildir?

- A) Yalnız I
B) Yalnız II
C) I ve II
D) I ve III
E) II ve III

12. Milli Mücadele'ye katkı sağlamak amacıyla düzenlendiği halde "ulusal egemenlik" anlayışıyla çelişen kararların alındığı genelge veya kongre aşağıdakilerden hangisidir?

- A) Amasya Genelgesi
B) Balıkesir Kongresi
C) Erzurum Kongresi
D) Sivas Kongresi
E) Havza Genelgesi

13. Aşağıdakilerden hangisinde I. TBMM'ye karşı çıkarılan isyan ve bu isyanın kaynağı yanlış eşleştirilmiştir?

- | Kaynak | İsyan |
|--|---------------------------|
| A) İstanbul Hükümeti | Konya-Bozkır Ayaklanması |
| B) İstanbul Hükümeti-İtilaf Devletleri | Kuvayi İnzibatiye |
| C) Kuvayi Milliyeciler | Çerkez Ethem |
| D) İtilaf Devletleri | Urfa-Mardin Milli Aşireti |
| E) Kuvayi Milliyeciler | Afyon-Çopur Musa |

14. I. İnönü Savaşı'nın,

- I. TBMM'nin Londra Konferansı'na davet edilmesi,
II. Düzenli orduya katılımın artması,
III. Sovyet - Rusya ile TBMM arasında Moskova Antlaşması'nın imzalanması

sonuçlarından hangileri TBMM'nin saygınlığının arttığını gösterir?

- A) Yalnız I
B) I ve II
C) I ve III
D) II ve III
E) I, II ve III

15. Lozan Konferansı'nın aşağıdaki maddelerinden hangileri Türkiye'nin egemenlik haklarına aykırıdır?

- A) Kapitülasyonların kaldırılması
B) Osmanlı Devleti'nden devralınan tren yolları, elektrik idareleri gibi yabancı yatırımların millileştirilmesi
C) Duyunu Umumiye'nin kaldırılması
D) Boğazların Türkiye başkanlığında bir komisyona bırakılması
E) Azınlık ve yabancı okullarının her türlü işleyişini Türk hükümetinin belirlemesi

16. Şeyh Sait ayaklanması, Menemen isyanı ve Atatürk'e suikast girişimi gibi olaylar Atatürkçülüğün aşağıdaki temel ilkelerinden daha çok hangisine yönelik gerçekleştirilmiştir?

- A) Cumhuriyetçilik
B) Halkçılık
C) Laiklik
D) Milliyetçilik
E) İnkılapçılık

17. Aşağıda verilen Atatürk devrimlerinden hangilerinin birbirini bütünlendiği söylenemez?

- A) Saltanatın kaldırılması - Cumhuriyetin ilanı
- B) Türk Tarih Kurumu'nun kurulması - Türk Dil Kurumu'nun kurulması
- C) Medreselerin kapatılması - Üniversite reformu
- D) Türk Medeni Kanunu'nun ilanı - Tevhidi Tedrisat Kanunu
- E) Halifeliğin kaldırılması - Şeriyeye ve Evkaf Bakanlığının kaldırılması

18. Bir bölgenin 1/25.000 ölçekli haritasının 1/100.000 ölçekli haritasından farkı aşağıdaki-lerden hangisidir?

- A) Harita boyutunun daha küçük olması
- B) Birkaç özelliği birden göstermesi
- C) Kapsadığı alanı olduğundan daha büyük göstermesi
- D) Yeryüzünü daha ayrıntılı göstermesi
- E) Uzunluk ve alan hesaplanabilmesi

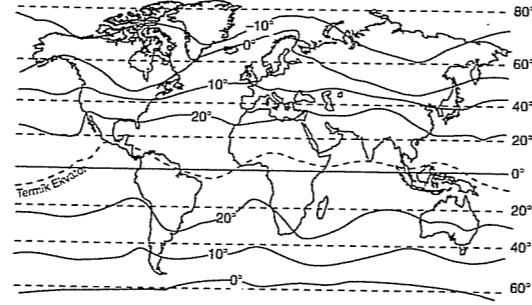
19. İstanbul'daki bir kişi yıl içindeki iki farklı günde aşağıdaki gözlemlerde bulunmuştur.

- I. gün: Gündüz süresi gece süresinden uzundur ve gündüz süresi kısalmaktadır.
- II. gün: Gündüz süresi gece süresinden kısadır ve gündüz süresi uzamaktadır.

Buna göre, söz konusu günler aşağıdakilerin hangisi olabilir?

- | I. gün | II. gün |
|---------------|-----------|
| A) 20 Ağustos | 23 Ekim |
| B) 20 Mayıs | 25 Aralık |
| C) 15 Temmuz | 25 Ocak |
| D) 14 Nisan | 5 Şubat |
| E) 5 Eylül | 20 Kasım |

20. Aşağıdaki haritada Dünya yıllık ortalama indirgenmiş izoterm haritası verilmiştir.



Bu haritayla ilgili aşağıdaki açıklamalardan hangisi yanlıştır?

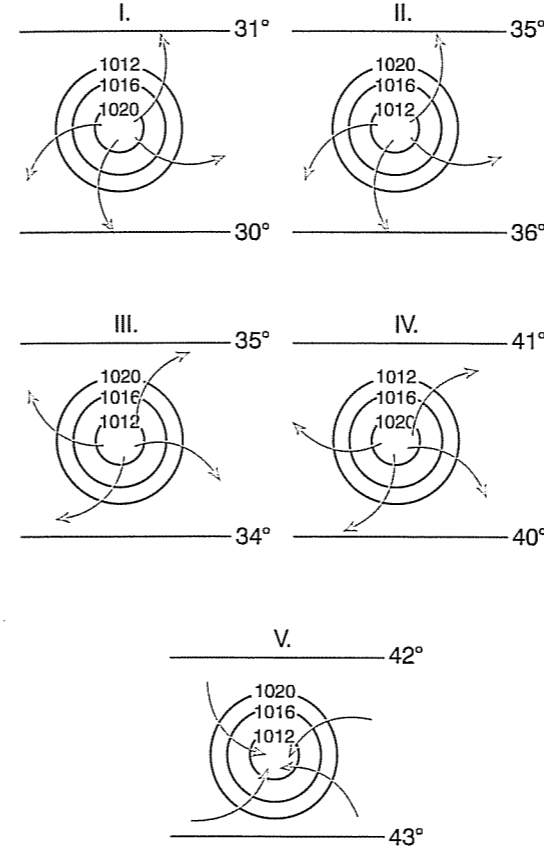
- A) Termik Ekvator'un Yer Ekvatoru'ndan sapmalar göstermesi karasallık ve okyanus akıntılarıyla ilgilidir.
- B) En düşük sıcaklıkla en yüksek sıcaklık arasındaki fark 30 °C'dir.
- C) İzoterm eğrilerinin Güney Yarım Küre'de Kuzey Yarım Küre'ye göre daha düzenli uzanması denizlerin daha geniş yer kaplamasıyla ilgilidir.
- D) Sıcaklık değerlerinin Ekvator'da kutuplara doğru genel olarak azalması enlem etkisiyle ilgilidir.
- E) Aynı eğri üzerindeki merkezlerde sıcaklıklar birbirine eşittir.

21. Bir ülkenin ithalatında ham ve yarı işlenmiş maddeler, ihracatında ise yapılmış eşya büyük bir paya sahiptir.

Buna göre, söz konusu ülkeyle ilgili aşağıdaki yargılardan hangisine ulaşamaz?

- A) Ürünlerin ticari değeri yüksektir.
- B) İkincil ve üçüncül faaliyetlerde çalışanların oranı fazladır.
- C) Teknoloji alt yapı bakımından dışa bağımlıdır.
- D) Yaşam standardı yüksektir.
- E) Ortalama yaşam süresi uzundur.

22. Aşağıda, belli enlem aralıklarında, herhangi bir anda oluşan basınç merkezi ve yatay hava hareketleri verilmiştir.



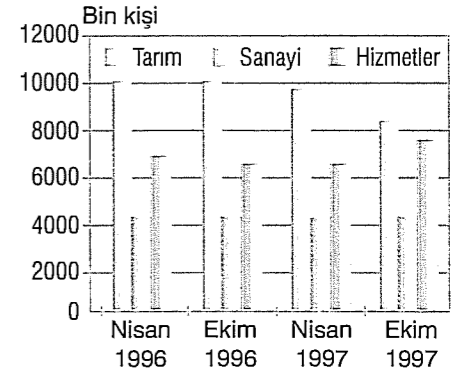
Buna göre, hangisinde hata yapılmamıştır?

- A) I
- B) II
- C) III
- D) IV
- E) V

23. Aşağıda verilen bölgelerin hangisinde sınırların birbirine en fazla benzerlik göstermesi beklenir?

- A) Petrol üretim bölgesi - Sanayi bölgesi
- B) Yağmur ormanları bölgesi - Yoğun nüfuslu bölge
- C) Levha sınırları bölgesi - Aktif volkanizma bölgesi
- D) Akdeniz iklimi bölgesi - Akdeniz kıyısı bölgesi
- E) Doğal gaz üretim bölgesi - Doğal gazın yoğun olarak tüketildiği bölge

24. Aşağıdaki grafik, 1996 ve 1997 yıllarının nisan ve ekim aylarında Türkiye'de çalışan nüfusun tarım, sanayi ve hizmetler sektörlerine göre dağılımını göstermektedir.



Bu grafikten aşağıdakilerin hangisiyle ilgili bilgi elde edilemez?

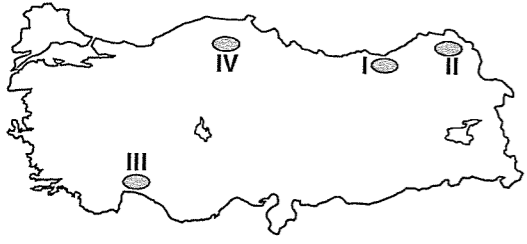
- A) Verilen dönemlere göre, çalışan nüfusun bu sektörler içindeki payları
- B) Hangi sektörde çalışan nüfusun en fazla olduğu
- C) Verilen dönemlerde, bu sektörlerde çalışan nüfusta değişme olup olmadığı
- D) Verilen dönemlerde, bu sektörlerde çalışan nüfusun toplam miktarı
- E) Verilen dönemlerde, bu sektörlerde çalışan nüfusun toplam nüfusun ülkenin toplam nüfusu içindeki payı

25. Doğal afetler can ve mal kayıplarına neden olan doğa olaylarıdır. Bu tür doğa olayları, yeryüzünde her zaman olmuştur. Ancak doğal afetler, insanın doğal dengeyi bozması oranında artarak devam etmektedir.

Buna göre, aşağıdakilerden hangisinin doğal afetlerin sıklık ve şiddetinin artmasında etkili olan etkenlerden biri olduğu söylenemez?

- A) Atmosferde sera etkisi yapan gazların oran olarak artması
- B) Ormanlık alanların her geçen gün büyük bir hızla azalması
- C) Akarsu yataklarının değiştirilerek kentsel yerleşim alanlarının vadi tabanlarına kurulması
- D) Akarsu havzalarındaki baraj sayısının artması
- E) Sulama, içme ve kullanma suyu temin etme gibi nedenlerden dolayı yer altı sularından aşırı su çekilmesi

26.

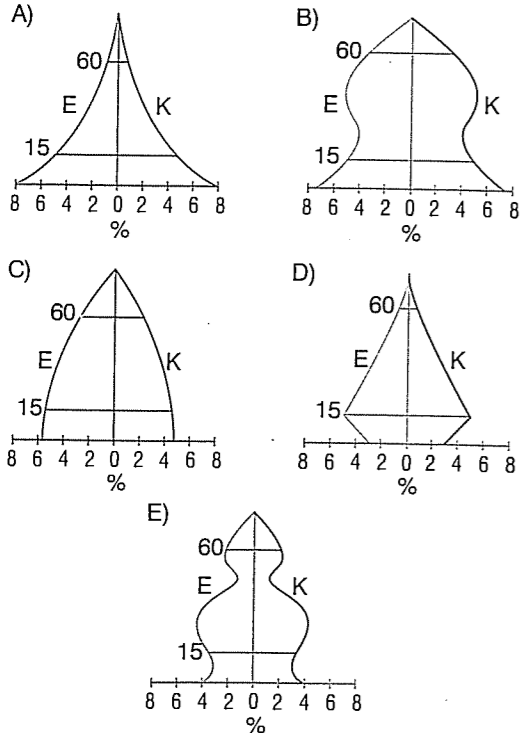


Yukarıdaki haritada numaralanmış yayla yerleşmeleriyle ilgili aşağıdakilerden hangisi yanlıştır?

- A) I. yöredeki yaylalar turizme açılmıştır.
 B) II. yöredeki yaylalarda klasik anlamda yaylacılık yapılmakta ve büyükbaş hayvan beslenmektedir.
 C) Verilen yayla yerleşmelerinin tümünde nüfus mevsimden mevsime değişir.
 D) III. yöredeki yaylalar sayfiye alanı olarak da kullanılmaktadır.
 E) IV. yöredeki yaylalar geniş tabanlı akarsu yataklarında kurulmuştur.

27. "Yüksek doğum ve ölüm oranlarına sahip olan ülkede, gelişme düzeyi düşüktür."

Bu ülkenin yaş piramidi, aşağıdakilerden hangisi olabilir?



28. Aşağıda, bazı yer şekilleri verilmiştir;

- Sander düzlüğü
- Çentik vadi
- Traverten
- Lagün
- Barkan
- Irmak adası
- Falez
- Obruk

Buna göre, verilen yer şekillerinden kaç tanesinin dış kuvvetlerin aşındırmasıyla oluştuğu söylenebilir?

- A) 2 B) 3 C) 4 D) 5 E) 6

29. ○ Tortum Gölü

- Küçük Çekmece Gölü
- Çıldır Gölü
- Köyceğiz Gölü

Yukarıdaki göllerin, göl çanağı oluşumunda aşağıdaki süreçlerden hangisinin etkili olduğu söylenebilir?

- A) Karstik çözünmenin
 B) Tektonik hareketlerin
 C) Doğal setleşmenin
 D) Volkanik faaliyetlerin
 E) Buzul aşındırmasının

30. Bir bölgenin aşağıdaki özelliklerinden hangisi, bölgenin yüksek ve engebeli olmasıyla açıklanamaz?

- A) Akarsu vadilerinin derin olması
 B) Kısa mesafelerde sıcaklık farklarının görülmesi
 C) Rüzgâr erozyonunun şiddetli olması
 D) Yol yapım giderlerinin yüksek olması
 E) Turizm olanaklarının çeşitli olması

31. Aşağıdakilerden hangisi su döngüsünü olumsuz yönde etkileyen durumlardan biri değildir?

- A) Sulamalı tarımın yaygınlaşması ile akarsular, sulak alanlar ve yer altındaki suların yararlanmasının artması
 B) Kentleşme ile beraber geniş bir alanın betonlaşması
 C) Doğal bitki örtüsünün tahrip edilmesi
 D) Akarsular üzerindeki baraj sayısının artması
 E) Sulak alanlarda ıslah çalışmalarının yapılması

32. Bir tarih öğretmeni dersine "Tarih, geçmişteki olayları yer ve zaman açısından, belgelere dayalı olarak inceleyen bilimdir." diyerek başlar. Yine bir biyoloji öğretmeni "Biyoloji, canlı organizmaları inceleyen bir bilimdir." diyerek başlar. Felsefe öğretmeni ise "Felsefe, insan nedir? Dünya nedir? Evren nedir? gibi soruların cevabını arar." diyerek dersine başlar.

Bu verilere dayanarak "Felsefeyi diğer bilgi alanlarından ayıran özellik nedir?" sorusuna aşağıdaki cevaplardan hangisi verilmelidir?

- A) Bir bilim dalı olmasıdır.
 B) En genel bilgi olmasıdır.
 C) Sistemli ve tutarlı olmasıdır.
 D) Belli bir eğitim gerektirmesidir.
 E) Eleştiriye açık olmasıdır.

33. I. Felsefede önemli olan doğru bilgiye ulaşmak değil, doğru bilginin peşinde olmaktır.
 II. Bilimde önemli olan gözlem ve deneyler yaparak bir varsayımı kanıtlamaktır.

Felsefe ve bilime ait bu iki düşünceye dayanarak aşağıdaki saptamalardan hangisinin felsefeye ait olduğunu söyleyebiliriz?

- A) Cevaplardan çok sorular önemlidir.
 B) Asıl amaç kesin bilgiye ulaşmaktır.
 C) Olgular arasındaki neden - sonuç ilişkisini kanıtlamaktır.
 D) Kanıtlanmamış bilgilerden vazgeçmektir.
 E) Gözleme ve deneye konu olmayan hiçbir bilgiyi incelememektir.

34. "Bir eylemin diğerlerinden daha akıllıca olduğundan emin olmamız için asla yeterince bilgiye sahip değiliz." diyen bir filozofun bu tutumu aşağıdakilerden hangisine örnek olarak verilebilir?

- A) Rasyonalizme
 B) Septisizme
 C) Empirizme
 D) Kritisizme
 E) Pozitivizm

35. "Varlık bir midir, yoksa birden çok mudur?" sorusuna bazı filozoflar tarafından şu cevap verilmiştir: "Varlık birdir; evrendeki diğer tüm varlıklar bu tek varlıktan meydana gelmişlerdir."

Bu düşünce varlık felsefesinde aşağıdaki kavramlardan hangisiyle temsil edilmektedir?

- A) Plüralizmle
 B) Monizmle
 C) Düalizmle
 D) Kritisizmle
 E) Materyalizmle

36. Dünyada olup biten şeylerin bir kısmı elimizde bir kısmı da elimizde değildir. Eğer elimizde olanı benimser ve başkasının olanı başkasına bırakırsak, kimse sana istemediğin bir şeyi yaptırılmaz ve istediğini de yapmana engel olamaz. Bunun sonucu olarak da olaylar karşısında sızlanmaz, kimseyi de suçlamazsın.

Epiktetos'un bu düşüncesi aşağıdaki ahlak ilkelere hangisinin doğruluğunu destekler?

- A) İnsan neyi tercih etmişse onu yaşar.
 B) İnsan kaderinden kaçamaz.
 C) İnsan nasıl isterse öyle olur.
 D) Mutluluk insanın kendi elindedir.
 E) İnsanın isteyip de ulaşamayacağı hiçbir şey yoktur.

37. Eğer bir Mimar Sinan, bir Dede Efendi, bir Shakespeare ya da bir Beethoven olmasaydı, doğal olarak ürettikleri eserler de olmayacaktı. Ancak bir Newton olmasaydı yer çekimi gene de bulunacaktı.

Bu açıklama sanatta hangi özelliğin bulunduğunu gösterir?

- A) Gelişmişliğin
B) Özgünlüğün
C) Çağdaşlığın
D) Faydanın
E) Evrenselliğin

38. Bilimin doğuşu için doğayı kontrole yönelik katı bir faydacılıktan çok, fayda amacı gütmeyen, katıksız bir anlama ve bilme tutkusuna ihtiyaç vardır.

Bu açıklamaya göre bir bilim insanı, aşağıdaki-lerden hangisini amaç edinirse, bilimin doğuşuna daha çok katkıda bulunur?

- A) Bilmek için bilmeyi
B) Hayatı kolaylaştırmak için bilmeyi
C) Tanınmış bir bilim insanı olmak için bilmeyi
D) Doğaya egemen olmak için bilmeyi
E) Teknoloji üretmek için bilmeyi

39. I. Dinsel konuları incelerken, dinin kavramlarını, anlamını, temel iddialarını ve insan yaşamındaki yerini, aklın sınırları içinde kalarak sorgulamalıyız. Bundan dolayı da tüm dinlere eşit mesafede durulmalıdır.

II. Bir dini incelerken öncelikle o dinin sınırları dışına çıkmamalıyız. Bundan dolayı da değerlendirmelerimizi kutsal kitaplara ve peygamberlere dayandırmalıyız.

Bu iki açıklama din felsefesinde hangi kavramlarla ilgilidir?

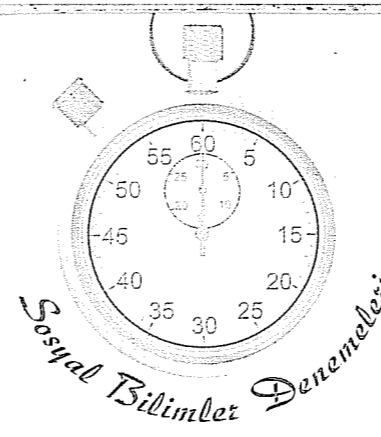
- | | |
|------------------|---------|
| I | II |
| A) Kutsallık | Yücelik |
| B) Tanrı | Vahiy |
| C) Din felsefesi | Teoloji |
| D) Peygamberlik | İnanç |
| E) Teoloji | İmam |

40. Filozoflar, var olan toplumsal düzenleri bazen zorbalıkları yüzünden, bazen eşit olmadıkları için, bazen de insan doğasına aykırı buldukları için eleştirmişlerdir. Ancak filozofların ya da siyaset bilimcilerin bütün çabalarına rağmen savaşların, haksızlıkların, işkencelerin, yoksulluğun adaletsizliğin önüne geçilememiştir. Filozoflar da değiştiremedikleri toplumsal koşullara karşı, gelecek kaygısının olmadığı, herkesin mutlu olduğu, işsizliğin ve savaşın olmadığı bir toplum modeli düşlemişlerdir.

Bu açıklama aşağıdaki sorulardan hangisinin cevabı olarak verilmelidir?

- A) Devletin kaynağı nedir?
B) Kaç çeşit egemenlik vardır?
C) Ütopyalar nasıl ortaya çıkmıştır?
D) Devlet gerekli midir?
E) Bürokrasiye niçin ihtiyaç vardır?

Deneme 1							
1	E	11	B	21	C	31	E
2	C	12	B	22	D	32	B
3	D	13	E	23	C	33	A
4	D	14	E	24	E	34	B
5	D	15	D	25	D	35	B
6	B	16	C	26	E	36	B
7	A	17	D	27	A	37	B
8	C	18	D	28	B	38	A
9	E	19	C	29	C	39	C
10	C	20	B	30	C	40	C



1. **Tanım:** Tarih insan topluluklarının geçmiş dönemlerde meydana getirdikleri her türlü faaliyetleri yer ve zaman göstererek, sebep-sonuç içinde belgelere dayalı olarak inceleyen bilim dalıdır.

Durum: İlkçağ'da yaşayan ve bir Ortadoğu uygarlığı olan Persler fetihçi değil, istilacı bir uygarlık olduklarından Anadolu'da birçok savaş kazanmalarına rağmen Anadolu'daki uygarlıklara üstünlük kuramamışlardır.

Yukarıdaki durumda tarih biliminin hangi özelliğine değinilmemiştir?

- A) Yer
B) Zaman
C) Neden-sonuç ilişkisi
D) Belgelere dayanma
E) Uluslar arası ilişkiler

2. I: Vergilerin belirlenmesi için matematikte gelişmeleri

II. Nil nehrinin taşma zamanını hesaplamak için astronomide gelişmeleri

III. Öldükten sonraki yaşama inandıkları için tıp ve mumyacılıkta gelişmeleri

IV. Arazi sınırlarının belirlenmesi için geometride gelişmeleri

Yukarıda verilen gelişmelerin hangileri Mısırlıların ekonomik ihtiyaçlarını karşılamaya yöneliktir?

- A) I ve III
B) II ve IV
C) I, II ve III
D) II, III ve IV
E) I, II ve IV

3. Balamir komutasında Avrupa'ya giren Hunlar, Avrupa Hun Devleti'ni kurdular. Avrupa Hunları'nın en önemli hükümdarı olan Atilla Bizans'a karşı seferler düzenlemiştir; Margos Barışıyla Bizans'ı vergiye bağlamıştır. Atilla'nın ölümünden sonra oğulları İlek, Dengizek ve Linek arasında çıkan taht kavgaları sonucunda Avrupa Hunları dağılma sürecine girdi.

Bu bilgilere dayanarak Avrupa Hunları'yla ilgili aşağıdakilerden hangisine ulaşılamaz?

- A) Türk kültürünü farklı coğrafyalara taşıdıklarına
B) Bizans'la diplomatik ilişkiler kurduklarına
C) Veraset sistemlerinin siyasal sorunlara neden olduğuna
D) Hunların Avrupa'daki tüm devletler üstünde hakimiyet sağladığına
E) Atilla'nın ölümünden sonra güç kaybettiklerine

4. İslamiyet'in Mekke'de doğmasına rağmen, Hz. Muhammed ve beraberindeki Müslümanlar Mekke'den Medine'ye göç etmek zorunda kalmıştır.

İslamiyet'in,

- I. Köleliği yasaklaması,
II. Kabeyi kutsal sayması,
III. Toplumsal yaşamla ilgili düzenlemeler yapması
özelliklerinden hangileri Mekkelilerin tepkisini çekmiş olabilir?

- A) Yalnız I
B) Yalnız II
C) Yalnız III
D) I ve II
E) I ve III

5. İslam tarihinde görülen aşağıdaki uygulamalardan hangisi dört halife döneminden sonra sürdürülemediği?

- A) Şeri hukuk hükümlerinin uygulanması
B) Arabistan dışına seferler yapılması
C) Halifenin dini yetkilerinin yanında siyasal yetkileri elinde bulundurması
D) Devletin yönetim birimlerine ayrılması
E) Devlet başkanının seçimle belirlenmesi

6. Büyük Selçuklu Devleti'nde sınırların güvenliğine çok önem verilirdi. Sınır bölgelerinin güvenliği önemli beylere bırakılırdı. Beyler güvenlikle ilgili konularda kendi başlarına karar verebilme yetkisine sahipti.

Bu uygulama,

- I. Merkezi otorite zayıfladığında beyliklerin kurulması,
II. Hanedanın varlığını sürdürebilmesi,
III. Sınırdaki doğacak tehlikelerin kısa sürede çözümlenmesi

durumlarından hangilerini sağlar?

- A) Yalnız I
B) Yalnız II
C) I ve III
D) II ve III
E) I, II ve III

7. Fatih Sultan Mehmet'in ardından tahta II. Bayezit geçmiştir.

II. Bayezit devrinin "yükselme dönemindeki duraklama dönemi" olarak kabul edilmesine,

- I. Fetihlerin aksaması,
II. Taht kavgasının yaşanması,
III. Dış politikada güç kaybedilmesi

durumlarından hangileri kanıt gösterilebilir?

- A) Yalnız I
B) I ve II
C) I ve III
D) II ve III
E) I, II ve III

8. XX. yy başlarında Osmanlı'nın toprak bütünlüğünden yana olan İngiltere, Fransa, Rusya gibi devletler İtalya'nın Trablusgarp'ı işgali sonrasında Osmanlı'nın yardım isteğine karşılık vermemişlerdir.

Bu durumun aşağıdakilerden hangisinden kaynaklandığı söylenebilir?

- A) Avrupalı devletlerin İtalya'nın gücünden çekinmesi
B) Osmanlı'nın Almanya'yla işbirliği içinde olması
C) İngiltere ve Fransa'nın olası bir kutuplaşmada İtalya'yı yanlarına çekmek istemeleri
D) Trablusgarp'ın stratejik bir bölge olması
E) Osmanlı'nın kendisini koruyabileceğini düşünceleri

9. I. Dünya Savaşı başlamadan önce Osmanlı Devleti:

- I. Yanlış gümrük politikalarıyla açık pazar haline gelmişti.
II. Halifeliği elinde bulunduruyordu.
III. Farklı coğrafyalarda geniş topraklara sahipti.
IV. Enver Paşa liderliğindeki İttihat ve Terakki Cemiyeti tarafından yönlendiriliyordu.

Bu özelliklerden hangileri Avrupalı devletlerin Osmanlı'yı kendi yanlarına çekmek istemelerinde etkili olmuştur?

- A) I ve II
B) I ve III
C) II ve III
D) II ve IV
E) III ve IV

10. Wilson ilkelerinin aşağıdaki maddelerinden hangisi ABD'nin kendi müttefiklerine karşı da politika yürüttüğünü gösterir?

- A) Sömürgecilik yerini manda ve himayeye bırakacak
B) Devletlerarası gizli antlaşmalar yapılmayacak
C) Bir yerde kim çoğunlukta o bölge onun olacak
D) Milletler Cemiyeti kurulacak
E) Yeniler yenilenlerden toprak almayacak

11. Kurtuluş savaşı hazırlık döneminde görülen,

- I. Havza Bildirisi ile milli bilincin uyandırılmasına dair ilk çağırının yapılması,
II. Amasya Genelgesi'nde milli mücadelenin amaç, gerekçe ve yönteminin belirlenmesi,
III. Amasya Görüşmesi'nde Temsil Heyeti'nin İstanbul Hükümeti tarafından tanınması,
IV. Sivas Kongresi'nde tüm milli müdafaa yanlısı cemiyetlerin birleştirilmesi

gelişmelerinin kronolojisi aşağıdakilerden hangisinde doğru verilmiştir?

- A) I - III - IV - II
B) II - I - IV - III
C) II - IV - III - I
D) I - II - IV - III
E) II - I - III - IV

12. Amasya Genelgesi kararlarından birinde: "Sivas'taki Milli Kongre'ye katılacak üyeler Müdafai Hukuk Cemiyetlerince ve belediyelerce seçilecektir." maddesi yer almıştır.

Bu durum aşağıdakilerden hangisinin göstergesidir?

- A) Yasaların üstünlüğünün
B) Milli Mücadele'nin örgütlenme aşamasının tamlandığının
C) İstanbul Hükümeti'yle işbirliğine gidildiğinin
D) Osmanlı yönetiminde değişikliğe gidileceğinin
E) Milli iradeye duyulan saygının

13. Anadolu'daki otoritesini kaybetmek istemeyen İstanbul hükümeti, halkı TBMM aleyhine isyan etmeleri yönünde kışkırtmış, çıkan ayaklanmaları İtilaf devletleri de desteklemiştir.

Bu durumun,

- I. Birlik ve beraberliğin zarar görmesi,
II. Kurtuluş Savaşı'nın sonuçlandırılmasının gecikmesi,
III. İstanbul Hükümeti'nin Anadolu'yu kontrol altına alması

sonuçlarından hangisine yol açtığı savunulabilir?

- A) Yalnız II
B) I ve II
C) I ve III
D) II ve III
E) I, II ve III

14. Milli Mücadele döneminde görülen,

- I. Teşkilatı Esasiye'nin kabul edilmesi,
II. Sovyet - Rusya'yla Moskova Antlaşması'nın yapılması,
III. TBMM'nin Londra Konferansı'na davet edilmesi

gelişmelerinden hangileri I. İnönü zaferinin sonuçlarından değildir?

- A) Yalnız I
B) I ve II
C) I ve III
D) II ve III
E) I, II ve III

15. Atatürk: "Ekonomik bağımsızlığı olmayan bir ülkenin siyasi bağımsızlığından söz edilemez." demiştir.

Aşağıdakilerden hangisinin Atatürk'ün bu sözü doğrultusunda yapıldığı söylenemez?

- A) Kabotaj Kanunu'nun kabul edilmesi
B) Kapitülasyonların kaldırılması
C) Teşviki Sanayi Kanunu'nun çıkarılması
D) Aşar vergisinin kaldırılması
E) Yabancılar akit şirketlerin kamulaştırılması

16. Osmanlı Devleti'ndeki ümmetçi toplum yapısından millet yaratmayı amaçlayan, birlik ve beraberliği esas alan Atatürk ilkesi aşağıdakilerden hangisidir?

- A) Laiklik
B) Devletçilik
C) İnkılapçılık
D) Halkçılık
E) Cumhuriyetçilik

17. Devrim toplumdaki kökleşmiş alışkanlıkların yıkılması anlamına geldiğinden çoğu zaman ülke içinde çatışmalara yol açar.

Cumhuriyet döneminde devrimlerin bu tip çatışmalara yol açmaması ve Türk halkı tarafından hızlı bir şekilde benimsenmesi,

- I. Halkın ihtiyaçlarından doğması,
II. Kurtuluş Savaşı'nı yöneten kadrolar tarafından gerçekleştirilmesi,
III. Halka mal edilerek gerçekleştirilmesi

durumlarından hangilerinden kaynaklanmaktadır?

- A) Yalnız I
B) I ve II
C) I ve III
D) II ve III
E) I, II ve III

18. Güneş sabah doğudan doğup öğle saati en yüksek noktaya ulaşır ve akşamüzeri batıdan ufuk çizgisinin altına iner.

Bu durumun oluşum nedeniyle,

- sürekli rüzgârların Kuzey Yarım Küre'de sağa, Güney Yarım Küre'de sola sapması,
- tarih değiştirme çizgisinin doğusunda tarihin, batısından bir gün geride olması,
- gün uzunluğunun 24 saat olması,
- yerel basınç farklarına bağlı olarak kara ve deniz arasında meltem rüzgârlarının oluşması

durumlarından hangilerinin oluşum nedeni aynıdır?

- A) I ve II B) I ve III C) II ve III
D) II ve IV E) III ve IV

19. Yeryüzünde ticaretin yoğunlaştığı bölgelerle ilgili aşağıdaki yorumlardan hangisi söylenemez?

- Ulaşım olanakları çeşitlidir.
- Yatırım ve üretim fazladır.
- Büyük pazarlar buralarda toplanmıştır.
- Birincil faaliyetlerde çalışanların payı yüksektir.
- Nüfus yoğunluğu fazladır.

20. Tarih değiştirme çizgisinin doğusunda yer alan X merkezinin yerel saati Y merkezine göre 21 saat 56 dakika geridir.

Tarih değiştirme çizgisinin X merkezinin doğusuna kaydırılması durumunda, merkezlerle ilgili,

- X ve Y merkezleri başlangıç meridyeninin doğusunda kalır.
- Y merkezinin yerel saati X merkezine göre 2 saat 04 dakika geri olur.
- X merkezinin matematik konumu yeniden tanımlanması gerekir.
- X ve Y merkezleri başlangıç paraleline göre aynı yarım kürede yer alır.

yargılarından hangileri ulaşılabılır?

- A) I ve II B) I ve III C) II ve III
D) II ve IV E) III ve IV

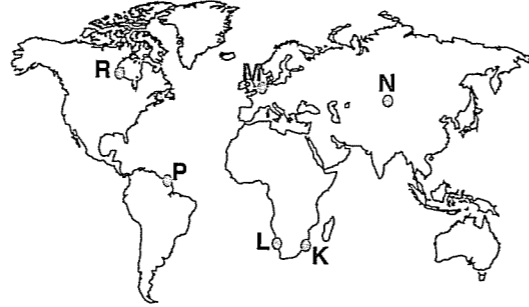
21. Mutlak nem miktarları aynı olan iki farklı hava kütesinin bağıl nem oranlarının birbirinden farklı olması, hava kütlelerinin,

- sıcaklık,
- mevcut su buharı miktarı,
- maksimum nem miktarı,
- hareket hızı

özelliklerinden hangileri bakımından farklı olmasıyla ilgilidir?

- A) I ve II B) I ve III C) II ve III
D) II ve IV E) III ve IV

22. Aşağıdaki haritada bazı merkezlerin konumları verilmiştir.



Buna göre, merkezlerde sıcaklıkların birbirinden farklı olmasının nedenleri bir tabloda gösterilmek istendiğinde,

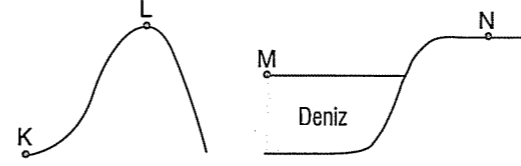
Temel etken

- M ve N
P ve R
K ve L

boş bırakılan yerlere aşağıdakilerden hangisi yazılırsa doğru sonuca ulaşılmış olur?

- Enlem B) Karasallık
Karasallık Enlem
Okyanus akıntısı Okyanus akıntısı
- Enlem D) Karasallık
Okyanus akıntısı Okyanus akıntısı
Karasallık Enlem
- Okyanus akıntısı
Enlem
Karasallık

23. Yeryüzünde, genel hava dolaşımının yanı sıra, yerel basınç koşullarındaki değişimlere bağlı olarak gün içinde kara ile deniz, dağ ile vadi arasında yerel rüzgârlar da eser.



Buna göre, yukarıdaki şekilde verilen,

- K'dan L'ye
- L'den K'ya
- M'den N'ye
- N'den M'ye

oluşan meltem rüzgârlarının esiş zamanları aşağıdakilerin hangisinde doğru verilmiştir?

- I Gündüz
II Gece
III Gece
IV Gündüz
- I Gündüz
II Gündüz
III Gece
IV Gündüz
- I Gündüz
II Gece
III Gündüz
IV Gece
- I Gece
II Gündüz
III Gece
IV Gündüz
- I Gece
II Gündüz
III Gündüz
IV Gece

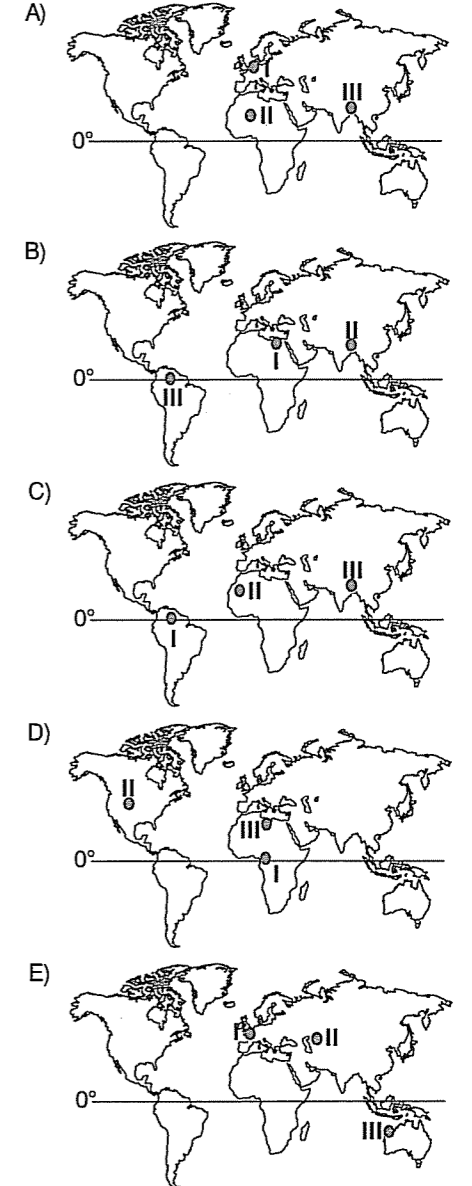
24. Aşağıdakilerin hangisinde aynı alanda etkili olabilen doğal afetler birlikte verilmemiştir?

- Tropikal siklon – Taşkın
- Kuraklık – Erozyon
- Tektonik deprem – Tsunami
- Kuraklık – Taşkın
- Aktif volkanizma – Tektonik deprem

25. Aşağıda, üç farklı iklim tipinin bazı özellikleri verilmiştir.

- Ortalama sıcaklık 15°C'dir. Yıllık sıcaklık farkı 10°C'yi geçmez. Yıllık yağış miktarı 1500 mm civarındadır. Bitki örtüsü kışın yaprağını döken, yayvan yapraklı ormanlardır.
- Yıllık sıcaklık farkı 15-30°C'dir. Yıllık yağış miktarı 300-500 mm'dir. Yağışların büyük bölümü ilkbaharda düşer, yazlar kurak geçer. Kışın kar yağışları görülür. Cılız ot toplulukları doğal bitki örtüsünü oluşturur.
- Dönenceler çevresinde, kıta içlerinde görülür. Yıllık ortalama sıcaklık 40°C civarındadır. Konveksiyonel kökenli sağanak yağışlar görülür. Yıllık yağış miktarı genellikle 100 mm'den azdır. Doğal bitki örtüsünü kurakçıl otlar oluşturur.

Bu iklim tiplerinin etkili olduğu yöreler, aşağıdaki haritaların hangisinde doğru verilmiştir?



26. Aşağıda, dört farklı kentin gelişmesinde etkili olan bazı özellikler verilmiştir.

- | | |
|-----|---|
| I | o İşlek ulaşım yolları
o Geniş tarım alanları
o Üniversite kenti |
| II | o Havaalanı ve yat limanları
o Gelişmiş seracılık faaliyetleri
o Doğal güzellikler ve tarihi zenginlikler |
| III | o Korunaklı liman
o Gelişmiş sanayi ve ticaret
o Geniş bir hinterland |
| IV | o Tarıma dayalı sanayi
o Ulaşım yolları
o İhtiyacı karşılayacak pazar ve alış-veriş merkezleri |

Buna göre, aşağıdakilerden hangisi bu kentlerden biri değildir?

- A) İskenderun B) Antalya C) Sinop
D) Merzifon E) Eskişehir

27. Marmara Bölgesi'nin yüz ölçümüne göre ekili dikili alan oranı en yüksek bölge olmasında, bölgenin aşağıdaki özelliklerinden hangisi etkilidir?

- A) Düzluklerin geniş yer kaplaması
B) Kentleşme oranının fazla olması
C) Endüstrinin gelişmiş olması
D) Transit ticaret yolları üzerinde bulunması
E) İklimin çeşitli olması

28. Bir ülkede, bugünkü nüfus artış oranı aynı kaldığında, önümüzdeki elli yıl içinde toplam nüfusunun azalacağı öngörülmektedir.

Bu beklentinin gerçekleşmesi durumunda, ülkede,

- I. nüfus yoğunluğu,
II. yaşlı nüfus oranı,
III. ortanca yaş değeri,
IV. aktif nüfus miktarı

özelliklerinden hangilerinde artış görüleceği söylenebilir?

- A) I ve II B) I ve III C) II ve III
D) II ve IV E) III ve IV

29. Aşağıdakilerin hangisinde bir beşerî faaliyet bu beşerî faaliyetin neden olduğu çevre sorunuyla birlikte verilmemiştir?

- A) Tarımsal üretim – toprak kirliliği
B) Termik enerji üretimi – radyoaktif kirlilik
C) Ulaşım faaliyetleri – hava kirliliği
D) Kentleşme – su kirliliği
E) Turizm faaliyetleri – ses kirliliği

30. Aşağıda, dört farklı kıyı tipi verilmiştir.

- o Denize paralel uzanan dağlar arasındaki vadiler, denizin yükselmesi sonucu sular altında kalır. Böylece denizin içinde kalan dağ ve tepeler ada görünümünü alır.
- o Buzul vadilerinin deniz suları altında kalmasıyla oluşur. Kıyılarında çok sayıda koy, körfez ve yarımada bulunur.
- o Kıyı oklarının koy önlerini kapatması ile oluşur.
- o Gelgit genliğinin fazla olduğu kıyılarda okyanus sularının akarsu ağızlarını genişletmesiyle oluşur.

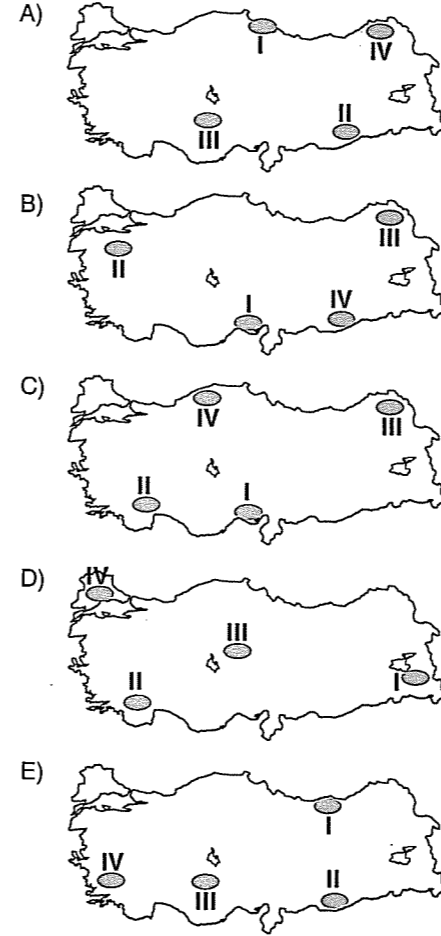
Aşağıdakilerden hangisi bu kıyı tiplerinden biri değildir?

- A) Limanlı kıyı B) Fiyort kıyı
C) Haliç tipi kıyı D) Dalmaçya kıyı
E) Ria kıyı

31. Türkiye'de,

- I. alüvyal,
II. terra rossa,
III. çernezyom,
IV. kahverengi orman

topraklarının yaygın olduğu yöreler, aşağıdaki haritaların hangisinde doğru verilmiştir?



32. "Bir şey nedir?", "Bir özellik nedir?", "Bir ilişki nedir?" gibi soruların cevaplarını araştıran felsefe disiplini aşağıdakilerden hangisidir?

- A) Ontoloji (Varlık felsefesi)
B) Epistemoloji (Bilgi felsefesi)
C) Etik (Ahlak felsefesi)
D) Estetik (Sanat felsefesi)
E) Siyaset felsefesi

33. Belli bir alan için felsefe yapamayız. Bir kent için, bir bölge için, bir ülke için felsefe yapamayız. Felsefe dar alanlarda ya da dar alanlar için bilgi üretmeye yatkın değildir. Felsefede ortaya koyacağımız her belirleme bütün insanla, dünyanın her yerindeki insanla ilgili olacaktır. Hatta felsefede ortaya koyacağımız her belirleme şimdiyle ilgili olduğu kadar geçmişle, geçmişle ilgili olduğu kadar gelecekle ilgili olacaktır.

Bu açıklamaya göre aşağıdaki örneklerden hangisi felsefeyle ilgilidir?

- A) Son yıllarda kanser hastalıklarındaki artışın nedenlerinden birisi genetiği değiştirilmiş gıdaların tüketilmesidir.
B) Teknolojinin hayatımıza girmesiyle birlikte obez insanların sayısında da artış görülmektedir.
C) Bilgiye ulaşımın kolay ve hızlı olması aynı zamanda da tüketilmesini doğurmuştur.
D) İnsan, evrenin küçültülmüş bir modelidir. İnsanı anlayabilirsek evreni de anlamış oluruz.
E) Ekonominin ve buna bağlı olarak emeğin küreselleşmesi, dünyanın küresel ısınmasına neden olmaktadır.

34. I. Sahip olduğumuz bilgiler nasıl oluşmuştur?
II. Bilgilerimizin doğruluğundan nasıl emin olabiliriz?

III. Eğer mümkünse neyi bilebiliriz?

Yukarıdaki sorular bilgi felsefesinin hangi problemiyle ilgilidir?

- | | I | II | III |
|--------------------------------|-----------------------------|-------------------------------|-------------------------------|
| A) Bilginin sınırları problemi | Bilginin değeri problemi | Bilginin kaynağı problemi | Bilginin kaynağı problemi |
| B) Olgusallık problemi | Bilginin kaynağı problemi | Bilginin değeri problemi | Bilginin değeri problemi |
| C) Bilginin kaynağı problemi | Bilginin değeri problemi | Bilginin sınırları problemi | Bilginin sınırları problemi |
| D) Bilginin sınırları problemi | Olgusallık problemi | Bilginin değeri problemi | Bilginin değeri problemi |
| E) Bilginin değeri problemi | Bilginin sınırları problemi | Bilginin olgusallığı problemi | Bilginin olgusallığı problemi |

35. Tanrı anlayışını ve Tanrı'nın varlığını kanıtlamak için mucizelere gerek yoktur; akıl ve doğa kanunları Tanrı'nın kanıtlanması için yeterlidir. Tanrı dünyayı bir kez yaratmıştır ve mükemmel yaratmıştır. Bu mükemmel esere Tanrı'nın müdahale etmesi akla aykırıdır. Bundan dolayı da vahye gerek yoktur.

Bu tanrı anlayışı aşağıdakilerden hangisine örnektir?

- A) Panteizme B) Ateizme C) Monoteizme
D) Deizme E) Teizme

36. Sokrates : "Hiç kimse bilerek kötülük yapmaz."

Aristoteles : "Ahlaklı olmak, ölçülü olmaktır."

Kant : "Bir davranış arzu, haz ve yarar gözetilmeden yapılmışsa ahlaki bir davranıştır."

Aşağıdaki ahlaki kararlardan hangisinin verilmesinde Kant'ın ahlak yaklaşımı ölçüt alınmıştır?

- A) Toplumda iyi bir ahlaka sahip olmak, bir sofradan tok, ama karın ağrısı çekmeden kalkmaya benzer.
B) Bir toplumun bireylerine, yaşlıya saygı öğretilmemişse, o bireyin davranışı ahlaksızlık olarak görülmez.
C) Bir toplumda bireyleri kötü davranışlardan kurtarmak istiyorsak, önce onları eğitmeliyiz.
D) Ne cimri olacaksın ne de eli açık; gerektiği kadar alacak ve vereceksin.
E) Yalan söylemeyeceksin. Üstelik bunu işimi kaybederim korkusuyla ya da yalancı duruma düşmemek için değil, yalan kötü bir şey olduğu için yapmalısın.

37. Dünyanın değişik bölgelerindeki şelaleler ya da mağaradaki sarkit ve dikitler birer doğa harikasıdır ve güzellikleriyle bizi büyülerler. Doğal olarak oluşmuş bu güzelliklerin oluşum aşamaları aynı doğa kanununun bir ürünüdür ve hepsi birbirine benzer. Ancak aynı doğa manzarasının resmini yapan iki ressamın resimleri birbirinden oldukça farklı olabilir.

Verilen bu örneğe göre sanatsal güzelliği doğal güzellikten ayıran özellik aşağıdakilerden hangisidir?

- A) Doğayı yansıtması
B) Gerçeğin bir kopyası olması
C) Deneyimlerin ürünü olması
D) Hayal gücünün ürünü olması
E) Belli bir fayda sağlaması

38. Bir toplumda iktidarı elinde bulunduranların, yönetme gücünü yasalara uygun olarak kullanması siyaset felsefesinin temel kavramlarından hangisiyle ilgilidir?

- A) Meşruiyet B) Egemenlik C) Bürokrasi
D) Laiklik E) Sivil toplum

39. Bilim dediğimiz etkinliğin asıl özelliğini ürettiği bilgiden çok, bilgi üretme yönteminde aramalıyız. Bilim özünde bir arayıştır; gerçeği bulmaya, olgusal dünyayı açıklamaya yönelik bilişsel bir arayıştır.

Bu açıklamaya göre bilim insanı olarak yetişecek kişilere, öncelikle, aşağıdakilerden hangisi öğretilmelidir?


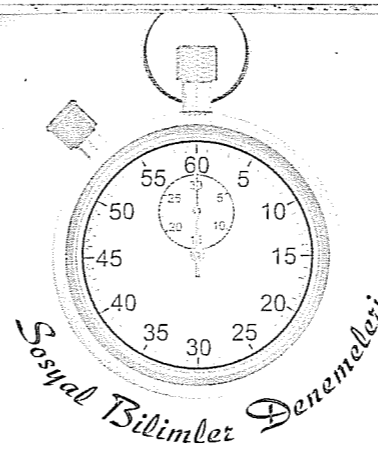
- A) Ortaçağ'da bilimin özelliklerinin neler olduğunu
B) İlk bilimsel buluşun nerede başladığını
C) Bilimsel buluşları gerçekleştiren bilim insanlarının nasıl bir yöntemle başvurduklarını
D) İlk yer çekimini hangi bilim insanının bulduğunu
E) Bilimin sanayinin gelişmesindeki rolünü

40. "Ruh ölümsüzdür" bilgisinin doğruluğunu kanıtlayamayız, ancak "su 100 derecede kaynar" bilgisinin doğruluğunu kanıtlayabiliriz. O halde sadece olgusal olanları bilebilir ve olgular hakkındaki bilgilerin doğruluğundan ya da yanlışlığından bahsedebiliriz.

Bilimin gelişmesiyle yaygınlaşan bu düşünceye ne ad verilir?

- A) İdealizm B) Empirizm C) Sensüalizm
D) Kritisizm E) Pozitivizm

Deneme 2							
1	D	11	D	21	B	31	C
2	E	12	E	22	B	32	A
3	D	13	B	23	C	33	D
4	E	14	D	24	D	34	C
5	E	15	D	25	E	35	D
6	C	16	A	26	C	36	E
7	E	17	C	27	A	37	D
8	C	18	A	28	C	38	A
9	C	19	D	29	B	39	C
10	E	20	A	30	E	40	E



1. Geçmiş dönemlerde toplumlar, teknik açıdan yeterli seviyede olmadıklarından doğaya bağlı olarak yaşamaktaydı. İklim şartları, hayat tarzları üzerinde etkiliydi.

Bu bilgiye,

- I. Tarım ve hayvancılıkla uğraşan Friglerde dokümacılığın gelişmesi,
II. Orta Asya'nın bozkır toprakları nedeniyle göçebe yaşayan Türklerin hayvancılıkla uğraşmaları,
III. Doğu Anadolu bölgesinde uygarlık kuran Urartuların madencilikle uğraşmaları

durumlarından hangileri kanıt gösterilebilir?

- A) Yalnız I B) Yalnız III C) I ve II
D) I ve III E) I, II ve III

2. İlkçağ'da görülen,

- I. Hititlerin yaşadıklarını objektif bir şekilde tutukları anal adı verilen yıllıklara aktarması,
II. Ölülerini eşyalarıyla gömen Mısırlılarda piramitlerin yapılması,
III. Sümerlerdeki tanrı kral anlayışı nedeniyle merkezi gücün artması

durumlarından hangileri dinin toplumlar üzerindeki otoritesine örnek gösterilebilir?

- A) Yalnız I B) Yalnız II C) I ve II
D) I ve III E) I, II ve III

3. Orta Asya'da VI. yy'da yapılan devletler arası mücadelelerin ana nedeni İpek Yolu'nu ele geçirmekti. Göktürkler de bu amaçla önce Sasanilerle işbirliği yapıp Akhunları yıktılar. Ancak Sasanilerin de kendilerine ticari zorluklar çıkarmaları üzerine Bizans'la ittifak yapıp Sasanileri zayıflatılar.

Bu bilgiye göre aşağıdakilerden hangisine ulaşılamaz?

- A) Devletlerin çıkarlarına göre strateji değiştirdiklerine
B) Göktürklerin İpek Yolu'nu tek başına ele geçirecek güçlerinin olmadığına
C) Bizans'ın İpek Yolu'na önem verdiğine
D) Göktürk - Bizans ittifakının Sasanileri yıktığına
E) İpek Yolu'nun jeopolitik bir öneme sahip olduğuna

4. Hz. Muhammed, Medine'de Mescid-i Nebevi adında bir ibadethane kurdu. Müslümanlar burada ibadet yaptıkları gibi aynı zamanda Hz. Muhammed'in başkanlığında şehirdeki sorunları tartışarak kararlar alıyorlardı.

Bu bilgilere bakılarak aşağıdakilerden hangisine ulaşılamaz?

- A) Müslümanların bayındırlık faaliyetlerinde bulunduğuna
B) Mescid-i Nebevi'nin bir tür kurultay görevi gördüğüne
C) Medine İslam Devleti'nde demokratik bir anlayışın egemen olduğuna
D) Mescid-i Nebevi'nin çok amaçlı kullanıldığına
E) Mescid-i Nebevi'de eğitim faaliyetlerinin de yürütüldüğüne

5. Türk-İslam tarihinde görülen,

- I. Abbasilerin Türkleri Avasım adı verilen ordu-gah şehirlere yerleştirmesi,
- II. Tuğrul Bey'in Abbasi halifesini koruması altına alması,
- III. Türk hükümdarların hutbe okutması

durumlarından hangileri Türklerin İslam dünyasında siyasi açıdan üstünlüğü ele geçirdiklerini gösterir?

- A) Yalnız I B) Yalnız II C) I ve II
D) I ve III E) I, II ve III

6. Aşağıdakilerden hangisi Anadolu'da kurulan ilk Türk beyliklerinin feodal nitelikli olduğunu kanıtlar?

- A) Anadolu'yu bayındır hale getirmeleri
- B) Anadolu'yu Bizans, Ermeni, Haçlı ve Gürcülere karşı korumaları
- C) Kurucularının büyük bir çoğunluğunun Selçuklu Sultanı Alparslan'ın komutanı olmaları
- D) Küçük yerleşim birimlerini şehirler haline getirmeleri
- E) Anadolu'yu hızlı biçimde Türkleştirmeleri

7. Oğuzların Kayı boyunun Karakeçili aşiretine mensup olan aile Türkiye Selçuklularının uç beyi olan Ertuğrul Gazi tarafından Söğüt ve Domaniç çevresinde bir uç beyliği olarak kurulmuş, kısa sürede beylikten imparatorluk konumuna yükselmiştir.

Aşağıdakilerden hangisi Osmanlı'nın kısa sürede büyümesini sağlayan iç faktörlerden biri değildir?

- A) Merkezi otoriteye önem vermeleri
- B) Başarılı bir iskan politikası izlenmesi
- C) Fethettikleri bölgelerde hoşgörülü politika uygulamaları
- D) Kendilerinden önceki Türk devletlerindeki ikili teşkilat anlayışını terk etmeleri
- E) Balkanlarda siyasi birlik olmaması

8. Osmanlı Devleti kuruluş döneminde batı yönünde ilerleme ve cihad anlayışıyla hareket etmeyi uygun görmüştü.

Buna göre aşağıdakilerden hangisi Osmanlı'nın kuruluş dönemi politikalarına terstir?

- A) Osman Bey'in Bizans'la Koyunhisar Savaşı'nı yapması
- B) Orhan Bey zamanında Bursa'nın fethedilmesi
- C) I. Murad'ın Sazlıdere Savaşı'yla Edirne'yi fethetmesi
- D) Yıldırım Beyazıt'ın Timur'la mücadele etmesi
- E) II. Murad döneminde II. Kosova Savaşı'yla Balkanlardaki hakimiyeti kesinleştirmesi

9. Osmanlı toplumunda katı bir sınıf sistemi yoktu. Askeriye mensupları emekli olduğunda veya görevden alındığında reaya (yönetilenler) sınıfına geçmiş olurdu. Reayadan bir kişi de padişah fermanı ile askeri sınıfa geçebilirdi.

Askeri sınıfa geçebilmek için gereken,

- I. Müslüman olmak,
- II. Görevini en iyi şekilde yapmak,
- III. Padişaha tam bağlı olmak

şartlarından hangileri Osmanlı Devleti'nin teokratik niteliğine kanıt oluşturur?

- A) Yalnız I B) Yalnız III C) I ve II
D) I ve III E) I, II ve III

10. Yargı: Atatürkçü düşünce sisteminin oluşmasında Fransız İhtilali'nden sonra ortaya çıkan ve tüm dünyada yaygınlaşan demokrasi, eşitlik, bilimsellik, yurt sevgisi gibi kavramlar etkili olmuştur.

Bu yargıda aşağıdaki Atatürk ilkelerinin hangisinden bahsedilememiştir?

- A) Laiklik B) Cumhuriyetçilik
C) Milliyetçilik D) Devletçilik
E) Halkçılık

11. Çok partili hayata geçişin ilk denemesi olan Terakkiperver Cumhuriyet Halk Fırkası'nın kapatılmasından sonra M. Kemal, Serbest Cumhuriyet Halk Fırkası'nın kurulmasını teşvik etmiştir.

Bu partinin kurulmasında,

- I. Demokrasinin uygulanmasını sağlamak,
- II. Yaklaşan ekonomik kriz için çözüm üretmek,
- III. Ulus egemenliğini gerçekleştirmek

durumlarından hangileri etkilidir?

- A) Yalnız I B) I ve II C) I ve III
D) II ve III E) I, II ve III

12. Mudanya Ateşkes Antlaşması'nın,

- I. Türk - Yunan kuvvetleri arasındaki savaş sona erecektir,
- II. İstanbul, Boğazlar ve çevresinin yönetimi TBMM hükümetine bırakılacaktır,
- III. Barış antlaşması yapılan kadar Türk silahlı kuvvetleri Çanakkale ve İzmit Yarımadasında belirlenen çizgiyi geçmeyecektir

maddelerinden hangileri Kurtuluş Savaşı'nın silahlı mücadele safhasının sona erdiğini gösterir?

- A) Yalnız I B) Yalnız II C) I ve II
D) I ve III E) I, II ve III

13. 3 Aralık 1920'de imzalanan Gümrü Antlaşması, TBMM'nin yabancı bir devletle imzaladığı ilk antlaşma olup Sevr Antlaşması'nın geçersizliğini fiilen kanıtlamıştır.

Bu durumun TBMM'ye,

- I. Halkın desteğinin artması,
- II. Kurtuluş umudunun güçlenmesi,
- III. Padişah'ın desteğinin kazanılması

imkanlarından hangilerini sağladığı söylenebilir?

- A) Yalnız I B) I ve II C) I ve III
D) II ve III E) I, II ve III

14. Mebusan Meclisi'nin kapanması üzerine M. Kemal, yeni bir meclisin açılması için çalışmalarına başladı. 19 Mart 1920'de bir genelge yayınlayarak Ankara'da olağanüstü yetkilere sahip bir meclisin toplanacağını duyurdu. Genelgede, dağılmış Mebusan Meclisi üyeleri de meclise katılmaya çağrılıyordu.

Kapatılan Mebusan Meclisi'nin üyelerinin yeni açılacak meclise davet edilmesine bakılarak,

- I. M. Kemal'in halk iradesine saygılı olduğu,
- II. Ulusal iradenin ilk kez kurumsallaştığı,
- III. Birlik ve beraberliğe önem verildiği

yorumlarından hangileri yapılabilir?

- A) Yalnız I B) Yalnız II C) I ve II
D) I ve III E) I, II ve III

15. 25 Mayıs 1919'da Havza'ya gelen Mustafa Kemal 28 Mayıs'ta mülki ve askeri amirlere genelge gönderdi.

Genelgenin,

- I. Mitingler düzenlenerek işgallerin protesto edilmesi,
- II. Gösteriler sırasında Hıristiyan halka saldırı ve düşmanlık yapılmamasına önem verilmesi,
- III. Büyük devletlerin temsilcilerine ve İstanbul hükümetine uyarı telgraflarının çekilmesi

maddelerinden hangileri M. Kemal'in yürüttüğü politikalarda Mondros Mütarekesi'nin şartlarını dikkate aldığını gösterir?

- A) Yalnız I B) Yalnız II C) I ve II
D) I ve III E) I, II ve III

16. Mondros Ateşkes Antlaşması'nın aşağıdaki maddelerinden hangisi Osmanlı Devleti'nin Anadolu ve Rumeli'deki topraklarının bağlantısını kesmeye yöneliktir?

- A) Antlaşma Devletleri güvenliklerini tehdit eden bir durum olursa herhangi bir stratejik bölgeyi işgal edebilecek.
- B) Bütün haberleşme araçları Antlaşma Devletleri'nin denetimine bırakılacak.
- C) Çanakkale ve İstanbul Boğazları Antlaşma Devletleri'ne bırakılacak
- D) Antlaşma Devletleri bütün cephane, top ve silahlara el koyacaktır.
- E) Antlaşma Devletleri bütün liman ve tersanelerden faydalanabilecek.

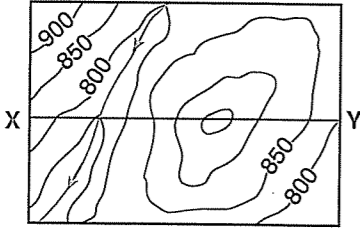
17. Osmanlı Devleti'nde 19. yy.da yapılan ıslahatlarla Atatürk inkılapları arasında bazı farklar vardı.

Atatürk inkılaplarının,

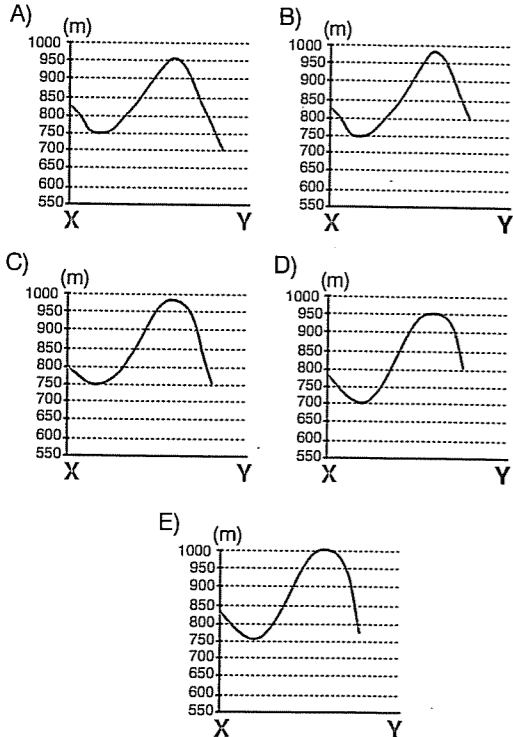
- I. Kadın-erkek eşitliğini sağlamaya çalışması,
 - II. Batının örnek alınması,
 - III. Yeni devlet kurumlarının oluşturulması
- özelliklerinden hangileri bu farklılara örnek gösterilebilir?**

- A) Yalnız I B) I ve II C) I ve III
D) II ve III E) I, II ve III

18.



Yukarıdaki topoğrafya haritasında verilen X-Y doğrultusunun profili aşağıdakilerin hangisinde verilmiştir?



19. Bir bölgenin 1/100.000 ölçekli fiziki haritası ile 1/500.000 ölçekli idari haritası,

- I. coğrafi koordinat,
- II. harita alanı,
- III. kullanılma amacı,
- IV. projeksiyon yöntemi

niceliklerinden hangileri bakımından birbirinden farklıdır?

- A) I ve II B) I ve III C) II ve III
D) II ve IV E) III ve IV

20. Aşağıdaki tabloda, K, L, M ve N kentlerinde 21 Haziran ve 21 Aralıkta gündüz uzunlukları (saat) gösterilmiştir.

Kent	21 Haziran	21 Aralık
K	20	4
L	11	13
M	14	10
N	8	16

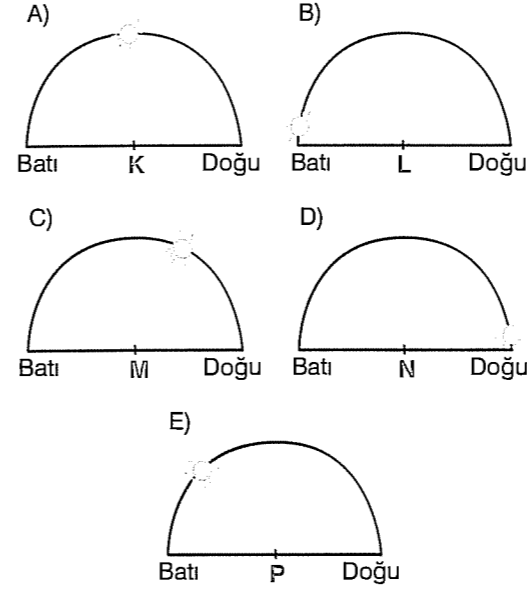
Buna göre, verilen merkezlerle ilgili olarak aşağıdakilerden hangisi kesin değildir?

- A) Başlangıç paraleline göre K ve M kuzeyde, L ve N güneyde bulunur.
- B) Ekvator'a en yakın kent L, en uzak kent K'dir.
- C) Ekinokslarda güneş her dört kentte de aynı anda doğar ve aynı anda batar.
- D) K kenti kuzey kutup noktasına, N kenti ise güney kutup noktasına daha yakındır.
- E) L kenti yıl boyunca güneş ışınlarını diğer kentlere göre daha büyük açılarla alır.

21. Aşağıdakilerden hangisi birey ya da toplulukların geçim sıkıntısı çekmesinden ya da daha iyi koşullarda yaşamak istemesinden kaynaklanan göç türlerinden biri değildir?

- A) Beyin göçü
- B) Mübadele göçü
- C) İşçi göçü
- D) İç göç
- E) Mevsimlik göç

22. Türkiye'de 21 Mart günü ulusal saatin 12.00 olduğu bir anda, aşağıda güneşin gökyüzündeki konumları verilen merkezlerden hangisinin tarih değiştirme çizgisine diğerlerine göre daha yakın olduğu söylenebilir?



23. Aşağıdakilerden hangisi, küresel iklim değişmelerine bağlı olarak ortaya çıkması beklenen durumlardan biri değildir?

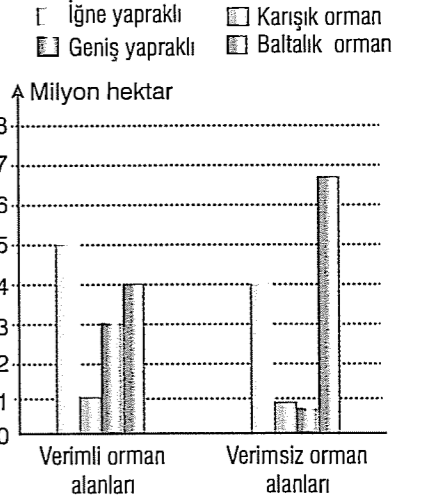
- A) Kıyı kesimlerde, toprak kaybının yaşanması
- B) Okyanus akıntılarının etki alanlarının gelişmesi
- C) Tatlı su kaynaklarının azalması
- D) Bazı kıyı bölgelerinin sular altında kalması
- E) Tarım ürünlerinin enlem sınırının değişmesi

24. "Yöremizde bulunan göl, önemli bir tatlı su balıkçılığı potansiyeline sahiptir. Gölün yakalanan kerevitin büyük bir bölümü ihraç edilir."

Buna göre, yukarıda özelliği verilen gölün aşağıdakilerden hangisi olduğu söylenebilir?

- A) Beyşehir Gölü B) Burdur Gölü C) Acıgöl
D) Tuz Gölü E) Van Gölü

25. Aşağıdaki grafikte bir ülkedeki orman alanlarının yüz ölçümleri verilmiştir.



Buna göre, grafikteki bilgilere dayanarak aşağıdaki sonuçlardan hangisine ulaşılamaz?

- A) Verimli ve verimsiz orman alanları toplamı içinde, baltalık ormanların alanı en fazladır.
- B) Verimli orman alanları içinde, karışık orman alanlarının yüz ölçümü en azdır.
- C) Söz konusu ülkede verimli ve verimsiz orman alanlarının toplamı yirmi milyon hektardan fazladır.
- D) Verimsiz orman alanları içinde, geniş yapraklı ormanların oranı en azdır.
- E) Verilen orman alanları içinde, karışık orman alanlarının ülke ekonomisine katkısı en fazladır.

26. Aşağıdaki bölgelerden hangisinin sınırlarında zamanla değişme olması beklenmez?

- A) Kuzey Amerika'daki petrol bölgelerinin
- B) Avrupa'da nüfusun yoğun olduğu bölgelerin
- C) Güney Amerika'daki Amazon Havzası bölgesinin
- D) Akdeniz Havzası'ndaki turizm bölgelerinin
- E) Avrupa Birliği bölgesinin

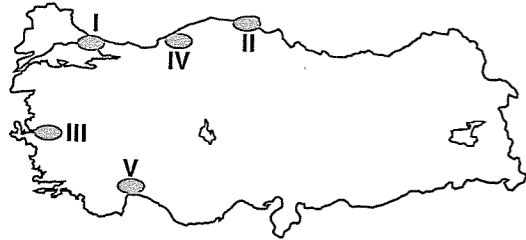
27. Tropikal siklonlar

- Taşkınlar
- Kuraklık
- Tsunami

Aşağıdaki ülkelerden hangisi yukarıda verilen doğal afetlerden birinin etkili olduğu alanlardan biri değildir?

- A) İsveç B) Mısır C) Bangladeş
D) Endonezya E) ABD

28.



Yukarıdaki haritada numaralanmış yörelerdeki kentsel yerleşmelerle ilgili aşağıdakilerden hangisi yanlıştır?

- A) I. yörede toplam kent nüfusu diğerlerinden daha fazladır.
B) II. yöredeki kentte bulunan limanın hinterlandı dardır.
C) III. yöredeki kentte fonksiyonel çeşitlilik fazla, ulaşım olanakları gelişmiştir.
D) IV. yöredeki kentin gelişmesinde madencilik faaliyetlerinin önemi fazladır.
E) V. yöredeki kentin fonksiyonel özelliğinde ulaşım ilk sırada yer alır.

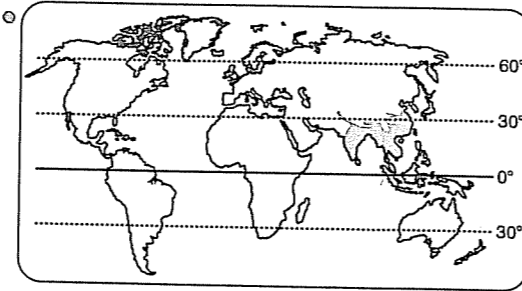
29. Aşağıdaki tabloda, beş farklı hava kütesinin sıcaklık, maksimum nem ve mutlak nem miktarları verilmiştir.

Hava kütesi	Sıcaklık (°C)	Maksimum nem (g/m ³)	Mutlak nem (g/m ³)
I	25	30	10
II	15	20	10
III	5	10	10
IV	0	5	10
V	-5	1	10

Bu tabloya göre, hava kütleleriyle ilgili aşağıdaki yargılardan hangisine ulaşamaz?

- A) III. hava kütesinde yağış başlamıştır.
B) V. hava kütesinde yoğunlaşma miktarı diğerlerinden fazladır.
C) II. hava kütesinin bağıl nemi %50'dir.
D) I. hava kütesinin nem açığı diğerlerinden fazladır.
E) IV. hava kütesindeki bulutluluk oranı I. hava kütesine göre daha azdır.

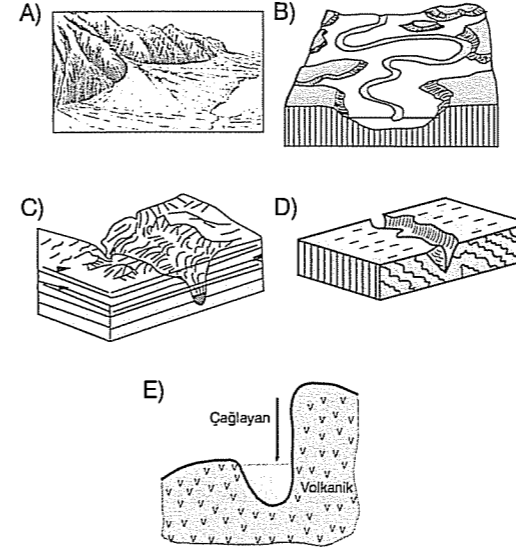
30. Aşağıdaki haritada, bir iklim tipinin yeryüzünde etkili olduğu alanlar gösterilmiştir.



Buna göre, aşağıdakilerin hangisi bu iklim tipinin etkili olduğu bölgede görülen rüzgârlardan biri değildir?

- A) İmbat B) Fön rüzgârı
C) Vadi meltemi D) Batı rüzgârları
E) Muson

31. Aşağıdaki yer şekillerinden hangisinin bulunduğu yerde akarsuyun zamanla yatak değiştirmesi beklenir?



32. Bilge kişi bir anlamda her şeyi bilen kişi diye de algılanabilir. Ancak her şeyi bilmemizin olası olmadığını da unutmamak zorundayız. Bundan dolayı bilgelik bilgi edinme konusunda çok yönlü bir ilgi alanı oluşturur. Andre Gide, bilgenin arayıcı gücünü göstermek için şöyle diyor: "Her gün yeni olsun gördüğün, bilge kişi her şeye şaşan kişidir." Bugün biz bilge derken çok yönlü bakışıyla, derin ve kapsayıcı kavrayışıyla, engin anlayışıyla kendini gösteren kişiyi anlıyoruz.

Bu açıklamaya en uygun felsefe tanımı aşağıdakilerden hangisidir?

- A) Olguların nedenlerini açıklamaktır.
B) İnsan davranışlarının nedenlerin açıklamaktır.
C) Toplumların neden birbirlerinden farklı olduklarını araştırmaktır.
D) Çağdaş insanın sorunlarına çözüm bulmaktır.
E) Var olan anlamın dışında başka anlamlar aramaktır.

33. Yalnızca tek bir Tanrı'nın var olduğunu ya da Tanrı'nın bir olduğunu savunan düşünceye ne ad verilir?

- A) Deizm B) Teizm C) Agnostisizm
D) Panteizm E) Monoteizm

34. Aşağıdaki sorulardan hangisi bilginin kaynağıyla ilgilidir?

- A) Neyi bilebiliriz?
B) Nesnelere oldukları gibi mi yoksa bize göründükleri gibi mi biliyoruz?
C) Bilgiye duyu ve deneyimlerimizle mi sahip oluruz, yoksa bilgi bize önceden verilmiş midir?
D) Nesne deyince neyi anlıyoruz?
E) Bilginin doğruluğundan nasıl emin olabiliriz?

35. Platon, çevremizdeki tek tek varlıklara tikel varlıklar der. Bu varlıklar duyuyla algılanabilirler, ancak genel bir ad altında isimlendirdiğimiz varlıklar duyularımızla algılanamazlar. Platon bu tür varlıklara tümel varlıklar der. Örneğin, "şu at" tikel bir varlık olduğu halde "at" tümel bir varlıktır. Platon'a göre tümel varlıklar gerçek varlıklardır ve akılla kavranabilirler.

Platon'un bu varlık anlayışı aşağıdakilerden hangisine örnektir?

- A) Septisizme B) Kritisizme
C) Entüsyonizme D) İdealizme
E) Materyalizme

36. Determinizme göre insanlar ahlaki eylemlerde bulunurken özgür değildirler. Kişiler davranışlarda bulunurken birtakım etkenlerin zorunlu sonucu olarak o davranışı gerçekleştirir. Bu durumda bir seçim söz konusu değildir. Çünkü insan ve eylemleri rüzgâr karşısındaki kuru bir yaprak gibidir. Dışımızdaki koşullar bizim seçimimizi belirler.

Derslerinde başarısız olan bir öğrenci başarısızlığının nedeni olarak aşağıdakilerden hangisini gösterirse bu ahlak kuramına uygun olmaz?

- A) Çünkü derse çalışma yerine derse çalışmama-yı tercih ettim.
B) Bu yıl hep hastalıklarla mücadele ettim ve derse çalışacak zamanım kalmadı.
C) Bu yıl dersler her yılkinden daha ağırdı.
D) Okulda dersler çok kötü işleniyor.
E) Sınavlarda öğrenmediğimiz konular da soruluyordu.

37. Göl kenarındaki bir ev, evimizin duvarındaki bir resim, üzeri karlarla kaplı bir dağ, Karacaoğlan'ın bir şiiri niçin hoşumuza gider ya da beğeniriz?

Bu soruya aşağıdaki cevaplardan hangisi verilirse "Sanat sanat içindir ve hiçbir amacı yoktur." düşüncesini destekler?

- A) Güzel olduğu için
B) Gerçeği yansıttığı için
C) Fayda sağladığı için
D) Bilgi verdiği için
E) Hayatı kolaylaştırdığı için

38. Devlet, Tanrı'nın istemiş olduğu bir kurumdur. Devleti yöneten iktidar sahipleri de Tanrı'nın yeryüzündeki temsilcileridir. Bundan dolayı bireylerin, devleti yönetenlere itaat etmesi bir ödevdir. Çünkü iktidar, Tanrı adına ve Tanrı'nın yasalarıyla devleti yönetir.

Bu açıklama aşağıdaki sorulardan hangisine cevap olarak verilmelidir?

- A) Demokrasi nedir?
B) İnsan özgür müdür?
C) İktidarın kaynağı nedir?
D) Toplumlar niçin birbirlerinden farklıdır?
E) Bürokrasi gerekli midir?

39. Bilim, insanlığın ortak kafa ürünüdür. Kökleri ilkel toplumların yaşamına kadar uzanır. Bilimi anlamak, bilim öncesi veya bilim dışı düşünme biçimleriyle ilişkilerini bilmemizi gerektirir.

Bilimle ilgili bu açıklama, bilimde aşağıdaki özelliklerden hangisinin bulunduğunu anlatmak için kullanılabilir?


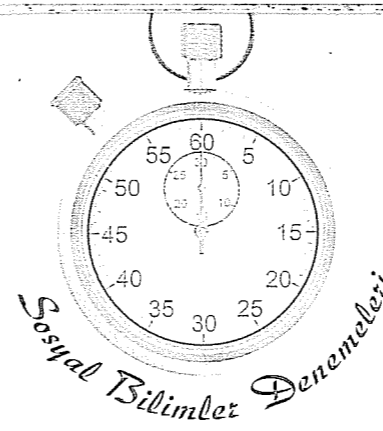
- A) Olgusal olduğunu
B) Faydacı olduğunu
C) Eleştirel olduğunu
D) Evrensel olduğunu
E) Deneyssel olduğunu

40. Aristoteles'in ortaya koyduğu bilimsel bilgi evreni ve dünyayı algılayış biçimiyle paraleldir. Örneğin, Aristoteles'in fiziği onun yer merkezli evren düşüncesinden bağımsız değildir. İki bin yıl sonra Galileo'nun ortaya koyduğu fizik de Galileo'nun evreni ve dünyayı algılayışıyla ilişkilidir. Ancak her iki düşünürün de ortaya koydukları bilimsel bilgiler birbirine zıttır.

Bu parçaya dayanarak hangi sonuca ulaşabiliriz?

- A) Bilim birikerek ilerler.
B) Bilim, bilim insanının bir etkinliğidir.
C) Her bilimsel çalışma bir önceki bilimsel çalışmanın bir devamıdır.
D) Bilimsel yöntemle elde edilen bilgiler kesindir.
E) Bilim sürekli olarak ilerler.

Deneme 3							
1	C	11	E	21	B	31	B
2	E	12	E	22	B	32	E
3	D	13	B	23	B	33	E
4	E	14	D	24	A	34	C
5	B	15	B	25	E	35	D
6	C	16	C	26	C	36	A
7	E	17	A	27	A	37	A
8	D	18	B	28	E	38	C
9	A	19	C	29	E	39	D
10	D	20	C	30	D	40	B



1. Aşağıda verilen Neolitik devir gelişmelerinden hangisinin diğer dördüyle bağlantılı olduğu söylenemez?

- A) Avcılık ve toplayıcılığın yerini tarıma bırakması
B) Üretici yaşama geçilmesi
C) İhtiyaç fazlası ürün elde edilmesi
D) Mezar kültürünün ortaya çıkması
E) Takas yoluyla ticaretin başlaması

2. Uygur hükümdarı Böğü Kağan, kurultayın onaylamamasına rağmen Manizm'i resmi din ilan etmiş ve bu durum Uygurların savaşı özelliklerini yitirmelerine neden olmuştur.

Bu bilgiye bakılarak,

- I. Kurultayın danışma meclisi niteliğinde olduğuna,
II. Hükümdarın dinsel açıdan hoşgörülü olduğuna,
III. Dini inanışın toplumsal hayatı etkilediğine
- durumlarından hangilerine ulaşılabilir?**

- A) Yalnız I
B) Yalnız II
C) I ve II
D) I ve III
E) I, II ve III

3. Büyük Selçuklu hükümdarı Alp Arslan, Anadolu'nun fethine katılan komutanlarına fethedilen bölgelerin yönetimini bırakmış ve bu politikayla Anadolu'da ilk Türk beylikleri kurulmuştur.

Bu politikanın,

- I. Anadolu'nun Türkleşmesinin hızlanması,
II. Anadolu'da federatif tarzda Türk örgütlenmesinin başlaması,
III. Anadolu'daki Türk hakimiyetinin kesin olarak sağlanması

durumlarından hangilerini sağladığı söylenemez?

- A) Yalnız I
B) Yalnız II
C) Yalnız III
D) I ve II
E) I ve III

4. Kavimler Göçü'nden sonra yurtsuz kalan halkların toprak sahiplerine sığınmasıyla feodalite ortaya çıktı.

Feodal sistemde görülen,

- I. Derebeylerinin iç işlerinde bağımsız olması,
II. Soyluların kendilerine ait ordu bulundurması,
III. Kapalı tarım ekonomisinin bulunması

durumlarından hangileri merkezi otoritenin olmadığını gösterir?

- A) Yalnız I
B) Yalnız II
C) I ve II
D) II ve III
E) I, II ve III

5. **Neden Açıklama**
- Ekonomik neden: I. Asya ile Avrupa'yı birleştiren bir noktada bulunması
- Siyasal neden: II. Bizans'ın Osmanlı şehzadelerini ve Anadolu'daki beylikleri kışkırtması
- Askeri neden: III. Bizans'ın Haçlı seferlerinin düzenlenmesini sağlaması
- Stratejik neden: IV. Önemli kara ve deniz ticaret yolları üzerinde olması
- Dini neden: V. Hz. Muhammed'in İstanbul'un fethiyle ilgili sözleri

Yukarıda verilen İstanbul'un fethinin nedenleriyle ilgili açıklamalardan hangileri birbiriyle yer değiştirmelidir?

- A) I - II B) II - IV C) I - III
D) II - III E) I - IV

6. Osmanlı Devleti'nde XV. yy.a kadar vezir sayısı üçken sonraki dönemlerde bu sayı arttırıldı.

Bu durumda,

- I. Sınırların genişlemesi,
II. İmparatorluk yapısına geçilmesiyle devlet işlerinin zorlaşması,
III. Merkezi otoritenin bozulması

gelişmelerinden hangileri etkili olmuştur?

- A) Yalnız I B) Yalnız II C) I ve II
D) I ve III E) I, II ve III

7. XVII. yy.da kendini gösteren nakit para ihtiyacını karşılamak için, tımar toprakları iltizam sistemine çevrilmiş, gelirleri toplamak mültezimlere bırakılmıştı. Bu durum tımarlı siphahilerin sayısının azalmasına yol açmıştı.

Bu bilgilere bakılarak çıkarılabilecek en kapsamlı yargı aşağıdakilerden hangisidir?

- A) Osmanlı Devleti'nin ekonomik sıkıntı içinde olduğu
B) Tımarlı sipahi sayısının azaldığı
C) Ekonomik sıkıntıların askeri yapıyı etkilediği
D) İltizam sisteminin nakit ihtiyacına çözüm olduğu
E) Toprak politikasında değişikliğe gidildiği

8. XIX. yy.da Osmanlı'da görülen birçok iç sorunun uluslararası boyut kazanmasında Avrupalı devletlerin Osmanlı'nın içişlerine karışması etkili olmuştur.

Osmanlı Devleti'nin bu dönemde uğraştığı,

- I. Milliyetçilik hareketleri,
II. Kutsal emanetler,
III. Boğazlar ve mülteciler

sorunlarından hangilerini Avrupa devletleri Osmanlı'nın içişlerine karışmak için kullanmış olabilir?

- A) Yalnız I B) Yalnız II C) II ve III
D) I ve III E) I, II ve III

9. Karlofça ve İstanbul Antlaşmaları'yla ağır yara alan Osmanlı Devleti, 1711'de yapılan Prut Savaşı'nı kazanarak Rusya'yla Prut Antlaşması'nı imzalamıştır. Bu antlaşmaya göre:

- Rusya Azak Kalesi'ni geri verecek
- Rusya İstanbul'da elçi bulundurmuyacaktı.

Yukarıdaki bilgilere bakılarak Prut Antlaşması'nın Osmanlı dış siyasetinde nasıl bir etki yarattığı söylenebilir?

- A) Rusya'yla barışçı ilişkiler kurma
B) Avrupa'ya karşı denge politikası izleme
C) Kaybedilen toprakları geri alabileceği umuduna girme
D) Azınlıkların devlete bağlılığını arttırmaya çalışma
E) Askeri ıslahatlara ağırlık verme

10. Osmanlı Devleti'nde XIX. yy.a kadar hakim politika ümmetçilikti. Tanzimat döneminde ümmetçilik anlayışı yerini Osmanlıcılık'a bırakırken I. Meşrutiyet döneminde İslamcılık, II. Meşrutiyet döneminde Türkçülük önem kazandı.

Buna göre,

- I. 19. yy.dan sonra Osmanlı'da sık sık politika değişikliklerine gidilmiştir,
II. Tanzimat döneminde ülkenin tamamını kapsayan bir politika izlenmiştir,
III. Türkçülük Osmanlı'da en çok önem verilen politika olmuştur

yargılarından hangilerine ulaşılabılır?

- A) Yalnız I B) Yalnız II C) I ve II
D) II ve III E) I, II ve III

11. Avrupa'da görülen,

- I. Almanya'da gerçekleşen reformla mezhep kavgalarının doğması,
II. İtalya'da başlayan Rönesans hareketiyle bilim ve sanatın gelişmesi,
III. İngiltere'de başlayan sanayi devrimiyle üretimde artışın gerçekleşmesi

gelişmelerinden hangileri I. Dünya Savaşı'nın başlamasına zemin hazırlamıştır?

- A) Yalnız I B) Yalnız III C) I ve II
D) I ve III E) I, II ve III

12. Amasya Genelgesi'nde yer alan,

- I. Vatanın bütünlüğü milletın bağımsızlığı tehlikedir,
II. İstanbul Hükümeti üzerine aldığı görevi yerine getirmemektedir,
III. Her türlü denetimden uzak milli bir kurul oluşturulmalıdır

maddelerinden hangileri kurtuluş mücadelesinin ulus egemenliğine dayanacağını kanıtlar?

- A) Yalnız I B) Yalnız III C) I ve II
D) I ve III E) II ve III

13. 23 Nisan 1920'de açılan I. TBMM'de alınan kararlardan,

- I. Hükümet kurmak gereklidir,
II. TBMM yasama ve yürütme yetkisine sahiptir,
III. TBMM'nin üstünde güç yoktur

hangileri I. TBMM'de güçler birliği ilkesinin kabul edildiğini gösterir?

- A) Yalnız II B) Yalnız III C) I ve II
D) II ve III E) I, II ve III

14. Kurtuluş Savaşı cepheleri düşünülüğünde savaşın Doğu cephesinden başlamasının nedenleri arasında,

- I. Sovyet - Rusya'nın TBMM'yi destekliyor olması,
II. Doğu cephesindeki Ermenilerin diğer cephelelerdeki düşmanlara göre daha zayıf olması,
III. Doğuda Osmanlı'dan kalma hazır bir birliğin bulunması

durumlarından hangileri gösterilebilir?

- A) Yalnız II B) I ve II C) I ve III
D) II ve III E) I, II ve III

15. Mudanya Ateşkes Antlaşması'nın İngiltere ile TBMM arasında imzalanması Osmanlı Devleti'nin hukuken yok sayıldığını gösterir.

Mudanya Ateşkes Antlaşması'nın aşağıdaki maddelerinden hangisi bu yargıya en iyi kanıt oluşturur?

- A) Türk-Yunan kuvvetleri arasındaki savaş sona erecektir.
B) Yunan kuvvetleri Meriç nehrine kadar Doğu Trakya'yı 15 gün içinde boşaltacaktır.
C) Doğu Trakya TBMM'nin jandarma kuvvetlerine bırakılacaktır.
D) İstanbul, Boğazlar ve çevresinin yönetimi TBMM hükümetine bırakılacaktır.
E) Barış antlaşması yapılıncaya kadar Türk silahlı kuvvetleri Çanakkale ve İzmit Yarımadası'nda belirlenen çizgiyi geçmeyecektir.

16. Atatürk tarafından belirtilen devlet hayatına, fikir hayatına ve ekonomik hayata ilişkin gerçekçi düşüncelere Atatürkçülük denir.

Aşağıdakilerden hangisinin Atatürkçülüğün amaçları arasında yer aldığı söylenemez?

- A) Türk milletinin tam bağımsızlığa sahip olması
B) Türk kültürünün çağdaş uygarlık seviyesine çıkarılması
C) Türk devletinin sınırlarının genişletilmesi
D) Devletin millet egemenliği esasına dayandırılması
E) Akıl ve bilimin rehber alınması

17. I. Halifeliğin kaldırılması,
II. Medeni kanunun kabulü,
III. Soyadı kanununun kabulü

Yukarıda verilen Atatürk inkılapları hukuki, toplumsal ve siyasal olarak sınıflandırıldığında aşağıdakilerden hangisi doğru olur?

	Hukuki	Toplumsal	Siyasal
A)	I	II	III
B)	II	I	III
C)	II	III	I
D)	III	II	I
E)	III	I	II

18. Aşağıdaki tabloda, bazı kentlerin ocak ayı ortalama sıcaklıkları verilmiştir.

Edirne: 3°C	Mersin: 10°C
Çanakkale: 6°C	Konya: -10°C
Aydın: 8°C	Kars: -12°C

Merkezlerin konumları göz önüne alındığında,

- I. Konya'da sıcaklığın Aydın, Edirne ve Çanakkale'den düşük olması,
II. Kars'ta sıcaklığın Çanakkale ve Edirne'den düşük olması,
III. Edirne'de sıcaklığın Aydın ve Mersin'den düşük olması,
IV. Çanakkale'de sıcaklığın Mersin'den düşük Edirne'den yüksek olması

durumlarından hangilerinin sıcaklık-enlem ilişkisine ters düştüğünü söyleyebilir?

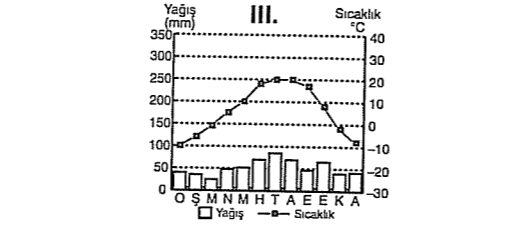
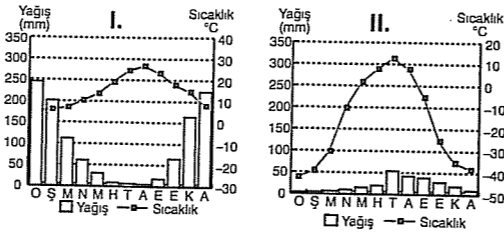
- A) I ve II
B) I ve III
C) II ve III
D) II ve IV
E) III ve IV

19. I. Enine kıyı
II. Ria kıyı
III. Fiyortlu kıyı
IV. Boyuna kıyı

Yukarıdaki kıyı tiplerinden hangilerinin görüldüğü yerlerde koy, körfez ve yarımada sayısı ötekilerden daha fazladır?

- A) I ve II
B) I ve III
C) II ve III
D) II ve IV
E) III ve IV

20. Aşağıda, üç farklı merkezin aylık ortalama sıcaklık ve yağış grafiği verilmiştir.



Bu merkezlerden herbirinin yukarıdaki haritada verilen K, L ve M yörelerinin hangilerinde bulunduğu söylenebilir?

	I	II	III
A)	K	L	M
B)	K	M	L
C)	L	M	K
D)	M	K	L
E)	L	K	M

21. Türkiye'nin aşağıdaki özelliklerinden hangisi, ülkede yükseltinin fazla olmasının sonucu değildir?

- A) Yaylacılığın önemli bir etkinlik olması
B) Bitki türleri bakımından zengin olması
C) Yol yapım maliyetlerinin yüksek olması
D) Sıra dağların genelde doğu batı yönünde uzanması
E) Nüfusun dağılışının düzensiz olması

22. o Batı Toroslar
o Doğu Karadeniz Dağları
o Hakkâri Dağları

Yukarıdaki sıradağlarla ilgili,

- I. 4. zaman buzullaşmasından etkilenmişlerdir.
II. Alp orojenezi döneminde oluşmuşlardır.
III. Volkanik şekillere rastlanır.
IV. Horst ve graben yer yapısına sahiptir.

yargılarından hangilerine uiaşılabılır?

- A) I ve II
B) I ve III
C) II ve III
D) II ve IV
E) III ve IV

23. Aşağıdakilerden hangisi, Türkiye'de kırdan kente yaşanan göçlerin sonuçları arasında gösterilemez?

- A) Kırsal kentlerdeki kadın ve erkek nüfus oranlarının değişmesi
B) Kırsal yörelerdeki bazı verimli tarım alanlarında ekim yapılamaması
C) Tarım dışı sektörlerde çalışan nüfus oranını artırması
D) Bazı kentlerde tarım alanlarının yerleşmeye açılması ve plansız kentleşmenin artması
E) Ülke nüfusunun hızla artması

24. o Bitkisel planktonların verimi ve üretimi ciddi anlamda düşecektir.

- o Sert ve devamlı rüzgârlar, suyun topraktan daha hızlı bir şekilde buharlaşmasına yol açacak, bu da kurak olmasına neden olacaktır.
o Tropikal siklonların oluşum sıklığı ve şiddeti artacaktır.
o Tropikal bölge hastalıkları serin iklim bölgelerine doğru yayılma gösterecektir.

Yukarıdaki durumlarda, aşağıdakilerden hangisi vurgulanmaktadır?

- A) Küresel ısınmanın etkisi
B) Tektonik hareketliliğin çevresel etkisi
C) Ekosistemlerin doğal işleyişi
D) Doğal afetlerin oluşma nedeni ve sonuçları
E) Doğal unsurlar arasındaki karşılıklı ilişkinin dengesi

25. Aşağıdakilerin hangisinde bir kent merkezi, bu kent merkezinin gelişmesinde etkili olan fonksiyonlarla birlikte verilmemiştir?

A) Konya	B) Muğla
o Ulaşım	o Ulaşım
o Tarım	o Sanayi
o Sanayi	o Liman
C) Antalya	D) İzmir
o Turizm	o Sanayi
o Tarım	o Tarım
o Ticaret	o Liman

- E) Zonguldak
o Maden
o Liman
o Sanayi

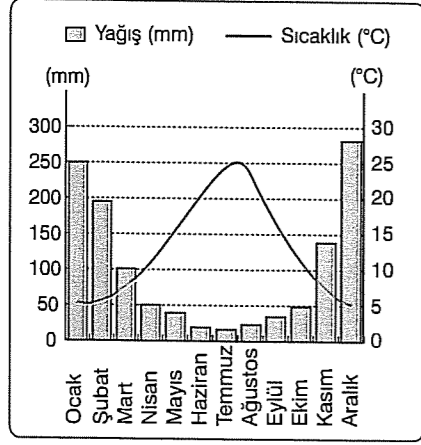
26. Yeryüzünde etkili olan,

- o tsunami,
o tektonik deprem,
o aktif volkanizma

doğal afetlerle ilgili aşağıdakilerden hangisi söylenemez?

- A) Önceden tahmin edilebilen doğal afetlerden oldukları
B) Bazı bölgelerde birlikte etkili oldukları
C) Yerleşim alanlarına ve ekonomiye zarar verdikleri
D) Jeolojik karakterli oldukları
E) Büyük levha sınırlarında etkinliklerinin fazla olduğu

27. Aşağıda bir yörenin aylık ortalama sıcaklık ve yağış grafiği gösterilmiştir.



Grafikteki bilgilere dayanarak yöre iklimi ile ilgili söylenecek aşağıdaki yargılardan hangisi doğrudur?

- A) Yazları sıcak ve kurak, kışları soğuk ve kar yağışlıdır.
 B) Kış yağış oranı yaz yağış oranından azdır.
 C) Yıllık sıcaklık farkı 30°C'den fazla ve en yağışlı mevsim kıştır.
 D) Yıllık yağış miktarı 800 mm den fazla ve yağış rejimi düzensizdir.
 E) Kış mevsimi ortalama sıcaklığı düşük ve kar örtüsünün yerde kalma süresi uzundur.

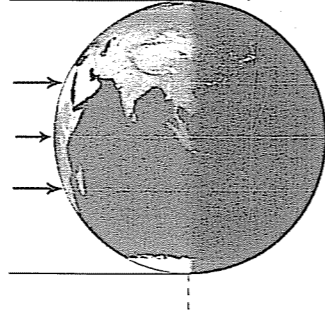
28. Bir bölgenin topoğrafya haritasından, bölgenin,

- göllerin gerçek alanı,
 • akarsuyun ortalama debisi,
 • arazinin yer yapısı,
 • göllerin ortalama derinliği,
 • akarsu vadi yataklarının kuş uçuşu uzunluğu,
 • bir doğrultunun profili,
 • yamaçların ortalama eğimi

niceliklerinden kaç tanesi hakkında bilgi edinilemez?

- A) 1 B) 2 C) 3 D) 4 E) 5

29.



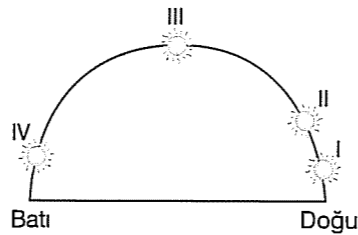
Dünya şekilde gösterilen konumdayken,

- I. Kuzey Yarım Küre'de ilkbahar mevsimi yaşanır.
 II. Güneşin doğuşuyla batışı arasındaki süre dünyanın her yerinde birbirine eşittir.
 III. Aynı meridyen üzerinde bulunan merkezlerden Güneş aynı anda doğar ve aynı anda batar.
 IV. Kuzey Kutup noktasında 6 ay sürecek gecenin başlangıcıdır.

durumlarından hangilerinin gerçekleşeceği kesin değildir?

- A) Yalnız I B) I ve IV C) II ve III
 D) II ve IV E) I, III ve IV

30. Aşağıdaki şekilde, 40° Kuzey Paraleli üzerinde yer alan dört farklı merkezde aynı anda Güneş'in gökyüzündeki konumu gösterilmiştir.



Buna göre, merkezlerle ilgili aşağıda verilen yargılardan hangisi doğrudur?

- A) IV. merkez diğerlerine göre başlangıç meridyenine daha yakındır.
 B) Verilen merkezlerde, güneşin doğuşu ve batışı arasında geçen süre birbirlerinden farklıdır.
 C) I. merkez diğerlerine göre en batıdan yer alır.
 D) II. ve III. merkezler arasındaki yerel saat farkı diğerlerine göre daha fazladır.
 E) III. merkezde cismin gölgesi cismin güneyine düşer.

31. Bir Dünya haritasında, 20° doğu boylamının 23°-26° güney paralelleri arasında kalan kesimi 15 cm olarak ölçülmüştür.

Buna göre, haritanın çizik ölçeği aşağıdakilerden hangisidir?

(çentikler arası 5 cm'dir)

- A) $\frac{111}{0} \quad \frac{111}{222} \quad \frac{222}{444}$ Km
 B) $\frac{222}{0} \quad \frac{222}{444} \quad \frac{444}{888}$ Km
 C) $\frac{333}{0} \quad \frac{333}{666} \quad \frac{666}{1110}$ Km
 D) $\frac{444}{0} \quad \frac{444}{888} \quad \frac{888}{1110}$ Km
 E) $\frac{555}{0} \quad \frac{555}{1110} \quad \frac{1110}{1110}$ Km

32. İnsan düşüncesinin aydınlatmaya çalıştığı ya da merak ettiği üç konu vardır: Doğru, iyi, güzel.

Yukarıdaki saptamada sırasıyla, felsefenin alt disiplinlerinden hangileri konu edinilmiştir?

- A) Siyaset - ontoloji - estetik
 B) Epistemoloji - etik - estetik
 C) Din - estetik - ontoloji
 D) Ontoloji - siyaset - epistemoloji
 E) Etik - estetik - epistemoloji

33. Özne olarak biz olsak da olmasak da, bizim dışımızda, bizden bağımsız bir varlık bulunduğunu, bu varlığın bilgi olarak düşüncemizde yansıması bulunduğunu söyleyebiliriz. O halde nesnelere oldukları gibi bilebiliriz.

Bu düşünceye bilgi felsefesinde ne ad verilir?

- A) Rasyonalizm B) Realizm C) Empirizm
 D) İdealizm E) Septisizm

34. Empedokles, kendinden önce gelen doğa filozoflarının evrenin ana maddesi olarak belirledikleri su, hava ve ateşe toprak ögesini de ekleyerek evrenin var oluşunu açıklamaya çalışmıştır. Böylece Empedokles felsefe tarihindeki "Varlık bir midir, çok mudur?" sorusuna "birden çoktur" cevabını vermiştir.

Empedokles'in bu cevabı aşağıdaki varlık anlayışlarından hangisiyle temsil edilmektedir?

- A) Düalist varlık anlayışıyla
 B) Monist varlık anlayışıyla
 C) Plüralist varlık anlayışıyla
 D) İdealist varlık anlayışıyla
 E) Nihilist varlık anlayışıyla

35. İndeterminist ahlak anlayışına göre insan tam anlamıyla özgürdür. J.P. Setre bu durumu şöyle ifade etmiştir: "İnsan nasıl isterse öyle olur." Yaptığı her eylemi insan kendi belirlediğine göre yaptıklarından da sorumludur.

Düşüncesinden dolayı ülkesini terk etmek zorunda kalan bir kişi aşağıdaki tepkilerden hangisini gösterirse bu ahlak kuramına uygun davranmış olur?

- A) Ülkemdeki koşulların nasıl olacağını ben belirleyemem.
 B) Ülkemdeki koşullar benim yaşamama izin vermedi.
 C) Düşüncem uğruna ülkemi terk etmeyi göze aldim.
 D) İktidarlar bireysel iradeyi daima ezmiştir.
 E) Devlet varsa orada bireysel özgürlükten bahsedilemez.

36. Yunus Emre'nin şiirleri çok beğenildi ve hızla yayılarak günümüze kadar geldi. Acaba çağımız Yunus Emre'nin şiirlerini çok mu istiyordu? Hayır. Eğer çağımız bu şiirleri çok isteseydi, günümüzde de bu şiirleri arayıp bulanlar olacaktı. Ancak böyle olmadı. Çünkü Yunus Emre bu şiirleri yazmaya cesaret etti, yazdığı şiirleri de topluma kabul ettirdi.

Bu açıklama sanatla ilgili aşağıdaki düşüncelerden hangisini destekler?

- A) Sanat toplum içindir.
 B) Sanat, insan ihtiyaçlarını karşılamak içindir.
 C) Sanat bir yaratıcılıktır.
 D) Sanatın amacı fayda sağlamaktır.
 E) Sanat, bilgi üretmektir.

37. Hareket halindeki her şeyin başka bir şey tarafından hareketlendirilmesi gerekir. O halde hareketlendirilen şeyin kendisi de hareketli ise, onun da başkası tarafından hareketlendirilmiş olması gerekir. Ancak bu şekilde sonsuza kadar gitmek imkansızdır. Bundan dolayı başka hiçbir güç tarafından hareketlendirilmemiş birinci devindirici güce varmak zorunludur. Bu ilk hareket ettirici güç de herkesin bildiği gibi Tanrı'dır.

Bu açıklama aşağıdaki sorulardan hangisinin cevabıdır?

- A) Tanrı var mıdır yok mudur?
B) Varlık madde midir ruh mudur?
C) Bilgi doğuştan mıdır yoksa deneyimin ürünü müdür?
D) Tanrı sonlu mudur sonsuz mudur?
E) Evrenle Tanrı aynı şey midir?

38. Devlet, Tanrı'nın istemiş olduğu bir kurumdur. Devleti yöneten iktidar sahipleri de Tanrı'nın yeryüzündeki temsilcileridir. Bundan dolayı bireylerin, devleti yönetenlere itaat etmesi bir ödevdir. Çünkü iktidar, Tanrı adına ve Tanrı'nın yasalarıyla devleti yönetir.

Devleti bu şekilde açıklayan toplumsal düzene ne ad verilir?

- A) Demokrasi
B) Teokrasi
C) Liberalizm
D) Komünizm
E) Oligarşi

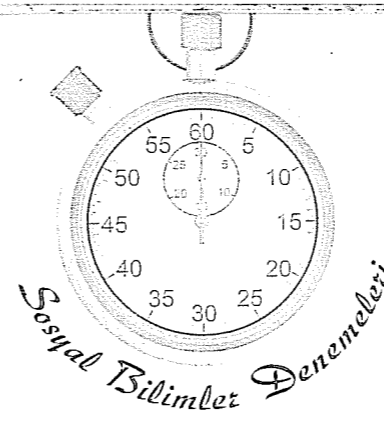
39. "Olgular arasındaki neden-sonuç ilişkisi nasıl kanıtlanabilir?" sorusu felsefe disiplinlerinden hangisinin konusuna girer?

- A) Bilgi felsefesi
B) Bilim felsefesi
C) Varlık felsefesi
D) Siyaset felsefesi
E) Ahlak felsefesi

40. Bilimi ürün olarak ele alan yaklaşıma göre, aşağıdakilerden hangisi bilimin anlaşılmasında ölçüt olarak kullanılmaz?

- A) Bilimin, bilim insanlarının ortaya koyduğu önermelerden ibaret olarak görülmesi
B) Bilimsel çalışma sonucunda ortaya konan önermeler olarak görülmesi
C) Bilimi meydana getiren bilim insanının bakış açısı olarak görülmesi
D) Sürekli ilerleyen bir bilgi olarak görülmesi
E) Her bilimsel çalışmanın kendinden önceki çalışmaların bir devamı olarak görülmesi

Deneme 4							
1	D	11	B	21	D	31	A
2	D	12	B	22	A	32	B
3	C	13	A	23	E	33	B
4	C	14	D	24	A	34	C
5	E	15	D	25	B	35	C
6	C	16	C	26	A	36	C
7	C	17	C	27	D	37	A
8	E	18	A	28	C	38	B
9	C	19	B	29	B	39	B
10	C	20	E	30	C	40	C



1. Tarihsel süreçte görülen,

- Yazıyı kullanan ilk uygarlık Sümerlerdir,
- Anadolu Selçuklu hükümdarı Melikşah kendi adına takvim düzenlemiştir,
- Osmanlı tarihindeki ilk imtiyazlar Fatih döneminde Venediklilere verilmiştir,
- I. Dünya Savaşı'ndaki Kafkas cephesinde yer şekilleri ve iklim şartları nedeniyle Osmanlı ordusu Sarıkamış faciasını yaşamıştır

gelişmelerini araştıran bir tarihinin aşağıdaki tarihe yardımcı bilimlerden hangisinden yararlanması beklenemez?

- A) Filoloji B) Astronomi C) Diplomasi
D) Coğrafya E) Paleografya

2. Dokuz aile birliğinden oluşan Uygurlar; Karluk, Basmil topluluklarını da itaat altına almışlar ve yerleşik hayata geçen ilk Türk devleti olmuşlardır.

Uygurların,

- I. Ticaretle uğraşmaları,
II. Saban, orak gibi eşyalara sahip olmaları,
III. Kendilerine ait bir alfabelerinin bulunmaları

özelliklerinden hangileri yerleşik hayata geçtiklerinin kanıtıdır?

- A) Yalnız I B) Yalnız II C) I ve II
D) II ve III E) I, II ve III

3. İlk Türk-İslam devletlerine bakıldığında Gaznelilerin Karahanlıları yıkarak kurulduğu, Büyük Selçukluların da Gaznelilerle mücadele ederek bağımsızlıklarını kazandığı görülmektedir.

Aşağıdakilerden hangisi bu durumun bir sonucu olamaz?

- A) Türk - İslam devletlerinin birbirlerini zayıflatması
B) Aynı topraklarda farklı Türk devletlerinin kurulması
C) Türk-İslam devletlerinin siyasi gücünde iniş çıkışların yaşanması
D) Türk devletleri arasında siyasi birliğin sağlanması
E) Bu devletlerin örgütlenmelerinde birbirlerinden etkilenmeler görülmesi

4. İstanbul'un fethi için yapılan aşağıdaki hazırlıklardan hangisinin İstanbul'un fethinden sonra siyasal sonuçları olmuştur?

- A) 400 parçalık büyük bir donanmanın kurulması
B) Avrupa'dan gelecek yardımları önlemek için Balkanlara ordu gönderilmesi
C) Anadolu'da Karamanoğullarıyla antlaşma yapılması
D) Surları yıkabilecek büyük topların döktürülmesi
E) Karadeniz hakimiyeti için Anadolu Hisarı'nın karşısına Rumeli Hisarı'nın yapılması

5. Osmanlı Devleti'ndeki Divanı Hümayun'a ait aşağıdaki özelliklerden hangisi Osmanlı Devleti'nin merkezi otoriteye önem verdiğini en çok kanıtlar?

- A) Divanda siyasi, idari ve askeri işlerin görüşülmesi
B) Divanda şikayet ve davaların görüşülüp karara bağlanması
C) Divanda örfi ve şeri kurallara bakılarak kararlar alınması
D) Divanın merkez teşkilatının temeli olması
E) Divanda alınan kararlarda son sözün padişah-ta olması

6. Aşağıdakilerden hangisi Osmanlı Devleti'nin duraklama dönemine girmesindeki iç nedenlerden biridir?

- A) Coğrafi keşiflerle ticaret yollarının yön değiştirmesi
B) Merkezi otoritenin bozulmaya başlaması
C) Rönesansla Avrupa'nın bilim ve sanatta ilerlemesi
D) Reform sayesinde Avrupa'nın kilisenin etkisinden kurtulması
E) İmparatorluğun doğal sınırlara ulaşması

7. 1806'da Rusya'nın Eflak ve Boğdan'ı işgal etmesi üzerine başlayan Osmanlı - Rus savaşından kısa bir süre sonra, Boğazları korumakla görevli yeniçeri yamakları ayaklandı. Kabakçı Mustafa'nın yönettiği isyan sonucunda III. Selim tahttan indirilerek, IV. Mustafa tahta geçirildi. III. Selim taraftarı, Rusçuk ayanı Alemdar Mustafa Paşa İstanbul'a gelerek IV. Mustafa'yı tahttan indirdi; III. Selim'in öldürüldüğünü görünce II. Mahmut'un padişah olmasını sağladı.

Bu bilgilere bakılarak aşağıdakilerden hangisi ulaşılamaz?

- A) Kabakçı Mustafa isyanının padişah değişikliğine neden olduğuna
B) Osmanlı Devleti'nde merkezi otoritenin bozulduğuna
C) Yeniçerilerin IV. Mustafa'yı desteklediğine
D) Osmanlı Devleti'nin bu dönemde hem iç hem dış sorunlarla uğraştığına
E) Osmanlı Devleti'nin Rus'larla yaptığı savaşta kaybettiğine

8. Pasarofça Antlaşması'yla Avrupa ile Balkanlar arasında kapı durumunda olan Belgrat'ın Avusturya'ya geçmesi bölgedeki güç dengesini bozdu.

Osmanlı Devleti, Balkan halklarının devlete bağlılığını güçlendirmek amacıyla,

- I. Fenerli Rumların Eflak ve Boğdan'a yönetici olarak gönderilmesi,
II. Balkanlardaki asker sayısının artırılması,
III. Balkanlardaki halktan alınan vergilerin azaltılması

uygulamalarından hangisini gerçekleştirmiştir?

- A) Yalnız I B) Yalnız II C) I ve II
D) I ve III E) I, II ve III

9. Sömürgecilik yarışına sonradan katılan İtalya'nın Trablusgarp'ı işgal etmesi üzerine Osmanlı Devleti Avrupalı devletlerden yardım istemiş ancak beklenen yardım gelmemiştir.

Avrupalı devletlerin bu tutumunda,

- I. İtalya'nın askeri gücünden çekinmeleri,
II. Yaklaşan I. Dünya Savaşı ihtimaline karşılık İtalya'yı yanlarına çekmek istemeleri,
III. Kendilerinin de sömürgecilik yapıyor olmaları

durumlarından hangileri etkilidir?

- A) Yalnız I B) Yalnız III C) I ve III
D) II ve III E) I, II ve III

10. I. Dünya Savaşı'nın yenilgiyle sonuçlanmasının ardından Wilson ilkelerinin iyimser ifadeleri de dikkate alınarak Anlaşma Devletleri'nden barış istendi. Padişah görüşmeye giden heyetten halifelik, saltanat ve Osmanlı hanedanının haklarının korunmasını istemiş, bazı eyaletlere özerklik tanınabileceğini bildirmiştir.

Padişahın bu tutumu,

- I. Kendi haklarının korunmasına önem verdiğini,
II. Toprak bütünlüğünden ödün verebileceğini,
III. Kurtuluş umudunu sürdürdüğünü

durumlarından hangilerini kanıtlar?

- A) Yalnız I B) Yalnız III C) I ve II
D) I ve III E) I, II ve III

11. Mondros Ateşkes Antlaşması'nda yer alan "Osmanlı ordusu terhis edilecek, cephanelerine el konulacaktır." maddesi tam anlamıyla uygulanamamıştır.

Milli mücadele döneminde görülen,

- I. Doğu cephesinde Kazım Karabekir'in başında bulunduğu 15. Kolordu'nun kullanılması,
II. Direniş cemiyetlerinin kurulması,
III. Kuvayı Milliyecilerin faaliyetleri

gelişmelerinden hangileri bu yargıyı kanıtlar?

- A) Yalnız I B) Yalnız III C) I ve II
D) I ve III E) I, II ve III

12. 22 Haziran 1919'da M. Kemal Paşa, Ali Fuat Paşa, Refet Paşa ve Rauf Bey tarafından imzalanan Amasya Genelgesi'nde Kurtuluş Savaşı'nın amacı, gerekçesi ve yöntemi ortaya konmuştur.

Amasya Genelgesi'nin

- I. Vatanın bütünlüğü, milletin bağımsızlığı tehlikeydedir,
II. İstanbul hükümeti sorumluluğunu yerine getirmemektedir,
III. Milletin bağımsızlığını milletin azim ve kararı kurtaracaktır

maddeleri aşağıdakilerden hangisinde amaç, gerekçe ve yöntem ilişkisi bakımından doğru sıralanmıştır?

	Amaç	Gerekçe	Yöntem
A)	I	III	II
B)	II	I	III
C)	I	II	III
D)	III	I	II
E)	II	III	I

13. I. TBMM'nin kararları arasında yer alan,

- I. TBMM'nin üstünde güç yoktur,
II. TBMM yasama ve yürütme yetkisine sahiptir,
III. İlk TBMM meclis hükümeti sistemini benimsemiştir

maddelerinden hangileri I. TBMM'nin olağanüstü yetkilere sahip olduğunu gösterir?

- A) Yalnız I B) I ve II C) I ve III
D) II ve III E) I, II ve III

14. Mudanya Ateşkes Antlaşması'nın

"Doğu Trakya TBMM'nin jandarma kuvvetlerine bırakılacaktır. Ancak bu kuvvetlerin sayısı 8000'i geçmeyecektir."

maddesine bakılarak,

- I. Doğu Trakya savaş yapmadan kurtarılmıştır,
II. Bu antlaşmayla diplomatik başarı kazanılmıştır,
III. TBMM'nin ordusundaki asker sayısına sınırlama getirilmiştir

yorumlarından hangileri yapılabilir?

- A) Yalnız I B) Yalnız III C) I ve II
D) I ve III E) I, II ve III

15. Cumhuriyet döneminde yapılan aşağıdaki uygulamalardan hangisi diğer dördünden farklı bir amaca yöneliktir?

- A) Çok partili hayata geçiş denemeleri
B) Seçmen yaşının 18'e indirilmesi
C) Kadınlara seçme ve seçilme hakkının verilmesi
D) Halifeliğin kaldırılması
E) Takriri Sükun kanununun ilan edilmesi

16. Atatürk, öncelikle toplumda millet bilincini uyandırmış, "ümmetten millet" yaratmıştır.

Cumhuriyet döneminde görülen,

- I. Halifeliğin kaldırılması,
II. Türk Dil ve Tarih Kurumu'nun kurulması,
III. Üniversite reformunun yapılması

uygulamalarından hangileri "ümmetten millet" yaratmaya yöneliktir?

- A) Yalnız I B) I ve II C) I ve III
D) II ve III E) I, II ve III

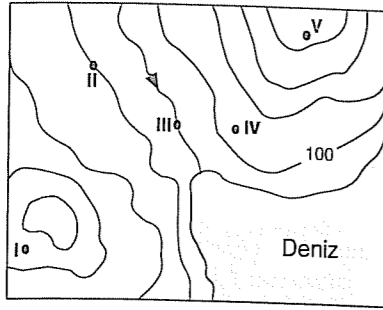
17. Cumhuriyet döneminde gerçekleştirilen,

- I. Medeni Kanun'un kabulü,
- II. Kadınlara milletvekili seçilme hakkının verilmesi,
- III. Kadınlara belediye seçimlerine katılma hakkı verilmesi

uygulamalarının kronolojisi aşağıdakilerin hangisinde doğru verilmiştir?

- A) I-II-III B) I-III-II C) II-I-III
D) II-III-I E) III-I-II

18. Aşağıda bir yörenin eş yükselti eğrileri yöntemiyle çizilmiş haritası verilmiştir.



Buna göre, haritada numaralanmış hangi noktanın yükseltisi kesin olarak belirlenebilir?

- A) I B) II C) III D) IV E) V

19. Türkiye'deki bir yörede, aşağıdaki gözlemlerde bulunulmuştur.

- o Normal koşullarda, günlük hava sıcaklığının en düşük olduğu zaman güneşin doğma saatleridir.
- o Mart ayı ortalama sıcaklıkları Eylül ayı ortalama sıcaklıklarından daha düşüktür.

Bu gözlemlere dayanarak aşağıdaki yargılardan hangisine ulaşamaz?

- A) Yeryüzünde sıcaklık sadece güneş ışınlarının geliş açısına bağlı olarak değişmez.
- B) Yeryüzünün ısı kaybettiği dönemlerin bulunması sıcaklığın dağılışında etkili olur.
- C) Yer'in günlük ve yıllık hareketleri de ortalama sıcaklıklar üzerinde etkilidir.
- D) Birbirini takip eden dönemlerden, bir önceki dönemin sıcaklığı bir sonraki dönemin sıcaklığına etkilidir.
- E) Bazı dönemlerde güneşten alınan ısı enerjisi tutarının düşük olması ortalama sıcaklıkların da düşük olmasına neden olur.

20. Ekvator'un 4218 km kuzeyinde bulunan X noktasının yerel saati başlangıç meridyeninin yerel saatinin 2 saat 20 dakika ileridir.

Verilen bilgiler göz önüne alındığında, aşağıda koordinatları verilen noktalardan hangisinin X noktasına göre güneybatı yönünde bulunduğu söylenebilir?

- A) 40° doğu
K — 30° kuzey
- B) 30° doğu
L — 42° kuzey
- C) 32° doğu
M — 35° kuzey
- D) 45° doğu
L — 50° kuzey
- E) 20° doğu
P — 38° kuzey

21. Yeryüzünde,

- I. Balkanlardan Adriyatik kıyılarına
- II. Romanya'nın iç kesimlerinden Karadeniz kıyılarına
- III. Büyük Sahra'dan Kuzey Afrika ve İtalya kıyılarına
- IV. İsviçre'deki Alp Dağları'nın yüksek kesimlerinden İtalya'daki Po Ovası'na
- V. Fransa'nın iç kesimlerinden Rhone Vadisi'ni izleyerek Akdeniz kıyılarına

doğru esen rüzgârlardan hangileri sıcak karaktarlı yerel rüzgârlardır?

- A) I ve II B) I ve V C) II ve III
D) III ve IV E) IV ve V

22. Aşağıda, bazı bitki örtüleri verilmiştir

- o Maki
- o Garig
- o Psödomaki
- o Antropojen bozkır

Buna göre, aşağıdakilerden hangisinin bu bitki örtülerinin ortak özelliği olduğu söylenebilir?

- A) Yeryüzünün en önemli endemik bitki türlerini barındırmaları
- B) Çalı formasyonuna ait bitki türlerinin bulunması
- C) Doğal bitki örtüsünün tahribi sonucu oluşmuş olmaları
- D) Yeryüzünün hemen her iklim bölgesinde bulunabilmeleri
- E) Orman üst sınırından sonra doğal yetiştirme ortamı bulmaları

23. Bir ülkede birincil ekonomik faaliyetlerde çalışanların oranı 1980 yılında % 60 iken, bu oran 2010 yılında % 32'ye düşmüştür.

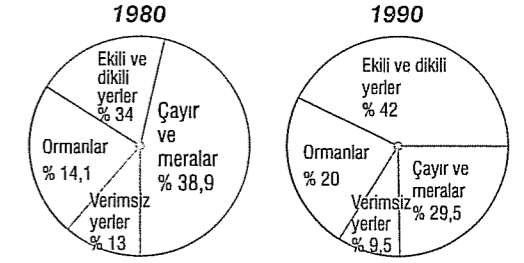
Buna göre, söz konusu ülkeyle ilgili aşağıdaki yargılardan hangisi söylenemez?

- A) Kentsel nüfus oranı artmıştır.
- B) Ulaşım ve ulaştırma olanakları artmıştır.
- C) Yetiştirilen tarım ürünü çeşidi azalmıştır.
- D) Çalışan nüfus içinde, nitelsiz işçi payı azalmıştır.
- E) Dış satımda ham madde ürünlerinin payı azalmıştır.

24. Aşağıdakilerden hangisinin Türkiye'deki geçici köy altı yerleşmelerin ortak özelliği olduğu söylenemez?

- A) Gereksinimlerinin önemli bir kısmının yerel üretiminden karşılanması
- B) Nüfusun mevsimden mevsime değişmesi
- C) Hayvancılığın temel geçim kaynağı olması
- D) Barınma gereksinimini çadırların karşılaması
- E) Genelde yüksek ve engebeli yerlerde kurulmuş olması

25. 1980 ve 1990 yıllarında bir ülkede toprakların kullanım biçimine göre bölünüşü aşağıda verilmiştir.



Yalnızca bu grafikteki bilgilere dayanarak aşağıdaki sonuçlardan hangisine ulaşamaz?

- A) Ekili ve dikili yerler ile orman alanlarının oranında artma, çayır ve meralar ile verimsiz yerlerin oranında ise bir azalma olmuştur.
- B) Verilen yıllar arasında ülkenin tarımı gelişmiştir.
- C) On yıl içinde en büyük pay artışı orman alanlarında olmuştur.
- D) Çayır ve mera alanlarının bir kısmı tarım alanı haline dönüştürülmüştür.
- E) Verilen yıllarda verimsiz yerlerin oranı en azdır.

26. Bölge kavramıyla ilgili aşağıda verilen yargılardan hangisi yanlıştır?

- A) Bölge; doğal özellikler ile beşeri ve ekonomik özellikler bakımından ortak bir paydanın ifadesidir.
- B) Doğal unsurlar kriter alınarak çizilen bölgelerin sınırları kısa sürede değişmez.
- C) Bölge sınırları çoğu zaman kademeli bir geçiş gösterir.
- D) İşlevini yitiren bölgeler ortadan kalkar ve yerini yeni bölgelere bırakır.
- E) Beşeri unsurlar göz önüne alınarak çizilen bölgelerin sınırları, her durumda birbirleriyle örtüşür.

27. Meteorolojik olayların neden olacağı afetin bütununun azaltılmasında,

- I. acil durum planlarının yapılması,
- II. iyi çalışan bir erken uyarı sisteminin kurulması,
- III. nüfusun dağılışının düzenli hâle getirilmesi,
- IV. eğimli yamaçlardaki yerleşim alanlarının çevredeki düzlük alanlara taşınması

önlemlerinden hangilerinin etkili olacağı söylenebilir?

- A) I ve II B) I ve III C) II ve III
D) II ve IV E) III ve IV

28. Aşağıdaki tabloda, Türkiye'nin yaş gruplarına göre nüfus oranları ve ortanca yaş değerleri verilmiştir.

Yıllar	0-14 (%)	65+ (%)	Ortanca yaş
1990	35	4.28	22.21
2000	29.83	5.70	24.83
2011	25.27	7.35	29.22

Bu tablodaki bilgilere göre, Türkiye nüfusuyla ilgili aşağıdaki yorumlardan hangisi yanlıştır?

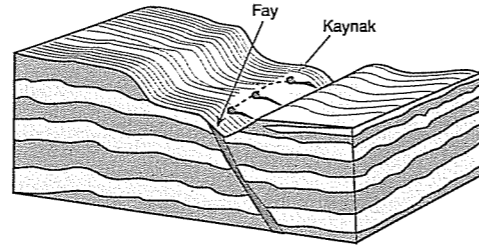
- A) Gelişme düzeyi artmıştır.
- B) Nüfus artış hızı düşmüştür.
- C) Ortalama yaşam süresi uzamıştır.
- D) Bebeklerde ölüm oranları düşmüştür.
- E) Genç nüfuslu olma özelliğinden, yaşlı nüfuslu olma özelliğine doğru gitmektedir.

29. Sürdürülebilir kalkınma yaklaşımı, insan sağlığını ve doğal dengeyi koruyarak sürekli olarak ekonomik kalkınmayı ve gelecek kuşaklara daha sağlıklı bir çevre bırakabilme yönünde bir gelişmeyi ifade eder.

Aşağıdakilerden hangisi bu parçada ifade eden görüşe bir örnek oluşturur?

- A) Enerji üretiminde fosil yakıtların yoğun olarak kullanılması
- B) Organik tarımın yaygınlaşması
- C) Tarım alanlarında nadas uygulamasının devam edilmesi
- D) Orman alanlarının tarım ve mera alanlarına çevrilmesi
- E) Hasattan sonra, bitkilerin tarlada kalan köklü sap kısmının yakılması

30. Aşağıda bir kaynağın bulunduğu yerin jeolojik yapısı verilmiştir.

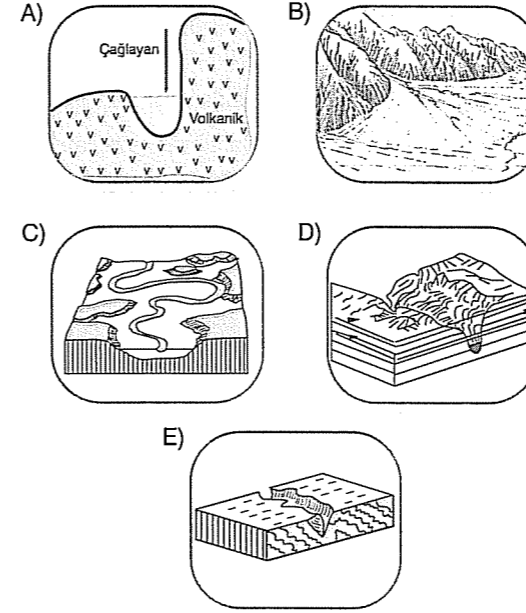


Bu kaynak tipinin, yukarıdaki haritada numaralanmış yerlerin hangilerinde görülmesi beklenmez?

- A) I ve II B) I ve III C) II ve III
D) II ve IV E) III ve IV

31. ○ Akarsuyun yatağını derine doğru aşındırabileceği en son seviyeye kaide seviyesi adı verilir. Kaidе seviyesi, deniz seviyesidir.
- Kaidе seviyesine ulaşmış bir akarsuyun profili, denge profiline ulaşmıştır.

Buna göre, denge profiline ulaşmış bir akarsu havzasında aşağıdaki yer şekillerinden hangisine rastlanır?



32. Felsefenin konusunu oluşturan doğru, iyi, güzel, özgürlük, inanç konularından hangisi doğa bilimlerinin de konusuna girer?

- A) İyi B) Özgürlük C) Güzel
D) İnanç E) Doğru

33. "Bilgi, özne - nesne ilişkisinin bir ürünüdür." tanımındaki "özne - nesne" ikilisi aşağıdakilerden hangisiyle aynı anlamdadır?

- A) Olgu - olay B) Varlık - yokluk
C) Değer - olgu D) Obje - değer
E) Subje - obje

34. Varlık zihnimizden bağımsız olarak dış dünyada vardır.

Varlık yoktur.

Varlık duyusal değil düşünseldir.

Yukarıdaki varlık tanımları sırasıyla hangi felsefe kuramıyla temsil edilmektedir?

- A) Düalizm - Realizm - İdealizm
B) Realizm - Ontoloji - Materyalizm
C) Nihilizm - İdealizm - Empirizm
D) Realizm - Nihilizm - İdealizm
E) Materyalizm - İdealizm - Nihilizm

35. Eylemlerimizin amacı en yüksek iyi ve değer olan "haz"dır. Haz ise bedensel hazza dayanan mutluluktur.

Bu düşünce aşağıdaki ahlak kuramlarından hangisine aittir?

- A) Determinizme
B) Varoluşçuluğa
C) İndeterminizme
D) Nihilizme
E) Hedonizme

36. Bazı insanlar hiçbir çıkar gözetmeksizin yalnızca hoşlanmak amacıyla seyredilmek için nesnelere üretmektedirler.

Bu tür etkinlikler felsefenin hangi disipliniyle ilgilidir?

- A) Ahlak felsefesiyle
B) Din felsefesiyle
C) Siyaset felsefesiyle
D) Bilgi felsefesiyle
E) Sanat felsefesiyle

37. Aşağıdaki yargılardan hangisi din felsefesinin özelliklerinden birisi değildir?

- A) Dinlerin kaynağını sorgular.
B) Belli bir inancı temel alarak Tanrı inancını açıklar.
C) Dinsel inancın sorgulamasını yapar.
D) Genel olarak din olgusunu konu alır.
E) Tüm dinlere nesnel olarak yaklaşır.

38. Devlette üç farklı sosyal sınıf vardır. Bu sosyal sınıflar insandaki üç farklı yetinin bir sonucudur. Bu yetilerden beslenme işçi sınıfını, cesaret asker sınıfını, akıl ise yönetici sınıfını doğurmuştur. Devleti yönetmek demek insandaki bu üç yetiyi yönetmek demektir. Tüm insanların doğalarına uygun davranması ya da yaşaması devletin de düzenli işlemesi demektir.

Platon'un bu devlet anlayışı için aşağıdakilerden hangisini söyleyemeyiz?

- A) Devletle insan doğası arasında bir ilişki kurulmuştur.
B) İnsanların ihtiyaçları değiştikçe devletin yapısının da değişeceğini göstermiştir.
C) Devleti doğanın bir devamı olarak görmüştür.
D) İnsan doğasının kanunları devletin de kanunlarıdır.
E) Devlet insanda doğal olarak vardır.

39. Bilimsel yöntem;

- I. benzer olgulardan birisi hakkında verilen yargının aynısını diğeri hakkında da vermektir.
II. olguların ilk nedenlerini sorgulamaktır.
III. kuramsal bilgilerin pratik alana uygulanmasıdır.
IV. olguları toplama ve gözlemden genellemelere gitmektir.
V. aklın tümel bir önermeden tikel bir önermeye ulaşmasıdır.

Bu tanımlardan hangisi bilimde tümevarım yönteminin kullanıldığını gösterir?


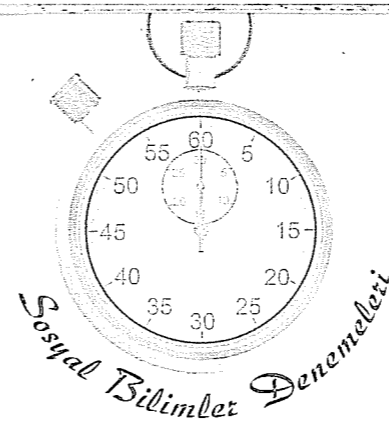
- A) I. B) II. C) III. D) IV. E) V.

40. "Bugün hava yağmurlu" yargısı ahlaki bir karar değilken, "Mutlu ve güvenli bir toplum için yardımlaşma duygusunun güçlendirilmesi gerekir" yargısı ahlaki bir karardır.

Bu örneğe göre ahlaki kararlar için aşağıdakilerden hangisini söyleyebiliriz?

- A) Nesnel yargılardır.
B) Değerlerle ilgili yargılardır.
C) Olgularla ilgili yargılardır.
D) Kesin doğrulardan oluşan yargılardır.
E) Olgusal olarak kanıtlanabilen yargılardır.

Deneme 5							
1	A	11	D	21	D	31	C
2	B	12	C	22	C	32	E
3	D	13	D	23	C	33	E
4	D	14	C	24	D	34	D
5	E	15	E	25	C	35	E
6	B	16	B	26	E	36	E
7	E	17	B	27	A	37	B
8	D	18	B	28	D	38	B
9	D	19	E	29	B	39	D
10	C	20	C	30	A	40	B



1. X ve Y ören yerlerinde yapılan kazılarda aşağıdaki kültürel katmanlara rastlanmıştır.

X Bölgesi

Y Bölgesi

demir korkuluklar
tunç heykeller

demirden silahlar

bakır tencereler

bakır eşyalar

seramik kaplar
taş keskiler

toprakta yapılmış
tahıl saklama kapları
taş baltalar

Buna göre X ve Y bölgelerinde araştırma yapan bir arkeolog aşağıdaki yorumlardan hangisini yapmış olamaz?

- A) Toplumların yaptıkları araç ve gereçler birbirine benzeyebilir.
B) Y bölgesindeki toplum başka bir toplumla sosyal etkileşime girmiştir.
C) Her iki toplum da ateşten faydalanmıştır.
D) Her iki toplum da demiri savunma ihtiyaçlarını gidermek için kullanmışlardır.
E) Her iki toplum da tarih öncesi devirleri sırayla yaşamıştır.

2. Yazının bulunması ve İlkçağ'ın başlamasıyla toplumlararası etkileşim artmıştır.

Aşağıdakilerden hangisi İlkçağ'da toplumlar arası etkileşimi artıran faktörlerden değildir?

- A) Kral yolu ticaretinin gelişmesi
B) Koloniciliğin yaygınlaşması
C) Haçlı seferleri
D) Mezopotamya bölgesine yapılan göçler
E) Uygarlıkların bıraktığı yazılı kaynaklar

3. Arap Yarımadasında İslamiyet'in kabul edilmesiyle birlikte yaşam tarzında büyük değişiklikler meydana geldi. Hz. Muhammed bu değişikliklerin kalıcı olabilmesi için Müslümanlara bazı yasaklar getirdi. Resim ve heykel yapma da bu yasaklardandı.

Bu yasağın temelinde Mekkelilerin aşağıdaki özelliklerinden hangisi etkilidir?

- A) Kabeyi kutsal kabul etmeleri
B) Putlara tapmaları
C) Kadın-erkek eşitliğinin olmaması
D) Kabileler halinde yaşamaları
E) Kabileler arasında kan davaları olması

4. Memlûklerde askeri darbelerin yaşanmasıyla faklı soylardan kişiler tahta çıkmıştır.

Memlûklerin aşağıda verilen Türk devletlerine özgü niteliklerden hangisine sahip olmamaları bu duruma neden olmuştur?

- A) Örfi ve şeri hukukun varlığına
B) Kut anlayışına
C) Son sözün hükümdarda olmasına
D) Halifenin dini otorite olarak kabul edilmesine
E) Medreselerde yönetici ihtiyacının karşılanmasına

5. Osmanlı Kuruluş Dönemi'ne ait aşağıdaki gelişmelerden hangisi diğer dördünden farklı bir amaç taşımaktadır?

- A) Orhan Bey zamanında Bizans'ın Maltepe Savaşı'nda yenilgiye uğratılması
B) Rumeli'de önemli bir üs olan Çimpe Kalesi'nin fethi
C) Hamitoğulları'ndan para karşılığı toprak satın alınması
D) Çirmen Savaşı'nda Sırp'ların mağlup edilmesi
E) II. Kosova Savaşıyla Balkanlardaki Türk hakimiyetinin konsolidasyonu

6. Kavimler Göçü'yle doğan, siyasi otoritenin bölünmüş şekli olan feodalitenin çöküşünü hazırlayan faktörlerden biri de İstanbul'un fethinde kullanılan toplardır. Toplarla surların yıkılması daha büyük ordulara ihtiyaç duyulduğunu göstermiş, bu durum krallıkları güçlendirmişti.

Sadece bu bilgilere bakılarak feodaliteyle ilgili aşağıdakilerden hangisine ulaşılamaz?

- A) Merkezi otoritenin bulunmadığına
B) Yaklaşık 1000 yıl etkisini sürdürdüğüne
C) Savunma sisteminin değişen koşullara uyum sağlamadığına
D) Krallık - feodal yapı arasındaki güç ilişkisine
E) Feodalitenin güçlü yönlerine

7. Sokullu Mehmet Paşa'nın ölümünden sonra XVII. yy.da Osmanlı'nın duraklama dönemine girmesinde birçok iç ve dış neden etkili olmuştur.

Aşağıdakilerden hangisi bu dış nedenlerden biridir?

- A) Tımar sisteminin bozulması
B) Beşik ulemalığının ortaya çıkması
C) Feodal beylikler yerine merkezi krallıkların güçlenmesi
D) Kafes sisteminin uygulanması
E) İmparatorluğun çok uluslu karakteri

8. Osmanlı Devleti'nin 18. yy.da imzaladığı son kazançlı antlaşma olan Belgrat Antlaşması'na bakılarak "Karadeniz'in yeniden Türk Gölü haline geldiği" yargısına varılabilir.

Bu antlaşmanın,

- I. Azak Kalesi yıkılmak şartıyla Rusya'ya bırakılacak,
II. Rusya, Karadeniz'de savaş ve ticaret gemisi bulundurmaz,
III. Rus çarı protokol bakımından Avusturya imparatoruna ve Fransa kralına eşit sayılacak

maddelerinden hangileri bu duruma kanıt gösterilebilir?

- A) Yalnız I B) Yalnız II C) I ve II
D) I ve III E) II ve III

9. XIX. yy.a kadar Osmanlı yönetiminde yaşayan Balkan ulusları, XIX. yy.da ayaklanmaya başladı. Bu ayaklanmalarda imtiyaz kazanan ilk ulus Sırp'lardı.

Sırp ayaklanmalarına neden olan,

- I. Milliyetçilik düşüncesinin yaygınlaşması,
II. Savaş alanı haline gelen Sırbistan topraklarının sık sık el değiştirmesi,
III. Osmanlı merkezi otoritesinin zayıflaması

durumlarından hangileri Osmanlı'nın iç sorunlarından kaynaklanmaktadır?

- A) Yalnız I B) Yalnız III C) I ve II
D) II ve III E) I, II ve III

10. II. Mahmut'un "Ben tebaamdaki din farkını ancak cami, havra ve kiliseye girdikleri zaman görmek isterim." sözünün, Osmanlı İmparatorluğu'nun dağılmasını önlemek amacıyla ortaya atılan,

- I. Osmanlıcılık,
II. Türkçülük,
III. Ümmetçilik

akımlarından hangisine ters düştüğü söylenebilir?

- A) Yalnız I B) Yalnız II C) I ve III
D) II ve III E) I, II ve III

11. Almanya'nın I. Dünya Savaşı'nda Osmanlı Devleti'ni yanına çekmek istemesinde etkili olan,

- I. Osmanlı padişahının halifelik unvanını elinde bulundurması,
II. Osmanlı'nın savaşa girmesiyle savaşın geniş alanlara yayılacak olması,
III. Osmanlı'nın insan gücünün fazla olması

durumlarından hangileri Osmanlı Devleti'nin jeopolitik konumuyla ilgilidir?

- A) Yalnız I B) Yalnız II C) I ve II
D) I ve III E) II ve III

12. Amasya Genelgesi'nin maddelerinden biri de "İstanbul Hükümeti sorumluluğunu yerine getirmektedir. Bu durum milletimizi yok gibi göstermektedir." şeklindedir. Bu maddede vatanın uğradığı işgalden İstanbul Hükümeti sorumlu tutulurken, saltanat makamından bahsedilmemiştir.

M. Kemal bu tutumuyla aşağıdakilerden hangisini amaçlamış olabilir?

- A) Halkı İstanbul Hükümeti'ne karşı kışkırtmayı
B) Saltanat makamını korumayı
C) Kurtuluş mücadelesinde padişah yanlılarının da desteğini almayı
D) Kendi hükümetini kurmayı
E) Osmanlı padişahıyla ittifak kurmayı

13. I. TBMM'de alınan aşağıdaki kararlardan hangisinin meclisin dayandığı temel prensip olan "milli irade" kavramıyla çeliştiği söylenebilir?

- A) Hükümet kurmak gereklidir.
B) Geçici de olsa padişah vekili atamak doğru değildir.
C) TBMM'nin üstünde güç yoktur.
D) TBMM yasama ve yürütme yetkisine sahiptir.
E) Padişah ve halifenin durumu bulunduğu baskıdan kurtulduktan sonra meclis tarafından belirlenecektir.

14. Kurtuluş Savaşı'nda güney cephesinde Fransa ve Ermenilere karşı Kuvayi Milliye birlikleriyle mücadele edilmiş, bölge halkı Kuvayi Milliye birlikleriyle birleşerek topraklarını işgallerden kurtarmıştır.

Sadece bu bilgilere bakılarak aşağıdakilerden hangisine ulaşılamaz?

- A) Güney cephesinde düzenli ordunun savaşmadığına
B) Kuvayi Milliye'nin güney cephesinde başarı gösterdiğine
C) Güney cephesinde birden fazla düşmanla savaşıldığına
D) Fransa'nın bölgeden tamamen çekildiğine
E) Halkın milli mücadelede kararlılığına

15. İtilaf Devletleri'nin 6 Ekim 1923'te İstanbul'u TBMM hükümetine teslim etmesiyle başkent belirlenmesi sorunu ortaya çıktı. 13 Ekim 1923'te Ankara'nın başkent yapılmasıyla sorun çözüldü.

Ankara'nın başkent ilan edilmesinde,

- I. Lozan Antlaşması gereği İstanbul'un güvenlik açısından savunmasız olması,
II. Milli Mücadele'nin de merkezi olması,
III. Anadolu'nun merkezinde olması

durumlarından hangileri etkili olmuştur?

- A) Yalnız I B) Yalnız II C) I ve II
D) I ve III E) II ve III

16. Atatürk'e göre bir insan topluluğunun millet sayılabilmesi için zengin bir hatıra mirasına, birlikte yaşamak hususunda samimi olmaya, sahip olunan mirası korumanın ortak amaç olmasına, sevinçte ve üzüntüde beraber olmaya ihtiyaç vardır.

Atatürk'ün bu anlayışı aşağıdaki ilkelere hangisinin kapsamına girer?

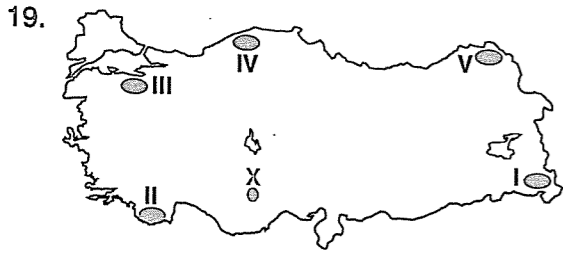
- A) Halkçılık B) Cumhuriyetçilik
C) İnkılapçılık D) Milliyetçilik
E) Laiklik

17. Siyasi alanda yapılan aşağıdaki inkıaplardan hangisi yeni Türk devletinin laik bir düzene geçmesinin ilk adımını oluşturur?

- A) Cumhuriyetin ilanı
B) Halifeliğin kaldırılması
C) Saltanatın kaldırılması
D) 1924 Anayasası'nın kabulü
E) Çok partili hayata geçiş denemelerinde bulunulması

18. Aşağıdaki topoğrafya haritalarının eşit boyutlardaki sayfaları, sayfanın tümü kullanılarak çizildiği düşünülürse, hangisine ait haritada eş yükselti eğrileri arasındaki yükselti farkı en fazla olur?

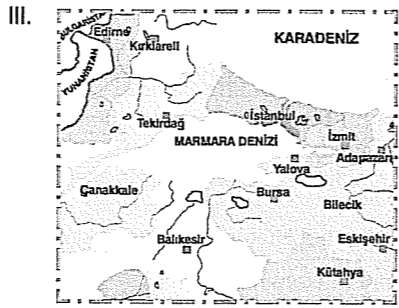
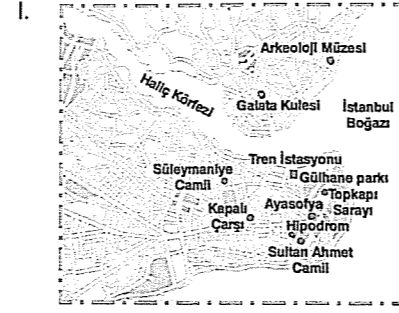
- A) Hakkâri Bölümü
B) İç Anadolu Bölgesi
C) Erciyes Yöresi
D) Ergene Havzası
E) Taşeli Platosu



21 Aralıkta, haritada gösterilen noktaların hangisinde, X'e göre hem gündüz süresi daha kısadır hem de güneş daha erken doğar?

- A) I B) II C) III D) IV E) V

20. Aşağıda, üç farklı harita verilmiştir.



Buna göre, I. haritadan III. haritaya,

- ayrıntıyı gösterme gücü,
- ölçeğin paydası,
- birim alanda gösterilen iz düşümsel gerçek yüz ölçüm,
- ölçek değeri,
- hata payı

niceliklerinden kaç tanesinin azaldığı söylenebilir?

- A) 1 B) 2 C) 3 D) 4 E) 5

21. K ve L noktaları, gün içinde gölge boyunun en kısa olduğu an bakımından yıl boyunca birbirinin aynıdır.

Buna göre, K ve L noktalarıyla ilgili aşağıdaki yargılardan hangisi kesinlikle yanlıştır?

- A) Başlangıç meridyenine olan uzaklıkları bakımından birbirinden farklıdır.
B) Kutup noktalarına olan uzaklıkları bakımından birbirinden farklıdır.
C) Aydınlanma süreleri bakımından birbirinden farklıdır.
D) Güneş karşısından geçiş hızı bakımından birbirinden farklıdır.
E) Ekinokslarda güneşin doğma ve batma anları bakımından birbirinden farklıdır.

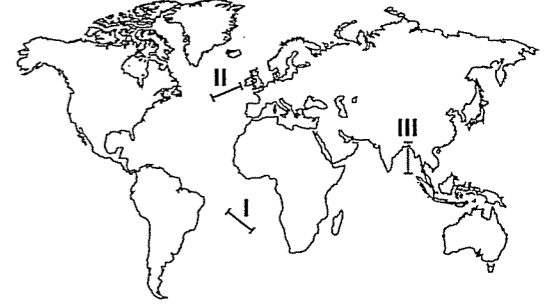
22. Aşağıdakilerden hangisi, enlemin sıcaklık dağılışı üzerinde etkili olduğuna örnek gösterilemez?

- A) Kuzeyden esen rüzgârların Türkiye'de hava sıcaklığını düşürmesi
B) Türkiye'nin kuzeyi ile güneyi arasında 7-8° C'lik sıcaklık farkı bulunması
C) Torosların kuzey ve güney yamaçlarında orman üst sınırının farklı olması
D) Maki üst sınırının Akdeniz Bölgesi'nde Marmara Bölgesi'ndekine göre daha fazla olması
E) Ege'de tuzluluk oranının kuzeye doğru azalması

23. Yeryüzünün belirli bir bölgesinde, sürekli alçalıcı karakterde olan bir hava kütleleriyle ilgili aşağıdaki yargılardan hangisine ulaşılamaz?

- A) Bağlı nem oranı düşüktür.
B) Bir yüksek basınç alanında bulunur.
C) Nem açığı fazladır.
D) Buharlaşma miktarı düşüktür.
E) Bulutluluk oranı düşüktür.

24.



Yukarıdaki haritada numaralanmış doğrultularda etkili olan rüzgârlar aşağıdakilerin hangisinde doğru verilmiştir?

- | | I | II | III |
|-----------------------|------------------|----------------|-----|
| A) Kuzeydoğu Alizeler | Batı rüzgârları | Hamsin | |
| B) Güneybatı Alizeler | Batı rüzgârları | Kış musonu | |
| C) Kuzeydoğu Alizeler | Ters Alizeler | Kasırgalar | |
| D) Ters Alizeler | Kutup rüzgârları | Fön rüzgârları | |
| B) Güneybatı Alizeler | Ters Alizeler | Yaz musonu | |

25. Aşağıdaki yörelerden 30° kuzeye ve 30° güneye gidildiğinde, hangisinde her iki yönde de benzer iklim tiplerinin etkili olduğu gözlenir?

- A) Kongo Havzası B) Akdeniz Havzası
C) Sibiryası D) Hint Yarımadası
E) Kuzey Afrika

26. Bir ülke sınırları içinde, aynı büyüklükteki bir meteorolojik afet bölgeden bölgeye farklı derecede etkili olur.

Bu durum aşağıdakilerden hangisiyle açıklanamaz?

- A) Bölgede erken uyarı sistemlerinin bulunup bulunmamasıyla
B) Bölgede nüfus yoğunluğunun fazla ya da az olmasıyla
C) Bölgede doğal afetlere karşı önlemlerin alınıp alınmamasıyla
D) Bölgenin yüz ölçümünün büyük ya da küçük olmasıyla
E) Bölgedeki doğal dengenin insanlar tarafından bozulup bozulmamasıyla

27. Aşağıdaki tabloda, beş farklı ülkede toplam nüfusunun yaş gruplarına göre dağılışı oranları ile iş gücüne dahil olmayan nüfus oranları verilmiştir.

Ülkeler	Yaş Grupları			İş gücüne dahil olmayan nüfus oranı (%)
	0-14	15-64	65+	
I	13.5	64.3	22.2	7.2
II	45	52.5	2.5	28.3
III	19.6	65	16.4	16.8
IV	11.2	67	21.8	8
V	44.5	53.1	2.4	29.5

Buna göre, verilen ülkelerle ilgili aşağıdaki yargılardan hangisi yanlıştır?

- A) I. ve IV. ülkede gelişme düzeyi daha yüksektir.
 B) IV. ülkede çocuk ve yaşlı bağımlı nüfus oranı toplamı en azdır.
 C) İş gücüne dahil olmayan nüfus oranı yüksek olan ülkelerde yaşlı bağımlı nüfus oranı daha azdır.
 D) V. ülkede çalışan nüfus oranı en fazladır.
 E) III. ülkede çocuk bağımlı nüfus oranı II. ülkedekine göre daha azdır.

28. Aşağıdakilerden hangisinin çevre sorunlarına neden olacağı söylenebilir?

- A) Nadas alanlarında, dönüşümlü ürün ekme sisteminin yaygınlaştırılmasının
 B) Atmosferdeki nem oranının artmasının
 C) Enerji üretiminde alternatif kaynakların kullanılmasının
 D) Vadi tabanlarının yerleşime açılmasının
 E) Alüvyal ovalarda endüstri bitkileri üretilmesinin

29. Aşağıdaki tabloda, üç farklı yerin bazı coğrafi özellikleri verilmiştir.

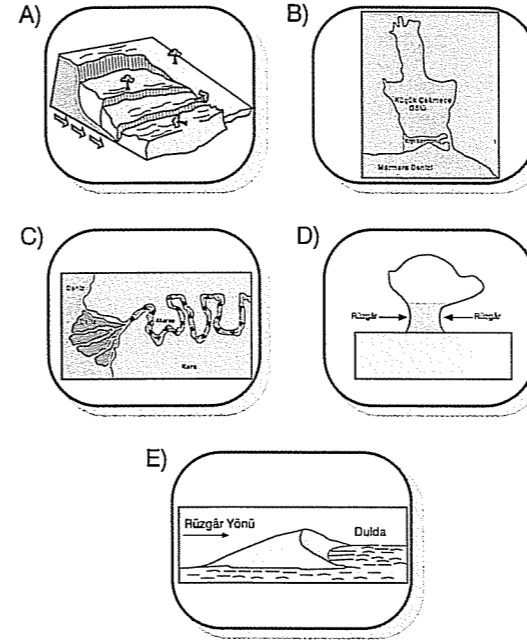
Yer	Yağış rejimi	Su kaynakları	Arazinin şekli	Yerleşme şekli
I	Düzensiz	Yetersiz	Düz arazi tarım alanı geniş	Toplu
II	Düzenli	Yeterli	Engelibeli arazi, küçük ve parçalı tarım alanı	Dağınık
III	Düzensiz	Yeterli	Çöküntü alanları, dağlık alanlar ve tarım alanı geniş	Toplu



Buna göre, bu yerlerden her biri yukarıdaki haritada verilen K, L ve M yörelerinde hangisine aittir?

	I	II	III
A) K		M	L
B) M		L	K
C) K		L	M
D) M		K	L
E) L		K	M

30. Aşağıdakilerden hangisi fazla eğim, su, kayanın ve toprağın cinsi, tabakaların durumu gibi etmenlerin ortak etkisiyle oluşur?



31.



Haritada verilen,

- I. yöredeki kaynak suları bol miktarda kireç içermekte,
- II. yöredeki kaynak sularında eriyik oranı fazla olup hem magmatik hem de yağışlarla beslenmektedir.

Bu duruma bakılarak Türkiye'yle ilgili,

- Aktif fay hatları bulunur.
- Akarsular denge profiline ulaşmamıştır.
- Çözünabilen kayaların yaygın olduğu yöreler bulunur.
- Arazi farklı jeolojik yapı ve yaşta kayalardan oluşur.

yargılarından hangilerine ulaşılabilir?

- A) I ve II B) I ve III C) II ve III
 D) II ve IV E) III ve IV

32. M.Ö. 6. yüzyılda Pythagoras, bilgiyi sevmeyi bilgeliğe yeğ tutmuştu. Bundan dolayı felsefenin tanımı olarak "bilgelik" yerine "bilgi sever" terimini kullanmıştır. Pythagoras'a göre düşünen insan bilge değil, yani her şeyi bilen değil, bilgi edinme yolunda istekli olan kişidir. Düşüncenin peşinden giden kişi bilge değil, bilgi dostudur.

Pythagoras'ın bu düşüncesi filozoflarda hangi özelliğin bulunduğuna örnek olarak gösterilebilir?

- A) Sistemli ve tutarlı olma
 B) Hayalperest olma
 C) Alçak gönüllü olma
 D) Çok şüpheli olma
 E) Faydacı olma

33. Bir şeyi gerçekten bilmemiz demek, yanlışlığın mümkün olmaması demektir. Ancak çoğu zaman bir şeyi bildiğimizi düşünürüz, fakat sonunda yanlış olduğumuz ortaya çıkar. Bu tür durumları yaşadığımız göre herhangi bir şeyi bildiğimizden nasıl emin olabiliriz?

Filozofların bilgi konusundaki bu kaygıları aşağıdaki felsefe kuramlarından hangisinin doğmasına neden olmuştur?

- A) Pozitivizmin B) Septisizmin
 C) Rasyonalizmin D) Empirizmin
 E) Realizmin

34. Her şey akar; bu dünyadaki hiçbir şey olduğu gibi durmaz. Her şey her zaman değişir. Var olanlar var oldukları sürece, iki an yoktur ki, birbiriyle aynı olsunlar.

Herakleitos'un varlıkla ilgili bu düşüncesine göre "Varlık nedir?" sorusuna aşağıdaki cevaplardan hangisi verilirse uygun olur?

- A) Maddedir.
 B) Düşüncedir.
 C) Varlık yoktur.
 D) Hem madde hem düşüncedir.
 E) Oluştur.

35. Davranışların temel amacı insanın kendini korumasıdır. Bundan dolayı da bir davranışın iyi ya da kötü olmasını belirleyen insanın kendisidir.

Hobbes'un bu düşüncesi aşağıdaki ahlak kuramlarından hangisine örnektir?

- A) Varoluşçuluğa B) Determinizme
C) Nihilizme D) Egoizme
E) Pragmatizme

36. Birçok resimden gerçek dünyada bir şeye benzediği için hoşlanırsınız. Bir portreyi ancak onun için poz vermiş olan insana benziyorsa beğeniriz, benzemiyorsa beğenmeyiz.

"Sanatın amacı nedir?" sorusuna aşağıdaki cevaplardan hangisi verilirse yukarıdaki açıklamaya uygun olur?

- A) Yaratıcılıktır.
B) Var olan anlamın dışında başka bir anlam bulmaktır.
C) Gerçeği yansıtmaktır.
D) Hayal gücünü geliştirmektir.
E) Yaşamı yeniden üretmektir.

37. Antik Yunan'da tanrısallığın ya da ilahi olanın, yalnızca insanlarda değil, yaşayan her şeyde, yani hayvanlarda, kuşlarda, balıklarda, böceklerde, bitkilerde ve ağaçlarda da olabileceği inancı vardı.

Bu tanrı anlayışına din felsefesinde ne ad verilir?

- A) Monoteizm B) Politeizm C) Ateizm
D) Panteizm E) Agnostisizm

38. Bilim, insanların neden olduğu kimyasal atıkların dünyamızı kirletip kirletmemesinden çok, bu kirliliğin hangi sonuçları doğurabileceğiyle ilgilenmektedir. Tıpkı yağmurun yağma nedeninden çok ne zaman yağacağıının belirlenmesinde olduğu gibi.

Bu açıklama bilimde aşağıdaki özelliklerden hangisinin bulunduğunu gösterir?

- A) Eleştirelliğin B) Objektifliğin
C) Yaratıcılığın D) Kuramsallığın
E) Öngörüselliğin

39. Geleneksel egemenlik biçiminin geçerli olduğu bir toplumda belediye başkanı seçilirken aşağıdakilerden hangisi ölçüt olarak alınır?

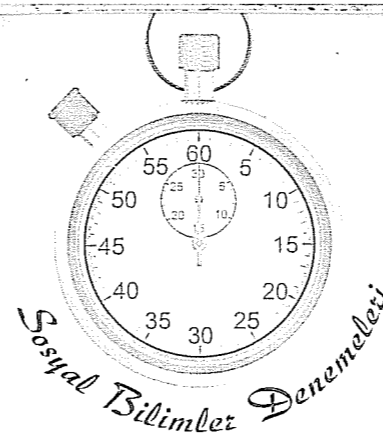
- A) Belediye başkan adayının toplumsal sorunları çözmek için geliştirdiği proje
B) Belediye başkan adayının seçilmek için gerekli yasal koşulları taşıyıp taşımadığı
C) Belediye başkan adayının konuşmalarının toplumu ikna etmesi ve etkilemesi
D) Belediye başkan adayının ülkenin en büyük aşiretinin üyesi olması
E) Belediye başkan adayının demokrasiden ve eşitlikten yana olması

40. Bilimden nasıl yararlanabilirim ya da teknolojiyi hayatımı kolaylaştırmak için nasıl kullanabilirim sorusunu cevaplandırmak için felsefeye ihtiyacımız yoktur. Ancak bilim nedir ya da bilimdeki doğrulara ne kadar güvenebiliriz gibi soruları cevaplandırabilmek için felsefeye ihtiyacımız vardır.

Bu örnekte felsefede hangi özelliğin bulunmadığı vurgulanmaya çalışılmıştır?

- A) Faydacılığın B) Genelliğin
C) Olgusallığın D) Öznelliğin
E) Yaratıcılığın

Deneme 6							
1	E	11	B	21	E	31	B
2	C	12	C	22	C	32	C
3	B	13	E	23	D	33	B
4	B	14	D	24	B	34	E
5	C	15	D	25	A	35	D
6	E	16	D	26	D	36	C
7	C	17	C	27	D	37	D
8	B	18	B	28	D	38	E
9	B	19	E	29	B	39	D
10	B	20	B	30	A	40	A



1. Olay: Kısa sürede olup biten gelişmelerdir.

Olgu: Tarihi süreç içinde tamamlanan gelişmelerdir.

Yukarıda verilen tanımlara göre aşağıdaki olay-olgu eşleştirmelerinden hangisi yanlıştır?

- | Olay | Olgu |
|-----------------------|------------------------------------|
| A) Hicret | İslamiyet'in Medine'de yayılması |
| B) Dandanakan Savaşı | B. Selçuklu Devleti'nin kurulması |
| C) Malazgirt Savaşı | Anadolu'nun Türkleşmesi |
| D) Cumhuriyetin ilanı | Demokrasinin yerleşmesi |
| E) Talas Savaşı | Türklerin İslamiyet'i kabul etmesi |

2. Üç tarafı denizlerle çevrili Anadolu, Avrupa ile Asya arasında köprü görevi yapar. Bu özelliğinden dolayı Anadolu tarih boyunca göç dalgalarına uğramıştır.

Aşağıdakilerden hangisi bu durumun sonuçlarından değildir?

- A) Uygarlıkların gelişmesi
B) Kültürler arası etkileşimin olması
C) Ticaretin gelişmesi
D) Öz kültürlerin oluşması
E) İstilaların yaşanması

3. İslamiyet öncesi Türk devletlerinden Avarlar Macaristan'da, Akhunlar Afganistan'da, Uygurlar Ötüken'de kurulmuştur. Bu örnekler Türklerin geniş bir coğrafyaya yayıldığını göstermektedir.

Aşağıdakilerden hangisi bu durumun bir sonucudur?

- A) Bağımsızlığa önem vermeleri
B) Örgütçü yapıya sahip olmaları
C) Türk tarihini incelemenin zorlaşması
D) Göçebe yaşam tarzına sahip olmaları
E) Ticaret yollarına egemen olmaları

4. Müslümanlarla Mekkelilerin ilk karşılaşması olan Bedir Savaşı'nın kazanılmasından sonra Hz. Muhammed'in ganimetlerin beşte birini hazineye ayırıp kalanını savaşa katılanlar arasında paylaşması,

- I. Savaşlara katılımı artırma,
II. Devletin gelirlerini artırma,
III. Mekkeliler arasından Müslümanlara katılımı artırma

amaçlarından hangilerini taşımaktadır?

- A) Yalnız I B) Yalnız II C) I ve II
D) I ve III E) I, II ve III

5. Selçuklularda meliklerin,

- I. Kendi adlarına hutbe okutamamaları,
- II. Buldukları bölgelerin yönetimini üstlenmeleri,
- III. Erkek çocuklarından bir ya da ikisini Selçuklu sarayına rehin bırakmaları

uygulamalarından hangileri merkezi otoriteyi korumaya yöneliktir?

- A) Yalnız I B) Yalnız III C) I ve II
D) I ve III E) I, II ve III

6. Aşağıda verilen Ortaçağ Avrupa'sında kilisenin sahip olduğu güçler siyasi, ekonomik, kültürel açıdan ikiye bölünmüş olduğunda hangisi dışarda kalır?

- A) Kilisenin krallara taç giydirmesi
B) Eğitimin kilisenin tekelinde olması
C) Kilisenin geniş topraklara sahip olması
D) Endüljans adı verilen günah bağış kağıtlarının satılması
E) Papanın afaroz ve enterdi yetkisine sahip olması

7. I. Çift bozan: Toprağı ekip biçmeyen köylülerden alınan vergi

- II. Ağnam: Küçükbaş hayvan üreticilerinden alınan vergi
- III. Avarız: Olağanüstü hallerde alınan vergi
- IV. Cizye: Gayrimüslimlerden askerlikten muaf olmaları karşılığı alınan vergi
- V. Aşar: Müslüman çiftçiden alınan vergi

Osmanlı Devleti'nde alınan yukarıdaki vergilerden hangisinin köylü üzerinde ağır bir yük yarattığı söylenebilir?

- A) I B) II C) III D) IV E) V

8. Duraklama dönemine görülen,

- I. Yeniçeri sayısının artması,
- II. Ticaret yollarının yön değiştirmesi,
- III. İltizam sisteminin yaygınlaşması

durumlarından hangileri devletin giderlerini doğrudan arttırmıştır?

- A) Yalnız I B) Yalnız II C) I ve II
D) I ve III E) I, II ve III

9. Mısır valisi M. Ali Paşa, Yunan isyanında verdiği desteğe karşılık olarak II. Mahmut'tan Suriye valiliğini istedi. Padişahın bu talebi reddetmesiyle M. Ali Paşa Suriye'yi ele geçirdi ve Osmanlı ordularını Konya'da yenilgiye uğrattı. II. Mahmut önce Fransa ve İngiltere'den destek istedi; beklediği desteği bulamayınca Rusya'dan yardım istedi. Karadeniz'de etkili olmak isteyen Rusya donanmasını İstanbul'a göndererek Osmanlı'ya yardıma geldi.

Bu bilgilere bakılarak çıkarılabilecek en kapsamlı yargı aşağıdakilerden hangisidir?

- A) İngiltere ve Fransa Osmanlı Devleti'ni parçalamak istemektedir.
B) Rusya Osmanlı Devleti'nin toprak bütünlüğünden yanadır.
C) M. Ali Paşa azınlık isyanları sırasında Osmanlı Devleti'ne yardımcı olmuştur.
D) Bir iç sorun olarak başlayan M. Ali Paşa isyanı, Avrupalı devletlerden yardım istenmesiyle dış sorun haline gelmiştir.
E) Osmanlı Devleti Rusya'yla ittifak kurmuştur.

10. Fransız İhtilali'yle yayılan milliyetçilik akımı ve Rusya'nın Balkanlarda izlediği panislavizm politikası daha önce savaş halinde olan Avusturya ve Osmanlı'yı yakınlaştırdı.

Avusturya ve Osmanlı'nın bu tutumunda iki devletin hangi temel özelliğinin etkili olduğu söylenebilir?

- A) Geniş topraklara sahip olmaları
B) Eski güçlerini kaybetmiş olmaları
C) Balkanlarda egemenlik kurmuş olmaları
D) İki devletin de Rusya'ya karşı olmaları
E) Azınlıklara dini serbestlik tanımları

11. Aşağıda verilen ülkeler arası bloklaşma nedenlerinden hangisi, I. Dünya Savaşı'nda ulusçuluk akımının etkili olduğuna kanıt olarak gösterilebilir?

- A) Almanya ile İngiltere arasında yaşanan sömürgecilik yarışı
B) Almanya'nın maden bölgesi Alsas Loren'i işgali üzerine Fransa'ya karşı karşıya gelmesi
C) Osmanlı Devleti'nin kaybettiği toprakları geri almak için Almanya'ya yakınlaşması
D) Rusya'nın uyguladığı panislavizm politikasına karşılık Osmanlı ve Avusturya'nın Rusya'ya karşı birleşmesi
E) İtalya'nın Batı Anadolu vaadiyle İtilaf devletleri tarafına geçmesi

12. Amasya Genelgesi'nin aşağıdaki maddelerinden hangisinde ulusal bağımsızlığa ve ulusal egemenliğe aynı anda vurgu yapılmıştır?

- A) Vatanın bütünlüğü, milletin bağımsızlığı tehlikededir.
B) İstanbul Hükümeti sorumluluğunu yerine getirmemektedir.
C) Ulusun bağımsızlığını ulusun azim ve kararı kurtaracaktır.
D) Her türlü etki ve denetimden uzak milli bir kurul oluşturulmalıdır.
E) Anadolu'nun her bakımdan en güvenli yeri olan Sivas'ta milli bir kurul oluşturulmalıdır.

13. Bir devletin yasama, yürütme ve yargı olmak üzere üç temel işlevi vardır. Bu üç yetkinin tek merkezde toplanmasına güçler birliği adı verilir.

I. TBMM'de güçler birliğinin uygulanmasıyla,

- I. Hızlı karar almayı sağlamak,
- II. M. Kemal'i tek güç odağı yapmak,

III. Padişahın Anadolu'daki otoritesini sarsmak

durumlarından hangileri amaçlanmıştır?

- A) Yalnız I B) Yalnız II C) I ve II
D) I ve III E) I, II ve III

14. Aşağıdakilerden hangisi I. İnönü zaferinin iç sonuçlarından değildir?

- A) Türk halkının düzenli orduya güveni arttı.
B) Askerden kaçmalar azaldı.
C) Teşkilatı Esasi ilan edildi.
D) TBMM'nin uluslararası saygınlığı arttı
E) İstiklal Marşı kabul edildi.

15. Batı Anadolu'nun Yunan işgalinden kurtarılmasından sonra Türk ordularının Çanakkale ve İstanbul Boğazı'na yürümesi İtilaf Devletleri'ni telaşlandırdı. Boğazları, İstanbul'u ve Doğu Trakya'yı Türklere vermek istemeyen İngiltere bu bölgeleri silahla savunmayı planlıyordu.

Bu bilgilere rağmen İngiltere'nin ateşkes görüşmelerine razı olmasında,

- I. Fransa ve İtalya'nın İngiltere'yi yalnız bırakması,
- II. İngiltere kamuoyunda savaş karşıtlığı bir durum ortaya çıkması,
- III. M. Kemal'in özellikle Rusya'yla yürüttüğü diplomatik girişimlerin artması

durumlarından hangileri etkili olmuştur?

- A) Yalnız I B) I ve II C) I ve III
D) II ve III E) I, II ve III

16. Atatürk ilke ve inkılaplarının dayandığı aşağıdaki temel esaslardan hangisi dış politikaya yöneliktir?

- A) Milli tarih bilinci
B) Bağımsızlık
C) Milli egemenlik
D) Ordu, okul ve dinin politika dışında tutulması
E) Mili birlik ve beraberlik

17. I. Fesin kaldırılıp şapkanın getirilmesi
II. Arap alfabesinin yerine Latin harflerinin kabul edilmesi
III. Kanuni Esasi'nin yerine Teşkilati Esasi'nin yürürlüğe konması
IV. Darülfünun yerine İstanbul Üniversitesi'nin kurulması
- Yukarıdaki inkılapların hangilerinde bir önceki uygulamanın ikinciye geçişi kolaylaştırdığı söylenebilir?

- A) Yalnız I B) Yalnız III C) I ve II
D) II ve III E) II ve IV

18. İkincil ve üçüncül faaliyetlerde çalışanların oranının sürekli arttığı bir ülkede,

- tarımsal üretimin azalması,
- ortalama yaşam düzeyinin yükselmesi,
- ham madde ihracatının artması,
- tarımda çalışan nüfus oranının düşmesi,
- mesleki eğitimin usta-çırak ilişkisi içinde yapılıma oranının artması,
- doğum oranının artması,
- nitelikli işgücü gereksiniminin artması,
- enerji ve su tüketimi ile teknolojiyi kullanma düzeyinin artması

durumlarından kaç tanesinin görülmesi beklenmez?

- A) 2 B) 3 C) 4 D) 5 E) 6

19. Dünya, doğal ve beşerî özellikleri bakımından birbirinden farklı alanlardan meydana gelmiştir. Bir alanın başka bir alandan ayrılabilmesi için kendine has bazı özelliklere sahip olması gerekir. Bu özellikler bölge kavramını ifade eder.

Buna göre, Orta Doğu'nun bir bölge olarak kabul edilmesinde,

- I. bilinen ilk medeniyetlerin kurulduğu yer olması,
- II. üç büyük dinin merkezi olması,
- III. üç tarafının deniz, körfez ve okyanusla çevrili olması
- IV. kıtaların birbirine yaklaştığı yerde bulunması

Özelliklerinden hangilerinin ölçüt alındığı söylenebilir?

- A) I ve II B) I ve III C) II ve III
D) II ve IV E) III ve IV

20. Aşağıdaki tabloda, bir ülkenin bazı yıllarda toplam nüfusu ile çalışan nüfusun sektörlere göre oransal dağılımı gösterilmiştir.

Yıllar	Toplam Nüfus (bin kişi)	Tarım (%)	Sanayi (%)	Hizmetler (%)
1960	27 755	74,3	7,5	17,6
1970	35 605	70,2	10,2	19,6
1980	47 737	52,5	11,5	25,9
1990	56 476	49,3	15,5	35,2

Tablodaki bilgilere dayanarak aşağıdaki yargılardan hangisine ulaşamaz?

- A) Verilen yıllar içinde ülkenin nüfusu sürekli artmıştır.
- B) Otuz yıl içinde çalışan nüfus içinde niteliksiz işçi payı azalmıştır.
- C) Ülkenin ihracatındaki en büyük paya sahip olan mallar tarım ürünleridir.
- D) Sanayi ve hizmet sektöründe çalışanların oranı sürekli artarken tarım sektöründe çalışanların oranı sürekli azalmıştır.
- E) 1960-1990 yılları içinde sanayide çalışanların oranı % 100'ün üstünde artmıştır.

21. Ekvatorial bölgede kalıcı kar bulunur.

Aşağıdakilerden hangisi, yukarıdaki durumu doğuran nedene bağlıdır?

- A) Akdeniz ve Ege bölgelerinde tropikal bitkilerin yetişebilmesi
- B) 30° enleminden 70° enlemine gittikçe kar yağışlı gün sayısının artması
- C) Dağların yamaçları boyunca ormanların geniş yapraklı, karışık yapraklı ve iğne yapraklı gibi kuşaklar oluşturması
- D) Kalıcı kar sınırının dağların güney yamaçları ile kuzey yamaçlarında birbirinden farklı olması
- E) Kutuplarda buzul örtülerinin denize kadar yayılması

22. Aşağıda dört farklı rüzgârın özelliği verilmiştir.

- Sıcak kuşakta daha çok okyanuslar üzerinde oluşan bu rüzgârların hızları oldukça fazladır.
- En düzenli ve sürekli esen rüzgârlardır. Okyanus akıntılarının yönlerinde etkilidir. Başlangıçta kuru olan bu rüzgârlar, deniz üzerinden aldıkları nemi Ekvator çevresindeki kıtaların doğu kıyılarına yağış olarak bırakır.
- Yılın bir yarısında belli bir yönden, diğer yarısında ise tam tersi yönünde esen devirli mevsimlik rüzgârlardır.
- Orta kuşak karalarının batı kıyılarına bol yağış bırakır. Kıtaların batı kıyılarında ılıman okyanus ikliminin gelişmesini sağlamıştır.

Aşağıdakilerden hangisi bu rüzgârlardan biri değildir?

- A) Muson rüzgârları B) Batı rüzgârları
C) Alizeler D) Tayfunlar
E) Meltem rüzgârları

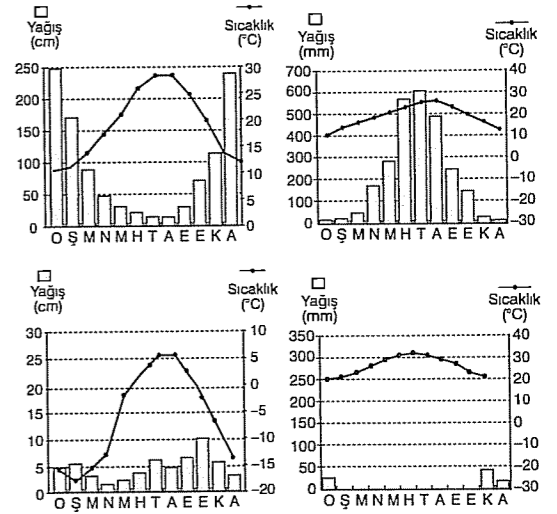
23.



Yukarıdaki haritada numaralanmış yörelerde etkili olan yağış türleri aşağıdakilerin hangisinde doğru verilmiştir?

	Konveksiyonel	Oroğrafik	Cephe
A)	I	II	III
B)	I	III	II
C)	II	III	I
D)	III	II	I
E)	II	I	III

24. Aşağıda, dört farklı yörenin iklim grafiği verilmiştir.



Buna göre, aşağıdakilerden hangisi bu yörelerde doğal yetişme ortamı bulan bitki türlerinden biri değildir?

- A) Savan B) Kızılcım C) Kurakçıl otlar
D) Tayga E) Tundra

25. Aynı büyüklükteki iki ayrı depremin X bölgesinde yol açtığı can ve mal kaybı Y bölgesine göre çok daha fazla olmuştur.

Bu durum, Y bölgesinin aşağıdaki özelliklerinden hangisiyle açıklanabilir?

- A) Ortalama yükseltinin daha az olmasıyla
- B) Depreme karşı etkili önlemler alınmış olmasıyla
- C) Su toplama havzalarının daha geniş olmasıyla
- D) Okyanus kıyılarına daha uzak olmasıyla
- E) Yerleşim yeri sayısının daha fazla olmasıyla

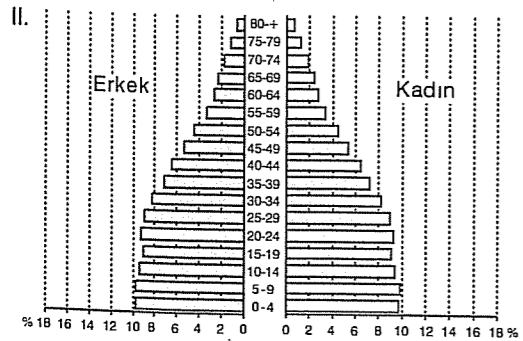
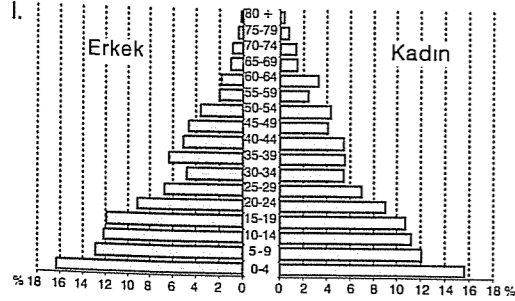
26. Aşağıdakilerden hangisi, ortalama sıcaklık ve yağış koşullarından etkilenmez?

- A) Nadasa duyulan ihtiyaç
- B) Taban suyu seviyesi
- C) Meralarda beslenen hayvan türü
- D) Makine kullanımına elverişli alanların oranı
- E) Akarsuların debisi ve rejimleri

27. o Toplu köy yerleşmeleri vadi tabanlarında, dağ yamaç ve etekleri ile düz araziler üzerinde kurulmuştur.
- o Yolların akarsu vadilerini takip etmesi, sulama sorununun olmaması, tarım alanlarının varlığı, vadi içi köylerinin kurulmasına neden olmuştur.
- o Dağ eteği köylerinde tarım alanlarından daha fazla yararlanılırken hayvancılık için de dağlık alanlar kullanılmaktadır.
- Buna göre, aşağıdakilerden hangisi, belirtilen ilişkileri ve sonucunu kapsayacak şekilde doğru olarak verilmiştir?**

- A) İklim – Kurulduğu yere göre yerleşmeler
- B) Yer şekli – Dokusuna göre yerleşmeler
- C) Toprak türü – Sürekliliğine göre yerleşmeler
- D) İklim – Büyüklüğüne göre yerleşmeler
- E) Yer şekli – Kurulduğu yere göre yerleşmeler

28. Bir ülkenin nüfus piramidi son elli yıl içinde I. şekildedeki konumdan II. şekildedeki konuma gelmiştir.



- Buna göre, söz konusu yıllar içinde ülkeyle ilgili aşağıdakilerden hangisi söylenemez?**

- A) Ortanca yaş değeri düşmüştür.
- B) Çocuk bağımlı nüfus oranı düşmüştür.
- C) Doğal nüfus artış hızı düşmüştür.
- D) Çalışan nüfusun yaş ortalaması artmıştır.
- E) Nüfusun iki katına çıkma süresi uzamıştır.

29. Çevre sorunlarıyla ilgili olarak aşağıda verilen özelliklerden hangisinin ortaya çıkmasındaki temel etken yanlış olarak verilmiştir?

Özellik	Temel etken
A) Asit yağmurları	Fosil yakıt tüketimi
B) Tarım topraklarının yok olması	Kütle hareketleri
C) İklim değişikliği	Atmosferdeki sera gazlarının artması
D) Deltalara ulaşan alüvyon miktarının azalması	Barajların yapılması
E) Yer altı su seviyesinin azalması	Sulak alanların kurutulması

30. Aşağıdakilerden hangisi yer şekli koşullarıyla açıklanamaz?

- A) Orta Karadeniz'de, kıyı kesimleri ile iç kesimler arasında iklim özelliklerinin büyük farklılıklar göstermemesi
- B) Makineli tarımın Marmara, İç Anadolu ve Ege bölgelerinde yaygınlaştığı halde, Karadeniz Bölgesi'nde yaygınlaşmaması
- C) Güneydoğu Anadolu Bölgesi'nde sulamaya duyulan gereksinimin diğer bölgelere göre daha fazla olması
- D) Marmara Bölgesi'ndeki akarsuların hidroelektrik potansiyelinin diğer bölgelere göre daha düşük olması
- E) Karadeniz ve Akdeniz bölgelerinde yaylacılık olanaklarının bulunması

31. Mendereslerin arttığı bir akarsuyla ilgili,

- I. Denge profiline ulaşmıştır.
- II. Nehir taşımacılığı yapılabilir.
- III. Yatay eğimi ve akış hızı azdır.
- IV. Zamanla yatak değişirir.

yargılarından hangileri kesinlikle doğrudur?

- A) I ve II B) I ve III C) II ve III
- D) II ve IV E) III ve IV

32. Aristoteles, felsefeyi ilk ilkeler ya da ilk nedenler araştırması olarak görüyordu. Miletos'lu Thales evrenin oluşumuna olanak sağlayan ilkenin "Su" olduğunu söylüyordu. Anaksimenes ise evrenin tek kaynağı olarak "Hava"yı belirlemişti.

Filozofların bu düşüncesine dayanarak felsefenin aşağıdaki amaçlardan hangisine ulaşmaya çalıştığını söyleyebiliriz?

- A) Kanıtlanmış doğrulara
- B) Var olanları bir bütün olarak anlamaya
- C) Doğa olaylarını kontrol altına almaya
- D) İnsan yaşamını kolaylaştırmaya
- E) Filozofların bilgi olduklarını kanıtlamaya

33. Pozitivist bir filozof, bilginin doğruluğunun ölçütü olarak aşağıdakilerden hangisini almamalıdır?

- A) Apaçık öncüllerden mantıksal olarak çıkarılması
- B) Kutsal kitaplara uygun olmasını
- C) İnsanların çoğunluğu tarafından kabul edilmesini
- D) Deneylerle tekrarlanabilmesini
- E) İnsanı mutlu etmesini

34. Herakleitos varlığı ateşe benzeterek şu açıklamayı yapmıştır: "Her şey ateş için ve ateş her şey için bir değiş tokuştur. Tıpkı, mal için altın ve altın için malin değiş tokuş olduğu gibi. Tanrı, gündüz ve gecedir, kış ve yazdır, savaş ve barıştır, bereket ve açlıktır; kokulu şeylere karıştığı zaman, onların her birinin kokusuna göre adlanır."

Herakleitos'un bu varlık anlayışıyla aşağıdaki olaylardan hangisini açıklamak daha zordur?

- A) Demirin kimyasal yapısının var olduğu günden beri hiç değişmeden hep aynı kalması
- B) Orta Çağ'da doğru olarak kabul edilen bir çok bilginin bugün yanlış olması
- C) Zamanın sürekli olarak akması
- D) Suyun buhara, buharın suya dönüşmesi
- E) Dünya'nın sürekli olarak dönmesi

35. Hayatta bir misafirlikteymişsin gibi davran. Yemek tabağı sana kadar geldi mi, elini kibarca uzatarak bir parça al. Tabağı önünden kaldırıyorlar mı? Alıkoymaya çalışma. Yemek henüz önüne gelmedi mi? İstemeye kalkma, sıranı bekle. Çocuklarına, kadınlara, yüksek yerlere, paraya karşı da böyle davran. İşte o zaman Tanrı'nın bile sofrasına buyur edilirsin.

Epiktetos'un bu açıklaması aşağıdaki ahlaki buyruklardan hangisini destekler?

- A) Faydalı olan neyse onu yap.
- B) Kaderine razı ol.
- C) Çoğunluk ne diyorsa ona göre davran.
- D) Düşündüğün gibi yaşa.
- E) Koşullara uyarak değil, koşulları kendine uydurarak yaşa.

36. Bir portreyi ancak onun için poz vermiş olan insana benziyorsa beğeniriz, benzemiyorsa beğenmeyiz; ya da benziyorsa güzel, benzemiyorsa güzel değil deriz.

Bu düşünceye en uygun sanat tanımı aşağıdakilerden hangisidir?

- A) Sanat, nesne ve şekillerle sanatçının oynamasıdır.
- B) Sanat, sanatçının yarattığı ikinci bir doğadır.
- C) Sanat bir oyundur.
- D) Sanat taklittir.
- E) Sanat, sanatçının var olanlara yeni bir anlam katmasıdır.

37. Üç bin yıl önce Hindistan'da yaşamış olan ve bazı gruplar arasında süregelen uygulamalarıyla günümüze kadar ulaşmış olan "Cayna" denen din adamları, böcekleri ezmek için yürürken önlerini mümkün olduğu kadar süpürürlerdi ve nefes alırken yanlışlıkla bir sineği yutmamak için ağızlarına tül takarlardı. Bunun nedeni de "Tanrı her şeydedir" düşüncesidir.

Bu Tanrı anlayışı aşağıdakilerden hangisine örnektir?

- A) Agnostisizme
B) Panteizme
C) Politeizme
D) Ateizme
E) Monoteizme

38. İnsan ile devlet arasında büyük benzerlikler vardır. İnsan mikro organizma, devlet ise makro organizmadır. Toplumdaki farklı sınıflar da insan doğasında bulunan beslenme, cesaret ve akıl gibi özelliklerin doğal bir sonucu olarak ortaya çıkmıştır. Örneğin, işçi sınıfı insandaki beslenme güdüsünün, asker sınıfı insandaki cesaret güdüsünün ve yönetici sınıf de insandaki düşünce güdüsünün bir sonucudur. Devletteki düzenin sağlanabilmesi, her insanın kendi güdüsüne uygun işlerde çalışmasına bağlıdır.

Platon'un devletle ilgili bu açıklaması aşağıdaki sorulardan hangisine cevap olarak verilebilir?

- A) Erdem nedir?
B) Sivil toplum nasıl ortaya çıkmıştır?
C) Devletin kaynağı nedir?
D) Bürokrasi nedir?
E) Savaş önlenebilir mi?

39. Aşağıdaki sorulardan hangisi bilim felsefesine ait değildir?

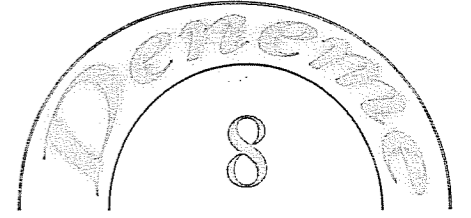
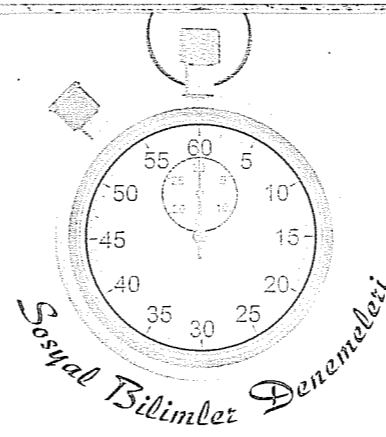
- A) Biyoloji biliminin konusu nedir?
B) Bilim nedir?
C) Bilimsel yöntem nedir?
D) Bilimsel önermelerin doğruluğu nereden gelmektedir?
E) Bilimdeki kesinlikten nasıl emin olabiliriz?

40. Descartes'a göre varlık hem madde ve hem de ruhtan oluşmuştur. Ruh maddeye madde de ruha indirgenemez. Bundan dolayı Tanrı ve düşünce ruhtan oluşmuştur, beden ise maddeden oluşmuştur.

Varlığın bu şekilde değerlendirilmesi aşağıdakilerden hangisine örnektir?

- A) Materyalizme
B) Düalizme
C) Rasyonalizme
D) İdealizme
E) Fenomenolojiyle

Deneme 7							
1	B	11	D	21	C	31	E
2	D	12	C	22	E	32	B
3	C	13	A	23	B	33	D
4	C	14	D	24	D	34	A
5	D	15	E	25	B	35	B
6	B	16	B	26	D	36	D
7	E	17	B	27	E	37	B
8	A	18	C	28	A	38	C
9	D	19	A	29	B	39	A
10	C	20	C	30	C	40	B



1. Aşağıdakilerden hangisinin oluş zamanı diğerlerine göre daha belirgindir?

- A) Fransız İhtilali 18. yy.da gerçekleşmiştir.
B) I. Dünya Savaşı 20. yy.ın ilk çeyreğinde başlamıştır.
C) Cumhuriyet 29 Ekim'de ilan edilmiştir.
D) I ve II. Dünya Savaşları 20. yy.ın ilk yarısında olmuştur.
E) Sanayi Devrimi 1800'lü yıllarda gerçekleşmiştir.

2. Aşağıda verilen ilkçağ uygarlıklarına ait uygulamalardan hangisi merkezi otoritenin varlığına kanıt gösterilemez?

- A) Perslerin ülkeyi eyaletlere ayırması
B) Sümerlerde tanrı-kral anlayışının olması
C) Yunan uygarlığındaki şehir devletlerinin var olması
D) Akadların düzenli ve sürekli bir orduya sahip olması
E) Babil kralının çok sert kanunlarına herkesin uymak zorunda olması

3. İslamiyet öncesi Türk devletlerinin aşağıdaki özelliklerinden hangisi "sosyal devlet" anlayışına uygunluk gösterir?

- A) Hükümdarın han, hakan, kağan gibi unvanlar kullanmaları
B) Kut anlayışına göre hükümdarın halkın mutluluk ve refahını sağlamak zorunda olması
C) Ülke hanedanın ortak malıdır anlayışının bulunması
D) Dinsel hoşgörünün bulunması
E) Devlet işlerinin kurultay adı verilen mecliste görüşülmesi

4. I. İki taraf birbiriyle 10 yıl savaşmayacak,

- II. Mekke'den Medine'ye kaçanlar geri verilecek; Medine'den Mekke'ye kaçanlar verilmeyecek,
III. Müslümanlar barış zamanı Kabe'yi ziyaret edebilecek

Hudeybiye Antlaşması'nın yukarıdaki maddelerinden hangileri Müslümanların aleyhine görüldüğü halde Müslümanlar için olumlu sonuçlar doğurmuştur?

- A) Yalnız I
B) Yalnız II
C) I ve II
D) I ve III
E) I, II ve III

5. Aşağıdakilerden hangisi Gaznelilerin imparatorluk yapısında olduğunun doğrudan kanıtıdır?

- A) Geniş bir coğrafyaya yayılmaları
B) İslam dünyasında büyük bir siyasi güce sahip olmaları
C) Hindistan'a seferler yapmaları
D) Sultan unvanını kullanan ilk Türk devleti olmaları
E) Yönetimleri altında Türk, Fars ve Hint'lerin bulunması

6. Osmanlı Devleti'nde kadınlara verilen,
- Merkezden gelen emirleri duyurmak,
 - Halkın istek ve şikayetlerini divana iletmek,
 - Mahkeme başkanı olarak davaları çözümlenmek,
 - Her türlü belgenin doğruluğunu onaylamak
- görevlerinden hangileri sarayla halkın arasında bağlantı kurmaya yöneliktir?**

- A) I ve II B) II ve III C) I ve IV
D) II ve IV E) III ve IV

7. XVII. yy.ın Osmanlı için duraklama dönemi kabul edilmesine rağmen 1672'deki Bucaş Antlaşmasıyla Osmanlı Devleti batıda en geniş sınırlara ulaştı.

Buna göre aşağıdakilerden hangisine ulaşılabılır?

- A) Osmanlı'nın yeniden eski gücüne kavuştuğuna
B) Duraklamanın daha çok doğuda yaşandığına
C) Duraklama döneminde doğuda toprak kazanılmadığına
D) Bucaş Antlaşmasıyla duraklamanın sona erdiğine
E) Duraklama döneminde toprak kazanmaya devam ettiğine

8. Mısır sorunu sırasında II. Mahmut'un yardım talebine karşılık vermeyen İngiltere, Rusya'nın donanmasını göndererek İstanbul'a gelmesi ve Osmanlı'ya müdahale etmesi üzerine devreye girmiş ve M. Ali Paşa'ya baskı yaparak Kütahya Antlaşması'nın yapılmasını sağlamıştır.

İngiltere bu tutumla,

- Sömürge yollarını korumak,
 - Osmanlı devletinin bağımsızlığına saygı göstermek,
 - Rusya'nın Akdeniz'e inmesini önlemek
- durumlarından hangilerini amaçlamıştır?**

- A) Yalnız I B) I ve II C) I ve III
D) II ve III E) I, II ve III

9. Osmanlı Devleti'nin gerileme döneminde imzaladığı antlaşmalardan biri olan Küçük Kaynarca Antlaşması'na göre: "Kırım bağımsız olacak; ancak dini bakımdan Osmanlı halifesine bağlı kalacaktır".

Bu maddeye göre,

- Rusya'nın Osmanlı'nın içişlerine karışma fırsatı elde ettiği,
- Osmanlı Devleti'nin Karadeniz'deki hakimiyetinin tehdit altına girdiği,
- Osmanlı'nın siyasi ilişkilerde halifeliliğin gücünden yararlanmaya başladığı

yorumlarından hangilerine ulaşılabılır?

- A) Yalnız I B) Yalnız II C) I ve II
D) II ve III E) I, II ve III

10. Osmanlı Devleti, halifelik gücünü kullanarak tüm Müslümanları bir araya toplamayı amaçlayan İslamcılık politikasına yönelmiştir. İngiltere ve Rusya Osmanlı'nın bu politikasından rahatsız olmuş ve İslamcılık politikasının uygulanmasını engellemeye çalışmıştır.

İngiltere ve Rusya'nın bu tutumunda,

- Osmanlı İmparatorluğu'nu parçalamak istemeleri,
- Müslüman sömürgelerini kaybetmek istemeleri,
- Balkanlarda etkili olmaya çalışmaları

durumlarından hangileri etkili olmuştur?

- A) Yalnız I B) Yalnız II C) I ve II
D) I ve III E) I, II ve III

11. Sanayi devrimi > Üretimde artış > Hammadde ve pazar ihtiyacı > Sömürgecilik yarışı > Bloklaşma > I. Dünya Savaşı

I. Dünya Savaşı'nın çıkışını gösteren tabloya bakılarak aşağıdakilerden hangisine ulaşılmaz?

- Buharlı makinelerin icadı üretimde artışı getirmişti.
- Üretim fazlası ürünleri ihraç etme isteği sömürgecilik yarışını başlatmıştı.
- Ülkeler kendi aralarında hammaddesi olanlar ve olmayanlar olarak bloklaşma yoluna gitmişlerdir.
- Ülkeler arası bloklaşma ve kutuplaşma dünyayı savaşa götürmüştür.
- Hammadde ve pazar ihtiyacı emperyalizmi doğurmuştur.

12. Anlaşma Devletleri Osmanlı Devleti'ne imzalattıkları Mondros Ateşkes Antlaşmasıyla Osmanlı Devleti'nin mücadele gücünü kırmayı amaçlamışlardır.

Bu yargıya,

- Osmanlı ordularının terhis edilmesi,
- Haberleşme araçlarına el konulması,
- Tünel ve demiryollarına el konulması

durumlarından hangileri kanıt olarak gösterilebilir?

- A) Yalnız I B) Yalnız II C) I ve II
D) I ve III E) I, II ve III

13. Amasya Genelgesi'nde "Sivas Kongresi'ne katılacak delegelerin Müdafai Hukuk Cemiyetleri, Reddi İlhak Cemiyetleri ve Belediyeler'ce seçilmesi"ne karar verilerek,

- Milli Mücadele taraftarı kişilerin seçilmesine çalışmak,
- Yerel idareleri etkin duruma getirmek,
- Milli Mücadele hareketini İstanbul Hükümeti'nden saklamak

amaçlarından hangilerine ulaşılmaya çalışılmıştır?

- A) Yalnız I B) Yalnız III C) I ve II
D) I ve III E) I, II ve III

14. I. TBMM'nin gerçekleştirdiği,

- Yeni bir devlet kurması,
- Egemenliğin kaynağını değiştirmesi,
- Yeni bir anayasa yapması

uygulamalarından hangileri I. TBMM'nin "kurucu meclis" niteliğine kanıt oluşturur?

- A) Yalnız I B) I ve II C) I ve III
D) II ve III E) I, II ve III

15. I. İnönü Savaşı'nın,

- Sovyet-Rusya'yla Moskova Antlaşması'nın imzalanması,
- 1921 Anayasası'nın ilan edilmesi,
- İstiklal Marşı'nın kabul edilmesi

sonuçlarından hangileri Anadolu'da yeni bir devletin kurulmakta olduğunun doğrudan kanıtıdır?

- A) Yalnız II B) I ve II C) I ve III
D) II ve III E) I, II ve III

16. Cumhuriyetçilik ilkesi doğrultusunda yapılan,

- Kadınlara seçme ve seçilme hakkının verilmesi,
 - Cumhuriyetin ilan edilmesi,
 - Saltanatın kaldırılması,
 - Siyasal partilerin kurulması
- devrimlerinin kronolojisi aşağıdakilerin hangisinde doğru verilmiştir?**

- A) II - III - I - IV B) III - II - I - IV
C) III - II - IV - I D) II - III - IV - I
E) III - IV - II - I

17. Türk inkılabının aşağıdaki niteliklerinden hangisi Türk devriminin dünya üzerindeki etkisine örnek oluşturur?

- A) Millî şuuru ve millet ruhunu uyandırması
B) Devrimlerin halka mal edilerek gerçekleştirilmesi
C) Kültürel, ekonomik ve sosyal yönden bütünlük göstermesi
D) Akil ve bilimi kendine rehber alması
E) Emperyalizme karşı gelmenin mümkün olduğunu kanıtlanması

18. Ata uçağı, 18. saat diliminde yer alan bir havalimanından, havalimanının saatine göre 11.08.2012 tarih ve 20:40 saatinde hareket etmiş ve 12 saat süren uçuşun ardından Ankara Esenboğa Havalimanı'na ulaşmıştır.

Buna göre, Ata uçağının, Türkiye saati ile Ankara Esenboğa Havalimanına indiği tarih ve gün aşağıdakilerin hangisinde doğru verilmiştir?

- A) 12.08.2012 – 16:40
B) 13.08.2012 – 17:40
C) 12.08.2012 – 18:40
D) 12.08.2012 – 17:40
E) 13.08.2012 – 16:40

19. Aşağıda, üç farklı noktanın coğrafi koordinatları verilmiştir.

X → 30° doğu – 40° kuzey

Y → 40° doğu – 40° kuzey

Z → 40° doğu – 38° kuzey

Verilen bilgilerden yararlanılarak X, Y ve Z merkezleriyle ilgili aşağıdaki yargılardan hangisine ulaşılamaz?

- A) Y noktası Güneş'in tam karşısına X noktasına göre daha önce geçer.
B) En uzun günle en kısa gün arasındaki farkın en fazla olduğu nokta Z'dir.
C) X ve Y noktalarındaki gece ve gündüz süreleri yıl boyunca birbirinin aynısıdır.
D) 21 aralıkta, Z noktasında gündüz süresi daha uzundur.
E) 21 haziranda Y noktasından Z noktasına doğru gündüz süresi kısalır.

20. Aşağıda bir yer şeklinin oluşabilmesi için gerekli olan koşullar verilmiştir:

- Su toplama havzasında erozyonun şiddetli olması
- Akarsuyun taşıma gücünün fazla olması
- Akarsuyun denize döküldüğü yerde deniz derinliğinin az ve akıntıların zayıf olması

Buna göre, bu yer şeklinin aşağıdaki ülkelerin hangisinde oluşması beklenmez?

- A) İtalya B) Mısır C) İngiltere
D) Irak E) Ukrayna

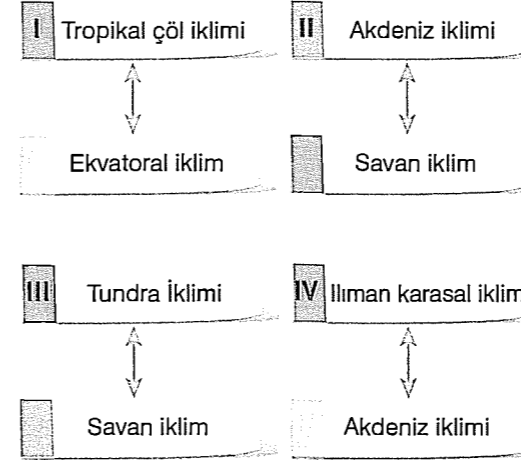
21. Aşağıdakilerin hangisinde yer şekillerinin etkili olduğu söylenemez?

- A) Ege Bölgesi'nin sınırının Akdeniz ve Karadeniz bölgelerinin aksine iç kesimlere daha fazla sokulmasında
B) Çanakkale Boğazı'nda egemen rüzgârın poyraz ve lodos olmasında
C) Fırat Nehri'nin hidroelektrik potansiyelinin fazla olmasında
D) Doğu Karadeniz kıyılarında bazı dönemlerde fön rüzgârlarının etkili olmasında
E) Akdeniz Bölgesi'nde maki üst sınırının Marmara Bölgesi'nden yüksek olmasında

22. Aşağıdakilerden hangisinin, bir ülkede ticaret hacminin artmasında etkisi en azdır?

- A) Kent nüfusunun artması
B) Ulaşım ve ulaştırma olanaklarının artması
C) Kişi başına düşen ulusal gelir miktarının artması
D) Tarım ve sanayide üretim, kalite ve çeşitliliğin artması
E) Limanlarının kapasitelerinin artması

23. Aşağıda, aynı boylam aralıklarında bulunan bölgelerde etkili olan iklim tipleri verilmiştir.



Buna göre, hangisinde verilen bölgelerin kuzey - güney yönünde birbirine olan kuş uçuşu uzaklığı ötekilerden daha fazladır?

- A) I B) II C) III D) IV E) V

24. Doğa olaylarının afete neden olmasında aşağıdakilerden hangisinin etkisi yoktur?

- A) Yeryüzü şekilleri
B) İnsan faktörü
C) Jeolojik yapı
D) İklim özellikleri
E) Doğal bitki örtüsü

25. ○ Engebeli yerlerde tarım topraklarının parçalanmış olması,

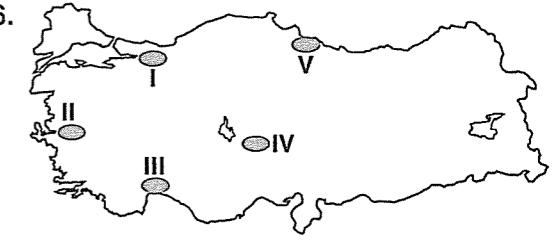
○ Tarım arazilerinin birbirine uzak olması, durumlarının Türkiye'de,

- I. mahalle,
II. oba,
III. mezra,
IV. yayla

yerleşmelerinden hangilerinin ortaya çıkmasına neden olmuştur?

- A) I ve II B) I ve III C) II ve III
D) II ve IV E) III ve IV

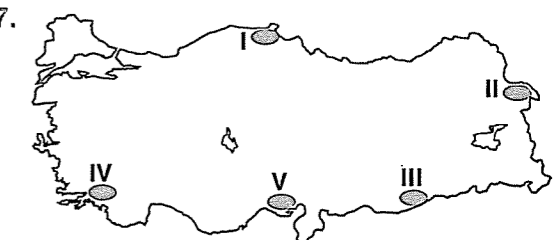
26.



Yukarıdaki haritada gösterilen alanların hangisinde, nüfus artışının temel nedeni doğurganlığın yüksek olmasıdır?

- A) I B) II C) III D) IV E) V

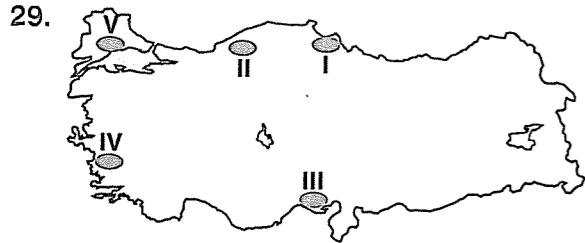
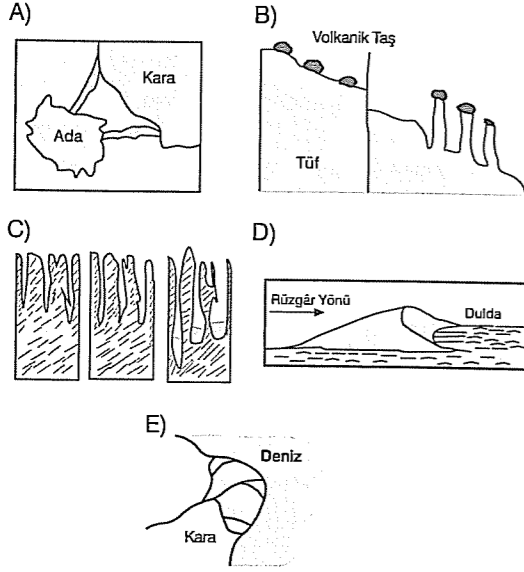
27.



Haritada numaralarla gösterilen yerlerin hangisinde, endüstrileşmeye bağlı olarak hava kirliliğinin daha fazla olması beklenir?

- A) I B) II C) III D) IV E) V

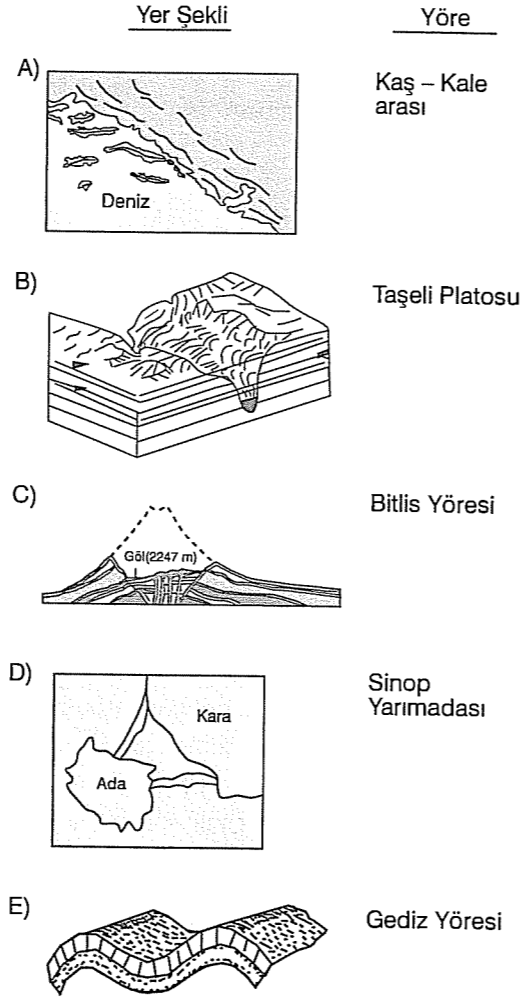
28. Aşağıdaki yer şekillerinden hangisinin oluşabilmesi için çözünebilir kayaların yaygın olması gereklidir?



Yukarıdaki haritada numaralanmış yerlerin hangisinde yer şekilleri tarıma elverişli değildir?

- A) I B) II C) III D) IV E) V

30. Aşağıdakilerin hangisinde bir yer şekli, bu yer şeklinin görüldüğü bir yöreyle birlikte verilmiştir?



31. Aşağıdaki bölgelerden hangisinin sınırları, diğerlerine göre daha uzun sürede değişime uğraması beklenir?

- A) Akdeniz tarım bölgelerinin
B) Kıyı Ege sanayi bölgesinin
C) Türkiye'nin seyrek nüfuslu bölgelerinin
D) Güneydoğu Anadolu maden bölgesinin
E) Türkiye'deki kıvrım dağ kuşakları bölgesinin

32. Bilim insanı görünür olanla, olgularla, yani daha yakındakıyla ilgilenirken filozof daha uzaklara doğru, hatta ufkun ötesindeki yerlere doğru açılır.

Bu verilere göre aşağıdaki özelliklerden hangisi filozofta bulunursa filozofun, "ufkun ötesindeki yerlere" gitmesini engeller?

- A) Yanlış yapma kaygısı
B) Doğru bilgiye ulaşma hevesi
C) Her şeyi merak etme
D) Bilinenleri yeniden sorgulama
E) Var olanların tümünü bilme isteği

33. Aşağıdaki sorulardan hangisi bilginin kaynağı problemiyle ilgilidir?

- A) Bilginin doğruluğundan nasıl emin olabiliriz?
B) Doğru bilgi var mıdır, yok mudur?
C) Bilgilerimizi oluşturan aklın düşünme yetisi mi, yoksa duyuların algılama gücü müdür?
D) Bilimin önermelerinin kesinliği nereden gelmektedir?
E) Bilimsel yöntem nedir?

34. Hiçbir zaman artık ahlaklı olmamaya, yani kendi anlayışına göre ahlaklı olmaya karar verdiğim andaki kadar ahlaklı duymadım kendimi.

Andre Gide'nin bu düşüncesi aşağıdaki ahlak kuramlarından hangisine örnek olarak verilebilir?

- A) J.P. Sartre'in varoluşçuluk ahlakına
B) Kant'ın ödev ahlakına
C) Epikuros'un hazcı ahlakına
D) Stirner'in anarşist ahlakına
E) Epiktetos'un kaderci ahlakına

35. Bilim, "var olan"ı değil, "var olan"ın küçük bir alanını ele alır. Örneğin, "Canlılık nedir?" gibi bir problemle uğraşmaz; canlı konusunun bir bölümü olan insan, hayvan ya da bitki gibi daha dar alanlarla uğraşır. Felsefe ise "var olan"ı parçalamadan, onun temel yapısını, ilkelerini ve tarzlarını araştırır.

Bu verilere göre varlıkla ilgili aşağıdaki sorulardan hangisi felsefenin alanına girer?

- A) Canlılarda kan dolaşımı nasıl meydana gelmektedir?
B) Gezegenlerin yörüngesi nasıl hesaplanabilir?
C) Dünya dışındaki gezegenlerin atmosferi var mıdır?
D) Duygu ve düşüncelerimiz varlık mıdır?
E) İnsanı diğer canlılardan ayıran özellikler nelerdir?

36. İnsan Tolstoy'un Anna Karenina'sını ya da Mevlana'nın 'Mesnevi'sini anlayabilir ya da anlayamaz. Oysa Ağrı Dağı'nı ya da Pamukkale'yi anlamak ya da anlamamak söz konusu değildir. Bu doğal görünüşler çirkin ya da güzel bulunabilir, ama bir sanat yapıtı gibi anlaşılıp yorumlanmaları düşünülemez.

Bu açıklama aşağıdaki konulardan hangisiyle ilgilidir?

- A) Sanatla zanaat arasındaki fark
B) Doğayla teknoloji arasındaki fark
C) Felsefeyle sanat arasındaki fark
D) Bilimle sanat arasındaki fark
E) Doğayla sanat arasındaki fark

37. I. Yalnızca tek bir tanrı vardır.
II. Tanrı ile evren aynı şeydir.
III. Tanrı birden çoktur.

Yukarıdaki Tanrı anlayışları hangi seçenekte doğru olarak adlandırılmıştır?

I	II	III
A) Monoteizm	Agnostisizm	Panteizm
B) Agnostisizm	Teizm	Monoteizm
C) Ateizm	Panteizm	Politeizm
D) Panteizm	Politeizm	Monoteizm
E) Monoteizm	Panteizm	Politeizm

38. Devlette üç farklı sosyal sınıf vardır. Bu sosyal sınıflar insandaki üç farklı yetinin bir sonucudur. Bu yetilerden beslenme işçi sınıfını, cesaret asker sınıfını, akıl ise yönetici sınıfını doğurmuştur. Devleti yönetmek demek insandaki bu üç yetiyi yönetmek demektir. Tüm insanların doğalarına uygun davranması ya da yaşaması devletin de düzenli işlemesi demektir.

Platon bu düşüncesiyle devletle ilgili aşağıdaki düşüncelerden hangisini temellendirmeye çalışmaktadır?

- A) Devlet doğal bir yapıdır.
B) Devletin kaynağı hukuk kurallarıdır.
C) Devlet toplumdaki topluma değişir.
D) Evrensel bir düzen yoktur.
E) Devlet, insanların uzlaşması sonucu oluşturduğu yapay bir yapıdır.

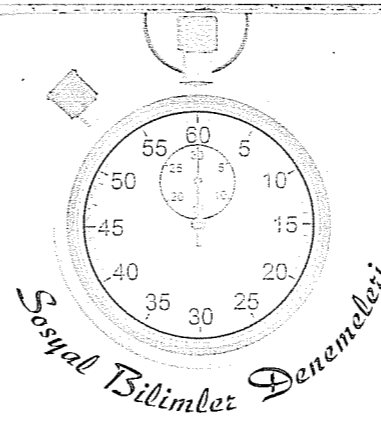
39. Bilimle ilgili aşağıdaki düşüncelerden hangisi, Thomas Kuhn'un bilimi etkinlik olarak gören yaklaşımına örnektir?

- A) Bilim, bir zincirin halkaları gibi birbirine bağlı olarak ilerler.
B) Bilim, evrene her defasında farklı soruların sorulduğu ve farklı cevapların alındığı bir etkinliklerdir.
C) Bilim, olgulardan elde edilip tekrar olgularla denetlenebilen bir bilgidir.
D) Hiçbir bilim kendinden önceki bilgilerden yararlanmadan ilerleyemez.
E) Bilim sürekli gelişen ve ilerleyen bir hazine sandığı gibidir.

40. Aşağıdakilerden hangisi bilimde klasik görüşe yapılan eleştirilerden birisi değildir?

- A) Bilim sürekli olarak doğrusal bir büyüme ve gelişme göstermez.
B) Bilim felsefesinin en önemli kavramı "paradigma" ya da "model" kavramıdır.
C) Bilim, onu yapan insanlardan bağımsız nesnel bir yapıya sahip değildir.
D) Bilimler birbirlerine indirgenemezler, her bilim gerçekliğin farklı bir boyutuyla ilgilidir.
E) Bilimsel bilgiler bu bilgileri yapan insanlardan ve onların yaşadığı kültürden bağımsız olmaz.

Deneme 8							
1	B	11	C	21	E	31	E
2	C	12	E	22	E	32	A
3	B	13	C	23	C	33	C
4	B	14	E	24	E	34	A
5	E	15	D	25	B	35	D
6	A	16	C	26	D	36	E
7	E	17	E	27	E	37	E
8	C	18	D	28	C	38	A
9	B	19	B	29	B	39	B
10	C	20	C	30	E	40	B



1. Tarihi olayları yorumlayan bir tarihçi bugünden geçmişe baktığında, olayların gelişim sürecini yorumlarken sonuçlarını bilmenin avantajını kullanabilir. Ancak tarihçi bu yorumlamaları yaparken günümüz değer yargılarına göre değil, dönemin koşullarına göre olayları yorumlamalıdır.

Yukarıdaki paragrafta bir tarihçi de olması gerek özelliklerden hangisi vurgulanmıştır?

- A) Araştırmacı olma
B) Sorgulayıcı olma
C) Objektif olma
D) Olayları neden-sonuç içinde verme
E) Olayları belgelere dayandırma

2. İslamiyet'ten önceki Türk devletlerinin,

- I. İkili teşkilat anlayışın görülmesi,
II. Kurultayın danışma meclisi niteliğinde olması,
III. Töreye hükümdarın da uymak zorunda olması,
IV. Ülke hanedanın ortak malıdır anlayışının olması
özelliklerinden hangileri devletlerin kısa sürede yıkılmasına neden olmuştur?

- A) Yalnız IV
B) I ve II
C) II ve III
D) II ve IV
E) I ve IV

3. Hicret'le, Hz. Muhammed ve beraberindeki Müslümanlar Mekke'den Medine'ye göç ettiler. Hz. Muhammed Medine'deki Yahudilerle vatandaşlık anlaşması yaptı.

Hz. Muhammed'in Yahudilerle yaptığı bu anlaşmanın amacı aşağıdakilerden hangisidir?

- A) Yahudilere siyasi açıdan üstünlük kurmak
B) Mekke'nin fethi için hazırlık yapmak
C) Müslümanların Medine'ye yerleşmesini tamamlamak
D) Yahudilerin putperestlerle işbirliği yapmasını önlemek
E) İslamiyet'e katılımı artırmak

4. Anadolu Selçuklu döneminde görülen aşağıdaki gelişmelerden hangisi ticareti geliştirmek amacıyla yapılmamıştır?

- A) I. Gıyaseddin Keyhüsrev'in Venediklilerle ticaret anlaşması yapması
B) I. Gıyaseddin Keyhüsrev'in düşük gümrük vergisi uygulaması
C) I. İzzeddin Keykavus'un Sinop'a Türk tüccarlar yerleşmesini
D) I. Alaeddin Keykubat'ın kervansaraylar yaptırması
E) I. Alaeddin Keykubat'ın Moğollara elçi göndermesi

5. Osmanlı Devleti'nin kuruluş döneminde uyguladığı aşağıdaki politikalarından hangisinin Anadolu'daki diğer Türk beyliklerinin de desteğini aldığı söylenebilir?

- A) Ahilerin desteğinin alınması
B) Göçebe Türkmenlerin yerleşik hayata geçirilmesi
C) Anadolu Selçuklularının yıkılmasıyla bağımsızlığını ilan etmesi
D) Cihad anlayışı ve batı yönünde ilerlemesi
E) Veraset sistemini değiştirmesi

6. Duraklama döneminde ekonominin bozulmasına neden olan,

- I. Saray masraflarının giderek artması,
II. Cülus bahşişi uygulamasının sıklaşması,
III. Beşik ulemalığı sisteminin getirilmesi

gelişmelerinden hangileri padişah değişikliklerinin sık yaşanmasına bağlanabilir?

- A) Yalnız I B) Yalnız II C) I ve II
D) I ve III E) I, II ve III

7. II. Meşrutiyet'le birlikte Kanuni Esasi'de yapılan,

- I. Padişahın meclisi açma ve kapama yetkisinin kaldırılması,
II. Hükümetin padişaha değil meclise karşı sorumlu olması,
III. Azınlıkların mecliste temsilinin sağlanması

değişikliklerinden hangileri yasamanın gücünü arttırmaya yöneliktir?

- A) Yalnız I B) Yalnız II C) I ve II
D) I ve III E) I, II ve III

8. Hünkar İskelesi Antlaşması'na göre: "Osmanlı Devleti, gerekli hallerde Rusya'nın isteğiyle Boğaz'ları diğer devletlerin savaş gemilerine kapayacaktır."

Bu maddeye bakılarak,

- I. Rusya'nın Karadeniz'de güvenliği artmış; İngiltere ve Fransa'nın Akdeniz'deki çıkarları tehlikeye düşmüştür,
II. Osmanlı Devleti'nin Boğaz'lardaki egemenliği güçlenmiştir,
III. Osmanlı Devleti dış politikada Rusya'nın egemenliği altına girmiştir

yorumlarından hangilerine ulaşılabilir?

- A) Yalnız I B) Yalnız II C) I ve II
D) I ve III E) II ve III

9. Almanya'nın I. Dünya Savaşı'nda Osmanlı'yı kendi yanında istemesinde etkili olan faktörler,

- I. Savaşı geniş alanlara yaymak istemesi,
II. İngiltere'nin Müslüman sömürgelerini kısırtmak istemesi,
III. Osmanlı'nın insan gücünden yararlanmak istemesi

dini, siyasi ve askeri olarak sınıflandırılırsa aşağıdakilerden hangisi doğru olur?

Dini Siyasi Askeri

- A) I II III
B) I III II
C) II I III
D) II III I
E) III I II

10. Mondros Ateşkes Antlaşması'na göre: "Almanya ve Avusturya uyruklu asker ve sivil memurlar en kısa zamanda Osmanlı ülkesini terk edecektir."

Sadece bu maddeye bakılarak,

- I. Osmanlı devletinin diplomatik ilişkileri kısıtlanmıştır,
II. Almanya ve Avusturya da I. Dünya Savaşı'nı kaybeden devletler arasındadır,
III. İngilizler Osmanlı Devleti'nin yalnız kalmasını istemektedir

yargılarından hangilerine ulaşılabilir?

- A) Yalnız I B) Yalnız II C) I ve II
D) II ve III E) I, II ve III

11. Amasya Genelgesi'nin aşağıdaki maddelerinden hangisi Türk devriminin evrensel bir nitelik taşıdığını kanıtlar?

- A) Askeri ve millî örgütler hiçbir şekilde dağıtılmayacak.
B) Vatanın bütünlüğü, milletin bağımsızlığı tehlikeydedir.
C) İstanbul Hükümeti sorumluluğunu yerine getirmemektedir.
D) Milletin bağımsızlığını milletin azim ve kararı kurtaracaktır.
E) Doğu illeri adına Erzurum'da bir kongre toplanacaktır.

12. I. İnönü Savaşı'ndan sonra İngilizler, Londra Konferansı'nı toplayarak dağılan Yunan ordusuna zaman kazandırmak ve Sevr'i masada kabul ettirmek amacıyla, İstanbul hükümeti ve TBMM hükümetini konferansa davet ettiler.

M. Kemal'in konferanstan sonuç çıkmayacağını bilmesine rağmen konferansa temsilci göndermesi,

- I. Misakı Milli'yi dünyaya duyurma,
II. TBMM'nin hukuksal açıdan tanınmasını sağlama,
III. İstanbul hükümetiyle birlik içinde hareket etme durumlarından hangilerini amaçladığını gösterir?

- A) Yalnız I B) I ve II C) I ve III
D) II ve III E) I, II ve III

13. Mudanya Ateşkes Antlaşması'nın,

- I. Yeni Türk devleti I. Dünya Savaşı'nda yenilmiş devlet yerine eşit devlet durumuna geldi,
II. İngiltere'de Lloyd George hükümeti istifa etti,
III. Lozan Barış Konferansı'nın toplanmasına ortam hazırlandı

sonuçlarından hangileri Mudanya Ateşkes Antlaşması'nın uluslararası boyutu olduğunu gösterir?

- A) Yalnız II B) I ve II C) I ve III
D) II ve III E) I, II ve III

14. 1920-1923 yılları arasında görülen,

- I. Saltanatın kaldırılması,
II. Halk fırkasının kurulması,
III. Meclis hükümeti sistemi nedeniyle hükümet bunalımının doğması

gelişmelerinden hangileri cumhuriyetin ilanına ortam hazırlamıştır?

- A) Yalnız I B) I ve II C) I ve III
D) II ve III E) I, II ve III

15. Aşağıdakilerden hangisi Atatürk milliyetçiliğinin "ayırıcı değil; birleştirici" olduğuna kanıt oluşturur?

- A) Akılcı ve çağdaş olması
B) Türk milletinin varlığını yükseltmeyi amaçlaması
C) Her türlü sömürgecilğe karşı olması
D) Diline, tarihine, kültürüne sahip çıkmayı esas alması
E) Din, soy, dil farkı gözetmemesi

16. Siyasi alanda yapılan aşağıdaki inkıaplardan hangisi Türkiye'nin başka devletlerin iç işlerine karışmayacağını göstermiş ve Türkiye'nin dış politikasını olumlu etkilemiştir?

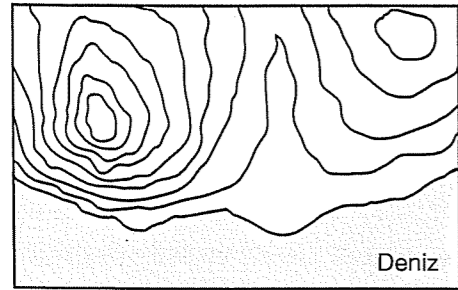
- A) Saltanatın kaldırılması
B) Cumhuriyetin ilanı
C) Halifeliğin kaldırılması
D) Ordunun siyasetten ayrılması
E) Çok partili hayata geçiş denemelerinin yapılması

17. Bir ulusun ulusal hedeflerine ulaşabilmek amacıyla kullanabileceği maddi ve manevi kaynakların toplamına milli güç denir.

Aşağıdakilerden hangisi milli gücü meydana getiren maddi unsurlardan değildir?

- A) Askeri güç
B) Ekonomik güç
C) Coğrafi güç
D) Teknolojik güç
E) Psiko-sosyal güç

18.



Yukarıdaki haritada gösterilen bölgenin aşağıda verilen hangi kesiminde gerçek alan ile iz düşümsel alan arasındaki fark ötekilerden daha fazladır?

- A) Doğudaki tepenin güney yamacında
B) Akarsu yatağının kuzey kesiminde
C) Batıdaki tepenin güney yamacında
D) Akarsuyun ağız kesiminde
E) Batıdaki tepenin kuzeydoğu yamacında

19. Bir bölgenin 1/25.000 ölçekli bir fiziki haritası ile 1/200.000 ölçekli başka bir fiziki haritası aşağıdaki tabloda bazı özellikleri bakımından karşılaştırılmıştır.

	1/25.000	1/200.000
Aynıyü gösterme gücü	fazladır.	azdır.
Hata payı	azdır.	fazladır.
Gerçek alan	değişmez.	değişmez.
Ölçeğin paydası	fazladır.	azdır.
Yükselti değeri	azdır.	fazladır.
Enlem ve boylam dereceleri	değişmez.	değişmez.
Kağıt üzerinde kapladığı alan	azdır.	fazladır.

Buna göre, verilen özelliklerden kaç tanesinde hata yapılmıştır?

- A) 1 B) 2 C) 3 D) 4 E) 5

20. Aşağıdaki tabloda, Türkiye'de 1993 ve 1997 yıllarındaki kesilen hayvan sayısının türlerine göre oransal dağılımı gösterilmiştir.

Hayvan türü	1993 (%)	1997 (%)
I.	2	0,4
II.	2,5	0,3
III.	11,2	9,1
IV.	18,3	24,2
V.	66	66

Yalnızca tablodaki bilgilerden yararlanarak aşağıdaki yargılardan hangisine ulaşılabilir?

- A) 1993'ten 1997 yılına kadar geçen sürede yalnızca IV. hayvan türünün hayvan kesimindeki payı düzenli olarak her yıl artmıştır.
B) V. hayvan türünün kesimdeki payı 1993 ve 1997 yıllarında aynı olmasına karşın bu hayvan türünde 1993 yılında kesilen hayvan sayısı daha azdır.
C) 1993 yılına göre 1997 yılında I., II. ve III. hayvan türlerinde kesilen hayvan sayısı azalmıştır.
D) Kesilen hayvanların payının çoktan aza doğru yapılan sıralamasında 1993 yılında baştan 4. olan hayvan türü, 1997 yılında 5. sıraya düşmüştür.
E) 1993'ten 1997'ye kesilen hayvan sayısındaki en büyük azalış III. hayvan türünde olmuştur.

21. Sıcaklıkla ilgili olarak aşağıda verilen özelliklerden hangisinin ortaya çıkmasındaki temel etken doğru olarak verilmiştir?

Özellik	Temel etken
A) Yıllık sıcaklık farkının fazla olması	Denizellik
B) Dağların güneş alan yamaçlarında kar erimelerinin erken başlaması	Yükselti
C) Sıcaklığın kutuplardan Ekvator'a doğru gidildikçe düzenli bir biçimde artmaması	Enlem
D) Kuzey Yarım Küre'nin ılıman kuşağında kıtaların batı kıyılarındaki sıcaklığın doğu kıyılarındakine göre daha fazla olması	Okyanus akıntıları
E) Yeryüzünde farklı iklim kuşaklarının bulunması	Baki

22.



Yukarıdaki haritada numaralanmış dağlardan,

- I. dağa karayel,
II. dağa poyraz,
III. dağa keşişleme,
IV. dağa lodos,
V. dağa kible

yönlerinde rüzgârların estiği düşünüldüğünde, hangisinde orografik yağışların oluşması beklenmez?

- A) I B) II C) III D) IV E) V

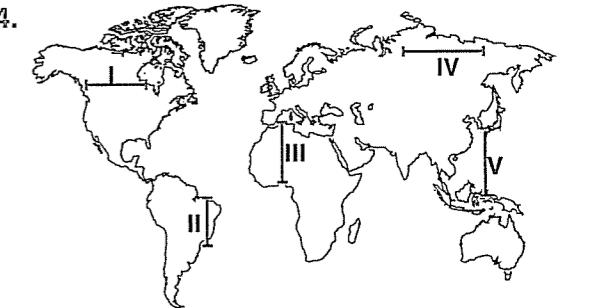
23. Aşağıda, dört farklı sürekli basınç merkezinin özelliği verilmiştir.

- I. Kutup rüzgârları ve Batı rüzgârlarının karşılaşma alanında bulunur. Bu rüzgârlar söz konusu basınç alanında birbirini yukarı doğru iter.
II. Güneş ışınlarını yıl boyunca dik ve dike yakın açılarla aldığından sıcaklık yıl boyunca yüksektir. Isınan havanın genişleşip yükselmesine bağlı olarak yıl boyunca konveksiyonel hava hareketleri etkili olur.
III. Dünya'nın kendi eksenini etrafındaki dönüşünün rüzgârlar üzerinde meydana getirdiği sapma etkisiyle oluşmuştur. Alçalcı hava hareketlerine bağlı olarak havanın ısınması ve bağlı nem miktarının düşmesi nedeniyle kuraklık yıl boyunca etkilidir.
IV. Soğuyan havanın ağırlaşarak alçalması sonucu oluşmuştur. Yeryüzünün en kurak bölgelelerinden birinde bulunur.

Buna göre, verilen basınç merkezlerinden hangilerinin oluşumunda termik etkenlerin etkili olduğu söylenebilir?

- A) I ve II B) I ve III C) II ve III
D) II ve IV E) III ve IV

24.



Yukarıdaki haritada verilen numaralanmış doğrultuların hangisinde iklim tipleri bakımından çeşitlilik ötekilerden daha fazladır?

- A) I B) II C) III D) IV E) V

25. Aşağıdakilerden hangisinin, bir ülkenin iç ticaret hacminin büyümesinde etkili olacağı söylenebilir?

- A) İşçi ücretlerinin artırılması
B) Küçük ölçekli yerel pazarların kurulması
C) Transit taşımacılığın geliştirilmesi
D) Üretimdeki artışın nüfus artışının üstüne çıkarılması
E) Bölgeler arasında enerji üretimi bakımından farkın azaltılması

26. Siyasi bölgelerden bazıları şunlardır:

- o NAFTA o NATO
o KEİ o Birleşmiş Milletler

Buna göre, siyasi bölgelerle ilgili aşağıdaki yargılardan hangisi yanlıştır?

- A) Siyasi bölge sınırları yeni üye ülkelerin birliğe katılmasıyla genişler.
B) Siyasi bölgeler zamanla işlevini yitirebilir.
C) Siyasi bölge sınırları içerisinde kalan ülkelerin yönetim biçimleri farklı olabilir.
D) Siyasi bölge sınırları ülke sınırlarını takip eder.
E) Siyasi bölgelerin tümü, küresel örgütlerdir.

27. Tropikal kuşakta ve Büyük Okyanus kıyısında yer alan bir ada ülkesinde,

- I. tsunami,
II. kasırga,
III. çığ,
IV. kuraklık

doğal afetlerden hangilerinin etkili olduğu söylenebilir?

- A) I ve II B) I ve III C) II ve III
D) II ve IV E) III ve IV

28. Köy altı yerleşmesi tek ev ile köy arasında geçiş tiptir.

Türkiye'de bu yerleşme tiplerinin ortaya çıkmasında, aşağıdakilerden hangisinin etkili olduğu söylenemez?

- A) Devlet arazilerinin özellikle ormanların toprak-sız ailelerce kullanılması
B) Hayvanlar için otlak ve barınak temin edilmeye çalışılması
C) Engembeli yerlerde tarım topraklarının parçalanmış olması
D) Toprak verimliliğinin ve taban suyu seviyesinin yöreden yöreye değişmesi
E) Tarım arazilerinin birbirinden uzak olması

29. Ekosistem, denizlere veya nehirlere dökülen atıkları birkaç yıl veya daha uzun süre zarfında temizleyebilme özelliğine sahiptir. Ancak günümüzde altı milyarı aşan dünya nüfusu, milyonlarca ton atık üretmektedir.

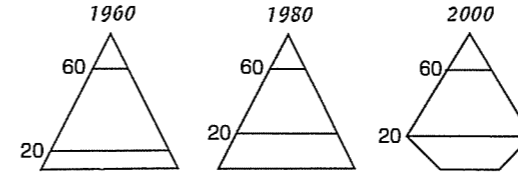
Aşağıdakilerden hangisi, bu durumun sonuçlarından biri değildir?

- A) Yer altı su kaynaklarının kirlenmesi
B) Bitki örtüsünün tahrip olması
C) Yer yapısına bağlı doğal afetlerin can ve mal kaybına neden olması
D) Tarım topraklarında kayıpların yaşanması
E) Halk sağlığı ile ilgili sorunların artması

30. Türkiye'deki akarsuların aşağıdaki özelliklerinden hangisi, ülkenin bugünkü yeryüzü şeklini yakın bir jeolojik devirde almış olduğuna kanıt olamaz?

- A) Denge profilini almamış olmaları
B) Rafting, kano ve su kayağı gibi turizm olanakları potansiyellerinin fazla olması
C) Hidroelektrik enerji potansiyellerinin fazla olması
D) Taşımacılığa elverişli olmamaları
E) Debilerinin mevsimler arasında değişim göstermesi

31. Aşağıda bir ülkenin 1960, 1980 ve 2000 yıllarına ait nüfus piramitleri gösterilmiştir.



Buna göre, verilen yıllarda ülkeyle ilgili aşağıdaki yargılardan hangisine ulaşılamaz?

- A) 1960 yılından 1980 yılına nüfus artış oranı artmıştır.
B) Verilen yıllar içinde, yaşlı bağımlı nüfus oranı sürekli artmıştır.
C) Son yirmi yıl içinde doğurganlık oranı azalmıştır.
D) 1980 yılındaki genç nüfus oranı 1960 ve 2000 yıllarındakine göre daha fazladır.
E) Verilen yıllarda, kadın ve erkek nüfus oranları birbirine yakındır.

32. Tanrı'nın ne olduğu konusunda çaresizim. Ne var olduğunu kanıtlayabilecek yeterli verilere sahibim, ne de yok olduğuna dair yeterli verilere sahibim. Tanrı'nın ne olduğu sorusu karşısında verebileceğim tek cevap var: "Bilmiyorum."

Din felsefesindeki bu tanrı anlayışına ne ad verilir?

- A) Monoteizm B) Panteizm C) Agnostisizm
D) Ateizm E) Politeizm

33. Descartes, "Yöntem üzerine konuşma" adlı kitabında şöyle der: "Okullarda öğretilen kurgusal felsefe yerine zanaatçılarımızın çeşitli mesleklerini tanıdığımız kadar açık bir biçimde tanıyabileceğimiz, bizi doğanın efendisi ve sahibi kılacak olan, ateşin, suyun, havanın, yıldızların, göklerin ve çevremizdeki tüm şeylerin gücünü ve eylemlerini bilen bir eğitim ortaya konulabilir."

Descartes bu düşüncesiyle felsefede öğretilen bilgilerin hangi yönünün önemli olduğunu vurgulamıştır?

- A) Evrensel olmasını B) Sistemli olmasını
C) Uygulanabilir olmasını D) Teorik olmasını
E) Genel olmasını

34. Düşünce, nasıl olur da kendisinden oldukça farklı olan bir şeyin benzeri olabilir? Zamandan başka hiçbir boyutu olmayan düşünce nasıl olur da, mekansal olan bir şeyin benzeri olabilir? Düşünce, bir köpük ya da Niagara Şelalesi'ne nasıl benzeyebilir?

Bu eleştiri aşağıdaki "doğruluk" tanımlarından hangisine karşı yapılmıştır?

- A) Doğru, akla uygun olandır.
B) Doğru, düşünceler arasında kurulan mantıksal bağlardır.
C) Doğru, öncüllerden mantıksal olarak çıkarılan sonuçtur.
D) Doğru, insan aklında doğuştan bulunan bir yettir.
E) Doğru, dış dünyadaki gerçeğe uygun olandır.

35. Varlık, algıdan ibaret değildir; tam tersine bir şey var olduğu için onun algısı vardır. O halde algılarımız, algılarımızın konusu olan ve algıdan ayrı, ondan bağımsız nesnel bir dünyanın varlığına işaret eder.

Aristoteles'in varlıkla ilgili bu düşüncesi varlık felsefesiyle ilgili hangi terimle adlandırılabilir?

- A) Realizm B) Pozitivizm C) Kritisizm
D) Septisizm E) Agnostisizm

36. "Öyle davran ki, davranışın temelindeki ilke, tüm insanlar için geçerli olan evrensel ilke veya yasa olsun."

Kant'ın bu ahlak ilkesine aşağıdaki örneklerden hangisi uygundur?

- A) Ceza almak istemiyorsan kırmızı ışıkta geçme.
B) Müşteri kaybetmek istemiyorsan hile yapma.
C) Arkadaşların tarafından sevilme istiyorsan yalan söyleme.
D) Ceza alsan da, acı çeksen de sen hep doğruyu söyle.
E) Sevap kazanmak için yoksula yardım et.

37. Bir sanat eserine güzel dediğimizde, bunun nedeni o eserin bu güzelliğe sahip olmasıdır. Çünkü güzellik, bütün estetik nesnelere farklı derecelerde mevcuttur ve benim kişisel deneyimlerimden, alışkanlıklarımın, tercihlerimden bağımsız olarak vardır.

Bu açıklama sanat felsefesinde aşağıdaki yaklaşımlardan hangisini destekler?

- A) Güzellik, sanat eserini algılayanda değil sanat eserindedir.
B) Güzellik, sanatçının sanat eserine duygu ve düşüncelerini yansıtmıştır.
C) Güzellik, sanatçının varlıkları yeniden anlamlandırmasıdır.
D) Güzellik, sanatçının renk ve biçimlerle oynamasıdır.
E) Güzellik, estetik öznededir.

38. Her türlü otorite insanın güdülerini köreltir ve kişiliğini tahrip eder. İnsan doğasına uygun olan güçlü, korkusuz ve acımasız olmaktır. Devlet, otoritesini insanın üzerine yönelterek onun doğallığını ve yaratıcılığını yok eden bir kurumdur. Bundan dolayı otoriteye dayalı düzenlerde insanın yetilerinin gelişmesi imkansızdır.

Bu düşünce aşağıdaki felsefi kuramlardan hangisi tarafından temsil edilir?

- A) Demokrasi B) Aristokrasi C) Sosyalizm
D) Anarşizm E) Monarşi

39. Bilim, bilim diye ortaya konmuş olandır. Şimdiye kadar bilim insanların bilimsel bilgi diye ürettikleri; tüm kanun, kuram, kavram ve açıklamalardır.

Bilime bu şekilde yaklaşan bir kişi için, bilimsel çalışmalarda ve bilimin öğretilmesinde aşağıdakilerden hangisi diğerlerine göre daha önemsizdir?


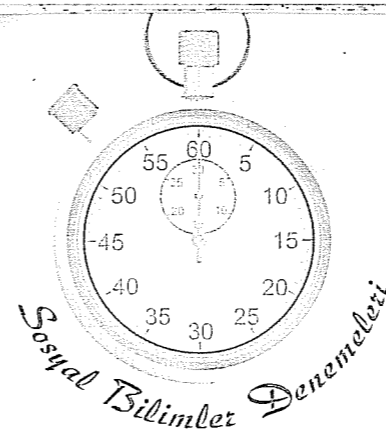
- A) Bilim tarihi
B) Bilim insanların dünya görüşü
C) Bilimsel buluşlar
D) Bilimsel bilgiler
E) Bilim insanların bize bıraktıkları buluşlar

40. Bilincimizin varlıkla olan ilişkisi insanın yaşamla olan ilişkisidir. O halde yaşantımızın nasıl olacağını varlığı nasıl algıladığımız belirler. Örneğin, varlığı madde olarak kabul eden bir kişi, düşünceyi beyin bir fonksiyonu olarak görür ve beyin olmadan düşüncenin de olamayacağını söyler.

Bu açıklamaya göre varlığı madde olarak kabul eden bir kişi aşağıdaki düşüncelerden hangisini anlamakta zorlanır?

- A) Üzerinde yaşadığımız Dünya'nın bir gezegen olduğunu
B) Isınan bir metalin genleştiğini
C) Kışın havanın soğuduğunu
D) Ölünce ruhun bedenden çıktığını
E) Suyun 100 derecede kaynadığını

Deneme 9							
1	C	11	D	21	D	31	B
2	E	12	B	22	E	32	C
3	D	13	E	23	D	33	C
4	E	14	C	24	C	34	E
5	D	15	E	25	D	35	A
6	B	16	C	26	E	36	D
7	A	17	E	27	A	37	A
8	C	18	C	28	D	38	D
9	C	19	C	29	C	39	B
10	E	20	D	30	E	40	D



1. Samsun Tekkeköy'de Paleolitik ve Diyarbakır Çayönü'nde Neolitik devirlere ait incelemeler yapan bir tarihçi aşağıda verilen tarihe yardımcı bilimlerin hangisinden yararlanamaz?

- A) Paleografya B) Sosyoloji
C) Arkeoloji D) Antropoloji
E) Etnoğrafya

2. Asur kralı Asurbanipal, Sümer ve Babil edebiyatı metinlerini tercüme ettirip Ninova Sarayı'ndaki kütüphanede saklamıştır.

Sadece bu bilgilere bakılarak aşağıdakilerden hangisine ulaşılamaz?

- A) Asurluların başka uygarlıklarla etkileşim içinde olduğuna
B) Asur uygarlığında kültürel faaliyetlerin egemen güçlerce desteklendiğine
C) Asurlularda yerleşik bir kültürün var olduğuna
D) Asurluların astronomi, matematik gibi bilimlerle ilgili çalışmalar yaptığına
E) Asurlularda mimarinin geliştiğine

3. İslamiyet öncesi Türk devletlerinde Oğuş adı verilen ailelerin birleşmesiyle Uruğ adı verilen sülaleler; bunların da birleşmesiyle boylar oluşmaktaydı. Kurulan devletler boyların birleşimiydi.

Bu bilgiye bakılarak aşağıdakilerden hangisine ulaşılabılır?

- A) Ülke topraklarının hanedan malı sayıldığına
B) Göçebe yaşam tarzı sürdürüklerine
C) Federatif tarzda örgütlendiklerine
D) Merkezi otoriteye önem verdiklerine
E) Törenin toplum hayatında önemli olduğuna

4. Türkiye Selçuklu Devleti 1077'de Süleyman Şah tarafından kuruldu. Süleyman Şah İznik'i fethederek burayı başkent yaptı. Büyük Selçuklu hükümdarı Melikşah, Süleyman Şah'a bir ferman göndererek hükümdarlığını tanıdı. Abbasi Halifesi de mensur göndererek Süleyman Şah'ın hükümdarlığını onayladı. Böylece Türkiye Selçuklu Devleti kurulmuş oldu.

Yukarıda verilen bilgilere bakılarak aşağıdakilerden hangisine ulaşılamaz?

- A) Türkiye Selçuklularının Abbasi halifesini tanıdığına
B) Türkiye Selçuklularının Büyük Selçukluların bir parçası olduğuna
C) Türkiye Selçuklularının Anadolu'ya yerleştiğine
D) Türkiye Selçuklularının Büyük Selçuklu Devleti'ne karşı bağımsızlık mücadelesi verdiğine
E) Türkiye Selçuklularının Müslüman olduğuna

5. İstanbul'un fethinin sonuçları, Türk ve Dünya tarihi açısından gruplandırıldığında aşağıdakilerden hangisi farklı bir grupta yer alır?

- A) Bizans İmparatorluğu yıkıldı.
B) Ortaçağ bitti yeniçağ başladı.
C) Osmanlı Devleti'nin İslam dünyasındaki saygınlığı arttı.
D) Ticaret yollarının Türklerin eline geçmesi Avrupalıları coğrafi keşiflere yöneltti.
E) Surların toplarla yıkılabileceğinin görülmesi feodaliteyi zayıflattı.

6. IV. Haçlı Seferi'nde Haçlıların dindaşları Bizans'ı yağmalamaları,

- I. Avrupa'nın ekonomik yönden kötü olduğu,
II. IV. Haçlı seferinin Bizans üzerine yapıldığı,
III. Katolik - Ortodoks çekişmesinin devam ettiği durumlarından hangilerini kanıtlar?

- A) Yalnız I B) Yalnız II C) I ve II
D) I ve III E) I, II ve III

7. XVIII. yy.da Osmanlı yönetiminde kalemiye sınıfının öneminin artmasında aşağıdakilerden hangisinin etkili olduğu söylenebilir?

- A) Ülke nüfusunun artması
B) Tarımsal üretimde değişimlerin görülmesi
C) Askeri başarısızlıkların artması
D) Avrupa ile diplomatik ilişkilerin yoğunlaşması
E) Tımar sistemin bozulması

8. I. 1533 İstanbul Antlaşması: Avusturya arşidükü Osmanlı sadrazamına eşit sayılacak.

II. 1606 Zitvatorok Antlaşması: Avusturya arşidükü Osmanlı padişahına eşit sayılacak.

Bu iki antlaşma karşılaştırıldığında,

- I. Avusturya ile ilişkilerin geliştiği,
II. Avusturya'ya karşı siyasal üstünlüğün kaybedildiği,
III. Devletlerarası güç dengelerinin değiştiği yorumlarından hangilerine ulaşılabilir?

- A) Yalnız I B) Yalnız II C) I ve II
D) II ve III E) I, II ve III

9. XIX. yy.da imzalanan Balta Limanı Ticaret Antlaşması'yla Osmanlı'da uygulanan iç gümrük vergisi yabancılardan kaldırıldı.

Bu antlaşmanın,

- I. Osmanlı pazarındaki yabancı malların artması,
II. Yerli tüccarların Avrupalı tüccarlarla rekabet etmesinin zorlaşması,
III. Osmanlı ekonomisine nakit girişinin artması durumlarından hangilerine neden olduğu söylenebilir?

- A) Yalnız I B) Yalnız II C) I ve II
D) I ve III E) I, II ve III

10. XX. yy.da Osmanlı Devleti'nde görülen, aşağıdaki gelişmelerden hangisi Fransız İhtilali'yle yayılan ulusçuluk akımıyla paralellik gösterir?

- A) Tanzimat Fermanı'yla kanun üstünlüğünün benimsenmesi
B) Meşrutiyetin ilanı halkın yönetime katılması
C) Batılı tarzda ıslahatlara devam edilmesi
D) II. Balkan Savaşından sonra yapılan antlaşmalarla sınırları dışında kalan Türklerin haklarını koruyucu maddeler konulması
E) Osmanlılık anlayışıyla imparatorluğun dağılmasının önlenmek istenmesi

11. I. Dünya Savaşı bloklaşmalarında başlangıçta Almanya'nın yanında yer alan İtalya, kendisine Batı Anadolu'nun vaad edilmesiyle İngiltere'nin yanına geçmiştir.

Sadece bu bilgilere bakılarak,

- I. İngiltere Almanya'nın güçlenmesini istememektedir,
II. İngiltere Osmanlı Devleti'ni parçalama niyetindedir,
III. İtalya sömürgecilikte geç kalışını telafi etmek istemektedir

yargılarından hangilerine ulaşılabilir?

- A) Yalnız I B) Yalnız II C) I ve II
D) I ve III E) I, II ve III

12. I. Dünya Savaşı sırasında imzalanan gizli antlaşmalara göre İtalya'ya bırakılması gereken İzmir ve çevresi, İngilizlerin tutum değiştirmesiyle Yunanistan'a bırakıldı.

İngiltere'nin kararını değiştirmesinde,

- I. Ege'de güçlü bir devlet istememesi,
II. Yunanlıların işgali daha hızlı yapacağını düşünmesi,
III. İtalya'nın dünya savaşı başlangıcında Almanya'nın tarafında olması

durumlarından hangileri etkili olmuştur?

- A) Yalnız I B) Yalnız III C) I ve II
D) I ve III E) I, II ve III

13. "Erzurum Kongresi toplanişı bakımından bölgesel; alınan kararlar bakımından ulusal bir kongredir."

yargısına bu kongrede alınan,

- I. Vatan bir bütündür; parçalanamaz,
II. Manda ve himaye kabul edilemez,
III. bölgedeki direniş cemiyetlerini içine alan Doğu Anadolu Müdafai Hukuk Cemiyeti particilik akımından uzaktır

kararlarından hangisi ters düşer?

- A) Yalnız I B) Yalnız III C) I ve II
D) I ve III E) II ve III

14. Antlaşma Devletleri'nin Lozan'da toplanacak barış konferansına hem TBMM hem de Osmanlı hükümetini çağırmasına bakılarak,

- I. Lozan Konferansı'nı Sevr Antlaşması'nın maddelerinin yeniden düzenlenmesi olarak gördüğü,
II. Türk tarafının kendi arasındaki görüş ayrılıklarından yararlanmak istediği,
III. Türk tarafıyla ilişkileri düzeltmek istediği yorumlarından hangilerine ulaşılabilir?

- A) Yalnız I B) Yalnız II C) I ve II
D) II ve III E) I, II ve III

15. Aşağıdakilerden hangisi Teşkilatı Esasi ve 1924 Anayasası'nın ortak özelliğidir?

- A) Egemenliğin kaynağı
B) Yasama, yürütme, yargı erklerinin dağılımı
C) Yürürlükte kalma süresi
D) Devletin rejimiyle ilgili bakış açıları
E) Kabine sisteminin varlığı

16. Atatürk ilkelerinden milliyetçilik ilkesi doğrultusunda yapılan,

- I. Türk parasını koruma kanununun çıkarılması,
II. Türk Dil Kurumu'nun kurulması,
III. Yabancı okullarda Türkçe, tarih ve coğrafya derslerinin Türk öğretmenler tarafından okutulması

inkılaplarından hangileri kültürel birliği sağlamaya yöneliktir?

- A) Yalnız I B) Yalnız III C) I ve II
D) I ve III E) II ve III

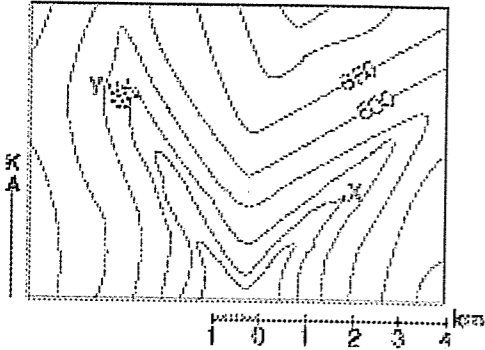
17. M. Kemal Paşa daha II. Meşrutiyet döneminde ordunun siyasete karışmasını tenkit etmişti. Bu tecrübelerin ışığında o zamana kadar hükümette yer alan Genelkurmay Başkanlığı politika dışında bırakılmıştı. 3 Mart 1924'te ise komutanların milletvekili olması engellendi.

Mustafa Kemal bu uygulamayla,

- I. Ordunun siyasetten ayrılması,
 - II. Meclisteki rekabetin iç çatışmaya dönmesinin engellenmesi
 - III. Askerin ülke içindeki öneminin azaltılması
- durumlarından hangilerini amaçlamıştır?

- A) Yalnız I B) Yalnız III C) I ve II
D) I ve III E) I, II ve III

18. Aşağıda, bir yörenin topoğrafya haritası verilmiştir



Bu yöreyle ilgili aşağıdaki bilgilerden hangisi yanlıştır?

- A) X merkezi ile Y köyü arasındaki kuş uçuşu uzaklık yaklaşık 5 km'dir.
- B) Yöredeki sırt boyunca hem X merkezi hem de Y köyü görülebilir.
- C) Yörede iki tane kurumuş akarsu yatağı bulunur.
- D) Yöre içindeki yükselti farkı 350 metreden fazladır.
- E) Y köyü, X merkezine göre 100 metre daha yüksekte bulunur.

19. Türkiye'de gündüz süresinin kısalmaya başladığı bir günde, aşağıdaki merkezlerden hangisinin yerel saati ile Türkiye'nin ulusal saati arasındaki zaman farkı en fazla olur?

- A) Iğdır B) İzmit C) Edirne
D) Şanlıurfa E) Samsun

20. Aynı boylam üzerinde, Güneş 21 Haziran'da X noktasında Y noktasına göre daha erken doğar ve daha geç batar.

Buna göre,

- I. X ve Y noktaları Ekvator'un kuzeyinde yer alır.
- II. X ve Y noktalarında öğle vakti aynı anda yaşanır.
- III. X noktası Y noktasına göre kuzeyde bulunur.
- IV. Y noktası güneş ışınlarını X noktasına göre daha küçük açılarla alır.

yargılarından hangileri kesin değildir?

- A) I ve II B) I ve IV C) II ve III
D) II ve IV E) III ve IV

21. Bir bölgenin kullanılma amaçlarına göre sınıflandırılmış aşağıdaki haritalarından hangisinin zaman içinde yeniden düzenlenmesi gerekir?

- A) Jeoloji haritası
B) Deprem riski haritası
C) Su havzaları haritası
D) İdari bölünüş haritası
E) Topoğrafya haritası

22. Bir ülkede, belli yıllardaki aktif nüfusun ekonomik faaliyet kollarına göre dağılımı aşağıda verilmiştir.

Yıllar	Birincil faaliyet (%)	İkincil faaliyet (%)	Üçüncül faaliyet (%)
I	55	25	20
II	15	20	65

Buna göre, söz konusu yıllar içinde ülkede aşağıdakilerden hangisi bakımından bir artışın olduğu söylenemez?

- A) Nitelikli işçi payı
B) Doğurganlık oranı
C) Mamül ürünlerin dış satım içindeki payı
D) Ortalama yaşam süresi
E) Kişi başına düşen ulusal gelir

23. Aşağıdakilerin hangisinde verilen bölgelerin sınırları birbirine en az benzerlik gösterir?

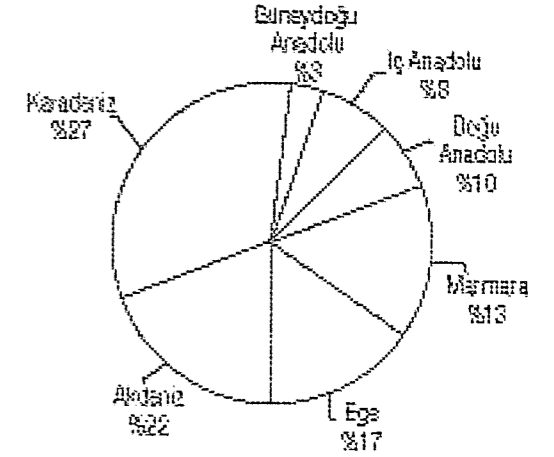
- A) İklim bölgeleri – Bitki örtüsü bölgeleri
B) Jeotermal bölgeler – Aktif fay hatları bölgesi
C) Dağlık bölgeler – Maden bölgeleri
D) Kurak iklim bölgeleri – Az nüfuslu bölgeler
E) İklim bölgeleri – Zonal toprak bölgeleri

24. Ay'da Dünya'da görülmeyen olaylar gözlenir.

Buna göre, Ay'da gözlenen aşağıdaki olaylardan hangisinin oluşum nedeni diğerlerinden farklıdır?

- A) Yüzeyinde tektonik hareketlere bağlı yer şekli oluşumunun gözlenmemesi
B) Gölge yerlerin tam karanlık ve soğuk olması
C) Güneş'ten gelen zararlı ışınların hiçbir tutulmaya uğramadan yüzeyle ulaşması
D) Yüzeyinde meteorların oluşturduğu derin çukurlukların bulunması
E) Sıcaklığın gündüz 130°C iken gece -173°C'ye kadar düşmesi

25. Aşağıdaki grafik, 1998 yılında Türkiye'deki ormanların coğrafi bölgelere dağılımını göstermektedir.



Yalnızca bu grafikten yararlanarak aşağıdaki yargılardan hangisine ulaşılabılır?

- A) Batıdan doğuya gidildikçe ormanların kapladığı alan artmaktadır.
B) Ormanların kuzeyde yer alan bölümünün oranıyla güneyde yer alan bölümünün oranı birbirine yakındır.
C) Deniz kıyısı olan coğrafi bölgelerde ormanların tür çeşitliliği, iç bölgelerdeki ormanlardan fazladır.
D) Orman miktarındaki azalma en çok güney ve batı bölgelerde görülmektedir.
E) Ormanların % 75'inden fazlası denize kıyısı olan coğrafi bölgelerde yer almaktadır.

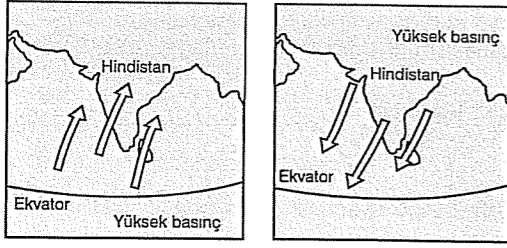
26.



Yukarıdaki haritada numaralanmış yörelerin hangilerinde belirgin kurak dönem vardır?

- A) I ve III B) III ve IV C) I, II ve IV
D) II, III ve V E) II, IV ve V

27. Aşağıdaki haritalarda iki farklı rüzgârın esiş ortamı ve yönü verilmiştir.



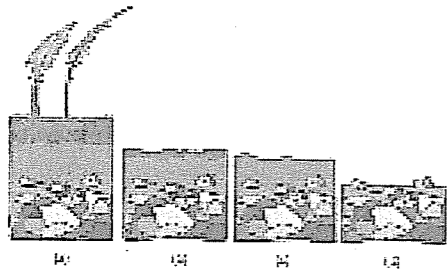
Buna göre, bu rüzgârların oluşmasında,

- Kara ve denizin ısınma ve soğumalarının bağlı olduğu ilkelerin birbirinden farklı olması,
- Yer ekseninin yörünge düzlemine eğik olması,
- Yerel basınç koşullarında değişmelerin meydana gelmesi,
- Asya Kıtası'nın güneyinde geniş bir denizin bulunması

durumlarından hangilerinin etkili olduğu söylenebilir?

- A) Yalnız III B) Yalnız IV C) I ve II
D) I ve III E) I, II ve IV

28.



Yukarıdaki şekilde aşamaları verilen doğal afetin oluşumunda aşağıdakilerden hangisinin etkili olduğu söylenemez?

- A) Meralarda aşırı otlatma yapılmasının
B) Tarıma uygun olmayan alanların tarıma açılmasının
C) Nöbetleşe ekim alanlarının genişletilmesinin
D) Yer şekillerinin engebeli olmasının
E) Yanlış arazi kullanımının

29. Doğu Karadeniz'in kıyı kuşağında dağınık, İç Anadolu ve Güneydoğu Anadolu platolarında ise toplu kırsal yerleşme dokusu yaygındır.

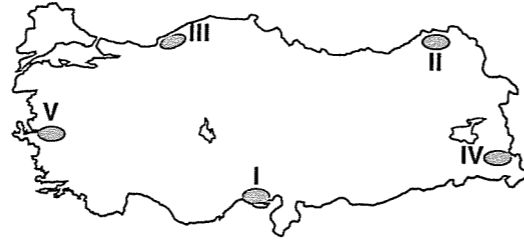
Bu farklılığın, yörelerde,

- su kaynaklarının fazla ya da az olması,
- yer şekillerinin engebeli ya da sade olması,
- toprakların verimli ya da verimsiz olması,
- bitki türleri bakımından çeşitliliğin fazla ya da az olması

durumlarının hangilerinden kaynaklandığı savunulabilir?

- A) I ve II B) I ve III C) II ve III
D) II ve IV E) III ve IV

30.



Yukarıdaki haritada numaralanmış yörelerin göç özelliğiyle ilgili aşağıdaki yargılardan hangisi yanlıştır?

- A) I. yöre, tarımsal faaliyetlerden dolayı mevsimlik göç alır.
B) II. yöre, tarımda makineleşmeye bağlı olarak göç verir.
C) III. yöre, yer altı kaynağından dolayı göç alır.
D) IV. yöre, arazinin engebeli ve tarım alanlarının az olması nedeniyle göç verir.
E) V. yöre, sanayi ve ulaşımın gelişmesine bağlı olarak göç alır.

31. Dünya'da nüfusun çoğalmasıyla tarım ürünlerine olan talebin yükselmesi, ucuz kimyasal gübrelerin üretilmesini ve tarımda makineleşmeyi gerektirmiştir. Bunun sonucunda pek çok ülkede geleneksel tarım yöntemleri uygulamadan kalkmıştır. Büyük tarım makinelerinin kullanılmaya başlanmasıyla, eğimli arazilerde yüzey sularının akışını yavaşlatmak için uygulanan teraslardan çoğu yerde vazgeçilmiştir. Kuru tarım bölgelerinde, rüzgârı önleyen fakat büyük makinelerin çalışmasına uygun olmayan ağaç şeritlerde ortadan kaldırılmıştır. Dev traktörlerin ve biçerdöverlerin çalışmasına uygun olması için tarla ebatları alabildiğince genişletilmiş, toprağı tutan geleneksel sınır şeritlerinin alanında azaltılmıştır.

Bu parçaya göre,

- Günümüzde uygulanan tarım yöntemleri, çoğu yerde toprağın erozyona daha açık hale gelmesine yol açmıştır.
- Tarımda makine kullanımına geçilmesi, Dünya nüfusunun artmasının bir sonucudur.
- Tarımdaki teknolojik gelişmeler, hızla artan talebi karşılamada yeterli değildir.
- Geçimini tarımdan sağlayan nüfusun bilinçlenmesi sayesinde bölgeler arasında tarımsal gelir dağılımındaki büyük eşitsizlik önlenmiş oldu.

yargılarından hangilerine ulaşılabilir?

- A) I ve II B) I ve III C) II ve III
D) II ve IV E) III ve IV

32. Felsefe, insanı tüm bilinçsel ve varoluşsal sorunları karşısında tartışmacı kılmakta, ona bireysel ya da toplumsal anlamda çıkış yolları bulma konusunda yardımcı olmaktadır. Felsefenin bittiği yer insanın kendiyile ve yaşamla ilişkisinin kesildiği yerdir.

Bu açıklama aşağıdaki sorulardan hangisinin cevabı olabilir?

- A) Felsefenin konusu nedir?
B) Felsefeyi diğer bilimlerden ayıran nedir?
C) Felsefenin kullandığı yöntem nedir?
D) Felsefenin işlevi nedir?
E) Felsefi düşüncelerin kesinliği var mıdır?

33. Bir düşünce, eylemlerimizi başarılı ve etkili kıyorsa, bir başka deyişle, bizi düşündüğümüz amaçlara ulaştırıyorsa doğrudur.

Bu açıklamaya göre bilginin doğruluğunda aşağıdakilerden hangisi ölçüt alınmıştır?

- A) Objesine uygunluk
B) Fayda
C) Önergeler arasındaki tutarlılık
D) Akla uygunluk
E) Bilinenlerin hatırlanması

34. Dünya cisimseldir, yani cismin boyutlarına, yani en, boy ve derinliğe sahiptir. Dolayısıyla evrenin her parçası cisimdir ve cisim olmayan şey, evrenin bir parçası değildir.

Hobbes'un bu düşüncesine göre aşağıdakilerden hangisi bir varlık olarak kabul edilemez?

- A) Çay bardağı
B) Ruh
C) Aspirin hâpi
D) Deniz suyu
E) Karpuz

35. I. Şu anda dışarıda yağmurun yağıyor olması
II. Yağmurun yağmasının tarlasını eken bir kişi için tarlayı sulamasından dolayı iyi olması, ancak güneşte çamaşırlarını kurutmaya çalışan birisi için ise kötü olması

Yukarıdaki iki örnek aşağıdaki kavram çiftlerinden hangisine aittir?

- A) Olgu - Değer
B) İyi - Kötü
C) Erdem - Mutluluk
D) Özgürlük - Değer
E) Ahlak - Etik

36. İnsanlar, güzel resim ya da heykel yapmadan önce, yani sanat ortaya çıkmadan önce; bir çiçeğin, bir hayvanın, bir yüzün, ya da Güneş'in batışının güzelliğini biliyorlardı.

Bu veriye dayanarak aşağıdaki sonuçlardan hangisine ulaşabiliriz?

- A) Sanat, insanların en eski uğraşlarından birisidir.
B) İnsanlardaki beğeni duygusu sanatsal çalışmalardan önce vardı.
C) Sanatsal çalışmalar insanlardaki beğeni duygusunun gelişmesini sağlamıştır.
D) Güzellik doğaya özgü bir beğenidir.
E) Doğadaki güzellikle sanattaki güzellik birbirinden farklıdır.

37. Aşağıdaki sorulardan hangisi din felsefesinin alanına girmez?

- A) Varlık nedir?
B) Evren nasıl yaratılmıştır?
C) Ruh ölümsüz müdür?
D) Öncesiz ve sonrasız bir varlık var mıdır?
E) Tanrı'nın varlığı kanıtlanabilir mi?

38. Devlet, soyut bir kavramdan ibaret değildir. Polis, asker, milletvekili, vergi memuru, öğretmen, fabrika işçisi, hastanedeki doktor devletin görünür yüzleridir. Bu mesleklerde çalışanlar işlerini yapmazlarsa devlet de işini yapmamış olur. Devlette çalışan her görevli, kendi alanıyla ilgili işi tam yaparsa devlet de tam olarak işlemiş olur. O halde devlet demek, devletin işlerini yürüten çalışanlar sınıfının uyumlu bir bütünü demektir.

Bu açıklamada devlet için aşağıdakilerden hangisinin zorunlu olduğu vurgulanmaktadır?

- A) Sivil toplum örgütlerinin
B) Geleneksel egemenlik biçiminin
C) Bürokrasinin
D) Toplumsal sınıfların varlığının
E) Hukuk kurallarının

39. Ortaçağ tıbbına karşı çıkılmıyorsa hastalıkların hala büyü ya da duayla iyileşebileceğine inanıyor olacaktık. Yine aynı şekilde Galileo, "dünya evrenin merkezidir ve Güneş onun çevresinde döner" düşüncesine karşı çıkmamış olsaydı, hala Ortaçağ bilim ve tekniğini kullanıyor olacaktı.

Bu örnekler bilimde hangi özelliğin bulunduğunu gösterir?

- A) Olgusallığın
B) Yaratıcılığın
C) Eleştireliliğin
D) Sistemliliğin
E) Düzenliliğin


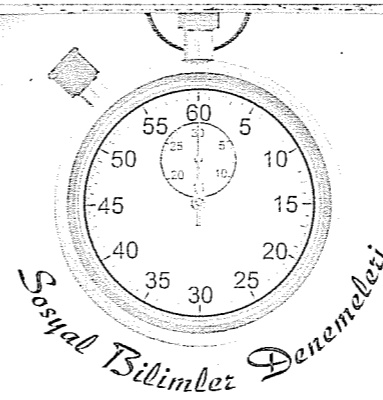
40. "Güneş", "hava", "yağmur" ya da "insan"ın doğruluğu ya da yanlışlığı yoktur; ancak güneşin sıcak olduğu, yağmurun şiddetli yağdığı, havanın soğuk olduğu yargılarının doğruluğu ya da yanlışlığı vardır.

Bu örneklerle aşağıdakilerden hangisi anlatılmaya çalışılmıştır?

- A) Doğruluk ile olgusallığın birbirinden farklı olduğu
B) Gerçek ile temellendirmenin birbirinden farklı olduğu
C) Nesnellikle özneliliğin birbirinden farklı olduğu
D) Yaratıcılıkla gerçekliğin birbirinden farklı olduğu
E) Gerçeklikle doğruluğun birbirinden farklı olduğu

Sosyal Bilimler Denemeleri

Deneme 10							
1	A	11	C	21	D	31	A
2	D	12	A	22	B	32	D
3	C	13	B	23	C	33	B
4	D	14	C	24	A	34	B
5	C	15	A	25	E	35	A
6	D	16	E	26	C	36	B
7	D	17	C	27	E	37	A
8	D	18	E	28	C	38	C
9	C	19	C	29	A	39	C
10	D	20	B	30	B	40	E



1. Aşağıda verilen tarih sınıflandırmalarının hangisi daha geniş bir coğrafyada incelenir?

- A) Türkiye tarihi
B) İlkçağ Anadolu uygarlıkları tarihi
C) Avrupa tarihi
D) Türk tarihi
E) Hz. Muhammed dönemi İslam tarihi

2. İlkçağ uygarlıklarından Hint uygarlığında "Kast" sistemi adı verilen sınıflı toplum yapısı bulunmaktaydı. "Kast" sisteminde sınıflar arası geçişin yasak olması, sistemin katı anlayışının kanıtıydı.

Buna göre Hindistan'da aşağıda verilen gelişmelerden hangileri kast sisteminin bir sonucu değildir?

- A) Siyasi birliğin sağlanamaması
B) Statülerin babadan oğla geçmesi
C) Toplumsal dayanışmanın diğer uygarlıklara göre zayıf olması
D) Egemenlerin güçlerini sürdürmesi
E) Özel mülkiyete ait unsurların bulunması

3. İslamiyetin,

- I. Kan davalarını kaldırması,
II. Kabeyi kutsal kabul etmesi,
III. İçki ve kumarı yasaklaması

özelliklerinden hangilerinin İslamiyet öncesindeki yaşam tarzına devam etmek isteyen Mekkelilerin tepkisini çektiği söylenebilir?

- A) Yalnız I
B) Yalnız II
C) I ve II
D) I ve III
E) I, II ve III

4. Türkiye Selçuklularında ticaret, "Ahilik" adı verilen esnaf teşkilatları tarafından organize ediliyordu. Ahilik teşkilatı, şehirlerde oturan esnafın meslek gruplarına göre kendi aralarında kurdukları dini-iktisadi bir özellik taşıyordu.

- I. Esnafar arasında dayanışmayı sağlaması,
II. Mesleki eğitim sonucunda çırak, kalfa ve usta yetiştirmesi,
III. Üyelerine dini, ahlaki bilgiler vermeleri,
IV. Moğol istilasından sonra Anadolu'da huzur ve güvenliği sağlamaları

Buna göre ahilik teşkilatının yukarıdaki faaliyetlerinden hangileri bu teşkilatın ekonomi alanı dışında da çalıştığını gösterir?

- A) I - III
B) I - II
C) II - III
D) II - IV
E) III - IV

5. Fatih Sultan Mehmet döneminde görülen batıdaki gelişmelerden,

- I. Sırbistan üzerine sefer düzenlenmesi,
II. Eflak ve Boğdan üzerine sefer yapılması,
III. Trabzon Rum İmparatorluğu'na son verilmesi

hangileri Bizans'ı diriltme umutlarının söndürülmesi amacıyla yöneliktir?

- A) Yalnız II
B) Yalnız III
C) I ve II
D) I ve III
E) I, II ve III

6. Osmanlı Devleti'nde gelirler Hazine-i Amire adı verilen hazinede toplanırdı.

Osmanlı hazinesinin önemli gelirlerinden,

- I. Savaş tazminatları ve ganimetler,
- II. Gümrük vergileri,
- III. Halktan alınan vergiler

hangileri düzenli ve sürekli gelirler arasında gösterilemez?

- A) Yalnız I B) Yalnız III C) I ve II
D) II ve III E) I, II ve III

7. 1700 İstanbul Antlaşması'na göre: "Rusya, İstanbul'da sürekli elçi bulunduracak." maddesi kabul edildi.

Rusya'nın bu maddeyi koydurarak,

- I. İstanbul'u işgal etmek,
 - II. Osmanlı'nın içişlerine karışmak,
 - III. Osmanlı'yı İngiltere ve Fransa'ya karşı korumak
- durumlarından hangilerini amaçladığı söylenebilir?**

- A) Yalnız I B) Yalnız II C) I ve III
D) II ve III E) I, II ve III

8. İngiltere XIX. yy.ın başlarında Osmanlı Devleti'nin toprak bütünlüğünü korumaktan yana politika izlerken, yüzyılın sonlarına doğru bu politikasından vazgeçmiştir.

Aşağıdakilerden hangisi İngiltere'nin bu politika değişikliğinin nedenidir?

- A) Sömürgelerine giden en kısa yolların Osmanlı topraklarından geçmesi
- B) Sömürgelerine giden yolların güvenliğini sağlamak istemesi
- C) Osmanlı Devleti'nin hammadde ve pazar olanaklarından yararlanmak istemesi
- D) Rusya ve Fransa gibi devletlerin Osmanlı'ya hakim olmasını engellemek istemesi
- E) Osmanlı Devleti'nin Almanya'ya yaklaşması

9. Osmanlı Devleti'nde dağılma ve çökme dönemlerinde görülen,

- I. Balkan uluslarının isyan edip Osmanlı'ya karşı savaş açması,
- II. Arapların I. Dünya Savaşı'nda İngilizleri desteklemesi,
- III. Meşrutiyete karşı gerici ayaklanmaların görülmesi

gelişmelerinden hangileri hem "ümmetçilik" hem de "Osmanlılık" ın önemini yitirdiğini kanıtlar?

- A) Yalnız I B) Yalnız II C) I ve II
D) I ve III E) I, II ve III

10. Mondros Ateşkes Antlaşması'ndan sonra azınlıkların Anadolu'da cemiyetler kurmasında etkili olan

- I. Antlaşma devletleri tarafından desteklenmeleri
- II. Osmanlı'nın savunmasız durumundan faydalanmak istemeleri
- III. Anadolu'da merkezi otoritenin kaybolması

durumlarından hangileri "Wilson ilkeleri"ne ters düşmektedir?

- A) Yalnız I B) Yalnız II C) I ve II
D) I ve III E) II ve III

11. Erzurum Kongresi'nde alınan aşağıdaki kararlardan hangisi, Amasya Genelgesi'nde yer alan "Ulusun bağımsızlığını, ulusun azim ve kararı kurtaracaktır" maddesine ters düşer?

- A) Milli kuvvetleri etkili, milli iradeyi hakim kılmak esastır.
- B) Manda ve himaye kabul edilemez
- C) Mebuslar Meclisi'nin derhal toplanmasına ve hükümetin yaptığı işlerin milletçe kontrolüne çalışılacaktır.
- D) Vatan bütündür, parçalanamaz.
- E) Ulusal irade ve toplanan ulusal güçler padişahlık ve halifelik makamını kurtaracaktır.

12. I. İnönü Savaşı sonrasında toplanan Londra Konferansı'nda Türk tarafıyla ilgili ilk söz hakkı Osmanlı sadrazamı Tevfik Paşa'ya verilmiş, Tevfik Paşa da: "Söz ulusun asıl temsilcisi TBMM yetkilisine aittir." diyerek sözü Bekir Sami Bey'e bırakmıştır.

Tevfik Paşa'nın bu hareketi göz önüne alınarak,

- I. İtilaf devletlerinin Türk tarafı arasında ikilik yaratma düşüncesi bozulmuştur,
- II. TBMM'nin tek temsilci olduğu padişah tarafından kabul edilmiştir,
- III. Saltanat makamıyla TBMM arasında uzlaşma sağlanmıştır

yargılarından hangilerine ulaşılabilir?

- A) Yalnız I B) I ve II C) I ve III
D) II ve III E) I, II ve III

13. Lozan Konferansı birçok devleti ilgilendiren ve birçok uluslararası soruna çözüm getirmeyi amaçlayan bir konferanstı.

Aşağıdakilerden hangisi konferansa katılacak Türk heyetinin ısrarcı tutumuyla Avrupalı devletlere kabul ettirdiği konulardan biridir?

- A) Misakı Milli'yi gerçekleştirmek
- B) Boğazların egemenliğini ele geçirmek
- C) Türkiye ile Avrupa devletleri arasındaki sorunları çözmek
- D) Anadolu'da bağımsız bir Ermeni devleti kurulmasını engellemek
- E) Türkiye ile Yunanistan arasındaki sorunları çözmek

14. 1924 Anayasası'nın,

- I. Türkiye devletinin rejimi cumhuriyettir,
- II. Türk devletinin dini İslam, dili Türkçe, başkenti Ankara'dır,
- III. Egemenlik kayıtsız şartsız milletindir

maddelerinden hangileri ulus devlet olma amacıyla konulmuştur?

- A) Yalnız I B) Yalnız II C) I ve II
D) I ve III E) I, II ve III

15. Milliyetçilik ilkesinin temelinde bağımsızlık yatar. Atatürk'ün milliyetçilik anlayışı siyasal, ekonomik, kültürel olmak üzere her alanda bağımsız olmayı içerir.

Cumhuriyet döneminde gerçekleştirilen,

- I. Kapitülasyonların kaldırılması,
- II. Tütün idaresinin yabancılardan satın alınması,
- III. Demiryollarının millileştirilmesi

uygulamalarından hangileri ekonomik bağımsızlığı sağlamaya yöneliktir?

- A) Yalnız I B) I ve II C) I ve III
D) II ve III E) I, II ve III

16. Cumhuriyet döneminde yapılan aşağıdaki inkılaplardan hangisinin yaşanan ikilikleri ortadan kaldırma amacı taşıdığı söylenemez?

- A) Ölçü ve tartı birimlerinin değiştirilmesi
- B) Medeni Kanun'un kabulü
- C) Cemaat ve konsolosluk mahkemelerinin kaldırılması
- D) Teşviki Sanayi Kanunu'nun çıkarılması
- E) Medreselerin kapatılması

17. Sivil savunmanın öneminin II. Dünya Savaşı'ndan sonra artmasında,

- I. Silah teknolojisinin gelişmesiyle cephe gerisinin de savaştan etkilenmesi,
 - II. Orduların savaş kazanmada yetersiz kalması,
 - III. Devletler arası ekonomik rekabetin artması
- durumlarından hangileri etkili olmuştur?**

- A) Yalnız I B) I ve II C) I ve III
D) II ve III E) I, II ve III

18. Bir Türkiye fiziki haritasında kahverengi tonlarının fazla olduğu yerlerle ilgili olarak aşağıdaki-lerden hangisi söylenebilir?

- A) Akarsuların menderesler oluşturduğu
B) Yıllık sıcaklık farkının az olduğu
C) Yol yapım maliyetlerinin düşük olduğu
D) Karın yerde kalma süresinin uzun olduğu
E) Gerçek alanla iz düşümsel alan arasındaki farkın az olduğu

19. X bölgesinde, havanın bulutsuz olduğu bir 21 mart gününde düz bir araziye dikilen çubuğun gölgesi üzerinde yapılan gözlemlerden,

- o çubuğun öğle vakti oluşan gölgesinin yönü,
o çubuğun öğle vakti oluşan gölgesinin uzunluğu,
o çubuğun gölgesinin çubuğun hangi yönüne doğru düştüğü

bilgileri elde edilmiştir.

Sadece verilen bilgilerden yararlanılarak X bölgesinin,

- I. bulunduğu yarım küresi,
II. yer şekli özellikleri,
III. bulunduğu matematik iklim kuşağı,
IV. bulunduğu saat dilimi

özelliklerinden hangilerine ulaşılabilir?

- A) I ve II B) I ve III C) II ve III
D) II ve IV E) III ve IV

20. Aşağıdakilerden hangisi gelişmişliğin belirlenmesinde kullanılacak ölçütlerden biri değildir?

- A) Sanayi ürünlerinin ihracattaki payı
B) Ürünlerin ticari değeri
C) Nüfus artış hızı
D) Faal nüfus içinde hizmet sektörünün payı
E) Tarımsal ürünlerin çeşitliliği

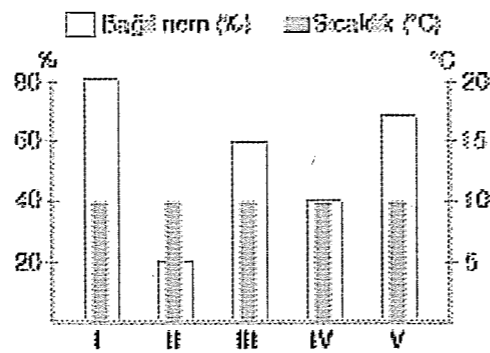
21. I. Muson iklimi

- II. Ilıman kuşak karasal iklim,
III. Ekvatorial iklim
IV. Tropikal çöl iklimi

Yukarıda verilen iklim tiplerinin hangilerindeki hava olaylarında yeryüzündeki sürekli basınç merkezlerinin diğerlerinden daha etkili olduğu söylenebilir?

- A) I ve II B) I ve III C) II ve III
D) II ve IV E) III ve IV

22. Aşağıdaki tabloda, beş farklı hava kütesinin sıcaklıkları ve bağıl nem oranları verilmiştir.



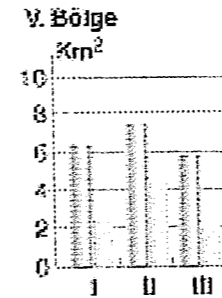
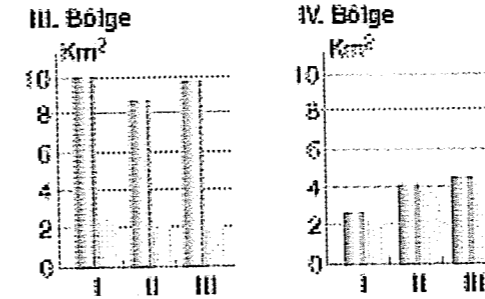
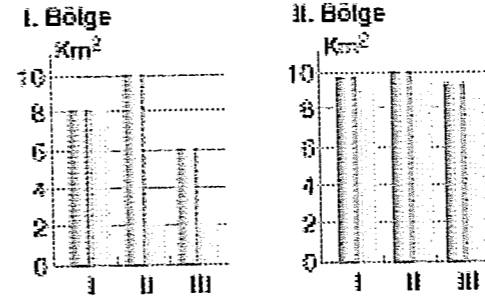
Buna göre, verilen hava kütlelerinin hangisinde mevcut su buharı miktarının diğerlerinden daha az olduğu söylenebilir?

- A) I B) II C) III D) IV E) V

23. Bir yerin iz düşüm yüz ölçümü, her yer düzlük kabul edilerek yapılan hesaplamalar sonucu elde edilir. Gerçek yüz ölçümü ise yükseklik ve çukurlar dikkate alınarak hesaplanır.

Aşağıdaki grafiklerde, üçer yöresi bulunan beş tarım bölgesinin gerçek yüz ölçümleri ile iz düşüm yüz ölçümleri gösterilmiştir.

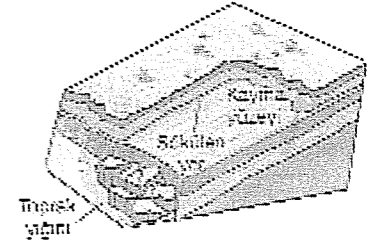
■ Gerçek yüz ölçüm ■ İz düşüm yüz ölçüm



Yukarıdaki bilgilere göre, verilen tarım bölgelerinin hangisinde diğerlerine göre makine kullanımına elverişli tarım alanlarının daha fazla olduğu söylenebilir?

- A) I. B) II. C) III. D) IV. E) V.

24. Aşağıda, bir doğal afetin şekli verilmiştir.



Bu doğal afetin aşağıdaki yörelerin hangisinde belirtilen dönemde görülme olasılığı daha fazladır?

- A) Batı Toroslar'ın kuzey yamacı → kış mevsimi
B) Hakkâri Yöresi → kış mevsimi
C) Doğu Karadeniz Dağları'nın güney yamacı → yaz mevsimi
D) Küre Dağları'nın kuzey yamacı → ilkbahar mevsimi
E) Ergene Havzası'nın güneyi → sonbahar mevsimi

25. M yöresinde kırsal, N yöresinde ise kentsel yerleşmeler yaygındır.

Bu durum, N yöresiyle ilgili aşağıdaki yargılardan hangisine ulaşmada yeterli değildir?

- A) Toplam nüfusu ve konut sayısı daha fazladır.
B) Tarım dışı ekonomik faaliyetler daha fazla gelişmiştir.
C) İş bölümü daha belirgin, tüketici nüfus daha fazladır.
D) Eğitim, sosyal ve sağlık olanakları daha çok gelişmiştir.
E) Yer şekilleri daha sade, coğrafi konumu daha elverişlidir.

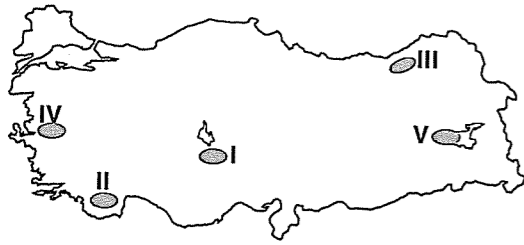
26. Aşağıdakilerden hangisi, Türkiye'nin iç kesimlerinde nüfusun yoğun olduğu alanlar arasında yer almaz?

- A) Endüstrinin yoğun olduğu alanlar
- B) Ulaşım açısından önemli kavşaklar
- C) Su kaynaklarına yakın alanlar
- D) Yaylacılık faaliyetlerine elverişli alanlar
- E) Sulama olanakları gelişmiş ovalar

27. Aşağıdakilerden hangisinin çevre sorunlarına neden olması beklenmez?

- A) Sığ tropikal deniz tabanlarındaki mercan alanlarının genişlemesinin
- B) Atmosferde radyoaktif minerallerin artmasının
- C) Tarımda kimyasal gübre kullanılmasının
- D) Ormanlık alanların büyük bir hızla yok olmasının
- E) Bilinçsiz ve yasak avlanma yapılmasının

28.



Yukarıdaki haritada numaralanmış yörelerle ilgili aşağıdaki yargılardan hangisi yanlıştır?

- A) I. yöredeki akarsular, kapalı havza içinde bulunur.
- B) II. yörede, karstik şekiller yaygındır.
- C) III. yörede, kalkan volkan şekli bulunur.
- D) IV. yöredeki akarsu, bir graben içine yerleşmiştir.
- E) V. yörede, krater ve kaldera gibi yer şekilleri bulunur.

29. Yer kabuğu ile çekirdek arasındaki katmana Manto denir. Mantonun yer kabuğuna yakın kısımları daha akışkandır. Buraya astenosfer denir.

Buna göre, aşağıdakilerden hangisinin oluşumu astenosferdeki yatay ve dikey doğrultudaki ısı akımlarıyla açıklanamaz?

- A) Yeni kıtaların
- B) Sıra dağların
- C) Çöküntü depremlerin
- D) Volkanik dağların
- E) Yeni okyanusların

30. Aşağıdakilerin hangisi, Türkiye'de yükseltinin fazla olmasının sonuçlarından biri değildir?

- A) Buzul göllerinin bulunması
- B) Yaylacılığın gelişmiş olması
- C) Kıyı kesiminde nüfus yoğunluğunun fazla olması
- D) Zeytin ve turunçgil tarımının yapılabilmesi
- E) Akarsu enerji potansiyellerinin fazla olması

31. Yaz ve sonbahar mevsimlerinde kuraklık isteyen bir kültür bitkisinin,

- I. Ankara,
- II. Ardahan,
- III. Rize,
- IV. Şanlıurfa

yörelerinin hangilerinde doğal koşullarda yetişmesi kolaydır?

- A) I ve II
- B) I ve IV
- C) II ve III
- D) II ve IV
- E) III ve IV

32. Sokrates'e göre felsefe, sorularımıza cevap vermekle sorumlu değildir; o daha çok, cevaplarımızı sorgulamakla sorumludur.

Bu açıklamaya uygun felsefe tanımı aşağıdakilerden hangisidir?

- A) Bilgi üzerine bilgidir.
- B) Olguların araştırılmasıdır.
- C) İlk nedenlerin bilinmesidir.
- D) Evreni bir bütün olarak kavrama etkinliğidir.
- E) Bilgilerin kesinliğini kanıtlamaktır.

33. Düşünceye, genel, doğal hareketin özel bir biçimi gözıyla bakılabilir ve böyle de bakılmalıdır. Nasıl kasılma hareketi kaslarda bulunan maddenin, işiğin hareketi evrensel eterin bir özelliği ise bu hareket de merkezi sinir sisteminde bulunan maddenin bir özelliğidir. Zihin, ruh, düşünce, duyarlılık, irade, hayat sözcükleri bağımsız varlıklar veya gerçek şeylere işaret etmezler. Onlar sadece canlı varlığın özellikleri, yetenekleri ve eylemlerini veya varlığın maddi biçiminden ileri gelen şeylerin sonuçlarını ifade ederler.

Bu düşünceyle aşağıdaki yargılardan hangisi savunulamaz?

- A) Dünyadaki iklim ve yer kabuğu hareketlerindeki değişimin nedeni Dünya'nın manyetik alanındaki değişimlerdir.
- B) Sanayileşme ve bireylerin alım gücündeki artış, yalnız ve bencil bir yaşam biçiminin doğmasına neden olmuştur.
- C) Bir toplumda akla ve insan onuruna aykırı töre ve geleneklerin yok edilmesi, toplumun eğitim ve gelir seviyesinin yükseltilmesiyle mümkündür.
- D) Bir toplumun bilim, sanat, ekonomi ve teknolojideki gelişmişlik düzeyi inandığı kutsal değerlerin bir sonucudur.
- E) Bir toplumda eğitim, ekonomi ve teknoloji değişirse o toplumun ahlaki değerleri de değişir.

34. I. İnsan zihninde duyularda var olmamış olan hiçbir şey yoktur.
II. İnsan hiçbir şey öğrenmez, sadece bildiklerini hatırlar.

Yukarıdaki iki düşünce bilgi felsefesinde hangi adlarla temsil edilir?

I	II
A) Empirizm	Rasyonalizm
B) Pozitivizm	Kritisizm
C) Entüzyonizm	Septisizm
D) Rasyonalizm	Pozitivizm
E) İdealizm	Realizm

35. İki odası, iki yatağı, iki ekmeği olan bir kimse, bir tek odası, bir tek yatağı, bir tek ekmeği olandan iki kat daha mutludur.

Bu düşünce aşağıdaki yargılardan hangisinin doğruluğunu destekler?

- A) Mutluluk, insanın özgürlüğüyle orantılıdır.
- B) Mutluluk, insanın geliriyle orantılıdır.
- C) Mutluluk, insanın sağlığıyla orantılıdır.
- D) Mutluluk, insanın inancıyla orantılıdır.
- E) Mutluluk, insanın bilgili olmasıyla orantılıdır.

36. Bütün sanatçılar her zaman doğadan esinlenmek gerektiğini tekrar etmişlerdir. Ruskin bu konuyla ilgili şöyle demiştir: "Mimarın dağlara gönderin; orada doğanın bir kemerden, bir kubbeden ne anladığını öğrensin."

Bu açıklamayla aşağıdaki düşüncelerden hangisi aynı anlamdadır?

- A) Sanatsal güzellik sanatçının yarattığı bir değerdir.
- B) Doğal güzellikle sanatsal güzellik birbirinden farklıdır.
- C) Sanattaki güzelin kaynağı doğadır.
- D) Güzellik, sanatçının doğayı nasıl algıladığıyla ilgilidir.
- E) Sanatta ortak estetik yargılar yoktur.

37. Aşağıdakilerden hangisi anarşizmin savunduğu düşüncelerden birisi değildir?

- A) Devlet en büyük kötülük, birey en yüce değerdir.
B) Her itaat insanın hakkından vazgeçmesi, kişiliğin ortadan kaldırılmasıdır.
C) Başkalarının haksız tecavüzlerine karşı her insanın özgürlüğünü korumak için bir otoriteye ihtiyacı vardır.
D) Devlet, özgürlüğün mezarlığıdır.
E) Devlet, bireylerin özgürlüğünü yok eden soyut bir canavardır.

38. Bir bilimsel yasa başka bir bilimsel yasayla çürütülebilir. Yine bir bilimsel kuramın yerini başka bir bilimsel kuram alabilir. Bilim tarihi bunun sayısız örnekleriyle doludur.

Bilimle ilgili bu açıklama bilimde hangi özelliğin bulunduğu örnek olarak gösterilmelidir?

- A) Kesinlik
B) Öngörüsellik
C) Yaratıcılık
D) Olgusalılık
E) Eleştirelilik

39. Bilgi diye düşündüğümüz şeylerin çoğu öznel halimizle değil, varlıkların nesnel dünyadaki, uzay ve zamanda var olan fiziksel nesnelerin dünyasındaki, varlık tarzlarıyla ilgilidir. Her zaman kendisinden söz ettiğimiz, doğa ve toplum bilimleri tarafından incelenen bu dünyadır.

Bu açıklamaya göre aşağıdaki konulardan hangisi doğa ve toplum bilimlerinin konusu olmaz?


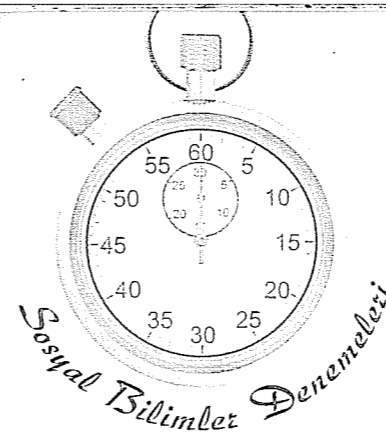
- A) İstanbul'un fethi
B) Dünya dışında başka gezegenlerde yaşamın olup olmadığı
C) Platon'un "idealar" dünyası
D) Thales'in evrenin ana maddesi olarak belirlediği "su"
E) Küresel ısınma

40. Doğruluk, düşünceyle nesne arasındaki tam uygunluktur. Eğer bir nesne hakkındaki oluşturduğumuz bir görüş, nesnenin kendisine uyuyorsa doğru; ona uymuyorsa yanlıştır. Bir benzetmeyle örneklendirsek; zihni aynaya, zihnin konusu olan nesnelere de aynanın dışında ve önünde olan varlıklar olarak düşünelim. Ayna bu nesnelere olduğu gibi yansıtıyorsa bu yansımaya doğru deriz.

Aşağıdakilerden hangisi bu açıklamadaki doğruluğa örnek olarak verilemez?

- A) Kar beyazdır.
B) Kedi dört ayaklıdır.
C) $2+2=4$ 'tür
D) Top yuvarlaktır.
E) Buz soğuktur

Deneme 11							
1	D	11	E	21	E	31	B
2	E	12	A	22	B	32	A
3	D	13	D	23	B	33	D
4	E	14	E	24	D	34	A
5	B	15	E	25	E	35	B
6	A	16	D	26	D	36	C
7	B	17	A	27	A	37	C
8	C	18	D	28	C	38	E
9	B	19	B	29	C	39	C
10	A	20	E	30	D	40	C



1. Romalıların bulduğu Miladi takvimin başlangıcı Hz. İsa'nın doğumudur. Hz. İsa'nın doğumundan önceki bölüm geriye doğru tarihlendirilmiştir.

Bu bilgilere göre;

- I. Hz. İsa'nın doğumundan önceki tarihler günümüzden uzaklaştıkça sayısal değer olarak küçülmektedir.
II. Hz. İsa'nın doğumundan sonraki dönemde sayılar küçüldükçe günümüzden uzaklaşırlar.
III. Hz. İsa'nın doğumundan günümüze yaklaştıkça sayılar büyümektedir.

yargılarından hangilerine ulaşılabilir?

- A) Yalnız I
B) Yalnız II
C) I ve II
D) II ve III
E) I, II ve III

2. Orta Asya Türk devletlerinde, diğer toplumlarda görülen sınıflı yapının ve tabakalaşmanın görülmemesinin nedeni aşağıdakilerden hangisinin de nedenidir?

- A) Kurulan devletlerin kısa ömürlü olmasının
B) Gök tanrı anlayışının görülmesinin
C) Verilen hapis cezalarının kısa süreli olmasının
D) Ahiret inancına sahip olmalarının
E) Ataerki yapıya sahip olmalarının

3. Türk-İslam devletlerinde görülen,

- I. Şeri ve örfi hukuka dayalı ikili hukuk sisteminin bulunması,
II. Kadıların atamalarının kazasker tarafından yapılması,
III. Yerel yöneticilerin kadıların kararına karışmaması

özelliklerinden hangileri yargı bağımsızlığını sağlama amacına yöneliktir?

- A) Yalnız II
B) Yalnız III
C) II ve III
D) I ve III
E) I, II ve III

4. Türkiye Selçuklularının,

- I. Ekonomik durumlarının iyiye gitmesi
II. Hükümdarların medrese inşasına önem vermeleri,
III. İslam dünyasındaki birçok bilgin, edebiyatçı ve mutasavvıfı Anadolu'ya davet etmeleri

özelliklerinden hangileri Anadolu'da bilim ve sanatın gelişmesini sağlamıştır?

- A) Yalnız I
B) Yalnız III
C) I ve II
D) I ve III
E) I, II ve III

5. Orhan Bey dönemi, yapılan teşkilatlanma çalışmalarından dolayı beylikten devlete geçiş dönemi olarak adlandırılır.

Orhan Bey dönemine ait aşağıdaki gelişmelerden hangisi bu yargıya örnek gösterilemez?

- A) Bursa'nın fethinin tamamlanması
B) Yaya ve müselleme ordularının kurulması
C) İlk gümüş akçenin bastırılması
D) Divan teşkilatının kurulması
E) İlk Osmanlı medresesinin açılması

6. Ortaçağ Avrupa'sında görülen aşağıdaki gelişmelerden hangileri o döneme damgasını vuran "skolastik düşünce"yle gelişir?

- A) Okuma-yazmanın Ruhban sınıfına ait bir imtiyaz gibi olması
B) Bilimsel hayatın durgunlaşması
C) Avrupa'nın bazı üniversitelerinde Farabi ve İbni Sina'nın kitaplarının okutulması
D) Dinsel esasların değişmez kabul edilmesi
E) Deney, gözlem ve araştırma yapmanın yasak olması

7. I. Çiftresmi: Köylüden işlediği toprağın büyüklüğüne göre alınan vergi

- II. Avarız: Olağanüstü durumlarda alınan vergi
III. Çiftbozan: Kendisine verilen toprağı sebepsiz olarak ekmeden kişilerden alınan vergi
IV. Ağnam: Küçükbaş hayvan sahiplerinden alınan vergi
V. İспенç: Gayrimüslim çiftlik sahiplerinden alınan ergi

Osmanlı Devleti'ne ait yukarıdaki vergilerden hangisi Osmanlı'da üretimde sürekliliği sağlamaya yöneliktir?

- A) I B) II C) III D) IV E) V

8. XVII. yy.da savaşlardaki başarısızlıklar, iç isyanların çıkması, maliyenin bozulması gibi gelişmeler Osmanlı Devleti'ni ıslahatlar yapmaya zorlamıştı; fakat yapılan ıslahatlar sorunların çözümünde başarılı olamamıştır.

Aşağıdakilerden hangisi bu ıslahatların özelliklerinden değildir?

- A) Geçmişe özlem niteliğinde olması
B) Köklü ve istikrarlı olmaması
C) Avrupa'nın örnek alınmaması
D) Rejim değişikliği arayışlarında olunması
E) Baskı ve şiddete dayalı olması

9. XIX. yy.da büyük devletlerin Osmanlı politikası,

İngiltere: Başlangıçta Osmanlı'nın toprak bütünlüğünden yanayken, sonra parçalama politikasında.

Fransa: Mısır'ı işgal etmiş, Osmanlı'yı parçalama politikalarına katılmış.

Rusya: İstanbul ve boğazları ele geçirerek sıcak denizlere inmeyi amaçlamış.

Almanya: İngiltere'nin sömürgelerine giden yolları ele geçirmek için Osmanlı'ya yakınlaştı.

Bu tabloya bakılarak aşağıdakilerden hangisine ulaşılamaz?

- A) Osmanlı Devleti, çoğu Avrupalı devletlerin hedefi konumundadır.
B) İngiltere, dönem içinde politika değiştirmiştir.
C) Rusya, Osmanlı Devleti'nin stratejik bölgelerini işgal etmek istemektedir.
D) Fransa, Osmanlı'nın Afrika'daki topraklarını hedef almıştır.
E) Avrupa devletlerinin tamamı Osmanlı'yı parçalama konusunda anlaşmıştır.

10. I. Fransız İhtilaliyle yayılan milliyetçilik akımının imparatorluğu sarsması,

II. Batıdan geri kalındığının kabul edilmesi,

III. Müslümanların çoğunlukta olduğu topraklarda bağımsızlık hareketlerinin görülmesi

Yukarıdaki gelişmelere karşı Osmanlı devletinin yürüttüğü politikalar aşağıdakilerin hangisinde doğru olarak verilmiştir?

	I	II	III
A) Batıcılık	Osmanlıcılık	Ümmetçilik	Ümmetçilik
B) Osmanlıcılık	Ümmetçilik	Batıcılık	Batıcılık
C) Batıcılık	Ümmetçilik	Osmanlıcılık	Osmanlıcılık
D) Osmanlıcılık	Batıcılık	Ümmetçilik	Ümmetçilik
E) Ümmetçilik	Osmanlıcılık	Batıcılık	Batıcılık

11. XX. yy.da Osmanlı'nın toprak bütünlüğünü korumaktan vazgeçen İngiltere, I. Dünya Savaşı başlamadan önce Osmanlı'nın tarafsız kalmasını istemiş, kapitülasyonlardan vazgeçebileceği gibi ekonomik teklifleri Osmanlı'ya sunmuştur.

İngiltere'nin bu politika değişikliğinin nedeni aşağıdakilerden hangisi olabilir?

- A) Osmanlı Devleti'nin askeri gücünden çekinmesi
B) Osmanlı topraklarını sömürgeleştirmek istemesi
C) Osmanlı'nın Almanya'yla ittifak kurmasını engellemek istemesi
D) Osmanlı'nın nüfus gücünden faydalanmak istemesi
E) Osmanlı Devleti'yle ittifak kurmak istemesi

12. Ulusal cemiyetlerin aşağıdaki özelliklerinden hangisi bu cemiyetlerin olumsuz bir özelliği olarak düşünülebilir?

- A) Basın yayın yoluyla dünya kamuoyuna seslenmeye çalışmaları
B) İşgal güçleri ve İstanbul hükümetiyle mücadele etmeleri
C) Kuruluşlarında milliyetçilik duygusunun hakim olması
D) Başlangıçta bölgesel kurtuluşu amaçlamaları
E) İşgallere karşı halkı bilinçlendirmeye çalışmaları

13. Kurtuluş Savaşı örgütlenme sürecinde gerçekleşen,

I. Erzurum Kongresi'nde "Hıristiyan vatandaşların canları, malları her türlü saldırıdan korunacaktır." kararının alınması,

II. Balıkesir Kongresi'nde padişaha bağlılık ilan edilmesi,

III. Sivas Kongresi'nde mandacılık düşüncesinin dile getirilmesi

durumlardan hangileri "ulusal bağımsızlık" veya "ulusal egemenlik" anlayışının tam olarak benimsenmediğin gösterir?

- A) Yalnız I B) Yalnız II C) I ve III
D) II ve III E) I, II ve III

14. I. TBMM'nin özellikleriyle ilgili aşağıdaki yorumlardan hangisi yanlıştır?

- A) "Türkiye Büyük Millet Meclisi" adını kullanması milliyetçi düşünceler taşıdığını ortaya koyar.
B) Yasama ve yürütme yetkilerini kendinde toplaması meclis üstünlüğünün kanıtıdır.
C) Azınlıklar seçime katılmadığından ulusal bir nitelik taşır.
D) Farklı görüşte kişilerin bulunması milli birliği zedelemiştir.
E) Milletlin iradesiyle seçilen vekillerden oluşması "milli egemenlik" ilkesinin varlığını kanıtlar.

15. 16 Mart 1921'de imzalanan Moskova Antlaşması'nın aşağıdaki maddelerinden hangisi Sevri Antlaşması'nın Sovyet Rusya tarafından tanınmayacağını kanıtlar?

- A) Osmanlı Devleti ile Çarlık Rusya'sı arasındaki antlaşmalar geçersiz sayılacak.
B) İki devlet arasında iktisadi, siyasi antlaşmalar yapılacak.
C) Boğazlarla ilgili Karadeniz'e kıyısı olan devletlerin katılacağı bir konferans düzenlenecek.
D) İki taraftan birinin tanımadığı devletlerarası bir senedi diğeri de tanımayacaktır.
E) Sovyet - Rusya kapitülasyonların kaldırıldığını kabul edecek.

16. Halkçılık; yönetimde, siyasette, gelir dağılımında, devlet ve ulus olanaklarının kullanılmasında halk yararının gözetilmesini amaçlar. Halkçılığa göre devlet karşısında bütün vatandaşlar aynı hak ve ödevlere sahiptir.

Bu tanıma göre halkçılık, aşağıdaki ilkelerden hangilerinin doğal sonucudur?

- A) Cumhuriyetçilik - Laiklik
B) Cumhuriyetçilik - Milliyetçilik
C) Milliyetçilik - Laiklik
D) Devletçilik - Milliyetçilik
E) Devletçilik - Cumhuriyetçilik

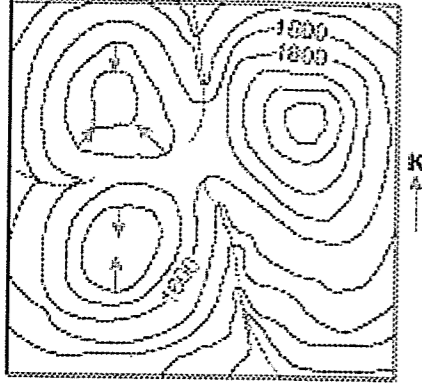
17. 1946 yılında seçim kanununda yapılan değişiklikle iki dereceli seçim sisteminden tek dereceli seçim sistemine geçilmiştir.

Bu uygulamayla,

- I. Halkın vekillerini doğrudan seçmesinin sağlanması,
 - II. TBMM'nin demokratik niteliğinin artırılması,
 - III. Ulus egemenliğinin pekiştirilmesi
- durumlarından hangileri amaçlanmıştır?

- A) Yalnız I B) Yalnız III C) I ve II
D) I ve III E) I, II ve III

18. Aşağıda bir yöreye ait topoğrafya haritası verilmiştir.



Bu yöreyle ilgili,

- o Yörede iki tane çanak bulunmaktadır.
- o Boyun bölgesinin yükseltisi 1600 metreden fazladır.
- o Mevsimlik akarsular menderes çizerek akar.
- o Doruk noktası, 2400-2600 metreler arasında yer alır.
- o Çanakların başladığı yerlerin yükseltisi birbirinin aynıdır.
- o Akış yönü kuzeyden güneye doğru olan mevsimlik akarsuyun yatağı diğerlerine göre daha dik yamaçlıdır.
- o Yörenin en alçak yerinin yükselti değeri 800 metrenin altındadır.

yargılarından kaç tanesi doğrudur?

- A) 1 B) 2 C) 3 D) 4 E) 5

19. Yılın bir döneminde, Türkiye'de ulusal saatin 12:00 olduğu anlarda İzmit'te gün içinde gölge boyu en kısa oluyor.

Buna göre, Türkiye'de söz konusu dönemde, aşağıdakilerden hangisinin yaşandığı söylenebilir?

- A) En yüksek sıcaklıkların
- B) En uzun gece süresinin
- C) Gündüz süresinin uzamaya başladığı günün
- D) Güneş ışınlarının yıl içinde en küçük açılarla geldiği günün
- E) Gece ve gündüz süresinin eşit olduğu günün



Yukarıdaki haritada numaralanmış yörelerin aynı ölçekte çizilmiş fiziki haritaları incelendiğinde, hangisinde diğerlerine göre daha fazla renk kullanıldığı gözlenir?

- A) I B) II C) III D) IV E) V

21. Aşağıda, birbirini etkileyen olaylar sırasıyla verilmiştir.

- I. Yer, eksen çevresinde hareket eder.
- II. Güneş ışınlarının geliş açısı gün boyunca değişir.
- III. Günlük sıcaklık farkları oluşur.
- IV. Cismin gölge boyu gün içinde uzayıp kısalır.
- V. Kayaçlarda mekanik ufalanma oluşur.

Buna göre, kaç numaralı olayın bu sıralamada yeri yoktur?

- A) I B) II C) III D) IV E) V

22. Dış satımda ham maddenin, dış alımda sanayi ürünlerinin payı yüksek olan bir ülkede,

- I. doğurganlık oranı,
- II. yaşam standardı,
- III. okuma-yazma düzeyi,
- IV. kırsal nüfus oranı

özelliklerinden hangileri daha azdır?

- A) I ve II B) I ve III C) II ve III
D) II ve IV E) III ve IV

23. İçinde yaşadığımız atmosfer katmanı Troposfer'dir. Bulut, sis, yağmur, kar gibi her türlü hava olayları atmosferin sadece bu katmanında meydana gelir.

Bu durum, Troposferin aşağıdaki özelliklerinden hangisinin bir sonucudur?

- A) Üst sınırını sıcaklık şartlarının belirlemesi
- B) Kalınlığının Ekvator'da kutuplara göre daha fazla olması
- C) Daha çok yerden yansıyan ışınlarla alttan ısınması
- D) Atmosferdeki gazların % 75'inin ve su buharının tamamının bu katmanda bulunması
- E) Yükseldikçe sıcaklığın her 200 m'de ortalama 1 °C azalması

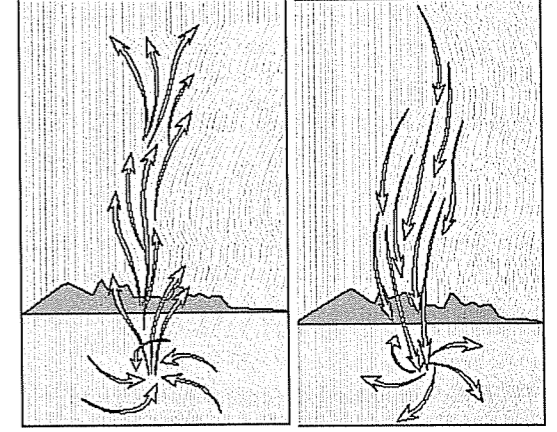
24. Doğu Karadeniz kıyılarında yıllık toplam yağış miktarı Orta Karadeniz kıyılarına göre daha fazladır.

Bu durum, Doğu Karadeniz kıyılarının,

- I. şelf alanının daha dar olması,
 - II. yükseltisi fazla olan dağların kıyının hemen gerisinde başlaması,
 - III. dağların uzanışının egemen rüzgâr yönüne dik olması,
 - IV. kıyılarında girinti ve çıkıntının daha az olması
- özelliklerinden hangilerine bağlıdır?

- A) I ve II B) I ve III C) II ve III
D) II ve IV E) III ve IV

25. Aşağıda, iki farklı sürekli basınç merkezindeki yatay ve dikey yönlü hava hareketleri verilmiştir.



Buna göre, verilen sürekli basınç merkezlerinin,

- I. bulutluluk oranı,
- II. bulunduğu yarım küre,
- III. ortalama basınç değeri,
- IV. Ekvator'a olan uzaklık

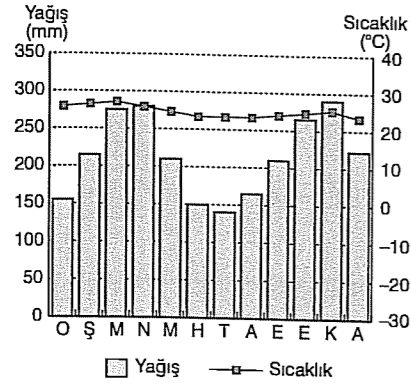
özelliklerinden hangileri bakımından benzer olduğu söylenebilir?

- A) Yalnız II B) Yalnız IV C) I ve II
D) I ve III E) III ve IV

26. Aşağıdaki ülkelerin hangisindeki şiddetli depremlerin oluşumu Alp-Himalaya deprem kuşağındaki enerji yoğunlaşmasıyla açıklanamaz?

- A) İran B) Filipinler C) Afganistan
D) İtalya E) Kırgızistan

27. Aşağıda, bir yörenin iklim grafiği verilmiştir.



Verilen bilgiler göz önüne alındığında, söz konusu yöreye ilgili aşağıdaki yargılardan hangisine ulaşamaz?

- A) Yeryüzünün seyrek nüfuslu alanlarından biridir.
- B) Güneş ışınlarının dik geldiği dönemlerde yağış miktarı artar.
- C) Bitki türlerinde yoğunluk ve çeşitlilik oldukça fazladır.
- D) Kayaçlarında kimyasal çözünme hızı düşük, toprak oluşumu yavaştır.
- E) Akarsuların yıllık akım miktarı, havzalarına düşen yıllık yağış miktarına yakındır.

28. Çiftlik, mahalle, mezra ve divan kalıcı; yayla, ağıl, kom, dam ve oba geçici köy altı yerleşim birimleridir.

Buna göre, bir yerleşme yerinin kalıcı ya da geçici olması aşağıdakilerden hangisine bağlıdır?

- A) Ekonomik faaliyetlerin niteliğine
- B) Ulaşım olanaklarına
- C) Nüfus artış hızına
- D) Gelir kaynaklarının çeşitliliğine
- E) Yerel üretimin gereksinimleri karşılama düzeyine

29. Aşağıdakilerden hangisinin, Türkiye'de iç göç hareketlerine neden olduğu söylenemez?

- A) Eğitim ve sağlık hizmetlerinin kırsal yörelerde yetersiz olması
- B) Tarım topraklarının miras yoluyla parçalanması
- C) Tarımı yapılan ürünlerin çeşitlenmesi
- D) Kırsal kesimde iş olanaklarının çok kısıtlı olması
- E) Geleneksel tarım yöntemlerinin terk edilerek makineli tarımın yoğunlaşması

30. Doğa, canlı ve cansız varlıklarıyla bütünlük taşır ve doğada her şey birbirine bağlıdır. Canlılar arasındaki beslenme ilişkisinin bir zincirin halkaları şeklinde gösterilmesi, doğadaki canlıların birbirine bağımlılığını vurgular. Doğa bir denge içindedir ve insan bilerek veya bilmeyerek bu canlı zincirin bir halkasını yok ettiği zaman, bu dengeyi bozmuş, zincirin öteki halkalarını da etkilemiş olur.

Buna göre, aşağıdakilerden hangisi beslenme halkasını olumsuz yönde etkileyen beşerî faaliyetlerden biri değildir?

- A) Sulak alanların kurutulması
- B) Ormanların büyük bir hızla yok olması
- C) Mera, orman ve tarım alanlarının ıslah edilmesi
- D) Bir çok hayvan türünün bilinçsiz avlanması
- E) Kentlerin hızlı ve plansız büyümesi

31.



Yukarıdaki haritada numaralanmış yörelerden hangisinin levha sınırlarına diğerlerine göre daha uzak olduğu söylenebilir?

- A) I
- B) II
- C) III
- D) IV
- E) V

32. Ben kimim ya da neyim?

Bazı şeylerin iyi ve doğru olduğu apaçık mıdır? Yoksa değerler zamandan zamana değişir mi?

Bir kişi gerçeği bulma yolunda en iyi nasıl ilerleyebilir?

Yaşamın kesin bir anlamı var mıdır?

Felsefenin cevap aradığı yukarıdaki sorulara bakarak "Felsefenin konusu nedir?" sorusuna hangi cevabı vermeliyiz?

- A) Doğadır.
- B) Bilimdir.
- C) Var olan her şeydir.
- D) Toplumsal olaylardır.
- E) Olguların nedenleridir.

33. Bahçede bir ağaç algıladığımda herhangi bir şeyi tasdik etmeme ihtiyaç var mıdır? Bu durumda çoğu zaman orada bir ağaç olduğuna ilişkin şüpheli bir çıkarsama yapmam. Ağaç, benim gördüğüm, duyduğum, kokladığım veya dokunduğum şeydir ve bunun kendisi onun gerçekliğini kanıtlamak için yeterlidir.

Bu örneği, aşağıdaki sorulardan hangisini cevaplarırken vermeliyiz?

- A) Doğru bilgi var mıdır?
- B) İnsan aklının sınırları nelerdir?
- C) Doğru kişiden kişiye değişir mi?
- D) Bilginin kaynağı nedir?
- E) Nasıl yaşamalıyız?

34. "Her zaman kendinde ve başkalarında insanlığı basit bir araç gibi değil bir amaç gibi görecektir biçimde davran."

Aşağıdakilerden hangisi Kant'ın bu düşünceyle aynı anlamdadır?

- A) Davranışların toplumsal ortama uygun olmalıdır.
- B) Davranışların nedenlerinden çok sonuçları önemlidir.
- C) Davranışlar iyi niyetten kaynaklanmalıdır.
- D) Davranışların amacı fayda sağlamak olmalıdır.
- E) Davranışların amacı mutlu olmak olmalıdır.

35. Her şey değişir; her şey sürekli bir akış içindedir; her şey akar; bir nehre iki kez giremezsiniz; çünkü ikinci seferde ne o nehir aynı nehirdir, ne de siz aynı sizsiniz. Değişenin altında değişmeyen hiçbir şey yoktur. Değişmeyen tek şey değişimin kendisidir.

Herakleitos'un bu varlık görüşü aşağıdaki olaylardan hangisini açıklayamaz?

- A) Bilimdeki sürekli gelişme ve değişimin varlığını
- B) Ölüm ve doğumun doğanın bir dönüşümü olduğunu
- C) Dünyanın milyarlarca yıldır Güneş'in çevresinde aynı hızda ve aynı yörüngede döndüğünü
- D) Geçmişte Dünya'nın dönmediği fikri doğruyken bugün bu düşüncenin yanlış olduğunu
- E) Geçmişte doğru olarak kabul edilen bir çok önermenin bugün yanlış olduğunun anlaşılmasını

36. "Hiçbir yılan, hiçbir iğrenç canavar yoktur ki, sanat tarafından taklit edilince gözlere hoş görünmesin."

Boileau, bu düşüncesiyle aşağıdaki sanat yaklaşımlarından hangisine karşı çıkmaktadır?

- A) Sanat gerçeğin yeniden yorumlanmasıdır.
- B) Sanat sanatçının yarattığı ikinci bir doğadır.
- C) Sanatın sınırları gerçeğin sınırlarını aşar.
- D) Sanatsal güzellik doğal güzele bağlıdır.
- E) Sanatsal güzellik sanatçının kurduğu hayale bağlıdır.

37. Bazı filozoflar iktidarın kullanılmasını haklı gösteren gerekçeleri incelemişler ve iktidarın insanlar arasında dağıtılmasında alınan ölçütleri bulmaya çalışmışlardır.

Filozofların bu konuyla ilgili çalışmaları felsefenin hangi disipliniyle ilgilidir?

- A) Ahlak felsefesi (Etik)
B) Varlık felsefesi (Ontoloji)
C) Bilgi felsefesi (Epistemoloji)
D) Siyaset felsefesi
E) Sanat felsefesi (Estetik)

38. Bir bilimsel yasa başka bir bilimsel yasayla çürütülebilir. Yine bir bilimsel kuramın yerini başka bir bilimsel kuram alabilir. Bilim tarihi bunun sayısız örnekleriyle doludur.

Bilimle ilgili bu açıklama bilimde hangi özelliğin bulunduğu örnek olarak gösterilmelidir?

- A) Kesinlik
B) Öngörüsellik
C) Yaratıcılık
D) Olgusalılık
E) Eleştirelilik

39. Bilimin kendi içinde iyi, kötü diye bir karar yoktur. Örneğin, atom bombası yapmak istiyorsanız, bilim size nasıl yapılacağını gösterir. Ancak bu bombayı yapıp yapmamanız gerektiğini söylemez. Bilimle ne yaptığınız nasıl bir dünyada yaşamak istediğinize bağlıdır.

Bu parçanın konusu aşağıdakilerden hangisidir?


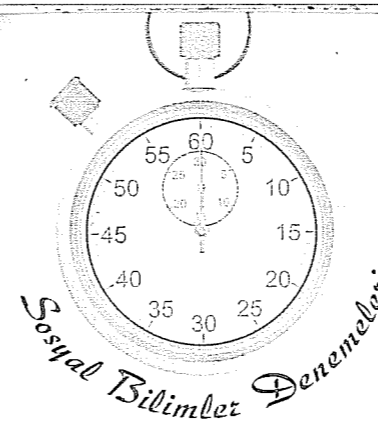
- A) Bilimin yöntemi
B) Bilimin kesinliği
C) Bilimin değeri
D) Bilimin evrenselliği
E) Bilimin yaratıcılığı

40. Duyularımızla kavradığımız evren sürekli bir değişim içindedir. Bundan dolayı da sürekli değişen kalıcı, herkese göre aynı olan doğru bilgisi de olmaz. Sürekli değişen bu evrene karşılık hiç değişmeyen, hep aynı kalan bir evren vardır. Bu evren duyuşsal değil akıldadır. Bundan dolayı bu evrenin bilinmesi de akıl yoluyla olabilir ancak. Doğru bilgi de akıl yoluyla elde ettiğimiz bu hiç değişmeyen evrenin bilgisidir.

Bilgi felsefesini bu şekilde dile getiren düşünceye ne ad verilir?

- A) Pozitivizm
B) Fenomenoloji
C) Rasyonalizm
D) Empirizm
E) Kritisizm

Deneme 12							
1	D	11	C	21	D	31	B
2	C	12	D	22	C	32	C
3	B	13	D	23	D	33	D
4	E	14	D	24	C	34	C
5	A	15	D	25	A	35	C
6	C	16	B	26	B	36	D
7	C	17	E	27	D	37	D
8	D	18	D	28	A	38	E
9	E	19	A	29	C	39	C
10	D	20	D	30	C	40	C



1. Anadolu'da yapılan tarihi araştırmalarda aynı bölgede farklı toplumların izlerine rastlanır.

Anadolu'nun,

- I. Göç yolları üzerinde olması,
II. Önemli ticaret yollarına sahip olması,
III. Dinsel inanışların farklılık göstermesi

özelliklerinden hangileri bu durumun nedenidir?

- A) Yalnız I B) Yalnız III C) I ve III
D) I ve II E) I, II ve III

2. İlkçağ uygarlıklarında görülen,

- I. Babil kralı Hammurabi'nin kısasa kısas uygulamaları,
II. Mısır uygarlığındaki Tanrı kral anlayışı,
III. İbranilerdeki "Musevi olunmaz; doğudur" inancı

durumlarından hangileri bu uygarlıkların teokratik nitelik taşıdığına örnektir?

- A) Yalnız II B) Yalnız III C) I ve III
D) II ve III E) I, II ve III

3. Emevilerin,

- I. Arapçayı resmi dil ilan etmeleri,
II. Mevali politikasını yürütmeleri,
III. İlk defa İslam parası basmaları

özelliklerinden hangileri Emevilerin ulusçu karakterine örnek olur?

- A) Yalnız I B) Yalnız III C) I ve II
D) I ve III E) I, II ve III

4. Aşağıdakilerden hangisi Türklerin İslam dünyasına sağladığı katkılar arasında gösterilemez?

- A) Tuğrul Bey'in Abbasi Halifesi'ni koruması altına alması
B) Gazneli Mahmut'un Hindistan'a sefer yapması
C) Eyyubilerin Kudüs'ü Haçlılardan geri alması
D) Anadolu Selçuklularının Haçlılarla savaşması
E) Yavuz Sultan Selim'in Memlûklere son verip Mekke ve Medine'yi alması

5. Ankara Savaşı sonrası "Anadolu'da Türk birliği bozulmuştur" yargısına,

- I. Karamanoğulları, Germiyanogulları gibi beyliklerin yeniden kurulması,
II. Timur'un bir süre Anadolu'ya hakim olması,
III. İstanbul'un fethinin gecikmesi

durumlarından hangileri doğrudan kanıt olarak gösterilebilir?

- A) Yalnız I B) Yalnız II C) I ve II
D) II ve III E) I, II ve III

6. Avrupa'da Yeniçağ'da görülen en önemli gelişmelerden biri de "Coğrafi Keşifler"dir.

Bu keşiflerin aşağıda verilen nedenlerinden hangisi haçlı seferlerinin sonucudur?

- A) İpek ve Baharat yolunun Müslümanların kontrolünde olması
B) Pusulanın öğrenilmesi
C) Dünyanın yuvarlaklığının öğrenilmesi
D) Cesur gemicilerin yetişmesi
E) Avrupalıların doğunun zenginliklerine ulaşmak istemesi

7. Osmanlı Devleti'nde duraklama döneminde görülen,

- I. Merkezi otoritenin zayıflaması,
II. Tımar sisteminin bozulması,
III. Düşük değerli akçeyle ulufe dağıtımı

durumlarından hangileri İstanbul isyanlarının nedenleri arasında gösterilebilir?

- A) Yalnız I B) Yalnız II C) I ve II
D) I ve III E) I, II ve III

8. XVIII. yy.da Fransızların Mısır'ı işgal etmesi üzerine Osmanlı Devleti, İngiltere ve Rusya ile ittifak yapmak zorunda kaldı. Yapılan Osmanlı - Fransa savaşları sonunda Fransa Mısır'ın Osmanlı devletine ait olduğunu kabul etti.

Bu bilgilere bakılarak,

- I. Osmanlı, topraklarını tek başına koruyamayacak durumdadır,
II. İngiltere, Hindistan'a giden sömürge yollarının güvenliğini kuvvetlendirmiştir,
III. Rusya'nın Balkanlarda etkinliği artmıştır

yargılarından hangilerine ulaşılabilir?

- A) Yalnız I B) Yalnız II C) I ve II
D) I ve III E) I, II ve III

9. Fransız İhtilaliyle dünyaya yayılan hak, adalet, eşitlik kavramları Osmanlı Devleti'ni de etkilemiş, halkın devlete bağlılığını artırmak amacıyla halka bazı haklar verilmiştir.

Buna göre,

- I. Senedi İttifak'la ayanlara haklar verilmesi,
II. Tanzimat Fermanı'yla hukukun üstünlüğünün kabul edilmesi,
III. Kanuni Esasi'nin ilanıyla Mebusan Meclisi'nin açılması

gelişmelerinden hangileri Osmanlıdaki demokratikleşme hareketlerine örnek gösterilebilir?

- A) Yalnız II B) I ve II C) I ve III
D) II ve III E) I, II ve III

10. I. Mondros Ateşkes Antlaşması'nın imzalanması

- II. Paris Barış Konferansı'nın yapılması
III. Ulusal cemiyetlerin kurulması
IV. Yunanistan'ın İzmir'i işgali
V. Kuvayi Milliye'nin kurulması

gelişmeleri aşağıdakilerin hangisinde doğru olarak sıralanmıştır?

- A) I - II - III - IV - V B) II - III - I - IV - V
C) III - II - I - V - IV D) IV - I - II - III - V
E) I - III - II - IV - V

11. Sivas Kongresi'ne katılan delege sayısının Erzurum Kongresi'ne katılanlardan az olmasına rağmen Sivas Kongresi kararlarının ulusal açıdan daha bağlayıcı olması,

- I. Toplanan son kongre olması,
II. Yurdun her yerinden gelen temsilcilerin katılımıyla toplanmış olması,
III. M. Kemal başkanlığında toplanması

durumlarından hangilerine bağlıdır?

- A) Yalnız I B) Yalnız II C) Yalnız III
D) I ve III E) II ve III

12. I. TBMM'nin,

- I. Düzenli orduyu kurması,
II. Vergi oranlarını artırması,
III. Kendisine yönelik isyanların çıkması

durumlarından hangileri I. TBMM'nin merkezi otoritesine kanıt oluşturur?

- A) Yalnız I B) Yalnız II C) I ve II
D) I ve III E) I, II ve III

13. Milli Eğitim Bakanlığı Kurtuluş Savaşı'nın anlamını belirtecek, bağımsızlığın sembolü olacak milli bir marş için 1921 yılı başlarında ödüllü bir yarışma açtı. M. Akif yarışmaya para ödülü olduğu için katılmadı. Milli Eğitim Bakanı Hamdullah Suphi M. Akife para konusunun çözümleneceğini ve yarışmaya katılmasını söyledi. M. Akif'in ordumuza ithaf ettiği İstiklal Marşı 12 Mart 1921'de mecliste kabul edildi.

Bu bilgilere dayanılarak aşağıdaki yorumlardan hangisine ulaşılamaz?

- A) Meclisin İstiklal Marşı'nı kabul etmesi ulusalcı bir nitelik taşıdığını gösterir.
B) M. Akif, vatanseverlik örneği göstermiştir.
C) İstiklal Marşı, Kurtuluş Savaşı örgütlenme sürecinde kabul edilmiştir.
D) İstiklal Marşı'nı kabul etmek TBMM'nin kurum-sallaşma yolunda attığı adımlardan biridir.
E) Türk ordusu İstiklal Marşı'nda önemli bir yer tutmaktadır.

14. Cumhuriyetin ilk yıllarında Terakkiperver Cumhuriyet Fırkası ve Serbest Cumhuriyet Fırkası'nın açılmasına rağmen rejim karşıtı hareketler yüzünden bu partiler kapatılmıştır.

Sadece bu bilgilere bakılarak aşağıdakilerden hangisine ulaşılamaz?

- A) Rejimin korunmasına önem verilmiştir.
B) Ortam çok partili hayata uygun değildir.
C) Demokrasinin gereği tam olarak yerine getirilememiştir.
D) Farklı görüşlerin yönetime yansması sınırlı kalmıştır.
E) Devrimlerin daha hızlı yapılması sağlanmıştır.

15. Atatürk'ün halkçılık anlayışı iki boyutludur. Eşitlik ve sosyal devlet anlayışı.

Buna göre,

- I. Millet mekteplerinin açılması,
II. Medeni kanunun ilanı,
III. Devletin yol ve hastaneler yapması

uygulamalarından hangileri halkçılığın "sosyal devlet" yönüyle ilgilidir?

- A) Yalnız I B) I ve II C) I ve III
D) II ve III E) I, II ve III

16. 17 Şubat 1926'da Medeni Kanun'un kabulünde İsviçre Medeni Kanunu'nun esas alınmasında,

- I. Yeni medeni kanun hazırlanmasının uzun zaman alacak olması,
II. Avrupa'daki medeni kanunların en yenisi olması,
III. Kadın-erkek eşitliğini sağlaması

durumlarından hangileri etkili olmuştur?

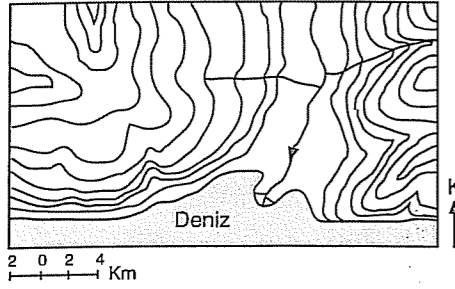
- A) Yalnız I B) Yalnız III C) I ve II
D) I ve III E) I, II ve III

17. Seferberlik savaşa hazırlık ve alınan tedbirlerin tümü demektir. Seferberlik faaliyetlerinin başladığı gün ve saatten kaldırılmasına kadar geçen süreye seferberlik hali denir. Vatanın bütünlüğü ve milletin varlığını tehdit eden bir olayın baş göstermesi veya devletin savaşa girme ihtimalinin belirmesi ya da fiilen savaşa girmesi haline seferberlik denir.

Sadece bu bilgilere bakılarak aşağıdakilerden hangisine ulaşılamaz?

- A) Seferberliğin savaş dönemlerinde uygulandığına
B) Seferberliğin belirli bir zaman aralığında uygulandığına
C) Seferberlik kararının TBMM tarafından alındığına
D) Seferberliğin vatan savunmasının bir parçası olduğuna
E) Seferberliğin bir tür olağanüstü hal durumu olduğuna

18.



Yukarıdaki haritadan aşağıdakilerden hangisine ulaşmada haritanın ölçeğinden yararlanılmaz?

- A) Akarsu yatağının uzunluğuna
B) Belirlenen noktalar arasındaki kuş uçuşu uzaklığına
C) Yamaçların ortalama eğimine
D) Yöre içi yükselti farkına
E) Yörenin iz düşümsel yüz ölçümüne

19. X merkezi 92° doğu boylamında yer alır.
X merkezinin bulunduğu saat diliminde saat 19:00 iken, Y merkezinin bulunduğu saat diliminde saat 12:00'dir.

Buna göre, Y merkezinin boylamı aşağıdakilerden hangisi olabilir?

- A) 5° batı B) 10° doğu C) 17° batı
D) 20° doğu E) 25° batı

20. Mali
Nijerya
Somali
Bangladeş

Aşağıdakilerden hangisi, yukarıda verilen ülkelerle ilgili ortak bir yargıdır?

- A) Önemli ticaret yolları üzerinde yer alır.
B) Nüfus yoğunlukları oldukça fazla ve birbirine yakındır.
C) Birincil ekonomik faaliyetlerde çalışanların oranı yüksektir.
D) Nüfus artış hızları düşüktür.
E) Yatırımlara ayrılan pay yüksektir.

21. I. Dağ ve vadi meltemi
II. Ters Alizeler
III. Kış musonu

Aşağıdakilerin hangisinde, yukarıda verilen rüzgârlar esiş süresi ve etki alanı bakımından en fazla olandan en az olana doğru sıralanmıştır?

- A) I>II>III B) I>III>II C) II>I>III
D) II>III>I E) III>II>I

22. Türkiye'de,

- I. sel,
II. tektonik deprem,
III. çığ

doğal afetlerin etkin olduğu yerler aşağıdakilerin hangisinde doğru verilmiştir?

- | | | |
|--------------|-----------|-----------|
| I | II | III |
| A) Konya | Adapazarı | Şanlıurfa |
| B) Edirne | Van | Hakkâri |
| C) Şanlıurfa | Konya | Samsun |
| D) Rize | Mardin | Hatay |
| E) Samsun | Bursa | Tekirdağ |

23. Bir kişi temmuz ayında ortalama sıcaklığın 22 °C olduğu İstanbul'dan yola çıkarak aşağıdaki haritada verilen rotayı izleyerek numaralanmış kentlere gidecektir.



Buna göre, söz konusu kişinin uğradığı kentlerde aşağıdaki ortalama sıcaklıklardan hangisini yaşaması beklenir?

	Temmuz Ayı °C
I Kaşgar (Çin)	22
II Yakutsk (Rusya)	-4
III Sydney (Avustralya)	20
IV Kisumu (Kenya)	30

	Temmuz Ayı °C
I Kaşgar (Çin)	18
II Yakutsk (Rusya)	10
III Sydney (Avustralya)	4
IV Kisumu (Kenya)	25

	Temmuz Ayı °C
I Kaşgar (Çin)	19
II Yakutsk (Rusya)	9
III Sydney (Avustralya)	-5
IV Kisumu (Kenya)	10

	Temmuz Ayı °C
I Kaşgar (Çin)	17
II Yakutsk (Rusya)	22
III Sydney (Avustralya)	5
IV Kisumu (Kenya)	20

	Temmuz Ayı °C
I Kaşgar (Çin)	-3
II Yakutsk (Rusya)	-10
III Sydney (Avustralya)	6
IV Kisumu (Kenya)	24

24. Aşağıda, beş farklı iklim tipinin özellikleri verilmiştir.

- K Yazları sıcak ve kurak, kışları ılık ve yağmur yağışlı
L En yüksek ortalama sıcaklık 10°C'nin altında, soğuk ve kurak
M Her mevsim yağışlı, kışları ılık, yazları serin
N Yıllık yağış miktarı 250 mm'nin altında, sıcak ve kurak
P Bütün yıl yağışlı ve sıcaklık daima 20 °C'nin üzerinde

Büyük iklim tiplerinin belirli enlem aralıklarında etkili olduğu bilindiğine göre, yukarıdaki yörelerin Ekvator'dan kutuplara olan sıralanışının aşağıdakilerin hangisinde doğru olarak verildiği söylenebilir?

- A) L Kutup B) M Kutup
M L
N N
K K
P Ekvator P Ekvator
C) M Kutup D) L Kutup
L M
K K
P N
N Ekvator P Ekvator

- E) N Kutup
L
K
P
M Ekvator

25. Aşağıdakilerden hangisi, kırsal yerleşmeler sınıflandırılırken göz önüne alınan kriterlerden biri değildir?

- A) Fonksiyonu B) Dokusu
C) Sürekliliği D) Kurulduğu yeri
E) Büyüklüğü

26. Türkiye'de; Güney Marmara, Çatalca-Kocaeli Platoları, Kıyı Ege'deki graben ovaları deprem riski taşımalarına karşın, bu alanlarda nüfus yoğunluğu ülke ortalamasının üzerindedir.

Bu yerlerin aşağıdaki özelliklerinden hangisi, nüfus yoğunluğunun yüksek olmasının nedenlerinden biri değildir?

- A) Ulaşım olanaklarının gelişmiş olması
B) Endüstri kuruluşlarının çokluğu
C) Verimli tarım alanlarının varlığı
D) İklim koşullarının elverişliliği
E) Yer altı kaynakları bakımından çeşitliliğin fazla olması

27. Türkiye'de yeşil kuşak ağaçlandırma çalışmalarıyla 2004 yılı sonuna kadar 132.585 hektar alanda çalışma yapılmıştır. Bu çalışmalar günümüzde de devam etmektedir.

Buna göre, söz konusu çalışmalarla,

- I. sel ve su taşkını,
II. kütle hareketleri,
III. çığ,
IV. erozyon

olaylarından hangilerinin azaltılması amaçlanmıştır?

- A) I ve II
B) I ve IV
C) II ve III
D) II ve IV
E) III ve IV

28. I. Elmalı Ovası
II. Ürgüp-Göreme'deki peribacaları
III. Doğu Karadeniz kıyılarındaki falezler
IV. Fırat Nehri yatağındaki dev kazanları

Yukarıdaki yer şekillerinden hangilerinin oluşumunda yörede bulunan kayacın yapısı da etkili olmuştur?

- A) I ve II
B) I ve III
C) II ve III
D) II ve IV
E) III ve IV

29. Kıyıda bulunan bir bölgenin yüzey şekillerinin aşağıdakilerin hangisi üzerinde etkili olacağı söylenemez?

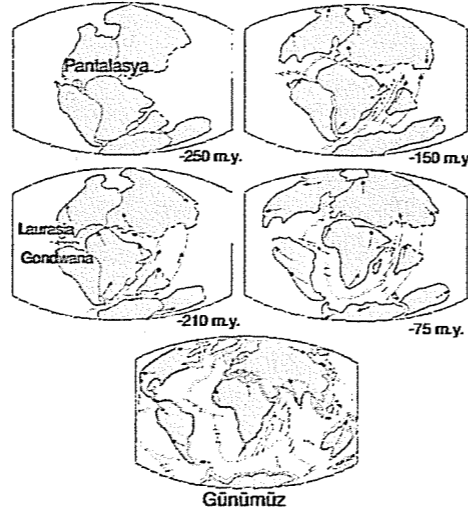
- A) Korunaklı liman sayısı
B) Kıyı uzunluğu
C) Denizel iklimin etki alanı
D) Orman alt sınırı
E) Kıyı ile iç kesim arasındaki ulaşım olanakları

30. I. İklim bölgeleri
II. Siyasi bölgeler
III. Bitki örtüsü bölgesi
IV. Su havzaları bölgesi
V. İdari bölgeler

Yukarıda verilen bölgelerden hangilerinin sınırları çoğu zaman kademeli bir geçiş gösterir?

- A) I ve III
B) I ve IV
C) II ve III
D) II ve V
E) IV ve V

31. Kıtaların kayma teorisine göre, kıtalar önceleri tek bir kıta olan Pangaea'yı meydana getirirken Meozoik ve Senozoik başlarında parçalanarak birbirinden uzaklaşıp bugünkü görünümünü almıştır.



Buna göre, aşağıdaki yargılardan hangisine ulaşılamaz?

- A) Yer kabuğu, tektonik hareketlere bağlı olarak oluşumunu tamamlamıştır.
B) Jeolojik süreçler içinde, yer kabuğu hareket etmiştir.
C) Yer'in içinde konveksiyonel ısı akımları bulunur.
D) Yer kabuğu farklı büyüklükteki levhalardan oluşur.
E) Farklı kıtalarda, birbirine benzer fosil ve volkanik kayalar bulunur.

32. Çözümleme, karşılaştırma ve değerlendirme, felsefe arazisinin haritasını çıkarmanın ve felsefe madenini işlemenin araçlarıdır. Sorular ve yanıtlar ham maden cevheri gibidir; elekten geçirilip, ayrılıp, arıtılıp, alaşım haline getirilmeye kadar onlara kuşkuyla bakılır.

Bu açıklamada bir konuya felsefi olarak yaklaşırken aşağıdakilerden hangisinin önemine değinilmiştir?

- A) Öngörülme olmanın
B) Şüpheli olmanın
C) Dogmatik olmanın
D) Hayalci olmanın
E) Yaratıcı olmanın

33. I. Şu masa.
II. Masa kırmızıdır.

Yukarıda hangi felsefe terimleri örneklendirilmiştir?

- A) Arkhe - İdea
B) Tin - Madde
C) İdealizm - Materyalizm
D) Gerçek - Doğruluk
E) Empirizm - Rasyonalizm

34. Aşağıdaki sorulardan hangisi metafizikle ilgili değildir?

- A) Ruh nedir?
B) Evrenin bir başı ve sonu var mıdır?
C) İçinde yaşadığımız evren kendiliğinden mi oluşmuştur, yoksa bir yaratıcısı var mıdır?
D) Evren var olmadan önce ne vardı?
E) Dünya'nın Güneş etrafında dönmesi sonucu hangi olaylar olmaktadır?

35. Aşağıdaki davranışlardan hangisi ahlaki bir değer taşımaz?

- A) Bir kişinin paraya ihtiyacı olmasına rağmen yolda bulduğu parayı sahibine vermesi
B) Hak etmediği halde kendisine ödül verilen bir kişinin bu ödülü almayı reddetmesi
C) Bir kişinin başarılı olmadığı halde kendisini başarılıymış gibi tanıtmaması
D) Her gün düzenli yürüyüş yapan bir kişinin, bunu sağlıklı olmak için yapması
E) Bir kişinin zarara uğrayacağını bilmesine rağmen doğruyu söylemesi

36. Van Gogh'un ünlü "zeytin ağaçları" tablosunu seyrettiğimde duyduğum duygu, gerçek zeytin ağaçlarını seyrettiğimdeki duygudan çok farklıdır. Gerçek zeytin ağaçları beni zeytinlerini toplamaya veya belki de gölgelerinde bir öğleden sonra uykusuna davet eder. Oysa Van Gogh'un zeytin ağaçları, büyüleyici bir varlığa sahiptirler. Onlar kendi kendilerine yeterler. Van Gogh'un zeytin ağaçları, kelimenin gerçek anlamında beni alıp götürürler; kaçırlar, kendi dünyamdan koparırlar. Birden bire Van Gogh'un dünyası olan bir dünyaya sokarlar.

Bu açıklama aşağıdaki sorulardan hangisine cevap olarak verilebilir?

- A) Güzel nedir?
B) Sanattaki güzellikle doğadaki güzellik arasındaki fark nedir?
C) Güzellik, estetik öznededir mi yoksa estetik nesnededir mi?
D) Sanatın ortaya çıkmasında doğanın katkısı nedir?
E) Sanatta taklit kuramı neye denir?

37. "Devlet" bir soyutlamadır, ne haz duyar, ne de acı çeker; ne cesurdur ne de korkak. Devletin niyetleri sandığımız şey onu yöneten kişilerin niyetlerinden başka bir şey değildir. O kadar ki, devletin yüceltilmesi, aslında, az sayıda yöneticilerin yüceltilmesidir.

Bu açıklama aşağıdaki sorulardan hangisine cevap olarak verilebilir?

- A) Devlet gerekli midir?
B) Devlet iyi ya da kötü olabilir mi?
C) Devletin kaynağı nedir?
D) Evrensel bir siyasal sistem var mıdır?
E) Devlet nasıl olmalıdır?

38. Herakleitos ve diğer İonia filozofları dünyanın güzelliği karşısında bir çeşit baş dönmesine tutulmuşlardı. Bilimsel çalışmalara ilk hızını verenler de bu filozoflardı. Herakleitos: "Dünya alevlenip sönen ama, hep canlı kalan bir ateştir." demiştir. Ama yavaş yavaş, bilim geliştikçe, onu doğuran sevgi hızını yitirdi. Güç kazanma isteği, başlangıçta, anlama isteğinin bir yol arkadaşı olduğu halde, bilimdeki beklenmedik başarılar yönetimi ele almaya başladı. Böylece doğanın sevgilisi hor görülerek, doğanın zorbası baş tacı oldu.

Bu açıklamaya göre bilimde zamanla önemini yitiren konu aşağıdakilerden hangisidir?

- A) Bilimin uygulamaya yönelik olması
B) Bilimsel buluşların insanların sorunlarını çözmesi
C) Bilimsel araştırmalarda tümevarım yöntemi kullanılması
D) Bilimdeki başarıların kaynağının bilmek için bilmek olması
E) Bilimin sistemli ve tutarlı olması

39. I. Bilim tek tek olaylardan hareketle genel yasalara varmaya çalışır.

II. Bilim her olguyu neden - sonuç ilişkisi içinde ele alır.

Bu iki madde bilimde aşağıdakilerden hangisiyle adlandırılır?

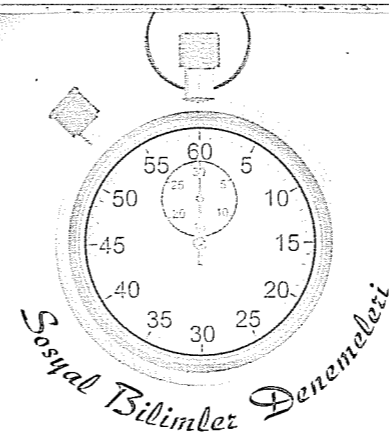
- | | |
|------------------|---------------|
| I | II |
| A) Evrensellik | Öngörüsellik |
| B) Eleştirelilik | Yaratıcılık |
| C) Faydacılık | Objektiflik |
| D) Tümevarım | Nedensellik |
| E) Öngörüsellik | Eleştirelilik |

40. I. Kör olanlar renkleri, sağır olanlar da sesleri tanıyamaz. Sesler ve renklerle ilgili bilgilerimizin kaynağı duyularımızdır.
- II. Duyularımız sürekli değişenin bilgisini verdiği için bu bilgilerin doğruluğuna güvenemiyoruz. Yine aynı şekilde duyulara dayalı bilgiler kişiden kişiye değişebilmektedir. O halde bilgi edinmede duyuları değil akli kullanmalıyız.

Bilgi felsefesindeki bu iki yaklaşım hangi seçenekte doğru olarak adlandırılmıştır?

- | | |
|----------------|--------------|
| I | II |
| A) Empirizm | Rasyonalizm |
| B) Pozitivizm | Fenomenoloji |
| C) Rasyonalizm | Kritisizm |
| D) Septisizm | Rasyonalizm |
| E) Entüsyonizm | Pozitivizm |

Deneme 13							
1	D	11	B	21	D	31	A
2	A	12	C	22	B	32	B
3	E	13	C	23	B	33	D
4	E	14	E	24	D	34	E
5	A	15	C	25	A	35	D
6	B	16	E	26	E	36	B
7	D	17	C	27	B	37	B
8	C	18	D	28	A	38	D
9	D	19	C	29	D	39	D
10	E	20	C	30	A	40	A



1. Tarih öncesi devirler incelendiğinde, devirlerin değişme sürelerinin oldukça uzun olduğu görülür. Oysa tarihi çağların değişiminde bu süre azalmıştır.

Tarihi öncesi devirlerin aşağıdaki özelliklerinden hangisi bu farklılığa neden olarak gösterilebilir?

- A) Çok tanrılı dinlerin benimsenmesi
B) Toplumsal işbölümünün başlaması
C) Doğaya bağlı yaşam sürülmesi
D) Etkileşimin ve değişimin yavaş olması
E) Savaşların uzun sürmesi

2. VIII. yy.da yazılan Orhun Kitabeleri, Türk edebiyatındaki ilk yazılı eserdir. Göktürk alfabesiyle yazılan eserde milli benliğin korunmasına dair vurgular yapılmıştır. Eser Kültigin, Bilge Kağan ve Vezir Tonyukuk adına dikilen üç taştan oluşmaktadır.

Bu bilgilere bakılarak aşağıdakilerden hangisine ulaşılamaz?

- A) Göktürklerin Türk diline katkıda bulunduğuna
B) Göktürklerin ulusçu bir karakter taşıdığına
C) Yönetimde belirli bir hiyerarşinin bulunduğuna
D) Yerleşik hayata geçtiklerine
E) Kendilerine özgü bir alfabeyle sahip olduklarına

3. Emevilerin Arap olmayan Müslümanlara köle muamelesi yapmalarına rağmen İslamiyet'in sınırlarını genişletmeleri aşağıdakilerden hangisine bağlanabilir?

- A) İslamiyet'in diğer dinlerden daha adil olmasına
B) Askeri alanda ve fetihlerdeki başarılarına
C) Diğer toplumların Emevilerden çekinmelerine
D) Emevilerin aşırı milliyetçi olmalarına
E) Arapların geniş bir coğrafyaya yayılmalarına

4. Türk-İslam devletlerinin yapmış olduğu mücadeleler, hem Türk tarihine hem de İslam tarihine katkı sağlamıştır.

Aşağıdakilerden hangisi bu yargıya örnek olarak gösterilemez?

- A) Malazgirt Savaşıyla Anadolu'nun kapılarının Türklere açılması
B) Eyyubilerin Haçlılarla başarılı mücadeleler yapması
C) Osmanlıların İstanbul'u fethetmesi
D) Selçukluların Gaznelilerle yaptığı Dandanakan Savaşı'nı kazanıp bağımsızlığını ilan etmesi
E) Türkiye Selçuklularının Anadolu'da Bizans'ı baskı altında tutması

5. Antalya limanını ele geçiren I. Gıyaseddin Keyhüsrev, Venediklilerle ticaret antlaşması yaptı ve Avrupalı tüccarlara düşük gümrük vergisi uyguladı.

I. Gıyaseddin Keyhüsrev, bu uygulamayla aşağıdakilerden hangisini amaçlamıştır?

- A) Avrupalı devletler arasındaki birliği parçalamak
B) Anadolu'da siyasal ve ekonomik üstünlüğü ele geçirmek
C) Anadolu'da ticareti geliştirmek
D) Akdeniz limanlarının hakimiyetini sağlamak
E) Avrupa'nın zenginliklerine ulaşmak

6. Avrupa'da görülen,

- I. Coğrafi keşifler,
II. Rönesans ve reform,
III. Sanayi devrimi

gelişmelerinden hangileri sömürgecilikle ilişkilendirilebilir?

- A) Yalnız I
B) Yalnız II
C) I ve II
D) I ve III
E) I, II ve III

7. Türk devletlerinde görülen,

- I. Ülke, hanedan üyelerinin ortak malıdır,
II. Yönetim hükümdar ve oğullarına aittir,
III. Tahta geçmek ailenin en yaşlı ve en olgun üyesinin hakkıdır

uygulamalarından hangileri egemenlik anlayışıyla ilgilidir?

- A) Yalnız I
B) Yalnız II
C) I ve II
D) I ve III
E) I, II ve III

8. Aşağıdakilerden hangisi yeniçeri isyanlarının hem nedeni hem de sonucu olarak gösterilebilir?

- A) Maaşların düşük değerli paralarla yapılması
B) Savaşlarda başarısızlıkların artması
C) Tımar sisteminin bozulmasıyla tımarlı sipahilerin yeniçeri ocağına alınması
D) Yeniliklere engel olmaları
E) Merkezi otoritenin bozulması

9. XIX. yy.da Osmanlı'yı en çok uğraştıran sorunlardan biri de mülteciler sorunuydu. İnsanların ırk, din, siyasal baskıdan dolayı yaşadıkları ülkeden istekleri dışında ayrılmak zorunda kalmalarına mültecilik denir.

XIX. yy.da görülen,

- I. Devlet sınırlarının sıkı biçimde korunmaya başlanması,
II. Vize uygulamasının getirilmesi,
III. Devletlerarası gerilimin tırmanması

gelişmelerinden hangileri "mültecilik sorunu"nun yaşanmasında etkili olmuştur?

- A) Yalnız I
B) Yalnız III
C) I ve III
D) II ve III
E) I, II ve III

10. Osmanlı Devleti, yüzyıllar boyunca egemenliği altında tuttuğu Balkan uluslarından I. Balkan Savaşı'nda ağır yenilgi almıştır. Bu yenilginin nedenlerinden biri de Osmanlı subayları arasındaki anlaşmazlıklar ve ordunun disiplininin bozulmasıdır.

I. Balkan Savaşı döneminde Osmanlı Devleti'ndeki politik gelişmeler göz önüne alındığında, subaylar arasındaki gruplaşmanın aşağıdakilerden hangisinden kaynaklandığı söylenebilir?

- A) Savaşlarda alınan yenilgilerin yarattığı moral-sizlikten
B) Meşrutiyetin ilan edilmesine doğan tepkilerden
C) Ordu mensuplarının siyasetle ilgilenmesinden
D) Azınlıklara temsil hakkı verilmesinden
E) Padişahın otoritesinin sarsılmasından

11. İtilaf devletlerinin Çanakkale Cephesi'ni açmaktaki amaçlarından,

- I. Rus Çarı'na yardım ulaştırmak,
II. Osmanlı Devleti'ni savaş dışı bırakarak Boğaz'ları ele geçirmek,
III. Balkanlardan Almanya'yı kuşatarak teslimiyete zorlamak

hangileri bu cephenin sonucuyla I. Dünya Savaşı'nın seyrini belirlemek istediklerini doğru kanıtlar?

- A) Yalnız I
B) Yalnız III
C) I ve II
D) II ve III
E) I, II ve III

12. İzmir'in işgali sonrası bölgeye gönderilen Amiral Bristol'un raporunda yer alan,

- I. Yunanlıların katliam bildirimleri gerçek dışıdır,
II. Batı Anadolu'daki katliamların sorumluluğu Yunanlılara aittir,
III. İzmir ve çevresinde Türk çoğunluk hakimdir

hükümlerinden hangileri "Misakı Milli'nin haklılığına kanıt oluşturur?"

- A) Yalnız II
B) Yalnız III
C) I ve II
D) I ve III
E) I, II ve III

13. Kurtuluş Savaşı örgütlenme süreci gelişmelerinin,

- I. Amasya Genelgesi,
II. Amasya Görüşmesi,
III. Sivas Kongresi,
IV. Erzurum Kongresi

doğru sıralanışı aşağıdakilerden hangisidir?

- A) I - II - III - IV
B) II - I - IV - III
C) I - IV - III - II
D) IV - I - III - II
E) II - IV - III - I

14. II. İnönü Savaşı'nın sonrasında,

- I. Yunanlıların daha güçlü bir orduya ihtiyaç olduğunu anlamaları,
II. Fransızların Ankara'ya özel bir temsilci göndermeleri,
III. İtalyanların işgal ettikleri yerleri boşaltmaya başlamaları

gelişmelerinden hangileri işgal kuvvetleri arasında görüş ayrılıklarının yaşandığını kanıtlar?

- A) Yalnız III
B) I ve II
C) I ve III
D) II ve III
E) I, II ve III

15. 20 Kasım 1922'de başlayan Lozan Görüşmeleri 24 Temmuz 1923'te imzalanmıştır.

Görüşmelerin uzun sürmesinde,

- I. Anlaşma Devletleri'nin geçmiş dönemlerde kazandıkları ayrıcalıkları sürdürmek istemeleri,
II. Avrupa Devletleri'nin Sevr Antlaşması'nda değişiklikler yaparak sonuca ulaşmayı amaçlamaları,
III. Türkiye'ye mağlup devlet muamelesi yapılması

durumlarından hangileri etkili olmuştur?

- A) Yalnız I
B) I ve II
C) I ve III
D) II ve III
E) I, II ve III

16. Cumhuriyet döneminde, halkçılık ilkesi doğrultusunda yapılan inkılaplardan hangisi "toplumsal barışı sağlamaya" yöneliktir?

- A) Kadınlara seçme ve seçilme hakkının verilmesi
B) Azınlıkların Türk vatandaşlığı kabul edilerek ayrıcalıklarının sona erdirilmesi
C) Aşar vergisinin halk yararı gözetilerek kaldırılması
D) Soyadı kanunu çıkarılarak ayrıcalık belirtilen unvanların kaldırılması
E) Sosyal devlet niteliğinin benimsenmesi

17. Aşağıdakilerden hangisinin 1926 yılında kabul edilen Türk Medeni Kanunu'nda yer alması beklenemez?

- A) Kadınlara istediği mesleğe girme hakkının verilmesi
B) Resmi nikahın zorunlu hale getirilmesi
C) Mirasın kız ve erkek çocuklar arasında eşit paylaşılması
D) Ülke yönetimine katılmada kadın erkek eşitliğinin sağlanması
E) Kadınlara da boşanma hakkının verilmesi

20. Türkiye'nin ılıman kuşakta bulunması, ülkenin aşağıdaki ekonomik özelliklerinden hangisini etkilemiştir?

- A) Çeşitli tarım ürünlerinin yetiştirilmesini
B) Kara yolu ve deniz yolu transit taşımacılığının gelişmiş olmasını
C) Tarihi eserlerin ve doğal güzelliklerin olmasını
D) İşletilen ve işletmeye açılacak çeşitli madenlerin olmasını
E) Kişi başına düşen ulusal gelirin büyük kentlerde daha yüksek olmasını

18. Ekvator düzlemi ile yörünge düzlemi arasındaki açının değişmesi durumunda, dünya ile ilgili aşağıdaki olgulardan hangisinin bugünkünden farklı olması beklenmez?

- A) Gece ve gündüz sürelerinin
B) Dönencelerin sınırının
C) Yıllık sıcaklık farklarının
D) Tan ve gurub vakti sürelerinin
E) Matematik iklim kuşaklarının

21. Nüfus planlaması için bölgeler oluşturulurken nüfus verilerinden faydalanılarak çeşitli bölgeler belirlenir. Bunlara yoğun nüfuslu ve seyrek nüfuslu bölgeler örnek verilebilir.

○ Tarımsal bölge sınırları belirlenirken tarımsal veriler kullanılır. Kültür bitkilerinin dağılışını gösteren bölgeler buna örnektir.

Yukarıda verilen durumlara dayanarak, bölge kavramıyla ilgili aşağıdaki yorumlardan hangisine ulaşılabilir?

- A) Bazı bölgelerin sınırları ülke sınırlarını takip eder.
B) Bölge sınırlarının çiziminde, doğal unsurlar yaygın olarak kullanılan kriterler arasında yer alır.
C) Bölge sınırlarının çizilmesinde yaygın olarak kullanılan kriter, bölgelerin işlevsel özellikleridir.
D) Coğrafi bölgeleri belirlemede beşerî ve ekonomik koşullar tek başına yeterli değildir.
E) İşlevini yitiren bölgeler ortadan kalkar ve yerini yeni bölgelere bırakır.

19. Bir bölgenin iki farklı haritasında lejantta kullanılan şekillerin birbirinden farklı olduğu gözleniyor.

Buna göre, haritaların aşağıdakilerden hangisi bakımından farklı olduğu kesindir?

- A) Kullanılma amacı
B) Ölçek değeri
C) Projeksiyon tipi
D) Uzunluk hesaplama yöntemi
E) Yön oku

22. Akdeniz iklimiyle ilgili olarak aşağıda verilen özelliklerden hangisinin ortaya çıkmasındaki temel etken yanlış olarak verilmiştir?

Özellik	Temel etken
A) Akdeniz'e kıyısı olan bazı yörelerin Akdeniz iklimi dışında kalması	Yer şekillerinin engebesiz olması
B) Akdeniz Bölgesi'nde yetişen otsu bitkilerden birçoğunun yüzeyinin kadife gibi tüylerle kaplı olması	Buharlaştırma şiddetinin fazla olması
C) Afrika Kitası'nın hem kuzeyinde hem de güneyinde Akdeniz iklimi görülen yerlerin olması	Kıtanın her iki yarım kürede orta kuşakta topraklarının bulunması
D) Akdeniz Havzası'nın güney kıyılarında maki üst sınırının kuzey kıyılarda kine göre daha yüksek olması	Enlemin sıcaklık dağılışında etkili olması
E) Akdeniz Havzası'nda Kızılçam ormanlarının bulunduğu alanlarda maki ve garig gibi çalı formasyonlarının görülmesi	Yağış rejiminin düzensiz olması

23. Gündüz, sis yoğunluğu geceden daha azdır.

○ Bir dağ aşarak oluşan fön rüzgârı kurutucu etki yapar.

Aşağıdakilerden hangisi, yukarıdaki durumları doğuran nedene bağlıdır?

- A) Havanın bulutlu olduğu günlerde günlük sıcaklık farkının az olması
B) Yağış rejiminin düzenli olduğu yerlerde bitki örtüsünün gür olması
C) Sıcak çöllerde bağıl nemin düşük olması
D) Sıcak kuşak karalarının doğu kıyılarının çok yağış alması
E) Kışın, bulutsuz günlerde havanın ayaz olması

24. Aşağıda, bir ülkede yaşanan doğal afetlerle ilgili gazete haberleri verilmiştir.

- Ülkede meydana gelen tropikal siklonlardan dolayı 1970 yılında 300.000 kişi, 1992 yılında ise 13.000 kişi hayatını kaybetti.
○ 1998 yılında oluşan şiddetli yağışlar ülkeye büyük zarar verdi. Yaklaşık 7 milyon ev tahrip oldu. En az 25 milyon insan evsiz kaldı. Ülkenin % 80'inden fazla sular altında kaldı ve 2.000 den fazla can kaybı yaşandı.

Bu ülke, aşağıdakilerden hangisi olabilir?

- A) İngiltere
B) Suudi Arabistan
C) Bangladeş
D) Norveç
E) Afganistan

25. Aşağıda, bir kritere göre belirlenmiş yerleşim yerleri verilmiştir.

A.	B.
○ Yayla ○ Ağıl ○ Kom	○ Çiftlik ○ Mahalle ○ Mezra

Buna göre,

- I. yapı malzemesi olarak ahşap kullanılması,
II. yoğun olarak endüstri bitkileri üretilmesi,
III. kaynakların belli sayıda nüfusu besleyebilmesi,
IV. yerleşme şeklinde doğal koşulların etkili olması
- niceliklerinden hangilerinin bu yerleşme yerlerinin ortak özelliği olduğu söylenebilir?

- A) I ve II
B) I ve III
C) II ve III
D) II ve IV
E) III ve IV

26. Aşağıda belirtilen dönem ve olayların hangisi, Türkiye'de gerçek nüfus artış oranının doğal nüfus artış oranından fazla olmasına neden olmuştur?

- A) 1939'da Hatay'ın anayurda katılması
B) 1985-2010 döneminde eğitim seviyesinin yükselmesi ve kadınların iş hayatına daha fazla katılması
C) 1918-1923 dönemlerinde savaşların yaşanması
D) 1960-1965 döneminde özellikle yetişkin erkek nüfusun işçi olarak yurt dışına gitmesi
E) 1940-1945 döneminde II. Dünya Savaşı nedeniyle seferberlik ilan edilmesi

27. Dünyadaki tatlı su miktarı kısıtlıdır. Su kaynakları; miktar, kalite ve kullanım açısından ciddi sorunlarla karşı karşıyadır. Dünya nüfusunun yaklaşık % 20'sine karşılık gelen 1,2 milyar insan yeterli içme suyundan yoksundur. Ayrıca 2,3 milyar insanda sağlıklı suya erişememektedir. 2025 yılından itibaren üç milyardan fazla insan susuzlukla karşı karşıya kalacaktır.

Buna göre, dünyadaki su kıtlığı aşağıdaki durumlardan hangisine bağlanamaz?

- A) Yanlış ve aşırı su kullanımına
B) Sanayi ve teknolojinin hızla gelişmesine
C) Hızlı nüfus artışına
D) Akarsular üzerindeki baraj sayılarının artmasına
E) Akarsu drenaj sisteminin değiştirilmesine

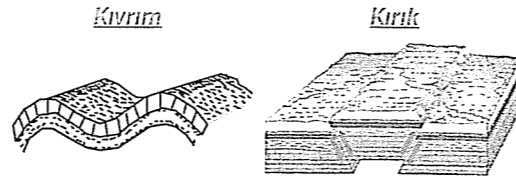
28. Türkiye'de,

- I. Fiyortlu kıyı,
II. Haliç tipi kıyı,
III. Nehir taşımacılığı,
IV. Örtü buzulu

niceliklerinden hangilerinin bulunmaması, ülkenin matematik konumuyla açıklanabilir?

- A) I ve II
B) I ve IV
C) II ve III
D) II ve IV
E) III ve IV

29. Okyanus ve deniz diplerindeki jeosenkliniklerde oluşan tortul tabakalar yer kabuğunu oluşturan kıtasal levhaların birbirine yaklaşması sonucu yan basıçlara uğrar. Tortul tabakalardan bir kısmı kıvrılırken bir kısmında kırılır.



Buna göre, tortul tabakaların kıvrılması veya kırılmasında, aşağıdakilerden hangisinin belirleyici olduğu söylenebilir?

- A) Tortul tabakaların jeolojik yaşının
B) Tortul tabakaların oluşum sürecinin
C) Tortul tabakaların sertlik derecesinin
D) Tortul tabakaların oluştuğu okyanus tabanı derinliğinin
E) Tortul tabakalara uygulanan üst basınçların şiddetinin

30. Bir bölgenin engebeli olmasının, bölgenin aşağıdaki özelliklerinden hangisi üzerinde etkili olduğu söylenemez?

- A) Bitki örtüsü
B) Kara ve demir yolu ulaşımı
C) Nüfus dağılışı
D) Vadi derinliği
E) Termal kaynakların varlığı

31. Aşağıdakilerin hangisinde iklim koşullarının etkili olduğu söylenemez?

- A) Amazon ve Kongo havzalarında nüfusun seyrek olmasında
B) Kuzey Afrika'da konutların yapımında yaygın olarak kerpiç malzemelerin kullanılmasında
C) Orta Asya'da, akarsu debilerinin kış ortasında azalmasında
D) Antarktika'da bilimsel araştırma istasyonları dışında sürekli yerleşim alanlarının bulunmamasında
E) Batı Avrupa'daki akarsularda nehir taşımacılığının yapılabilmesinde

32. Bir şeyin doğru ya da gerçek olduğu iddiasını desteklemek için kanıtlar sunmaya başladığımızda felsefe yapıyoruz. Bize büyük bir ıstırap çektiren ahlaksal bir yargıyı savunduğumuzda felsefi bir işe girmişiz demektir. Bir siyasal tutumu diğerine karşı desteklemek için gerekçeler gösterdiğimiz zaman da felsefe yaparız.

Bu açıklama aşağıdaki sorulardan hangisinin cevabı olarak verilmelidir?

- A) Felsefenin bilimden farkı nedir?
B) Felsefi düşünceler kanıtlanabilir mi?
C) Felsefede doğrulara ulaşılabilir mi?
D) Felsefe ne işe yarar?
E) Felsefenin kullandığı araştırma yöntemi nedir?

33. Doğruluk, düşüncemizin şeylere uygunluğudur. Doğru fikir, gerçeğe sadık olan fikirdir. Sağduyumuzun bu konuyla ilgili yorumu şudur: Doğru, gerçeğin basit bir kopyasıdır.

Aşağıdaki örneklerden hangisine, bu doğruluk tanımını ölçüt alarak, doru ya da yanlış diyemeyiz?

- A) Ağaç çiçeklidir.
B) $A = B$, $B = C$ ise, $A = C$ 'dir.
C) İstanbul kalabalık bir şehirdir.
D) Dünya'nın şekli geoittir.
E) Buz soğuktur.

34. I. Var olan her şey tek bir gerçeklikten oluşmuştur.
II. Empedokles toprak, su, ateş ve havayı varlığın temel öğeleri olarak belirtmiştir.
III. Descartes, varlığı madde ve ruh gibi birbirine indirgenemeyen iki ayrı cevher olarak kabul etmiştir.

Varlığı nicel olarak değerlendiren bu üç yaklaşım aşağıdakilerden hangisinde doğru olarak adlandırılmıştır?

- | | I | II | III |
|----------------|---|-----------|-------------|
| A) Monizm | | Düalizm | Rasyonalizm |
| B) Plüralizm | | Düalizm | Monizm |
| C) Monizm | | Plüralizm | Düalizm |
| D) Rasyonalizm | | Monizm | Plüralizm |
| E) Empirizm | | Plüralizm | Düalizm |

35. Sokrates : "Kimse bilerek kötülük yapmaz; insan eylemlerinin en yüksek amacı "iyi"dir; iyinin temelinde ise doğru bilgi vardır."

Aşağıdaki düşüncelerden hangisi Sokrates'in ahlak anlayışına örnektir?

- A) En yüksek "iyi" hazdır.
B) Mutluluk, hiçbir şey karşısında tasa duymamayı, hiçbir şeye aldırış etmemeyi gerektirir.
C) Mutluluk, toplum içinde ve belli bir fayda sağlayarak kazanılabilir.
D) En iyi davranış, en fazla kişiye en yüksek haz veren davranıştır.
E) Bilgelik, en yüce erdemdir.

36. Bilimsel yöntemi kullanan bir araştırmacı aşağıdakilerden hangisini en başta yapmalıdır?

- A) Varsayım kurmak
B) Deney yapmak
C) Yasalar oluşturmak
D) Teori oluşturmak
E) Problemi belirlemek

37. Sanat, gerçeklik izlenimini, gerçeklik yanılsamasını ancak gerçeğe sırtını çeviren teknikler sayesinde verebilir. Gerçeğin estetik yanılgısını verebilmek için, isteyerek ne kadar çok yanlış yapılmıştır. Örneğin, Rodin'in "yürüyen adam" heykeli her iki ayağı da yerde, tam olarak yere basan tarzdadır ve yürümektedir.

Bu açıklama ve örneği sanatla ilgili aşağıdaki düşüncelerden hangisini anlatmak için kullanabiliriz?

- A) Sanat, doğadan başka bir dünyadır.
B) Sanat, gerçeğin sanat eserinde yansımasıdır.
C) Sanat toplum içindir.
D) Sanat eseri doğadaki gerçeğine benzediği sürece güzeldir.
E) Sanat, gerçeğin kopyasıdır.

38. **Egemenlik** : Devletin iktidar gücünü kullanabilmesidir.

Yönetim : İktidarı elinde bulunduran devletin toplumu idare etmesidir.

Meşruiyet : İktidarın kendisini meydana getiren kaynağa uygun davranmasıdır.

Bu verilere göre devletin hangi uygulaması meşruiyetle ilgilidir?

- A) Bir başbakanın ülke güvenliği ile ilgili kararlar alması
B) Mahkemelerin verdiği cezaların anayasa ve yasalara uygun olması
C) Bir kralın ölünceye kadar ülkenin kralı olarak kalması
D) Bir devletin başka bir devlete savaş ilan etmesi
E) İktidarı belirleyen gücün halk olması

39. Felsefe, yaşamı yalnızca iş, eş, barınma ve basit eğlence olarak görmenin aşılmasına yardımcı olur; doğallığımızın ve insansal özelliklerimizin neler olduğunu bir kere daha düşünmemizi sağlar.

Bu açıklama aşağıdaki sorulardan hangisine cevap olarak verilmelidir?

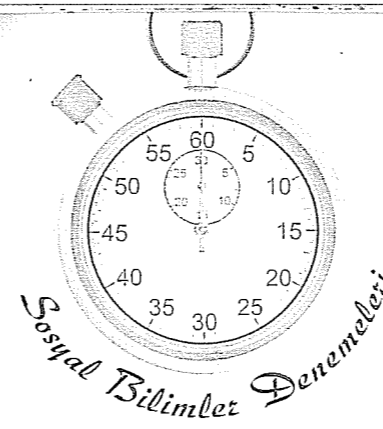
- A) Felsefe bir bilim midir?
B) Felsefenin konusu nedir?
C) Felsefi önermelerin kesinliği var mıdır?
D) Felsefenin kullandığı yöntem nedir?
E) Felsefe ne işe yarar?

40. İşitme engelli bir çiftin 3 ve 6 yaşlarındaki çocukları konuşamadıkları için işitme engelli sanıldı. Ancak çocuklar duyabilmelerine rağmen anne-baba işaret dili kullandıkları ve televizyonu da sessiz izledikleri için çocuklar da konuşmayı öğrenememişlerdir.

Bu olay bilgi felsefesinde aşağıdaki iddialardan hangisini desteklemek için örnek gösterilebilir?

- A) Bilginin kaynağı akıldır.
B) Bilginin kaynağı sezgidir.
C) Doğru bilgi yoktur.
D) Bilgi insan aklında doğuştan vardır.
E) Bilginin kaynağı deneydir.

Deneme 14							
1	D	11	D	21	C	31	E
2	D	12	B	22	E	32	D
3	B	13	C	23	C	33	B
4	D	14	D	24	C	34	C
5	C	15	E	25	E	35	E
6	D	16	D	26	A	36	E
7	E	17	D	27	E	37	A
8	E	18	D	28	B	38	B
9	B	19	A	29	C	39	E
10	C	20	A	30	E	40	E



1. Tarihle ilgili çalışmalar yapılırken tarihe yardımcı bilimlerden faydalanmak, araştırma yapmayı kolaylaştırır.

Aşağıdakilerden hangisinde araştırılan konu ve faydalanılan yardımcı bilim birbiriyle uyum sağlamaktadır?

- A) İlk toplum olan Lidyalıların parayı bulmasıyla ilgili inceleme yaparken nümizmatik biliminden yararlanmak
B) Sümerlerin kullandığı çivi yazısını incelerken paleografya biliminden yararlanmak
C) Meksika'daki Aztek uygarlığı ırklarını incelerken antropoloji biliminden yararlanmak
D) Türk tarihindeki ilk yazılı belge olan Göktürk kitabelerini çözümlerken etnoğrafyadan yararlanmak
E) Türkçenin ait olduğu dil ailesinden yararlanırken filolojiden yararlanmak

2. İlkçağ'da Ege uygarlıklarından olan İyonlar buldukları bölgeyi kültür ve bilim merkezi haline getirmişti.

Bu durum üzerinde İyonların,

- I. Doğu-batı ticaret yollarının birleştiği yerde olması,
II. Düşünce özgürlüğüne önem vermesi,
III. Şehir devletleri şeklinde örgütlenmesi
- özelliklerinden hangileri etkili olmuştur?**

- A) Yalnız I
B) Yalnız II
C) I ve II
D) II ve III
E) I, II ve III

3. **Aşağıda verilen durum- sonuç ilişkilerinden hangisi yanlıştır?**

Durum	Sonuç
A) Uygurların yerleşik hayata geçmeleri	Taşınabilir eşya yapımına ağırlık vermeleri
B) Göktürklerin uluşu olmaları	İlk Türk alfabesini yapmaları
C) Hunların Çin'e sürekli akınlar yapmaları	Çin Seddi'nin inşa edilmesinin sağlanması
D) İkili teşkilat anlayışının olması	Devletlerin kısa ömürlü olması
E) Veraset anlayışında belirsizlikler olması	Taht kavgalarının görülmesinin sağlanması

4. Selçuklularda hanedan üyesi valilere "Melik" deniyordu. Melikler "atabeyi" adı verilen devlet adamları tarafından yönetime hazırlanırdı. Melikler işlerinde serbest; dış işlerinde merkeze bağlıydı,

Bu durumun,

- I. Meliklerin güçlenmesi ve devletin parçalanması,
II. Atabeylerin ülke yönetiminde söz sahibi olması,
III. Merkezi otoritenin sarsılması

gelişmelerinden hangilerine neden olduğu söylenebilir?

- A) Yalnız I
B) Yalnız II
C) I ve II
D) I ve III
E) I, II ve III

5. Yıldırım Bayezid'in Timur'a yenilmesinden sonra Osmanlı Devleti 11 yıl süren, taht kavgalarıyla geçen Fetret Devri'ne girmiştir. Fetret Devri'nde Rumeli'deki toprak kaybı Anadolu'dakinden çok daha az olmuştur.

Bu durumda,

- I. Rumeli'deki halkın Osmanlı yönetiminden memnun olması,
II. Balkan ulusları arasında mezhep çatışması olması,
III. Avrupa'da Yüzyıl Savaşları'nın sürmesi
- özelliklerinden hangileri etkili olmuştur?**

- A) Yalnız I B) Yalnız II C) I ve II
D) II ve III E) I, II ve III

6. Fatih döneminde Osmanlı - Memlük ilişkilerinin bozulmasında Memlüklerin,

- I. Anadolu'daki Türk siyasal birliğini tehdit etmesi,
II. Karamanoğulları'nı Osmanlılara karşı desteklemesi,
III. Hicaz su yolları konusunda anlaşmazlık çıkarması

gelişmelerinden hangileri etkili olmuştur?

- A) Yalnız I B) Yalnız III C) I ve II
D) II ve III E) I, II ve III

7. Rönesans, Yeniçağ Avrupa'sında bilim ve sanat alanındaki gelişmelerdir. Rönesans sayesinde Avrupa skolastik düşünceden kurtulmuştur. Rönesans'ın doğuşunda İslam dünyasının çok büyük etkileri olmuştur.

Aşağıdakilerden hangisi Rönesans'ın doğuşunda İslam dünyasının etkisine örnek gösterilemez?

- A) Avrupalıların matbaayı öğrenmesi
B) İstanbul'un fethinden sonra İstanbul'daki bilim adamlarının İtalya'ya geçmesi
C) İbni Sina, Farabi gibi bilim adamlarının eserlerinin Batı dillerine çevrilmesi
D) Coğrafi keşiflerle zenginleşen Avrupa'da sanatta değer veren bir sınıfın ortaya çıkması
E) İspanya'daki Endülüs Emevi kültür ve biliminin Avrupa'ya etkileri

8. XVII. yy.da I. Ahmet, şehzadelerin sancak beyliği- ne çıkma uygulamasını kaldırdı ve kafes sistemini başlattı. Bununla, şehzadelerin padişah olmak için sarayda sıralarını bekleme uygulamasını getirdi.

Buna göre kafes sisteminin,

- I. Padişahların ordu ve devlet yönetimini öğrenememeleri,
II. Saray kadınlarının devlet işlerindeki etkinliklerinin artması,
III. Sadrazamların etkinliğinin artması

durumlarından hangilerine neden olduğu söylenebilir?

- A) Yalnız I B) Yalnız III C) I ve II
D) II ve III E) I, II ve III

9. Enver Paşa liderliğindeki İttihat ve Terakki partisi yaptığı Babı Ali baskınıyla yönetimi ele geçirmiş ve II. Meşrutiyet'i ilan etmiştir.

Sadece bu bilgiye bakılarak,

- I. Osmanlı Devleti'nde ordunun siyasete karıştığı,
II. Osmanlı Devleti'nde halkın ilk kez yönetime katıldığı,
III. Yeniliklerin önündeki tüm engellerin kaldırıldığı

yargılarından hangilerine ulaşılabilir?

- A) Yalnız I B) Yalnız II C) I ve II
D) I ve III E) I, II ve III

10. Almanya, İngiltere'nin Arap topraklarındaki sömürgelelerini kısırtarak İngiltere'nin askeri gücünü zayıflatmayı amaçlamış, bunun için de Osmanlı İmparatorluğu'ndan faydalanmak istemiştir.

Bu bilgiye göre Almanya, Osmanlı Devleti'nin aşağıdaki özelliklerinden hangisinden faydalanmak istemiştir?

- A) Coğrafi konumundan B) Etnik yapısından
C) Teokratik niteliğinden D) Stratejik öneminden
E) Demografik gücünden

11. Amiral Bristol Raporu, İzmir'deki Yunan işgalinin haksız olduğunu tüm dünyaya belgelemiştir. Ancak raporu hazırlayan Anlaşma Devletleri, İzmir'in boşaltılması için Yunanistan'a bir yaptırım uygulamamışlardır.

Buna göre Amiral Bristol Raporu'nun hazırlanmasındaki gerçek amaç aşağıdakilerden hangisi olabilir?

- A) İzmir'in işgalini kalıcı kılmak
B) Yunanistan'ın güçlenmesini sağlamak
C) Anlaşma Devletleri arasındaki fikir birliği sağlamak
D) Dünya kamuoyunun tepkisini azaltmak
E) Osmanlı Devleti'nin direnişini engellemek

12. Kurtuluş Savaşı örgütlenme sürecindeki,

- I. Temsil Heyeti'nin yurdun tamamını temsil eder hale gelmesi,
II. İstanbul'un resmen işgali,
III. Amasya Görüşmeleri,
IV. Misakı Milli'nin Meclisi Mebusan tarafından kabulü

gelişmelerinin sıralaması aşağıdakilerin hangisinde doğru verilmiştir?

- A) III - II - I - IV B) I - III - IV - II
C) I - IV - III - II D) III - I - IV - II
E) III - II - IV - I

13. 1921'de yayınlanan Teşkilatı Esasi'de yer alan "Kanuni Esasi'nin gelişmeyen hükümleri eskiden olduğu gibi yürürlükte." maddesine bakılarak,

- I. Olağanüstü şartlarda yapılan 1921 Anayasası'nın eksik kısımları tamamlanmaya çalışılmıştır,
II. Saltanat taraftarlarının Milli Mücadele'ye katılımını sağlamak amaçlanmıştır,
III. Osmanlı geleneklerine bağlı kalmak amaçlanmıştır

yorumlarından hangileri yapılabilir?

- A) Yalnız I B) I ve II C) I ve III
D) II ve III E) I, II ve III

14. Batı cephesinde yaşanan aşağıdaki savaşlardan hangisi "bir cepheyi kaybetmenin, savaşı tamamen kaybetmek anlamına gelmeyeceği" yargısını kanıtlar?

- A) I. İnönü
B) II. İnönü
C) Kütahya - Eskişehir
D) Sakarya Meydan Savaşı
E) Büyük Taarruz

15. M. Kemal'in demokrasi kültürünün oluşması için ısrarla uyguladığı çok partili hayata geçiş denemeleri, Şeyh Said isyanı ve Menemen isyanı gibi gerici ayaklanmalar yüzünden ertelenmiştir.

Bu erteleme,

- I. Hükümetin denetlenmesi,
II. Farklı görüşlerin yönetime yansımaları,
III. Ulusal birlik ve beraberliğin sağlanması
- durumlarından hangilerini zorlaştırmıştır?**

- A) Yalnız I B) Yalnız II C) I ve II
D) I ve III E) I, II ve III

16. Atatürk'ün laiklik anlayışı için aşağıdakilerden hangisi söylenemez?

- A) Devlet düzeninin sağlanmasında dini kuralların esas alınmaması
B) Toplum ve devlet düzeninin akıl ve bilime dayandırılması
C) Din ve devlet işlerinin birbirinden ayrılması
D) Kişilerin din ve vicdan hürriyetine karışılmaması
E) Dini faaliyetlere ve ibadetlere sınırlamalar getirilmesi

17. I. Halifelik'in kaldırılması
II. Şeriyeye vekilliği'nin kaldırılması
III. Tevhid-i Tedrisat kanununun çıkarılması
IV. Tekke ve zaviyelerin kapatılması
V. İbadethaneler dışında dini kıyafetlerle gezmenin yasaklanması
VI. Anayasadan "Devletin dini İslam'dır." maddesinin çıkarılması
- Yukarıdaki inkılaplardan hangileri toplumsal alanda laikliği sağlamaya yöneliktir?**

- A) I ve III B) II ve IV C) III ve V
D) IV ve V E) IV ve VI

18. Aşağıdaki su yollarından hangisi kıtaların birbirinden ayrıldığı sınır yerlerinden birinde bulunmaz?

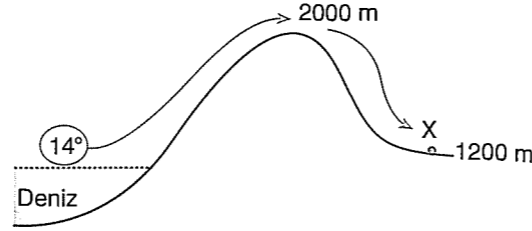
- A) Bering Boğazı
B) Hürmüz Boğazı
C) Babülmendep Boğazı
D) Cebelitank Boğazı
E) Süveyş Kanalı

	En soğuk ay ort. (°C)	En sıcak ay ort. (°C)	Yağışın mevsimlere dağılışı %				Yıllık yağış miktarı (mm)
			Kış	İlkba.	Yaz	Sonba.	
I	10	28.4	46	25	3	26	1030
II	16.5	26.3	2	14	68	18	1120
III	5.3	23.0	28	15	21	36	1340
IV	-8.7	19.2	14	30	36	20	566
V	24.3	25.0	20	26	24	230	2856

Yukarıda iklim özellikleri verilen yörelerin hangisinde bitki türlerinin kendini yenileme olanlığı diğerlerine göre daha fazladır?

- A) I B) II C) III D) IV E) V

20. 2000 metre yükseklikteki bir dağın denize bakan yamaçları boyunca hareket eden 14°C sıcaklığında bir hava kütlesi dağın doruğunu aştıktan sonra diğer yamaç boyunca iç kesimlere doğru ilerlemiş ve 1200 metredeki bir X merkezine ulaşmıştır.



Buna göre, hava kütesinin X merkezine ulaştığı andaki sıcaklığının kaç °C olması beklenir?

- A) 6 B) 8 C) 10 D) 12 E) 14

21. I. Nemli bir hava kütesinin bir dağın denize bakan yamacı boyunca yükselmesi
II. Dinamik yüksek basınç alanlarında hava hareketinin alçalıcı olması
III. Termik alçak basınç alanlarında ısınan havanın yükselici karakter kazanması
IV. Hava basıncında ani yükselme olması

Yukarıdaki durumların hangilerinde havadaki nemin doyma noktasına erişmesi beklenir?

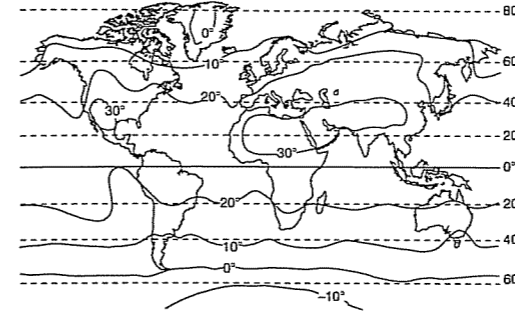
- A) I ve II B) I ve III C) II ve III
D) II ve IV E) III ve IV

22. I. Şubat ayı iki gün kısa sürer.
II. Aydınlanma çemberi mevsime göre yer değiştirir.
III. Tan ve gurub vakti süreleri kutuplara doğru uzar.
IV. Yarım kürelerde mevsim süreleri birbirinden farklıdır.

Yukarıdakilerden hangilerininin oluşum nedeni aynıdır?

- A) I ve II B) I ve IV C) II ve III
D) II ve IV E) III ve IV

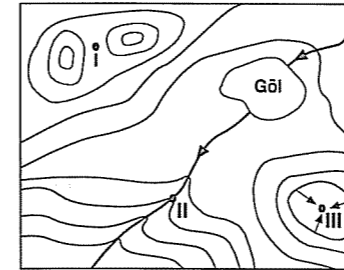
23. Aşağıda Dünya temmuz ayı ortalama indirgenmiş izoterm haritası verilmiştir.



Bu haritadan yararlanılarak, aşağıdakilerden hangisine ulaşılabilir?

- A) Yer şekillerinin ortalama yükseltisine
B) Yıllık sıcaklık farklarına
C) Kıyıların temmuz ayı ortalama gerçek sıcaklığına
D) Yaz mevsimi ortalama indirgenmiş sıcaklığına
E) Yaz mevsiminde en yüksek sıcaklığın hangi günlerde yaşandığına

24. Aşağıda, bir yörenin topoğrafya haritası verilmiştir. Eş yükselti eğrileri 50 metre aralıklarla çizilmiştir.

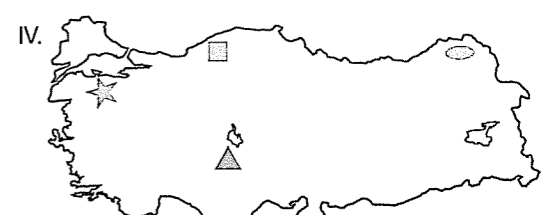
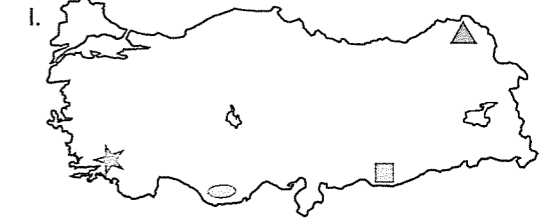


Buna göre, topoğrafya haritasıyla ilgili aşağıdaki yargılardan hangisine ulaşılabilir?

- A) Göl, kapalı bir çukur alanı içinde yer alır.
B) II. nokta III. noktaya göre daha yüksekte bulunur.
C) Gölün ortalama derinliği, çanağın ortalama derinliğine göre daha fazladır.
D) II. nokta kurumuş akarsu yatağında, I. nokta ise bir yamaçta bulunur.
E) Çanağın başladığı yer, II. noktaya göre 200 metre daha yüksekte bulunur.

25. Türkiye'de maki ve çalılıkların yaygın olduğu yerlerde kıl keçisi, bozkır alanlarında koyun, alpin çayırların yaygın olduğu yerlerde sığır, çiçekli bitki ve çam ormanlarının bulunduğu yerlerde ise arı yetiştiriciliği yaygın olarak yapılmaktadır.

- Kıl keçisi ▲ Sığır
□ Koyun ☆ Arıcılık



Buna göre, hayvancılık faaliyetlerinin ülkeye dağılışıyla ilgili yukarıda düzenlenmiş haritalardan hangileri yanlıştır?

- A) Yalnız II B) Yalnız IV C) I ve II
D) I ve III E) III ve IV

26. Aşağıda, dört farklı hava limanının koordinatları ile bu havalimanlarından hareket eden dört farklı uçağın izleyecekleri yönleri verilmiştir.

	Havalimanlarının koordinatları	Uçakların izleyecekleri yönler
I	40° kuzey - 55° doğu	Batı
II	20° kuzey - 15° doğu	Kuzeydoğu
III	45° kuzey - 20° doğu	Güneybatı
IV	30° kuzey - 40° doğu	Doğu

Buna göre, uçaklardan hangilerinin Türkiye'ye ulaşması beklenir?

- A) I ve II B) I ve III C) II ve III
D) II ve IV E) III ve IV

27. ○ Batı Avrupa kıyıları ile Kuzey Amerika'nın doğu kıyılarındaki kıyı çizgisinin birbirine uyacak şekilde olması
○ Hint Yarımadası'nın güneyindeki fosillerle Avusturalya'nın kuzeybatısındaki fosillerin aynı yaşta ve benzer olması
○ Amazon Havzası'nın aşağı çığırındaki püskürük kayalarla Gine Körfezi çevresindeki püskürük kayaların aynı yaşta olması

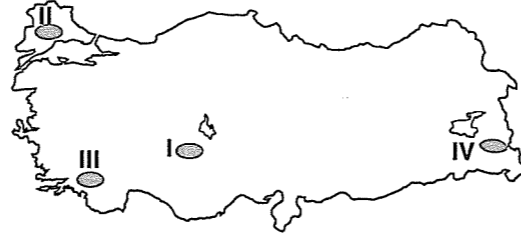

Yukarıdaki durumlara bakılarak aşağıdaki yarılgılardan hangisine ulaşılabilir?

- A) Yerkabuğunun epirojenik olaylara bağlı olarak şekillendiğine
B) Yer'in iç ısıyı kaybetmiş olduğuna
C) Yerkabuğunun hareketini tamamladığına
D) Kıtaların bugünkü yerlerini almadan önce bir arada bulduklarına
E) Yerkabuğunu oluşturan katmanların kalınlığının yer yer değiştiğine

28. Aşağıdakilerden hangisi, ekolojik dengeyi bozarak bir çevre sorununa neden olmaz?

- A) Çayır, mera ve yaylalarda aşırı otlatma yapılması
B) Gölü besleyen akarsuların çevredeki tarım alanlarının sulama suyu ihtiyacını karşılanması amacıyla aşırı kullanılması
C) Nüfusun ve bununla birlikte beslenme ve konut gibi gereksinimlerin giderek artması
D) Tarım alanlarında nöbetleşe ekim yönteminin yaygınlaşması
E) Plansız şehirleşme ve şehirlerin çevreye doğru genişlemesi

29. Aşağıda, bir yer şeklinin kesiti verilmiştir.



Bu yer şeklinin, yukarıdaki haritada numaralanmış yörelerin hangilerinde oluşması beklenmez?

- A) I ve II B) I ve III C) II ve III
D) II ve IV E) III ve IV

30. Nüfus ve yerleşmeyle ilgili olarak aşağıda verilen özelliklerinden hangisinin ortaya çıkmasında iklim koşullarının etkili olduğu söylenemez?

- A) Antarktika'da bilimsel araştırma istasyonları dışında sürekli yerleşim alanı bulunmaması
B) Ekvator çevresinde yerleşme sınırının dünya geneline göre daha yüksek olması
C) Kuzey Yarım Küre'de orta enlemlerin, alçak ve yüksek enlemlere göre daha fazla nüfusa sahip olması
D) Nil Nehri Havzası'nın ağıza yakın kısımlarının orta ve yukarı kısımlara göre daha fazla nüfuslu olması
E) Avrupa'nın güney kıyılarındaki nüfusun kuzey kıyılarına göre daha fazla olması

31. Aşağıda, iki farklı ülkenin bazı nüfus özellikleri verilmiştir.

	I. ülke	II. ülke
Nüfusu	27.345.026	9.016.596
0-14 yaş grubunun oranı	% 32.9	% 16.7
Üniversiteli oranı	% 6.5	% 35.5
Hizmet sektörünün çalışan nüfus içindeki payı	% 49	% 71.8
Sağlık hizmetlerinin durumu	Yetersiz	Gelişmiş
Şehir nüfus oranı	% 65	% 85
Kişi başına düşen gelir	2.200 dolar	36.800 dolar
Doğal kaynakların potansiyeli	Zengin	Fakir
Aritmetik nüfus yoğunluğu	Km ² 'ye 74 kişi	Km ² 'ye 200 kişi
İhracat ürünlerinde ilk sırada yer alan ürünler	ham madde	sanayi ürünleri

Buna göre, verilen nüfus özelliklerinden kaç tanesi ülkelerin gelişme düzeyleri bakımından birbirlerinden farklı olduklarına kanıt olamaz?

- A) 1 B) 2 C) 3 D) 4 E) 5

32. Felsefenin eski Yunan'daki anlamı "bilgelik aşığı"dır. Bu da bilenin değil, bilmek isteyen, amaç değil, ona giden yolun önemli olduğunu gösterir. Tıpkı Cervantes'in yolun kenarındaki hanın ona giden yol kadar ilginç olmadığını söylemesi gibi.

Felsefeyle ilgili aşağıdaki tanımlamalardan hangisi bu açıklamayla aynı anlamdadır?

- A) Felsefe, doğruyu bilmektir.
B) Felsefe, yolda olmak demektir.
C) Felsefe, eleştiriye açıktır.
D) Felsefe, nesnelere düşünce gözüyle görmektir.
E) Felsefe var olanların ilk nedenlerini bilmektir.

33. Denizi hiç görmemiş taşralı yoksul bir halatçı, Napoli körfezine varınca gözünü gemi direkleri, zincirler, halat ve palamarlar yığınının ortasına dikmiş. Yüzü keyifli bir inanmazlıkla aydınlanmış ve dayanamayarak, "Ne çok halat!" diye bağırmış. Felsefe tarihinin engin panoramasına bir göz attığımızda, biz de "Ne çok düşünce ve sözcük" demekten kendimizi alamayız.

Bu açıklama felsefenin hangi özelliğe sahip olduğunu gösterir?

- A) Eleştirel B) Yaratıcı C) Nesnel
D) Kümülatif E) Dogmatik

34. Doğru, bir var oluş ya da mantıksal tutarlılık değildir. Doğruluk, eylemde bulunmak için yararlandığımız fikirlerdir. Örneğin, portakal için doğru toprağın ve iklimin ne olduğu sorusu şöyle cevaplanabilir: Eğer başka bir toprakta değil de bu toprakta portakal ağaçlarının kökleri gelişiyor ve meyve veriliyorsa, doğru toprak ve iklim burasıdır.

Doğruyu bu şekilde ele alan felsefe kuramı aşağıdakilerden hangisidir?

- A) Empirizm B) İdealizm C) Rasyonalizm
D) Kritisizm E) Pragmatizm

35. Aristoteles'e göre dış dünyadaki varlıklar iki öğeden meydana gelmiştir. Bu öğeler madde ve formdur. Örneğin, çamurdan yapılan bir heykeli ele alalım. Heykelin maddesi toprak, formu ise heykeli yapan sanatçının heykeli vermiş olduğu şekil ya da yapıdır. Ancak heykeli heykeli yapan şey maddesi değil formudur.

Aristoteles'in bu varlık anlayışına göre aşağıdakilerden hangisi "form" dur?

- A) Mermer B) Masa C) Balçık
D) Ahşap E) Demir

36. Kendisini yaratma bakımından tamamen özgür olan insan ne istiyorsa onu olacaktır. Ahlak bakımından hiçbir güç tarafından belirlenmediği için de tüm değerlerini kendi kendine yaratma potansiyeline sahiptir. İnsan "Ne ise o değildir.", "Ne değilse o dur."

Ahlak felsefesinde bu düşüncenin temsil ettiği kuram aşağıdakilerden hangisidir?

- A) Varoluşçuluk B) İdealizm
C) Hedonizm D) Egoizm
E) Pragmatizm

37. Bir müzisyen, bülbülleri değil müziği sever; bir şair de güneşin batışını değil, mısraları sever. Örneğin, Cimabue, koyunların resmini yapan çoban Giotto'ya hayran olur. Çünkü Giotto'ya resim yapma aşkını veren koyunlar değil, Cimabue'nin tablolarıdır.

Bu düşünce sanatla ilgili aşağıdaki yaklaşımlardan hangisini destekler?

- A) Sanatın kaynağı doğadır.
B) Sanatsal güzellik doğadan esinlenmekle elde edilir.
C) Sanat gerçeğin kopyasıdır.
D) Sanat, sanatçının hayal gücünden çok gerçeği yansıtır.
E) Yeni sanatlar her zaman eski sanatlardan hareketle kendilerini ararlar.

38. Devletlerin iktidar gücünü kullanma yetkisine ne ad verilir?

- A) Meşruyet B) Bürokrasi C) Sivil toplum
D) Egemenlik E) Sosyal devlet

39. Aristoteles, evreni iç içe geçmiş küreler şeklinde tasarlamış, Dünya'yı da bu sistemin merkezinde hareketsiz duran bir yaşam alanı olarak kabul etmiştir. Güneş de dünyanın çevresinde dönerek gece ve gündüzü oluşturmaktadır. Aristoteles'ten tam 2000 yıl sonra Galileo, merkezde Güneş'in olduğu, Dünya'nın da onun çevresinde dönen bir gezegen olduğunu tasarlamış ve evrendeki tüm olayları bu sisteme göre açıklamıştır. Elbette Galileo'nin sistemi astronomi ile ilgili soruları cevaplamakta daha başarılı olduğu için günümüze kadar gelmiştir.

Bu örnek, bilimle ilgili aşağıdaki yaklaşımlardan hangisini haklı çıkarmak için kullanılmalıdır?

- A) Her bilimsel çalışma daha önceki bilimsel çalışmaların bir devamıdır.
B) Bilim, bilim insanlarının bakış açılarından ve kurgularında bağımsız değildir.
C) Bilim, birikerek ilerleyen bir süreçtir.
D) Bilimsel açıklamalar kesindir.
E) Bilim, gerçek ve olgusal dünya hakkında kişiden kişiye değişmeyen bilgiler verir.


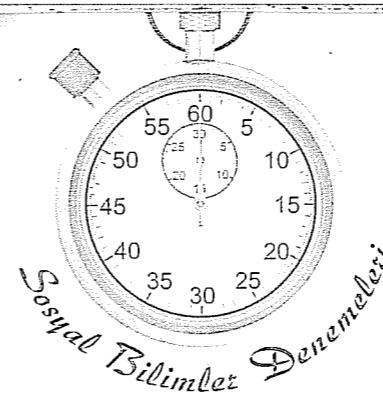
40. Sezgi, zekandan farklı bir şeydir; o içgüdüden doğmuştur. Sezgiyle zeka birbirine karşıt iki yetidir. Zeka, hareketsiz olan maddeyi bilebilir, ancak sürekli hareket halindeki canlıyı ve hayatı bilemez. İşte sezgi durağan olmayan, sürekli değişen bu hayatı bilebilir. Hayat ve zaman ölçülüp hesap edilemez. Ölçülüp hesap edilemeyen bir şeyi de zeka kavrayamaz. İşte sezgi burada devreye girer.

Bu açıklamaya göre aşağıdakilerden hangisi sezginin konusudur?

- A) Dünya'nın kendi eksenini etrafındaki hareketi
B) Maddenin kütlesi
C) Organizmanın yapısı
D) Üçgenin alanı
E) Hayatın anlamı

Sosyal Bilimler Denemeleri

Deneme 15							
1	D	11	D	21	B	31	C
2	C	12	B	22	B	32	B
3	A	13	A	23	C	33	D
4	E	14	C	24	E	34	E
5	A	15	C	25	E	35	B
6	E	16	E	26	C	36	A
7	D	17	D	27	D	37	E
8	E	18	B	28	D	38	D
9	A	19	E	29	A	39	B
10	C	20	D	30	D	40	E



1. Tarih öncesi devirleri ve tarih çağlarını bölümlere ayırırken kullanılan ölçütler birbirinden farklıdır. Tarihi çağlar bölümlere ayrılırken evrensel olaylar dikkate alınır. Tarih öncesi devirler bölümlere ayrılırken dikkate alınır.

Bu paragrafta boş bırakılan yere aşağıdakilerden hangisi getirilmelidir?

- A) o dönemde kurulan uygarlıkların kurulduğu coğrafi bölgeler
B) ulusları etkileyen savaş, göç ve doğal afetler
C) toplumların geçim kaynakları
D) o dönemde insanların kullandığı araç ve gereçler
E) toplumların etkileşimi sonucu ortaya çıkan kültürleri

2. Sümerler, Babiller ve Akadlar Mezopotamya bölgesinde kurulmuş ilk çağ uygarlıklarıdır. Ancak bu uygarlıklar arasında düzenli orduyu kullanan sadece Akadlar olmuştur.

Bu durumun nedeni aşağıdakilerden hangisidir?

- A) Kuruldukları bölgenin savunmaya elverişli olması
B) Toplumsal işbölümünün sağlanmış olması
C) Kültürel etkileşime kapalı olması
D) Merkezi devlet yapılanmasına sahip olması
E) Sık sık istilaya uğraması

3. Hendek Savaşı'nda Müslümanlar Medine'de kalarak savunma savaşı yaptılar. Medine'nin üç tarafı surlarla korunuyordu. Açık olan tarafı da bir ok atma mesafesinde derin hendekler açılarak korundu. Açık olan tarafa bazı Müslümanlar okçuların yerleştirilmesi gerektiğini savunurken, bu bölüme hendek açılmasını öneren Selman isimli bir İranlıydı.

Sadece bu bilgiye bakılarak aşağıdakilerden hangisine ulaşılabılır?

- A) Medine'nin her tarafının surlarla çevrili olduğuna
B) Müslümanların sayıca yetersiz olduğuna
C) Hz. Muhammed'in askeri konularla ilgilenmediğine
D) Müslümanlar arasında savunma taktiğiyle ilgili görüş ayrılığı olduğuna
E) Mekkelilerin Müslümanlardan avantajlı olduğuna

4. Moğol saldırılarından kaçarak Anadolu'ya gelen Türkmenlerin ekonomik sıkıntılarından ve huzursuzluklarından yararlanan Baba İshak, II. Gıyaseddin Keyhüsrev'e karşı ayaklandı. İsyancılar Maraş ve Adıyaman'ı aldı. Ayaklanma dinsel karakter kazanıp yayıldı. Selçuklular bu ayaklanmayı güçlülükle bastırdı. Ordular yorgun düştü, Anadolu'ya giren Moğol ordularına karşı direnemedi.

Sadece bu bilgilere bakılarak aşağıdakilerden hangisine ulaşılamaz?

- A) Baba İshak ayaklanmasının ekonomik, siyasal ve dinsel nitelikler taşıdığına
B) Moğolların Anadolu Selçuklularına karşı saldırgan bir politika izlediğine
C) Selçukluların Baba İshak ayaklanması nedeniyle yıkıldığına
D) Selçuklular'daki iç karışıklıkların dış ilişkileri etkilediğine
E) Selçuklular'ın Moğollar'la yaptığı savaşı kaybettiğine

5. Mısır seferinin aşağıdaki sonuçlarından hangileri Osmanlı Devleti'nin yönetsel niteliğini doğrudan etkilemiştir?

- A) Doğu Akdeniz'in Osmanlı himayesine girmesi
B) Baharat yolunun Osmanlı egemenliğine geçmesi
C) Halifeliğin Osmanlı'ya geçmesi
D) Kuzey Afrika'ya geçişin kolaylaşması
E) Ganimetlerle hazinenin zenginleşmesi

6. I. Skolastik düşüncenin yıkılması,
II. Kilisenin siyasi otoritesinin sarsılması,
III. Avrupa'da mezhep birliğinin bozulması

Avrupa'da yaşanan reform hareketlerinin yukarıdaki sonuçlarından hangileri Türklerin Avrupa'da ilerleyişini kolaylaştırmıştır?

- A) Yalnız I B) Yalnız III C) I ve II
D) I ve III E) I, II ve III

7. XVII. yy.da Anadolu'da çıkan isyanlara Celali isyanları adı verildi.

Aşağıdakilerden hangisi bu isyanların nedenlerinden değildir?

- A) İran ve Avusturya'yla uzun süren savaşlar yapılması
B) Devletin halktan yeni vergiler alması
C) Avrupalı devletlerin kışkırtmaları
D) Tımar sisteminin bozulması
E) Asker kaçaklarının taşrada yarattığı huzursuzluk

8. XVIII. yy.da Osmanlı, Avrupa'nın teknik ve askeri yönden üstünlüğünü kabul ederek Avrupa tarzı yenilikler yaptı.

Aşağıdaki islahatlardan hangisi buna örnek gösterilemez?

- A) Avrupa'dan Rokoko ve Barok tarzı mimari örnekler alınarak eserler yapılması
B) Kara ve deniz mühendishanelerinin kurulması
C) Matematik ve astronomiyle ilgili Fransızcadan eserlerin tercüme edilmesi
D) Ulufe alım-satımının yasaklanması
E) İlk Osmanlı matbaasının kurulması

9. Osmanlı Devleti'nde görülen,

- I. Tanzimat Fermanı,
II. İstibdat Dönemi,
III. Babı Ali Baskını,
IV. 31 Mart ayaklanması

gelişmeleri demokratikleşme ve mutlak monarşi şeklinde iki gruba ayrılrsa aşağıdakilerden hangisi doğru olur?

	Demokratikleşme	Mutlak Monarşi
A)	I - II	III - IV
B)	I - IV	II - III
C)	I - III	II - IV
D)	II - IV	I - III
E)	II - III	I - IV

10. Osmanlı Devleti'nin I. Dünya Savaşı'nda mücadele ettiği aşağıdaki cephelerden hangisi kendi çıkarlarından çok müttefiklerine yardım etmeye yöneliktir?

- A) Irak-Basra Cephesi
B) Çanakkale Cephesi
C) Suriye - Filistin Cephesi
D) Kafkas Cephesi
E) Makedonya Cephesi

11. Kuvayi Milliye'nin,

- I. Halktan katılan gönüllülerden oluşması,
II. Küçük silahlı gruplar halinde olmaları,
III. Düşman işgalini yavaşlatması

özelliklerinden hangileri "millis gücü" olduğunu gösterir?

- A) Yalnız I B) Yalnız II C) I ve II
D) II ve III E) I, II ve III

12. Sivas Kongresi'nde alınan,

- I. Milli Müdafaa cemiyetlerinin birleştirilmesi,
II. Temsil heyetinin yurdun tamamını temsil eder hale getirilmesi,
III. Mebuslar Meclisi'nin toplanması için çalışmalara devam edilmesi

kararlarından hangileri Milli Mücadele'de merkezi otoriteye önem verildiğinin kanıtıdır?

- A) Yalnız I B) Yalnız II C) Yalnız III
D) I ve III E) I, II ve III

13. TBMM'ye karşı çıkan ayaklanmalarda etkili olan,

- I. İstanbul Hükümeti'nin kışkırtmaları,
II. Asker kaçaklarının Anadolu'daki otorite boşluğundan yararlanmak istemeleri,
III. Kuvayi Milliye birliklerinin disiplinsiz hareketleri,

durumlarından hangileri milli mücadele unsurları arasında görüş ayrılıkları olduğunu gösterir?

- A) Yalnız I B) Yalnız III C) I ve II
D) I ve III E) I, II ve III

14. Kütahya-Eskişehir Muharebeleri'nde alınan mağlubiyet TBMM'ye ve düzenli orduya duyulan güveni sarstı.

Sakarya Meydan Muharebesi öncesinde başvuru,

- I. Başkomutanlık Kanunu'nun çıkarılması,
II. Teklifi Milliye emirlerinin yayınlanması,
III. İstiklal Mahkemeleri'nin kurulması

uygulamalarından hangileri meclisteki fikir ayrılıklarına son verip hızlı karar almak amaçlıdır?

- A) Yalnız I B) Yalnız II C) I ve II
D) II ve III E) I, II ve III

15. Lozan Konferansı'nda hem birçok devleti ilgilendiren hem de geçmişten gelen sorunların görüşülmesi nedeniyle bazı sorunlar çözülememiştir.

Aşağıdakilerin hangisinde çözülebilen ve çözülemeyen sorunlar doğru verilmiştir?

Cözülen	Çözülemeyen
A) Irak sınırı	Boğazlar
B) Kapitülasyonlar	Boğazlar
C) Boğazlar	Irak sınırı
D) Suriye sınırı	Kapitülasyonlar
E) Boğazlar	Kapitülasyonlar

16. 1923-1930 yılları arasındaki Türk dış politikasıyla ilgili aşağıdaki gelişmelerinden hangisi kapitülasyonların kaldırılmasını pekiştirmiştir?

- A) Nüfus mübadelesi
B) Yabancı okullarda Türkçe, tarih, coğrafya gibi derslerin Türk öğretmenler tarafından okutulması
C) Irak sınırı ve Musul sorununun çözülmesi
D) Osmanlıdan kalma borçların taksitli bağlanması
E) Kabotaj Kanunu'nun kabul edilmesi

17. Laiklik ilkesine aykırı olmasına rağmen 1924 Anayasası'na "Devletin dini İslam'dır." maddesinin konulmasına bakılarak,

I. Halifeliğin kaldırılmasına gelecek tepkilerin önlenmek istenmesi,

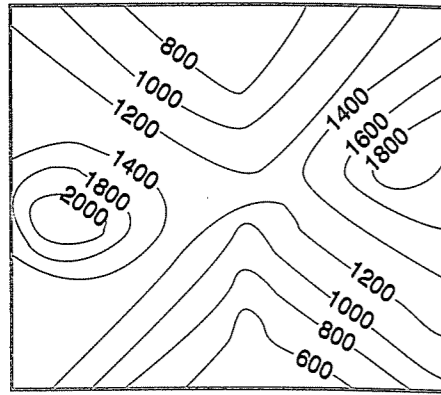
II. Müslüman devletlerle olan ilişkilerin korunmak istenmesi,

III. Laikliğin tam anlamıyla gerçekleşmesi için zamana ihtiyaç duyulduğu

yargılarından hangilerine ulaşılabilir?

- A) Yalnız I B) Yalnız II C) I ve II
D) I ve III E) I, II ve III

18. Aşağıda, bir yörenin topoğrafya haritası verilmiştir.



Buna göre, yöreyle ilgili aşağıdaki yargılardan hangisi söylenemez?

- A) Boyun bölgesinden doğuya veya batıya doğru gidildiğinde bir sırt boyunca yol alınır.
B) Dorukların yükseltileri birbirinden farklıdır.
C) Yamaçların ortalama eğimleri birbirine yakındır.
D) Boyun bölgesi, 1200-1400 metre yükseltiler arasında yer alır.
E) Kurumuş akarsu yataklarında yükselti aynı yönde doğru artar.

19. Belli ölçütlere dayanarak oluşturulan aşağıdaki bölgelerden hangisinin haritasının zaman içinde yeniden düzenlenmesi gerekmez?

- A) Maden bölgesinin
B) Siyasi bölgelerin
C) Turizm bölgelerinin
D) Su havzaları bölgesinin
E) Nüfus bölgelerinin

20. Türkiye'de,

- o Bolu ve Kastamonu yörelerinde orman ürünleri ve ormancılığın,
- o Manisa ve Uşak'ta tuğla ve kiremit üretiminin,
- o Bilecik ve Çanakkale'de seramik sanayisinin,
- o Konya ve Ankara'da unlu ürünler sanayisinin

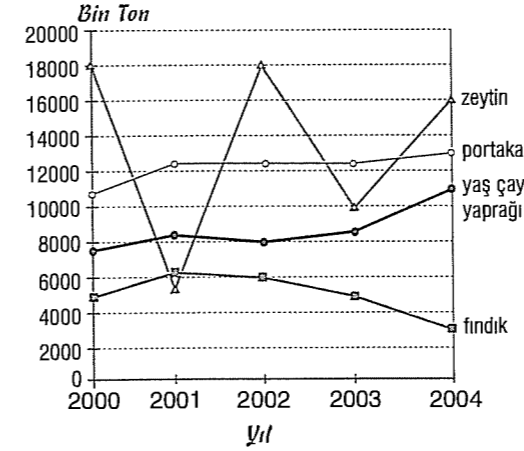
gelişmiş olması, sanayinin kuruluş yerinin belirlenmesinde aşağıdaki faktörlerden hangisinin etkili olduğuna kanıttır?

- A) Enerji faktörünün
B) Ham madde kaynaklarının
C) Nitelikli işçi ihtiyacının
D) Ulaşım olanaklarının
E) Pazar koşullarının

21. Aşağıdakilerin hangisinde I.'de verilen durumun II.'ye neden olduğu söylenemez?

- | I. durum | II. durum |
|--|---|
| A) Yer'in kutuplardan basık olması | Yer çekiminin enleme göre değişmesi |
| B) Güneş ışınlarının geliş açısının kutuplara doğru küçülmesi | Orman üst sınırının kutuplara doğru azalması |
| C) Meridyenlerin kutuplara birleşmesi | Meridyenler arasındaki zaman farkının 4 dakika olması |
| D) Çizgisel dönüş hızının Ekvator'dan kutuplara doğru azalması | Tan ve gurub vakti sürelerinin enleme göre değişmesi |
| E) Buharlaşma miktarının Ekvator'dan kutuplara doğru azalması | Deniz tuzluluk oranının enleme göre değişmesi |

22. Aşağıdaki grafikte Türkiye'de dört tarım ürününün 2000-2004 yılları arasındaki üretimleri ton olarak gösterilmiştir.



Buna göre, aşağıdaki yorumlardan hangisi yanlıştır?

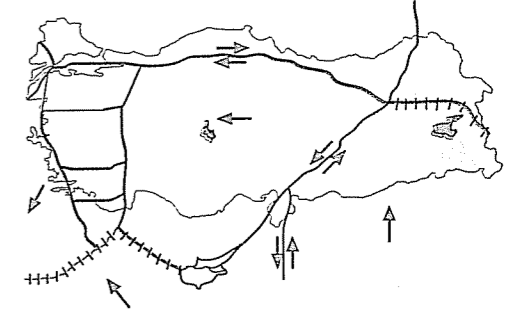
- A) En büyük dalgalanma zeytin üretiminde görülmektedir.
B) Yaş çay yaprağı üretimindeki en belirgin artış 2003-2004 yılları arasında olmuştur.
C) 2002 yılında tüm ürünlerin üretimi en fazladır.
D) Yıllara göre en az dalgalanma, portakal üretiminde görülmektedir.
E) 2001 yılından itibaren fındık üretiminde düşme olmuştur.

23. Dünya genelinde çok yüksek dağlık alanlar, kutuplara yakın bölgeler, yüksek sıcaklık ve şiddetli kuraklığın yaşandığı yerler, yerleşme için uygun değildir. Ancak söz konusu olumsuz coğrafi koşullara rağmen bu alanlarda bazı nedenlerden dolayı bazı yerleşmeler kurulmuştur.

Buna göre, aşağıdakilerden hangisi bu tür yerleşmelere bir örnek değildir?

- A) Roma B) La Paz C) Dikson
D) Ust Nera E) Mekke

24. Aşağıdaki haritada, Türkiye'den geçen büyük levha sınırları ve hareket yönleri verilmiştir.



Bu haritadaki bilgilerden yararlanılarak Türkiye'de yaşanan aşağıdaki doğal afetlerden hangisinin dağılışı hakkında yorum yapılabilir?

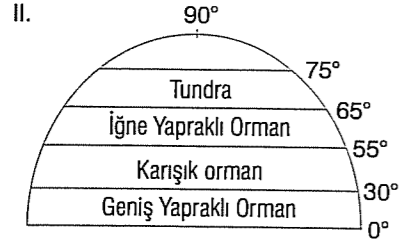
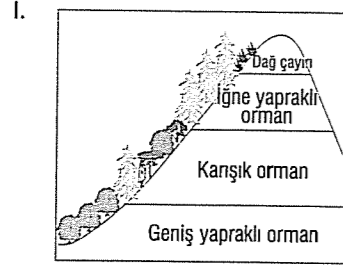
- A) Tektonik deprem B) Çığ
C) Heyelan D) Erozyon
E) Taşkınlar

25. o Amazon Bölgesi'nde yaşayan ve yağışlı dönemin başlamasıyla yavrulayan anakondaların yavrulama dönemi, 1990 yılından sonra kurak dönemin uzamasıyla birlikte daha geç gerçekleşmeye başladı.
o 1980 yılından bu yana Kuzey Denizi'nde deniz suyunun ortalama sıcaklık değerinin 1°C artmasıyla burada yaşayan bazı soğuk su balıkları 100 km kuzeye doğru göç etmiştir.

Yukarıda verilen olaylara, aşağıdakilerden hangisinin neden olduğu söylenebilir?

- A) Levha sınırlarındaki tektonik hareketliliğin artmasının
B) Atmosferde karbon grubu gazların artmasının
C) Volkanik faaliyetlere bağlı olarak atmosfere yayılan kül ve gaz miktarının artmasının
D) Atmosferdeki radyoaktif kirliliğin artmasının
E) Okyanusun taşıyıcı kuşaklara olan sıcak ve soğuk su akıntılarının hızlanmasının

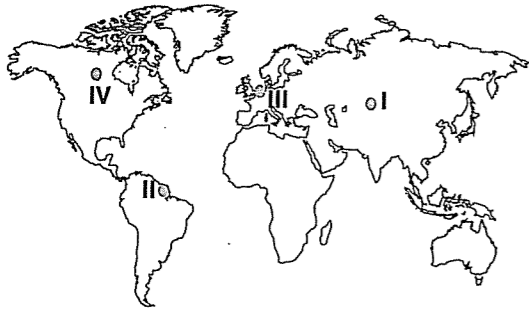
26. Aşağıda, bitki türlerinin oluşturdukları kuşaklar verilmiştir.



Şekillerde verilen bilgiler, aşağıdaki yargılardan hangisine ulaşmada yararlanılabilir?

- A) Bitki türlerinin yeryüzüne dağılışında sıcaklık önemli bir etkidir.
 B) Bitki türlerinin değişmesinde yağış miktarı ve yağış rejiminin değişmesi önemli rol oynar.
 C) Jeolojik süreçler içindeki iklim değişimleri bitki türlerinin yer yüzüne dağılışını etkilemiştir.
 D) Bitki türlerinin yeryüzüne dağılışında iklimle birlikte toprak faktörü de önemli bir etkidir.
 E) Beşerî faktörler, bitki türlerinin dağılışı, yoğunluğu ve niteliği üzerinde belirleyici olan etkenlerdendir.

27.



İklim koşulları göz önüne alındığında, yukarıdaki haritada numaralanmış yörelerin hangilerindeki akarsuların daha çok yağmur sularıyla beslendiği söylenebilir?

- A) I ve II
 B) I ve III
 C) II ve III
 D) II ve IV
 E) III ve IV

28. Dört farklı ticaret gemisinden,

- K, Hindistan'dan Japonya'ya,
- L, Mısır'dan İngiltere'ye
- M, ABD'nin doğu kıyılarından Şili'ye
- N, Kuveyt'ten Avustralya'nın güney kıyılarına hareket etmiştir.

Buna göre, aşağıdakilerden hangisi bu ticaret gemilerinin geçtiği su yollarından biri değildir?

- A) Hürmüz Boğazı
 B) Malakka Boğazı
 C) Babülmendep Boğazı
 D) Panama Kanalı
 E) Cebelitarık Boğazı

29. Akdeniz ve Ege kıyılarında yaz mevsiminin sıcak ve kurak geçmesi, aşağıdakilerden hangisi üzerinde etkili değildir?

- A) Seracılığın gelişmesinde
 B) Tarımda sulamaya gereksinim duyulmasında
 C) Orman yangınlarının artmasında
 D) Deniz turizmine elverişli sürenin uzun olmasında
 E) Tarım ürünlerinde olgunlaşma süresinin kısa olmasında

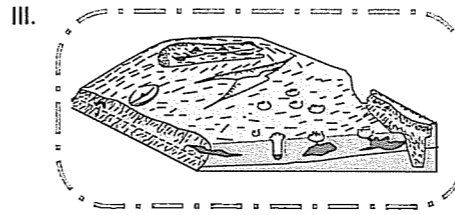
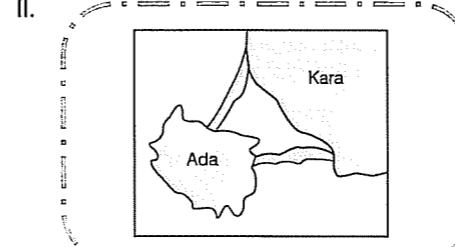
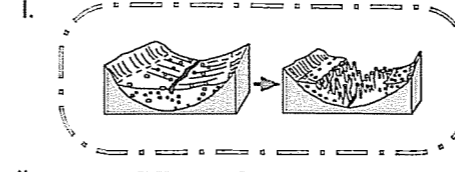
30. Aşağıda, tarihsel süreçte yaşanan bazı durumlar verilmiştir.

- İnsanların alet yapımını keşfetmesiyle yetersiz beslenme azalmış ve vahşi hayvanlara karşı mücadelede önemli ilerlemeler yaşanmıştır.
- Yaklaşık günümüzden 10.000 yıl önce insanlar yerleşik hayata geçerek hayvanları evcilleştirmiş ve tarımla uğraşmaya başlamıştır.
- Sanayi Devrimi ile yaşam düzeyi yükseldi, tıp alanında ilerlemeler oldu. Beslenme ve sağlık koşulları düzeldi. İletişim ve taşımacılıkta önemli gelişmeler yaşandı.

Buna göre, aşağıdakilerden hangisinin bu durumun ortak özelliği olduğu söylenebilir?

- A) Nüfusun dağılışındaki dengenin sağlanması
 B) Nüfus sıçramasının yaşanması
 C) İç göç hareketlerinin artması
 D) Nüfus artış hızının düşmesi
 E) Ortalama yaşam süresinin kısalması

31. Aşağıda, üç farklı yer şekli verilmiştir.



Bu yer şekillerinden herbirinin yukarıdaki haritada verilen K, L ve M yörelerinden hangilerinde bulunduğu söylenebilir?

- | | I | II | III |
|----|---|----|-----|
| A) | L | M | K |
| B) | M | K | L |
| C) | K | L | M |
| D) | L | K | M |
| E) | K | M | L |

32. "Yağmur yağıyor." bilgisinin doğruluğunu kanıtlamak için pencereye giderim, yağmurun yağdığını görürüm ve aşağıda yolun ıslanmış olduğunu saptarım.

Bilginin doğruluğunu bu şekilde değerlendiren felsefi kuram aşağıdakilerden hangisidir?

- A) Empirizm
 B) İdealizm
 C) Kritisizm
 D) Rasyonalizm
 E) Septisizm

33. Felsefe, gizemli hikmetlerle dolu görünen birkaç ağırbaşlı, saygıdeğer sakallı üstadın dile getirdiği gizemli kavramlardan oluşmuş ince, karmaşık örümcek ağı değildir. Felsefe bize her tarihi çağı, o çağa egemen olmuş yaşamın ve kuşakların bakışıyla, anlama olanağı verir.

Aşağıdakilerden hangisini yaparsak felsefenin yukarıdaki anlamına uygun davranmamış oluruz?

- A) Geçmişte ve günümüzdeki büyü ve mitolojilerin verilerinden yararlanmak
 B) Ortaçağdaki siyaset, inanç, sanat ve bilimin verilerinden yararlanmak
 C) Geçmişteki düşünce akımlarını incelemek
 D) Bilimin insan hayatındaki önemini araştırmak
 E) Yunan Uygarlığında felsefenin niçin çok geliştiğinin nedenlerini araştırmak

34. Hegel, varlığın varlığa gelme sürecini üç aşamada anlatmaktadır:

- I. Başlangıçta varlık "İde" denen gerçeklikten yoksun bir imkanlar dünyasıdır.
 II. İde, gerçeklik kazanmak ister ve kendisini dışlaştırarak düşünsel yapıdan maddi yapıya geçer.
 III. Düşünsel yapıdan maddi yapıya geçen "ide" özgürlüğünü kaybettiği için tekrar kendine geri döner.

Hegel'in varlığı bu şekilde açıklama sürecine ne ad verilir?

- A) Materyalizm
 B) Fenomenoloji
 C) Entüisyonizm
 D) Pozitivizm
 E) Diyalektik

35. Aşağıdakilerden hangisi ahlak felsefesinin temel kavramlarından birisi değildir?

- A) Erdem
 B) Yanlış
 C) Mutluluk
 D) Sorumluluk
 E) İyi

36. Her seyirci, her dinleyici estetik zevkini, bulduğu yerde alır ve zevklerin çeşitliliği çok renkli, çok kıvrımlı bir yelpaze üzerinde sıralanır. Sanattan hoşlanan birinin zevkini incelemenin imkansız olduğu söylenebilir. Çünkü ortada tek değil binlerce zevk vardır.

Bu açıklamanın konusu sanat felsefesiyle ilgili aşağıdaki temel kavramlardan hangisiyle ilgilidir?

- A) Estetik özneyle B) Estetik nesneyle
C) Estetik yargıyla D) Taklit kuramıyla
E) Ortak estetik yargıyla

37. Filozof işine rotası bilinen bir limana doğru çizilmiş gemiye binmekle değil, evrenin bir yerinde bilinmeyen bir limandan başlar.

Bu düşünce felsefeyle ilgili aşağıdaki saptamalardan hangisini anlatmaya çalışmaktadır?

- A) Felsefenin konusunun varlık olduğu
B) Felsefenin bilimlerin verilerinden yararlandığını
C) Felsefenin öznel bir etkinlik olduğunu
D) Felsefenin yaşamı kolaylaştırmadığını
E) Felsefenin var olan anlamın dışında başka anlamlar aradığını

38. Fizik bilimindeki gelişmeler teknolojiye dönüştürülmeseydi teleskop icat edilemeyecekti ve buna bağlı olarak da astronomi bilimi gelişmeyecekti. Yine mikroskop icat edilmeseydi, biyoloji ve tıp bilimindeki gelişmeler ortaya çıkmayacaktı. O halde geçmişteki bilim insanlarının ve çalışmalarının bilimin bugün geldiği noktada önemli payları vardı.

Bu açıklama bilimle ilgili aşağıdaki düşüncelerden hangisinin doğruluğunu destekler?

- A) Bilim birikerek ilerleyen bir süreçtir.
B) Bilim, bilim insanlarının dünya görüşünün yansıtıldığı bir etkinliktir.
C) Bilim, bilim insanının evreni kurgulamasının ürünüdür.
D) Bilim varsayım ve kuramlardan oluşur.
E) Her bilimsel kuram başka bir bilimsel kuramın alternatifi olarak ortaya çıkar.

39. Toplumı yönetenler her ne kadar halk tarafından seçilseler bile, bazen yöneticiler bireylerin haklarını gasp edebilirler, hatta bunun için kanun bile çıkarabilirler. Bu durumdan korunmak için bireyler, kendi meslek örgütlerini kurmuşlardır. Bir toplumun demokratik olmasının ölçütlerinden birisi de bu meslek örgütlerinin ne kadar aktif olduğuna bağlıdır.

Bu açıklamada siyaset felsefesinin temel kavramlarından hangisinin önemine değinilmiştir?

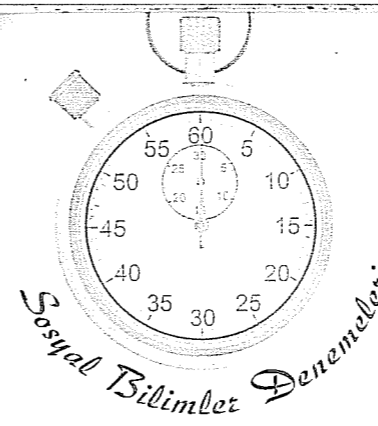
- A) Bürokrasiye B) Egemenliğe C) İktidara
D) Meşruiyete E) Sivil topluma

40. Üniversite sınavında istediği bölümü kazanan öğrenci, o bölümü özgürce seçtiğini düşünür. Ancak dikkatlice bakarsak, seçiminde arkadaşlarının, ailesinin, toplumda o mesleğe duyulan saygının, sevdiği bir öğretmenin düşüncesinin ne kadar etkili olduğunu görürüz.

Bu örnekle aşağıdakilerden hangisi kanıtlanmaya çalışılmıştır?

- A) Ahlaki kararlarımızın nesnel olduğu
B) İnsan özgürlüğü diye bir şeyin olmadığı
C) İnsan davranışlarını düzenleyen evrensel yasaların olduğu
D) Ahlakın kaynağının özgürlük olduğu
E) İnsanın iyi ve kötüyü seçme hakkı olduğunu

Deneme 16							
1	D	11	C	21	C	31	C
2	D	12	E	22	C	32	A
3	D	13	B	23	A	33	A
4	C	14	A	24	A	34	E
5	C	15	B	25	B	35	B
6	B	16	E	26	A	36	A
7	C	17	D	27	C	37	E
8	D	18	E	28	C	38	E
9	C	19	D	29	A	39	A
10	E	20	B	30	B	40	B



1. Tarımsal faaliyetlerin başlaması, insanların tarlalarına yakın evler yaparak yerleşik hayata geçmesini sağlamış ve göçebe yaşam tarzının terk edilmesine ortam hazırlamıştır. İlk kez bu dönemde köyler kurulmuştur.

Yerleşik yaşama geçilmesi ve köylerin kurulması,

- I. Mimari faaliyetlerin başlaması,
II. Savunma tedbirlerine duyulan ihtiyacın artması ve askerlik anlayışının doğması,
III. İşbölümünün ve mesleklerin belirginleşmesi

sonuçlarından hangisine ortam hazırlamıştır?

- A) Yalnız I B) Yalnız III C) I ve II
D) I ve III E) I, II ve III

2. İlkçağ uygarlıklarının farklı coğrafyalarda kurulmalarına rağmen birbirlerinden etkilendikleri görülmektedir.

İlkçağ düşünce hayatında Doğu ve Batı kültürlerinin kaynaşmasında,

- I. Yazının bulunması,
II. Bazı toplumlarda skolastik düşüncenin varlığı,
III. Paranın icat edilmesi

durumlarından hangileri etkili olmuştur?

- A) Yalnız I B) Yalnız II C) I ve II
D) I ve III E) I, II ve III

3. Hunların baskısı sonucu Avrupa'daki kavimlerin Avrupa'nın batısına doğru göç etmesine Kavimler Göçü denir.

Aşağıdakilerden hangisi Kavimler Göçü'nün sonuçlarından değildir?

- A) Topraksız kalan halkların derebeylerine sığınması
B) Kilisenin gücünün artması
C) Merkezi krallıkların güç kaybetmesi
D) İslamiyet'in Avrupa'da yayılması
E) Roma İmparatorluğu'nun parçalanması

4. İslam tarihiyle ilgili aşağıdaki kavramlardan hangisinin açıklaması yanlış verilmiştir?

- A) Beyt'ül mal: Devlet hazinesi
B) Mevali: Emevilerin Arap olmayanları köle olarak görmesi
C) Cizye: Müslüman olmayanlardan askerlikten muaf olmaları karşılığı alınan vergi
D) Tevaifi Mülük: Medine İslam Devleti'ne komşu olan Müslüman devletler
E) Ehli Kitab: Tek tanrılı dinler

5. Türklerin İslamiyeti kabul etmesini kolaylaştıran aşağıdaki faktörlerden hangisi Türklerin askeri anlayışlarıyla ilgilidir?

- A) "Tek Tanrı" inancının yaygın olarak benimsenmesi
 B) Ahlak anlayışlarının benzerlik göstermesi
 C) Abbasilerin ırkçı politika izlemeyerek tüm uluslara eşit davranması
 D) Türklerin cihan hakimiyeti düşüncesiyle İslam'ın cihat anlayışının bağdaşması
 E) Ölümünden sonra yaşamın olduğuna dair bir inancın bulunması

6. II. Kosova Savaşı'nın,

- I. Balkanlarda Türk hakimiyetinin kesinleşmesi,
 II. Haçlıların savunmaya çekilmesi,
 III. Osmanlıların İslam dünyasındaki prestijinin artması

sonuçlarından hangilerinin İstanbul'un fethini kolaylaştırdığı söylenebilir?

- A) Yalnız I B) Yalnız II C) I ve II
 D) II ve III E) I, II ve III

7. Fransız İhtilali'nin aşağıdaki sonuçlarından hangisi imparatorlukların yıkılmasına doğrudan ortam hazırlamıştır?

- A) Egemenliğini Tanrı'dan aldığına inanan krallıkların yıkılması
 B) Eşitlik, özgürlük, adalet kavramlarının yaygınlaşması
 C) Ulusların kendi kaderini tayin etme hakkının yaygınlaşması
 D) Demokratik yönetimlerin yaygınlaşması
 E) Yakınçağı başlatmış olması

8. XVII. yy.da imzalanan Karlofça Antlaşması Osmanlı'nın ilk devletlerarası paylaşım planıdır. Osmanlı, Haçlı birliği karşısında aldığı yenilgi sonrası bu antlaşmayı imzalarken İngiltere'nin arabuluculuğundan faydalandı.

Bu bilgiye göre,

- I. İngiltere Osmanlı Devleti'ni desteklemektedir,
 II. Osmanlı sorunlarını kendi gücüyle çözemeyecek konumdadır,
 III. Osmanlı siyasi gücünü kaybetmemiştir

yargılarından hangilerine ulaşılabilir?

- A) Yalnız I B) Yalnız II C) I ve II
 D) II ve III E) I, II ve III

9. XIX. yy.da imzalanan Paris Antlaşması'na göre: "Osmanlı Devleti; Avrupa devleti sayılacak, devletler genel hukukundan yararlanacak ve toprak bütünlüğü Avrupalı devletlerin garantisi altında olacaktır."

Bu maddeyle,

- I. Osmanlı Devleti, Avrupalı devletlerin üstünlüğünü kabul etmiştir,
 II. Osmanlı Devleti'nin Avrupa'yla ilişkileri güçlenmiştir,
 III. Osmanlı Devleti'nin kaybettiği toprakları geri alma şansı doğmuştur

yorumlarından hangilerine ulaşılabilir?

- A) Yalnız I B) Yalnız II C) I ve II
 D) I ve III E) I, II ve III

10. Osmanlı Devleti'nin ilan ettiği Tanzimat ve Islahat Fermanları'yla,

- I. İmparatorluğun dağılmasını önlemek,
 II. Rejim değişikliğini gerçekleştirmek,
 III. Avrupalı devletlerin iç işlerine karışmasını önlemek

amaçlarından hangilerine ulaşmaya çalıştığı söylenebilir?

- A) Yalnız I B) Yalnız II C) I ve II
 D) I ve III E) I, II ve III

11. Osmanlı Devleti'nin I. Dünya Savaşı'na girmesiyle ortaya çıkan,

- I. Yeni cephelerin açılması ve savaşın geniş alanlara yayılması,
 II. İngiltere'nin Kıbrıs topraklarına kattığını açıklaması,
 III. Osmanlı topraklarının Antlaşma Devletleri'nin aralarında yaptıkları gizli antlaşmalarla paylaşılması

gelişmelerinden hangileri Osmanlı'nın savaşa girme nedenlerinden olan "kaybettiği toprakları geri alma" politikasıyla çelişir?

- A) Yalnız I B) Yalnız II C) I ve II
 D) II ve III E) I, II ve III

12. Milli varlığa zararlı cemiyetlerden İngiliz Muhipleri Cemiyeti, Said Molla tarafından kurulmuştu. Cemiyetin görünmeyen lideri ise İngiliz rahip Frew'dü. Cemiyetin merkezi İstanbul olup padişah, sadrazam ve birçok bakan bu kuruluşun üyesiydi.

Bu bilgilere bakılarak aşağıdakilerden hangisine ulaşılamaz?

- A) İngiliz Muhipleri Cemiyeti'nin hem iç hem de dış destek aldığına
 B) Osmanlı yürütme organlarının ulusal bilinçten uzak olduğuna
 C) Yasamanın İngilizlerin denetimine girdiğine
 D) Ülke içinde manda ve himaye yanlılarının olduğuna
 E) Milli mücadelenin ülkenin tamamı tarafından benimsenmediğine

13. "Sivas Kongresi'nden sonra İstanbul hükümeti memleketsiz bir hükümet olmuştur." yargısına neden olan gelişme aşağıdakilerden hangisidir?

- A) M. Kemal Paşa'nın Milli Mücadele'nin lideri olması
 B) Misakı Milli'nin esaslarının belirlenmiş olması
 C) Temsil Kurulu'nun Anadolu'ya atanan komutan ve valileri kabul etmeyip haberleşmeyi kesmesi
 D) Sivas'ta cemiyetlerin birleştirilmesi
 E) Yurdun her yerinden delegelerin Sivas'a gelmiş olması

14. Kurtuluş Savaşı dönemindeki,

- I. Moskova Antlaşması,
 II. Londra Konferansı,
 III. II. İnönü Savaşı,
 IV. Tekalifi Milliyeye Emirleri

gelişmeleri aşağıdakilerin hangisinde doğru sıralanmıştır?

- A) III - I - IV - II
 B) III - II - I - IV
 C) II - III - IV - I
 D) II - I - III - IV
 E) I - II - III - IV

15. Lozan Konferansı'nda İtilaf Devletleri'nin aşağıdaki tutumlarından hangisi yeni Türk devletinin bağımsızlığını tanımak istemediklerinin doğrudan kanıtıdır?

- A) Kapitülasyonların devamını sağlamaya çalışmaları
 B) Misakı Milli'de yer almasına rağmen Hatay'ın sınırlarımız dışında kalması
 C) Osmanlı borçlarının büyük bölümünü TBMM'den istemeleri
 D) Duyunu Umumiye İdaresi'nin kaldırılmasının kabul edilmesi
 E) Fener Rum Patrikhanesi'nin kaldırılmasını kabul etmemeleri

16. Laiklik ilkesi doğrultusunda yapılan aşağıdaki inkıaplardan hangisi başka bir ilkenin kapsamına da girer?

- A) Halifeliğin kaldırılması
 B) Tekke ve zaviyelerin kapatılması
 C) İbadet yerleri dışında dinsel kıyafetle dolaşmanın yasaklanması
 D) Medreselerin kapatılması
 E) Şeriye ve Evkaf vekaletinin kaldırılması

17. Atatürk: "Millî eğitim esas olduktan sonra onun dilini, yöntemini, araçlarını da millî yapmak zorunluluğu tartışmaktan uzaktır."

sözyle Türk Millî Eğitim politikasının dayandığı,

- I. Çağdaşlık
- II. Bilimsellik
- III. Ulusallık

esaslarından hangilerini vurgulamıştır?

- A) Yalnız I B) Yalnız III C) I ve II
D) I ve III E) I, II ve III

18. Bir akarsu yatağı boyunca eş yükselti eğrileri arasındaki mesafenin her yerde aynı olmaması, akarsuyun,

- I. uzunluğu,
- II. akım miktarı,
- III. akış hızı,
- IV. akım düzeni

özelliklerinden hangilerini etkiler?

- A) I ve II B) I ve III C) II ve III
D) II ve IV E) III ve IV

19. Aşağıdaki durumlardan hangisinin beşerî faaliyetler üzerinde olumsuz etkide bulunduğu söylenemez?

- A) Ganj ve Brahmaputra nehirlerinin yaz mevsiminde sık sık taşkın yapmasının
- B) Meksika Körfezi çevresinde bazı dönemlerde saatteki hızı 120 km'yi aşan, dönen hava kolonlarının oluşmasının
- C) Akarsuların, su toplama havzalarından taşıdıkları alüvyonları deltalara ulaştırmasının
- D) Güneydoğu Asya kıyılarındaki aktif volkanların belirsiz aralıklarla faaliyete geçmesinin
- E) Orta kuşak karasal iklim bölgelerinde, ilkbahar yağışlarının uzun süre normal değerlerinin altında düşmesinin

20. Büyük nehirlerin birleştiği deniz seviyesine yakın düzlüklerde şiddetli yağışlar ve ani kar erimelerine bağlı olarak taşkınlar oluşur.

Buna göre, aşağıdaki kentlerin doğal koşulları göz önüne alındığında, hangisinde taşkınların olma olasılığının diğerlerinden daha fazla olduğu söylenebilir?

- A) Dakka B) Banda Aceh C) Bam
D) Kudüs E) La Paz

21. o Rusya Federasyonu'nda yer alan Ust Nera'da sıcaklıklar sık sık -60 , -70°C 'ye kadar düşmektedir. Bu koşullara rağmen kentte on bin aşkın nüfus yaşamaktadır.

- o Dikson, Sibirya'nın Tamir Yarımadası'nın en batı ucunda yer alır. Yazları ılık geçen kentte 3 ay boyunca Güneş ufuktan kaybolmaz. Kentte üç bin civarında nüfus yaşamaktadır.

Buna göre, Ust Nera ve Dikson'da olumsuz coğrafi koşullara karşın belirli nüfusun barınması aşağıdaki durumlardan hangisiyle açıklanabilir?

- A) Kutsal mekanların bulunması
- B) Turizm etkinliklerinin gelişmiş olması
- C) Değerli maden yataklarına sahip olması
- D) Önemli transit ticaret yolları üzerinde bulunması
- E) İdari açıdan önemli bir konumda olması

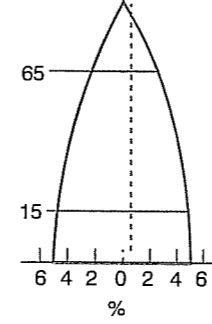
22. Bir araştırma gemisi, Japonya'dan İngiltere'ye ulaşmak için aşağıdaki rotayı izlemiştir.



Buna göre, araştırma gemisinin aşağıdaki okyanus akıntılarının hangisinin etkili olduğu bir bölgeden geçtiği söylenemez?

- A) Madagaskar B) Kanarya C) Kroşivo
D) Benguela E) Peru

23. Aşağıda, bir ülkenin nüfus piramidi verilmiştir.



Buna göre, söz konusu ülkede,

- I. çocuk nüfus oranı,
- II. ortanca yaş,
- III. yaşlı nüfus oranı,
- IV. bağımlı nüfus oranı,
- V. ortalama yaşam süresi

niceliklerinden hangilerinin diğerlerinden düşük olduğu söylenebilir?

- A) I ve IV B) II ve III C) II ve V
D) IV ve V E) I, II ve IV

24. Bir ülke sonbahar ve kış aylarında kuzeyden gelen soğuk hava kütesi ile güneyden sokulan nispeten ılık hava kütesinin etkisi altına giriyor.

Bu durum, söz konusu ülkeyle ilgili aşağıdaki yargılardan hangisine ulaşmada yeterlidir?

- A) Kuzey Yarım Küre'nin ılıman kuşağında yer alır.
- B) Yer şekillerinde engebe ve yükselti fazladır.
- C) Kuzey-güney yönünde geniş alan kaplar.
- D) Tropikal kuşakta, okyanus kıyısında bulunur.
- E) Her iki yarım kürede de toprakları bulunur.

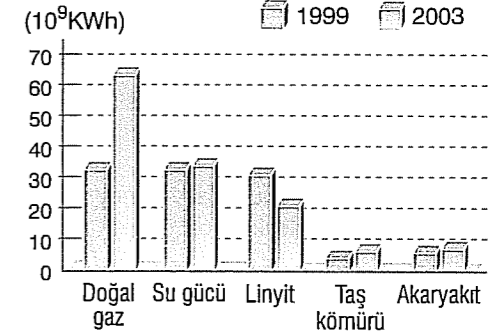
25. Aşağıda, dört farklı bitki örtüsünün özellikleri verilmiştir.

- o Soğuğa dayanıklı otsu bitki topluluklarıdır. Bu otlar ancak, kısa ve serin geçen yaz döneminde yeşerir.
- o İlkbahar yağışlarına bağlı olarak yeşeren bu otlar yaz kuraklığından dolayı sararır. Bu bitkileri, kökleri derine inmiş kurakçıl otlar oluşturur.
- o Tropikal kuşakta görülen uzun boylu ot topluluklarıdır. Bu ot toplulukları içinde kurakçıl nitelikte tek tek ağaçlara veya ağaç kümelerine de rastlanır. Yaz yağışlarına bağlı olarak yeşeren bu otlar, kış mevsiminin kurak geçmesinden dolayı sararır.
- o Orman üst sınırından sonra yetişen bu ot formasyonunda bitki türleri, yazların serin ve yağışlı geçmesi nedeniyle yaz boyu yeşil kalır.

Aşağıdakilerden hangisi, bu bitki örtülerinden biri değildir?

- A) Bozkır B) Savan C) Dağ çayırı
D) Tundra E) Garig

26. Aşağıdaki grafikte, Türkiye'de 1999 ve 2003 yıllarında üretilen elektriğin enerji kaynaklarına göre dağılışı gösterilmiştir.



Yalnızca grafikteki bilgilerden yararlanılarak aşağıdaki yorumlardan hangisine ulaşılamaz?

- A) 1999 yılında doğal gaz, su gücü ve linyitten elde edilen enerji miktarları birbirine yakındır.
- B) En büyük artış miktarı doğal gazla üretilen enerjide olmuştur.
- C) Su gücünden elde edilen enerji miktarındaki artış, fosil yakıtların tüketimini azaltmıştır.
- D) 2003 yılında, yalnızca linyitten elde edilen enerji üretiminde azalma olmuştur.
- E) 2003 yılında, taş kömürü ve akaryakıt kullanılarak elde edilen enerji miktarı birbirine yakındır.

27. Türkiye'nin ekonomisini etkileyen aşağıdaki özelliklerinden hangisi, ülkenin jeopolitik konumunun bir sonucudur?

- A) Sıcak su kaynakları potansiyelinin fazla olması
B) Hidroelektrik potansiyelinin fazla olması
C) Akarsu ve göllerinde tatlı su balıkçılığı olanaklarının bulunması
D) Bazı ülkelerin mallarının transit taşımacılığına olanak sağlaması
E) İklim ve toprak tipleri bakımından çeşitliliğin fazla olması

28. Süveyş Kanalı'nın açılmasıyla,

- I. Akdeniz Limanları,
II. Cebelitarık Boğazı,
III. Hürmüz Boğazı,
IV. Kuzey Atlantik deniz yolu

su yollarından hangilerinin önemi artmıştır?

- A) I ve II B) I ve III C) II ve III
D) II ve IV E) III ve IV

29. Şili'deki And Dağları kuzey-güney yönünde uzanırken Türkiye'deki Toros Dağları doğu-batı yönünde uzanır.

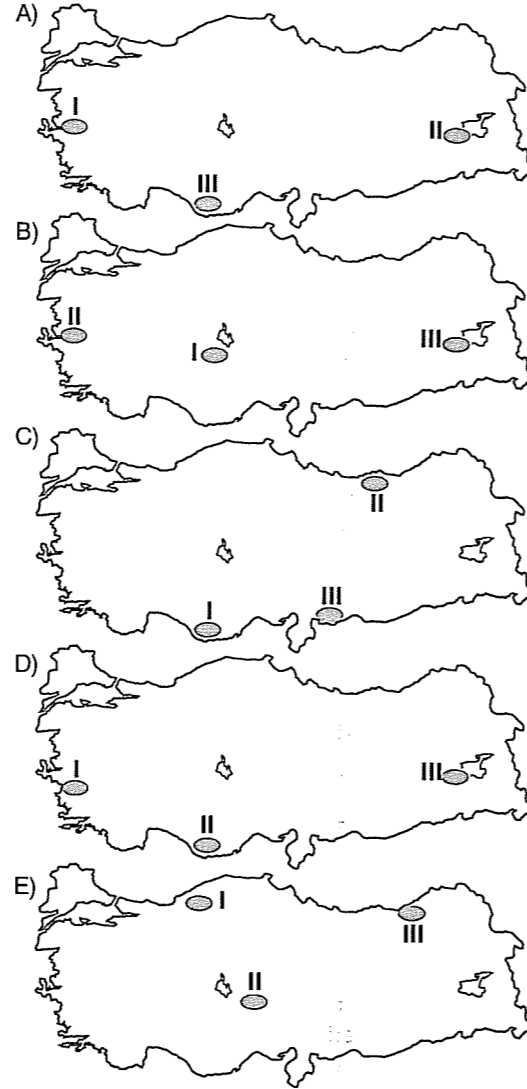
Buna göre, söz konusu genç kıvrım dağ kuşaklarının farkı doğrultularda uzanış göstermesi, aşağıdakilerden hangisiyle açıklanabilir?

- A) Dağ kuşaklarının farklı jeolojik devirde oluşmalarıyla
B) Bu dağları oluşturan kıtasal levhaların farklı yönlerde hareket etmeleriyle
C) Dağ kuşaklarında kayaç yapılarının birbirinden farklı olmasıyla
D) Bu yörelerdeki epirojenik hareketin etkinliğinin birbirinden farklı olmasıyla
E) Yer kabuğunun altında bulunan astenosfer katmanındaki konveksiyonel akıntılarının hızının birbirinden farklı olmasıyla

30. Türkiye'de,

- I. graben,
II. antiklinal,
III. tabakalı volkan

yer yapılarının görüldüğü alanlar, aşağıdaki haritaların hangisinde doğru verilmiştir?



31. Türkiye'de tarımsal faaliyetlerin zorlaşmasında, aşağıdaki etmenlerden hangisinin etkili olduğu söylenemez?

- A) Toprak tipleri bakımından çeşitliliğin fazla olması
B) Eğimin fazla olması
C) Ortalama yükseltinin fazla olması
D) Erozyon şiddetinin fazla olması
E) Şiddetli yaz kuraklığının yaşanması

32. Filozof yalnızca Platon ve Aristoteles değildir. Özel bilgisi olan ve belli bir biçimde yaşayan; kendini, çevresini, evreni anlamaya ilgilenen her insan filozoftur.

Bu açıklamada felsefede bulunan hangi iki özelliğe vurgu yapılmıştır?

- A) Teorik ve yaratıcı
B) Yaratıcı ve öznel
C) Öznel ve genel
D) Eleştirel ve refleksif
E) Birikme ve öznel

33. İnsanın bedeni ve zihni, dünyayla ve öteki insanlarla ilişkisi, geçmişi ve şimdisi. Bunlar, özünde, gerçeğin bilgisine erişmek için insan ve nesnelere sevgiyle araştırmak olan felsefenin temel konularını oluşturur. Benim felsefe tanımım da işte bu.

Bu açıklamaya göre bir insan, öncelikle, aşağıdaki özelliklerden hangisine sahip olmadan felsefe yapamaz?

- A) Zeki olmak
B) Üniversitede felsefe okumak
C) Her konuda bilgi sahibi olmak
D) Bilimin herhangi bir dalında uzman olmak
E) İnancı çevreleyen her şeye karşı meraklı olmak

34. Antik Çağ'ın Yunan filozofu Herakleitos, gerçeğin salt değişmeden ibaret olduğunu söylemesine karşılık Parmenides değişmeyi inkar etmekteydi. Thales, "evrenin ana maddesi sudur" iddiasında bulunurken, Demokritos "evrenin ana maddesi atomdur" iddiasını savunuyordu. Pascal, farklı toplumlarda aynı konuda farklı sistemlerin geçerli olduğunu görünce şöyle demekten kendini alamamıştır: "Pireneler'in bu tarafında doğru olan, öbür tarafında yanlıştır."

Bu gelişmeler felsefe kuramlarından hangisinin doğmasına temel oluşturmuştur?

- A) Empirizmin B) İdealizmin C) Septisizmin
D) Pozitivizmin E) Realizmin

35. "Varlık yoktur" düşüncesiyle, "varlık vardır ve insan bilincinden bağımsızdır" düşüncesini anlatan felsefe terimleri aşağıdakilerden hangisinde birlikte verilmiştir?

- A) Realizm - Rasyonalizm
B) Nihilizm - Realizm
C) Materyalizm - İdealizm
D) İdealizm - Nihilizm
E) Pragmatizm - Realizm

36. Benim için hükümet, özel mülkiyet, evlilik, din, konforlu hayat ve toplum tarafından üretilmiş her türlü şan ve şöhret değersizdir. İnsanın özgürlüğü ve kurtuluşu toplumun reddedilmesinde ve basit bir yaşamdadır.

Bu düşünce aşağıdaki felsefe kuramlarından hangisine örnektir?

- A) Hedonizme
B) Pragmatizme
C) Nihilizme
D) İdealizme
E) Ödev ahlakına

37. Kant'a göre estetik haz, bir nesneyi veya bir temsil biçimini hiçbir çıkar gözetmeyen bir hoşlanma veya hoşlanmama duygusuyla yargılama yetisidir. Bu hoşlanma duygusunun konusu olan şeye güzel denir.

Kant, sanat konusundaki bu düşüncesiyle aşağıdakilerden hangisini amaçlamıştır?

- A) Güzelliğin göreceli olduğunu
B) Nesnel bir güzellik anlayışının olabileceğini
C) Güzelliğin sadece sanat eserlerine özgü bir şey olduğunu
D) Her türlü hoşlanmanın sanatsal güzelliğin ölçütü olduğunu
E) Sanatın kaynağının haz olduğunu

38. Aşağıdakilerden hangisi siyaset felsefesinin cevap aradığı sorulardan birisidir?

- A) Erdem nedir?
B) Mutluluk nedir?
C) Doğru nedir?
D) İnsan özgür müdür?
E) Bürokrasiden vazgeçilebilir mi?

40. "Nereden geliyoruz?" "Yaşamın anlamı ne?" "Özgür olmak ne demektir?" Bu soruların cevabını bilim ve din de kendine göre bulmaya çalışmıştır. Felsefe ise bu sorulara, bütün bu cevapları aşacak şekilde, doğa, toplum ve insanı da içine alan, akla ve bilimsel verilere dayalı bütünlüğüne bir cevap bulmaya çalışmıştır.

Bu açıklamada felsefenin hangi açıdan bilim ve dinden farklı olduğu vurgulanmıştır?


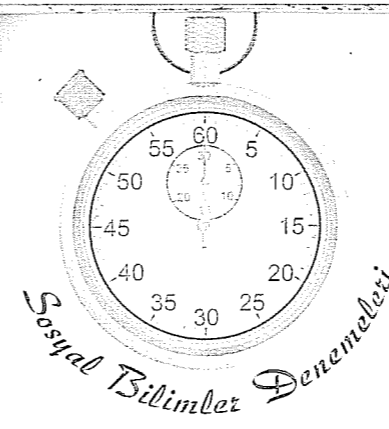
- A) En genel bilgi olduğu
B) Sistemli ve tutarlı olduğu
C) Öznel olduğu
D) Olgusal bir temele dayandığı
E) Zamanla değiştiği

39. Bilim tarihine baktığımızda, bilimin beşğinin batı değil Doğu olduğunu görüyoruz. Astronomi, matematik, tıp ve mühendislik çalışmalarında ilk önemli adımların Hint, Sumer, Mısır ve Babil uygarlıklarında atıldığı, batı kültürünün temelini oluşturan Antik Yunan düşüncesinin de bir ölçüde Babil ve Mısır uygarlıklarının etkisinde atılıma geçtiği bilinmektedir.

Bu açıklama bilimde aşağıdaki özelliklerin hangisinin bulunduğunu gösterir?

- A) Olgusal olduğunu
B) Eleştirel olduğunu
C) Evrensel olduğunu
D) Öngörüsels olduğunu
E) Sistemli olduğunu

Deneme 17							
1	E	11	D	21	C	31	A
2	A	12	C	22	E	32	C
3	D	13	C	23	A	33	E
4	D	14	D	24	A	34	C
5	D	15	A	25	E	35	B
6	C	16	A	26	C	36	C
7	C	17	B	27	D	37	B
8	B	18	B	28	A	38	E
9	C	19	C	29	B	39	C
10	D	20	A	30	D	40	A



1. Aşağıda verilen birbirini etkileyen olaylardan hangisi çıkarılırsa yanlışlık giderilmiş olur?

- A) Tarımsal faaliyetlerin başlaması
B) İhtiyaç fazlası üretimin yapılması
C) Sınıflı toplum yapısının oluşması
D) İnsanların ellerindeki ürünlerle ihtiyaç duydukları ürünleri takas etme yoluna gitmeleri
E) Ticari faaliyetlerin başlaması

3. Avrupa Hun hükümdarı Atilla, Bizans'ı vergiye bağladıktan sonra, 452 yılında Roma üzerine yürüyerek İtalya seferini başlattı. Atilla, Po ovasına iniyse de İstanbul'u tahrip etmediği gibi Roma'yı da tahrip etmedi. Roma Senatosu'nun barış isteğine uyarak barış yaptı ve Papa ile bizzat görüştü.

Bu bilgiye bakılarak aşağıdakilerden hangisine ulaşılamaz?

- A) Atilla'nın Bizans'a hakimiyet kurduğuna
B) Roma'da ilkel bir cumhuriyetin var olduğuna
C) Atilla'nın diplomatik ilişkilere açık olduğuna
D) Papa'nın arabuluculuk yaptığına
E) Hunların İstanbul'u kuşattığına

2. İlkçağ'da, Anadolu'da kurulan uygarlıklardan olan Hititlerde ilk zamanlarında daimi ordu yoktu. Eli silah tutan bütün erkekler asker sayılırdı. Ancak daha sonra etraflarının düşmanla sarılması ve beyliklerin sık sık ayaklanması sonucunda imparatorluk döneminde sürekli ordu kurulmuştur.

Sadece bu paragrafa bakılarak aşağıdakilerden hangisine ulaşılamaz?

- A) Çevre koşulları devletlerin faaliyetlerinde belirleyici olmuştur.
B) Sürekli ordu kurlmaları uzun süre varlıklarını devam ettirmelerini sağlamıştır.
C) Zaman içinde merkezi otoriteyi artırmaya çalışmışlardır.
D) Hititlerde feodal tarzda örgütlenmeler vardır.
E) Askerlik görevi erkeklere bırakılmıştır.

4. Abbasi Halifesi Memun dönemi, Batılı tarihçiler tarafından "İslam Rönesansı" olarak adlandırılmıştır.

Abbasiler'de görülen,

- I. Helenistik eserlerin Arapçaya çevrilmesi,
II. Bağdat'ta açılan Dar'ül Hikme'ler,
III. Medreselerin kurulması

durumlarından hangileri batılı tarihçilerin Abbasiler için yaptığı tanımlamayı doğrular?

- A) Yalnız I
B) Yalnız III
C) I ve II
D) I ve III
E) I, II ve III

5. Köseadağ Savaşı sonrası görülen,

I. Trabzon Rum Devleti, Çukurova Ermenileri ve Eyyubilerin Moğollara bağlanması,

II. Ekonomik ve ticari hayatın bozulması,

III. Karamanoğlu - Selçuklu kavgalarının başlaması

gelişmelerinden hangileri Anadolu Selçuklularının siyasi gücünü kaybettiğini doğrudan kanıtlar?

- A) Yalnız I B) Yalnız II C) I ve II
D) I ve III E) I, II ve III

6. II. Murat dönemindeki,

I. Enderun Mektebi'nin açılması,

II. Devşirme sisteminin kanun haline getirilmesi,

III. Komşu ülkelerden birçok bilim adamının Anadolu'ya getirilmesi

uygulamalarından hangileri merkezi otoriteyi güçlendirmeye yöneliktir?

- A) Yalnız I B) Yalnız III C) I ve II
D) II ve III E) I, II ve III

7. Sanayi devriminin ardından görülen,

I. Hammadde ve pazar arayışı,

II. Sömürgecilik yarışı,

III. Üretimde artış,

IV. Ülkeler arası savaşların yaşanması

gelişmelerinin sıralaması aşağıdakilerden hangisidir?

- A) I - III - II - IV B) III - II - I - IV
C) III - IV - II - I D) II - I - IV - III
E) III - I - II - IV

8. XVII. yy.da çıkan eyalet ayaklanmaları Erdel, Eflak, Boğdan gibi bağlı beyliklerde ortaya çıktı.

Bu isyanların çıkmasında,

I. Beyliklerin ağır vergilere karşı çıkması,

II. Fener Rum Patrikhanesi'nin kışkırtmaları,

III. Milliyetçilik hareketlerinin etkisi

durumlarından hangileri etkili olmamıştır?

- A) Yalnız II B) Yalnız III C) I ve II
D) I ve III E) II ve III

9. Osmanlı Devleti, son dönemlerde imparatorluğun dağılmasını ve Avrupalı devletlerin iç işlerine karışmasını önlemek amacıyla Osmanlıcılık, İslamcılık, Türkçülük gibi farklı fikir akımlarına yönelmiştir.

Sadece bu bilgilere bakılarak aşağıdakilerden hangisine ulaşılamaz?

- A) Osmanlı Devleti'nin farklı politikalara yöneldiğine
B) Üretilen politikaların hem iç hem dış politikaya yönelik olduğuna
C) Osmanlı devletinin dağılma tehlikesiyle karşı karşıya olduğuna
D) Osmanlı devletinin Avrupalı devletlerin baskısı altında olduğuna
E) Osmanlıcılığın ülkedeki tüm etnik unsurları kapsadığına

10. Wilson ilkelerinin aşağıdaki maddelerinden hangisi I. Dünya Savaşı'nın çıkmasına neden olan "sömürgecilik" anlayışının devam edeceğini gösterir?

- A) Her millet çoğunlukta olduğu yerde kendi devletini kurabilecektir.
B) Savaş sonunda yenilenlerden toprak alınmayacak.
C) Manda ve himaye anlayışı getirilecek.
D) Devletler gizli antlaşmalar yapmayacak
E) Milletler Cemiyeti kurulacak

11. I. Dünya Savaşı sonrası kurulan zararlı cemiyetlerden hangisi diğer dördünden ayrılır?

- A) Etniki Eteryaya
B) Alyans İsraili
C) Hınçak ve Taşnak Komiteleri
D) Sulh ve Selameti Osmaniye
E) Pontus Rum Cemiyeti

12. Amasya Görüşmesi'nin,

I. Temsilciler Kurulu'nun İstanbul Hükümeti tarafından resmen tanınması,

II. İstanbul Hükümeti'nin tavrını Anadolu'ya göre düzenlemeye başlaması,

III. İstanbul Hükümeti'nin Mebusan Meclisi'nin İstanbul dışında toplanmasını kabul etmemesi

sonuçlarından hangileri Milli Mücadele'ye duyan güveni artırmıştır?

- A) Yalnız I B) Yalnız III C) I ve II
D) I ve III E) I, II ve III

13. Aşağıdakilerden hangisi İstanbul hükümeti ve işgal güçlerinin kışkırtmalarıyla çıkan ayaklanmalardan değildir?

- A) Bolu, Düzce, Hendek ve Adapazarı ayaklanmaları
B) Yozgat Ayaklanması
C) Demirci Mehmet Efe ayaklanması
D) Konya ayaklanması
E) Afyon ayaklanması

14. Lozan Konferansı'ndan kalan aşağıdaki sorunlardan hangisinin daha sonra Türkiye lehine çözüldüğü söylenemez?

- A) Suriye Sınırı
B) Irak Sınırı
C) Boğazlar Sorunu
D) Azınlıkların durumu
E) Yabancı okullar sorunu

15. Cumhuriyetin ilk yıllarında Türk dış politikasının temelini oluşturan

- I. Uluslararası eşitlik
II. Tam bağımsızlık
III. Yurtta barış, dünyada barış!

premipleri Türkiye Cumhuriyeti'nin politikası doğrultusunda önem bakımından sıralandığında aşağıdakilerden hangisi doğru olur?

- A) I - II - III B) I - III - II C) II - III - I
D) II - I - III E) III - II - I

16. I. Halkçılık

- II. Laiklik
III. Devletçilik
IV. Cumhuriyetçilik

Yukarıdaki Atatürk ilkelerinin hangilerinin paralelinde yapılan devrimler sayesinde yabancı devletlerin iç işlerimize karışması engellenmiştir?

- A) Yalnız I B) I ve IV C) I ve II
D) II ve III E) I, II ve IV

17. Eğitim alanında yapılan aşağıdaki inkıaplardan hangileri "Yeni Türk harflerinin kabul edilmesini" tamamlamaya yöneliktir?

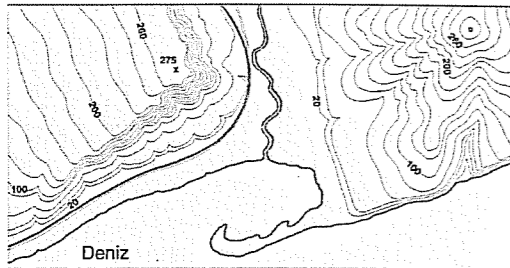
- A) Tevhidi Tedrisat Kanunu'nun kabulü
B) Maarif Teşkilatı hakkındaki kanunun kabulü
C) Millet Mektepleri'nin açılması
D) Türk Tarih Kurumu'nun açılması
E) Üniversite reformunun gerçekleştirilmesi

18. GAP, Türkiye'nin en büyük, dünyanın da önde gelen sürdürülebilir ve bölgesel bir kalkınma projesidir.

Buna göre, GAP ile birlikte bölgede, aşağıdakilerden hangisi bakımından bir artışın yaşanacağı söylenemez?

- A) Tarıma dayalı sanayi ürünleri üretim ve çeşitliliği
B) Termik enerji üretimi
C) Birim alanda elde edilen üretim miktarı
D) İstihdam alanları
E) Tarım dışı sektörlerin bölge ekonomisindeki payı

19.



Yukarıdaki topoğrafya haritasından aşağıdaki bilgilerden hangisine ulaşılamaz?

- A) İzobat çizgisi ile izohips çizgisinin hangi kesimlerde birleştiğine
B) Kıyı kesimlerindeki yamaçların ortalama eğimine
C) Denizin ortalama derinliğine
D) Kurumuş akarsu yataklarının hangi kesimlerde bulunduğu
E) Yer şekillerinin hangi yönlerde uzandığına

20. Aynı bölgenin iki farklı topoğrafya haritasında eş yükselti eğrilerinin sayısı birbirinden farklıdır.

Buna göre, topoğrafya haritalarının,

- I. ayrıntıyı gösterme gücü,
II. eş yükselti eğrileri arasındaki yükselti farkı,
III. çizim yöntemi,
IV. harita boyutu

niceliklerinden hangileri bakımından farklı olduğu kesindir?

- A) Yalnız I B) Yalnız IV C) I ve III
D) II ve IV E) I, II ve IV

21. Aşağıdaki yörelerin hangisinde, doğu-batı yönünde birbirinden 500 km uzaklıkta bulunan iki merkez arasındaki yerel saat farkı ötekilerden daha azdır?

- A) Alaska B) Amazon Havzası
C) Sibirya D) İber Yarımadası
E) Orta Asya

22. Orman üst sınırından sonra yetişen çayırlara dağ çayırları ya da alpin çayırları denir.

Buna göre, aşağıdaki orman formasyonlarından hangisinin bulunduğu yörelerde alpin çayırların alt sınırı ötekilerden daha yüksektir?

- A) Yağmur ormanları
B) Muson ormanları
C) Tayga ormanları
D) Kızılcım ormanları
E) Orta kuşağın karışık ormanları

23. Aşağıdaki tabloda verilen özelliklerin Ekvator'dan kutuplara doğru gidildikçe nasıl bir değişim gösterdiği boş bırakılan yerlere işaretlenecektir.

Özellik	Artar	Azalır
Deniz tuzluluk oranı		
Yer çekimi		
Kalıcı kar sınırı		
Gece ile gündüz arasındaki zaman farkı		
Cisimlerin gölge uzunlukları		

Bu tablo, aşağıdakilerden hangisi gibi işaretlenirse doğru sonuca ulaşılmış olur?

A)	Artar	Azalır	B)	Artar	Azalır
		✓		✓	
		✓		✓	
		✓			✓
	✓			✓	
	✓				✓

C)	Artar	Azalır	D)	Artar	Azalır
		✓			✓
	✓			✓	
		✓		✓	
	✓			✓	
	✓				✓

E)	Artar	Azalır
	✓	
		✓
	✓	
		✓

24. Aşağıda verilen doğa olaylarından hangisinin afete dönüşmesi beklenmez?

- A) Yağışların uzun süreli normal değerlerin altında düşmesinin
B) Dik yamaçlardaki toprak ve tabakaların yağmur ve kar sularına bağlı olarak suyla doymun hâle gelmesinin
C) Kar örtüsünün bitki örtüsünden yoksun yamaçlarda eğim yönünden hareket etmesinin
D) Grönland'ta kıyıya kadar ulaşan büyük vadi buzullarının kırılarak okyanus akıntılarıyla güneye taşınmasının
E) Su toplama havzalarında ani sağnak yağışlar ve kar erimelerinin birlikte etkili olmasının

25. Aşağıdakilerin hangisinde bir yöre, bu yörede nüfusun seyrek olmasına neden olan temel etkenle birlikte verilmemiştir?

Yöre	Temel etken
A) Amazon Havzası	Yıl boyunca nem oranının yüksek, yağış miktarının ve sıcaklığın fazla olması
B) Kuzey Afrika	Yağış miktarının çok az, yağış rejiminin düzensiz ve sıcaklığın çok yüksek olması
C) Himalayalar	Yükselti ve engebenin çok fazla olması
D) Grönland	Buzulların geniş alan kaplaması
E) Orta Asya	Akarsu boylarının kısa, akarsu rejiminin düzensiz olması

26. Aşağıdakilerden hangisi bir ülkede nüfusun değişmesinde etkili olan faktörlerden biri değildir?

- A) Doğum ve ölüm oranları arasındaki fark
B) Dış göçlerin yönü
C) Savaşlar ve salgın hastalıklar
D) Ülke sınırlarının değişmesi
E) İç göç hareketleri

27. Türkiye'de, 1950'lerde sıtma hastalığını önlemek amacıyla başlatılan sulak alanları, o günlerdeki adıyla bataklıkları kurutma çalışmaları, sonraki yıllarda tarım toprağı elde etmek için sürdürülmüştür. 1970 yılında kurutulmaya başlanan Avlan Gölü'nde bu çalışmalardan payını alan göllerden biridir. Gölün kurutulmasıyla yer altı suyu seviyesi düşmüş, bölgede eskiye göre çok daha derinlerden su çekmek zorunda kalınmıştır. Yer altı suyu azalmış, sulama için su bulmak zorlaşmıştır. Susuz kalan topraklar çoraklaşmaya başlamış ve burada tarım yapılması güçleşmiştir. Ayrıca, gölün kurutulması kuşların bölgeyi terk etmesine neden olmuştur. Kuş sayısındaki azalma da sedir ağacına zarar veren bir böcek türünün sayısında hızla bir artışa yol açmıştır.

Bu parçaya dayanarak, aşağıdaki yargılardan hangisine ulaşamaz?

- A) Doğal çevreye bakış açısı geçmişten günümüze değişmiştir.
B) Doğaya yapılan müdahalelerin istenmeyen sonuçları olabilir.
C) Biyoçeşitliliği oluşturan unsurlar arasında denge, ekosistemin sürekliliği bakımından önemlidir.
D) Bitki ve hayvan türleri üzerinde bugünkü şartlarla beraber geçmiş dönemlerde hakim olan çevre şartları da büyük ölçüde etkilidir.
E) Her bir tür birbiri ile ilişki içinde olduğundan bir türün yok olması ekosistemin dengesini bozmaktadır.

28. Aşağıdakilerden hangisi sıcaklık ve yağış koşullarının değişmesiyle açıklanamaz?

- A) Karadeniz Bölgesi'nde fındık ve çay tarımının genelde 500-600 metreden daha yükseklerde yapılamaması
B) Burdur ve Acıgöl'de tatlı su balıkçılığı yapılamazken, Eğirdir ve Beyşehir göllerinde tatlı su balıkçılığının yapılabilmesi
C) Taşkın döneminin Dicle Nehri'nde ilkbahar iken Gediz Nehri'nde kış mevsimi olması
D) Torosların kuzeyinden güneyine geçildiğinde arpa ve buğday tarlalarının yerini sebze ve meyve bahçelerinin alması
E) Teke Yöresi'nin kıyı kesiminde turuncu tarımı ve yaz turizmi, iç kesimlerinde ise küçükbaş hayvancılık ve yaylacılığın yaygın olması

29. Bir bölgenin dağlık ve platoluk kesimlerinin jeomorfolojik özellikleri,

- I. ticaret,
II. ulaşım,
III. yaylacılık,
IV. turizm

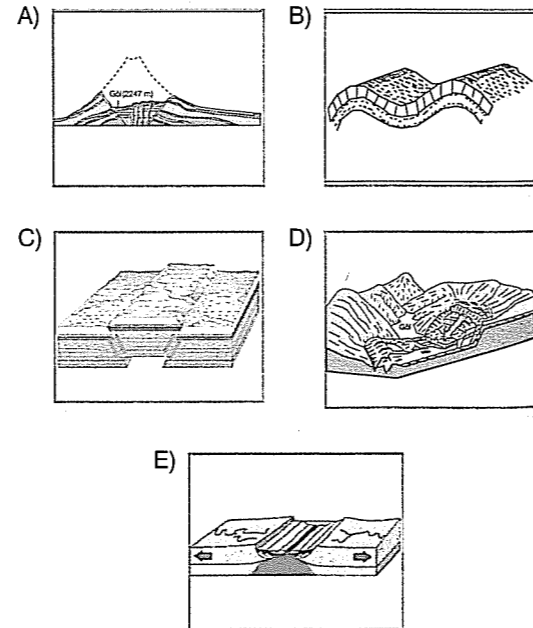
etkinliklerinden hangilerini olumlu yönde etkiler?

- A) I ve II B) I ve III C) II ve III
D) II ve IV E) III ve IV

30. Aşağıdaki yer şekillerinden hangisinin oluşması, Türkiye kıyılarında gelgitin etkili olmadığına kanıt olamaz?

- A) Kapıdağ Yarımadası'nın
B) Antalya falezlerinin
C) Çukurova'nın
D) Küçük Çekmece Gölü'nün
E) Bafra Ovası'nın

31. Aşağıdakilerden hangisinin oluşumu mantodaki ısı akımlarıyla ilgili değildir?



32. Eğer felsefeden, kesin ve güvenilir, sadece uzanıp almanızın yeterli olacağı bir bilgiler bütününe bekliyorsanız, hayal kırıklığınız tam olacaktır.

Bu açıklamayla, felsefede aşağıdaki özelliklerden hangisinin bulunmadığı anlatılmaya çalışılmıştır?

- A) Cevaplardan çok soruların önemli olduğu
B) İnsan yaşamını kolaylaştırdığı
C) Belli bir konusunun olmadığı
D) Öznel olduğu
E) Sürekli bir arayış olduğu

33. İnsanda dünyayı, değerleri ve evreni bilme ve anlama merakı vardır. İnsan bu merakı doyurma amacıyla "İnsan nedir? Var olanların ilk nedeni nedir? Evren nedir?" sorularının cevabını aramıştır.

İnsanlar bu soruların cevabını daha çok aşağıdaki bilgi dallarından hangisinde bulmuşlardır?

- A) Astronomi biliminde
B) Matematik biliminde
C) Gündelik bilgide
D) Sanat bilgisinde
E) Felsefi bilgide

34. Bilimler doğrudan doğruya olgulardan hareket etmeli, onların arkasındaki nedenlerle uğraşmamalıdır. Bilimler olaylar arasındaki yasaları ve değişmez bağlantıları araştırırlar, ama doğanın özünü ve gerçekliğin ya da özlerin nedenlerini bilemezler. Bilimsel incelemeler gerçekliğin yasalarını bulmak için görünüşlerin incelenmesiyle sınırlı olmalıdır.

Bu açıklama aşağıdakilerden hangisine örnek olarak verilebilir?

- A) Aguste Comte'un pozitivizmine
B) Kant'ın Kritisizmine
C) Descartes'ın rasyonalizmine
D) Platon'un idealizmine
E) Pyrrhon'un septisizmine

35. Platon'a göre varlık: Gerçek varlık "idea"dır. Çevremizde gördüğümüz tüm varlıklar "idealar"ın bir yansımasıdır. İdea yoksa duyularımız tarafından algılanan varlıklar da yoktur.

Aristoteles'e göre varlık: Varlık, duyularımızla algıladığımız tek tek varlıklardır. Bu tek tek varlıklar "madde" ve "form"dan oluşurlar. Madde var olabilmek için forma ihtiyaç duyar. Bu form tek tek maddenin içindedir. Maddeye varoluş sağlayan da bu formdur.

Bu iki filozofla ilgili aşağıdaki sonuçlardan hangisi yanlıştır?

- A) Aristoteles, varlığın duyulardan ibaret olduğunu belirtmiştir.
B) Her ikisi de idealisttir.
C) Platon, duyulardan ibaret olan varlık dünyasını yok saymıştır.
D) Aristoteles, duyusal dünyanın gerçekliğini kabul etmiştir.
E) Her iki filozof da varlıkta düşünsel bir yönün olduğunu vurgulamıştır.

36. Hayvanların, çocukların ve zeka bakımından gelişmemiş insanların davranışlarında ahlaklılık aranmaz.

Bu durumun nedenini ahlak felsefesi aşağıdaki temel kavramlardan hangisiyle açıklamıştır?

- A) Hayvanların kötü olmasıyla
B) Sorumluluğa sahip olmamalarıyla
C) Haz peşinde koşmalarıyla
D) Tam anlamıyla özgür olmalarıyla
E) Eğitim görmemeleriyle

37. Yönetenleri her ne kadar belli bir süreliğine halk seçse de, devlet elindeki olanakları kullanarak gereğinden fazla güce sahip olabilir ve bunu halkı baskı altına almak için kullanabilir. Üstelik bunu toplumun düzenini korumak adına yaptığını söyleyerek eylemlerini meşruluk bile kazandırabilir.

Demokratik toplumlarda devletin yukarıdaki olumsuzluğunu önlemek için aşağıdakilerden hangisi oluşturulmuştur?

- A) Bürokrasi B) Sivil toplum kurumu
C) Hukuk kurumu D) Meşruiyet
E) Egemenlik

38. I. Güzellik değerinin taşıyıcısı olan şeylerdir.
II. Güzellik değerini algılayan, ona, hoş bir heyecan diye adlandırdığımız tepkiyi gösteren varlığa denir.
III. Güzellik değerini taşıyan nesnelere hakkında verilen yargılardır.

Yukarıdaki tanımlamaların sanat felsefesindeki karşılığı hangi seçenekte doğru olarak verilmiştir?

	I	II	III
A) Estetik değer	Estetik yargı	Estetik özne	Estetik nesne
B) Taklit kuramı	Estetik özne	Estetik yargı	Estetik nesne
C) Estetik yargı	Yaratıcılık	Estetik nesne	Estetik yargı
D) Estetik özne	Oyun kuramı	Estetik yargı	Estetik nesne
E) Estetik nesne	Esnek özne	Estetik yargı	Estetik nesne

39. Bugüne kadar hiç ölmemiş bir insan gözlenmiştir. Bundan dolayı da bilim bu gözleme dayanarak "Bütün insanlar ölümlüdür." sonucuna varır. Ancak bundan sonraki insanların da ölümlü olacağı sonucuna nasıl varılabilir. Ya hiç ölmeyen bir insan gözlenirse ne olacaktır? Tüm olguları tüketmeden bilimin olguların tümü hakkında karar verme yetkisi var mıdır?

Bilimdeki bu tartışmalar aşağıdaki konulardan hangisiyle ilgilidir?

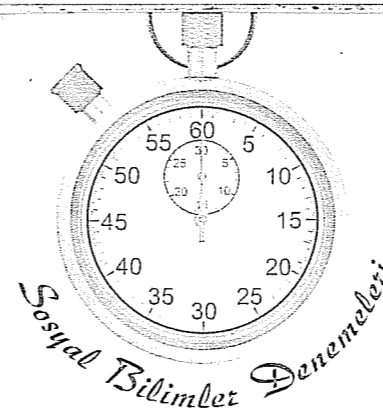
- A) Olgulara matematiksel yöntemin uygulanmasıyla
B) Bilimin evrenselliğiyle
C) Bilimsel yöntemin objektif olmasıyla
D) Tümevarımsal çıkarımların doğruluğuyla
E) Tümdengelimsel çıkarımların doğruluğuyla

40. Kant'a göre bilgilerimizi oluşturan deney ve aklardır. Deney verileri dağınık ve anlamsızdır; bu verileri düzenleyen ve anlamlı hale getiren, aklımızda doğuştan getirdiğimiz kalıplardır. Kant bu kalıplara kategori adını vermiştir. Bu kalıpların içleri boştur ve her insanda ortaktır; bu kalıpların içi de deneyle doldurulur.

Kant bu açıklamasıyla bilginin hangi problemi ne çözüm getirmeye çalışmıştır?

- A) Kesinlik problemine
B) Evrensellik problemine
C) Kaynağı problemine
D) Doğruluk problemine
E) Değer problemine

Deneme 18							
1	C	11	D	21	B	31	D
2	B	12	C	22	A	32	B
3	D	13	C	23	C	33	E
4	E	14	B	24	D	34	A
5	D	15	D	25	E	35	A
6	C	16	E	26	E	36	B
7	E	17	C	27	D	37	B
8	B	18	B	28	B	38	E
9	E	19	C	29	E	39	D
10	C	20	E	30	B	40	C



1. Maden devri kendi içinde bakır, tunç, demir olmak üzere üçe ayrılır.

Sadece bu bilgiye bakılarak aşağıdaki yorumlardan hangisine ulaşılamaz?

- A) İlk kullanılan maden bakır olmuştur.
B) Uygarlıkların bilgi birikimi sürekli artmıştır.
C) Maden devri bölümlere ayrılırken kullanılan malzeme ölçüt alınmıştır.
D) Toplumlar ilerledikçe daha dayanıklı malzemeler kullanmışlardır.
E) Bakır ve kalayın karıştırılmasıyla tunç elde edilmiştir.

2. Macarlar, V. yy.da kabileler halinde yaşarken Onogur kabileleriyle iç içe girmişlerdir. Bölgeye Avarların ve Sabirlerin hakimiyet kurmasıyla önce Kuban bölgesine, sonra IX. yy.da Peçeneklerin baskısı sebebiyle, Don ve Dinyeper nehirleri arasına yerleşmişlerdir. Birçok Macar bilim adamı Türk dili ve tarihi konusunda araştırma yapmış, Macar dilinde birçok Türkçe kelimeye rastlamışlardır.

Macarların Türk kabul edilmesinde yukarıdaki özelliklerinden hangisi daha çok rol oynamıştır?

- A) Avarların hakimiyetine girmesi
B) Kuban bölgesinde yaşadıkları Peçenek baskısının olması
C) Macar bilim adamlarının Türk tarihine ilgi duyması
D) Kabileler halinde yaşamaları
E) Macar dilindeki Türkçe kelimelerin bulunması

3. Türklerin İslam dünyasına aşağıdaki hizmetlerinden hangisi diğerlerinden daha sonra gerçekleşmiştir?

- A) İstanbul'u İslam'ın başkenti yapmaları
B) Sınır bölgelerinde görev yaparak olası saldırılara karşı tampon görevi yapmaları
C) Halifeyi koruyarak varlığını sürdürmesini sağlamaları
D) Anadolu'da İslamiyet'i yaymaları
E) Hindistan'da İslamiyet'i yaymaları

4. Anadolu Selçuklularının uç beyliği olarak doğan ve Köseadağ Savaşı'ndan sonra bağımsızlığını ilan eden Osmanlı Devleti'nde Anadolu Selçuklularına ait birçok iz bulunmaktadır.

I. Murat dönemine ait aşağıdaki uygulamalardan hangisinin Anadolu Selçuklularında da benzeri olduğu söylenemez?

- A) Divan teşkilatının bulunması
B) Tımar sisteminin uygulanmaya başlanması
C) Devşirmelerden oluşan Yeniçeri ocağının kurulması
D) "Ülke padişah ve oğullarının ortak malıdır." anlayışının getirilmesi
E) Şehzadelerin sancağa gönderilmesi

5. Yavuz Sultan Selim'in tahta çıkması sırasında meydana gelen,

- I. Kardeşleriyle saltanat mücadelesi yapması,
- II. Yeniçerilerin desteğini alarak tahta geçmesi,
- III. Cülus bahşişi geleneğini başlatması

gelişmelerinden hangilerinin daha sonra doğacak bazı sıkıntılara zemin oluşturduğu söylenebilir?

- A) Yalnız I B) Yalnız III C) I ve II
D) II ve III E) I, II ve III

6. Osmanlı Devleti'nde padişahın sonra devlet işlerinin yürütülmesinde en yetkili devlet adamı olan sadrazamın,

- I. Büyük devlet memurlarını atama ve görevden alma,
- II. Orduya komuta etme,
- III. Padişah adına devlet işlerini uygulama

görevlerinden hangileri sadrazamın yürütme alanındaki görevlerine örnek gösterilebilir?

- A) Yalnız I B) Yalnız II C) I ve II
D) I ve III E) II ve III

7. Aşağıdakilerden hangisi duraklama dönemi sadrazamı Köprülü Mehmet Paşa'nın kendi güvenliğini sağlamak amacıyla sunduğu bir şarttır?

- A) Saray devlet işlerine karışmayacak.
- B) Devlet işleriyle ilgili teklifleri saray tarafından kabul edilecek.
- C) Devlet memurluklarına istedikleri kişileri atayabilecek.
- D) İstediklerini memuriyetten alabilecek.
- E) Savunması alınmadan hakkında işlem yapılmayacak.

8. 19. yy.da Osmanlı Devleti'nin borçlarını ödeyemesi üzerine Duyunu Umumiye (Genel Borçlar) İdaresi kuruldu. Yabancı devletlerin üyelerinden oluşan Duyunu Umumiye, Osmanlı'nın tütün, tuz, orman gibi sağlam gelir kaynaklarına el koydu ve bu vergilerden elde edilen geliri alacaklı devletlerin hesabına aktardı.

Bu bilgilere bakılarak aşağıdakilerden hangisine ulaşılamaz?

- A) Osmanlı Devleti ekonomik bağımsızlığını yitirmişti.
- B) Osmanlı Devleti'nde hazineye nakit girişi azalmıştı.
- C) Osmanlı borçlarını kapatma fırsatı yakalamıştı.
- D) Osmanlı Devleti kendi ekonomisini yönetemez konuma gelmişti.
- E) Alacaklı devletler Osmanlı Devleti'nin iç işlerine karışma fırsatı bulmuşlardı.

9. Islahat Fermanı, Kırım Savaşı sonrasında toplanan Paris Konferansı sırasında yayınlandı.

Bu fermana "İmtiyazlar Fermanı" denmesinde

- I. Din ve mezhep özgürlüğünün tanınması
- II. Azınlık durumundaki Osmanlı vatandaşlarına birçok ayrıcalığın tanınması
- III. Mahkemelerde gayrimüslimlerin de şahitliklerinin kabul edilmesi

durumlarından hangilerinin etkili olduğu söylenebilir?

- A) Yalnız I B) Yalnız II C) I ve II
D) I ve III E) I, II ve III

10. Wilson ilkelerinden,

- I. Her ulus kendi kaderini tayin etme hakkına sahiptir,
- II. Uluslararası anlaşmalar açık yapılacaktır,
- III. Uluslararası ekonomik engeller kaldırılacaktır

hangileri "Milli Mücadele'nin ve "Misakı Milli'nin" haklılığına dayanak oluşturur?

- A) Yalnız I B) Yalnız III C) I ve II
D) II ve III E) I, II ve III

11. Birinci Dünya Savaşı'ndan sonra kurulan Doğu Anadolu Müdafai Hukuk Cemiyeti'nin,

- I. Bilim, iktisat ve din alanında örgütlenilecek,
- II. Bölgeden kesinlikle göç edilmeyecek,
- III. Doğu vilayetlerinin silahlı savunulmasına önem verilecek

kararlarından hangileri "Wilson ilkeleri milliyetler prensibi"ne önlem niteliğindedir?

- A) Yalnız I B) Yalnız II C) I ve III
D) II ve III E) I, II ve III

12. M. Kemal Paşa başkanlığındaki Temsil Heyeti'nin Ankara'yı merkez edinmesinde etkili olan,

- I. Demiryolu ulaşımı yönünden elverişli olması,
- II. Türkiye'nin doğusunu ve batısını kontrol edebilecek konumda olması,
- III. İşgal edilmemiş ve düşman tehlikesinden uzak olması

durumlarından hangileri Ankara'nın coğrafi konumundan kaynaklanmaktadır?

- A) Yalnız I B) Yalnız II C) I ve II
D) I ve III E) I, II ve III

13. I. TBMM bir yandan yeni bir devlet kurma yolundaki adımları atarken bir yandan da Anadolu'daki otoriteyi kurmaya çalışmıştır.

I. TBMM'nin çıkardığı,

- I. Tahrir-i Sükun,
- II. Hıyanet-i Vatan,
- III. Teşkilat-ı Esasiye

kanunlarından hangileri TBMM'nin merkezi otoriteye verdiği önemi kanıtlar?

- A) Yalnız I B) Yalnız III C) I ve II
D) I ve III E) I, II ve III

14. Lozan Konferansında yer alan,

- I. Yabancı okulların Türk kanunlarına bağlı hale getirilmesi,
- II. Duyunu Umumiye İdaresi'nin kaldırılması,
- III. Fener Rum Patrikhanesi'nin siyasi yetkilerinin kaldırılması

maddelerinden hangileri yeni Türk devletinin işlerine karışılmasına izin vermeyeceğini gösterir?

- A) Yalnız I B) Yalnız III C) I ve III
D) II ve III E) I, II ve III

15. Cumhuriyetin ilk yıllarında Türk dış politikası 1923-1930 yılları ve 1930-1938 yılları arasındaki politikalar olmak üzere ikiye ayrılır.

Buna göre,

- I. Dünya barışının korunması,
- II. Sınırların güvenliğinin sağlanması,
- III. Lozan'da kalan sorunların çözülmesi

politikalarından hangileri 1930-1938 yılları arasında uygulanmıştır?

- A) Yalnız I B) I ve II C) I ve III
D) II ve III E) I, II ve III

16. "Devletçilik anlayışına göre devlet; ekonomik, sosyal ve kültürel kalkınmanın temel faktörüdür." tanımına göre devletçilik hangi ilkenin doğal sonucudur?

- A) Milliyetçilik B) Halkçılık
C) Cumhuriyetçilik D) Laiklik
E) Devrimcilik

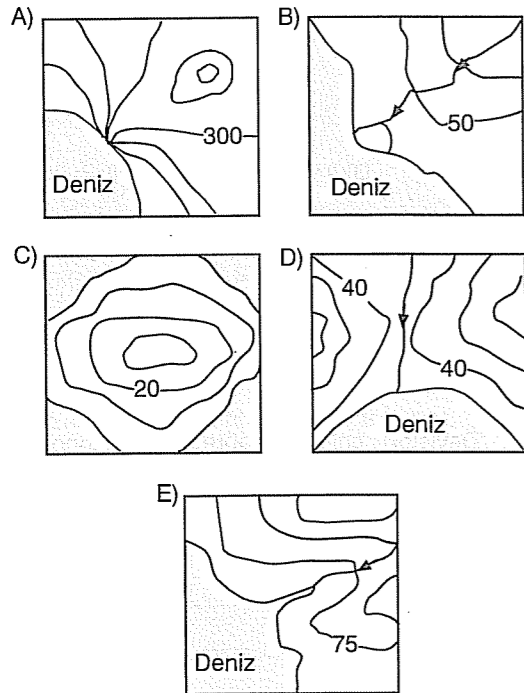
17. Atatürk'ün dil devrimiyle amaçladığı,

- I. Aydınların dili ile halkın dili arasındaki açıklığı kapatmak
- II. Bilimsel çalışmanın önündeki dil engelini kaldırmak
- III. Türkçenin zenginliğini ortaya çıkarmak

hedefleri laiklik, halkçılık ve milliyetçilik ilkele-riyle eşleştirildiğinde aşağıdakilerden hangisi doğru olur?

	Laiklik	Halkçılık	Milliyetçilik
A)	I	II	III
B)	II	I	III
C)	II	III	I
D)	III	II	I
E)	III	I	II

18. Aşağıda verilen topoğrafya haritalarının hangisinde ayrıntıyı gösterme gücü ötekilerden daha fazladır?



19. I. Van Gölü'nün gerçek yüz ölçümü

- II. Akdeniz kıyılarının kuş uçuşu uzunluğu
- III. Sapanca Gölü'nün ortalama derinliği
- IV. Ağrı Dağı'nın yüksekliği

Yukarıdakilerden hangileri Türkiye fiziki haritasından elde edilebilir?

- A) Yalnız I B) Yalnız III C) I ve III
D) II ve IV E) I, II ve IV

20.



Yukarıdaki haritada konumları verilen merkezlerle ilgili aşağıdaki yargılardan hangisine ulaşılamaz?

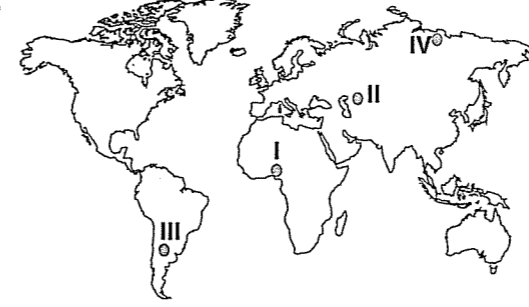
- A) I. merkezde yerel saat diğerlerinden daha ileridir.
B) II. ve III. merkez Greenwich'e göre farklı yarım kürelerde bulunur.
C) IV. merkez yeni yıla diğerlerine göre daha geç girer.
D) I. ve IV. merkez tarih değiştirme çizgisine göre aynı tarafta yer alır.
E) II. merkez, 45° Doğu meridyenine en yakındır.

21. I. İzmir limanı
II. Sinop limanı
III. Mersin limanı

Yukarıda verilen limanlar, aşağıdakilerin hangisinde hinterlandı en dar olandan en geniş olana doğru sıralanmıştır?

- A) I-II-III B) I-III-II C) II-III-I
D) II-I-III E) III-II-I

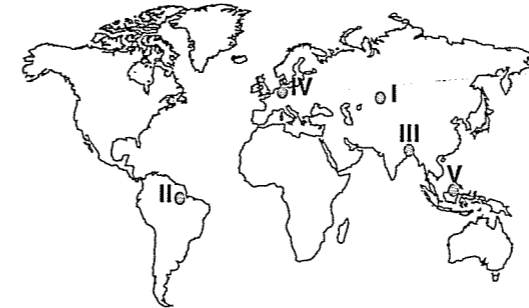
22.



Yukarıdaki haritada konumları numaralarla gösterilen noktalarla ilgili aşağıdaki yargılardan hangisine ulaşılamaz?

- A) I. noktada, yatay bir düzlem üzerine dik olarak yerleştirilen bir çubuğun gölge uzunluğu yıl içinde iki kez sıfır olur.
B) II. noktada ocak ve şubat aylarında görülen hava olayları III. noktada temmuz ve ağustos aylarında görülür.
C) Gece-gündüz uzunluğu IV. noktada yıl boyunca en çok değişir.
D) I. noktada tan ve gurub vaktinin süresi en uzundur.
E) Cisimlerin öğle vakti oluşan gölge yönleri II. ve IV. noktalarda cismin güney yönüne düşmez.

23. İklim, toprak ve yer şekilleri gibi şartların ağaç yetişmesine olanak vermediği yerlerde, belirli zamanlarda görülen yağışa veya tamamen toprağın derinliklerine sızmayan suya bağlı olarak ot cinsinden bitkiler oluşur.



İklim koşulları düşünüldüğünde, yukarıdaki haritada numaralanmış yörelerin hangisinde ot formasyonlarının yaygın olduğu söylenebilir?

- A) I B) II C) III D) IV E) V

24. Doğal afetlerden bazıları, yılın belirli zaman diliminde etkinlik kazanır ve bu durum can ve mal kayıplarının yaşanmasına neden olur.

Aşağıdakilerden hangisi, bu tür doğal afetlerden biri değildir?

- A) Çığ B) Tsunami
C) Heyelan D) Taşkınlar
E) Orman yangınları

25. Yeryüzünde daha kaliteli bir yaşam sürdürülebilmesi için ekolojik taşıma kapasitesinin aşılmaması gerekir. Belli bir bölgede yaşayan insanların konut ve iş yeri için kullandığı alan, alt yapı miktarı, tükettiği gıda ile o bölgedeki üretken doğal kaynak miktarının karşılaştırılmasıyla "çevresel tahribat izi" büyüklüğü belirlenir. Çevresel tahribat izi büyükçe doğal kaynakların azaldığı anlaşılmaktadır.

Buna göre, aşağıdakilerden hangisinin çevresel tahribat izinin artmasını önlemede etkili olacağı söylenemez?

- A) Sanayi atıklarının yok olmasını doğal akışına bırakmak
B) Yenilenebilir enerji kaynaklarıyla çalışan araçları yaygınlaştırmak
C) Ürün atıklarını yeniden işlenip kullanmak
D) Nüfus artış hızını, buna bağlı olarak da toplumların tüketim miktarını düşürmek
E) Şehirleşmede çevreci politikalar geliştirmek ve şehirleşmenin doğal kaynaklar üzerinde oluşturduğu olumsuz etkileri azaltmak

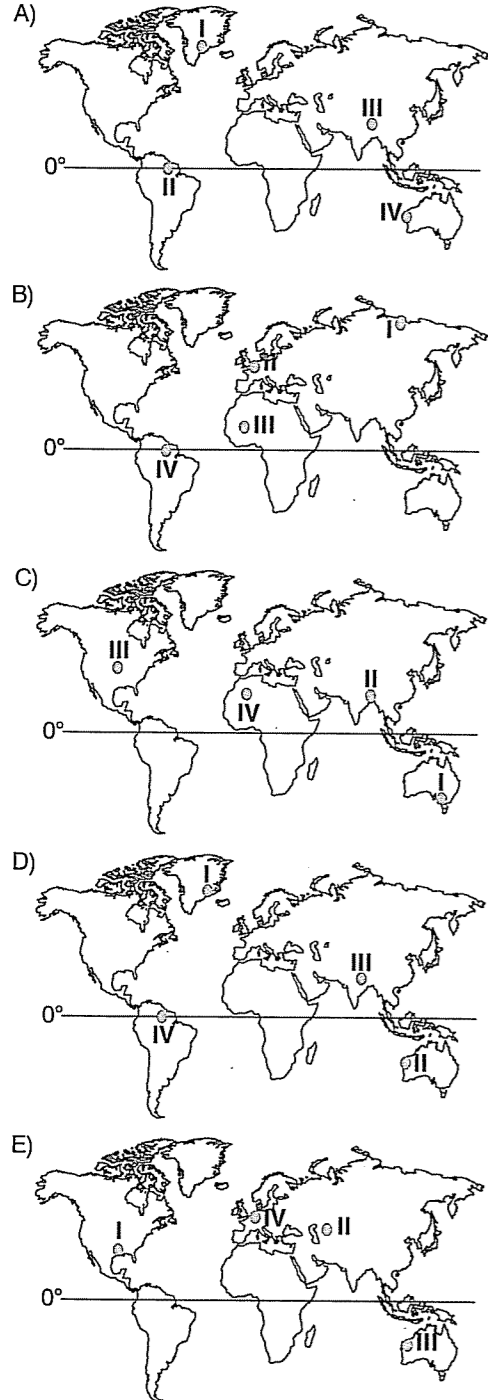
26. Bir ülkede belli bir dönemde doğal nüfus artışı gerçek nüfus artışından yüksek olmuş ise, bu dönemle ilgili aşağıdaki yargılardan hangisine ulaşılabılır?

- A) Komşu bir bölge ülkeye bağlanmıştır.
B) Ülkede, kırdan kente doğru yoğun bir nüfus hareketi yaşanmıştır.
C) Ülke, yoğun olarak dış göç vermiştir.
D) Ülkede ortalama yaşam süresi uzarken, bağımlı nüfus oranı düşmüştür.
E) Doğum oranları artarken ölüm oranları büyük bir hızla düşmüştür.

27. Yeryüzünde,

- I. düşük sıcaklık,
- II. kuraklık,
- III. engebe,
- IV. aşırı nem ve sıcaklık

faktörlerinden dolayı nüfusun seyrek olduğu yerler, aşağıdaki haritaların hangisinde doğru verilmiştir?



28. Ege Bölümü'nde dağlar kıyıya dik uzanırken Doğu Karadeniz Bölümü'nden dağlar kıyıya paralel uzanır.

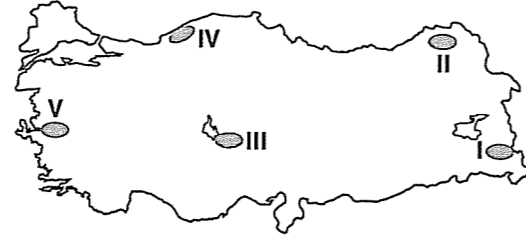
Bu durum, söz konusu coğrafi bölümlerin,

- I. körfez ve yarımada sayısı,
- II. yıllık yağış tutarı,
- III. orman üst sınırı,
- IV. denizel iklimin etki alanı

niceliklerinden hangileri bakımından farklı olmasına neden olmuştur?

- A) Yalnız I B) Yalnız IV C) I ve II
D) III ve IV E) I, II ve IV

29.



Yukarıdaki haritada numaralanmış yörelerin hangisinde, çoraklaşma nedeniyle tarımda yüksek verim almak daha zordur?

- A) I B) II C) III D) IV E) V

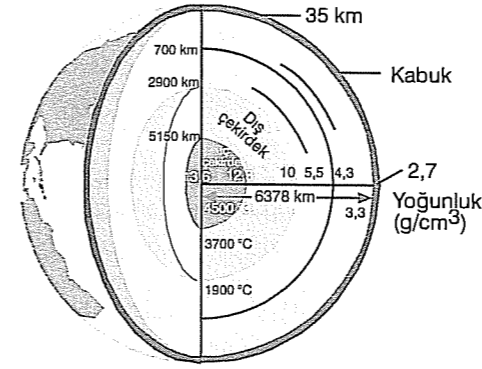
30. Türkiye'de,

- arazi engebelidir.
- bitki örtüsü seyrek.
- yağışlar düzensizdir.
- sık sık su taşkınları görülür.

Bu durumun, Türkiye'de aşağıdakilerden hangisine neden olduğu söylenebilir?

- A) Karstik şekillerin oluşmasına
B) Su toplama havzalarında erozyon şiddetinin fazla olmasına
C) Kayaçlardaki çözülme türünün yer yer farklı olmasına
D) Toprağın suyla doymun hâle gelmesine
E) Deltalara ulaşan alüvyon miktarının azalmasına

31. Yer'in, aşağıdaki şekilde görüldüğü gibi, yerkabuğu, manto ve çekirdek adı verilen içiçe girmiş farklı yoğunluk ve kalınlıktaki katmanlardan oluştuğu bilinmektedir.



Bu bilgiye ulaşmada, aşağıdakilerden hangisinin incelenmesinden elde edilen verilerin kullanıldığı söylenemez?

- A) Kayaçların yapısının
B) Volkanik patlamalar sırasında püsküren maddelerin
C) Maden aramaları sırasında yapılan kazıların
D) Deprem dalgalarının hızı ve izlediği yolunun
E) Mağaraların oluşum süreçlerinin

32. Fransa'da öğretmenliğinin ilk yılının ilk dersinde bir felsefe öğretmeni, "Felsefe nedir?" diye sormuş ve öğrencilerinin şaşkın bakışları arasında bu soruya "Bilmiyorum" diye cevap vermiştir. Öğretmenin verdiği bu cevap tüm şehre yayılmış, öğrenci velileri "Daha öğrencilerine okutmakla görevli olduğu dersin ne olduğunu bilmeyen bu öğretmeni nasıl görevlendirirler." diye tepki göstermişlerdir.

Öğretmen "Felsefe nedir?" sorusuna "Bilmiyorum" cevabını vererek felsefenin hangi özelliğine vurgu yapmak istemiştir?

- A) Zor bir ders olduğuna
B) Belli deneyimlerden sonra öğrenilebileceğine
C) Konusunun metafizik olmasına
D) Deneye ve gözleme dayanmamasına
E) Kesin bir tanımının olmamasına

33. Hayata ilişkin deneyimimiz ne kadar zengin, bilimsel veya teknik bilgilerimiz ne kadar derin olursa olsun, bunların hiçbiri felsefenin yerini tutmaz. Filozof olmak, bu bilgi üzerine düşünmek, kendini sorgulamak, soruşturmak demektir.

Bu açıklamaya en uygun felsefe tanımı aşağıdakilerden hangisidir?

- A) Sistemli ve tutarlı bir bilgidir.
B) İlk nedenleri sorgulayan bir bilimdir.
C) Olgular arasındaki değişmez ilişkileri inceleyen bir bilimdir.
D) Bilgi üzerine bir bilgidir.
E) Eleştiriye açık bir bilgidir.

34. Bilgiyi doğru kılan nedir? Bu soruyu bir örnekle açıklayalım: Zihni aynaya, zihnin konusu olan şeyleri de aynanın dışında ve onun önünde olan nesnelere olarak düşünelim. Bu nesnelere aynada yansıtacağı ve şekillerinin oluşacağı açıktır. Eğer bu yansıma ve şekil nesnenin aynasıysa ayna kursesiz bir aynadır. Bundan dolayı da bu aynanın gösterdiklerine doğru deriz.

Bu örnekte bilginin doğruluğunun ölçütü olarak aşağıdakilerden hangisi alınmıştır?

- A) Apaçıklık B) Uygunluk C) Tutarlılık
D) Yarar E) Tümelik

35. Aristoteles'e göre bir varlığın var olabilmesi için dört nedene ihtiyaç vardır. Maddesel neden, formal neden, hareket ettirici neden ve ereksel (amaçsal) neden.

Buna göre, bir heykelin var olması için gerekli olan mermer, heykeltıraş, ne heykeli olacağı ve niçin yapıldığı, öğelerinden hangisi hareket ettirici nedendir?

- A) Mermer
B) Niçin yapıldığı
C) Heykeltıraş
D) Ne heykeli olacağı
E) Ne heykeli olacağı ve niçin yapıldığı

36. "Eriyen kar suları şehrin ana caddelerini kapladı." yargısı ahlaki bir anlama sahip değilken, "Kadının yeri kocasının yanındır." yargısı ahlaki bir anlama sahiptir.

Bu örneklere göre bir yargının ahlakla ilgili olmadığını ölçütü aşağıdakilerden hangisidir?

- A) Başka kişilere zararlı olmaması
- B) Çevreye faydalı olması
- C) İnsanı mutlu etmesi
- D) Değerlerle ilgili olmaması
- E) İyi ya da kötü olması

37. Aşağıdakilerden hangisi sanat eserlerinin hayat değerleriyle ilgili bir örnektir?

- A) Bir kolyenin fil dişinden yapıldığı için güzel görünmesi
- B) Bir resmin çocukluğumuzun geçtiği köyü anımsatması nedeniyle güzel bulunması
- C) Bir heykelin, parçaları arasındaki mükemmel uyumdan dolayı güzel bulunması
- D) Bir heykelin mermerden yapıldığı için göze hoş görünmesi
- E) Ahşap evlerin doğayla uyum içinde görüldükleri için güzel görünmeleri

38. İktidarın meşruiyeti sorunu, iktidarın kaynağı sorunuyla yakından ilgilidir. Çünkü, her iktidar kendi kaynağının ilkelerine bağlı kaldığı sürece meşru sayılabilir.

Buna göre kaynağını Tanrı'dan alan bir iktidar aşağıdakilerden hangisini yaparsa meşru davranmamış olur?

- A) Toplumu doğa kanunlarına göre yönetirse
- B) Tanrısal buyrukları uygularsa
- C) İlahi adaleti ölçü alırsa
- D) Kanun olarak kutsal kitapları kabul ederse
- E) Vahiy ve kutsal olanları değerli görürse

39. Sporda ve topluca oynanan oyunlarda, mutlaka sınırlayıcı ve yasaklayıcı kurallar vardır. Bu kurallar oyuncuların önünde engel olarak görülmez, tam tersine oyunun düzenini sağlarlar. Yasa ve kurallar, oyunun anlamını ortaya koyar ve herkesin, başkalarının özgürlüğü ile gerçekleştirebilecek özgürlüklerinin çerçevesini belirler.

Bu açıklama aşağıdaki düşüncelerden hangisini desteklemez?


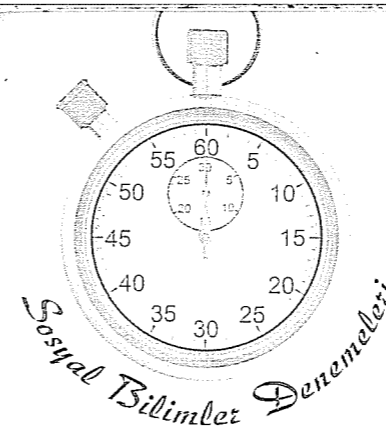
- A) Kurallar toplumsal yaşamı kolaylaştırır.
- B) Toplumun olduğu her yerde kurallar da olmalıdır.
- C) Yasaların olmadığı yerde özgürlük de olmaz.
- D) Yasalarla belirlenmemiş bir toplumsal yaşamda kimsenin güvencesi yoktur.
- E) Her türlü kural insan doğasına aykırıdır.

40. I. Doğru bilgi imkansızdır.
II. Çünkü içinde yaşadığımız evren sürekli olarak değişmektedir. Sürekli değişen bir şeyin de kalıcı bilgisine ulaşılamaz.

II. önermeyle aşağıdakilerden hangisi amaçlanmıştır?

- A) Felsefenin belli bir tanımının olmadığını göstermek
- B) I. önermeyi temellendirmek
- C) Felsefenin genel bir bilgi dalı olduğunu göstermek
- D) Felsefede kesinliğin olmadığını göstermek
- E) I. önermenin yanlış olduğunu göstermek

Deneme 19							
1	E	11	B	21	C	31	E
2	E	12	C	22	D	32	E
3	A	13	E	23	A	33	D
4	D	14	E	24	B	34	B
5	D	15	E	25	A	35	C
6	D	16	B	26	E	36	D
7	E	17	B	27	D	37	B
8	C	18	C	28	E	38	A
9	B	19	E	29	C	39	E
10	A	20	D	30	B	40	B



1. Maden devrinde insanlar en son demiri bulup işlemeyi başarmışlardır.

Demirin kullanılmasının,

- I. Daha dayanıklı araç ve gereçlerin yapılması,
- II. Ulaşımında ve savaş teknolojisinde ilerleme kaydedilmesi,
- III. Tarımsal üretimin başlaması

durumlarından hangilerini sağlaması beklenebilir?

- A) Yalnız I
- B) Yalnız III
- C) I ve II
- D) I ve III
- E) II ve III

2. Aşağıda verilen Hititlere ait uygulamaların hangisinin yorumlanmasında yanlışlık yapılmıştır?

- A) Mülkiyet hakkının güvence altına alınması: Kişilerin servet biriktirmesine olanak sağlanması
- B) Aile hukuku ve ceza hukukuna önem verilmesi: Toplumda fertlerin güvenliğinin artması
- C) Devlete başkaldırmanın ölümle cezalandırılması: Devletin bütünlüğünü korumaya özen gösterilmesi
- D) Yasaların yazılı hale getirilmesi: Aynı suçta farklı cezaların verilmesinin önlenmesi
- E) Kölelerin bedel ödeyerek hürler sınıfına geçebilmesi: Toplumdaki eşitsizliğin önlenmesi

3. Aşağıda verilen olay-yorum eşleştirmelerinden hangisi yanlıştır?

Olay	Yorum
A) Kuran-ı Kerim'in kitap haline getirilmesi	İslamiyet'in yanlış yorumlanmasının önlenmesi
B) Hicri takvimin kullanılması	Ülke içi uygulamalarda birlik sağlanması
C) Abbasilerin ümmetçi politika izlemesi	Müslüman olmayanların da İslam devletini benimsemesi
D) Hz. Osman'ın ilk donanmayı kurması	Denizlerdeki fetihlerin artması
E) Hz. Ali'nin öldürülmesi	İslam dünyasındaki ayrılıkların keskinleşmesi

4. "Karahanlılar Türk-İslam tarihini başlatmıştır." diyen bir tarihçi bu sözüne kanıt olarak aşağıdakilerden hangisini gösterebilir?

- A) Karahanlıların Türkçeyi resmi dil ilan etmesini
- B) Kervansaraylar ve medreseler yaparak bir medeniyet oluşturmalarını
- C) Yaklaşık 300 yıl hüküm sürmelerini
- D) İlk Müslüman - Türk devleti olmalarını
- E) İlk Türk - İslam eserlerini ortaya koymalarını

5. Aşağıdakilerden hangisi Kanuni döneminde yapılan Hint deniz seferlerinin başarısız olma nedenleri arasında gösterilemez?

- A) Devlet adamlarının sefere gereken önemi vermemesi
B) Osmanlı gemilerinin okyanus seferleri için yetersizliği
C) Hindistan bölgesindeki Müslüman devletlerin gereken desteği vermemesi
D) Seferlerin askeri ve siyasi hedeflerden çok yaradım amaçlı yapılması
E) Seferlere katılan komutanların yetersizliği

6. Sanayi Devrimi'nin Osmanlı ekonomisine aşağıdaki olumsuz etkilerinden hangisi Osmanlı'nın toprak bütünlüğünü de olumsuz etkilemiştir?

- A) Osmanlı el tezgahlarının yok olması
B) Osmanlı'da işsizliğin artması
C) Sanayileşmiş ülkelerin Osmanlı kaynaklarını işletmeye başlaması
D) Osmanlı'nın iç ve dış ticaret dengesinin bozulması
E) Osmanlı pazarlarının ucuz mallarla dolması

7. 17. yy.da İstanbul isyanlarının çıkmasında etkili olan,

- I. Rüşvet ve adam kayırmancılığın yaygınlaşması,
II. Yeniçeri ocağına gelişmiş kayıtların yapılması,
III. Yeniçerilerin çıkarlarına ters düşen devlet adamlarını yönetimden uzaklaştırma isteği

durumlarından hangileri özellikle "Devşirme Sistemi"nin bozulmasıyla ilgilidir?

- A) Yalnız I
B) Yalnız II
C) I ve II
D) I ve III
E) I, II ve III

8. Gerileme döneminin padişahlarından III. Selim'in ıslahatlarının başarısız olmasında ve Kabakçı Mustafa isyanı ile son bulmasında,

- I. Yeniçerilerin tepkisi,
II. İrade-i Cedit hazinesi için konulan vergilerin toplumda yarattığı huzursuzluklar,
III. Yabancı elçilerin aleyhte propaganda yapmaları

gelişmelerinden hangileri etkili olmuştur?

- A) Yalnız I
B) Yalnız III
C) I ve II
D) I ve III
E) I, II ve III

9. XIX ve XX. yy.da Osmanlı Devleti'nde görülen aşağıdaki gelişmelerden hangisi ekonominin Avrupa devletlerinin güdümüne girdiğine kanıt olmaz?

- A) Kırım Savaşı sırasında ilk defa borç para alınması
B) Balta Limanı Ticaret Antlaşması'yla yabancı tüccarların gümrük yükümlülüğünün kaldırılması
C) Sanayinin çok zayıf olması ve bir türlü önlem alınamaması
D) Kayme adı verilen ilk kağıt paranın basılması
E) Tütün üretimi için Alman - Fransız ortak yönetimindeki Reji idaresinin kurulması

10. Mondros Ateşkes Antlaşması'ndan sonra Türk halkında milliyetçilik duygularının ön plana çıkmasında,

- I. İstanbul hükümetinin işgallere karşı tepkisiz kalması,
II. Devlet kurmak amaçlı azınlık isyanlarının çıkması,
III. Osmanlı yönetiminde hükümet değişikliği yaşanması

durumlarından hangileri etkili olmuştur?

- A) Yalnız I
B) Yalnız II
C) I ve III
D) II ve III
E) I, II ve III

11. Aşağıdakilerden hangisi "Temsil Heyeti"nin hükümet gibi çalıştığını kanıtlar?

- A) Halkı Milli Mücadele etrafında toplaması
B) Batı cephesi komutanlığına İsmet Paşa'yı atması
C) Misaki Milli'nin esaslarını belirlemesi
D) Müdafai Hukuk Cemiyetleri'ni örgütlemesi
E) İrade-i Milliye gazetesi aracılığıyla halkı bilgilendirmesi

12. Sevr Antlaşması'nın,

- I. Osmanlı Devleti'nin I. Dünya Savaşı'nın başında kaldırdığı kapitülasyonlar yeniden yürürlüğe konacaktır,
II. Azınlıklara geniş haklar verilecektir,
III. Boğazlar savaş zamanı bile bütün devletlerin gemilerine açık olacaktır

maddelerinden hangileri Anlaşma Devletleri'nin Osmanlı ekonomik hayatında etkinlik kazanması amacına yöneliktir?

- A) Yalnız I
B) Yalnız II
C) I ve II
D) I ve III
E) I, II ve III

13. Aşağıdakilerden hangisi II. TBMM'yi I. TBMM'den ayıran özelliklerden değildir?

- A) Güçler ayrılığı prensibine dayanması
B) Kabine sisteminin uygulanması
C) Millet egemenliğine dayanması
D) Üyeleri arasındaki fikir birliğinin daha fazla olması
E) Çağdaşlaşma yolundaki devrimleri yapması

14. 1930-1938 yılları arasında görülen,

- I. Türkiye'nin Milletler Cemiyeti'ne girmesi,
II. Balkan Antantı ve Sadabat Paktının imzalanması,
III. Montrö Boğazlar Sözleşmesi'nin imzalanması

gelişmelerinden hangileri "Yurtta barış, dünyada barış!" anlayışının doğrudan bir sonucudur?

- A) Yalnız I
B) I ve II
C) I ve III
D) II ve III
E) I, II ve III

15. Atatürk'ün devletçilik anlayışı, özel sektörün de katılımını kapsayan karma bir ekonomik anlayıştır.

Buna rağmen cumhuriyetin ilk yıllarında katı bir devletçiliğin uygulanmasında ve bütün yatırımları devletin yapmasında,

- I. Savaş yıllarından dolayı yeterli sermaye birikiminin olmaması,
II. Osmanlı zamanında Türk halkının daha çok tarım ve hayvancılıkla uğraşması,
III. Ülkenin kalkınması için bazı yatırımların hızlı yapılmasının gerekmesi

durumlarından hangileri etkili olmuştur?

- A) Yalnız I
B) I ve II
C) I ve III
D) II ve III
E) I, II ve III

16. Aşağıdakilerden hangisinin Atatürk tarafından kurulan Türk Tarih Kurumu'nun amaçlarından olduğu söylenemez?

- A) Türk devletlerinin tarihini aydınlatmak
B) Türklerin Dünya ve İslam tarihine katkılarını ve ilişkide bulunulan uluslar üzerindeki etkisini incelemek
C) Türklerden önceki Anadolu tarihini araştırmak
D) Türklerin medeni kabiliyetlerden yoksun bir ırk olduğu iddialarını çürütmek
E) Türklerin Anadolu'da yaşayan diğer ırklardan üstün bir uygarlık kurduğunu ispatlamak

17. I. Seferberlik

II. Sıkıyönetim

III. Seçim

Yukarıdaki dönemlerden hangilerinde vatandaşların temel hak ve özgürlüklerinin sınırlandırılması beklenemez?

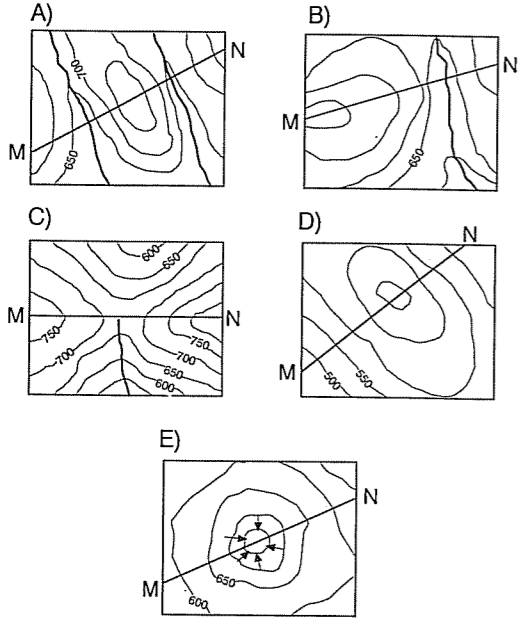
- A) Yalnız I B) Yalnız III C) I ve II
D) I ve III E) II ve III

18. Bir topoğrafya haritasından alınan M-N doğrultusunda sırasıyla,

- o sırt
o boyun
o sırt

yer şekillerine rastlanmıştır.

Buna göre, söz konusu profil aşağıdaki M-N doğrultularından hangisine aittir?



19. I. Bir dağın yüksekliği

II. Bir yörenin coğrafi koordinatları

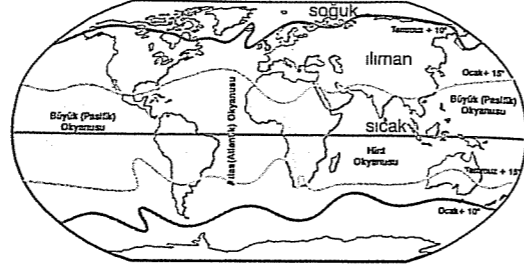
III. Bir gölün alanı

IV. İki merkez arasındaki kuş uçuşu uzaklık

Bir bölgenin fiziki haritasından, yukarıdakilerden hangilerinin belirlenmesi için ölçek gereklidir?

- A) I ve II B) I ve III C) II ve III
D) II ve IV E) III ve IV

20. Aşağıdaki haritada, sıcaklık kuşakları verilmiştir.



Buna göre, sıcaklık kuşaklarının oluşumunda aşağıdakilerden hangisinin etkili olduğu söylenemez?

- A) Kara ve deniz dağılışının
B) Yer'in küresel şeklinin
C) Sıcak ve soğuk su akıntılarının
D) Yer'in eksek eğikliğinin
E) Genel hava dolaşımının

21. Aşağıdaki tabloda 1985 yılında altı ülkenin nüfus artış oranları ve yüz ölçümleri verilmiştir.

Ülke	Nüfus artış oranı %	Yüz ölçümü (bin km ²)
Türkiye	2,1	780
Fransa	0,6	547
İsveç	0,1	450
Almanya	-0,1	357
İngiltere	-0,2	244
Hollanda	0,5	41

Yalnızca tablodaki bilgilere dayanarak bu ülkelerle ilgili olarak aşağıdaki yargılardan hangisine ulaşılabilir?

- A) Türkiye ile İngiltere'nin nüfus artış oranları arasındaki fark en azdır.
B) Verilen ülkeler arasında yüz ölçümüne göre yapılan sıralamada İsveç baştan üçüncü sırada yer alır.
C) Verilen ülkeler içinde, hem nüfus artış oranı hem de yüz ölçümü Türkiye'de en fazladır.
D) Verilen yılda Almanya ve İngiltere nüfusunda bir önceki yıla göre azalma olmuştur.
E) Altı ülke içinde nüfus yoğunluğu Hollanda'da en azdır.

22. Bir ülkenin matematik konumu tanımlanırken;

- o 22° kuzey paraleli,
o 32° kuzey paraleli,
o 25° doğu meridyeni,
o 37° doğu meridyeni

kullanılır.

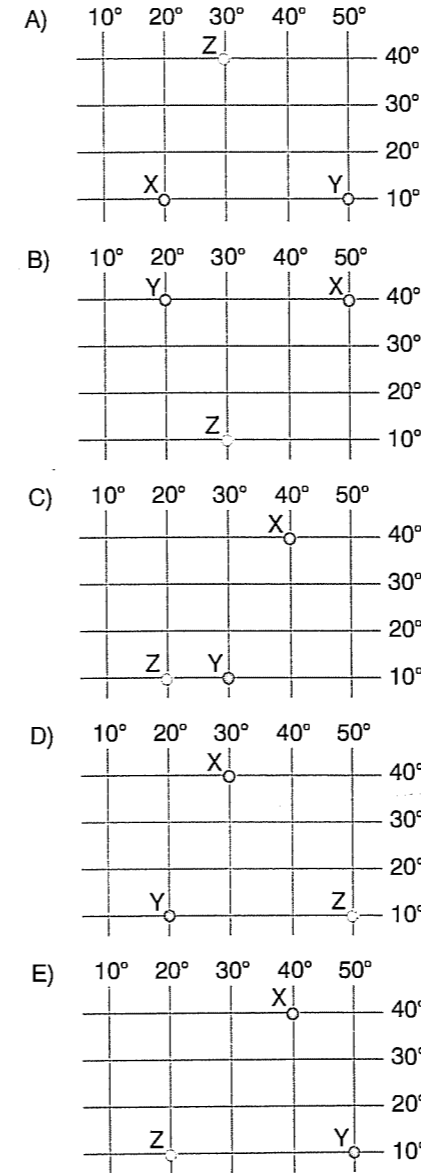
- o Üç farklı uçağın söz konusu ülkeye ulaşabilmeleri için izlemeleri gereken yönleri aşağıda verilmiştir.

X uçağı → güneybatı

Y uçağı → kuzey

Z uçağı → kuzeydoğu

Buna göre, aşağıdaki coğrafi koordinatların hangisinde X, Y ve Z uçaklarının konumları doğru verilmiştir?



23. Türkiye arazisinin % 40,7'sinde tarım yapılmakta olup, bu arazilerde yetiştirilen ürün çeşidi oldukça fazladır.

Buna göre, ülkedeki tarımsal ürün çeşitliliği,

- I. iklim koşulları,
II. jeolojik yapı,
III. toprak yapısı,
IV. doğal bitki örtüsü

özelliklerinden hangileriyle açıklanabilir?

- A) I ve II B) I ve III C) II ve III
D) II ve IV E) III ve IV

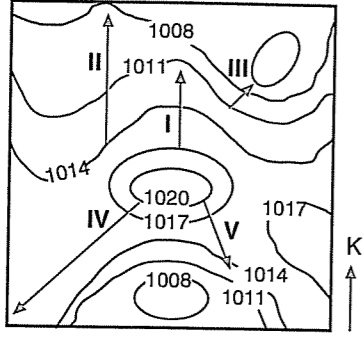
24. Aşağıda, sıcaklığın yeryüzüne dağılışıyla ilgili bazı durumlar verilmiştir.

- o Bir dağ yamacında yükseldikçe orman örtüsü gürleşir; belli bir yükseklikten sonra ise cılızlaşır, doğal olarak ortadan kalkar.
o Aynı enlem üzerinde yer almalarına karşın Erzurum'da yıllık ortalama sıcaklığın Ankara'dan daha düşük olması
o Kuzeybatı Avrupa kıyılarının Orta Avrupa'ya göre daha yumuşak bir iklime sahip olması
o Sibirya'nın dünyanın en soğuk yerlerinden biri olması
o Kalıcı karların yüksek dağlar üzerinde yer alması
o Bir dağın kuzey yamacının yıl boyunca güney yamacından daha fazla ısınması
o Bulutların yerden belli bir yükseltide yoğunlaşması
o Kuzey Anadolu Dağları'nda 1000-1200 metreden sonra geniş yapraklı ormanların yerini iğne yapraklılara bırakması

Verilen durumlardan kaç tanesi yer yüzünde sıcaklığın yükseltiye göre değiştiğine örnektir?

- A) 2 B) 3 C) 4 D) 5 E) 6

25.



Yukarıdaki izobar haritasında numaralanmış oklar yönünde olduğu düşünülen rüzgârlardan hangisinin esiş hızı ötekilerden daha fazladır?

- A) I B) II C) III D) IV E) V

26. Aşağıdaki tabloda beş farklı merkezin sıcaklıkları, maksimum nemleri ve mutlak nemleri verilmiştir.

Merkez	Sıcaklık (°C)	Maksimum nem (g/m ³)	Mutlak nem (g/m ³)
K	30	30.4	10
L	20	17.3	10
M	10	9.4	10
N	0	4.8	10
P	-10	2.3	10

Buna göre, verilen merkezlerin hangisinde yoğunlaşma miktarı ötekilerden daha fazladır?

- A) K B) L C) M D) N E) P

27. Karadeniz'deki Köstence Limanı ile Suudi Arabistan'ın Cidde Limanı arasındaki deniz yolu mesafesi, aşağıdaki su yollarından hangisinin kullanılması durumunda en kısa olur?

- A) Süveyş Kanalı B) Cebelitarık Boğazı
C) Ümit Burnu D) Panama Kanalı
E) Dover Boğazı

28. Aşağıdakilerden hangisinde verilen ülke karşılaştırmasında, ülkelerde gelişme düzeyinin birbirinden farklı olduğuna ilişkin bir bilgi yoktur?

- A) K ülkesinde genç nüfus, L ülkesinde ise yaşlı nüfus oranı daha fazladır.
B) M ülkesinde ortanca yaş, N ülkesine göre daha düşüktür.
C) R ülkesi yer altı ve yer üstü kaynakları bakımından P ülkesine göre daha zengindir.
D) F ülkesinde birincil ekonomik faaliyetlerde, G ülkesinde ise üçüncül ekonomik faaliyetlerde çalışan nüfus oranı daha fazladır.
E) Y ülkesinde nüfus artış hızını azaltmaya, Z ülkesinde ise nüfus artış hızını artırmaya yönelik nüfus politikaları uygulanmaktadır.

29. 2003 yılının aralık ayında Birleşmiş Milletler gözetiminde düzenlenen iklim değişimleri konferansında bir küçük ada devleti olan Mikronezya devletinin delegesi, "İklim değişikliği nedeniyle ölecek ilk insanlar bizleriz." şeklinde acı bir açıklama yaptı. Delege, acil olarak besin kaynaklarının güvenliğinin sağlanması, su arıtma ünitelerinin kurulması, mendirekler inşa edilmesi ve güneş enerjisinden yararlanılması gerektiğini ifade etti.

Bu parçaya dayanarak, Mikronezya'yla ilgili aşağıdakilerden hangisi söylenemez?

- A) Kıyı şeklinin değiştiği
B) Tatlı su kaynaklarının azaldığı
C) Tarımsal üretimin düştüğü
D) Bazı yerlerde evlerin yıkılması sonucu barınma sorunlarının yaşandığı
E) Fosil enerji kaynaklarına dayalı tüketimin fazla olduğu

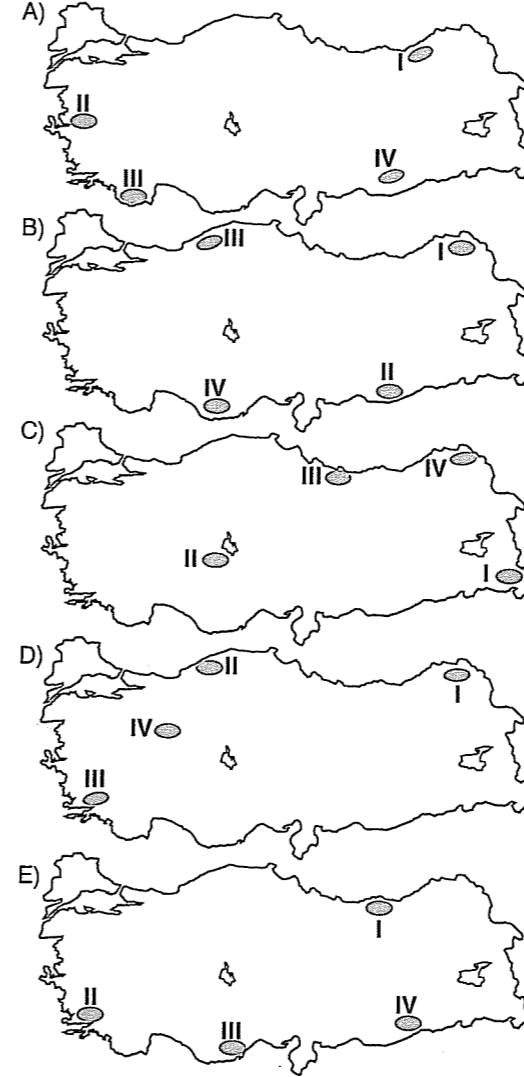
30. Aşağıdaki kentlerden hangisinin bulunduğu yörede, yerleşme üst sınırı ötekilerden daha yüksektir?

- A) La Paz B) Tokyo C) Nairobi
D) Dikson E) Londra

31. Türkiye'de,

- I. alpin çayırı,
II. psödomaki,
III. garig,
IV. antropojen bozkır

bitki türlerinin görüldüğü yerler, aşağıdaki haritaların hangisinde doğru verilmiştir?



32. Bir önermenin doğruluğu aynı konuyla ilgili olan daha önceki bilgilerle çelişmemelidir. Eğer oluşturulan yeni önerme eski önermelerle çelişiyorsa, bu önerme yanlıştır.

Bu açıklamada doğru bilginin ölçütü olarak aşağıdakilerden hangisi alınmıştır?

- A) Tutarlılık B) Fayda C) Olgusallık
D) Objesine uygunluk E) Sezgisellik

33. Aristoteles'e göre evren madde ve form bakımından kademelendirilmiştir. Örneğin, bir alt derecede bulunan varlık, bir üst derecede bulunan varlığa göre "madde"dir. Bir üst derecedeki varlık da kendi altındaki varlığa göre formdur. Tıpkı tuğlanın bir ev için madde, evin de tuğlalar için form olması gibi.

Bu açıklamaya göre aşağıdakilerden hangisinde madde ve form ilişkisi yanlış verilmiştir?

	Madde	Form
A)	Ağaç	Masa
B)	Mermer	Heykel
C)	Toprak	Çömlek
D)	Demir	Bıçak
E)	Kitap	Ahşap

34. Tanrı, tek tek bütün varlıklardadır. Bundan dolayı her şey 'Tanrı'nın varlığından ibarettir; o halde evrenle Tanrı aynı şeydir.

Bu varlık düşüncesini ifade eden felsefe kuramı aşağıdakilerden hangisidir?

- A) Düalizm B) İdealizm C) Pozitivizm
D) Panteizm E) Nihilizm

35. İnsanın aklını ve iradesini kullanarak doğru olduğunu düşündüğü bir davranışı bilinçli olarak seçebilme yetisidir.

Bu açıklama ahlak felsefesinin aşağıdaki temel kavramlarından hangisine aittir?

- A) Erdem B) İyi C) Kötü
D) Mutluluk E) Özgürlük

36. İnsan bencil olduğu için her insan diğeri için bir tehliktir. İnsanların birbirine zarar vermesini önleyebilecek tek kurum devlettir. İnsanlar bundan dolayı devleti oluşturmuşlardır.

Hobbes'un bu düşüncesi aşağıdaki sorulardan hangisinin cevabı olarak verilmelidir?

- A) Adalet nedir?
B) Mutluluk nedir?
C) Devletin kaynağı nedir?
D) Bürokrasi nedir?
E) Sivil toplum nedir?

37. Ahlak, çeşitli ahlak ilkeleri geliştirerek insanları bu ilkelere uymaya davet eder. Gerektiğinde bu ilkelere uymayanlara yaptırım uygular. Ahlak felsefesi ise ahlak ilkeleri geliştirmez, var olan ahlak ilkelere yapısını çözümlenmeye çalışır.

Bu açıklamaya göre ahlak felsefesi hangi açıdan ahlaktan farklıdır?

- A) Toplumdan topluma değişmesiyle
B) Var olan ahlak üzerine bir düşünme olmasıyla
C) Toplumsal düzeni sağlamasıyla
D) Yaptırım uygulamasıyla
E) Kurallar koymasıyla

38. "Şu tablo güzeldir" dediğim zaman, bu beğeni yargısı, sanat yapıtı dediğim "tablo" karşısında, yalnız benim özel olarak duyumsadığım bir hoşlanmayı dile getirmez, ama aynı zamanda o, herkes için geçerli, zorunlu bir yargıdır da. Bunun için "güzel" dediğim o tabloyu, herkesin "güzel" bulmasını isterim ve bunu da herkesten beklerim. Çünkü "şu tablo güzeldir" yargısına, bu "ortak duyuya" dayanarak varırım. Çünkü beğeni yargısı herkesin onayını bekler.

Kant bu düşüncesiyle aşağıdakilerden hangisini amaçlamıştır?

- A) Ortak estetik yargıların varlığını kanıtlamayı
B) Güzel kavramının deneysel olduğunu
C) Estetik yargıların göreceli olduğunu
D) Güzellik kavramının belli bir faydaya dayandığını
E) Hoşlanma duygusunun kişiden kişiye farklı olabileceğini

39. Sanatın bizim için sahip olduğu değer büyük bir kısmı, onun gerçeği temsil etme kabiliyetinden ileri geliyor gibi görünmektedir. Örneğin, Monet'in "su zambakları" ve "kavak ağaçları" tablolarının çekiciliğinin kaynağı, onların gerçekte meydana gelen bir şeyi temsil etmiş olmalarıdır.

Bu açıklama ile aşağıdaki sorulardan hangisinin cevabı verilmeye çalışılmıştır?

- A) Sanatın amacı nedir?
B) Sanat sanat için midir?
C) Sanatta güzelliğin ölçüsü nedir?
D) Güzellikle iyilik arasındaki fark nedir?
E) Güzel olan aynı zamanda yararlı olan mıdır?

40. Bilim tarihine baktığımızda bilimsel bilginin üç aşamadan geçtiğini görürüz:

I. Teolojik aşama : Bu aşamada doğa olayları doğaüstü güçlerle açıklanmaya çalışılmıştır. Örneğin, rüzgarın nedeni Tanrı Eole'un bir kapisidir.

II. Metafizik aşama : Bu aşamada doğa olayları tanrılarla değil soyut kavramlarla açıklanmaya çalışılmıştır. Örneğin, rüzgar havanın "dinamik gücü" kavramıyla açıklanmaya çalışılmıştır.


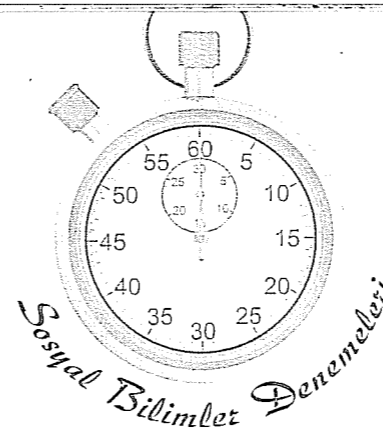
III. Pozitif aşama : Bu aşamada doğa olaylarının nasıl meydana geldiği nesnel verilerle açıklanmaya çalışılmıştır. Örneğin, rüzgar havanın yüksek basınçtan alçak basınca doğru yer değiştirmesidir şeklinde açıklanmıştır

Bu verilere göre aşağıdakilerden hangisi sadece pozitif aşamaya ait bir özelliktir?

- A) Her olayın nedeni başka bir nesnel olayla açıklanmaktadır.
B) Olan değil olması gereken açıklanmaya çalışılmıştır.
C) Nesnel olarak kanıtlanması imkansızdır.
D) Sadece teorik açıklamalardır.
E) Nesnel değerlendirmeden uzaktır.

Sosyal Bilimler Denemeleri

Deneme 20							
1	B	11	B	21	C	31	D
2	E	12	A	22	C	32	A
3	C	13	C	23	B	33	E
4	D	14	B	24	D	34	D
5	E	15	E	25	C	35	E
6	C	16	E	26	E	36	C
7	B	17	B	27	A	37	B
8	E	18	C	28	C	38	A
9	D	19	E	29	E	39	C
10	B	20	D	30	A	40	A



1. İlkçağ Anadolu uygarlıklarından olan Lidyalıların uygarlık tarihine yaptıkları en büyük katkı ekonomi alanında yaptıkları yenilikler olmuştur.

Lidyalıların,

I. Yönetimde tüccarların ve asilzadelerin de önemli bir role sahip olmaları,

II. Efes'ten Mezopotamya'ya uzanan Kral Yolu'nu yapmaları,

III. Parayı icat etmeleri

özelliklerinden hangileri yukarıdaki yargıya örnek gösterilebilir?

- A) Yalnız I B) Yalnız III C) I ve III
D) II ve III E) I, II ve III

2. İslamiyet öncesi Türklerde siyasal teşkilatlanmanın en üst basamağını "il" denilen devlet oluşturuyordu. Devlet dağıldığında onu oluşturan alt birlikler (aile, sülale, boy, budun) aynen özelliklerini korurlardı.

Bu teşkilatlanma şeklinin,

I. Geniş bir coğrafyaya yayılmaları,

II. Yıkılan devletin yerine yenisinin kurulmasının kolaylaşması,

III. Türklerin varlıklarını uzun süre korumaları

durumlarından hangileri üzerinde etkili olduğu söylenebilir?

- A) Yalnız I B) Yalnız III C) I ve III
D) II ve III E) I, II ve III

3. Tunus'ta kurulan Türk - İslam devletlerinden Fatimiler Şiiliği devlet politikası olarak benimsemiş ve hükümdarlarını halife ilan etmişlerdir.

Bu durumun aşağıdakilerden hangisine neden olduğu söylenebilir?

- A) Fatimilerin varlıklarını uzun süre devam ettirmesine
B) Diğer Müslüman devletlere karşı üstünlük kurmalarına
C) İslam dünyasındaki siyasal birliğin bozulmasına
D) Mısır, Hicaz, Yemen gibi bölgeleri ele geçirmelerine
E) İslam dünyasının liderliğini ele geçirmelerine

4. Yıldırım Bayezid dönemine ait aşağıdaki uygulamalardan hangisi bu dönemde daha önceki hükümdarlardan daha farklı bir politikayı izlendiğini gösterir?

- A) Niğbolu Savaşında Haçlılarla mücadele edilmesi
B) Bulgaristan'ın tamamen Osmanlı'ya katılması
C) Bizans'a yönelik seferler yapılması
D) Sırbistan'ın vergiye bağlanması
E) Timur'la Türk dünyasının lideri olmak için mücadeleye girilmesi

5. Osmanlı Devleti'nin, Akkoyunlu Devleti'ne son vermesine rağmen bu bölgede belirli bir süre Akkoyunlu hükümdarı Uzun Hasan'ın "Hasan Paşa Kanununu" uygulamaya devam etmiştir.

Osmanlı Devleti bu uygulamayla aşağıdakilerden hangisini amaçlamıştır?

- A) Akkoyunlulara karşı üstünlüğünü kabul ettirmeyi
B) Bölgeye kadı göndermek için zaman kazanmayı
C) Bölge halkının devlete uyumunu kolaylaştırmayı
D) Her bölgeye kendi hukuk kurallarını uygulamayı
E) Akkoyunlu hükümdarı Uzun Hasan'ın varlığını sürdürmeyi

6. I. Köylülerin "çiftbozan" olması

II. Merkezden gönderilen yöneticilerin halka kötü davranması

III. Deneyimsiz padişahların yetişmesi

Duraklama döneminde görülen yukarıdaki gelişmelerin sonuçları arasında hangisi gösterilemez?

- A) Merkezi otoritenin bozulması
B) Avrupa'da elçilikler açılmaya başlanması
C) Tımar sisteminin bozulması
D) Köyden kente göçlerin başlaması
E) Taşrada isyanların çıkması

7. İslahat Alan

- I. İç borçlanma sisteminin uygulanması Ekonomi
II. Avrupa'ya elçi gönderilmesi Askeri
III. Kara mühendishanesinin açılması Diplomasi
IV. Çiçek aşısının kullanılması Tıp

Yukarıdaki XVIII.yy islahatlarının verilen alanlarından hangileri yer değiştirirse yanlışlık giderilmiş olur?

- A) I - II D) I - IV
B) I - III E) III - IV
C) II - III

8. **Dört halife dönemi İslamiyet'in "Cumhuriyet Dönemi" olarak adlandırılırken, Emeviler döneminin "Saltanat Dönemi" olarak adlandırılmasına neden olan uygulama aşağıdakilerden hangisidir?**

- A) Emevilerin Arap olmayan Müslümanları köle olarak görmesi
B) Dört halife döneminin sonlarına doğru iç savaşların başlaması
C) Halifeliğin babadan oğla geçmesi
D) Emevilerin devletin başkentini Şam'a kaydırması
E) Emevilerin fetihlerle İslamiyet'in sınırlarını genişletmesi

9. Tazminat Fermanı'yla herhangi bir ayırım yapılmaksızın herkes kanun önünde eşit sayılmış, hiç kimsenin yargılanmadan cezalandırılmayacağı belirtilmiş ve bu kurallara padişahın da uyması kararlaştırılmıştır.

Bu bilgilere bakılarak aşağıdakilerden hangisine ulaşılamaz?

- A) Osmanlı hukuk devleti olma yolunda adım atmıştır.
B) Padişahın yetkileri kısıtlanmıştır.
C) Demokratikleşme adına önemli bir adım atılmıştır.
D) Devlet yönetiminde rejim değişikliği yaşanmıştır.
E) Ferman, kişi haklarının korunmasına yönelik hükümler içermektedir.

10. ABD başkanının adını taşıyan "Wilson ilkeleri" I. Dünya Savaşı'nın bitirilip barış ortamının esaslarının belirlenmesi amacını taşıyordu. Kendisi de kazanan tarafta olmasına rağmen ABD, galip devletlerin itirazına neden olacak "Kazanan devletler, kaybedenlerden toprak almayacak" maddesini Wilson ilkelerine koydurmuştu.

ABD bu tutumuyla,

- I. Sömürgecilik anlayışını değiştirip dünya ticaretinde etkin olma,
II. İngiltere ve Fransa'nın güçlenmesini önleme,
III. Tüm dünyada barış ortamının oluşmasını sağlama

durumlarından hangilerini amaçlamıştır?

- A) Yalnız I D) I ve III
B) Yalnız II E) I, II ve III
C) I ve II

11. Müdafai Hukuk Dernekleri, Türk kurtuluş Savaşı'nın ilk siyasi örgütlenmesi olup azınlıklarla ve işgal devletleriyle mücadele ederek Anadolu'daki Türk varlığını sürdürmeye çalışmışlardır.

Buna göre aşağıdakilerden hangisi Müdafai Hukuk Cemiyetleri'nin amaçlarından olamaz?

- A) İşgallere karşı halkı bilinçlendirmek
B) Dünya kamuoyuna seslerini duyurmak
C) İstanbul hükümetinin teslimiyetçi politikasına karşı çıkmak
D) Bağımsız bir Türk devleti kurmak
E) Azınlıkların yıkıcı faaliyetlerini önlemek

12. Temsil Heyeti ve İstanbul Hükümeti arasında yapılan görüşmelerde Meclisi Mebusan'ın toplanmasına karar verildi. Padişah ve İngilizler kendilerinin denetimindeki İstanbul'da toplanacak meclisin istedikleri kararları alacağına inandıklarından Mebusan Meclisi'nin toplanmasına izin verdiler.

Son Osmanlı Meclisi'nde alınan,

- I. M. Kemal'in meclis başkanı seçilmemesi,
II. Mecliste Felah-ı Vatan grubunun kurulması,
III. Misak-ı Milli kararlarının kabul edilmesi

kararlarından hangileri padişahın ve İngilizlerin yanıldığını gösterir?

- A) Yalnız I D) II ve III
B) Yalnız III E) I, II ve III
C) I ve II

13. İstanbul Hükümeti'nin,

- I. Manda ve himaye yanlısı politika izlemesi,
II. Şühülislama M. Kemal ve arkadaşları aleyhine fetvalar yayınlaması,
III. Sevr Antlaşması'nı imzalaması

faaliyetlerinden hangileri Anadolu halkının TBMM'ye destek vermesini kolaylaştırmıştır?

- A) Yalnız I D) I ve III
B) Yalnız III E) I, II ve III
C) I ve II

14. Kurtuluş Savaşı batı cephesinde görülen,

- I. Sakarya Meydan Muharebesi,
II. I. İnönü,
III. Kütahya - Eskişehir Savaşları,
IV. Büyük Taarruz

savaşlarının günümüzden geriye doğru sıralanması aşağıdakilerin hangisinde doğru verilmiştir?

- A) IV - I - II - III D) I - IV - III - II
B) I - II - III - IV
C) IV - I - III - II E) III - I - IV - II

15. Boğazlar Meselesi, Lozan Konferansı'nın en çok tartışılan ve çözümü uzun süren konularından biri olmuştur.

Bu konferansta Boğaz'larla ilgili alınan,

- I. Boğazların her iki yakasında askersiz bölge oluşturulması,
II. Boğazlardan ticaret gemilerinin geçişinin serbest olması,
III. İşgal güçlerinin İstanbul'u ve boğazları boşaltacak olması,
IV. Boğazların idaresinin Türkiye başkanlığında komisyona bırakılması

kararlarından hangileri Türkiye'nin egemenliği ni doğrudan kısıtlar?

- A) I - II D) I - IV
B) I - III E) III - IV
C) II - III

16. Devletçilik ilkesi doğrultusunda yapılan,

- I. Sümerbank'ın ve Etibank'ın kurulması,
II. Merkez bankasının kurulması,
III. Faiz oranlarının devlet tarafından belirlenmesi

inkılaplarından hangileri "kalkınmadan çok ekonomiyi kontrol etme" amacına yöneliktir?

- A) Yalnız I D) II ve III
B) Yalnız III E) I, II ve III
C) I ve II

17. Toplumsal alanda yapılan,

- I. İsviçre Medeni Kanunu'nun kabulü,
 - II. Hafta sonu tatilinin cumadan pazara alınması,
 - III. Ölçü ve tartı birimlerinin değiştirilmesi
- inkılaplarından hangileri Avrupa'yla kurulacak ticari ilişkileri kolaylaştırmaya yöneliktir?

- A) Yalnız I B) Yalnız II C) I ve II
D) II ve III E) I, II ve III

18. Dalga hareketleri sonucunda burunlar aşınır ve buradan kopan parçalar dalga gücünün azaldığı yerlerde birikir.

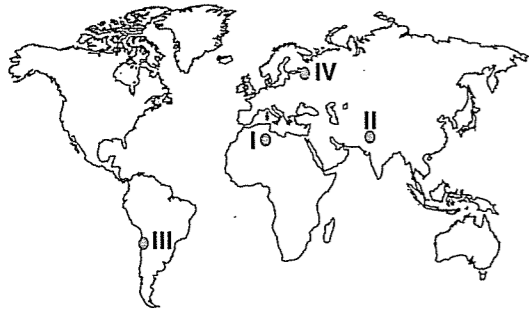
Buna göre,

- I. Kapıdağ Yarımadası,
- II. Küçük Çekmece Gölü,
- III. Çukurova,
- IV. Gelibolu Yarımadası

yer şekillerinden hangilerinin oluşumu yukarıdaki bilgilere dayanarak açıklanabilir?

- A) I ve II B) I ve III C) II ve III
D) II ve IV E) III ve IV

19.



Coğrafi koşulları göz önüne alındığında, haritada numaralanmış yörelerin hangilerinde fön rüzgârlarının oluşması beklenir?

- A) I ve II B) I ve III C) II ve III
D) II ve IV E) III ve IV

20. 1/1.000.000 ölçekli bir haritada iki yer arasındaki uzaklık 15 cm'dir.

Bu iki yer arasındaki yükselti farkı 1.200 metre olduğuna göre eğim binde kaçtır?

- A) 4 B) 8 C) 10 D) 14 E) 16

21. Aşağıdakilerden hangisinin Dünya'nın eksen eğikliğine bağlı olarak oluştuğu söylenemez?

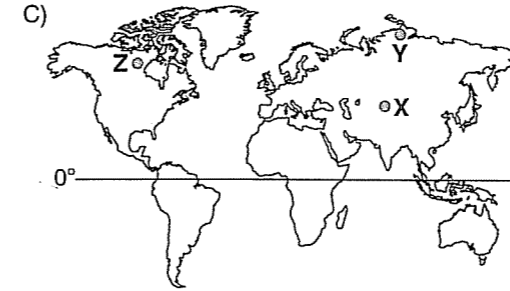
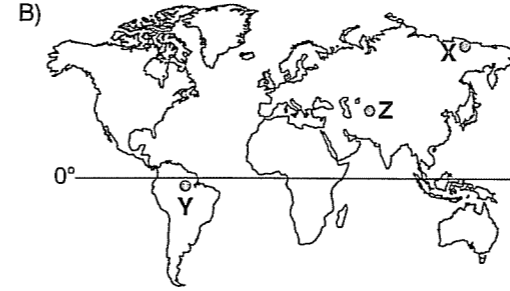
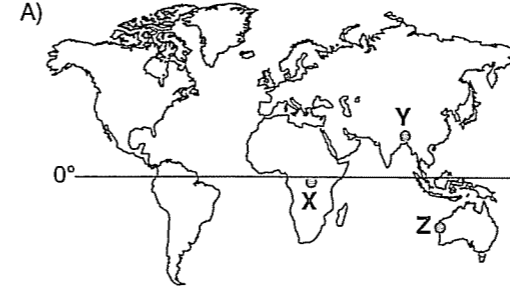
- A) Kutup noktalarında 6 ay boyunca Güneş'in batmaması
B) Güneş ışınlarının dönencelere ve dönenceler arasındaki merkezlere dik gelmesi
C) Eylül ekinoksunun iki gün gecikmeyle 23 Eylül'de gerçekleşmesi
D) Ekinokslarda aydınlanma dairesinin kutup noktalarından teğet geçmesi
E) Aynı anda yarım kürelerin orta kuşaklarında farklı mevsimlerin yaşanması

22. Rotterdam Limanı'ndan hareket eden bir yük gemisi Tokyo Limanı'na en kısa deniz yolundan ulaşmak için, aşağıdaki ülkelerden hangisinin kara sularından geçmek zorunda değildir?

- A) Fransa B) Mısır
C) Suudi Arabistan D) Avustralya
E) Malezya

23. Doğusuyla batısı arasında 5 meridyen, kuzeyiyle güneyi arasında 5 paralel bulunan bölgelerden X, Y ve Z'nin iz düşümsel alanları en fazla olandan en az olana doğru şöyle sıralanır: Y > X > Z

Buna göre, bölgelerin dünya üzerindeki konumları aşağıdakilerin hangisindeki gibi olabilir?

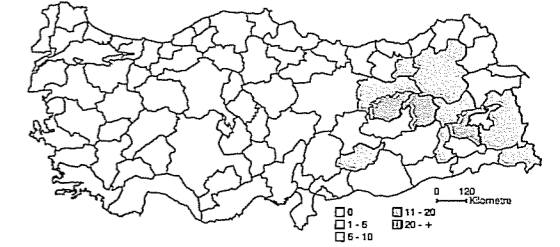


24. Tarih boyunca insanlar doğal kaynakların sınırsız olabileceğini düşünmüşlerdir. Bu da insanların uzun yıllar boyunca doğal kaynakları bilinçsizce kullanılmasına yol açmıştır.

Buna göre, aşağıdakilerden hangisi bu duruma bir örnektir?

- A) İslah çalışmaları nedeniyle orman alanlarının kullanım dışı bırakılması
B) Akarsu ağzlarındaki deltaların endüstri bitkileri üretimine ayrılması
C) Tarım alanlarının sulanmasında geleneksel yöntemlerin kullanılması
D) Organik tarım yapılan alanların giderek artması
E) Enerji üretiminde alternatif kaynaklara olan yönelimin artması

25. Aşağıdaki haritada, Türkiye'de çığ olaylarının etkinliğine göre dağılışı gösterilmiştir.



Buna göre, bazı alanlarda yıl içinde çığ olaylarının fazla olması, bu alanların,

- I. engebeli ve yüksek olması,
- II. kar yağışlarının fazla olması,
- III. mutlak nem miktarının az olması,
- IV. yağış rejimlerinin düzensiz olması

özelliklerinden hangilerine sahip olduğuna kanıttır?

- A) I ve II B) I ve III C) II ve III
D) II ve IV E) III ve IV

26. Dünyada her yer yerleşim için elverişli değildir. Yerleşmeyi sınırlandıran faktörler vardır.

Buna göre, aşağıdakilerden hangisi yerleşilebilen alanların sınırlı olduğu yerlerden biri değildir?

- A) Kıyılara çok uzak küçük adalar
- B) Dağlık alanlar
- C) Buzullarla kaplı alanlar
- D) Şiddetli kuraklığın yaşandığı alanlar
- E) Geniş tabanlı akarsu yatakları

27. İki farklı ülkeden,

- o K, nüfusun yaşlanması,
- o L, istihdam, eğitim, sağlık ve sosyal hizmetlerin yetersizliği

gibi demografik sorunlarla karşı karşıya kalmaktadır.

Bu durum, K ve L ülkelerinin aşağıdakilerden hangisi bakımından farklı olmasıyla açıklanabilir?

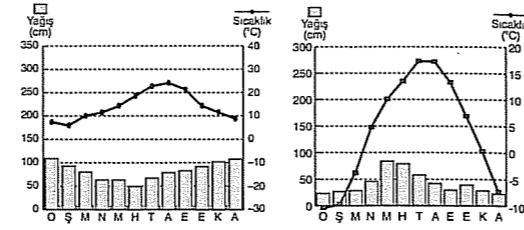
- A) Gelişme düzeyi
- B) Doğal kaynakların rezervi ve çeşitliliği
- C) Aritmetik nüfus yoğunluğu
- D) Tarım alanlarının genişliği
- E) Nüfusun ülke içine dağılışı

28. Havadaki bağıl nem oranı arttığında, hava kütlelerinde,

- I. doyma noktası,
 - II. bulutluluk oranı,
 - III. güneşleme süresi,
 - IV. nem açığı,
- niceliklerinden hangilerinin azalması beklenir?**

- A) Yalnız I
- B) Yalnız IV
- C) I ve II
- D) II ve III
- E) I, III ve IV

29. Aşağıda, iki farklı yerin aylık ortalama sıcaklık ve yağış grafiği verilmiştir.



Buna göre, söz konusu yörelerin,

- o mevsimler arasındaki sıcaklık farkı,
- o bulunduğu yarım küre,
- o doğal bitki örtüsü,
- o kış mevsimindeki yağış biçimi,
- o bulunduğu sıcaklık kuşağı,
- o karasallığın şiddeti,
- o yıllık toplam yağış miktarı ve yağış rejimi
- o yıllık ortalama sıcaklık

niceliklerinden kaç tanesi bakımından benzer olduğu söylenebilir?

- A) 1
- B) 2
- C) 3
- D) 4
- E) 5

30.



Yukarıdaki haritada numaralanmış dağ sıralarından hangisinin genç kıvrım kuşağı olan Alp Orojenez kuşağında bulunduğu söylenemez?

- A) I
- B) II
- C) III
- D) IV
- E) V

31. "Anadolu'da buzullar hiçbir jeolojik devirde deniz seviyesine inmemiştir." diyen bir araştırmacı, Anadolu'da aşağıdaki yer şekillerinden hangisinin bulunmamasını bu duruma kanıt olarak gösterebilir?

- A) Örtü buzullarının
- B) Denge profiline ulaşmış akarsuların
- C) Haliç tipi kıyıların
- D) Fiyortlu kıyıların
- E) Barkanların

32. Bir bilgi çoğunluk tarafından kabul edilmişse doğrudur. Örneğin, "Benim ayakkabılarım en güzel ve en kaliteli ayakkabıdır." yargısını ne kadar çok kişi kabul etmişse, bu yargı o kadar doğrudur.

Bu örneğe göre doğru bilginin ölçütü aşağıdakilerden hangisidir?

- A) Objesine uygunluk
- B) Tutarlılık
- C) Tümel uzlaşım
- D) Apaçıklık
- E) Fayda

33. Bir anneanne iki torunuyla gezmeye çıkar. Yolda karşılaştığı bir arkadaşı laf arasında çocukların yaşını sorar. Anneanne hemen cevabı yapıştırır: "Doktor beş, avukat yedi yaşında."

Bu örnek Aristoteles'in varlıkla ilgili aşağıdaki düşüncelerinden hangisinin doğruluğunu destekler?

- A) Her varlık form ve maddeden ibarettir.
- B) Gerçek olan tek tek varlıklardır.
- C) Form, maddeden ayrı olarak bulunmaz.
- D) Her varlığın bir amacı vardır.
- E) Bir varlığın varlığa gelebilmesi için hareket ettirici bir nedenin olması gerekir.

34. Astronomi alanındaki bir buluş, uzayda yaşamın olup olmadığı, yaşadığımız dünyadaki sorunları çözüp çözmediği, uzay ortamında yaşamımızı sağlayabilir mi gibi sorulara cevap verebildiği sürece doğru sayılır.

Bu örnekte doğru bilginin ölçütü olarak aşağıdakilerden hangisi alınmıştır?

- A) Fayda
- B) Tutarlılık
- C) Apaçıklık
- D) Tümel uzlaşım
- E) Objesine uygunluk

35. Varlık atomlardan meydana gelmiştir. Atomlar sonsuz sayıda ve sonsuz küçüklüktedir. Her şeyin ilk nedeni olan atomlar boşlukta kendiliğinden hareket ederler. Atomların hareketleri en küçük bir sapma göstermez, yani evrende tam bir mekanizm ve determinizm vardır.

Demokritos'un bu varlık düşüncesiyle aşağıdakilerden hangisi savunulamaz?

- A) Dünyamızda her şey maddeden ibarettir.
- B) Ölüm, beden dağılıp yok olması, ruhun ise Tanrı'ya kavuşmasından ibarettir.
- C) Aynı koşullar altında aynı nedenler aynı sonucu doğurur.
- D) Evrendeki her varlık uzayda belli bir ağırlığa ve hacme sahiptir.
- E) Evrendeki varlıklar sonsuzdur.

36. Aşağıdaki örneklerden hangisinde evrensel ahlak öznel bir temele oturtulmuştur?

- A) Doğru eylem, en çok sayıda insana en fazla fayda sağlayan eylemdir.
- B) Ahlaklı olmak bilgili olmakla sağlanabilir.
- C) İdeaların bilgisine ulaşmak insana en büyük mutluluğu verir.
- D) Evrendeki yasalar temel yasalardır; bu yasaların veya ilkelerin bilgisine uygun davranmak iyilik ve mutluluğu sağlar.
- E) İnsan, evreni tanıyarak ve ondaki zorunluluğu kabul ederek mutlu olabilir.

37. Eğer gerçeğe uygunluk sanatın ayırt edici bir özelliği olsaydı, fotoğrafçılık en değerli sanat olurdu ve resim sanatına ihtiyaç kalmazdı.

Bu düşünceyle aşağıdaki sanat yaklaşımlarından hangisi eleştirilmektedir?

- A) Sanat bir taklittir.
- B) Sanat, kelime ve renklerle oynamaktır.
- C) Sanat, var olan anlamları yeniden anlamlandırmaaktır.
- D) Sanat bir yaratıcılıktır.
- E) Sanat bir oyundur.

38. Demokreitos : Son zamanlarda canımı sıkın bir konu var Thales.

Thales : Neymiş o?

Demokreitos : Tüm bunların anlamı ne?

Thales : Tüm bunlar derken?

Demokreitos : İşte.... Yaşam. ölüm aşk....Şu aşurenin içine koyulabilen ne varsa

Thales : Bunların bir anlamı olduğunu da nerden çıkardın?

Demokreitos : E, olmalı çünkü. Yoksa yaşam şey olurdu...

Thales ve Demokreitos arasındaki bu diyalog aşağıdaki sorulardan hangisinin cevabını bulmaya yöneliktir?

- A) İnsanı iyi yapan nedir?
B) En iyi toplumsal düzen hangisidir?
C) Evrendeki tüm varlıklar nasıl meydana gelmişlerdir?
D) Bir nesneyi güzel kılan nedir?
E) Bilimsel doğrulardan nasıl emin olabiliriz?

39. Bir şeye iyi demek için, her zaman o şeyin ne olduğunu bilmemiz, yani o şey hakkında bir kavrama sahip olmamız gerekir. Örneğin, ödevlerini günü gününe yapan öğrenciye iyi denir. Çünkü bu iyiliğin ölçütü "söz dinlemek ya da düzenli çalışmak iyidir" kavramına dayanır. Ama bir şeye güzel demek için, böyle bir gereksinme yoktur. Çiçekler, gelişigüzel çizilmiş çizgiler bize hiçbir şey ifade etmezler, hiçbir belli kavrama bağlı değildirler, ama yine de hoş giderler.

Kant, bu düşüncesiyle aşağıdaki konulardan hangisini açıklamaya çalışmıştır?

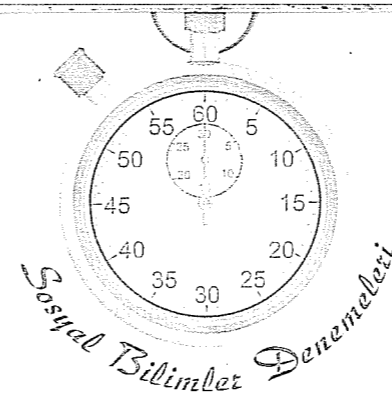
- A) Bilimsel yargılarla siyasal yargılar arasındaki farkı
B) Bilgi felsefesiyle sanat felsefesi arasındaki farkı
C) Dinsel yargılarla ahlaksal yargılar arasındaki farkı
D) Felsefi bilgiyle bilimsel bilgi arasındaki farkı
E) Ahlaksal yargılarla sanatsal yargılar arasındaki farkı

40. Bilim tarihine baktığımızda İbn-i Sina'nın eski Mısır tıbbından yararlandığını, Batılı tıp bilginlerinin de İbn-i Sina'dan yararlandıklarını görmekteyiz. Diğer bilim alanlarında da durum bundan farksızdır. Bilim tarihinde her bilim insanı bilimsel bilgiye bir katkı yapmış ve bilim dediğimiz insan uğraşısı günümüze kadar gelmiştir.

Bu açıklamada bilimin hangi özelliği örneklenmiştir?

- A) Öngörüsellik
B) Birikerek ilerleme
C) Seçicilik
D) Genelleyicilik
E) Eleştirelilik

Deneme 21							
1	D	11	D	21	C	31	D
2	D	12	B	22	D	32	C
3	C	13	D	23	D	33	D
4	E	14	C	24	C	34	A
5	C	15	D	25	A	35	B
6	B	16	D	26	E	36	A
7	C	17	D	27	A	37	A
8	C	18	A	28	E	38	C
9	D	19	C	29	B	39	E
10	E	20	B	30	C	40	B



1. Bir devletin ekonomik, siyasal ve sosyal nedenlerden kendi sınırları dışında ele geçirip yönettiği ülke veya topraklara koloni denir.

Buna göre,

- I. Ham madde ihtiyaçlarının karşılanması,
II. Üretim fazlası mallar için pazar bulunması,
III. Askeri gücün artırılmak istenmesi

durumlarından hangileri kolonilerin kurulmasında etkili olmuştur?

- A) Yalnız I
B) Yalnız III
C) I ve II
D) I ve III
E) I, II ve III

3. İslam tarihinde görülen,

- I. Emeviler döneminde halifeliğin saltanat haline dönüşmesi,
II. Hz. Ali ve Hz. Ayşe arasında yaşanan Cemal Vakası,
III. Hz. Ali ile Muaviye arasındaki halifelik mücadelesi

gelişmelerinden hangileri İslam dünyasında iç karışıklıklar yaşandığını doğrudan kanıtlar?

- A) Yalnız I
B) Yalnız III
C) I ve II
D) II ve III
E) I, II ve III

2. Aşağıdakilerin hangisinde İslamiyet öncesi Türk devletlerinin temel geçim kaynağının hayvancılık olmasının nedeni ve sonucu doğru olarak verilmiştir?

- | Neden | Sonuç |
|---|----------------------------------|
| A) Geniş bir coğrafyaya yayılmaları | Göçebe yaşamaları |
| B) Yaşadıkları bölgenin coğrafi koşulları | Devlet kurmalarının kolaylaşması |
| C) Göçebe yaşamaları | Geniş bir coğrafyaya yayılmaları |
| D) Yaşadıkları bölgenin coğrafi koşulları | Göçebe yaşamaları |
| E) Ticaret yollarına uzak olmaları | Atın hayatlarında önem kazanması |

4. Selçuklu meliklerinden Kutalmışoğlu Süleyman Şah, İznik'i alarak Üsküdar ve Kadıköy'e kadar uzanan topraklarda Anadolu Selçuklu Devleti'ni kurmuştu. Bölgede Bizans'a karşı elde ettiği başarılar, Büyük Selçuklu Sultanı Melikşah'ın da Abbasi Halifesi'nin de dikkatini çekmiştir. Bu başarılar sonrasında Melikşah, bir fermanla Süleyman Şah'a hükümdarlık verdi. Abbasi Halifesi de bir menşurla Süleyman Şah'ın hükümdarlığını onayladı.

Sadece bu bilgilere bakılarak aşağıdakilerden hangisine ulaşılamaz?

- A) Anadolu Selçuklularının Bizans sınırında yer aldığına
B) Melikşah'ın siyasi bakımdan halifeye bağlı olduğuna
C) Süleyman Şah'ın otoritesinin halifeden ve Melikşah'tan az olduğuna
D) Büyük Selçukluların Bizans'a karşı olduğuna
E) Süleyman Şah'ın Büyük Selçuklular'ın yönetimini devraldığına

5. I. Murad, Balkanlar'daki fetihler sonrası Rumeli Beylerbeyliği'ni; Yıldırım Bayezid Anadolu'daki fetihler sonrası Anadolu Beylerbeyliği'ni kurdu.

Osmanlı Devleti bu beylerbeylikleri kurarak,

- I. Sınırları genişletmek,
- II. Fethedilen yerlerin yönetimini kolaylaştırmak,
- III. Merkezi otoriteyi güçlendirmek

durumlarından hangilerini amaçlamıştır?

- A) Yalnız I B) Yalnız II C) I ve II
D) II ve III E) I, II ve III

6. Kanuni döneminde Avusturya'yla yapılan İstanbul Antlaşması'na göre: "Avusturya, Macaristan'ın Osmanlı Devleti'ne ait olduğunu kabul etmiş ve Avusturya kralı Osmanlı sadrazamına denk sayılmıştır."

Bu bilgilere göre,

- I. Osmanlı, Avusturya'ya siyasal üstünlük sağlamıştır
- II. Osmanlı sadrazamı Avusturya'nın iç işlerine karışma hakkı kazanmıştır
- III. Macaristan Osmanlı hakimiyetine girmiştir

yorumlarından hangilerine ulaşılabilir?

- A) Yalnız I B) I ve II C) I ve III
D) II ve III E) I, II ve III

7. Ortaçağ'da Türk ve İslam dünyası üzerine birçok hacı seferi düzenlenirken yeniçağ'da bu seferler görülmemektedir.

Bu durum üzerinde,

- I. Reform nedeniyle Avrupa devletleri arasındaki dinsel bağların zayıflaması,
- II. Avrupalıların coğrafi keşiflerle başka bölgelere yönelmesi,
- III. Özellikle İstanbul'un fethinden sonra Avrupalıların savunmaya çekilmesi

gelişmelerinden hangileri etkili olmuştur?

- A) Yalnız I B) Yalnız II C) I ve II
D) I ve III E) I, II ve III

8. XVIII. yy.da Osmanlı Devleti, yerli malı kullanımını teşvik etmiş ve yurt dışından mal alımına sınırlamalar getirerek yerli ekonomiyi güçlendirmeye çalışmıştır.

Yine bu dönemde gerçekleştirilen,

- I. "Eshamı tahvilat" adıyla iç borçlanmaya gidilmesi,
- II. Kapitülasyonların sürekli hale getirilmesi,
- III. Avrupa'daki teknik gelişmelerden yararlanması

uygulamalarından hangileri yukarıda verilen bilgiyle çelişmektedir?

- A) Yalnız I B) Yalnız II C) I ve II
D) I ve III E) I, II ve III

9. Tanzimat Fermanı'nın getirdiği yeniliklerden,

- I. Hiç kimse yargılanmadan cezalandırılmayacaktır,
- II. Herkes kendi malına sahip olup miras bırakabilecektir,
- III. Askerlik işleri düzenlenecektir

hangileri kişi hak ve özgürlüklerinin korunmasına yöneliktir?

- A) Yalnız I B) Yalnız II C) I ve II
D) II ve III E) I, II ve III

10. Wilson ilkeleri arasında yer alan: "Osmanlı topraklarında yaşayan azınlıklar nüfusça yoğun oldukları yerlerde bağımsız devlet kurabilir." **madde-i I. Dünya Savaşı sonrası başlayan işgallerden hangi ikisine zemin oluşturur?**

- A) Ermeni sorunu ve Fransızların Güney Anadolu'yu işgali
B) Yunanistan'ın İzmir'i ve İtalya'nın İç Batı Anadolu'yu işgali
C) Fransızların Güneydoğu'yu ve İtalyanların İç Batı Anadolu'yu işgali
D) Yunanistan'ın İzmir'i işgali ve doğudaki Ermeni sorunu
E) Yunanistan'ın İzmir'i işgali ve Fransızların güneydoğuyu işgali

11. Kuvayi Milliye birliklerine ait,

- I. Birliklerin de kadınların da bulunması,
- II. İhtiyaçlarını halktan zorla karşılamaları,
- III. Bölgesel amaçlı olmaları

özelliklerden hangileri bu oluşumun zaman zaman amacından saptığını gösterir?

- A) Yalnız I B) Yalnız II C) Yalnız III
D) I ve III E) II ve III

12. Misakı Milli'de: "Anlaşma Devletleri ve ortakları arasında kararlaştırılmış anlaşma esasları çerçevesindeki azınlıkların hakları, komşu memleketlerdeki Müslüman halkın aynı haklardan yararlanmaları şartıyla kabul edilecektir." maddesi yer almıştır.

Bu maddeye bakılarak,

- I. Devletlerin eşitliği prensibi vurgulanmıştır,
- II. Türkiye'de azınlıklara verilecek hakların sınırları çizilmiştir,
- III. Komşu ülkelerdeki Müslüman halkların hakları korunmaya çalışılmıştır,

yorumlarından hangileri yapılabilir?

- A) Yalnız I B) Yalnız III C) I ve II
D) II ve III E) I, II ve III

13. TBMM'nin kazandığı her zafer siyasi, askeri, ekonomik sonuçları beraberinde getirmiştir.

Aşağıdakilerden hangisi Sakarya Savaşı'nın siyasi sonuçlarından değildir?

- A) Fransa'nın Ankara Antlaşması'nı imzalayarak Anadolu'yu boşaltması
B) İtalyanların işgal bölgelerini boşaltması
C) İşgal güçlerinin Yunanistan'ı desteklemekten vazgeçmesi
D) M. Kemal Paşa'ya mareşallik rütbesinin verilmesi
E) Gürcistan ve Azerbaycan'la Kars Antlaşması'nın imzalanması

14. "Lozan Antlaşması; Sevr Antlaşması'nı geçersiz kılan, diplomatik bir zaferdir." **yargısına Lozan'da ele alınan konulardan hangisi daha çok kanıt oluşturur?**

- A) Fener Rum Patrikhanesi'nin durumu
B) Hatay sorunu
C) Kapitülasyonlar meselesi
D) Boğazlar meselesi
E) Adalar meselesi

15. Cumhuriyetin ilk yıllarında Türkiye, bir yandan çağdaşlaşma ve kalkınma hamleleri yaparken bir yandan da geçmişten kalan sorunların çözümünü için yoğun diplomatik temaslar kurmuştur.

Türkiye, aşağıdaki dış politika sorunlarından hangisinin çözümünde yaklaşan II. Dünya Savaşı tehlikesini kullanmıştır?

- A) Nüfus mübadelesi sorunu
B) Yabancı okullar sorunu
C) Irak ve Musul sorunu
D) Osmanlı borçları sorunu
E) Boğazlar sorunu

16. Cumhuriyet döneminde kadınlara

- Belediye seçimlerine katılma hakkının verilmesi
 - Milletvekili seçme ve seçilme hakkının verilmesi
- uygulamaları aşağıdaki Atatürk ilkelerinin hangilerinin kapsamına girer?

- A) Cumhuriyetçilik - Milliyetçilik
B) Milliyetçilik - Halkçılık
C) Cumhuriyetçilik - Halkçılık
D) Halkçılık - Milliyetçilik
E) Cumhuriyetçilik - İnkılapçılık

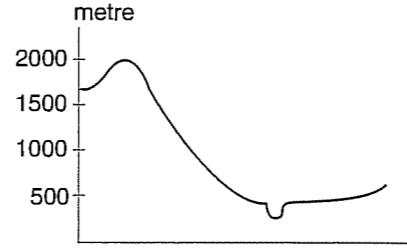
17. İnkılap Amacı

- I. Kıyafette değişiklik Uluslararası kabul edilen standartları benimseme
II. Soyadı kanununun kabulü Sınıfsız, kaynaşmış bir toplum oluşturmak
III. Takvim ve ölçülerde değişiklik Türk ulusunu her yönüyle çağdaşlaştırma
IV. Tekke, zaviye ve türbelerin kapatılması Çağın gerisinde kalmış kurumları yenileme

Yukarıda verilen toplumsal alanda yapılan inkılapların amaçlarından hangi ikisi yer değiştirse yanlışlık giderilmiş olur?

- A) I ve II B) I ve III C) II ve III
D) II ve IV E) III ve IV

18. X yöresinin gösterildiği bir haritadan yararlanılarak belli bir doğrultunun profili elde edilmiştir.



Buna göre, bu haritanın,

- I. gölgelendirme,
II. tarama,
III. renklendirme,
IV. kabartma

gibi yer şekillerini gösterme yöntemlerinden hangileriyle çizilmiş olduğu söylenemez?

- A) I ve II B) I ve III C) II ve III
D) II ve IV E) III ve IV

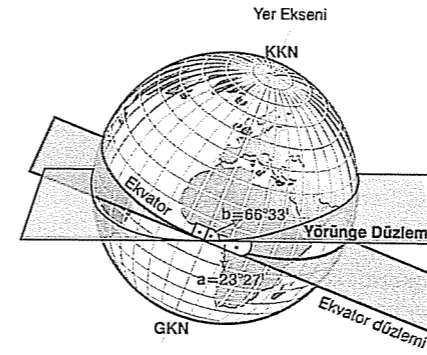
19. Yerküre üzerindeki K ve L merkezleriyle ilgili olarak şu bilgiler verilmiştir.

- o K merkezinde yerel saat 14:00 iken L merkezinde yerel saat 02.00'dir.
- o K merkezinden eşit mesafe katedilerek doğuya veya batıya doğru gidildiğinde L merkezine ulaşılır.

Buna göre, K ve L merkezleriyle ilgili olarak aşağıdaki yargılardan hangisi kesin değildir?

- A) K ve L merkezlerinin Ekvator'a olan uzaklıkları birbirinin aynıdır.
B) K merkezi L merkezinin anti meridyeninde bulunur.
C) K ve L merkezleri başlangıç meridyenine göre farklı taraflarda bulunur.
D) K merkezinden L merkezine gidildiğinde tarih değiştirme çizgisinden geçilir.
E) K ve L merkezlerinin buldukları saat dilimleri birbirinden farklıdır.

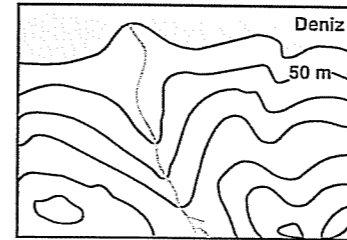
20. Aşağıdaki şekilde, Yörünge düzleminin Yer eksenini ve Ekvator düzlemiyle yaptığı açılar verilmiştir.



Aşağıdakilerden hangisinin bu durumun bir sonucu olduğu söylenebilir?

- A) Matematik iklim kuşaklarının oluşması
B) Ekvator üzerinde yıl boyunca gece ve gündüz sürelerinin eşit olması
C) Yarım kürelerde mevsim sürelerinin birbirinden farklı olması
D) Her iki yarım kürede 30° ve 60° enlemlerinde dinamik basınç kuşaklarının oluşması
E) Sürekli rüzgârlar ile okyanus akıntılarının yönlerinde sapmalar oluşması

21.



Yukarıdaki topoğrafya haritasında,

- o çanak,
- o sırt,
- o vadi,
- o delta,
- o falez,
- o yamaç,
- o kurumuş akarsu yatağı,
- o boyun

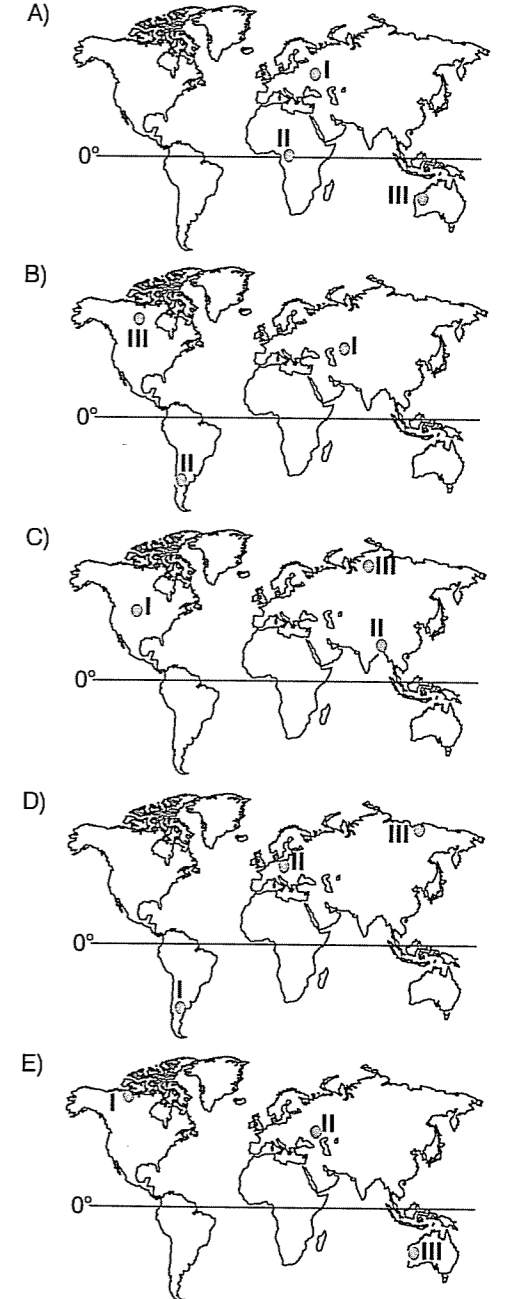
yer şekillerinden kaç tanesi yoktur?

- A) 1 B) 2 C) 3 D) 4 E) 5

22. Aşağıda, üç farklı bölgenin bazı özellikleri verilmiştir.

- I. Kış mevsiminde kuzey kesimlerinde gece uzunluğu güneydekilerden fazladır ve dört mevsim belirgin olarak yaşanır.
II. Mart ayı ortalama sıcaklıkları eylül ayı ortalama sıcaklıklarından daha yüksektir.
III. 21 haziran günü Güneş bir gün süreyle hiç batmaz ve gece-gündüz süresi yıl boyunca birbirinden uzaktır.

Bu bölgelerin konumları, aşağıdaki haritaların hangisinde doğru verilmiştir?



23. Aşağıda, üç farklı kişinin yaşadığı kentler verilmiştir.

K → La Paz

L → Ust Nera

M → Marsilya

Bu kişiler, ülkelerinin iz düşümsel yüz ölçümlerini bir Dünya siyasi haritasından yararlanarak hesaplamak istemektedir ve her üçünde de silindirik, konik ve düzlem projeksiyon yöntemine göre çizilmiş Dünya siyasi haritaları bulunmaktadır.

Buna göre, K, L ve M kişilerinin gerçeğe daha uygun bilgiye ulaşmaları için hangi projeksiyon yöntemine göre çizilmiş haritayı kullanması gerekir?

K	L	M
A) Düzlem	Silindirik	Konik
B) Silindirik	Düzlem	Konik
C) Konik	Silindirik	Düzlem
D) Silindirik	Konik	Düzlem
E) Düzlem	Konik	Silindirik

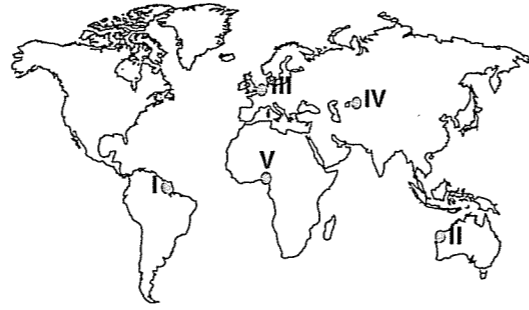
24. Bir yerin yıllık ortalama rüzgâr frekans gücü grafiğinden yararlanılarak, söz konusu yerin,

- bulunduğu yarım küresi,
- yer şekillerinin uzanış yönü,
- hâkim rüzgârın yönü,
- yer şekillerinin ortalama yükseltisi

özelliklerinden hangilerine ulaşılabilir?

- A) I ve II B) I ve III C) II ve III
D) II ve IV E) III ve IV

25.



Yukarıdaki haritada numaralanmış yörelerin yağış özelliği ve bu durumun nedeniyle ilgili aşağıdaki yargılardan hangisi yanlıştır?

- I. yörede yıllık yağış tutarı fazladır. Çünkü, sürekli termik alçak basıncın etkisinde kalır.
- II. yörede yıllık yağış tutarı azdır. Çünkü, sürekli dinamik yüksek basıncın etkisine bağlı olarak yıl boyunca alçalıcı hava hareketleri etkilidir.
- III. yöre yıl boyunca yağış alır. Çünkü, sürekli rüzgârların etkili olduğu bir kuşakta bulunur.
- IV. yörede yıllık yağış tutarı azdır. Çünkü, kıtanın iç kesimlerinde bulunduğu için havadaki mutlak miktarı oldukça düşüktür.
- V. yörede yıllık yağış miktarı fazladır. Çünkü, mevsimlik rüzgârlar nemli hava kütlelerini yüksek dağların yamaçlarına ulaştırır.

26. Aşağıdakilerin hangisinde bir yöre, bu yörede etkili olan bir doğal afet türüyle birlikte verilmiştir?

- Taşeli Platosu – Tektonik deprem
- Konya Yöresi – Kütle hareketleri
- Doğu Karadeniz kıyıları – Orman yangını
- Bafra Yöresi – Sel ve su taşkını
- Mardin Yöresi – Çığ olayları

27. Aşağıda, ilk yerleşmelerin ve kültür merkezlerinin kurulduğu başlıca yerler verilmiştir.

- o Nil Deltası
- o Mezopotamya
- o Ganj ve İndus Havzası
- o Çin'in doğu kıyıları

Buna göre, bu yerleşme ve kültür merkezlerinin kurulduğu yerlerin ortak özelliği aşağıdakilerden hangisidir?

- Sıcaklığın fazla, yağış rejiminin düzenli olması
- Doğal bitki örtüsünün çeşitli olması
- Verimli tarım alanları ve su kaynaklarının bulunması
- Önemli ticaret yolları üzerinde olması
- Yer altı kaynakları bakımından zengin olması

28. Bir ülkede son 10 yılda doğum oranı azaldığı halde, ülke nüfusu öncekine göre artmıştır.

Bu dönemde, ülkede aşağıdaki durumlar gözlenmiştir:

- Toplam nüfus içinde okuryazar nüfus oranı artmıştır.
- Ortalama yaşam süresi uzamıştır.
- Doğurganlık çağındaki nüfusun toplam nüfus içindeki oranı artmıştır.
- Kırsal kesimlerden kentlere olan göçler yaşanmıştır.

Buna göre, ülke nüfusundaki artış üzerinde verilen durumlardan hangilerinin etkili olduğu söylenebilir?

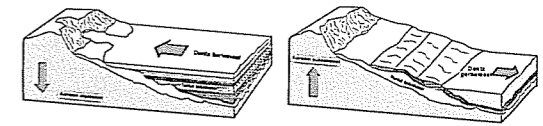
- A) I ve II B) I ve III C) II ve III
D) II ve IV E) III ve IV

29. Bilim adamları fosil yakıtların kullanılmasıyla açığa çıkan karbondioksitin, yeryüzünden dünyanın ısınmasına yol açacağı görüşünü ortaya atmışlardır. 20. yüzyılda insan nüfusu dört kat arttı ve bu artış hızlanarak devam ediyor. Dünya nüfusundaki artış, fosil yakıtların tüketimini, tarım alanlarının genişlemesini ve ormanların yok edilmesini hızlandırdı. Bu hızlanma karbondioksit gibi sera gazlarının atmosferdeki oranının önemli ölçüde artmasına neden oldu. İklim konusunda çalışan birçok bilim adamına göre, bu artış, küresel iklim üzerinde fark edilir etkilere yol açıyor ve iklimimizi gelecekte de etkilemeye devam edecek.

Yukarıdaki parçada, aşağıdakilerden hangisine değinilmemiştir?

- Nüfus artışının çevresel etkilerine
- Sera gazlarının dünyanın sıcaklığına olan etkisine
- Kömür ve petrol tüketimiyle açığa çıkan gazların iklime olan etkisine
- Atmosferdeki radyoaktif kirliliğin yeryüzüne ulaşan güneş ışınlarına olan etkisine
- Sera etkisinin nedeni ve sonucuna

30. Aşağıdaki şekillerde, yer kabuğunun epirojenik hareketlere bağlı olarak düşey doğrultudaki hareketleri verilmiştir.



Buna göre, epirojenik hareketlerin oluşumunda,

- kıtasal levhalarda görülen uzaklaşma, yaklaşma ve sıyırma hareketlerinin,
- geniş alanlı ve uzun jeolojik süreçli akarsu aşındırma ve biriktirme faaliyetlerinin,
- jeolojik süreçler içinde, iklim değişikliğine bağlı buzul ve buzul arası devrelerin yaşanmasının,
- Yer kabuğundaki derinlik volkanizmasının jeolojik zaman içinde etkinliğinin artması ya da azalmasının

durumlarından hangilerinin etkili olduğu söylenebilir?

- A) I ve II B) I ve III C) II ve III
D) II ve IV E) III ve IV

31. Aşağıdakilerden hangisi, "Teknoloji, insanın kendi gereksinimleri bakımından doğada yaptığı bir reformdur." sözünde savunulan görüşe bir örnek oluşturmaz?

- A) Fabrika yeri seçiminde enerji kaynaklarına yakınlığın dikkate alınması
- B) Dağlık bölgelerin tüneller ve viyadükler yapılarak ulaşılmasına
- C) Deniz ulaşımının önemli olduğu bölgelerde büyük liman ve dalgakıranların yapılması
- D) Taşkınlardan korunmak ve sudan yararlanmak için barajların yapılması
- E) Arazi sıkıntısı yaşayan bazı kıyı kentlerinin, denizden arazi kazanmak amacıyla dolgu yoluyla sahalarını genişletmesi

32. "2+2 = 4"tür bilgisi kesin ve doğru bir bilgidir. Ancak "Buz soğuktur." bilgisi buza göre mi, yoksa buz algılayana göre mi?; "buz soğuktur" yargısının doğruluğu tam belirlenemediği için çift anlamlıdır ve kesinliği yoktur.

Bilginin doğruluğunu bu şekilde ele alan bir filozof aşağıdaki felsefe kuramlarından hangisini temsil eder?

- A) Pozitivizmi
- B) Empirizmi
- C) Kritisizmi
- D) Rasyonalizmi
- E) Pragmatizmi

33. Platon'a göre iki ayrı dünya vardır. Bunlardan birisi hiç değişmeyen, herkes için aynı olan, duyularla değil akılla kavranabilen "idealar dünyası", diğeri ise idealar dünyasının yansıması ya da taklidi olan duyular dünyası. Platon'a göre gerçek varlık "idea"dır; ancak "idea"ya ulaşmak, onu kavramak duyularla ya da deneyimle değil akılla olabilir ancak.

Platon'un bu varlık görüşü aşağıdaki sorulardan hangisinin çözümüne yardımcı olmuştur?

- A) Doğru bilginin varlığı ile duyulardan gelen verilerin kişiden kişiye değişmesi nasıl açıklanabilir?
- B) Varlık var mıdır, yok mudur?
- C) İnsan nasıl mutlu olabilir?
- D) Bilginin doğruluğu ile iyiliği aynı şey midir?
- E) Bilimsel yasalar nasıl elde edilmektedir?

34. Varlıkla ilgili aşağıdaki sorulardan hangisi bilimin alanına girmez?

- A) Gezegenlerin yörüngesi nasıl oluşmuştur?
- B) Varlık var mıdır, yok mudur?
- C) Enerjinin ortaya çıkmasında olguların rolü nedir?
- D) Maddeyi oluşturan öğeler nelerdir?
- E) Varlıktaki hacim ve ağırlığı meydana getiren nedir?

35. İyi olanı yapmak, insanlığın yararına olanı yapmaktır. Herkes için iyi olanı yapmak insanı mutluluğa götürür. İşte bu noktada "haz" bireysel olmaktan çıkıp toplumsal bir yasaya dönüşür.

Bentham bu düşüncesiyle ahlak felsefesinde hangi sorunun cevabını vermeye çalışmıştır?

- A) Evrensel ahlak nasıl ortaya çıkar?
- B) İnsan özgür müdür?
- C) İnsanın özgürlüğünü kısıtlayan şeyler nelerdir?
- D) Toplumların ahlakı niçin birbirlerinden farklıdır?
- E) Mutluluk nedir?

36. Bir şeyin güzel olduğunu bildiğimiz bütün yargılarda biz, hiç kimseye o şey hakkında bizden başka türlü bir kanıda olmasına izin vermeyiz; her ne kadar bulunduğumuz yargı kavramlara değil de, duyularımıza dayanıyorsa da. Bu duyum benim özel bir duyumum olmayıp, bütün insanlar için ortak bir duyumdur. O halde bu ortak duyum, bundan ötürü deneye dayandırılmaz. Herkesin bizim yargılarımızla uyuşabileceğini değil de, uyuşması gerektiğini öne sürer.

Kant bu düşüncesiyle aşağıdaki iddialardan hangisinin doğruluğunu savunmaktadır?

- A) Sanatın kaynağı tecrübelerdir.
- B) Sanatsal güzellik kişiden kişiye değişir.
- C) Evrensel bir güzellik anlayışı yoktur.
- D) Estetik yargılar ortaktır.
- E) Sanat belli bir yarara dayanır.

37. Platon, devleti insanın büyütülmüş hali olarak tanımlamıştır. Çünkü insandaki beslenme, cesaret ve bilgelik eğilimlerini toplumdaki işçi, asker ve yönetici sınıfın kaynağı olarak görmüştür. Bundan dolayı insanın doğasının anlaşılması devletin yapısının da anlaşılmasını sağlar.

Platon bu düşüncesiyle aşağıdakilerden hangisini temellendirmeye çalışmaktadır?

- A) Doğal devlet anlayışını
- B) Eşitliğe dayanan devlet anlayışını
- C) Özgürlüğe dayanan devlet anlayışını
- D) Adalete dayanan devlet anlayışını
- E) Nihilizme dayanan devlet anlayışını

38. İnsan sınırsız bir özgürlük durumuna sahip olamaz. Böyle bir durumda insanın davranışlarını belirleyen bir güç olmaz ve her insan neyin iyi olduğuna kendisi karar verir. Bu durum da çıkar çatışmasına, insanlar arasında bir savaşın çıkmasına yol açar. O halde herkesin uyması gereken bir otoriteye ihtiyaç vardır.

Bu açıklamayla aşağıdakilerden hangisinin gerekliliği savunulmaktadır?

- A) Doğaya uygun yaşamının
- B) İnsan doğasının her şeyden önemli olmasının
- C) İnsanın özgür olmasının
- D) Devletin varlığının
- E) Doğa yasalarına uymanın

39. Gözlem veya deney sonuçlarıyla denetlenemeyen hiçbir hipotez veya kurama bilimde yer yoktur.

Bu açıklama bilimde hangi özelliğin bulunduğunu gösterir?


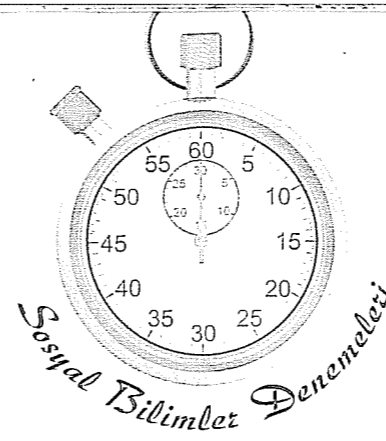
- A) Olgusal olduğunu
B) Tutarlı olduğunu
C) Öngörüselle olduğunu
D) Yaratıcı olduğunu
E) Eleştirel olduğunu

40. Bilim dediğimiz etkinliğin asıl özelliğini ürettiği bildiğinden çok bilgi üretme yönteminde aramalıyız. Bilim özünde bir arayıştır; gerçeği bulmaya, olgusal dünyayı açıklamaya yönelik bilişsel bir arayıştır.

Bu açıklamaya göre bir bilim insanı için bilimsel araştırmalarda aşağıdakilerden hangisi daha öncelikli olmalıdır?

- A) Araştırılan konu
B) Bilimsel bilginin nerede kullanıldığı
C) Bilimsel bilginin insanlara faydası
D) Bilgiye ulaşılırken nasıl bir yol izlendiği
E) Bilimsel bilgiye insanların ne kadar önem verdiği

Deneme 22							
1	C	11	B	21	B	31	A
2	D	12	E	22	B	32	D
3	D	13	D	23	B	33	A
4	E	14	C	24	C	34	B
5	D	15	E	25	E	35	A
6	C	16	C	26	D	36	D
7	E	17	B	27	C	37	A
8	B	18	A	28	C	38	D
9	C	19	D	29	D	39	A
10	D	20	A	30	C	40	D



1. İlkçağ Anadolu uygarlıklarından İonyalıların bilimde gelişmesini sağlayan,

- I. Denizcilikle uğraşan İyon şehirlerinin zenginleşmesi,
II. Ticaret yolları üzerinde olması,
III. Bilimle uğraşanların zenginler tarafından desteklenmesi,
IV. Düşünce özgürlüğünün gelişmesi
- durumlarından hangileri İonyalıların coğrafi özellikleriyle ilgilidir?

- A) I - II
B) I - III
C) II - III
D) II - IV
E) II - III - IV

2. - Türk dilinin geniş çaptaki ilk örneği, VIII. yy.da Göktürk alfabesiyle yazılan Göktürk Yazıtları'dır.
- Eşik Kurganı'ndaki "Altın Elbiseli Adam" mezarında bulunan, gümüş çanak üzerine yazılmış iki satırlık kitabenin tarihi MÖ V. veya IV. yy olarak belirlenmiştir.

Bu iki bilgi karşılaştırılarak aşağıdakilerden hangisine ulaşılabilir?

- A) Türklerde yazılı kültürün çok geliştiğine
B) Türk dilinin dünya dilleri arasındaki yerine
C) Göktürklerin ilk Türk devleti olduğuna
D) Türklerin Göktürklerden önce de yazıyı bildiklerine
E) Türk dilinin tarihteki gelişimine

3. Müslüman devletlere ait aşağıdaki gelir kaynaklarından hangisi İslamiyet'in "sosyal devlet" anlayışına kanıt gösterilebilir?

- A) Öşür
B) Haraç
C) Cizye
D) Zekat
E) Ganimet

4. Osmanlı Devleti, Anadolu'daki birçok Türk Beyliğine kısa sürede hakimiyetini kabul ettirdiği halde Karamanoğulları Beyliği ile uzun süre mücadele etmek zorunda kalmıştır.

Aşağıdakilerden hangisi bu durumun temel nedenidir?

- A) Karamanoğulları'nın Osmanlı'dan güçlü olması
B) Karamanoğulları'nın Timur'la işbirliği içinde olması
C) Karamanoğulları'nın kendilerini Anadolu Selçuklularının devamı olarak görmesi
D) Karamanoğulları'nın coğrafi olarak avantajlı konumda olması
E) Karamanoğulları'nın diğer Anadolu beyliklerinin desteğini alması

5. Aşağıdakilerden hangisinin Fatih Sultan Mehmet dönemi dış politikalarından olduğu söylenemez?

- A) Bizans'ı diriltme umutlarını söndürmek
B) Hıristiyan dünyasının birleşmesini önlemek
C) Gerekli fetihleri yaparak Balkanlara geçişi sağlamak
D) Ortodoksları himaye altına alarak Hıristiyan dünyasında söz sahibi olmak
E) Devletin sınırlarını batı yönünde genişletmek

6. Osmanlı Devleti'nde sınır boylarındaki araziler "Yurtluk" sayılmış ve özellikle Balkanlardaki sınır boylarına Türkmenler yerleştirilmiştir.

Aşağıdakilerden hangisi Balkanlarda uygulanan "yurtluk arazi" uygulamasının sonuçlarından değildir?

- A) Balkanların Türk yurdu haline gelmesi
B) Sınır güvenliğinin sağlanması
C) Türkmenlerden savaşlarda öncü birlik olarak yararlanılması
D) Ülke topraklarının genişlemesi
E) Boş kalan sınır boylarındaki toprakların ekonomiye kazandırılması

7. Osmanlı Devleti'nin XVIII. yy.daki,

- I. Kaybettiği toprakları geri almak,
II. Avrupa tarzında yenilikler yapmak,
III. Avrupalı devletlerle ittifak kurmak

politikalarından hangileri askeri üstünlüğün kaybedildiğinin farkına varılmadığının kanıtıdır?

- A) Yalnız I B) Yalnız II C) Yalnız III
D) I ve II E) I ve III

8. Aşağıdakilerden hangisi Tanzimat döneminde görülen kültürel gelişmelerden değildir?

- A) İllerde İl Genel Meclisi uygulamasının başlatılması
B) Mülkiyeler, idadiler ve sultanilerin kurulması
C) Dar'ül Fünun adıyla ilk üniversitenin açılması
D) İlk öğretmen okulunun açılması
E) Batıyı tanıyan ve anlayan aydınların yetişmesi

9. I. Dünya Savaşı sonrasında azınlık sorunlarının çıkmasının temel nedeni aşağıdakilerden hangisidir?

- A) Polonya, Macaristan, Türkiye gibi yeni devletlerin kurulması
B) Ülkelerde rejim değişikliklerinin olması
C) Sömürgeciliğin yerini manda ve himayeye bırakması
D) Sınırların milliyetçilik ilkesine dikkat edilmeden çizilmesi
E) Milletler Cemiyeti'nin kurulması

10. Mondros Ateşkes Antlaşması'nı imzalayan İstanbul hükümeti, saltanat makamının varlığını korumaya çalışırken Osmanlı'nın fiilen işgaline göz yummuştur.

Mondros Ateşkes Antlaşması'nın aşağıdaki hükümlerinden hangisi Osmanlı Devleti'nin fiilen sona erdiğini kanıtlar?

- A) Bütün haberleşme istasyonları Anlaşma Devletleri'nin denetimine verilecektir.
B) Osmanlı esirleri Anlaşma Devletleri'nce tutuklanacak ve savaş suçlusı sayılacaktır.
C) Anlaşma Devletleri güvenliklerini tehlikede gördükleri stratejik bölgeyi işgal edebilecektir.
D) Anlaşma Devletleri Osmanlı liman ve tersanelerini kullanabilecektir.
E) Osmanlı ordusu terhis edilecektir.

11. Misakı Milli'de yer alan "Türk ve İslam çoğunluğu bulunan toprakların tümü bir bütündür."

maddesine göre sınırların belirlenmesinde,

- I. Laiklik,
II. Milliyetçilik,
III. Demokrasi

esaslarından hangilerinin dikkate alındığını gösterir?

- A) Yalnız I B) Yalnız II C) I ve II
D) I ve III E) I, II ve III

12. I. TBMM, olağanüstü şartlarda oluşan bir meclis olduğundan I. TBMM'de çok farklı görüşte kişiler bulunmaktaydı.

Buna göre I. TBMM'yi oluşturan üyelerin,

- I. Misakı Milli kararlarının uygulanması,
II. Padişah ve halifenin gelecekteki konumu,
III. M. Kemal'in meclis başkanı seçilmesi

konularından hangilerinde görüş ayrığı yaşadığı söylenebilir?

- A) Yalnız I B) Yalnız II C) I ve II
D) I ve III E) I, II ve III

13. Sakarya Meydan Savaşı sonrası Anadolu'nun işgalinden ümidi kesen Fransa, Ankara Antlaşmasıyla Anadolu'dan çekildi.

Ankara Antlaşması'nın,

- I. Antlaşmanın imzalanmasından sonra iki ay içinde Türk kuvvetleri belirlenen hattın kuzeyine; Fransız birlikleri güneyine çekilecek.
II. Her iki taraf kendilerinde kalan topraklardaki halk için genel af ilan edecek.
III. İskenderun ve Hatay için özel yönetim kurulacak.

maddelerinden hangileri Misakı Milli'ye aykırıdır?

- A) Yalnız I B) Yalnız III C) I ve II
D) I ve III E) II ve III

14. Türkiye'nin önderliğinde kurulan Balkan Antantı ve Sadabat Paktı'nın kuruluşunun temel nedeni aşağıdakilerden hangisidir?

- A) Sınır bölgelerinde yeni devletlerin oluşmasını önlemek
B) Avrupa ve ABD'nin ekonomik gücüyle mücadele etmek
C) Almanya ve İtalya'nın yayılmacı politikalarına karşı sınır güvenliği sağlamak
D) Sovyet - Rusya'nın bölgedeki hakimiyetini kırmak
E) Türkiye'yi bölgesel lider konumuna getirmek

15. M. Kemal bir yandan Kurtuluş Savaşı'nı örgütleyen bir yandan da yeni kurulacak Türk devletinin prensiplerini işaret etmiştir. Amasya Genelgesi'nin maddeleri arasında yer alan "Ulusun bağımsızlığını ulusun azim ve kararı kurtaracaktır." maddesi buna örnektir.

Bu bilgiye göre Amasya Genelgesi'nin bu maddesinde aşağıdaki Atatürk ilkelerinden hangilerine işaret edilmiştir?

- A) Halkçılık - Devletçilik
B) Cumhuriyetçilik - Halkçılık
C) Cumhuriyetçilik - Devletçilik
D) Halkçılık - Milliyetçilik
E) Milliyetçilik - Cumhuriyetçilik

16. Ekonomi alanında yapılan,

- I. İş Bankası'nın kurulması,
II. Ziraat Bankası'nın kurulması,
III. Kobotaj Kanunu'nun çıkarılması

inkılaplarından hangileri ekonomide devletin etkinliğini artırmaya yöneliktir?

- A) Yalnız I B) Yalnız II C) I ve II
D) I ve III E) I, II ve III

17. TBMM ile ilgili yapılan,

- I. Milletvekili sayısının artırılması
II. Seçmen yaşının 25'ten 18'e düşürülmesi
III. İki dereceli seçim sisteminden tek dereceli seçim sistemine geçilmesi

değişikliklerinden hangileri ulus egemenliğinin artırılmasına yöneliktir?

- A) Yalnız I B) Yalnız II C) I ve II
D) I ve III E) I, II ve III

18. Deprem ve sel gibi kuraklık da insan yaşamını etkileyen doğal afetlerden biridir. Kuraklık doğanın gizli bir tehlikesidir. Kuraklığın çevresel etkileri bu afetten etkilenmiş toplumlarda ve sahalarda yeterli yağış aldıktan sonra da devam eder.

Buna göre, aşağıdakilerden hangisi kuraklığın neden olduğu sorunlardan biri değildir?

- A) Hidrolojik dengenin bozulması
B) Ekosistem problemlerinin ortaya çıkması
C) Ortak kullanıma açık su kaynaklarının paylaşımına dayalı uluslar arası gerilimlerin artması
D) Tarımsal üretimin büyük oranda düşmesine bağlı olarak çevreye göçlerin artması
E) Taban suyu seviyesinin yükselmesine bağlı olarak toprakta tuz birikiminin artması ve toprağın çoraklaşması

19. Tarım için yeterli derecede toprağı olmayan ve geleneksel olarak halıcılık yapılan bir ilçe, 1970'lerin başına kadar hep göç vermişti. Nüfusun sürekli azalması sonucu yok olma tehlikesiyle yüz yüze gelen ilçede, daha önce başka kentlere göç etmiş hemşehrilerin para koyarak oluşturduğu çok ortaklı bir şirketin 1973 yılında bir iplik fabrikası, sonra da halı fabrikası kurulmasıyla göç durdurulabilmiştir.

Bu parçaya göre, söz konusu ilçede göçün durmasını sağlayan etken aşağıdakilerden hangisidir?

- A) Tarım sektöründen sağlanan gelirin endüstri yatırımlarında kullanılması
B) İş olanaklarının artırılması
C) Tarımsal ürünlerin çeşitlendirilmesi
D) Fabrikada işlenecek ham maddenin ilçede yetişen tarımsal ürünlerden seçilmesi
E) Sosyal olanaklarla birlikte eğitim ve sağlık olanaklarının da geliştirilmesi

20. Kömürün yakılmasıyla elde edilen buhar gücüyle ya da benzinle çalışan araçların kullanılmasıyla rüzgâr gücü önemini yitirmişti. Ancak kömür, benzin gibi enerji kaynaklarının yol açtığı kirlenme ve bunların rezervlerinin sınırlı olması, insanları farklı enerji kaynakları aramaya yöneltti. Bu arayışta, yenilenebilir ve temiz enerji kaynakları ön plana çıktı. Rüzgâr gücü de bu nitelikleri taşıyan enerji kaynakları arasında yer alıyordu. Rüzgâr gücüyle çalışan elektrik santrallerinin yaygınlaşmasıyla rüzgâr gücü yeniden günlük yaşamdaki yerini aldı.

Bu parçaya göre, aşağıdaki yargılardan hangisine ulaşılamaz?

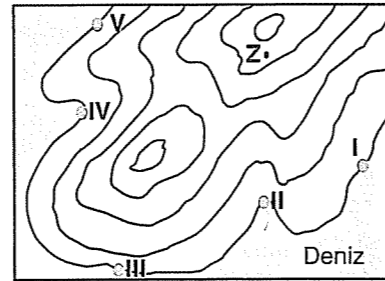
- A) Alternatif enerji kaynakları çevreyi kirlenmeyecek ve ucuz enerji kaynaklarıdır.
B) Fosil yakıt kullanımına olan bağımlılık azalmıştır.
C) Ülkelerin gelişmişlik düzeyleri doğal kaynakların kullanımında etkin rol oynamaktadır.
D) Tükenebilir enerji kaynaklarının kullanılması çevre sorunlarına neden olur.
E) Çevre duyarlılığının artması ve fosil yakıtların rezerv ömrünün azalması zamanla daimi kaynaklara olan yönelimi artırmıştır.

21. Yerleşik hayata geçen insan, topraktan yararlanma faaliyetlerine tarımla başlamıştır. Evcilleştirdiği hayvanları tarımsal faaliyetlerde kullanmıştır. Böylece tarımın yoğun olarak yapıldığı yerleşim birimleri oluşmuştur.

Buna göre, söz konusu ilk yerleşim alanlarının günümüzde aşağıdaki ülkelerden hangisinin sınırları içinde kaldığı söylenemez?

- A) Mısır B) Irak C) Pakistan
D) Çin E) Avustralya

22.

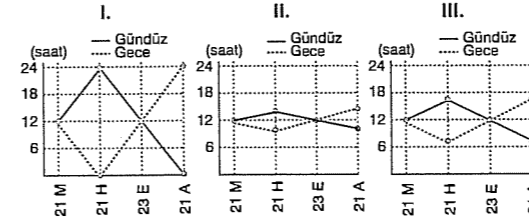


Yukarıda sel olayının vadi tabanlarında sık yaşandığı bir bölgenin topoğrafya haritası verilmiştir. Beş farklı kişi, haritada numaralanmış kıyı noktalarından Z noktasına en kısa yoldan ulaşmayı planlıyor.

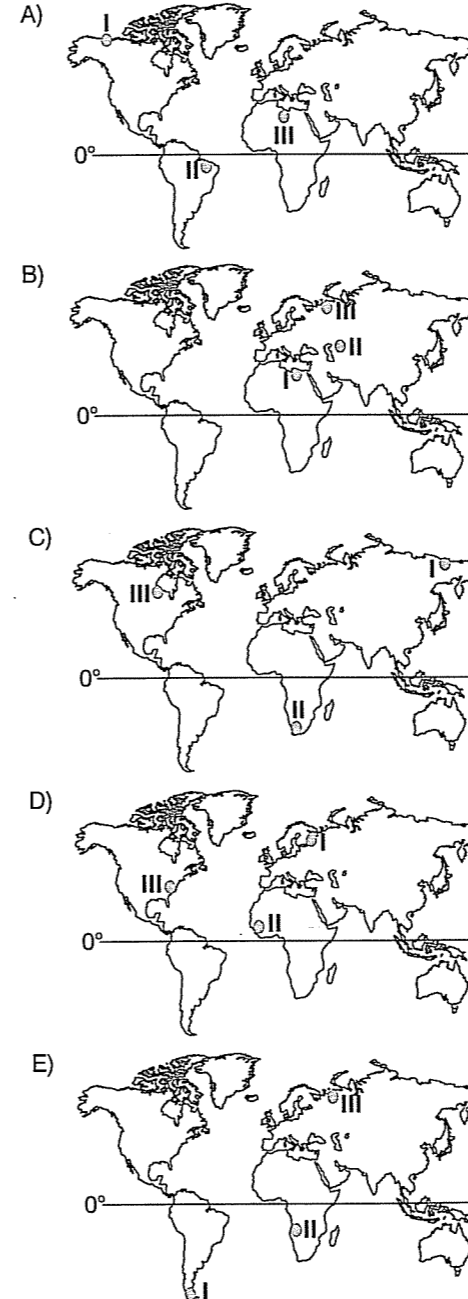
Buna göre, hangilerinin sel riski yüksek olan yerler boyunca ilerleyeceği söylenebilir?

- A) I ve III B) I ve IV C) II ve IV
D) II ve V E) III ve V

23. Aşağıdaki grafiklerde, üç farklı merkezde gece ve gündüz süresinin yıl içindeki değişimi verilmiştir.



Bu merkezlerin dünya üzerindeki konumları aşağıdaki haritaların hangisinde doğru verilmiştir?



24. X limanından Y limanına giden bir ticaret gemisi aşağıdaki denizlerden geçmiştir.

- o Manş Denizi
o Akdeniz
o Kızıldeniz
o Umman Denizi
o Basra Körfezi

Buna göre, söz konusu ticaret gemisinin,

- I. Panama Kanalı,
II. Hürmüz Boğazı,
III. Babülmendep Boğazı,
IV. Malakka Boğazı

su yollarından hangilerini kullandığı söylenebilir?

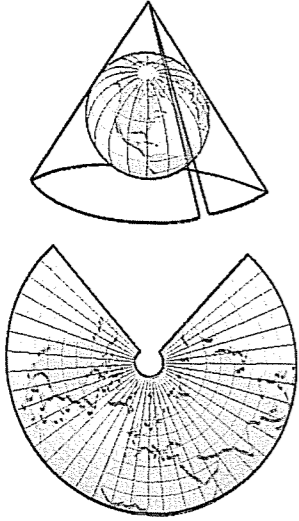
- A) I ve II B) I ve III C) II ve III
D) II ve IV E) III ve IV

25. Aşağıdaki özelliklerden hangisinin ortaya çıkmasındaki temel etken yanlış olarak verilmiştir?

Özellik	Temel etken
A) Bölgede tarım ürünü bakımından çeşitliliğin fazla olması	Bölgede iklimin çeşitli olması
B) İki merkezde gün içinde gölge boyunun en kısa olduğu anın yıl boyunca aynı olması	Merkezlerin aynı boylam üzerinde bulunması
C) Ülkede aynı anda birden çok ulusal saatin kullanılması	Ülkenin doğu-batı yönünde geniş alan kaplaması
D) Meridyenlerin kutup noktalarında birleşmesi	Aynı meridyen üzerinde bulunan noktaların başlangıç meridyenine olan uzaklıklarının birbirinden farklı olması
E) Tarih değiştirme çizgisinin doğusunda tarihin batısına göre bir gün geri olması	Yer ekseninin yörunge düzlemine eğik olması

26. Yerküreye ait özellikler, bilgiler belli bir ölçek dahilinde küre üzerine aktararak model küre elde edilir. Ancak düzlem üzerine aktarılırken Yer'in şeklinin kaynaklanan bozulmalar ortaya çıkar. Çünkü yuvarlak olan bir cisim, bozulma olmadan veya özelliklerini yitirmeden düzlem üzerine aktarmak oldukça güçtür. Bu nedenle haritalar oluşturulurken bozulmaların en aza indirilmesi için çeşitli yöntemler geliştirilmiştir. Bunlar projeksiyon (iz düşüm) olarak adlandırılır.

Aşağıda, projeksiyon yöntemlerinden biri verilmiştir.



Buna göre, bu projeksiyon yöntemiyle çizilmiş bir dünya haritasında, aşağıda coğrafi koordinatları verilen yörelerin hangisinde bozulma oranının diğerlerine göre daha az olması beklenir?

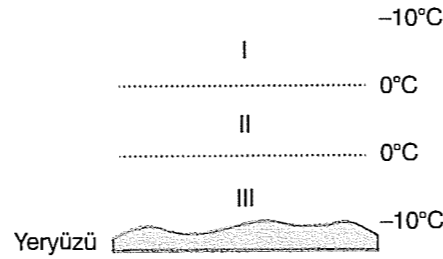
- A) 100° 102°
42°
40°
- B) 5° 7°
72°
70°
- C) 80° 78°
6°
4°
- D) 20° 22°
2°
0°
- E) 52° 50°
87°
85°

27. Afet boyutuna ulaşan erozyon, toprağın insanların çeşitli faaliyetlerine bağlı olarak bir yerde kullanılmayacak kadar azalması veya tamamen yok olmasıdır.

Buna göre, aşağıdakilerden hangisi erozyona neden olan hatalı arazi kullanımına örnek verilemez?

- A) Tarım alanlarının nadasa bırakılması
B) Tarlaların eğim yönüne paralel sürülmesi
C) Akarsu yataklarının yatak dolgularıyla küçültülmesi
D) Ormanlık alanların yerleşim alanı, tarım ve mera alanı hâline getirilmesi
E) Meralarda beslenen hayvan sayısının artırılması

28. Aşağıdaki şekilde, bir yerdeki yağışın oluşumundan yeryüzüne düşüne kadar olan sıcaklık değişimi gösterilmiştir.



Buna göre, numaralanmış yerlerde oluşması beklenen yağış türleri aşağıdakilerin hangisinde doğru verilmiştir?

- | I | II | III |
|-------------|--------|--------|
| A) Kar | Yağmur | Kar |
| B) Kar | Çiy | Dolu |
| C) Yağmur | Yağmur | Kar |
| D) Kırç | Çiy | Kırağı |
| E) Kıracağı | Çiy | Kırç |

29. Yer kabuğundaki büyük levha sınırlarının dağılışıyla, aşağıdakilerden hangisinin dağılışının birbirine paralellik gösterdiği söylenemez?

- A) Tsunamilerin
B) Jeotermal kaynakların
C) Aktif volkanik faaliyetlerin
D) Genç kıvrım dağ kuşaklarının
E) Aşınım düzlüklerinin

30. Bir yük gemisinin rotası incelendiğinde, ilk önce Hürmüz Boğazı'nı en son Cebelitarık Boğazı'nı geçtiği ve bir liman kentine ulaştığı gözleniyor.

Buna göre, geminin yükü aşağıdakilerden hangisi olabilir?

- A) Ham petrol
B) Elektronik eşya
C) Otomotiv
D) Kereste
E) Demir-çelik ürünleri



Yukarıdaki haritada numaralanmış yörelerin hangisinde yer şekli koşulları tarım olanaklarını kısıtlamıştır?

- A) I B) II C) III D) IV E) V

32. Felsefe, kişisel doyum arayışında, büyüleyici, heyecan verici ve zorlayıcı ince bir yol sunar. Felsefe, insan varoluşuna bir tür maya kattığı için, hayatımıza zevk ya da ilham veren bir öğe olabilir. Yeni derinlikler hisseder, yeni boyutlar yaşarız. Önümüzde yeni manzaralar açılır. Kendimiz hakkında daha büyük bir farkındalık ya da daha zengin bir bütünlük ve birlik duygusu edinebiliriz.

Bu açıklama aşağıdaki sorulardan hangisine cevap olarak verilmelidir?

- A) Felsefenin bilimlerden farkı nedir?
B) Bilginin değeri nedir?
C) Felsefi önermelerin kesinliği var mıdır?
D) Felsefe ne işe yarar?
E) Felsefe konusunu incelerken hangi yöntemi kullanır?

33. Bilginin kaynağı ne sadece akıldır ne de sadece deneydir. Bilgi deneyle başlar, ancak deneyden doğmaz. Deney olmadan akıl, akıl olmadan da deney bir işe yaramaz. Bilgi oluşumunda deney pasif, akıl ise aktiftir.

Bu açıklama aşağıdaki epistemolojik kuramlardan hangisine aittir?

- A) Kant'ın kriticizmine
B) Hegel'in idealizmine
C) Prynthon'un şüpheciliğine
D) Platon'un idealizmine
E) Augusto Comte'un pozitivizmine

34. İnsan, varlığa değerler yükleyerek yaklaştığından onun özünü hiç kavrayamamaktadır. Bu öze yaklaşmak ve onu kavramak için varlığa verilen değerlerden varlığın arındırılması gerekir. Başka bir ifadeyle, olgulardan, duyuşal yaşantılardan ayıklanması gerekir. Bu ayıklanma işlemi "paranteze alma" olarak adlandırılır. Paranteze almak ise, bir nesnenin özüne ulaşabilmek için, onun özüne ait olmayan özelliklerin dışarıda bırakılması demektir.

Varlığı bu şekilde ele alan varlık kuramı aşağıdakilerden hangisidir?

- A) Materyalizm B) İdealizm C) Düalizm
D) Rasyonalizm E) Fenomenoloji

35. Ben şu anda bahçemdeki gülleri görüyorum ve güllerle ilgili zihnimde bir algı olduğundan eminim. Ancak zihnimde oluşan bu algının zihnimden bağımsız olarak dış dünyada da bulunup bulunmadığından asla emin olamam. Çünkü ben zihnimin dışına çıkamam.

Bu açıklamaya en uygun varlık tanımı aşağıdakilerden hangisidir?

- A) Varlık, hem madde hem düşüncedir.
B) Varlık, algılarımızdan ibarettir.
C) Varlık, oluştur.
D) Varlık, bilinemez.
E) Varlık, insan zihninden bağımsız bir gerçekliktir.

36. Bir kişiye milli piyangodan büyük miktarda para çıktığını düşünelim. Kişi bu parayla kimsesiz çocuklara mı yardım etmeli? Dünya turuna mı çıkmalı? Bireysel silahlanmanın önlenmesi için çalışan bir kuruluşa mı yardım etmeli? Yoksul çocuklara ücretsiz eğitim veren bir vakıf mı kurmalıdır?

Bu sorulara verilen aşağıdaki cevaplardan hangisi evrensel ahlakın olamayacağını gösterir?

- A) Aklın ilkeleri ne derse onu yaparım.
B) İnsanlığın tümünü ilgilendiren dinsel kurallar ne diyorsa onu yaparım.
C) Bana mutluluk veren neyse ona göre davranırım.
D) En çok insana en fazla fayda sağlayacak olan neyse onu yaparım.
E) İnsanlığın ortak aklı ne diyorsa onu yaparım.

37. "Şu tablo güzeldir." yargısıyla "Dünya bir gezegendir." yargısı arasında fark yoktur. Her ikisi de zorunlu ve genel geçer yargılardır. Çünkü "Şu tablo güzeldir." yargısı ifade edilirken bu yargıya, ortak bir duyguya dayanılarak ulaşılmıştır. Güzelin beğenisi çıkarsız ve özgün bir hazdır. Yani hiçbir karşılık gözetmez.

Kant, sanatla ilgili bu düşüncesiyle aşağıdaki-lerden hangisini amaçlamıştır?

- A) Sanatın bir bilim dalı olduğunu
B) Sanatın bir yaratıcılık olduğunu
C) Güzelliğin göreceli olduğunu
D) Sanatsal yargıların öznel olduğunu
E) Ortak estetik yargıların var olduğunu

38. Ermiş Paulus iktidarla ilgili şöyle demiştir: "Her iktidar Tanrı'dan gelir, bize de düşen ona boyun eğmektir."

Bu düşünce aşağıdaki siyasal kuramlardan hangisine örnektir?

- A) Demokrasiye
B) Monarşiye
C) Oligarşiye
D) Aristokrasiye
E) Teokrasiye

39. Devlet, Tanrı'nın istemiş olduğu bir kurumdur. Devleti yöneten iktidar sahipleri Tanrı'nın yeryüzündeki temsilcileridir. Bireylerin devleti yönetenlere itaat etmesi bir ödevdir; çünkü iktidar, toplumu Tanrı'nın koyduğu bu yasalara uygun olarak yönetirse meşrudur.

Bu açıklamaya göre "İktidarın kaynağı nedir?" sorusuna aşağıdaki cevaplardan hangisi verilmiştir?


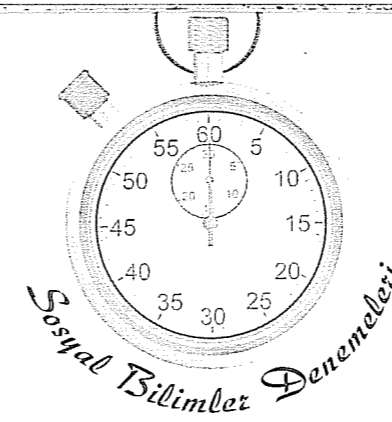
- A) Toplumun ortak iradesidir.
B) Tanrı'dır.
C) İnsanın bencilliğidir.
D) Doğa karşısında insanın güçsüzlüğüdür.
E) Halktır.

40. Geçmişte yaşadığımız önceki deneylerimizin, sonraki olaylarla ilgili olarak iyi bir rehber olduğunu gördüğümüze göre, onların bundan sonrası için de iyi bir rehber olacağından emin olabilir miyiz? Örneğin, bugüne kadar doğan her insan belli bir yaşatan sonra ölmüş, bundan sonrası için de "Her insan ölümlüdür." yargısında bulunmak ne kadar doğrudur?

Bu sorgulama aşağıdaki konulardan hangisiyle ilgilidir?

- A) Varlığın ilk nedeniyle
B) Bilginin insan hayatındaki önemiyle
C) Tümevarımsal yöntemle elde edilen bilgilerin doğruluğuyla
D) İnsan davranışlarının bilimsel olarak incelenmesiyle
E) Bilimsel bilgilerin mantıksal tutarlılıklarıyla

Deneme 23							
1	A	11	B	21	E	31	B
2	D	12	B	22	C	32	D
3	D	13	B	23	D	33	A
4	C	14	C	24	C	34	E
5	C	15	E	25	E	35	B
6	D	16	E	26	A	36	C
7	A	17	E	27	C	37	E
8	A	18	E	28	A	38	E
9	D	19	B	29	E	39	B
10	C	20	C	30	A	40	C



1. Tarih öncesi dönemlerin süresi ve bu dönemlerin uzunluğu konusunda kesin hüküm yürütülemez. İnsan toplulukları bu dönemi her coğrafyada aynı zaman diliminde yaşamadılar. Örneğin Çin, Maden Devri'ne MÖ 4000 yılında girdiği halde; Anadolu aynı döneme MÖ 3500 yıllarında girmiştir.

Bu duruma neden olarak,

- I. O dönemde uygarlıklar arası etkileşimin zayıf olması,
II. Coğrafi koşulların farklı olması,
III. Uygarlıkların kültürel birikiminin farklı olması,

durumlarından hangileri gösterilebilir?

- A) Yalnız I
B) I ve II
C) I ve III
D) II ve III
E) I, II ve III

2. İslamiyet öncesi Türk devletlerinde en önemli yönetim organlarından biri de kurultaydı. Kurultay, devlet meselelerinin ve önemli konuların görüşüldüğü bir tür danışma organıydı.

Buna göre,

- I. Hanedan üyelerinden ve boy beylerinden oluşması,
II. Hakanın töreye uyup uymadığını denetlemesi,
III. Ülke meseleleriyle ilgili ön kararı vermesi

özelliklerinden hangileri kurultayın danışma organı olduğuna kanıt olarak gösterilebilir?

- A) Yalnız II
B) Yalnız III
C) I ve II
D) II ve III
E) I, II ve III

3. İslamiyet öncesi Arabistan'da görülen,

- I. Putperestliğin egemen din olması,
II. Kabileler halinde yaşamaları,
III. Main, Seba, Himyeri, Hire gibi birçok ufak devletinin olması

durumlarından hangileri Arabistan'da siyasal, kültürel veya toplumsal birliğin olmadığına kanıt olarak gösterilebilir?

- A) Yalnız I
B) I ve II
C) I ve III
D) II ve III
E) I, II ve III

4. Memlüklerin,

- I. Haçlıları Suriye ve Filistin'den uzaklaştırmaları,
II. Moğolların Bağdat'ı ele geçirmesi üzerine Abbasi halifelerini himaye etmeleri,
III. Egemenliklerini yaymak için Osmanlı Devleti'yle mücadele etmeleri,

özelliklerinden hangileri Memlüklerin İslam dünyasına katkıları olarak gösterilebilir?

- A) Yalnız I
B) Yalnız III
C) I ve II
D) I ve III
E) I, II ve III

5. Yükselme döneminde Osmanlı Devleti'nde gerçekleşen,

- I. Yavuz Sultan Selim'in ilk kez cülus bahşişi dağıtması,
II. Kanuni zamanında ilk kapitülasyonların verilmesi,
III. Fatih döneminde divanın danışma organı haline getirilmesi

uygulamalarından hangileri sonraki dönemlerde Osmanlı Devleti için sorun olmuştur?

- A) Yalnız I
B) Yalnız II
C) I ve II
D) I ve III
E) I, II ve III

6. Yeniçağ Avrupa'sında görülen coğrafi keşiflerin sonuçları aşağıdakilerin hangisinde doğru gruplandırılmıştır?

Siyasi	Ekonomik	Sosyal
A) Akdeniz limanlarının önem kazanması	Sömürge imparatorluklarının kurulması	Yeni kültürler, canlılar ve ırkların ortaya çıkması
B) Yeni kültürler, canlılar ve ırkların ortaya çıkması	Sömürge imparatorluklarının kurulması	Akdeniz limanlarının önem kazanması
C) Sömürge imparatorluklarının kurulması	Akdeniz limanlarının önem kazanması	Yeni kültürler, canlılar ve ırkların ortaya çıkması
D) Sömürge imparatorluklarının kurulması	Yeni kültürler, canlılar ve ırkların ortaya çıkması	Akdeniz limanlarının önem kazanması
E) Akdeniz limanlarının önem kazanması	Yeni kültürler, canlılar ve ırkların ortaya çıkması	Sömürge imparatorluklarının kurulması

7. Yavuz Sultan Selim'in tahta geçtiğinde en büyük hedefi Doğu'nun ve İslam'ın hükümdarı olmaktır. Bu amaçla düzenlediği seferlerden biri de Memlük Devleti üzerine yaptığı Mısır seferiydi.

Mısır seferinin,

- Baharat Yolu ticaretinin Osmanlılara geçmesi,
- Kutsal emanetlerin İstanbul'a getirilmesi,
- Abbasi halifesi III. Mütevekkil'in unvanını Yavuz'a devretmesi

sonuçlarından hangileri Yavuz Sultan Selim'in amacına ulaştığını doğrudan kanıtlar?

- A) Yalnız III
B) I ve II
C) I ve III
D) II ve III
E) I, II ve III

8. XVIII. yy. hükümdarlarından III. Mustafa, ülkesini çok seven bir hükümdardı. İsveç kralıyla olan yakın dostluğunun da etkisiyle Osmanlı Devleti'ni İsveç gibi gelişmiş bir ülke yapma hayalindeydi.

Buna göre III. Mustafa dönemi ıslahatlarından,

- Gereksiz harcamaları kısması,
- Baron dö Tot'un çalışmalarıyla sürat topçuları ocağını kurması,
- İstihkam okulunun açılması,
- Mühendishane-i Bahr-ı Hümayun'un açılması,
- Esham-ı Tahvilat adıyla ilk kez iç borçlanmaya gidilmesi

hangilerinde batı etkisinden söz edilebilir?

- A) I ve II
B) II ve IV
C) II ve V
D) I ve IV
E) III ve IV

9. I. Dünya Savaşı sonrasındaki,

- İzmir'in Paris Barış Konferansı'nda İtalya yerine Yunanistan'a bırakılması,
- Amiral Bristol raporunun yayınlanması,
- Kazım Karabekir'in Mondros şartlarına uymayıp ordusunu terhis etmemesi

gelişmelerinden hangileri ulusal mücadeleye doğrudan katkı sağlamıştır?

- A) Yalnız II
B) Yalnız III
C) I ve III
D) II ve III
E) I, II ve III

10. Sivas Kongresi, hem ulusal mücadelenin örgütlenme aşaması için alınan kararlar hem de İstanbul hükümetine karşı kazanılan ilk siyasal başarı olması bakımından önemli bir yere sahiptir.

Sivas Kongresi sonrası gerçekleşen,

- Damat Ferit Paşa hükümetinin istifa etmesi,
- Ali Rıza Paşa hükümetinin kurulması,
- Ali Rıza Paşa hükümetinin Bahriye Nazırı Salih Paşa'yı Mustafa Kemal'le görüşmek üzere Amasya'ya göndermesi

gelişmelerinden hangileri Sivas Kongresi'nin siyasal başarılarından?

- A) Yalnız I
B) I ve II
C) I ve III
D) II ve III
E) I, II ve III

11. I. TBMM'nin aşağıdaki faaliyetlerinden hangisi yargının yasama organının denetiminde olduğunu gösterir?

- Hıyanet-i Vatan kanunu çıkarması
- Yasama ve yürütmeyi tek elde toplaması
- İstiklal mahkemelerinin üyelerinin milletvekillerinden oluşması
- Teşkilatı Esasi'nin ilanı
- Düzenli orduyu kurarak otoritesini güçlendirmesi

12. Mustafa Kemal, Sakarya Meydan Savaşı için: "Hatı müdafaa yoktur. Sathı müdafaa vardır. O sathı da bütün vatandır. Vatanın her karış toprağı vatandaşın kanı ile sulanmadıkça terk edilemez." demiştir.

Bu sözlerle bakılarak Mustafa Kemal'le ilgili,

- Sakarya Savaşı'nı savunma savaşı olarak gördüğü,
- Bölgesel kurtuluşa karşı olduğu,
- Topyekün bir savaştan yana olduğu

yargılarından hangilerine ulaşılabilir?

- A) Yalnız II
B) I ve II
C) I ve III
D) II ve III
E) I, II ve III

13. M. Kemal, Lozan Konferansı'na katılacak heyetten "kapitülasyonlar" ve "Ermeni meselesi" konularında taviz verilmemesini istemiştir.

Bu bilgiye göre yeni Türk Devleti'nin dış politika esasını oluşturan temel kavram aşağıdakilerden hangisidir?

- Ulusal egemenlik
- Uluslararası eşitlik
- Tam bağımsızlık
- Uluslararası barış
- Jeopolitik güç

14. I. Dünya Savaşı'nın ekonomik açıdan olumsuzlukları, savaş sonrası on yılda kendini göstermiş ve 1929 yılında New York borsasının çökmesiyle dünya ekonomik kriz yaşamıştır.

Bu dönemin şartları dikkate alındığında Türkiye Cumhuriyeti'nin uyguladığı,

- Devletçiliğin etkisini artırma,
- Toprak reformuyla topraksız köylüye toprak dağıtma,
- Teşvik-i Sanayi kanununu çıkarma

politikalarından hangileri dünya ekonomik krizinin Türk ekonomisini olumsuz etkilemesini önlemeye yöneliktir?

- A) Yalnız I
B) I ve II
C) I ve III
D) II ve III
E) I, II ve III

15. Türkiye Cumhuriyeti anayasasına göre "Türkiye Cumhuriyeti sosyal, hukuk devletidir." hükmü yer almıştır.

Bu maddeyle,

- Halka hizmet eden bir devlet modelinin amaçlanması,
- Kanun önünde herkesin eşit olması,
- Çağdaşlaşma yolunda adımlar atılması

uygulamalarından hangilerinin bağdaştığı söylenebilir?

- A) Yalnız II
B) I ve II
C) I ve III
D) II ve III
E) I, II ve III

16. "Siyasi ve askeri zaferler ne kadar büyük olursa olsun, ekonomik başarılar ile taçlandırılmazsa kazanılan zaferler varlıklarını sürdüremezler, az zaman sonra sönerler."

Aşağıdaki devrimlerden hangisinin Atatürk'ün bu sözleri doğrultusunda yapıldığı söylenemez?

- İş Bankası'nın kurulması
- Beş yıllık kalkınma planının yapılması
- Misakı İktisadi'nin kabul edilmesi
- Demiryolları ve karayolları yapımına önem verilmesi
- Tevhidi Tedrisat Kanunu'nun kabul edilmesi

17. Savaş çeşitleri,

- I. gayri nizami savaş,
- II. soğuk savaş,
- III. sıcak savaş

şeklinde sınıflandırılabilir. Aşağıdakilerden hangisinde bu savaşlara verilen örnekler doğru sıralanmıştır?

- | | I | II | III |
|-----------------------------|--------------------------|--------------------------|-----|
| A) Kuvayi Milliye Savaşları | Körfez Savaşı | Sovyet Rusya-ABD savaşı | |
| B) Kuvayi Milliye Savaşları | Sovyet Rusya-ABD savaşı | Körfez Savaşı | |
| C) Körfez Savaşı | Sovyet Rusya-ABD savaşı | Kuvayi Milliye Savaşları | |
| D) Körfez Savaşı | Kuvayi Milliye Savaşları | Sovyet Rusya-ABD savaşı | |
| E) Sovyet Rusya-ABD savaşı | Körfez Savaşı | Sovyet Rusya-ABD savaşı | |

18. Orta Amerika'da, Pasifik ve Atlas okyanuslarını deniz ulaşımı bakımından birbirine bağlayan bir su yolunun açılması, aşağıdakilerden hangisinin önemini azaltmıştır?

- A) Ümit Burnu'nun
- B) Cebelitarık Boğazı'nın
- C) Macellan Boğazı'nın
- D) Süveyş Kanalı'nın
- E) Bering Boğazı'nın

19. 33° doğu boylamında bulunan Ankara'da yatay bir düzleme dik bir çubuğun en kısa gölgeyi verdiği anda Türkiye'nin ulusal saatinin 12:48 olduğu gözleniyor.

Bu gözlemin yapıldığı anda, Greenwich Ortalama Saati'ne göre,

- -2. saat diliminde bulunan K,
- +6. saat diliminde bulunan L,
- +10. saat diliminde bulunan M

kentlerinin ulusal saatleri aşağıdakilerin hangisinde doğru verilmiştir?

- | | K | L | M |
|---------|-------|-------|---|
| A) 7:48 | 14:48 | 18:48 | |
| B) 6:48 | 15:48 | 18:48 | |
| C) 7:48 | 15:48 | 19:48 | |
| D) 5:48 | 16:48 | 20:48 | |
| E) 6:48 | 13:48 | 19:48 | |

20. Kalıcı kar sınırı,

- I. enlem,
- II. yükselti,
- III. bakı,
- IV. okyanus akıntıları

niceliklerinden hangilerine bağlı olarak değişir?

- A) I ve II
- B) I ve III
- C) II ve III
- D) II ve IV
- E) III ve IV

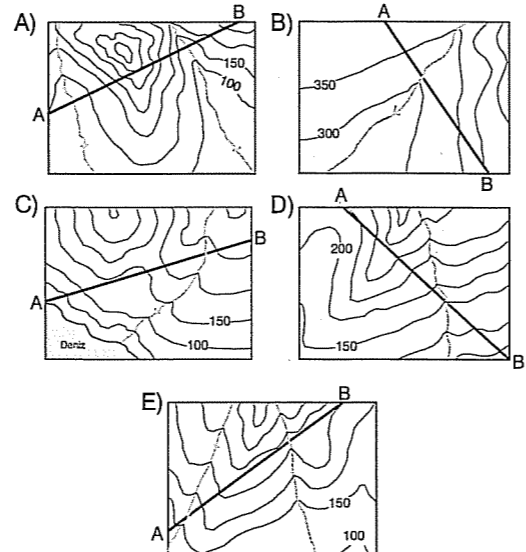
21. Bir yerin iz düşümsel yüz ölçümü, arazideki yükseltiler ve çukurluklar dikkate alınmadan, her yer düzlük kabul edilerek yapılan hesaplamalar sonucu elde edilir.



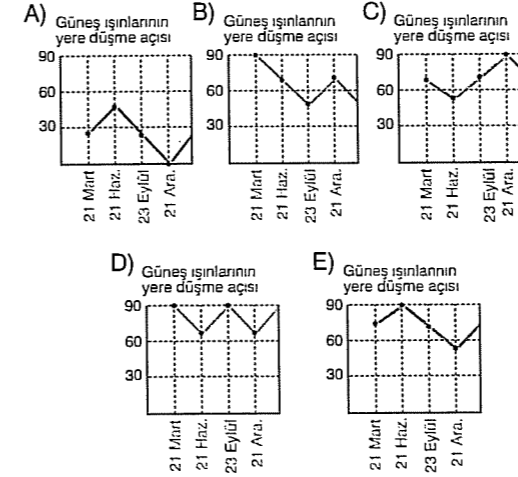
Buna göre, yukarıdaki haritada numaralarla gösterilen yörelerden hangisinin gerçek alanıyla iz düşümsel alanı arasındaki farkın ötekilerden daha az olduğu söylenebilir?

- A) I
- B) II
- C) III
- D) IV
- E) V

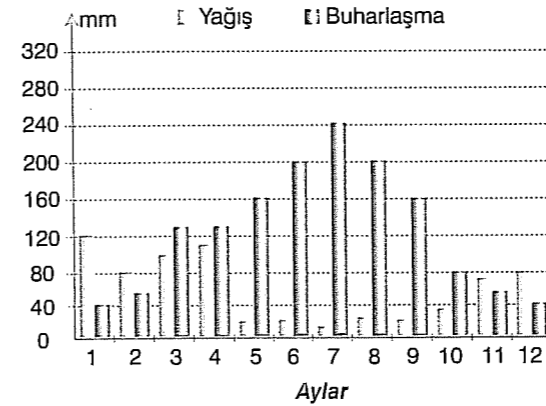
22. Eş yükselti eğrileriyle gösterilmiş aşağıdaki haritaların hangisinde verilen A-B doğrultusunda çizilen profilde yükselti farkı en az olur?



23. Aşağıda güneş ışınlarının yıl içindeki geliş açısı verilen merkezlerden hangisinin bulunduğu bölgede orman üst sınırı ötekilerden daha yüksektir?



24. Aşağıdaki grafikte, Kuzey Yarım Küre'deki bir yerin aylık ortalama yağış ve buharlaşma miktarları verilmiştir.



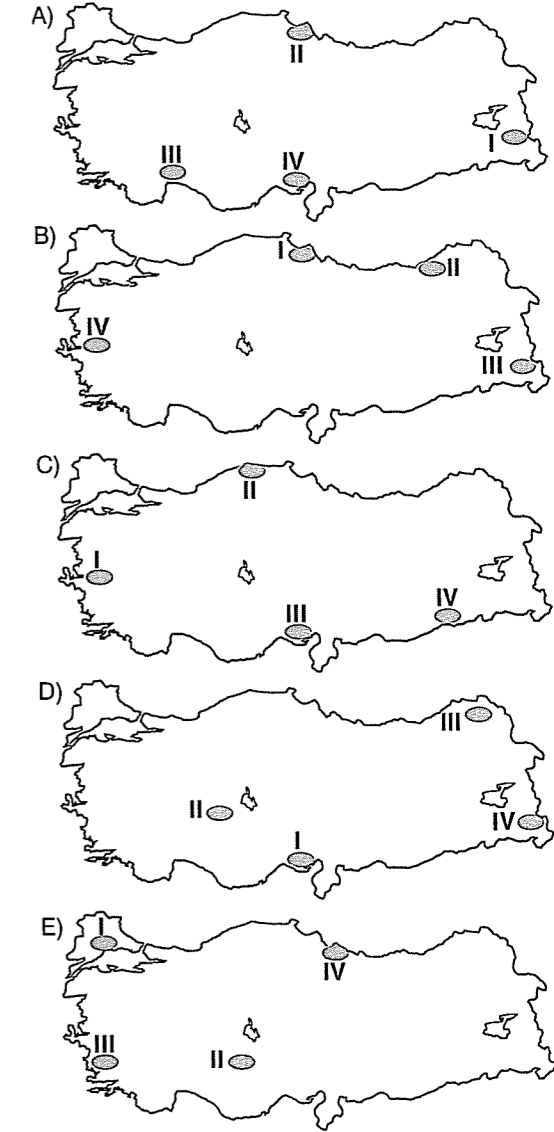
Aşağıdakilerden hangisi bu grafikten çıkarılacak bir sonuç değildir?

- A) Toprak nemlilik oranı kış mevsiminde en fazladır.
- B) Yaz mevsiminde kuraklık etkilidir.
- C) Yıllık toplam buharlaşma miktarı yıllık toplam yağış miktarından fazladır.
- D) Yağışın yıl içindeki dağılışı ile buharlaşmanın yıl içindeki dağılışı genel olarak ters orantılıdır.
- E) Buharlaşma miktarı ile yağış miktarı arasındaki fark bahar mevsimlerinden en fazladır.

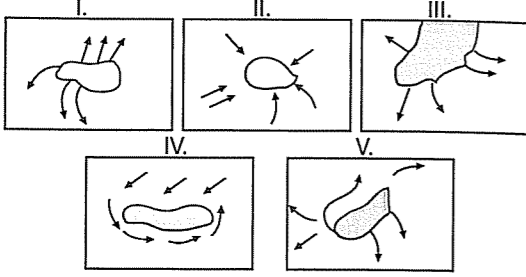
25. Türkiye'nin doğal koşulları göz önüne alındığında, ülke arazisinde,

- I. tarla arazisi,
- II. nadas,
- III. çayır ve mera arazisi,
- IV. tarıma elverişsiz arazi

olarak kullanılan alanlardan herbiri aşağıdaki haritaların hangisinde doğru olarak verilmiştir?

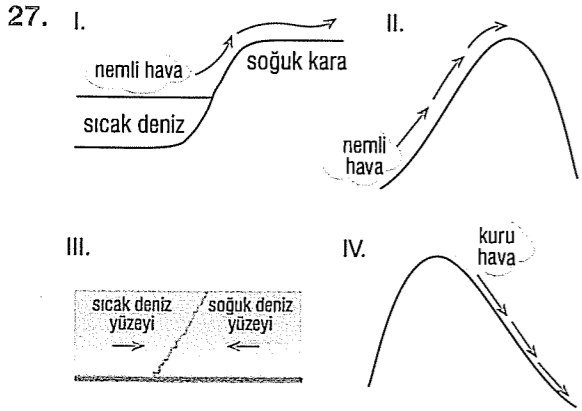


26. Aşağıda, beş farklı yörede, herhangi bir anda etkili olan yatay yöndeki hava hareketleri gösterilmiştir.



Buna göre, numaralanmış yörelerin hangilerinde yükselici hava hareketlerinin görülmesi beklenir?

- A) I ve III B) I ve IV C) II ve III
D) II ve IV E) III ve V



Yukarıda verilen durumların hangilerinde sisin oluşması beklenir?

- A) Yalnız I B) Yalnız III C) II ve IV
D) III ve IV E) I, II ve III

28. Bir ülkede nüfusun, geçim olanaklarından daha hızlı artması yaşam düzeyinin düşmesine yol açar. Buna göre, aşağıdaki gözlemlerden hangisi bu yargıyı destekler?

- A) K ülkesinde geçim olanakları da nüfus artışı da yüksektir.
B) L ülkesinde geçim olanaklarının düşük olmasına karşın yaşam düzeyi yüksektir.
C) Yaşam düzeyinin yüksek olduğu M ülkesinde nüfus artış hızı çok düşüktür.
D) N ülkesinde nüfus artışı da yaşam düzeyi de düşüktür.
E) Yaşam düzeyinin yüksek olduğu P ülkesinde nüfus, geçim olanaklarından daha hızlı artmaktadır.

29. Aşağıda, beş kent merkezi ve bu kentlerden dünyanın kurulmasında etkili olan faktörler verilmiştir.

- I. Kudüs
II. Marsilya
III. Ust Nera
IV. Hong Kong
V. Osaka

- İnsanlar sürekli buluşlar yapmış ve hayatını kolaylaştırmıştır. Yapmış olduğu buluşlar sanayi devrimini gerçekleştirmiş, atölyeler, fabrikalar kurmuştur.
○ Dinin yayıcısı konumunda olan peygamberlerin yaşadığı veya dince kutsal sayılan yerlerde zamanla kentler oluşmuştur.
○ İnsanların deniz aşırı ülkelere ulaşma isteği, kıyı kesimlerinde yerleşim yerlerinin ve limanların kurulmasını sağlamıştır.
○ Son yüzyılda bilgi ve iletişim alanında akıl almaz hızda değişim yaşanmıştır. Bu alandaki gelişmeler çok hızlı bir şekilde devam etmekte, bilimsel çalışmaların yapıldığı yerler kurulmaktadır.

Buna göre yukarıda, kaç numarayla verilen kentin yerleşme özelliği yoktur?

- A) I B) II C) III D) IV E) V

30. Bir su toplama havzasında sel ve taşkınlardan korunmak için aşağıdaki önlemlerden hangisinin etkili olacağı söylenemez?

- A) Sel ve taşkın riski altındaki alanlar belirlenerek bu alanların yapılaşmaya açılmaması
B) Akarsuyun doğal drenaj sisteminin korunması ve ağaçlandırma çalışmalarının yapılması
C) Akarsu yataklarına taşkın setlerinin yapılması ve yatak temizleme çalışmalarının yapılması
D) Akarsuyun değişik kesimlerinde su seviyesinin kontrol altında tutulması ve erken uyarı sistemlerinin kurulması
E) Engebeli alanlardaki tarlaların eğim yönüne dik sürülmesi ve taraçlandırılması

31. Anadolu Yarımadası, güneyden kuzeye doğru hareket eden Arabistan Levhası ile kuzeyden güneye doğru hareket eden Avrasya Levhası'nın sınırında yer alır.

Anadolu Yarımadası'nın aşağıdaki özelliklerinden hangisinin nedenini açıklamada bu bilgilerden yararlanılabilir?

- A) Çöküntü depremlerinin görülmesinin
B) Akarsulardan bir kısmının kapalı havza içinde yer almasının
C) Kayaçların farklı jeolojik yaşta ve yapıda olmasının
D) Dağ sıralarının doğu-batı yönünde uzanmasının
E) Akarsu ağzlarında geniş birikim ovalarının bulunmasının

32. Filozof, kendisine şu ya da bu biçimde kabul ettirilmiş olan ya da sunulan inançları, görüşleri, bilgileri, irdeler ve eleştirir. Doğru olanı, gerçek bilgiyi, arar; insan yaşamını anlamlı kılacak, yaşamaya değer duruma getirecek ve mutluluğa ulaştıracak ilkeleri ve kuralları bulmak ister; bunlara uygun olarak yaşamaya çalışır. Bu ilkeleri ve kuralları, iyice araştırıp akılla bulunmuş temeller üzerinde kurmaya yönelir. Felsefi düşünce, bütün bildiklerimizi ve özellikle inandıklarımızı; eylem alanında yol gösterici olarak kabul ettiğimiz değerleri, toplumun bize kabul ettirdiği önyargıları, tutkularımızı, duygularımızı, alışkanlıklarımızı özgür düşüncenin süzgecinden geçirmektedir.

Bu açıklamaya göre aşağıdakilerden hangisi filozofun görevleri arasında yer almaz?

- A) Olguların nedenlerini deney ve gözlemlerle kanıtlamaya çalışmak
B) Var olan anlamların dışında başka anlamlar aramak
C) Şüpheli olmak
D) Düşündüğü gibi yaşamaya çalışmak
E) Düşüncelerinde tutarlı olmak

33. "Varlık nedir?" sorusuna materyalist filozoflar aşağıdaki cevaplardan hangisini verirler?

- A) Hem madde hem düşüncedir.
B) Akıldır.
C) Ruhtur.
D) Maddedir.
E) Fenomendir.

34. "Doğruyu aramak için her insanın yaşamında bir defa her şeyi olabildiğince kuşkuya koyması gerekir."

Dercartes bu düşüncesiyle aşağıdakilerden hangisini amaçlamıştır?

- A) Doğru bilginin olmadığını
B) Doğru bilgiye ulaşmak için şüpheyi bir araç olarak kullanmayı
C) Doğru bilginin kaynağının deney olduğunu göstermeyi
D) Doğru bilgiye bilimsel yöntemle ulaşabileceğini kanıtlamayı
E) Bilginin doğruluğunun kanıtlanamayacağını

35. Hegel'e göre başlangıçta varlık bir olanak olarak bulunuyordu; bu olanak cisimsel değil, akılsaldı. Cisimsel olmayan bu olanaksal varlık, cisme dönüştü ve evrendeki bütün varlıkları oluşturdu. Ancak cisme dönüşen bu olanaklı varlık kendi özgürlüğünü kaybetti; özgürlüğüne yeniden kavuşmak için de ilk olanaklı hali olan akılsal olana dönüştü.

Hegel için aşağıdakilerden hangisini söyleyebiliriz?

- A) İdealist bir filozoftur.
B) Nihilist bir filozoftur.
C) Düalist bir filozoftur.
D) Materyalist bir filozoftur.
E) Pozitivist bir filozoftur.

36. Her güzellik, zihnin nesnesi olan doğanın bir yansıması olduğu için güzeldir. Örneğin, sanatında usta olan bir ressam, bir tablonun tüm figürlerini düzenlemişse, bu ressamın yapıtındaki her şey, içinde bulunulan doğa nedeniyle zevk verecektir.

Bu açıklamada sanatla ilgili aşağıdaki düşüncelerden hangisi savunulmaktadır?

- A) Sanatın bir taklit olduğu
B) Sanatın kaynağının zevk olduğu
C) Güzelliğin ölçüsünün haz olduğu
D) Sanatın bir yaratıcılık olduğu
E) Güzelliğin nesnede değil özünde olduğu

37. Örnek -I:

İnsanlığın mağarada yaşadığı dönem: Vahşi, pis ve saldırganlardır.

Roma İmparatorluğu dönemi: Bilim ve sanatta ilerlemişler, biraz daha medeni olmuşlardır.

Yirminci yüzyıl dönemi: Eşitlik, özgürlük, demokrasi ve insan hakları açısından olgunlaşmış bir dünya ortaya çıkmıştır.

Örnek -II:

Klasik Çağ Atina'sı (M.Ö 400): Bilimsel düşüncenin, demokrasinin ve gelişmiş medeniyetin ilk görüldüğü toplumdur.

Ortaçağ: Bilimsel araştırmalar yasaklanmış, kitaplar yakılmış; din, kişisel çıkarlara alet edilmiştir.

Yirminci yüzyıl Nazi Almanya'sı: Bazı ırkların aşağılandığı, işkenceden geçirildiği, savaşlarda binlerce çocuk ve kadının kurşuna dizilerek öldürüldüğü bir dönemdir.

Bu iki örneğe dayanarak aşağıdaki sonuçlardan hangisine ulaşamayız?

- A) Ahlaki gelişme sürekli yükselen bir değerdir.
B) Çağlara göre toplumların ahlak anlayışları da farklılaşmıştır.
C) Toplumdaki ahlaklılık kavramı görecelidir.
D) Toplumların ahlakının belli bir düzene göre geliştiğini söyleyemeyiz.
E) Yirminci yüzyıl ahlakının önceki ahlaklardan daha gelişmiş olduğunu söyleyemeyiz.

38. Devlet, bireylerin bireysel iradelerinin toplamından fazla bir şey değildir. Bundan dolayı bireysel iradelerin üstünde ve dışında bir devlet olmadığı gibi, bireysel ihtiyaç ve çıkarların üzerinde de devletin ihtiyaç ve çıkarları yoktur.

Bu düşünceyle aşağıdaki yargılardan hangisi temellendirilebilir?

- A) Devletin kaynağının tanrı olduğu
B) Devletin doğal bir kurum olduğu
C) Devletin bireysel ihtiyaçlardan doğduğu
D) İdeal bir toplumsal düzenin olamayacağı
E) Devletin insan doğasına aykırı olduğu

39. Bir başkasının malını çalan birini ahlaki olarak kınayabiliriz. Ancak onu cezalandıracak güçlü bir kurumumuz yoksa bu kınamanın bir önemi yoktur. O halde toplumsal kargaşa ve düzensizlik yaratarak insan hayatını tehlikeye atan bu kişileri caydıracak ve cezalandıracak kurumlara ihtiyaç vardır.

Bu örnekle aşağıdakilerden hangisinin gerekliliği savunulmaktadır?

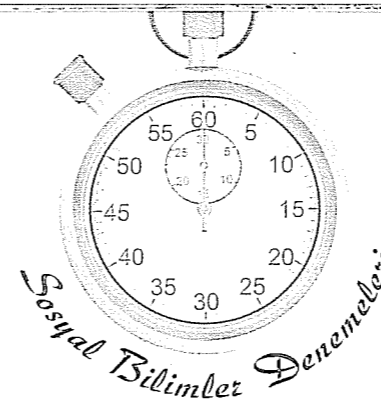
- A) Devletin B) Ahlakın C) Bilimlerin
D) Teknolojinin E) Dinin

40. Bilime olan güven bir sanata ya da ahlaka olan güvenden daha fazladır. Bilim sayesinde evrenin hayal bile edemeyeceğimiz köşelerine ulaşabiliyoruz, buralardan ses ve görüntü elde edebiliyoruz. Kömürdeki enerjiyi çıkarıp elektrığe dönüştürebiliyoruz. Ancak, bunlar insanın elde ettiği olağanüstü başarılar olmasına rağmen, bir konseri ya da tiyatroyu izlerken aldığımız hazı bize veremez.

Bu parçada neyin önemi vurgulanmaktadır?

- A) Bilimsel yöntemin doğru uygulanmasının
B) Bilimin diğer bilgilerden daha değerli olmasının
C) Bilimin sonuçlarının insan hayatını kolaylaştırmasının
D) Bilimsel bilginin diğer bilgi türleriyle de tamamlanması gerektiğinin
E) Bilimin kendisinden çok sonuçlarının önemli olduğunun

Deneme 24							
1	E	11	C	21	E	31	D
2	B	12	E	22	B	32	A
3	E	13	C	23	D	33	D
4	C	14	A	24	E	34	B
5	C	15	B	25	D	35	A
6	C	16	E	26	D	36	A
7	A	17	B	27	E	37	A
8	B	18	C	28	C	38	C
9	B	19	C	29	C	39	A
10	E	20	B	30	E	40	D



1. Tarihi olayların aşağıdaki niteliklerinden hangisinden dolayı tarih, deney ve gözlem metodunu kullanamaz?

- A) Tarih olayların açıklanması sırasında kesin kanunlara indirgenememesi
B) Olayların birbirini izlemesinden dolayı arasında neden-sonuç ilişkisinin bulunması.
C) Tarihi olayların kaynak taraması yapılarak açıklanması gerekliliği
D) Tarihi olayların tekrarının olmaması
E) Tarih olayların yer ve zamanının belirtilmesi gerekliliği

2. Babiller ve Sümerler, Mezopotamya tarihinde yer alan önemli uygarlıklardır.

Babillerin aşağıdaki özelliklerinden hangileri merkezi otoriteye Sümerler'den daha fazla önem verdiklerini kanıtlar?

- A) Kanallar açarak tarımı geliştirmeleri
B) Bayındırlık faaliyetlerine önem vermeleri
C) Düzenli bir orduya sahip olmaları
D) Güneş saatini bulmaları
E) Ay ve Güneş tutulması konusunda Sümerler'den kalan bilgileri geliştirmeleri

3. I. Hz. Ömer zamanında Beyt'ül Mal adı verilen devlet hazinesinin oluşturulması

- II. Hz. Osman döneminde ilk İslam donanmasının oluşturulması
III. Hz. Ebubekir zamanında yalancı peygamberler sorunun çözülmesi

İslam dünyasında Dört Halife dönemine ait bu gelişmeler, oluş zamanına göre geçmişten günümüze doğru sıralandığında aşağıdakilerden hangisi doğru olur?

- A) I-II-III D) II-III-I
B) I-III-II E) III-I-II
C) II-I-III

4. İslamiyetin kabulüyle birlikte, Türk devletleri milli benliklerini koruma konusunda bazı zorluklar yaşamıştır. Milli benliğin en önemli unsurlarından biri olan "dil"i koruyarak İslami eserlerle gelen Arap kültürünün etkisini azaltmaya çalışmışlardır.

Türk-İslam devletlerinde görülen,

- I. Karahanlıların Uygur alfabesini kullanmaları,
II. Gazneli İsmail Cevheri'nin Arap dilinin en iyi sözlüklerinden birini yazması,
III. Kölemenlerde Türkçe bilmeyenlerin devlet yönetiminde yükselmesine izin verilmemesi,

uygulamalarından hangileri bu yargıya kanıt oluşturur?

- A) Yalnız III B) I ve II C) I ve III
D) II ve III E) I, II ve III

5. I. Murad'ın yeni hükümdar olmasından yararlanmak isteyen Bizans, Türkleri Rumeli'den atmak için harekete geçmişti. I. Murad da Edirne'yi Bizans'tan almak istiyordu. Osmanlı-Bizans kuvvetleri Sazlıdere'de karşılaştı. Lala Şahin Paşa yönetimindeki Osmanlı orduları Bizans'ı Sazlıdere'de yenilgiye uğrattı.

Sazlıdere Savaşı'nın,

- I. Edirne'nin fethiyle Bizans'ın Balkanlar'daki topraklarıyla bağlantısının kesilmesi,
II. Rumeli topraklarına Türklerin yerleştirilmeye başlaması,
III. Osmanlı'ya karşı bir Haçlı ittifakının oluşturulması

sonuçlarından hangileri Osmanlı'nın batı yönünde ilerleyişini kolaylaştırmıştır?

- A) Yalnız I B) I ve II C) I ve III
D) II ve III E) I, II ve III

6. Osmanlı padişahlarının aşağıdaki sorumluluklarından hangisinin "sosyal devlet" anlayışıyla bağdaştığı söylenebilir?

- A) Ülke topraklarını geliştirmek
B) Ülkede adaleti sağlamak
C) Halkın refah ve mutluluğunu sağlamak
D) Orduya komutanlık yapmak
E) Divan toplantılarına başkanlık yapmak

7. XVII. yy.da Osmanlı Devleti'nin duraklama dönemine girmesinde etkili olan,

- I. Deneyimsiz padişahların yetişmeye başlaması,
II. Osmanlı Devleti'nin çok uluslu olması,
III. Osmanlı'daki ticaret yollarının önemini kaybetmesi

durumlarından hangilerinin Yeniçağ Avrupası'nda görülen gelişmelerden kaynaklandığı söylenebilir?

- A) Yalnız I B) Yalnız II C) I ve II
D) I ve III E) II ve III

8. Aşağıdakilerden hangisi gerileme dönemi ıslahatlarını, duraklama dönemi ıslahatlarından ayıran en önemli özelliktir?

- A) Daha çok askeri alanda yapılması
B) ıslahatlara karşı tepkilerin yaşanması
C) Batının üstünlüğünün kabul edilmesi
D) Kalıcı bir özellik göstermemesi
E) Devlet adamlarının ömrüyle sınırlı olması

9. XX. yy. Osmanlı Devleti için padişahın otoritesinin kısıtlandığı bir yüzyıl olmuştur.

Bu yargıya örnek olarak gösterilebilecek,

- I. Senedi İttifak Antlaşması'nın yapılması,
II. Tanzimat Fermanı'nın ilanı,
III. I. Meşrutiyet'in ilanı

gelişmelerinden hangilerinde Fransız İhtilali'nin etkili olduğu söylenemez?

- A) Yalnız I B) I ve II C) I ve III
D) II ve III E) I, II ve III

10. Mondros Ateşkes Antlaşması sonrasında,

- I. İzmir'in İtalya yerine Yunanistan'a bırakılması,
II. İstanbul'un İngilizler tarafından işgal edilmesi,
III. İngiliz Muhipleri Cemiyeti adında Türkler tarafından Milli Mücadele karşıtı bir cemiyetin kurulması

gelişmelerinden hangileri Anadolu'daki işgalleri yöneten devletin İngiltere olduğunu kanıtlar?

- A) Yalnız I B) I ve II C) I ve III
D) II ve III E) I, II ve III

11. İstanbul'un işgal edilmesiyle İstanbul'da hareket etme şansının kalmadığını gören Mustafa Kemal, bir yandan Anadolu'ya geçmenin hesaplarını yaparken bir yandan da ulusal direnişi başlatmanın planlarını yapıyordu. Samsun'a çıktığı andan itibaren de bu mücadeleyi başlatan ve yöneten kişi oldu.

Buna göre,

- I. Milli Müdafaa Cemiyetleri'nin kurulması,
II. Kuvayi Milliye birliklerinin kurulması,
III. Havza Bildirisi'nin yayınlanması

gelişmelerinden hangileri Mustafa Kemal tarafından gerçekleştirilmiştir?

- A) Yalnız I B) Yalnız III C) I ve II
D) I ve III E) I, II ve III

12. Moskova Antlaşmasıyla TBMM'yi tanıyan ilk büyük devlet olan Sovyet-Rusya, TBMM'nin Fransa ile yaptığı Ankara Antlaşması'na tepki göstermişti. Sovyet-Rusya buna benzer bir tepkiyi daha sonra Lozan'da görüşülen boğazlar konusunda da gösterdi.

Bu durum Moskova Antlaşması'nın aşağıdaki maddelerinden hangisinin önemini yitirdiğini gösterir?

- A) Osmanlı Devleti ile Çarlık Rusya'sı arasındaki bütün antlaşmalar geçersiz sayılacak.
B) Sovyet Rusya Türk Devleti'nin bağımsızlığını tanıyacak.
C) İki devlet arasında ekonomik antlaşmalar yapılacaktır.
D) Sovyet Rusya kapitülasyonların kaldırıldığını kabul edecek.
E) İki taraftan birinin tanımadığı antlaşmayı diğeri de kabul etmeyecek.

13. Cumhuriyet döneminde gerçekleşen aşağıdaki olay veya uygulamalardan hangisi ülkedeki demokrasi anlayışının geliştirilmesine yöneliktir?

- A) Şeyh Sait isyanı nedeniyle Takrir-i Sükun ilan edilmesi
B) Terakkiperver Cumhuriyet Halk Fırkası'nın kapatılması
C) Yasama, yürütme ve yargı organlarının ayrılması
D) Serbest Cumhuriyet Halk Fırkası'nın rejim karşıtlarının eline geçince kendini feshetmesi
E) Atatürk'e İzmir suikasti girişiminde bulunulması

14. Cumhuriyet'in ilk yıllarında uğraşılan,

- I. Musul,
II. Hatay,
III. Adalar

sorunlarından hangileri Misak-ı Milli'ye uygun olarak çözülmüştür?

- A) Yalnız II B) Yalnız III C) I ve III
D) II ve III E) I, II ve III

15. Cumhuriyet döneminde görülen,

- I. Yerli malı kullanımının teşvik edilmesi,
II. Sümerbank'ın kurulması,
III. Ölçü ve tartı birimlerinin değiştirilmesi

uygulamaları devletçilik, devrimcilik ve milliyetçilik ilkeleriyle ilişkilendirildiğinde aşağıdakilerden hangisi doğru olur?

	Devletçilik	Devrimcilik	Milliyetçilik
A) I	III	II	
B) II	III	I	
C) III	I	II	
D) I	II	III	
E) II	I	III	

16. 1934-1939 yılları arasında uygulanan I. Beş Yıllık Kalkınma Planı'nda, dışarıdan alınan malların azaltılmasıyla,

- I. Dış ticaret açığının kapatılması,
II. Yerli üreticinin güçlenmesi,
III. Yabancı sermayenin ülke içine girişinin engellenmesi

durumlarından hangileri amaçlanmıştır?

- A) Yalnız I B) Yalnız II C) I ve II
D) I ve III E) I, II ve III

17. I. Deprem, sel gibi durumlarda halkın yardımına koşmak

- II. Savaş sırasında askeri destekte bulunmak
III. Savaş döneminde sivil halkın can ve mal güvenliğini korumak

Yukarıdakilerden hangileri sivil savunmanın görevleri arasında yer alır?

- A) Yalnız I B) Yalnız II C) I ve II
D) I ve III E) II ve III

18. Güneş'in tam karşısından aynı anda geçen X ve Y merkezleriyle ilgili,

- I. Kuzey kutup noktasına olan uzaklıkları birbirinden farklıdır.
II. Greenwich'e göre yerel saat farkları birbirinin aynıdır.
III. Tarih değiştirme çizgisine olan uzaklıkları birbirinin aynıdır.
IV. Güneş'in doğuş ve batış anı yıl boyunca birbirinin aynıdır.

yargılarından hangileri kesin olarak doğrudur?

- A) I ve II B) I ve III C) II ve III
D) II ve IV E) III ve IV

19. Topoğrafya haritalarında,

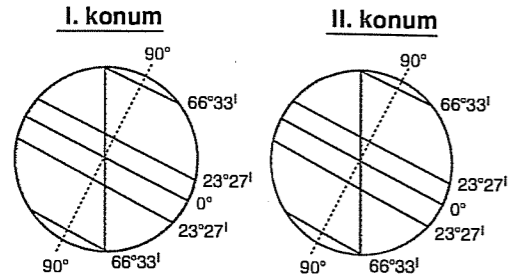
- I. eş yükselti eğrileri arasındaki mesafe,
II. eş yükselti eğri sayısı,
III. eş yükselti eğrileri arasındaki yükselti farkı
aşağıdakilerden hangisine bağlıdır?

I	II	III
A) Eğim	Yer yapısı	Yükselti
B) Yükselti	Eğim	Ölçek
C) Ölçek	Yükselti	Yüz ölçüm
D) Yükselti	Yüz ölçüm	Eğim
E) Eğim	Yükselti	Ölçek

20. Aşağıdakilerden hangisi, sel ve taşkın olaylarının meydana gelmesinde etkili olan faktörlerden biri değildir?

- A) Hatalı arazi kullanımı ve yanlış yer seçimi
B) Dinamik yüksek basınç merkezlerinin etkinliği
C) Yağış miktarı ve kar erimeleri
D) Yer yapısı ve yer şekli koşulları
E) Bitki örtüsü ve toprak yapısı

21. Yerküre belli bir süre içinde, I. şekilde gösterilen konumdayken II. şekilde gösterilen konuma gelmiştir.



Verilen bilgilere göre, Türkiye'de söz konusu süre içinde aşağıdakilerden hangisinin gözlemlenmesi söylenemez?

- A) Gece ve gündüz eşitliğinin
B) Gündüz süresinin sürekli kısılacağına
C) Güneş ışınlarının tutulma oranının sürekli azalacağına
D) Yaz ve sonbahar mevsimlerinin
E) Cisimlerin öğle vakti oluşan gölge uzunluklarının sürekli artacağına

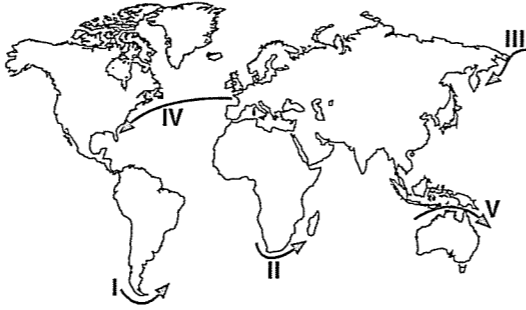
22.



Yukarıdaki haritada numaralanmış yörelerde etkili olan doğal afetler aşağıdakilerin hangisinde doğru verilmiştir?

I	II	III
A) Kasırga	Çiğ	Tektonik deprem
B) Heyelan	Erozyon	Tsunami
C) Tropikal siklon	Kuraklık	Çiğ
D) Kuraklık	Sel ve taşkın	Tektonik deprem
E) Kasırga	Çiğ	Orman yangını

23. Aşağıdaki haritada, beş farklı deniz yolunun güzergâhı verilmiştir.



Buna göre, numaralanmış deniz yolu güzergâhlarından hangisinin bulunduğu yörede deniz yolu trafiğinin ötekilerden daha yoğun olduğu söylenebilir?

- A) I B) II C) III D) IV E) V

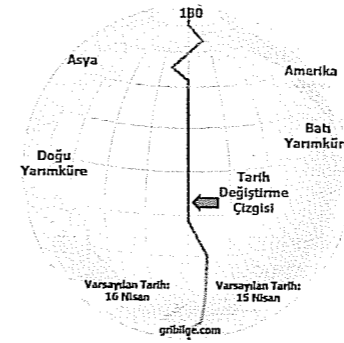
24.

- I. Ağıl
II. Mezra
III. Dam
IV. Çiftlik

Yukarıdakilerden hangileri geçici köy altı yerleşmelerindendir?

- A) I ve II B) I ve III C) II ve III
D) II ve IV E) III ve IV

25. Tarih değiştirme çizgisi 180° meridyeni olarak kabul edilmesine karşın aşağıdaki haritada görüldüğü gibi, bu çizgi 180° meridyenini tam olarak takip etmemekte, bazı yerlerde doğuya veya batıya doğru kaymaktadır.



Bu durum, aşağıdakilerden hangisiyle açıklanabilir?

- A) Yer'in kutuplardan basık olmasıyla
B) Yer şekillerinin bu yörelerde çeşitli olmasıyla
C) Bu yörelerdeki ada ülkelerinin uluslararası siyasi ve ekonomik ilişkilere göre tarih değiştirme çizgisini belirlemeleriyle
D) 180° doğu ve 180° batı meridyeninin aynı meridyen olmasıyla
E) Bu yörelerde denizlerin geniş alan kaplamasıyla

26. Sıcak ve soğuk karakterli hava kütleleri genel atmosfer dolaşımı içinde zaman zaman karşı karşıya gelir. Böyle alanlara cephe adı verilir. Karşılaşma alanları olan cephe, yeryüzünün bol yağış alan bölgelerindedir. Yeryüzündeki yağışların önemli bir bölümünü cephe yağışları oluşturur.

Buna göre,

- I. Amazon ve Kongo havzaları,
II. Batı Avrupa kıyıları,
III. Himalaya Dağları'nın güney yamaçları,
IV. Akdeniz Havzası

bölgelerinden hangilerinin yeryüzünün önemli cephe alanlarından olduğu söylenebilir?

- A) I ve II B) I ve III C) II ve III
D) II ve IV E) III ve IV

27. Aşağıda, beş farklı yörede, bazı doğal bitki örtülerinin yetiştiği yükselti aralıkları metre cinsinden verilmiştir.

I.	II.
Dağ çayırı 1000-2000	Dağ çayırı 2000-2500
İğne yapraklı orman 0-1000	İğne yapraklı orman 1200-2000
	Kanşık orman 0-1000
III.	IV.
Dağ çayırı 2000-3000	Dağ çayırı 3000-4500
İğne yapraklı orman 1500-2000	İğne yapraklı orman 2500-3000
Kanşık orman 500-1500	
V.	
Dağ çayırı 3500-5000	
İğne yapraklı orman 2000-3500	
Kanşık orman 1000-2000	

Buna göre, verilen yörelerin hangisinde güneş ışınlarının yere düşme açısının yıl içinde ötekilerden daha az değiştiği söylenebilir?

- A) I B) II C) III D) IV E) V

28.



Yukarıdaki haritada numaralanmış yörelerden hangisinde yer kabuğundaki hareketlilik diğerlerine göre daha azdır?

- A) I B) II C) III D) IV E) V

29. I. Turizm

II. Tarım

III. Sanayi

IV. Hayvancılık

Yukarıdaki ekonomik faaliyetlerden hangileri yerleşim alanlarında nüfusun mevsimden mevsime değişmesine neden olur?

- A) Yalnız I B) I ve IV C) II ve III
D) III ve IV E) I, II ve IV

30. Bağıl nem oranı azalan bir hava kütleyle ilgili,

I. Bulutluluk oranı azalır.

II. Doyma noktası artar.

III. Hava sıcaklığı azalır.

IV. Mutlak nemi artar.

yargılarından hangileri söylenebilir?

- A) I ve II B) I ve III C) II ve III
D) II ve IV E) III ve IV

31. Bir yük gemisi sırasıyla aşağıdaki rotayı izlemiştir.

- Kuzey Atlantik Yolu
- Afrika'nın batı kıyıları
- Ümit Burnu
- Malakka Boğazı

Buna göre, bu yük gemisinin aşağıdakilerden hangisinin etkili olduğu yörelerden geçtiği söylenemez?

- A) Kanarya akıntısının
B) Kuzeydoğu Alizelerin
C) Benguela akıntısının
D) Güneybatı Alizelerin
E) Kaliforniya akıntısının

32. Gündelik deneylerimiz bize sık sık başlıca bilgi kaynağımız olan duyularımızın yanıltığını göstermiştir. Yine insanlık tarih üzerine bilgimiz, geçmişte insanların bizim bugün apaçık yanlış olduğunu kabul ettiğimiz bir çok şeyi yanılmaz doğrular olarak kabul ettiklerini göstermiştir. Bilim tarihi, insanların geçmişte doğru diye kabul ettikleri birçok bilimsel görüşün bugün artık doğru olarak kabul edilmediklerini göstermektedir.

Bu örneklerle aşağıdaki iddialardan hangisi temellendirilebilir?

- A) Bilgilerimiz başkaları tarafından da kabul edilirse doğrudur.
B) Bilginin doğruluğundan emin olamayız.
C) Faydalı olan bilgi doğrudur.
D) Sadece olgular bilinebilir.
E) Doğa bilimlerinin verileri daha kesindir.

33. Farabi'ye göre en yüce, en gerçek varlık Tanrı'dır. Çünkü onun var olması için başka bir varlığa gereksinimi yoktur. Tanrı'dan sırayla akıl, ruh ve gökyüzü meydana gelmiştir. Bu meydana geliş zorunlu olarak birbirinden türer. Bu türeyen varlıklar içinde Tanrı'ya en yakın olanı akıldır.

Farabi'nin bu varlık anlayışı, varlık felsefesinde aşağıdaki kuramlardan hangisiyle temsil edilir?

- A) Materyalizm B) Pozitivizm C) İdealizm
D) Fenomenoloji E) Nihilizm

34. "Varlık madde midir, yoksa düşünce midir?" sorusuna "maddedir" diyenler, akıl, ruh ve Tanrı gibi kavramları açıklamakta zorluklarla karşılaşmışlardır. Aynı soruya düşüncedir diyenler ise, "yolda üzerine doğru gelen otobüsten ezilirim korkusuyula niye kaçıyorsun o zaman?" sorusunu cevaplamakta zorlanıyorlar.

Aşağıdaki varlık felsefesi kuramlarından hangisi yukarıdaki her iki eleştiriye de cevap vermek için geliştirilmiştir?

- A) Materyalizm B) Pozitivizm C) Düalizm
D) İdealizm E) Fenomenoloji

35. Saygınlığının artması için değil, sevap kazanmak için değil, yarın başkaları da sana yardım edebilir düşüncesiyle değil, sen hep yardımsever ol.

Bu ahlaki buyrukla aşağıdakilerden hangisi amaçlanmıştır?

- A) Toplumsal düzeni sağlamak
B) Gelişmiş bir toplum oluşturmak
C) Toplum tarafından sevilme
D) Kişilere hoşgörülü davranmak
E) Ahlaki kararlarda nesnel olmak

37. Platon

: "İnsan ile devlet arasında benzerlik vardır. Örneğin, insanı mikro organizma olarak alırsak, devlet de makro organizmadır. İnsanda bulunan yetilerin aynısı devlette de vardır."

Thomas Hobbes : "Doğal durumda her insan birbirinin kurdudur. Bundan olayı da doğal durumda insanın özgürlüğü ve yaşamı tehlikeydedir. İnsanlar bu durumdan kurtulmak için hak ve özgürlüklerini kendi iradeleriyle üçüncü bir varlığa devretmişlerdir."

Bu verilere göre aşağıdakilerden hangisi sadece Platon'un devlet anlayışına ait bir özelliktir?

- A) Karizmatik bir egemenliktir.
B) Bireylerin ihtiyaçları sonucu oluşmuş bir devlettir.
C) Doğal bir devlet anlayışıdır.
D) Geleneksel egemenliğe dayalı bir devlet anlayışıdır.
E) İnsanların çıkarlarını korumak için kurdukları bir devlettir.

36. Her sanatçı kendi duyularını ve izlenimlerini alır ve bunları kendi ruhunda bir senteze tutarak onları kendinde yaşar. Bu yaşantılarını yine kendine özgü bir şekilde ifade eder. Her ifade sanatçının kendi ruhunda yaşadığı özgün estetik yaşantıdır. Sanatçıya özgü bu yaşantılar çeşitli araçlarla dışlaştırılırlar. Bu estetik yaşantı bir sefere mahsus, biricik ve tek bir yaşantıdır. Tekrarı ve aynısı olmaz.

Bu açıklamaya dayanarak aşağıdaki sonuçlardan hangisine ulaşamayız?

- A) Sanat eseri tektir.
B) Ortak bir estetik yargı yoktur.
C) Sanat doğanın bir taklididir.
D) Beğeni yargılarımız öznedir.
E) Sanat, sanatçının duygularının bir yansımasıdır.

38. Aşağıdakilerden hangisi sivil toplum örgütlerinin işlevleri arasında değildir?

- A) Bireysel hak ve özgürlükleri devletin tek taraflı baskısından koruyarak güvence altına almak
B) Birey ve grupların istek ve sorunlarını dile getirmek
C) Devletin eşitlik ve demokrasi yolundan çıkmasını önlemek
D) Hükümetlerin uygulamalarına destek vermek ve savunmak
E) İktidar karşısında kamu oyu oluşturmak

39. İdeal bir toplumsal düzenin olamayacağını savunan sofistler ve nihilistler, aşağıdakilerden hangisini bu düşüncelerinin nedeni olarak gösteremezler?

- A) Hiçbir birey diğerinin aynısı değildir ve ihtiyaçları da birbirinden farklıdır.
- B) Toplumda her şey sürekli olarak değişmektedir.
- C) Devlet otoritesi insan doğasına aykırıdır.
- D) Her toplumun koşulları diğerinden farklıdır ve bu koşullar sürekli olarak değişir.
- E) Doğanın kuralları toplumun da kurallarıdır, bundan dolayı devlet doğanın bir devamıdır.

40. Aşağıdaki yargılardan hangisi bilimin değeri ile ilgilidir?

- A) Her bilimsel çalışma bir gözlemlerle başlar.
- B) Bilim sayesinde insan doğayı kontrol altına alarak hayatını kolaylaştırmış, ancak çevre kirliliği gibi bir tehditle de karşı karşıyadır.
- C) Bilimsel gelişme bilimsel çalışmaların birikerek ilerlemesi şeklinde değil, bir paradigmadan diğerine geçme şeklindedir.
- D) Her bilimsel kuram yanlışlanıncaya kadar doğruluğunu korur.
- E) Bilimsel yöntem betimleme ve açıklama aşamalarından oluşur.

Sosyal Bilimler
Denemeleri

Deneme 25

1	D	11	B	21	C	31	E
2	C	12	E	22	D	32	B
3	E	13	C	23	D	33	C
4	C	14	A	24	B	34	C
5	B	15	B	25	C	35	E
6	C	16	C	26	D	36	C
7	E	17	D	27	E	37	C
8	C	18	A	28	D	38	D
9	A	19	E	29	E	39	E
10	B	20	B	30	A	40	B