

TARİH TESTİ

1. Bu testte 44 soru vardır. Bu test için verilen süre 65 dakikadır.
2. Cevaplarınızı, cevap kâğıdının Tarih Testi için ayrılan kısmına işaretleyiniz.

1. I. Atlı göçebe yaşam sürdürmektedir.
II. Halkın çoğunluğu tarım yapmaktadır.
III. Sanat eserleri taşınabilir malzemeden yapılmıştır.

Yukarıdakilerden hangileri Türk bozkır kültürünün özelliklerindedir?

- A) Yalnız I B) Yalnız II C) Yalnız III
D) I ve II E) I ve III

2. Mete Han, Çin'i ele geçirip Çin topraklarına sahip olacak kuvvetinin olmasına rağmen buraları alıp yerleşmesine karşı çıkmıştır.

Mete Han'ın bu politikasının temel nedeni aşağıdakilerden hangisidir?

- A) Yayılmacı düşünceye sahip olması
B) Milletin ulusal benliğini korumak istemesi
C) İpek Yolu ticaretini elinde tutmak istemesi
D) Tarımsal hayata geçmek istemesi
E) Sınırlarını genişletmek istemesi

3. Aşağıdaki devlet ikililerinden hangileri kendilerine özgü alfabe kullanmışlardır?

- A) Köktürkler – Uygurlar
B) Avarlar – Hazarlar
C) Türgişler – Peçenekler
D) Osmanlılar – Büyük Selçuklular
E) Türkiye Cumhuriyeti – Kuzey Kıbrıs Türk Devleti

4. Türk devletlerinin başlangıcından I. Murat dönemine kadar 'ülke hanedanın ortak malıdır' anlayışı devlet erkinde egemen olmuştur.

Aşağıdakilerden hangisi bu uygulamanın sonuçları arasında gösterilemez?

- A) Kardeşler arası siyasi çekişmelerin yaşanması
B) Türk devletlerinin kısa sürede yıkılmaları
C) Güçlü merkezî devletlerin kurulmaması
D) Düşman devletlerin iç işlerine karışması
E) Toplumda sosyal tabakalaşmaların yaşanması

5. Aşağıdaki Türk Devletlerinin hangisinde İran (Fars) kültürünün etkisi olmamıştır?

- A) Gazneliler
B) Büyük Selçuklular
C) Osmanlılar
D) Karahanlılar
E) Türkiye Selçukluları

6. Türk İslam devletlerinde;

- I. İktâ
II. Vakıf
III. Mülk

arazilerinden hangileri çocuklarına miras olarak bırakılabilir ve alınıp satılabilir?

- A) Yalnız I B) Yalnız II C) Yalnız III
D) I ve II E) I, II ve III

7. • Türk dilinin zenginliğini ortaya koymak,
• Araplara Türkçe öğretmek,
• İlk Türkçe Ansiklopedik eser

Yukarıda verilen özellikler aşağıdakilerden hangisine aittir?

- A) Kutadgu Bilig
B) Siyasetname
C) Divan - ı Hikmet
D) Şehname
E) Divan - ı Lugati't Türk

8. Tuğrul ve Çağrı Beylerin ilk dönemlerde Anadolu'ya ordu göndermek yerine Türkmen akınlarına ağırlık vermelerinin nedeni aşağıdakilerden hangisidir?

- A) Bizans'ın Anadolu'daki gücünün sarsılmak istenmesi
B) Anadolu'da Türk İslam nüfusunun artırılmak istenmesi
C) Haçlı Seferleri'nin başlamasının engellenmek istenmesi
D) Abbasi halifesinin desteğinin sağlanmak istenmesi
E) İslam dünyasının koruyuculuğunun yapılması

9. Karahanlılar Türk töresinin bir gereği olarak doğu ve batı şeklinde ikiye ayrılarak iki hükümdar tarafından yönetilmeye başlandılar.

Buna göre, Karahanlılarda,

- I. Teokratik,
II. Cumhuriyet,
III. Federatif

yönetim şekillerinden hangisi uygulanmıştır?

- A) Yalnız I B) Yalnız III C) I ve II
D) II ve III E) I, II ve III

10. Aşağıdakilerden hangisi Türk İslam devletleri hükümdarlarının halka karşı görevlerinden değildir?

- A) Ekonomik istikrarı sağlamak
B) Adaleti sağlamak
C) Huzur ve güveni sağlamak
D) Hazine hakkı olan vergiyi ödemek
E) Zorbalık ve kargaşaya engel olmak

11. Sultan Alp Arslan,

- Komutanlarına feth edilen arazi feth edenindir.
• Alınan topraklarda egemenlik hakkınız vardır.

böyle bir uygulamanın temel amacı aşağıdakilerden hangisidir?

- A) Türk devletlerinin sayısını çoğaltmak
B) Ülkelerin fethini kolaylaştırmak
C) Sürekli bir askeri güç oluşturmak
D) İslamiyetin koruyuculuğunu üstlenmek
E) Güçlerini artıran komutanları merkezden uzaklaştırmak

12. Müslümanların kutsal kentleri olan Mekke ve Medine aşağıdaki Türk devletlerinden hangilerinin döneminde Türklerin egemenliğine girmemiştir?

- A) Karahanlılar B) İhşidiler
C) Memlükler D) Osmanlılar
E) Selçuklular

13. I. Pasinler Savaşı
II. Malazgirt Savaşı
III. Miryokefalon Savaşı

Yukarıdaki Savaşlar Anadolu için ilk yapılan, Anadolu'da kalıcı olmak ve Anadolu'nun kapılarının açılması için yapılan savaşlardır.

Bu durum, aşağıdakilerden hangisinde doğru olarak verilmiştir?

Anadolu için ilk yapılan	Anadolu'da kalıcılık	Anadolu'nun kapılarının açılması
A) I	II	III
B) II	III	I
C) I	III	II
D) III	I	II
E) II	I	III

14. I. Hanedanın tüm erkek üyeleri
II. Padişahın oğulları
III. En yaşlı ve olgun üyesi

Osmanlı'da hükümdarın belirlenme şekilleri yukarıda verilenlerden hangi sıralamayla uygulamaya konmuştur?

- A) III, II, I
D) I, II, III
- B) II, III, I
E) I, III, II
- C) III, I, II

15. Osmanlı hükümdarları ilk kez hangi padişah zamanında halifelik görevini üstlenmiştir?

- A) Fatih Sultan Mehmet
B) Yıldırım Bayezit
C) Kanuni Sultan Süleyman
D) Yavuz Sultan Selim
E) II. Mahmut

16. Osmanlı Devleti'nde Orhan Bey tarafından kurulan II. Mahmut tarafından kaldırılan teşkilat aşağıdakilerden hangisidir?

- A) Hendesehane
C) Enderun Mektebi
E) Divanihümayun
- B) Yeniçeri Ocağı
D) Humbaracı Ocağı

17. 1699'da imzalanan Karlofça Antlaşması'nın,
I. Antlaşmanın Avusturya'nın garantisinde olması,
II. Osmanlı Devleti'nin bu antlaşma ile ilk defa büyük oranda toprak kaybetmesi,
III. Antlaşma ile Osmanlı Devleti'ne karşı Avrupa'da Kutsal İttifak'ın kurulması

özelliklerinden hangilerinin Osmanlı Devleti'nin Gerileme sürecinin başlangıcı olarak kabul edilmesinde etkili olduğu savunulabilir?

- A) Yalnız I
D) I ve II
- B) Yalnız II
E) II ve III
- C) Yalnız III

18. Divan üyeleriyle ilgili aşağıdaki eşleştirmelerden hangisi yanlış verilmiştir?

- A) **Sadrızam:** Padişahın en yetkili görevlidir.
B) **Defterdar:** Maliyeden ve devletin gelir giderlerinden sorumludur.
C) **Kazasker:** Donanma ve askeri konularda görüş bildirir.
D) **Reisülküttap:** Dış devletler ve devletin bürokrasi işlerini takip eder.
E) **Şehülislam:** Divan'da alınan kararların İslam dinine uygunluğu konusunda fetva verir.

19. Osmanlı toplumunda tüccar ve zanaatkarların oluşturduğu şehirli nüfusun sayısı tarım ve hayvancılıkla uğraşarak köylerde yaşayan halktan her zaman düşük olmuştur.

Buna göre,

- I. ülke ekonomisinin tarıma dayanması,
II. çarpık bir kentleşmenin yaşanması,
III. Osmanlı Devleti'nde sanayileşmenin yavaş olması

durumlarından hangileri bu gelişmenin nedenlerinden değildir?

- A) Yalnız I
D) I ve II
- B) Yalnız II
E) II ve III
- C) Yalnız III

20. Osmanlı Devleti'ne XV. yüzyılın sonundan itibaren getirilen matbaa, azınlıklar tarafından kullanılmıştır. Müslüman halk ise matbaaya uzak davranmıştır.

Bu duruma neden olarak aşağıdakilerden hangisi gösterilebilir?

- A) Okuma-yazmanın düşük olması
B) İslam dininin teknik gelişmeye karşı olması
C) Müslüman halkın ekonomik gücünün yetersiz olması
D) Ulema ve hattatların çıkarlarının zedelenmesi
E) Matbaa harfi olan Latince'nin bilinmemesi

21. Avrupalılar Amerika kıtasının keşfinden sonra koloniler kurmuşlar ve deniz ticaretini canlandırmışlardır.

Bu bilgiler doğrultusunda koloniciliğin yaygınlaşması,

- I. hammadde kaynaklarının kullanılması,
II. ekonomik faaliyetlerin gelişmesi,
III. nüfusun azalması

durumlarından hangileri üzerinde etkili olmuştur?

- A) Yalnız I
D) I ve II
- B) Yalnız II
E) II ve III
- C) Yalnız III

22. Osmanlılar Viyana'yı 1683 yılında ikinci kez kuşatmışlar ancak alamamışlardır.

Aşağıdakilerden hangisi bu kuşatmanın sonuçlarından biri değildir?

- A) Kutsal İttifak Savaşları'nın başlaması
B) Padolya ve Ukrayna arazisinin elden çıkması
C) Celali İsyanları'nın çıkması
D) Büyük oranda toprak kaybının yaşanması
E) Osmanlı'nın başarısız olması

23. Osmanlı Devleti'nde XVIII. yüzyıldan sonra görülen bazı gelişmeler şunlardır;

- I. Avrupa'da sürekli elçiliklerin açılması,
II. Avrupa'ya öğrenci gönderilmesi,
III. Avrupa'dan askeri ve teknik alanlarda uzmanların getirilmesi

Bu gelişmelerden hangileri Avrupa devletleriyle diplomatik ilişkilere eskisinden daha fazla önem verildiğinin kanıtı sayılabilir?

- A) Yalnız I
D) I ve II
- B) Yalnız II
E) II ve III
- C) Yalnız III

24. 1877 Ayastefanos Antlaşması'nda yer alan,

- I. Büyük Bulgar krallığı kurulacak,
II. Kars, Ardahan, Batum ve Doğu Beyazıt Rusya'ya bırakılacak,
III. Sırbistan, Karadağ ve Romanya bağımsız olacaktır.

maddelerinden hangileri panslavizm politikasının başarılı olduğunun kanıtıdır?

- A) Yalnız I
D) I ve III
- B) Yalnız II
E) I, II ve III
- C) Yalnız III

25. Avrupa Devletlerinin Osmanlı üzerindeki çıkarları ilk kez hangi olay ile çatışmaya dönüşmüştür?

- A) I. Balkan Savaşı
B) Kavalalı Mehmet Ali Paşa İsyanı
C) Napolyon'un Mısır'ı işgali
D) I. Dünya Savaşı
E) Mora İsyanı

26. Osmanlı Devleti'nde Divan yönetiminde en önemli kurum durumundaydı. Devlet güvenliği ile ilgili kararlar burada alınır ve büyük davalara bakılırdı. Bu bilgilere göre, aşağıdakilerden hangisinin divanda bulunması yargı kurumu olduğunu kanıtlar?

- A) Kazasker
C) Nişancı
E) Kaptanıderya
- B) Defterdar
D) Reisülküttap

27. Aşağıdakilerden hangisi, Osmanlı Devleti'nde dini hoşgörüyü olduğuna kanıt olarak gösterilebilir?

- A) Örfi hukuk sisteminin uygulanması
- B) Kadıların halkla fazla kaynaşmaması
- C) Herkesin özgürce inancını yaşaması
- D) Haraç vergisi adında vergi alınması
- E) Devşirmelerin yönetimde yer alması

28. Osmanlı Devleti'nin ilk dönemlerinde gerektiği gibi eğitim ve bilimsel çalışmalara önem vermemesinde aşağıdakilerden hangisinin etkili olduğu söylenebilir?

- A) Yabancı kültürlerden etkilenilmesi
- B) Yeni eyaletlerin kurulması
- C) Devlet teşkilatının tamamlanmaması
- D) Askeri yapıya ve fetihlere daha çok önem verilmesi
- E) Ekonomik gelişmelerin artması

29. Lale Dönemi'nde köşk, yalı ve saraylar gibi yapıların inşası,

- I. askeri mimarinin,
- II. sivil-sosyal mimarinin,
- III. dini mimarinin

verilen mimari türlerinden hangilerinin geliştiğinin kanıtı sayılabilir?

- A) Yalnız I
- B) Yalnız II
- C) Yalnız III
- D) I ve II
- E) II ve III

30. Osmanlı Devleti'nden 1878 Berlin Antlaşması ile ayrılarak tam bağımsızlıklarını kazanan devletler aşağıdakilerin hangisinde bir arada verilmiştir?

- A) Karadağ, Sırbistan, Romanya
- B) Karadağ, Bosna-Hersek, Yunanistan
- C) Bulgaristan, Sırbistan, Karadağ
- D) Arnavutluk, Makedonya, Romanya
- E) Sırbistan, Yunanistan, Bosna-Hersek

31. Çanakkale Savaşı'nın nedenlerinden birisi de ekonomik durumu bozulan Rusya'ya, İngiltere ve Fransa'nın yardım ulaştırmak istemeleriydi, ancak başarı olamadılar.

Bu durumun aşağıdakilerden hangisine yol açtığı savunulabilir?

- A) Anadolu topraklarının tamamen tahrip edilmesine
- B) Rusya'nın savaştan çekilmesine
- C) Boğazların İtilaf devletlerinin işgaline uğramasına
- D) Arnavutluğun Osmanlı Devleti'nden ayrılmasına
- E) Ege adalarının Yunanistan'ın eline geçmesine

32. Tarihsel süreç sürekli. Bu süreç içinde hiçbir dönem birdenbire başlamaz. I. Dünya Savaşı da kendinden önceki süreçlerden etkilenmiştir.

Diyen bir tarihçi bu görüşüne aşağıdakilerden hangisini kanıt olarak gösterebilir?

- A) Fransız İhtilali ve İhtilal Savaşları'nın sonuçlarını
- B) İkinci Dünya Savaşı sonrası yaşanan Soğuk Savaş dönemini
- C) 1929 Dünya ekonomik bunalımının sonuçlarını
- D) 1917 Devrimi ile Sovyetler Birliği'nin kurulmasını
- E) Yumuşama döneminin sonuçlarını

33. Birinci Dünya Savaşı'na, "Büyük Savaş" denmesine,

- I. uzun sürmesi,
- II. çok sayıda devletin katılması,
- III. topyekün savaş olması

durumlarından hangileri neden olmuştur?

- A) Yalnız I
- B) Yalnız II
- C) Yalnız III
- D) I ve II
- E) I, II ve III

- 34. I. Almanya
- II. İtalya
- III. SSCB

Yukarıdaki devletlerden hangileri İkinci Dünya Savaşı'na katılan Mihver Devletler grubunda yer almamıştır?

- A) Yalnız I
- B) Yalnız II
- C) Yalnız III
- D) I ve II
- E) II ve III

35. Aşağıdakilerden hangisi II. Dünya Savaşı öncesi Almanya'nın üzerinde bulunduğu toprakların Alman ırkına yeterli gelmeyeceğini düşünen Hitlerin Almanya'nın yayılmacı politikasına gerekçe göstererek uygulamak istediği politikasıdır?

- A) Hayat Sahası
- B) Meiji Restorasyonu
- C) Maginot Hattı
- D) 1815 Viyana Restorasyonu
- E) Bizim Akdeniz

36. Alman Fizikçi Albert Einstein kırk kadar Yahudi bilim adamının Türkiye'ye sığınması için Atatürk'e mektupla ricada bulunmuştur.

Buna göre, aşağıdakilerden hangisi söylenebilir?

- A) Türkiye ırkçı bir devlettir.
- B) Türkiye hoşgörülü bir devlettir.
- C) Türkiye'nin mülteci kabul etmesi istenmiştir.
- D) Türkiye barışçı bir devlettir.
- E) Türkiye'de bilimsel çalışma vardır.

37. İkinci Dünya Savaşı sonrası;

- I. ABD
- II. İngiltere
- III. Fransa
- IV. Sovyetler Birliği

devletlerinden hangileri dünya politikasına yön veren iki büyük devlet olarak ortaya çıkmıştır?

- A) I ve II
- B) II ve III
- C) III ve IV
- D) II ve IV
- E) I ve IV

38. II. Dünya Savaşı'nın liderleri;

- İtalya'da Mussoloni
- Almanya'da Hitler
- Rusya'da Stalin

ortak yönleri aşağıdakilerden hangisidir?

- A) Diktatör olmaları
- B) Demokrasiyi savunmaları
- C) Teokratik rejim yanlısı olmaları
- D) Saltanatçı olmaları
- E) Mutlak Monarşist olmaları

39. II. Dünya Savaşı'ndan sonra savaştan galip çıkmış ABD ve Sovyet Rusya ile bu iki devletin çevresinde kümelenmiş küçük devletler arasındaki silahsız çatışmanın adı aşağıdakilerden hangisidir?

- A) Sıcak Savaş
- B) Topyekün Seferberlik
- C) Olağanüstü Hal
- D) Soğuk Savaş
- E) Psikolojik Savaş

40. Salt II. Antlaşması, 18 Haziran 1979'da Viyana'da Amerikan Başkanı Charter ve Sovyet lideri Brejnev arasında imzalandı.

Bu antlaşmanın önemi aşağıdakilerden hangisidir?

- A) Statejik ve uzun menzilli silahların sınırlandırılması
- B) ABD ve Sovyetlerin Soğuk Savaşı bitirmesi
- C) Nükleer silah yapımını yasaklaması
- D) Çin'in Kamboçya'yı işgalinin önlenmesi
- E) Kore Savaşı'nın durdurulması

41. 1950'li yılların ortasından itibaren nükleer silaha sahip olan ABD ve Sovyetler Birliği arasında doğrudan bir çatışma olmamıştır. Ancak nükleer silahların artması "dehşet dengesi"ni ortaya çıkarmıştır.

Diyen bir tarihçiye göre hangi dönemin başlamasına neden olmuştur?

- A) Soğuk Savaş Dönemi
- B) Yumuşama Dönemi
- C) Sıcak Savaş Dönemi
- D) Nükleer Silahlanmadan vazgeçilmesi dönemi
- E) Küresel Isınma Dönemi

42. Yüzölçüm olarak Orta Asya Türk Cumhuriyetlerinin **en büyüğü** aşağıdakilerden hangisidir?

- A) Özbekistan
- B) Kazakistan
- C) Kırgızistan
- D) Türkmenistan
- E) Azerbaycan

43. Aşağıdakilerden hangisi TİKA'nın yürüttüğü projelerin amaçlarından biri **değildir**?

- A) Ortak tarih ve kültür varlıklarının korunması
- B) Türkçe'nin kullanımının yaygınlaştırılması
- C) Türk soylu ülkelere teknik yardımların yapılması
- D) Türk soylu ülkelerin bağımsız devlet yapılarının güçlendirilmesi
- E) Türk soylu ülkelerin dış politikalarının belirlenmesi

44. Sovyetler Birliği Lideri Gorbaçov'un glasnost ve perestroyka kavramları yeni ekonomik sistemin ilkele-ridir.

Gorbaçov'un bu sistemi benimsemesinin temel nedeni aşağıdakilerden hangisidir?

- A) Komünizme yeni bir yapılanma getirmek
- B) Tamamen kapitalist sisteme geçmek
- C) Sovyetler'de ayrılıkçı eylemler çıkartmak
- D) Yıldız Savaşları'na son vermek
- E) Amerika ile silah yarışını bırakmak

TARİH TESTİ

1. Bu testte 44 soru vardır. Bu test için verilen süre 65 dakikadır.
2. Cevaplarınızı, cevap kâğıdının Tarih Testi için ayrılan kısmına işaretleyiniz.

1. Asya ve Avrupa'nın siyasi ve kültürel yapısının değişmesinde,

- I. Hunlar
- II. Avarlar
- III. Türgişler

devletlerinden hangileri etkili olmamıştır?

- A) Yalnız I B) Yalnız II C) Yalnız III
D) I ve II E) II ve III

2. Baykal Gölü kıyılarında yapılan kazılarda Hunlar Dönemine ait,

- I. Sulama Kanalları
- II. Tahıl ambarları
- III. Saban demirleri ve orakları

buluntularından hangileri doğrudan tarımsal faaliyetler yapıldığını gösterir?

- A) Yalnız I B) Yalnız II C) Yalnız III
D) I ve II E) I ve III

3. • I. Köktürk devleti'nin ilk kurucusudur.
• Döneminde Tölesler itaat altına alınmıştır.
• Çinle siyasi ve ekonomik ilişkiler kurmuştur.

Yukarıda bazı özellikleri verilen Türk Hakanı aşağıdakilerden hangisidir?

- A) Bumin Kağan B) Kol – lo Kağan
C) Mukan Kağan D) Tapo Kağan
E) İşbara Kağan

4. Aşağıdaki şehirlerden hangisinde Türk - İslam kültür ve medeniyetinin izine rastlanmaz?

- A) Semerkan B) Hive C) Kahire
D) Kurtuba E) Merv

5. Aşağıdakilerden hangisi Büyük Selçuklulara bağlı Atabeyliklerden biri değildir?

- A) Salgurlular
B) İldenizoğulları
C) Beg - Teginoğulları
D) Zengiler
E) Türkiye Selçukluları

6. Büyük Selçuklularda hukuk şeri ve örfi olmak üzere ikiye ayrılırdı.

Şeri ve örfi hukukun temeli aşağıdakilerden hangisidir?

Şeri Hukuk	Örfi Hukuk
A) Eski Türk gelenekleri	İslam Hukuku
B) İslam Hukuku	Eski Türk gelenekleri
C) Bizans Hukuku	Roma Hukuku
D) Klitenes Kanunları	Hammurabi Kanunları
E) İslam Tarihi	Türk Tarihi

7. Aşağıdaki beyliklerden hangisi 1243 Köseadağ Savaşı'ndan sonra kurulmamıştır?

- A) Karamanoğulları
B) Osmanoğulları
C) Danişmentliler
D) Eratna Beyliği
E) Teke Beyliği

8. Selçuklular Dönemi'nde,

- Celali takvimi hazırlandı.
- Matematik ve astronomi alanında çalışmalar yapıldı.
- Rasathaneler kurularak gök cisimleri incelendi.

Aşağıdaki olaylardan hangisinin sonucunda bu çalışmalardan tam olarak yararlanılmamıştır?

- A) Haçlı Seferleri
- B) Batini Faaliyetleri
- C) Yüzyıl Savaşları
- D) Dandanakan Savaşı
- E) Malazgirt Savaşı

9. Türk İslam Devleti'nde gelirleri ile ilmi ve sosyal amaçlı kurumların kurulması ve yaşatılması amacıyla ayrılan topraklar aşağıdakilerden hangisidir?

- A) Has arazi
- B) İktâ arazi
- C) Mülk arazi
- D) Vakıf arazi
- E) Mukataa arazi

10. Aşağıdaki Haçlı Seferleri'nden hangisi Haçlılar tarafından Bizans üzerine yapılarak İstanbul'da Latin devletinin kurulmasına neden olmuştur?

- A) I. Haçlı Seferi
- B) II. Haçlı Seferi
- C) III. Haçlı Seferi
- D) IV. Haçlı Seferi
- E) V. Haçlı Seferi

11. Aşağıdaki olaylardan hangisi Moğollarla Harzemşahların arasının açılarak Harzemşah ülkesinin Moğol istilasına uğramasına neden olmuştur?

- A) Yassı Çimen Savaşı
- B) Otrar Faciası
- C) Celaleddin Harzemşah'ın Ahlatı kuşatması
- D) Celaleddin Harzemşah'ın Erzurum Meliki Cihan Şahla ittifak yapması
- E) Harzemşahların Azerbaycan'ı ele geçirmesi

- 12. I. Nizamiye medreselerini kurmaları
- II. Arapça ve Farsça kullanmaları
- III. Anıt mezarlar yapmaları

Yukarıdaki gelişmelerden hangileri Selçuklular da eğitim ve kültüre doğrudan önem verildiğini gösterir?

- A) Yalnız I
- B) Yalnız II
- C) Yalnız III
- D) I ve II
- E) II ve III

13. Mısır'da Tolunoğulları ve İhşidiler gibi Türk İslam devletlerinin kurulmasında aşağıdakilerden hangisinin etkili olduğu söylenebilir?

- A) Mısır halkının karışık olması
- B) Mısır ekonomisinin zayıf olması
- C) Mısır'ın kendine özgü kültürünün olması
- D) Abbasilerin merkezi otoritelerinin zayıf olması
- E) Mısır'ın istilalara kapalı olması

14. Osmanlı eyalet sistemi salyaneli ve salyanesiz diye ikiye ayrılmıştır.

Aşağıdakilerden hangisi salyanesiz eyaletlerden biridir?

- A) Mısır
- B) Habeş
- C) Dulkadir
- D) Bağdat
- E) Trablusgarp

15. Bilginin deney ve gözleme dayalı olduğunu ortaya koyan bilim adamı aşağıdakilerden hangisidir?

- A) Copernicus
- B) Newton
- C) Kepler
- D) Harvey
- E) Galileo

16. Yavuz Sultan Selim İran Seferi sırasında Dulkadir Beyi Alaüddevle'nin askeri yardımda bulunmasını istemiş Alaüddevle bu isteği geri çevirmiştir.

Bunun üzerine Yavuz Sultan Selim İran Seferi dönüşü aşağıdaki savaşlardan hangisiyle Dulkadir Beyliğine son vermiştir?

- A) Çaldıran
- B) Mercidabık
- C) Turnadağı
- D) Ridaniye
- E) Kasr-ı Şirin

17. Osmanlı Devleti'nde vergiler,

- Örfi
- Şeri

olmak üzere ikiye ayrılmıştır.

Aşağıdakilerden hangisi örfi vergilerden değildir?

- A) Resmi çift
- B) Çift bozan
- C) Adet-i Ağnam
- D) Cerime
- E) Aşar (Öşür)

18. Aşağıdakilerden hangileri Mohaç Savaşı'nın sonuçlarından biri değildir?

- A) Macaristan Osmanlı baskısından kurtuldu.
- B) Fransa, Almanya'nın baskısından kurtuldu.
- C) Orta Avrupa'da Osmanlı egemenliği güçlendi.
- D) Belgrad feth edildi.
- E) Avusturya ile Osmanlı Devleti komşu oldu.

19. 1535 Kapitülasyonlarının bazı maddeleri,

- I. Fransa Osmanlı sınırları içerisindeki vatandaşlarının hakuki sorunları ile ilgilenecek,
- II. Fransız tüccarlar diğer ülke tüccarlarından daha az gümrük vergisi ödeyecek,
- III. Fransa'ya verilen ayrıcalıkların aynısı Fransa tarafından Osmanlı vatandaşlarına da tanınacak,
- IV. Bu kapitülasyonlar Kanuni ve Fransuva'nın sağlığında geçerli olacak

Bu maddelerden hangileri kapitülasyonların ilerde oluşabilecek zararlarını önlemeye yöneliktir?

- A) Yalnız I
- B) Yalnız III
- C) Yalnız IV
- D) I ve II
- E) II ve IV

20. XVII. yüzyılda Osmanlı Devleti'nde bozulan devlet kurumlarının bozulma nedenleri ve çözüm yollarıyla ilgili raporu ilk defa aşağıdaki devlet adamlarından hangisi hazırlamıştır?

- A) Tarhuncu Ahmet Paşa
- B) Mezomorto Hüseyin Paşa
- C) Öküz Mehmet Paşa
- D) Koçi Bey
- E) Tiryaki Hasan Paşa

21. 1718 - 1730 yılları arasında yaşanan Lale Devri aşağıdaki isyanlardan hangisiyle son bulmuştur?

- A) Canberdi Gazali İsyanı
- B) Bozoklu Celal İsyanı
- C) Patrona Halil İsyanı
- D) Kabakçı Mustafa İsyanı
- E) 31 Mart İsyanı

22. Aşağıdakilerden hangisi Sanayi devriminin ilk kez İngiltere'de ortaya çıkmasının nedenlerinden değildir?

- A) İngiltere'de merkezi otoritenin sağlanması
- B) Büyük sömürgelere sahip olması
- C) Hammadde ve pazarının bol olması
- D) Demir ve kömür madenleri bakımından zengin olması
- E) Mutlak monarşiyle yönetiliyor olması

- 23. I. Kaza
- II. Yurtluk
- III. Ocaklık

Yukarıdakilerden hangileri Osmanlı Devleti'nde kadılar tarafından yönetilen yönetim birimidir?

- A) Yalnız I
- B) Yalnız II
- C) Yalnız III
- D) I ve II
- E) I, II ve III

- 24. • Siham - ı Kaza
- Türkçe Divan
- Farsça Divan
- Tuhfetül Uşşak

Yukarıdaki eserlerin sahibi olan Osmanlı Devleti'nin ünlü şairi aşağıdakilerden hangisidir?

- A) Karacaoğlan
- B) Köroğlu
- C) Nefi
- D) Nabi
- E) İtri Burhanizade

25. Osmanlı Devleti'nde, padişah sarayında toplanan bugünkü Bakanlar Kurulu gibi memleket işlerini görüşen, müracaat dilekçelerini de kabul ederek bir çeşit yüksek mahmeke işlevini gören kurum aşağıdakilerden hangisidir?

- A) Harem
B) Divanühümayun
C) Enderun
D) Reisülküttap
E) Beylerbeyi

26. II. Osman'ın Yeniçeri Ocağını kaldırmak istemesinde;

- I. Yeniçerilerin yönetimin kararlarına zaman zaman direnmesi,
II. Padişah otoritesinin sağlanmak istenmesi
III. Yeni bir ordunun kurulması ihtiyacının anlaşılması

gibi durumlardan hangilerinin etkili olduğu savunulabilir?

- A) Yalnız I
B) Yalnız II
C) Yalnız III
D) I ve II
E) I, II ve III

27. Aşağıdakilerden hangisi XVII. yüzyılda yapılan ıslahatların özelliklerindedir?

- A) Batılılaşmaya yönelik olması
B) Her alanda yapılması
C) Azınlık isyanlarını durdurmayı amaçlaması
D) Baskı ve şiddete dayalı olması
E) Devlet politikası haline getirilmesi

28. Aşağıdakilerden hangisi 1711 Prut Antlaşması'nın maddelerinden değildir?

- A) İsveç kralı serbestçe ülkesine gidebilecektir.
B) Rusya Lehistan'ın işlerine karışmayacaktır.
C) Rusya İstanbul'da elçi bulundurmazacaktır.
D) Kuşatma altındaki Rus ordusu serbest bırakılacaktır.
E) Osmanlı Devleti Lale Devri'ni başlatacaktır.

29. Aşağıdakilerden hangisi İran hükümdarlarından Nadir Şah'ın ölümü üzere ortaya çıkan Azerbaycan Hanlıklarından biri değildir?

- A) Karabağ Hanlığı
B) Şeki Hanlığı
C) Derbent Hanlığı
D) Kırım Hanlığı
E) İlisu Hanlığı

30. Aşağıdakilerden hangisi 1833'te imzalanan Hünkar İskelesi Antlaşması'nın ortaya çıkardığı bir durum değildir?

- A) Boğazlar sorunu ortaya çıkmıştır.
B) İngiltere ve Fransa'nın çıkarları zedelenmiştir.
C) Osmanlı - Rus ittifakı kurulmuştur.
D) Rusya sıcak denizlere inme amacına ulaşmıştır.
E) Boğazların yönetimi uluslararası bir komisyona bırakılmıştır.

31. Birinci ve İkinci Dünya Savaşı sonrasında;

- I. Avrupa'da yeni devletlerin kurulması,
II. Sömürgeciliğin ve mandacılığın yaygınlaşması
III. Dünya barışını korumak için teşkilatların kurulması

gelişmelerinden hangileri olmuştur?

- A) Yalnız I
B) Yalnız II
C) I ve II
D) II ve III
E) I, II ve III

32. Aşağıdakilerden hangisi I. Dünya Savaşı sırasında Osmanlı topraklarını paylaşmak için İngiltere, Fransa, İtalya ve Rusya arasında ikili, üçlü ya da dörtlü olarak yapılan gizli antlaşmalardan biri değildir?

- A) Londra Antlaşması
B) Sevr Antlaşması
C) Boğazlar Antlaşması
D) Petrogard Antlaşması
E) Sykes Picot Antlaşması

33. Uluslararası barışı korumak için "Birleşmiş Milletler Teşkilatı"nın kurulmasına aşağıdaki konferanslardan hangisinde karar verildi?

- A) Tahran Konferansı
B) Casablanca Konferansı
C) Kahire Konferansı
D) Yalta Konferansı
E) Postdam Konferansı

34. Aşağıdaki devletlerden hangisi II. Dünya Savaşı'nda tarafsız kalmayı başarmıştır?

- A) Japonya
B) Almanya
C) ABD
D) Belçika
E) İsviçre

35. Almanya ve İtalya'nın İngiltere ve Fransa'ya karşı Afrika'da cepheler açmasında,

- I. Kuzey Afrika'da yeni sömürgeler elde etme,
II. İngiltere ve Fransa'nın sömürge yollarını kontrol altına alma,
III. Sovyetler Birliği'ne ekonomik ve askeri yardım ulaştırma

amaçlarından hangilerinin etkili olduğu savunulabilir?

- A) Yalnız I
B) Yalnız II
C) I ve II
D) II ve III
E) I, II ve III

36. Sovyet Rusya'nın Milletler Cemiyetinden çıkarılmasına,

- I. Almanya'ya savaş açması
II. Bolşevik İhtilali'ni yaşaması
III. Finlandiya'ya saldırması

gelişmelerinden hangileri etkili olmuştur?

- A) Yalnız I
B) Yalnız II
C) Yalnız III
D) I ve II
E) II ve III

37. Türkiye ile Irak arasında 1955'te imzalanan pakta sonradan İran, Pakistan ve İngiltere'de katılmıştır.

Bu pakt aşağıdakilerden hangisidir?

- A) NATO
B) Sadabat Paktı
C) Balkan Antantı
D) Bağdat Paktı
E) İKÖ

38. Aşağıdakilerden hangisi AGİK anayasası sayılan on ilkedden biri değildir?

- A) Uluslararası eşitlik ve egemenliğe saygı
B) Sınırların ihlal edilmezliği
C) İçişlerine karışmama
D) İnsan hakları ve temel özgürlüğe saygı
E) İki Almanya'nın birleştirilmesine çalışması

39. II. Dünya Savaşı'ndan sonra bağımsızlığını kazanan Asya ve Afrika ülkeleri aşağıdakilerden hangisiyle bir araya gelerek dünya siyasetinde etkili olmaya çalışmışlardır?

- A) I. Moskova Konferansı
B) II. Moskova Konferansı
C) Quebec Konferansı
D) Bandung Konferansı
E) Washington Konferansı

40. II. Dünya Savaşı yıllarında Türkiye;

- I. Uluslararası barışı koruma,
II. Balkanlarda istikrara katkıda bulunma,
III. Sovyet Rusya'ya yakın politikalar geliştirme

politikalarından hangilerini uygulamıştır?

- A) Yalnız I
B) Yalnız II
C) Yalnız III
D) I ve II
E) II ve III

41. Türkiye'nin aşağıdaki politikalardan hangisi Arap toplumlarının tepkisine neden olmuştur?
- A) Mısır'ın bağımsızlığını tanıma
 - B) İslam Konferansı'na katılma
 - C) İsrail'in bağımsızlığını tanıma
 - D) İran - Irak savaşında tarafsız kalma
 - E) Körfez Krizinde tarafsız kalma

43. Kırgız dili ve kültürünün yüzyıllardır canlı kalarak genç kuşaklara aktarılmasında önemli bir yere sahip olan destan aşağıdakilerden hangisidir?
- A) Türeyiş
 - B) Satu Buğra Han
 - C) Alp Er Tunga
 - D) Manas
 - E) Oğuz Kağan

42. Ermenistan ile Azerbaycan arasında sorun olan Karabağ sorununu aşağıdakilerden hangisi çözüme kavuşturmak için oluşturulmuştur?
- A) AGİT Minsk Grubu
 - B) İslam Teşkilatı Örgütü
 - C) Bağımsız Devletler Topluluğu
 - D) Karadeniz Ekonomik İşbirliği Örgütü
 - E) Bağlantısızlar Grubu

44. Aşağıdaki Türk topluluklarından hangisi Rusya Federasyonu topraklarında Muhtar veya Özerk Cumhuriyet statüsünde değildir?
- A) Altay Cumhuriyeti
 - B) Gökoğuz Cumhuriyeti
 - C) Dağıstan Cumhuriyeti
 - D) Hakas Cumhuriyeti
 - E) Tataristan Cumhuriyeti

TARİH TESTİ

1. Bu testte 44 soru vardır. Bu test için verilen süre 65 dakikadır.
2. Cevaplarınızı, cevap kâğıdının Tarih Testi için ayrılan kısmına işaretleyiniz.

1. I. Asya Hun Devleti → Orta Asya Bölgesinde ilk kez Türk siyasi birliğini sağladı.
II. Hazarlar → Türk Tarihinde ilk kez Museviliği benimsediler
III. I. Köktürk Devleti → Türklerin ilk yazılı belgeleri olan Orhun Abidelerini diktiler.
IV. Avrupa Hunları → Arapların Kafkasya Bölgesindeki yayılmasını durdurdular.
Yukarıdaki bilgilerden hangileri yanlıştır?
A) I ve II B) I ve III C) II ve III
D) II ve IV E) III ve IV

2. Aşağıdakilerden hangisi İslamiyet öncesi Türk Devletleri'de hükümdarların kullandıkları unvanlardan değildir?
A) İdikut B) Han C) Hakan
D) Sultan E) Şanyu

3. İslamiyet öncesi Türk devletlerinde aşağıdaki sanat dallarından hangisi diğerleri kadar gelişmemiştir?
A) Müzik B) Resim C) Dokumacılık
D) Süslemecilik E) Mimari

4. İpek ve Kürk Yollarının Türklerin yaşadığı yerlerden geçmeleri,
I. değişik toplumlarla etkileşime girmelerine,
II. ticari faaliyetlerin gelişmesine,
III. Türk kültürünün yayılmasına
durumlarından hangilerine neden olmuştur?
A) Yalnız I B) Yalnız III C) I ve II
D) I ve III E) I, II ve III

5. I. Ülkenin hükümdar ailesinin ortak malı sayılması
II. Toprağın gelirlerine göre ayrılarak tımar sisteminin uygulanması
III. Halifenin siyasi desteğinin alınması
Yukarıdaki durumlarından hangileri İslamlık öncesi Türk ve Türk İslam devletlerinin ortak özelliklerindedir?
A) Yalnız I B) Yalnız II C) Yalnız III
D) I ve II E) II ve III

6. Karahanlılarda diğer Türk-İslam devletlerinden farklı olarak halk tamamen Türk boylarından oluşuyordu.
Bu durumun,
I. Türkçe'nin resmi dil ilan edilmesi,
II. ulusçuluk ilkesinin benimsenmesi,
III. milli benliğin korunması
sonuçlarından hangilerine etki ettiği savunulabilir?
A) Yalnız I B) Yalnız III C) I ve II
D) I ve III E) I, II ve III

7. Tuğrul Bey'in Dandanakan Zaferi sonrası,
I. adına hutbe okutması,
II. Abbasi Halifesi'nin desteğini alması,
III. para bastırması
faaliyetlerinden hangileri bağımsız bir devletin temellerinin atıldığına göstergesidir?
A) Yalnız I B) Yalnız III C) I ve III
D) II ve III E) I, II ve III

Haçlı Seferleri'nin çok geniş bir coğrafyada etkili olmasında aşağıdakilerden hangisi etkili olmamıştır?

- A) Papaların Ortodoks dünyası üzerinde siyasal bir güç kurmayı istemesi
B) Hristiyanların bilimsel ve teknik gelişmeleri öğrenmek istemesi
C) Ekonomik ve ticari kaynakların ele geçirilmek istenmesi
D) Hristiyan-Müslüman çatışmasının yaşanması
E) Türk İslam devletlerinin zengin topraklara sahip olması

11. Türkçe'nin gelişmesinde Anadolu Beylikleri Dönemi'nde,

- I. Türkçe'nin resmi dil ilan edilmesi,
II. Medreselerin yaygınlaştırılması,
III. Anadolu'da İslamiyet'in yaygınlaşması

durumlarından hangileri etkili olmuştur?

- A) Yalnız I B) Yalnız II C) Yalnız III
D) I ve II E) II ve III

12. Selçuklu toprak sistemi olan İktâ'da,

- I. İktâ sahipleri kendisine verilen toprağı üç yıl üst üste boş bırakamazdı.
II. İktâ sahipleri halka zulmedemezdi.
III. İktâ sahipleri altı asker beslemek zorundaydı.

uygulanan sistemleri ekonomik, hukuki ve askeri olarak tasnif edersek aşağıdakilerden hangisi doğrudur?

	Ekonomik	Hukuki	Askeri
A)	I	II	III
B)	II	III	I
C)	III	I	II
D)	I	III	II
E)	III	II	I

13. Aşağıdakilerden hangisi Türk İslam devletlerinde bağımsızlık alametlerinden birisi değildir?

- A) Çetr açmak
B) Para bastırmak
C) Nevbet çaldırmak
D) Hutbe okutmak
E) Su kemeri yaptırmak

14. Osmanlı Devleti'nde;

- Devlet bu topraklardan vergi almaz ve satılmazdı.
– Halkın sosyal ihtiyaçları karşılanırdı.

Yukarıda özellikleri verilen toprak çeşidi aşağıdakilerden hangisidir?

- A) Yurtluk toprakları B) Mukataa toprakları
C) Mülk toprakları D) Vakıf toprakları
E) Miri toprakları

15. XVII. yüzyılda;

- I. Celali İsyanları'nın yaygınlaşması,
II. Toprak sisteminin bozulması,
III. Halkın toprağını terk ederek kasaba ve şehirlerle göç etmesi

durumlarından hangilerinin devletin vergi kaybına yol açtığı savunulabilir?

- A) Yalnız I B) Yalnız II C) Yalnız III
D) I ve II E) I, II ve III

16. Tanzimat Dönemi'nde, Osmanlı yöneticileri bir Türk devleti değil, Osmanlıcılık esasını benimsetmeye çalışmışlardır. Böyle davranmakla aşağıdakilerden hangisini amaçladıkları söylenebilir?

- A) Türk unsurunu yok saymayı
B) Dağılmayı önlemeyi
C) Azınlıkları ön plana çıkarmayı
D) Çok uluslu yapıyı zayıflatmayı
E) Egemenliğin Osmanlı soyuna ait olduğunu kabul ettirmeyi

17. II. Abdülhamit "Kanunuesasi" yi onaylayarak yürürlüğe koymuştur.

Buna göre, Kanunuesasi ile Osmanlı Devleti aşağıdakilerden hangisine geçiş yapmıştır?

- A) Ülkede azınlıklar ikinci sınıf vatandaş olmuştur.
B) Ülke tamamen dış güçlerin etkisi altına girmiştir.
C) Mutlak monarşi güç kazanmıştır.
D) Ülkedeki egemenlik anlayışı değişmeye başlamıştır.
E) Padişah gelenekçi bir tutum sergilemiştir.

18. Osmanlı Devleti Avrupa'daki siyasi gelişmeleri yakından takip etmek amacıyla III. Selim Dönemi'nde Avrupa'ya sürekli elçiler göndermiştir.

Aşağıdakilerden hangisi Osmanlı Devleti'nin bu uygulamasının amacına ulaşmadığına bir kanıt olabilir?

- A) Fransa'nın, Mısır topraklarını işgal etmesinden Osmanlı'nın haberinin olmaması
B) Avrupa'daki fikir hareketlerinden habersiz olması
C) Tanzimat Fermanı'nın amacına ulaşmaması
D) Osmanlı'nın sürekli toprak kaybetmesi
E) Aydın zümrenin demokratik gelişmelere ayak uyduramaması

19. Tımarlı sipahilerin önemini kaybetmesinde,

- I. görev karşılığında toprak verilmesi,
II. iç isyanlar nedeniyle üretimin düşmesi,
III. Avrupa'da kurulan modern ordularla mücadele edememesi

durumlarından hangileri etkili olmuştur?

- A) Yalnız I B) Yalnız II C) I ve II
D) I ve III E) II ve III

20. I. Küçük Kaynarca

- II. Berlin
III. Paris

Yukarıdaki antlaşmalardan hangilerinde Osmanlı Devleti'nin Rusya'ya savaş tazminatı vermesi kararı yer almıştır?

- A) Yalnız I B) Yalnız II C) Yalnız III
D) I ve II E) II ve III

21. Osmanlı İmparatorluğu'nun Fransız İhtilali'nin etkisiyle XIX. ve XX. yüzyıllarda egemenlik alanının hızla daralmasına,

- I. sömürgecilik faaliyetleri,
II. ulusçuluk isyanları
III. Tanzimat ve Islahat fermanlarının ilan edilmesi

verilenlerden hangilerinin öncelikli etkiye sahip olduğu söylenebilir?

- A) Yalnız I B) Yalnız II C) I ve II
D) I ve III E) II ve III

22. XIX. yüzyılda Osmanlı İmparatorluğu'nda ayanların buldukları bölgelerde güçlenerek birer feodal beyler olması,

- I. merkezi otoritenin bozulduğunun,
- II. ülke sınırlarının genişlediğinin,
- III. eğitim sisteminin batılılaştığının

durumlarından hangilerinin kanıtı sayılabilir?

- A) Yalnız I B) Yalnız II C) Yalnız III
D) I ve III E) II ve III

23. II. Mahmut Dönemi'nde yapılan aşağıdaki ıslahatlardan hangisi çağdaşlaşma ile ilgilidir?

- A) Tımar ve zeametın kaldırılması
B) Yeniçeri Ocağı'nın kaldırılması
C) İlk kez nüfus sayımının yapılması
D) Posta ve karantina teşkilatlarının kurulması
E) Kılık - kıyafet alanında yenilik yapılması

24. Panславizm politikasını gerçekleştirmek isteyen Rusya, XIX. yüzyıldaki birçok antlaşmaya azınlıklar ile ilgili madde koydurtmuş ve Osmanlı bu durumdan olumsuz yönde etkilenmiştir.

Aşağıdaki antlaşmalardan hangisinde böyle bir madde yer almamıştır?

- A) Hünkâr İskeleyi Antlaşması
B) Bükreş Antlaşması
C) Edirne Antlaşması
D) Paris Antlaşması
E) Berlin Antlaşması

25. XIX. yüzyılda Osmanlı Devleti'nde,

- I. müsadere usulünün kaldırılması,
- II. Tanzimat Fermanı'nın ilan edilmesi,
- III. Arazi Kanunnamesi'nin çıkarılması

yeniliklerinden hangileri doğrudan özel mülkiyetin güvence altına alınmasını sağlamıştır?

- A) Yalnız II B) Yalnız III C) I ve III
D) II ve III E) I, II ve III

26. XIX.yüzyılda Avusturya, Fransa, Almanya ve İngiltere Şark meselesini tek başına ve kendi lehine çözmeye çalışan Rusya'ya tepki göstermişlerdir.

Buna göre,

- I. Duyunuumumiye İdaresi'nin kurulması,
- II. Ayastefanos Antlaşması'nın yerine Berlin Antlaşması'nın imzalanması,
- III. Karadeniz'in tarafsızlığının kaldırılması,

gelişmelerinden hangileri bu durumun doğal bir sonucudur?

- A) Yalnız I B) Yalnız II C) Yalnız III
D) I ve II E) II ve III

27. XIX. yüzyılda azınlık isyanlarının artmasında aşağıdakilerden hangisinin doğrudan etkili olduğu söylenemez?

- A) Rusya ve Avrupa devletlerinin kışkırtması
B) Merkezi otoritenin bozulması
C) Fransız İhtilali'nin etkisi
D) Balkan topraklarında sık sık savaş çıkması
E) Tanzimat Fermanı'nın ilan edilmesi

28. XIX. yüzyılda kapitülasyonların etkisiyle Osmanlı ülkesine Avrupa'dan ucuz ve bol ürünlerin gelmesiyle,

- I. işsizliğin giderek arttığı,
- II. yerli sanayiinin zarar gördüğü,
- III. Osmanlı ekonomisinin dışa bağımlı hale geldiği

durumlarından hangilerinin olduğu savunulabilir?

- A) Yalnız I B) Yalnız II C) Yalnız III
D) I ve II E) I, II ve III

29. XIX. yüzyılda Osmanlı İmparatorluğu'nun

- Tanzimat Fermanı'nı,
- Islahat Fermanı'nı,
- Kanunuesasi'yi

ilan etmekle aşağıdakilerden hangisini amaçladığı söylenemez?

- A) Sosyal eşitliği sağlamayı
B) Ülke sınırlarını genişletmeyi
C) Devleti çöküşten kurtarmayı
D) Halkın yönetime katılmasını sağlamayı
E) Kanun üstünlüğüne dayalı bir yönetime geçmeyi

30. I. Dünya Savaşı sonunda Versay Antlaşması Almanya ile, Sen Jermen Antlaşması Avusturya ile, Triyanon Antlaşması Macaristan ile, Nöyü Antlaşması Bulgaristan ile ve Sevr Antlaşması Osmanlı Devleti ile yapılmıştır.

Bu antlaşmaların esasları aşağıdakilerden hangisinde belirlenmiştir?

- A) Viyana Kongresi
B) Reval Görüşmeleri
C) Londra Konferansı
D) İstanbul Konferansı
E) Paris Konferansı

31. Aşağıdakilerden hangisi I. Dünya Savaşı başlamadan önce Osmanlı sınırları içerisindeki topraklardan değildir?

- A) Suriye B) Irak
C) Filistin D) Suudi Arabistan
E) Cezayir

32. Tayfur Sökmenoğlu'nun Cumhurbaşkanlığı ile kurulan Hatay Bağımsız devleti aşağıdakilerden hangisinin manda yönetiminden çıkmıştır?

- A) İngiltere B) Suriye C) İtalya
D) Fransa E) Yunanistan

33. Türkiye Atatürk döneminde,

- I. NATO,
- II. Balkan Antantı,
- III. Milletler Cemiyeti

kurumlarından hangilerine üyedir?

- A) Yalnız I B) Yalnız II C) I ve II
D) II ve III E) I, II ve III

34. I. Liberal rejim
II. Faşist rejim
III. Sosyalist rejim

Yukarıdaki rejimlerden hangileri İkinci Dünya Savaşı yıllarında dünya devletleri tarafından uygulanmaktaydı?

- A) Yalnız I B) Yalnız II C) I ve II
D) II ve III E) I, II ve III

35. Aşağıdakilerden hangisi Japonya'nın Çin'e yönelme nedenleri arasında yer almaz?

- A) Berlin - Roma Mihveri'nin kurulması
B) ABD'nin tarafsızlık politikası gereği buhranlara karışmaması
C) Washington Deniz Silahlanması Konferansı'nın yapılması
D) İngiltere'nin yatıştırma politikasına başlaması
E) Japonya - Almanya Paktı ile Sovyet Rusya'nın baskı altına alınması

36. Sovyetler Birliği II. Dünya Savaşı'ndan sonra,

- I. Polonya,
- II. Bulgaristan,
- III. Romanya

gibi ülkelerden hangilerinde komünizm rejiminin kurulmasını sağlamıştır?

- A) Yalnız I B) Yalnız II C) I ve II
D) II ve III E) I, II ve III

ESEN YAYINLARI

ESEN YAYINLARI

37. Soğuk Savaş Dönemi'nde;

- I. Türkiye,
- II. Yunanistan,
- III. Yugoslavya

gibi ülkelerden hangilerinde sosyalist rejim yapısında devlet örgütlenmesi olmuştur?

- A) Yalnız I B) Yalnız II C) Yalnız III
D) I ve III E) I, II ve III

38. • Kuruluş amacı komünizmle idare edilen ülkeleri korumak
• Üye ülkelerin siyasi ve askeri dayanışmasını sağlamak
• Dıştan gelecek bir saldırıya birlikte karşılık vermek

Yukarıda bazı özellikleri verilen kuruluş aşağıdakilerden hangisidir?

- A) NATO B) Balkan Antantı
C) Kellog Pakti D) Varşova Pakti
E) COMECON

39. Süveyş krizi 1956 yılında İsrail, İngiltere ve Fransa'nın oluşturduğu ittifakla Mısır arasında yapılan savaştır.

Bu durum,

- I. Uluslararası petrol krizinin çıkması,
- II. Bağlantısızlar Teşkilatı'nın kurulması
- III. Nasır'ın Süveyş Kanalı'nı millileştirmesi

gelişmelerinin hangilerinin sonucunda ortaya çıkmıştır?

- A) Yalnız I B) Yalnız II C) Yalnız III
D) I ve II E) II ve III

40. 1945 yılına kadar uluslararası ilişkilerin ve dünya politikasının merkezi aşağıdaki kıtalardan hangisidir?

- A) Asya B) Avrupa C) Afrika
D) Avustralya E) Amerika

41. 1950'de yapılan Kuzey Kore - Güney Kore Savaşı'nın nedeni olarak aşağıdakilerden hangisi gösterilirse doğru olur?

- A) Bölgede ABD - SSCB rekabeti
B) Japonya'nın saldırgan tutumu
C) Çin - Hint mücadelesi
D) Vietnam Savaşı'nın etkisi
E) Hollanda'nın sömürü politikası

42. 1991'de Sovyetlerin dağılmasıyla birlikte bağımsızlıklarını ilan eden,

- I. Özbekistan,
- II. Ermenistan,
- III. Gürcistan

devletlerinden hangileri Kafkas ülkelerinden değildir?

- A) Yalnız I B) Yalnız II C) Yalnız III
D) I ve II E) II ve III

43. Aşağıdakilerden hangisi gelecekte Orta Doğu'da küresel ısınma sonucunda doğacak sorunların başında öncelikle yer alabilir?

- A) Su savaşları
B) Küçük devletlerin kurulması
C) Devletlerin birleşmesi
D) Dinsel ve mezhepsel ayrışmalar
E) Sportif müsabakalar

44. 1993 Oslo Antlaşması'yla;

- I. İsrail Devleti'nin kurulması,
- II. Özerk Filistin yönetiminin kurulması,
- III. Tam bağımsız Filistin Devleti'nin kurulması

gibi gelişmelerden hangileri sağlanmıştır?

- A) Yalnız I B) Yalnız II C) Yalnız III
D) I ve II E) I, II ve III

TARİH TESTİ

1. Bu testte 44 soru vardır. Bu test için verilen süre 65 dakikadır.
2. Cevaplarınızı, cevap kâğıdının Tarih Testi için ayrılan kısmına işaretleyiniz.

1. Aşağıdakilerden hangisi Oğuz - Kıpçak mücadelelerini ve Türklerin yaşayışlarını anlatan önemli bilgiler içeren sözlü edebiyat eseridir?

- A) Alp Er Tunga Destanı
- B) Oğuz Kağan Destanı
- C) Dede Korkut Hikâyeleri
- D) Manas Destanı
- E) Ergenekon Destanı

2. Eski Türklerde en yaygın inanış Gök Tengri inanışıdır. Bu inanışta öldükten sonraki hayatta iyilerin cennete, kötülerin cehenneme gideceği vardır.

Cennet ve cehennem anlayışı aşağıdakilerden hangisiyle tanımlanmıştır?

Cennet	Cehennem
A) Kurgan	Yuğ
B) Uçmağ	Tamu
C) Balbal	Şaman
D) Yazıt	Koşuk
E) Sav	Sagu

3. Uygurlar "Manihaizm" dinini kabul ederek din değiştirmişlerdir. Uygurlar "Yerleşik" hayata geçmişlerdir.

Uygurlardaki bu değişimler ekonomilerinde,

- I. tarımsal ürünler,
- II. hayvancılık,
- III. ticari faaliyetler

alanlardan hangilerinin daha yaygın olması **beklenemez?**

- A) Yalnız I
- B) Yalnız II
- C) Yalnız III
- D) I ve II
- E) I, II ve III

4. İslamiyetten önce kurulan;

- I. Köktürk,
- II. Asya Hun,
- III. Uygur,
- IV. Batı Hun

devletlerinin kuruluş sırası kronolojik olarak aşağıdakilerden hangisinde doğru olarak sıralanmıştır?

- A) II - IV - I - III
- B) I - II - III - IV
- C) III - II - IV - I
- D) IV - III - I - II
- E) I - III - II - IV

5. Talas Savaşı'nın;

- I. Orta Asya'nın Çin egemenliğine girmemesi,
- II. Kağıt'ın İslam dünyasına yayılması,
- III. İslam dininin Türkler arasında yayılması

gibi sonuçlarının siyasi, kültürel ve dini olarak gruplandırılması aşağıdakilerden hangisinde doğru olarak gösterilmiştir?

	Siyasi	Kültürel	Dini
A)	III	II	I
B)	II	I	III
C)	I	III	II
D)	III	I	II
E)	I	II	III

6. I. Gazneliler
II. Selçuklular
III. Peçenekler

Yukarıdaki Türk devletlerinden hangisi "etnik köken" hangisi "kurucu" hangisi "kuruluş yeri" ne göre adlandırılmıştır?

	Etnik Köken	Kurucu	Kuruluş Yeri
A)	III	II	I
B)	II	I	III
C)	I	III	II
D)	III	I	II
E)	I	II	III

7. Büyük Selçuklu Devleti'nin en önemli bilim adamlarından birisi de Ömer Hayyam'dır.

Ömer Hayyam, Melikşah adına aşağıdaki takvimlerden hangisini yapmıştır?

- A) 12 Hayvan Resimli Türk Takvimi
B) Gregoryan Takvim
C) Celali Takvim
D) Rumi Takvim
E) Hicri Takvim

8. Aşağıda bazı Türk İslam bilginleri ve eserleri eşleştirilmiştir. **Bunlardan hangisi yanlıştır?**

- A) Yunus Emre – Risalet'ün Nushiye
B) Hacı Bektaş Veli – Makalat
C) Mevlana – Divan-ı Kebir
D) Gülşehri – Mantuk'ut Tayr
E) Nizamülmülk – Kutadgu Bilig

9. I. Tarımsal üretimi artırma
II. Esnafar arası dayanışmayı sağlama
III. Haksız rekabeti önlemek için fiyatları ayarlama

Yukarıdakilerden hangileri Ahilik teşkilatının görevleri arasında yer alır?

- A) Yalnız I B) Yalnız II C) Yalnız III
D) I ve II E) II ve III

10. I. Tuğ
II. Hutbe
III. Otağ

Yukarıdaki hükümdarlık alametlerinden hangileri İslam öncesi Türk devletlerinden Türk İslam devletlerine geçtiği söylenemez?

- A) Yalnız I B) Yalnız II C) Yalnız III
D) I ve II E) II ve III

11. Aşağıdaki şehirlerden hangisinde Büyük Selçuklular dönemi siyasi egemenlik **kurulmamıştır?**

- A) Diyarbakır B) Bağdat C) İstanbul
D) Tus E) Rey

12. Aşağıdaki düşünürlerden hangisi Türkiye Selçukluları döneminde **yaşamamıştır?**

- A) Hacı Bayram Veli
B) Yunus Emre
C) Mevlana Celaleddin Rumi
D) Hoca Dehhani
E) Ahi Evran-ı Veli

13. Uç beylikleri,

- I. sınır güvenliğinin sağlanması,
II. sınırların genişlemesi,
III. Anadolu'nun Türkleşmesi

gibi gelişmelerden hangilerine katkıda bulunmuştur?

- A) Yalnız I B) Yalnız II C) Yalnız III
D) I ve II E) I, II ve III

14. Aşağıdakilerden hangisinin Osmanlı Devleti'nin kısa sürede büyümesi ve yayılmasında etkili olduğu **söylenemez?**

- A) Anadolu Selçuklu Devleti'nin Moğal egemenliğine girmesi
B) Balkanlar'da siyasi birliğin olmaması
C) Bizans valileri arasındaki iç mücadele
D) Osmanlı Devleti'nin zayıf idari yapısı
E) Anadolu'da birçok Türk beyliğinin kurulması

15. Osmanlı Devleti'nin Fas'taki iç karışıklıklara müdahale ederek Fas'ı himaye altına alması Portekizlilerle yapılan aşağıdaki savaşlardan hangisine neden olmuştur?

- A) Cerbe Deniz Savaşı
B) İnebahtı Deniz Savaşı
C) Preveze Deniz Savaşı
D) Vadi's Seyl Savaşı
E) Hint Deniz Savaşı

16. Aşağıdakilerden hangisi Martin Luther'in 1517'de Wittenberg Kilisesi'nin kapısına astırdığı bildiri ile ilgili **değildir?**

- A) Tanrı ile kul arasında kimsenin giremeyeceği
B) Günahları ancak Tanrının bağışlayabileceği
C) Endüljans satan din adamlarının suç işlediği
D) Öldükten sonra kurtuluşa erişmenin imanla olacağı
E) Dinde yenileşmenin olamayacağı

17. XVII. yüzyıl Osmanlı Devleti'nde yeni doğmuş çocuklara müderrislik unvanının verilmesi aşağıdaki sınıflardan hangisinin ortaya çıkmasına neden olmuştur?

- A) Reaya Sınıfı
B) Garip Gureba Sınıfı
C) Beşik Uleması Sınıfı
D) Saraylı Sınıfı
E) Harem Ağası Sınıfı

18. Osmanlı Devleti'nin XVII. yüzyılda imzaladığı antlaşmalardan bazıları şunlardır;

- I. Zitvatarok,
II. Vasvar,
III. Hotin

Bu antlaşmalardan hangileri Avusturya ile imzalanmıştır?

- A) Yalnız I B) Yalnız II C) Yalnız III
D) I ve II E) II ve III

19. Aşağıdakilerden hangisi Osmanlı Devleti'nin XVII. yüzyıl politikası ile ilgili bir durum **değildir?**

- A) Kaybedilen toprakları geri alma politikası izlenmiştir.
B) Doğu'da ve batıda en geniş sınırlara ulaşılmıştır.
C) Islahatlar geriye yönelik olmuştur.
D) İç isyanlar sonucu merkezi otorite sarsılmıştır.
E) Askeri alanda düzen ve disiplin bozulmuştur.

20. XVII. yüzyılda Avrupa devletleri,

- I. Yeniçeri isyanları,
II. Eyalet isyanları,
III. Celali isyanları

gibi isyanlardan hangilerini desteklemişlerdir?

- A) Yalnız I B) Yalnız II C) Yalnız III
D) I ve II E) I, II ve III

21. • 1700 İstanbul
• 1711 Prut
• 1792 Yaş

Yukarıdaki antlaşmalar Osmanlı Devleti ile aşağıdaki devletlerden hangisi arasında imzalanmıştır?

- A) Lehistan B) Avusturya
C) Venedik D) Prusya
E) Rusya

22. Sanayi Devrimi,

- I. Burjuvalar,
II. Köylüler,
III. İşçiler

gibi sınıflardan hangilerinin sorunlarının giderilmesine neden olmuştur?

- A) Yalnız I B) Yalnız II C) Yalnız III
D) I ve II E) II ve III

23. III. Selim yapacağı yenilikler için,

- I. Layihalar,
- II. Meclisimeşveret,
- III. Nizamıcedit

raporlarından hangilerini hazırlatmıştır?

- A) Yalnız I B) Yalnız II C) Yalnız III
D) II ve III E) I, II ve III

24. Babiali'nin Osmanlı yönetiminde etkili hale gelmesiyle nişancıya bağlı olarak çalışan kurumlardan hangisinin önemi artmıştır?

- A) Şeyhülislam B) Kaptanıderya
C) Reisülküttap D) Veziriazam
E) Defterdar

25. XVII. yüzyıldan itibaren Osmanlı mimarisi Avrupa'dan etkilenecek barok ve rokoko tarzı mimari eserler yapılmaya başlanmıştır.

Aşağıdakilerden hangisi barok ve rokoko tarzı mimari uygulanan eserlerden değildir?

- A) Doğubeyazıt İshak Paşa Sarayı
B) Beylerbeyi Camisi
C) Nuri Osmaniye Camisi
D) Sadabat Kasrı
E) Edirne Selimiye Camisi

26. II. Mahmut merkez teşkilatında eski düzeni değiştirerek yeni düzenleme getirmiştir.

Aşağıdakilerden hangisinde eski düzen yeni düzenleme yanlışı eşleştirilmiştir?

Eski Düzen	Yeni Düzenleme
A) Divanihümayun	Nazırlıklar
B) Şeyhülislamlık	Evkafı Hümayun Nezareti
C) Reisülküttap	Hariciye Nezareti
D) Sadaret Kehtüdası	Dahiliye Nezareti
E) Sadrazamlık	Başvekalet

27. Aşağıdakilerden hangisi Osmanlı Devleti'nde milliyetçilik hareketleri ve azınlık isyanları sonucu ortaya çıkan gelişmelerden biri değildir?

- A) Sırbistan'ın özerkliği
B) Yunanistan'ın bağımsızlığı
C) Karadağ'ın bağımsızlığı
D) Onyedinci yüzyıl isyanları
E) Ermenilerin tehcir edilmesi

28. Aşağıdakilerden hangisi Osmanlı Mebusan Meclisi'nin aldığı kararla tahttan indirilen ilk padişahdır?

- A) Çelebi Mehmet
B) II. Osman
C) II. Abdülhamit
D) Sultan Abdülaziz
E) Vahdettin

29. Osmanlı Devleti, Mehmet Ali Paşa İsyanı'nı bastıramayınca öncelikli olarak aşağıdaki devletlerin hangisinden yardım almıştır?

- A) Avusturya B) Fransa C) Rusya
D) İngiltere E) Almanya

30. Osmanlı Devleti'nin XIX. yüzyılda Rusya ile savaşırken Fransa ve İngiltere'nin; Fransa ile mücadele ederken İngiltere'nin desteğini aldığı görülmektedir.

Osmanlı Devleti'nin bu politikası,

- I. eski gücünü kaybettiği,
- II. denge politikası uyguladığı,
- III. yeni toprak almak istediği

sonuçlarından hangilerini gösterir?

- A) Yalnız I B) Yalnız II C) Yalnız III
D) I ve II E) II ve III

31. Türkiye ile Yunanistan arasında sorun olan nüfus değişimi aşağıdaki liderlerden hangilerinin görüşmeleri sonucu çözüme kavuşmuştur?

- A) Atatürk – Karamanlis
B) Atatürk – Venizelos
C) İsmet İnönü – Papanderu
D) Adnan Menderes – Venizelos
E) Celal Bayar – Nikos Samson

32. • Yunanistan

- İran
- Irak
- Suriye
- Arnavutluk
- Romanya
- Yugoslavya
- Afganistan

Yukarıdaki devletlerden hangileriyle Türkiye bölgesel bir pakt kurmamıştır?

- A) Suriye – Arnavutluk
B) Irak – Romanya
C) Yugoslavya – Irak
D) İran – Afganistan
E) Türkiye – Yunanistan

33. Aşağıdakilerden hangisi Lozan Antlaşması'nda çözüme kavuşmadığından dolayı daha sonraki Türk dış politikasını etkilemiştir?

- A) Kapütilyasyonlar Sorunu
B) Batı Trakya Sorunu
C) Musul Sorunu
D) Dış Borçlar Sorunu
E) Milletler Cemiyeti'ne üye olma sorunu

34. Milli Mücadele Dönemi'nde;

- I. Sovyet Rusya,
- II. Almanya,
- III. İtalya

gibi devletlerden hangileri ile yakın ilişki kurulmuştur?

- A) Yalnız I B) Yalnız II C) Yalnız III
D) I ve III E) I, II ve III

35. • Hammadde sağlama

- Pazar bulma
- Sanayi İnkılabı
- Sömürgecilik

Yukarıdaki gelişmeler I. Dünya Savaşı'nın hangi nedenlerden çıktığını göstermektedir?

- A) Siyasi B) Sosyal C) Kültürel
D) Sportif E) Ekonomik

36. Aşağıdakilerden hangisi Birleşmiş Milletler Teşkilatı'nın temel organlarından biri değildir?

- A) Vesayet Konseyi
B) Sekreterlik
C) Uluslararası Adalet Divanı
D) Uluslararası Çalışma Örgütü
E) Güvenlik Konseyi

37. Soykırım, ulusal, etnik, ırksal veya dini bir grubu kısmen veya tamamen ortadan kaldırmak amacıyla işlenen fiillerdir.

Buna göre, aşağıdakilerden hangisi uluslararası soykırım suçu statüsünde değerlendirilmiştir?

- A) ABD nin Hiroşima'ya atom bombası atması
B) Hitler tarafından Yahudilerin öldürülmesi
C) Anadolu'da Yunan işgali sonrası ölümlerin olması
D) Çanakkale Savaşları'nda beş yüz bin insan ölmesi
E) Afganistan'da iç savaş yaşanması

38. Aşağıdakilerden hangisi Adnan Menderes hükümetleri döneminde uygulanan ekonomik politikalarından biri değildir?

- A) Tarımsal üretimin artması için makineleşmeye çalışılması
B) Liberal ekonomik politikalar uygulanması
C) IMF ile ekonomik antlaşmalar yapılması
D) Dışarıdan ekonomik yardım alınması
E) Devletçi ekonomik modelin uygulanmaya çalışılması

39. "Bağlantısızlar Bloku" ya da "Üçüncü Dünya" denilen oluşum aşağıdakilerden hangisinin sonucunda ortaya çıkmıştır?

- A) Soğuk Savaş Dönemi'nin sona ermesi
- B) Asya ve Avrupa'da sömürgeciliğin yaygınlaşması
- C) II. Dünya Savaşı'nın başlaması
- D) Asya ve Afrika ülkelerinin bağımsızlıklarını elde etmesi
- E) Avrupa Devletleri'nin teşvik etmesi

40. Aşağıdakilerden hangisi 1955'te kurulan Bağdat Paktı'nın üyeleri arasında yer almaz?

- A) İngiltere
- B) Türkiye
- C) İran
- D) Irak
- E) Afganistan

41. Aşağıdakilerden hangisi NATO'nun savunma politikalarından değildir?

- A) Sınırlı Savaş Stratejisi
- B) Esnek Karşılık Stratejisi
- C) Sürekli Savaş Stratejisi
- D) Kitlese Karşılık Stratejisi
- E) İleri Savunma Doktrini

42. 24 Ocak 1980'de,

- I. ödemeler dengesini düzeltmek,
 - II. enflasyonu düşürmek,
 - III. serbest piyasa ekonomisine geçmek
- gibi kararlar alınmıştır.

Bunlardan hangileri Türk ekonomisini güçlendirmeye yöneliktir?

- A) Yalnız I
- B) Yalnız II
- C) I ve II
- D) II ve III
- E) I, II ve III

43. Aşağıdakilerden hangisi Türkiye ile Yunanistan arasındaki mevcut sorunlardan birisi değildir?

- A) Batı Trakya sorunu
- B) Kıta sahanlığı sorunu
- C) Kara suları sorunu
- D) Ege adalarının silahlandırılması sorunu
- E) Kıbrıs sorunu

44. Aşağıdakilerden hangisi GAP'ın hedefleri arasında yer almamaktadır?

- A) Bölgenin kalkınmasını sağlamak
- B) Tarım ve hayvancılığı geliştirmek
- C) Bölgede istihdamı artırmak
- D) Bölgede insanların hayat standartlarını yükseltmek
- E) Bölgeye yurt dışı göçü başlatmak

TARİH TESTİ

1. Bu testte 44 soru vardır. Bu test için verilen süre 65 dakikadır.
2. Cevaplarınızı, cevap kâğıdının Tarih Testi için ayrılan kısmına işaretleyiniz.

1. İslamlık öncesi Türklere aşağıdaki gelişmelerden hangisi ticaretin geliştirilmesiyle ilgili değildir?

- A) İpek Yolu'nu egemenlikleri altında tutmaları
B) Komşu devletlerle ticari antlaşmalar yapmaları
C) Ülkede siyasi istikrarı koruyarak, huzur ve asayişini sağlamaları
D) Devlet işlerini boy temsilcilerinin katıldığı kurulda görüşmeleri
E) Yöneticilerin ticari faaliyetleri desteklemeleri

2. İslamiyet öncesi Türk devletlerinde kurultay,

- I. savaşa ve barışa karar verme,
II. yabancı devletlerle antlaşmaları onaylama,
III. hükümdarı seçme

verilenlerden hangilerinde etkili değildir?

- A) Yalnız I B) Yalnız III C) I ve II
D) I ve III E) II ve III

3. Orta Asya'da yaşayan Türk topluluklarının,

- I. törenlere toplumun tüm kesimlerinin birlikte katılımı,
II. sık sık dağılarak başka bir devletin hakimiyeti altında yeniden kurulmaları,
III. toplumun tüm kesimlerinin ortak kültür içinde yaşamaları

özelliklerinden hangileri toplum içinde sınıflaşmanın olmasını engellediği savunulabilir?

- A) Yalnız I B) Yalnız II C) Yalnız III
D) I ve II E) I ve III

4. Aşağıdaki şehirlerden hangisi Büyük Selçuklu Devleti hakimiyet sahası dışında kalır?

- A) Merv B) İsfahan C) Nişabur
D) Kahire E) Bağdat

5. Memlûklulardaki

- I. Abbasi Halifesini korumaları,
II. Orduda ve yönetimde tamamen Türklerin görev alması,
III. Türkçe'nin resmi dil olması

durumlarının ümmeççi ve milliyetçi anlayışla ilişkileri aşağıdakilerden hangisinde doğru olarak gösterilmiştir?

<u>Ümmeççi</u>	<u>Milliyetçi</u>
A) Yalnız II	I ve III
B) I ve II	Yalnız III
C) Yalnız III	I ve III
D) I ve III	Yalnız II
E) Yalnız I	II ve III

6. I. Peçenekler
II. Köktürkler
III. Hazarlar
IV. Fatımiler
V. Hunlar

Yukarıdaki devletlerden hangileri İpek Yolu üzerinde etkinlik kuramamıştır?

- A) I ve II B) I ve IV C) II ve V
D) III ve IV E) III ve V

7. Anadolu'yu Türklerin yurt edinmelerinde,

- I. Haçlı Seferleri'ni başlatma,
II. göçebe Türkmenlere yeni yurtlar bulma,
III. Hristiyan dünyasının siyasal birliğini bozma

amaçlarından hangilerinin etkili olduğu savunulabilir?

- A) Yalnız I B) Yalnız II C) I ve II
D) I ve III E) I, II ve III

8. Orta Çağ Avrupası'nda,
I. toplumsal eşitliğin olmaması,
II. siyasi birliğin olmaması,
III. Papaların krallara taç giydirmesi
- gelişmelerinden hangileri dinin siyasal alanda etkili olduğuna örnek olarak gösterilebilir?
- A) Yalnız I B) Yalnız II C) Yalnız III
D) I ve II E) I, II ve III
9. Haçlı Seferleri'nden sonra Avrupa'da Katolik Kilisesi ve din adamları eski gücünü kaybetmiştir.
- Bu durumun,**
I. özgür düşüncenin gelişmesine,
II. halkın sınıflara ayrılmasına,
III. mezhep savaşlarının sona ermesine
- gelişmelerinden hangilerini etkilediği söylenebilir?
- A) Yalnız I B) Yalnız II C) Yalnız III
D) I ve II E) II ve III
10. Anadolu'nun Türklerin kesin yurdu olmasında aşağıdaki savaşlardan hangisi etkili olmuştur?
- A) Yassı Çimen B) Köseadağ
C) Miryokefalon D) Malazgirt
E) Pasinler
11. Büyük Selçuklularda töre ve müesseselerin tanıdığı haklarla devletin tek hakimi aşağıdakilerden hangisidir?
- A) Atabeyler B) Melikler
C) Hükümdar D) Müstevfi
E) Naibler

12. Türkiye Sulçukluları Dönemi'nde aşağıdaki şehirlerden hangisinde Türk İslam kültürüne ait mimari eserlere rastlamak mümkün değildir?

A) Kayseri B) Antalya C) Konya
D) Tokat E) Edirne

13. I. Hassa Askerleri
II. Guleman-ı Saray Askerleri
III. Eyalet Askerleri

Yukarıdakilerden hangileri Büyük Selçuklularda Sultana bağlı özel birliklerdir?

A) Yalnız I B) Yalnız II C) Yalnız III
D) I ve II E) II ve III

14. I. Bugünkü Türkiye - İran sınırı büyük oranda çizilmiştir.
II. Osmanlı Devleti doğuda en geniş sınırlarına ulaşmıştır.
III. Osmanlı Devleti batıda en geniş sınırlarına ulaşmıştır.

XVII. yüzyılda meydana gelen yukarıdaki olaylar aşağıdakilerden hangisinde doğru olarak gruplandırılmıştır?

Kasrışirin	Bucaş	Ferhat Paşa
A) II	I	III
B) I	III	II
C) I	II	III
D) III	II	I
E) II	III	I

15. III. Mustafa döneminin en önemli islahatlarından biri de esham senedi çıkarılarak iç borçlanmaya gidilmesidir.

Bu durumun temel nedeni aşağıdakilerden hangisidir?

A) Tersaneyi islah etmek
B) Avrupa ile ilişkileri düzeltmek
C) Hazinein nakit ihtiyacını gidermek
D) Donanmayı modernize etmek
E) İç isyanları bastırmak

16. Aşağıdakilerden hangisinin XIX. yüzyıl İslahat hareketleri sonucunda ortaya çıktığı söylenmez?

A) Mebusan Meclisi B) Redif Birlikleri
C) Polis Teşkilatı D) Sekbâncedit Ocağı
E) İltizam Sistemi

17. XIX. yüzyılda ortaya çıkan ve yayılan,

I. panslavizm,
II. sömürgecilik,
III. milliyetçilik

hareketlerinden hangisi ya da hangilerinin yayılması ile Osmanlı Devleti'nin toprak bütünlüğü tehlike altına girmiştir?

A) Yalnız I B) Yalnız II C) I ve II
D) II ve III E) I, II ve III

18. I. Sömürgecilik yarışının hızlanması
II. Hammadde arayışının artması
III. Sendikacılık çalışmalarının başlaması

Yukarıdakilerden hangileri Sanayi Devrimi'nin sonuçları arasında gösterilebilir?

A) Yalnız I B) Yalnız II C) I ve II
D) II ve III E) I, II ve III

19. İlk olarak Viyana Kongresi'nde siyasal bir terim olarak kullanılan Şark Sorunu, Avrupa - Türk ilişkilerinin temelini oluşturmaktadır.

Buna göre, aşağıdakilerden hangisi Şark Sorunu'nun amaçlarından biri değildir?

A) İstanbul'u almak.
B) Türkleri Balkanlar'dan atmak.
C) Osmanlı toprak bütünlüğünü güvence altına almak
D) Anadolu'yu paylaşarak Türkleri buradan çıkarmak
E) Osmanlı'ya azınlıklar lehine islahatlar yaptırmak

20. Aşağıdakilerden hangisi Osmanlı Devleti'nde kapıkulu askerlerinden biri değildir?

A) Lağımçılar B) Akıncılar C) Yeniçeriler
D) Cebeciler E) Humbaracılar

21. Aşağıdakilerden hangisinin üyeleri doğrudan halk tarafından belirlenmiştir?

A) Meclisiahkâmıadiye
B) Meclisimebusan
C) Meclisiayan
D) Darışurayıbabiali
E) Saltanat Şurası

22. Osmanlı adliye teşkilatında Tanzimattan itibaren çeşitli mahkemeler kurulmuştur.

Aşağıdakilerden hangisi Avrupalı devletlerin Osmanlı ülkesinde yaşayan vatandaşlarının davalarına bakmak amacıyla kurulmuştur?

A) Azınlık Cemaat Mahkemeleri
B) Konsolosluk Mahkemeleri
C) Nizamiye Mahkemeleri
D) Asliye Hukuk Mahkemeleri
E) Şer'îye Mahkemeleri

23. Osmanlı Devleti'nde padişah tarafından yönetim yetkisi verilen kişilerden bazıları aynı zamanda dini yetkilere de sahiptir.

Buna göre, aşağıdakilerden hangisi bu grup yöneticilerden birisidir?

A) Kazasker B) Subaşı C) Yiğitbaşı
D) Tüccar E) Muhtesip

24. Osman Bey, Türk töresinde olan "Fetheden fethettiği yerin sahibidir." anlayışına dayanarak elde edilen yerleri kardeşleri, oğulları ve silah arkadaşlarına olarak verirdi.

Yukarıdaki ifadede boş bırakılan yere, Osmanlı toprak sistemine uygun olarak aşağıdakilerden hangisi getirilmelidir?

A) Paşmaklık B) Yurtluk C) Ocaklık
D) Dirlik E) Mukataa

25. Dünya Gücü Osmanlı Dönemi'nde Osmanlı Devleti birçok iç isyanla karşılaşmıştır.

Aşağıdakilerden hangisi bu isyanlardan biri değildir?

- A) Kalenderoğlu B) Baba Zünnun
C) Canbolatoğlu D) Ahmet Paşa
E) Canberdi Gâzali

26. I. Divan teşkilatının kurulması
II. Enderun saray okulunun açılması
III. Tımar sisteminin uygulanmaya başlanması

Yukarıdaki gelişmeler aşağıdaki padişahların hangileri döneminde yaşanmıştır?

I	II	III
A) Orhan Bey	II. Murat	I. Murat
B) I. Bayezit	Genç Osman	I. Ahmet
C) II. Bayezit	Osman Bey	II. Ahmet
D) I. Abdülhamit	Vahdettin	Mehmet Reşat
E) III. Murat	Abdülaziz	Abdülmecit

27. Fatih Sultan Mehmet döneminde, Karadeniz ticaretini kontrol altına almak için,

- I. Ceneviz,
II. Trabzon Rum,
III. Memlük

devletlerinden hangileriyle mücadele edilmiştir?

- A) Yalnız I B) Yalnız II C) Yalnız III
D) I ve II E) I, II ve III

28. Osmanlı Devleti'nde,

- I. Matbaanın kullanılmaya başlanması,
II. Kağıt fabrikalarının kurulması,
III. Bez fabrikalarının kurulması

gelişmelerinden hangilerinin sanayileşmeye yönelik olduğu söylenebilir?

- A) Yalnız I B) Yalnız II C) I ve II
D) I ve III E) II ve III

29. XIX. yüzyılda Osmanlı Devleti'nde,

- I. yabancı kitaplardan Türkçe'ye tercüme yapılması,
II. dış borçlanmaya gidilmesi,
III. yabancılardan alınan gümrük vergisinin düşürülmesi

gelişmelerinden hangileri Osmanlı kültür ve ekonomik hayatının Batılı devletlerin etkisine girdiğinin doğrudan kanıtıdır?

- A) Yalnız I B) Yalnız II C) Yalnız III
D) II ve III E) I, II ve III

30. XIX. yüzyıl'da Osmanlı aydınları karışıklıkları önlemek için,

- I. meşruti bir idarenin kurulmasını,
II. azınlıkların mecliste temsil edilmesini,
III. hürriyet ve eşitlik prensiplerinin yaygınlaştırılmasını

benimsemişlerdir.

Buna göre, yukarıdakilerden hangileri toplumdaki birlik beraberliği sağlamak için yapılan düşüncelerdir?

- A) Yalnız I B) Yalnız II C) Yalnız III
D) I ve II E) I, II ve III

31. Aşağıdakilerden hangisi 18 Ocak 1919'da toplanan Paris Barış Konferansı'ndaki galip devlet, beklenti ilişkisi yanlış verilmiştir?

Galip Devlet	Beklenti
A) Fransa	Almanya'nın Avrupa'da etkisizliğini sağlamak
B) Japonya	Çin'den toprak almak
C) İngiltere	Almanya'nın denizlerdeki gücünü azaltmak
D) ABD	Milletler Cemiyeti'ni kurarak Avrupa sorunlarıyla ilgilenmek
E) İtalya	Avusturya ve Osmanlı Devleti'nden toprak almak

32. Aşağıdakilerden hangisi I. Dünya Savaşı'nın galip devletlerinden olan İngiltere'nin elde ettiği kazançlardan biri değildir?

- A) Almanya'nın devre dışı bırakılması
B) Rusya'da komünist rejimin kabul edilmesi
C) Yeni sömürgeler elde etmesi
D) Avrupa'nın en etkili devleti haline gelmesi
E) Orta Doğu'ya yerleşmesi

33. I. Lozan'dan kalan sorunların çözümü
II. Türk - Sovyet ilişkilerinin gelişmesi
III. Barışa yönelik işbirliği çabaları

Yukarıdaki politikalarından hangileri 1923 - 1938 yılları arası Türkiye Cumhuriyeti'nin politikalarındandır?

- A) Yalnız I B) Yalnız II C) Yalnız III
D) I ve III E) I, II ve III

34. 1917 Sovyet Bolşevik Devrimi'nin oluşmasında,

- I. Fransız İhtilali,
II. Birinci Dünya Savaşı,
III. Sanayi Devrimi

gibi gelişmelerden hangileri etkili olmuştur?

- A) Yalnız I B) Yalnız II C) I ve II
D) II ve III E) I, II ve III

35. I. Enver Paşa
II. Gaspıralı İsmail
III. Zeki Velidi Togan

Yukarıdakilerden hangilerinin düşünsel ve politik yapısı Türkistan'da başlayan ve başarıya ulaşamayan Basmacı Hareketi'ni destekler niteliktedir?

- A) Yalnız I B) Yalnız II C) I ve II
D) II ve III E) I, II ve III

36. Aşağıdaki gelişmelerden hangisi II. Dünya Savaşı öncesi Japonya'nın Çin'e saldırmasına zemin hazırlamamıştır?

- A) İtalya'nın Habeşistan'a saldırmasına dünyanın ses çıkartmaması
B) Wilson prensiplerinin yayınlanması
C) İngiltere'nin yatıştırma politikasına başlaması
D) ABD'nin tarafsızlık politikasını duyurması
E) Berlin - Roma Mihveri'nin kurulması

37. Aşağıdakilerden hangisinde II. Dünya Savaşı'na katılan devlet - lider eleştirmesi yanlış yapılmıştır?

Devlet	Lider
A) Almanya	Adolf Hitler
B) İtalya	De Gaulle
C) ABD	Roosevelt
D) SSCB	Joseph Stalin
E) Japonya	İmparator Hirohito

38. II. Dünya Savaşı'na giden dönemde İngiltere Başbakanı Chamberlain'le özdeşleşen dış politika aşağıdakilerden hangisidir?

- A) Yatıştırma politikası
B) Sömürgeleştirme politikası
C) Mandalaştırma politikası
D) Pasifleştirme politikası
E) Yıldırma politikası

39. Aşağıdakilerden hangisi Winston Churchill ile Roosevelt arasında imzalanan 14 Ağustos 1941 Atlantik Bildirgesi'nin maddelerinden biri değildir?

- A) Savaştan sonra toprak kazanılamayacak
B) İlgili halkın onayı alınmadan toprak değişimi yapılmayacak
C) Manda ve himaye rejimi geliştirilecek
D) Uluslar kendi geleceklerini kendileri saptayacak
E) Açık denizlerde ticaret serbestliği getirilecek

40. Uluslararası Atom Enerji Ajansı'nın kısaltılmış şekli aşağıdakilerden hangisidir?

- A) IAEA B) IBRD C) HABİTAT
D) UNDOF E) UNESCO

41. Az sayıdaki İsrail ordusunun 1967 Arap - İsrail Savaşı'nda beş Arap ülkesini yenmesi aşağıdakilerden hangisinin gelişmesinde doğrudan etkili olmuştur?

- A) İsrail Devleti'nin kurulmasına
B) Arap Milliyetçiliğinin gelişmesine
C) Büyük Arabistan krallığının kurulmasına
D) Filistin'de manda yönetiminin sona ermesine
E) Filistin'in bağımsızlığını ilan etmesine

42. 1950'de başlayan Kuzey - Güney Kore Savaşı aşağıdaki ateşkes antlaşmalarından hangisiyle sona ermiştir?

- A) Panmunjom Ateşkesi
B) Rethondes Ateşkesi
C) Villa Gusti Ateşkesi
D) Selanik Ateşkesi
E) Mudanya Ateşkesi

43. Aşağıdakilerden hangisi 21 Temmuz 1946'da yapılan genel seçimlerde uygulanan sistemlerden değildir?

- A) Açık oy - gizli sayım
B) Gizli oy - açık sayım
C) Çoğunluk sistemi
D) Tek dereceli seçim
E) Yargı denetimine kapalı

44. I. Yaşar Doğu
II. Celal Atik
III. Muzaffer Bilge
IV. Nasuh Akar
V. Hamza Yerlikaya

Yukarıdaki güreşçilerden hangisi 1948 Londra olimpiyatlarında altın madalya almamıştır?

- A) I B) II C) III D) IV E) V

TARİH TESTİ

1. Bu testte 44 soru vardır. Bu test için verilen süre 65 dakikadır.
2. Cevaplarınızı, cevap kâğıdının Tarih Testi için ayrılan kısmına işaretleyiniz.

1. Türkler yerleşik hayata sahip olmadıkları için put-perestlik ve bu putların olduğu tapınaklar yoktur. Tek tanrı inancı vardır.

Buna göre, Türklerde tapınakların olmamasında aşağıdakilerden hangisi etkili olmuştur?

- A) Töreye göre yönetilmeleri
- B) Sosyal eşitliğin olması
- C) Çin ile mücadele etmeleri
- D) Göçebe yaşam şeklini sürdürmeleri
- E) Yazılı kültürün gelişmemesi

2. Kavimler Göçü sırasında,

- I. Avrupa'da Hun Devleti'nin kurulması,
- II. Avrupa'da feodalite rejiminin yaygınlaşması,
- III. Avrupa'nın siyasal yapısının değişmesi

hangilerinin doğrudan Türk kültürünün Avrupa'da tanınmasını sağladığı savunulabilir?

- A) Yalnız I
- B) Yalnız II
- C) Yalnız III
- D) I ve II
- E) II ve III

3. Türklerin İslamiyete girmelerinde aşağıdakilerden hangisinin etkisi olmamıştır?

- A) İslam dini ile Türklerin inançları arasında benzerliklerin olması
- B) Abbasiler Dönemi'nde Türklere hoşgörülü davranılması
- C) Türklerdeki cihan hakimiyeti anlayışının İslamiyetteki fetih anlayışına benzemesi
- D) Arapça'nın resmi dil olarak kabul edilmesi
- E) Ticari amaçlarla Türk ülkelerine giden Müslüman Arapların çalışması

4. Türk toplum yapısını oluşturan,

- I. boy,
- II. aile,
- III. budun

kavramlarının küçükten büyüğe doğru sıralanması aşağıdakilerden hangisinde doğru verilmiştir?

- A) I, II, III
- B) I, III, II
- C) II, III, I
- D) II, I, III
- E) III, II, I

5. Büyük Hun İmparatorluğu'nun parçalanmasında,

- I. Çinlilerin Türk ülkesinde bölücü politikalar uygulaması,
- II. Çinlilerin İpek Yolu denetimini ele geçirmesi,
- III. Ülkenin hanedanın ortak malı sayılması

durumlarından hangileri etkili olmuştur?

- A) Yalnız I
- B) Yalnız II
- C) Yalnız III
- D) I ve III
- E) I, II ve III

6. I. Asya Hun Devleti
II. Kutluk Devleti
III. Uygur Devleti

Yukarıdaki verilen devletlerden hangilerinde yazılı kültür fazla gelişmemiştir?

- A) Yalnız I
- B) Yalnız II
- C) Yalnız III
- D) I ve II
- E) II ve III

7. Doğu ve Batı Türkistan'da kurulmuştur. Türkçe'yi resmi dil olarak kullanmışlardır. Türk tarihinde ilk medreseleri kurarak eğitime önem vermişlerdir.

Yukarıda bazı özellikleri verilen Türk devleti aşağıdakilerden hangisidir?

- A) Tolunoğulları B) Karahanlılar
C) Gazneliler D) Avarlar
E) İhsidiler

8. Aşağıdakilerden hangisi Türklerin İslam dünyasındaki hizmetlerinden birisi değildir?

- A) Haçlılara karşı İslam dünyasını korumaları
B) İslamiyet'in ilk kez Avrupa'da yayılmasını sağlamaları
C) Halifelik makamını koruyarak devam ettirmeleri
D) İslam kültür ve medeniyetinin gelişmesine ve yayılmasına katkıda bulunmaları
E) Müslümanların dünya siyasetinde etkili olmasını sağlamaları

9. Orta Çağ Avrupa'sının düşünce sistemi "gelecekçi, kalıplaşmış anlayışın var olduğu bir düşünce sistemine dayanıyordu." diyen bir tarihçiye göre bu düşünce sistemi aşağıdakilerden hangisidir?

- A) Pozitif B) Skolastik C) Hümanist
D) Liberal E) Sosyalist

10. Haçlı Seferleri'nin aşağıdaki sonuçlarından hangisinin dünya kültür tarihi açısından daha önemli olduğu ileri sürülebilir?

- A) Avrupalıların kağıt yapımını öğrenmesi
B) Hristiyanlığın Orta Doğu'da yayılması
C) Derebeylerin otoritesinin zayıflaması
D) Akdeniz limanlarının önem kazanması
E) Türklerin batı yönündeki ilerleyişinin durması

11. Türklerin Anadolu'yu fethetmesinde;

- I. halkın çoğunluğu sahil bölgelerine göç etmesiyle Anadolu'nun nüfusunun az olması
II. Bizans yönetiminden Anadolu halkının memnun olmaması
III. Anadolu'nun verimli topraklara sahip olması

durumlarından hangileri etkili olmuştur?

- A) Yalnız I B) Yalnız II C) I ve II
D) I ve III E) I, II ve III

12. Aşağıdaki savaşlardan hangisi Gaznelileri yıkılış süresine atarken Büyük Selçukluların kuruluş sürecini hızlandırmıştır?

- A) Dandanakan B) Katvan C) Malazgirt
D) Pasinler E) Yassı Çimen

13. Aşağıdakilerden hangisi Büyük Selçuklu Devleti'nin kurucusu olan Selçuk Bey'in bağlı olduğu Türk boyudur?

- A) Kayı B) Kınık C) Döğer
D) Dodurga E) Kıpçak

14. Anadolu ve Balkan topraklarında barış ve güvenliği sağlayan II. Murat, padişahlıktan çekilerek yerine 12 yaşındaki oğlu II. Mehmet geçmiştir.

Bu durum aşağıdakilerden hangisine neden olmuştur?

- A) Anadolu'da birliğin yeniden bozulmasına
B) Haçlıların anlaşmayı bozarak Osmanlıya savaş açmasına
C) Osmanlı Sarayı'nda taht kavgası çıkmasına
D) Celali İsyanları'nın başlamasına
E) Balkan topraklarının Osmanlı'nın elinden çıkmasına

15. 1444 Edirne - Segedin Antlaşması aşağıdaki devletlerden hangisi ile imzalanmıştır?

- A) Sırp Krallığı B) Macaristan
C) Bizans İmparatorluğu D) Romanya
E) Venedik

16. • Fransa
• İran
• Portekiz
• Almanya
• Avusturya

Osmanlı Devleti "Dünya Gücü" olduğu dönemde yukarıdaki devletlerden kaç tanesi ile doğrudan dostluk ilişkisi kurmuştur?

- A) 1 B) 2 C) 3 D) 4 E) 5

17. XVI. ve XVII. yüzyıllarda Osmanlı Devleti doğuda İran ve batıda ise Avusturya ile savaşlar yapmıştır. Bu durumun nedeni öncelikle aşağıdakilerden hangisidir?

- A) Coğrafi Keşiflerin etkisi
B) Devletin imparatorluk haline gelmesi
C) Sınırlarında sorunlar yaşaması
D) Yöneticilerin halka kötü muamelesi
E) Hristiyan birliğinin kurulması

18. Osmanlı toprakları üzerinde yaşayan her millet kendi dilini konuşur, ancak resmi yazışmalar Türkçe yapılırdı.

Buna göre,

- I. Osmanlı Devleti ulus devlet niteliği taşır.
II. Her millet kendi benliğini korumuştur.
III. Her millete hoşgörü ile yaklaşmıştır.

yargılarından hangilerine ulaşılabilir?

- A) Yalnız I B) Yalnız II C) Yalnız III
D) I ve II E) II ve III

19. – Divana sadrazamların başkanlık etmeye başlaması

- Vezirlerin sayısının artırılması
– Eyaletlerin kurulması

Yukarıdaki gelişmeler Osmanlı Devleti'ndeki hangi değişikliklerle açıklanabilir?

- A) Ülke topraklarının genişlemesi ve devletin büyümesi
B) Divanın padişahın üzerinde bir güç haline gelmesi
C) Padişahların yetenezsiz kişiler olmaları
D) Padişahların yetkilerinin kısıtlanması
E) Merkezi gücün zayıflaması

20. Kadıların görevlerinden bazıları şunlardır:

- I. kanun kaçaklarının cezalandırılmasını sağlamak,
II. halk arasındaki sorunları çözmek,
III. vasiyet, miras ve ticaret gibi davalara bakmak,
IV. merkezden gelen tüm emirleri duyurmak,
V. bulunduğu bölgelerdeki vergileri toplamak

Bu görevlerden hangileri kadıların adli görevleri arasında gösterilemez?

- A) I ve II B) II ve III C) IV ve V
D) I, II ve III E) II, IV ve V

21. I. Şehremini
II. Sadrazam
III. Taht Kadısı

Yukarıdakilerden hangileri Osmanlı Devleti'nde bugünkü anlamda belediye başkanı görevini yürütmektedir?

- A) Yalnız I B) Yalnız II C) Yalnız III
D) I ve II E) I, II ve III

22. Osmanlı Devleti XVI. ve XVII. yüzyılda Avusturya karşısında üstünlüğünü aşağıdaki antlaşma eşleştirmelerinden hangisiyle kazanmış ve kaybetmiştir?

- A) Vasvar - Zitvatorok
B) Bucuş - Karlofça
C) İstanbul - Zigetvar
D) Zıstovi - Karlofça
E) İstanbul - Zitvatorok

23. Osmanlı Devleti'nde ilk ıslahat hareketleri XVII. yüzyılda başlamıştır.

Bu durumun öncelikli amacı aşağıdakilerden hangisi olmuştur?

- A) İdari, askeri ve mali açıdan devleti güçlendirme
B) Avrupa'daki gelişmeleri yakından izleme
C) Halkın yönetime katılmasına sağlama
D) İmar faaliyetlerini hızlandırma
E) Toplumsal dayanışmayı güçlendirme

4. XVIII. yüzyıl sonlarında pek çok devlet Fransız İhtilali'nin etkilerine maruz kalmıştır.

Buna göre, Osmanlı Devleti aşağıdaki antlaşmalardan hangisini doğrudan Fransız İhtilali'nin etkisiyle imzalamıştır?

- A) El - Arış
B) Aynalı Kavak
C) Zıstovi
D) İstanbul
E) Küçük Kaynarca

5. Aşağıdakilerden hangisi Avrupa'da kilise ve papanın dinsel bir güç haline geldiğini gösteren örnek değildir?

- A) Skolastik düşüncenin yaygınlaşması
B) Kralların papanın elinden taç giymesi
C) Afaroz ve enterdi yetkilerine sahip olması
D) Endüljans uygulamasının olması
E) Haçlı Seferleri'ni düzenlemesi

6. Osmanlı Devleti'nde askeri amaçlı ilk nüfus sayımı aşağıdakilerden hangisinin döneminde gerçekleştirilmiştir?

- A) II. Mahmut
B) Abdülaziz
C) Abdülmecit
D) II. Abdülhamit
E) III. Selim

7. XIX. yüzyılda Osmanlı Devleti'nin imzaladığı

- Londra (1841),
- Hünkar İskeleyi,
- Kaleisultaniye

antlaşmalarının ortak konusu aşağıdakilerden hangisidir?

- A) Boğazlar
B) Kapitülasyonlar
C) Azınlıklar
D) İstanbul'un yönetimi
E) Kutsal Yerler Sorunu

28. Osmanlı Devleti'nde XV. ve XVI. yüzyılda nüfusun giderek artmasında,

- I. her ırk ve dine inanç özgürlüğünün tanınması,
- II. doğuda ve batıda fetihlerin giderek artması,
- III. göçerlerin yerleşik hayata teşvik edilmesi

gelişmelerinden hangileri doğrudan etkili olmuştur?

- A) Yalnız I
B) Yalnız II
C) Yalnız III
D) I ve III
E) I, II ve III

29. – Tanzimat Fermanı'yla Hristiyan - Müslüman eşitliği sağlandı.

- Islahat Fermanı'yla Müslüman olmayanlara devlet memuru olma hakkı sağlandı.
- Kanunuesasi'yle Azınlıklara mecliste temsil hakkı verildi.

Bu gelişmeler, aşağıdakilerden hangisini kanıtlamaktadır?

- A) Yeniçerilerin yenilik istediği
B) Teokratik yapının korunmak istendiği
C) Azınlık sorununun çözülmeye çalışıldığı
D) Devletin siyasi rejiminin değiştirilmek istendiği
E) Çağdaş bir devlet modeli oluşturulmak istendiği

30. Aşağıda verilen Osmanlı medeniyeti ve kurumları ile ilgili olarak aşağıdaki eşleştirmelerden hangisi yanlıştır?

- A) Kapanemini : Mahalle bekçisi
B) İcazet: Ustalık belgesi
C) Gedik: Dükkan açma yetkisi
D) Şehremini: Belediye başkanı
E) Köy Kethüdası: Muhtar

31. 1917 yılında Rusya'da maliye iflas etmişti. Vergi sistemi adaletsizdi. Savaş harcamaları dış borçlarla sağlanmaktaydı.

Bu durum Rusya'da aşağıdakilerden hangisine neden olmuştur?

- A) Rusya'nın Birinci Dünya Savaşı'na girmesine
B) Rusya'da Bolşevik İhtilali'nin çıkmasına
C) Rusya'da Çarlık rejiminin galip gelmesine
D) Rusya'nın İttifak Devletleri'ni desteklemesine
E) Rusya'da Çarlık rejiminin güçlenmesine

32. Aşağıdakilerden hangisi Sovyet Sosyalist Cumhuriyetler Birliği'ni oluşturan Cumhuriyetlerden birisi değildir?

- A) Rusya Federatif Sovyet Sosyalist Cumhuriyeti
B) Estonya Sovyet Sosyalist Cumhuriyeti
C) Ermeni Sovyet Sosyalist Cumhuriyeti
D) Tacik Sovyet Sosyalist Cumhuriyeti
E) Çin Halk Cumhuriyeti

33. Aşağıdakilerden hangisi Balkan Antantı'na Birinci Dünya Savaşı sonrası Ege Denizi'ne çıkışı kapatıldığı için katılmamıştır?

- A) Türkiye
B) Yunanistan
C) Bulgaristan
D) Romanya
E) Yugoslavya

34. II. Dünya Savaşı'nda, İtalya'nın Fransa'ya savaş ilan ederek Almanya'nın yanında savaşa girmesi İngiltere'yi tedirgin etmiştir.

Bu durumun temel nedeni aşağıdakilerden hangisidir?

- A) İtalya'nın Hristiyanlığın merkezi olması
B) İtalya'nın Uzak Doğu yolu üzerinde bulunması
C) Dünya ekonomisini yönlendirmesi
D) İtalya'da Faşist bir rejimin olması
E) İtalya'nın askeri gücünün fazla olması

35. ABD başkanı Eisenhower,

- Orta Doğu ülkelerinin bağımsızlığını koruması ve ekonomik kalkınmasını sağlamak için yardım yapılmasını,
- İsteyen Orta Doğu ülkelerinin askeri yardımlarla güçlendirilmesini istemiştir.

Buna göre, Eisenhower aşağıdakilerden hangisini amaçlamıştır?

- A) ABD'nin sömürgelerini artırmak
B) Orta Doğu'da Sovyet yayılmasını engellemek
C) Kuzey - Güney Savaşı'na engel olmak
D) Askeri darbeleri önlemek
E) Orta Doğu'ya demokrasiyi getirmek

36. Cumhuriyet Halk Partili bazı milletvekilleri 1945 yılı bütçe görüşmeleri sırasında "Çiftçi Topraklandırma Kanunu" tartışılırken "Dörtü Takrir" yayınlayarak red oyu vermişlerdir.

Bu durum aşağıdaki siyasal partilerden hangisinin kurulmasına neden olmuştur?

- A) Cumhuriyet Halk Partisi
B) Terakkiperver Cumhuriyet Partisi
C) Serbest Cumhuriyet Partisi
D) İttihat ve Terakki Partisi
E) Demokrat Parti

37. 1979'da İran'da İslam Devrimi yapılarak dini lider Humeyni iktidara gelmiştir.

Bu durum;

- I. İran'ın devrim felsefesini bölgeye yaymak istemesi,
- II. İran rejiminin bölgede Şiileştirme politikası
- III. İran'la Irak arasında Basra Körfezi hakimiyeti

etkenlerinden hangileri sonucunda İran - Irak Savaşı başlamıştır?

- A) Yalnız I
B) Yalnız III
C) I ve II
D) II ve III
E) I, II ve III

38. Uzayla ilgili,

- I. Aya ilk kez çıkılması,
 - II. Yapay uydunun ilk kez yörüngeye oturtulması,
 - III. Uzaya ilk kez insansız araç gönderilmesi
- gelişmelerinden hangileri Sovyetler Birliği ile ilgilidir?

- A) Yalnız I
B) Yalnız II
C) Yalnız III
D) I ve II
E) I, II ve III

39. I. Dünya Savaşı'ndan hemen sonra Türk dış politikasının olmazsa olmazları aşağıdakilerden hangisidir?

- A) Ulusal ve bölgesel barış sağlanmalıdır.
- B) Amerika Birleşik Devletleri doğal müttefikimizdir.
- C) Sovyet Rusya'daki Türklere mutlaka sahip çıkılacaktır.
- D) Milli sınırlar içinde vatan bir bütündür parçalanmaz.
- E) İkinci Dünya Savaşı'nda tarafsız olunacaktır.

40. Aşağıdakilerden hangisi Hitler'in dış politikadaki önceliklerinden birisidir?

- A) Almanya'nın Versay Antlaşması'nın bağlayıcı hükümlerinden kurtarılması
- B) Amerika Birleşik Devletleri'nin Monroe Doktrininden vazgeçmesi
- C) Sovyet Rusya'da rejim değişikliği olması
- D) Uzak Doğu topraklarında sömürge elde edilmesi
- E) Habeşistan'ın işgal edilmesi

41. Yumuşama Dönemi'nin gerçekleşmesi'nde,

- I. Nükleer silahların azalması,
 - II. Sovyet dış politikasındaki değişim,
 - III. Üçüncü Dünya devletlerinin etkisinin artırması
- gibi etkenlerden hangileri etkili olmuştur?
- A) Yalnız I
 - B) Yalnız II
 - C) Yalnız III
 - D) I ve II
 - E) II ve III

42. Amerika Birleşik Devletleri'nin Vietnam'daki Güney - Kuzey Savaşı'nda Güney Vietnam'a askeri ve ekonomik destek vermesi, hatta savaşması, aşağıdakilerden hangisiyle açıklanabilir?

- A) Birleşmiş Milletler Teşkilatı'nı etkili kılmak
- B) Güney Vietnam'ın komünizm altına girmesine engel olmak
- C) Japonya'nın bölgede hakimiyet kurmasını sağlamak
- D) Vietnam'ın demokratikleşmesini sağlamak
- E) Vietnam'ın ayrışmasını önlemek

43. Türkiye,

- I. Ermenistan,
- II. İran,
- III. Yunanistan

gibi ülkelerden hangisiyle sözde soykırım sorunu yaşamaktadır?

- A) Yalnız I
- B) Yalnız II
- C) Yalnız III
- D) I ve II
- E) I, II ve III

44. Amerika Birleşik Devletleri 11 Eylül 2001'deki Dünya Ticaret Merkezi'ne yapılan saldırıyı bahane ederek aşağıdaki ülkelerden hangilerini işgal etmiştir?

- A) İran - Pakistan
- B) Irak - Afganistan
- C) Suriye - Filistin
- D) Kuveyt - Suudi Arabistan
- E) Libya - Cezayir

TARİH TESTİ

1. Bu testte 44 soru vardır. Bu test için verilen süre 65 dakikadır.
2. Cevaplarınızı, cevap kâğıdının Tarih Testi için ayrılan kısmına işaretleyiniz.

1. İslam öncesi Türk tarihini öğrenmek için daha çok aşağıdaki uygarlıklardan hangilerine ait kaynaklara başvurmak gerekir?

- A) Arap - İran
- B) İngiliz - Fransız
- C) İspanyol - Portekiz
- D) Çin - Bizans
- E) Alman - Rus

2. I. Avrupa'ya Hun akınlarının yapılması
II. Avrupa Hun Devleti'nin yıkılması
III. Barutun ateşli silahlarda kullanılması

Yukarıdaki gelişmelerden hangileri Avrupa'da Orta Çağ boyunca sürecektir olan Kavimler Göçü'nün doğmasına neden olmuştur?

- A) Yalnız I
- B) Yalnız II
- C) Yalnız III
- D) I ve II
- E) I, II ve III

3. Köktürk Yazıtları aşağıdaki hükümdarlardan hangileri adına dikilmiştir?

- A) Teoman - Mete Han
- B) Bilge Kağan - Kültigin
- C) Balamir - Attila
- D) Kutluk Kağan - Kapgan Kağan
- E) Almış Han - Kubrat Han

4. I. Parayı kullanan ilk Türk Devletidir.
II. İstanbul'u kuşatan ilk Türk Devletidir.
III. Museviligi benimseyen ilk Türk Devletidir.

Yukarıda verilen özelliklerden hangileri Hazarlara aittir?

- A) Yalnız I
- B) Yalnız II
- C) Yalnız III
- D) I ve II
- E) II ve III

5. Aşağıdaki olaylardan hangisi İslam Dünyası'nı diğerlerine göre olumlu yönde etkilemiştir?

- A) Talas Savaşı
- B) Haçlı Savaşları
- C) Köseadağ Savaşı
- D) Coğrafi Keşifler
- E) Fransız İhtilali

6. Aşağıdaki Türk boylarından hangileri Hristiyanlığı benimsemelerine rağmen asimile olmamışlardır?

- A) Macarlar
- B) Bulgarlar
- C) Peçenekler
- D) Avarlar
- E) Gagavuzlar

7. Orhun Abideleri'nde geçen "açların doyurulması, fakirlerin zenginleştirilmesi, açıkların giydirilmesi" gibi ifadeler ile toy şölenlerinin düzenlenmesi aşağıdakilerden hangi anlayışın uygulandığını göstermektedir?

- A) Demokratik Devlet
- B) Sosyal Devlet
- C) Liberal Devlet
- D) Totaliter Devlet
- E) Monarşik Devlet

8. Aşağıdakilerden hangisi Türk İslam devletleri, Selçuklular ve Osmanlılarda hükümdarların imza ve alameti olarak kullanılan mühürlere verilen isimdir?

- A) Nevbet
- B) Tuğ
- C) Otağ
- D) Sancak
- E) Tuğra

9. Aşağıdakilerden hangisi Büyük Selçuklu Devleti'nde mali işlerle ilgilenen divandır?

- A) Divanistifa
- B) Divanıarz
- C) Divanışraf
- D) Divanıinşa
- E) Divanısaltanat

10. I. Serhenk
II. Emriahur
III. Emrimedlis
- Yukarıdakilerden hangileri Selçuklularda Sultanın atlarının ve saraydaki diğer hayvanların bakımından sorumlu kişidir?

A) Yalnız I B) Yalnız II C) Yalnız III
D) I ve II E) I, II ve III

11. Aşağıdakilerden hangisi Haçlı Seferleri'nin ekonomik sonuçlarından biri değildir?

A) Akdeniz ticareti gelişti.
B) Bankacılık gelişti.
C) Ticaretle uğraşan burjuva sınıfı ortaya çıktı.
D) Avrupalılar cam ve deri işleme sanatını öğrendi.
E) Avrupa'ya doğunun zenginliği taşındı.

12. Büyük Selçuklularda yüksek mahkeme niteliğinde olan Divanımezalim'e aşağıdakilerden hangisi başkanlık ederdi?

A) Sultan B) Kadıkudat
C) Emiridad D) Kazasker
E) Hacıp

13. Türklerin Anadolu'yu hızla ele geçirdiğini gören Bizans imparatoru 1176 yılı Eylül ayında ordusuyla Eğirdir Gölü kenarında Sultandağı'na geldi. Ani baskınlarla Türkler tarafından yıpratılan Bizans ordusu burada bir kez daha yenildi. Böylece Türkleri Anadolu'dan atma ümidi söndü.

Yukarıda bahsedilen savaş aşağıdakilerden hangisidir?

A) Malazgirt
B) II. Haçlı Seferi
C) Miryokefalon
D) Kalesultani
E) Koyunhisar

14. Yıldırım Bayezit döneminde Aydınoğulları, Saruhanlıoğulları, Menteşeoğulları, Yavuz Sultan Selim döneminde ise Dulkadiroğulları Beylikleri Osmanlı egemenliğine girmiştir.

Bu durum için aşağıdakilerden hangisi söylenemez?

A) Anadolu'da Türk siyasi birliği sağlanmaya çalışılmıştır.
B) Tamamen Balkanlar'a kıyası olan beylikler alınmıştır.
C) Fethedilen topraklar Osmanlı'nın gelirlerini artırmıştır.
D) Osmanlı'nın sınırları doğu ve batı yönünde genişletilmiştir.
E) Balkan fetihlerinde ihtiyaç duyulan Türk nüfusu artmıştır.

15. Osmanlı Devleti, Anadolu Türk siyasi birliğini sağlarken aşağıdaki yöntemlerden hangisini doğrudan kullanmamıştır?

A) Asimile etme
B) Çeyiz alma
C) Satın alma
D) Taht kavgalarına katılma
E) Savaş yapma

16. I. Mora
II. Sırbistan
III. Bulgaristan
IV. Macaristan
V. Kırım

Osmanlı Devleti yukarıdakilerden hangisi ya da hangilerini Niğbolu Savaşı'ndan sonra tamamen topraklarına katmıştır?

A) Yalnız I B) Yalnız II C) Yalnız III
D) I ve IV E) II ve IV

17. Aşağıdakilerden hangisi 1479 yılında Osmanlı Devleti ile Venedik arasında imzalanan antlaşmaların özelliklerinden birisi değildir?

A) Venedik Osmanlı'ya savaş tazminatı ödeyecek.
B) Venedik Osmanlı sularında ticaret yapacak
C) Venedik İstanbul'da elçi bulunduracak
D) Venedik Osmanlı vatandaşı olan azınlıkların koruyucusu olacak
E) Osmanlı devleti Venedik Devleti'nden vergi alacak

18. Aşağıdakilerden hangisi Osmanlı Devleti'nin Balkanlarda fetih hareketlerinde uyguladığı politikalara örnek olarak gösterilebilir?

A) Ele geçirdiği bölgeleri tamamen özgür bırakmak
B) Halkı zorla Müslümanlaştırmak
C) Bölgeye baskıcı idareciler görevlendirmek
D) Baskı politikasıyla halkı otoriteye boyun eğdirmek
E) Bazı Türk gruplarını fethedilen yerlere yerleştirmek

19. Aşağıdakilerden hangisi Osmanlı Devleti'nin XV. ve XVI. yüzyıllarda uyguladığı politikalarından biri değildir?

A) Önemli ticaret yollarını egemenlik altına almak
B) Hristiyan dünyasının birleşmesini engellemek
C) Anadolu'da kesin bir Türk birliği sağlamak
D) İslam dünyasının liderliğini ele geçirmek
E) İslahatlar için Avrupa'dan uzman getirmek.

20. Aşağıdakilerden hangisi XVII. yüzyılın sonunda Osmanlı'ya karşı oluşturulan Kutsal İttifaka katılan devletlerden biri değildir?

A) Avusturya B) Almanya C) Malta
D) Lehistan E) Rusya

21. Osmanlı Devleti'nde,

I. Avrupa'ya ilk kez geçici elçiliklerin açılması,
II. içki, tütün ve gece sokağa çıkmanın yasaklanması,
III. saray kadınlarının yönetimindeki etkinliğine son verilmesi,
IV. askeri yenilikler için Avrupalı uzmanlar getirilmesi

gelişmelerinden hangileri IV. Murat döneminde gerçekleşmemiştir?

A) Yalnız I B) Yalnız II C) I ve II
D) II ve III E) I ve IV

22. Aşağıdaki devletlerden hangileri Süveyş Kanalı'nın açılması sonucunda doğrudan rekabet içine girmiştir?

A) Avusturya - Rusya
B) İngiltere - Fransa
C) Fransa - Rusya
D) Osmanlı - İngiltere
E) Rusya - İngiltere

23. I. Vakaivakvakiye Olayı
II. Navarin Olayı
III. Edirne Olayı

Yukarıdaki gelişmelerden hangileri Osmanlı tahtında değişikliğe neden olmuştur?

A) Yalnız I B) Yalnız II C) Yalnız III
D) I ve III E) I, II ve III

24. I. Yedi Yıl Savaşları
II. Otuz Yıl Savaşları
III. Yüz Yıl Savaşları

Yukarıdaki savaşlar aşağıdakilerden hangisinde verilen sıraya göre gerçekleşmiştir?

A) I - III - II B) I - II - III C) III - I - II
D) III - II - I E) II - I - III

25. Avrupa'da dini hayatla ilgili olarak aşağıdaki eşleştirmelerden hangisi doğrudur?

Kişileri dinden çıkarma	Bir bölgede yaşayanları dinsel faaliyetlerden men etme
-------------------------	--

- A) Endüljans Enterdi
B) Enterdi Aforoz
C) Engizisyon Endüljans
D) Aforoz Engizisyon
E) Aforoz Enterdi

26. Osmanlı Devleti'nde Anadolu ve Rumeli Beylerbeylikleri'nin kurulmasıyla asıl olarak aşağıdakilerden hangisi amaçlanmıştır?

- A) Ülke yönetimini daha kolay hale getirmek
B) Hristiyan dünyasını etkisiz hale getirmek
C) İstanbul'un güvenliğini sağlamak
D) Doğu - Batı ticaret yolunu egemenlik altına almak
E) Anadolu Türk siyasal birliğini sağlamak

27. Osmanlı Devleti'nde adetiğnam vergisi aşağıdaki alanlardan hangisinden alınan bir vergidir?

- A) Ticaret B) Hayvancılık C) Sanayi
D) Madencilik E) Tarım

28. Osmanlı "Millet Sistemi" farklı inançlara sahip insanlara, kendi inançlarının ve hatta hukuklarının gerektirdiği şekilde yaşama imkanı tanımasıydı.

Buna göre, aşağıdakilerden hangisinin "Millet Sistemi" nin gereği olarak Osmanlı Devleti'nde görülmesi beklenemez?

- A) Patrik, hahambaşı ve metropolitlerin özgürce yaşaması
B) Gayrimüslimlerin can ve mallarının güvence altına alınması
C) Her türlü din ve inancın asimile edilmesi
D) Osmanlı yöneticilerinin adil ve hoşgörülü olması
E) Osmanlı topraklarının farklı kültürler için cazibe merkezi haline gelmesi

29. Osmanlı Devlet yönetiminde başlangıçta "Ülke hanedan üyelerinin ortak malıdır." anlayışı varken, I. Murat döneminden itibaren "ülke padişah ve oğullarının malıdır." anlayışı behimsenmiştir.

Bu değişikliklerle aşağıdakilerden hangisi hedeflenmiştir?

- A) Toplumsal birliği kuvvetlendirmek
B) Anadolu Türk siyasi birliğini kurmak
C) Taht kavgalarını engellemek
D) Hanedanı tehlikelerden korumak
E) Devletin giderlerini azaltmak

30. Osmanlı toprak sistemi ile ilgili olarak aşağıdaki eşleştirmelerden hangisi yanlıştır?

- A) Paşmaklık: Gelirleri kale muhafızlarına ve tersane giderlerini ayrılır.
B) Malikane: Üstün hizmetlerine karşılık bazı devlet görevlilerine verilir.
C) Mukataa: Gelirleri doğrudan doğruya devlet hazinesine gitmek üzere ayrılır.
D) Vakıf: Gelirleri sosyal kurumların masraflarına ayrılır.
E) Dirlik: Gelirleri devlet görevlilerine verilir.

31. Aşağıda Lozan Antlaşması sonrası bazı devlet ve bunlarla yaşadığımız sorunlar eşleştirilmiştir.

Bu eşleştirmelerden hangisi yanlıştır?

- A) Suriye - Hatay Sorunu
B) Yunanistan - Nüfus Mübadelesi Sorunu
C) Fransa - Dış Borçlar Sorunu
D) Sovyet Rusya - Kapitülasyonlar Sorunu
E) İngiltere - Musul Sorunu

32. Aşağıdakilerden hangisi Türkiye'nin iç sorunu ile uğraşırken kaybettiği Misakımilli topraklarındandır?

- A) Batı Trakya B) Musul
C) Ege Adaları D) On İki Ada
E) Kıbrıs

33. • Kahire
• Tahran
• Moskova

1943 yılında düzenlenen yukarıdaki konferansların ortak noktası aşağıdakilerden hangisidir?

- A) Türkiye'nin İkinci Dünya Savaşı'na girmesinin görüşülmesi
B) İngiltere'nin en güçlü devlet olduğunun ilan edilmesi
C) Sovyet Rusya'nın çarlık rejimine dönmesinin sağlanması
D) Türkiye'nin ekonomik olarak kalkındırılmak istenmesi
E) Montrö Boğazlar Sözleşmesi'nin değiştirilmek istenmesi

34. Dünyanın değişik ülkelerinden İkinci Dünya Savaşı sonrası Filistin'e yapılan Yahudi göçü hızlanmış ve Filistin nüfusunun üçte birini oluşturmuştur.

Bu durum aşağıdakilerden hangisine neden olmuştur?

- A) Bölgede nüfus yapısının değişmesi
B) İsrail Devleti'nin kurulması
C) Arap - İsrail Savaşları'nın başlaması
D) Sovyet Rusya'nın Filistin'e askeri müdahalede bulunması
E) ABD'nin Birleşmiş Milletler Teşkilatı'nda İsrail'i desteklemesi

35. I. Yeni anayasa hazırlamak
II. Siyasal partiler ve seçim kanunu hazırlamak
III. TBMM yeniden açılıncaya kadar yasama görevini yerine getirmek

Yukarıdakilerden hangileri Kurucu Meclis'in özelliklerinden birisidir?

- A) Yalnız I B) Yalnız II C) I ve II
D) II ve III E) I, II ve III

36. 1982 Anayasa'nın yapılmasında,

- I. Prof Dr. Orhan Aldıkaçtı,
II. Prof Dr. İlber Ortaylı,
III. Prof Dr. Mümtaz Soysal

gibi bilim adamlarından hangisi ya da hangileri Anayasa Komisyonu başkanı olarak çalışmıştır?

- A) Yalnız I B) Yalnız II C) Yalnız III
D) I ve II E) I, II ve III

37. Kopenhag Kriterleri'nden olan;

- I. istikrarlı piyasa ekonomisinin uygulanması,
II. insan yaşamı için gerekli olan insan haklarına saygının korunması
III. siyasi, ekonomik ve parasal olarak AB'ye uyum sağlayacak kapasiteye sahip olunması

durumlarından hangileri Avrupa Birliğine tam üyelik için aday ülkelerden istenen uyum şartlarındandır?

- A) Yalnız I B) Yalnız II C) Yalnız III
D) I ve II E) I, II ve III

38. Ülkemizde meydana gelen erozyonun;

- I. içme sularının azalması,
II. verimli toprak kaybının olması,
III. beslenme sorununun ortaya çıkması

sonuçlarından hangilerine yol açtığı söylenebilir?

- A) Yalnız I B) Yalnız II C) Yalnız III
D) I ve II E) I, II ve III

39. 1951'de Avrupa Kömür ve Çelik Topluluğu'nun kurulması,

- I. Avrupa Birliği,
II. Comecon,
III. Bağlantısızlar

gibi kuruluşlardan hangilerinin temelini atılması sağlanmıştır?

- A) Yalnız I B) Yalnız II C) I ve II
D) II ve III E) I, II ve III

40. Aşağıdakilerden hangisi kültürel alandaki küreselleşmenin bir sonucudur?

- A) Biyolojik alandaki gelişmelerin artması
- B) Toplum alışkanlıklarının ve yaşamının benzeşmesi
- C) Milli devletlerin çoğalması
- D) Uluslararası terörün azalması
- E) Kapitalizm'in zayıflaması

41. • Edison

- Ernst Alexanderson
- Aleksander Stepanoviç Popof

Yukarıdaki bilim adamlarının çalışmalarıyla gelişen buluş aşağıdakilerden hangisidir?

- A) Televizyon
- B) Telgraf
- C) Radyo
- D) Sinema
- E) Elektrik

42. Mac Bride, "Bir çok ses tek bir dünya" isimli raporunda kitle iletişim araçlarının aşağıdaki özelliklerinden hangisinden bahsetmiştir?

- A) Habercilik - Toplumsallaşma
- B) Motivasyon - Tartışma
- C) Eğitim - Kültürel gelişme
- D) Eğlence - Bütünleştirme işlevi
- E) Seyretme - Aldatıcılık

43. Avrupa Ekonomik Topluluğu'nun kuruluşunda,

- I. Fransa,
- II. Almanya,
- III. İngiltere

ülkelerinden hangileri yer almamıştır?

- A) Yalnız I
- B) Yalnız II
- C) Yalnız III
- D) II ve III
- E) I, II ve III

44. İkinci Dünya Savaşı sırasında,

- I. savaştan sonra toprak kazanılmayacak,
- II. uluslar kendi geleceklerini kendisi belirleyecek,
- III. insanlar korku ve açlıktan kurtarılacak

gibi kararlar alınmıştır. Alınan bu kararlar aşağıdakilerden hangisinde alınmıştır?

- A) Atlantik Bildirisi
- B) Monroe Doktrini
- C) Wilson Prensipleri
- D) Yalta Konferansı
- E) Münih Konferansı

TARİH TESTİ

1. Bu testte 44 soru vardır. Bu test için verilen süre 65 dakikadır.
2. Cevaplarınızı, cevap kâğıdının Tarih Testi için ayrılan kısmına işaretleyiniz.

1. Aşağıdakilerden hangisi Tonyukuk'un Çin'de olduğu gibi büyük şehirlerin etrafının surlarla çevrilmesine, Budizm dinin Türkler arasında yayılmasına karşı çıkma nedenlerinden birisidir?

- A) Çin'le ticaret antlaşmaları yapması
- B) İpek Yolu üzerinde hakimiyet kurmak istemesi
- C) Dış siyasette güçlü olmak istemesi
- D) Türklerin Budist düşüncesi ve Çin nüfusu içinde erimesini önlemek istemesi
- E) Çin'e daha çok sefer düzenlemek istenmesi

2. Mukan Kağan döneminde Köktürkler İpek Yolu'nun denetimini ele geçirmek için Sasanilerle işbirliği yaparak aşağıdaki Türk Devletleri'nden hangisini ortadan kaldırmıştır?

- A) Ak Hunlar
- B) Kitanlar
- C) Kırgızlar
- D) Tölesler
- E) Türgişler

3. I. Kut
II. Tanhu
III. Toy

Yukarıdakilerden hangileri İslam öncesi Türk devletlerinde hükümdara yönetme yetkisinin verildiğine inanılan düşüncedir?

- A) Yalnız I
- B) Yalnız II
- C) Yalnız III
- D) I ve II
- E) I, II ve III

4. Aşağıdakilerden hangisi Orta Asya'da kurulan Türk İslam devletlerinden biridir?

- A) Tolunoğulları
- B) Memlükler
- C) Akşitler
- D) Gazneliler
- E) Eyyubiler

5. Aşağıdakilerden hangisi İslami dönem Türk edebiyatının ilk eserlerinden olan Kutadgu Bilig'in özelliklerinden biri değildir?

- A) Uygur alfabesiyle yazılmıştır.
- B) Hükümdarlara öğüt veren siyasetname özelliği taşır.
- C) Mutluluk veren bilgi anlamına gelir.
- D) Birey, toplum, devlet ilişkileri ile ilgili erdemleri anlatır.
- E) Türk dilinin Arapça'dan üstün olduğu gösterilmek istenmiştir.

6. I. Hindistan'ın İslamlaşmasının sağlanması
II. Çeşitli etnik unsurlardan oluşması
III. Büyük Selçuklularla hakimiyet mücadelesi yapması

Durumlarından hangileri Gaznelilerin Tolunoğulları ve İhşidilere benzeyen ve devletin yıkılmasına neden olan özelliklerdendir?

- A) Yalnız I
- B) Yalnız II
- C) Yalnız III
- D) I ve II
- E) I, II ve III

7. Büyük Selçuklular'da 1091 - 1118 yılları arasında kapsayan Fetret Devri'nin yaşanmasının temel nedeni aşağıdakilerden hangisidir?

- A) Ülkenin hükümdar ailesinin ortak malı anlayışı
- B) Haçlı saldırılarının başlaması
- C) Sınırlarının çok fazla genişlemesi
- D) Karahitaylar karşısında alınan yenilgi
- E) Sultan Sencer'in tahta çıkması

8. 1071 Malazgirt Savaşı sonrası kurulan,

- I. Çaka Beyliği,
- II. Artuklular Beyliği,
- III. Danişmentliler Beyliği

gibi beyliklerden hangilerinin Bizans İmparatorluğu ile **daha çok** mücadele ettiği söylenebilir?

- A) Yalnız I B) Yalnız II C) Yalnız III
D) I ve II E) II ve III

9. • El Medinet'ül Fazıla
• Füsüsülhikem
• El Manial Akıl

adlı eserleri olan Batılıların Alfabi olarak adlandırdığı ünlü Türk bilgini aşağıdakilerden hangisidir?

- A) İbni Sina B) Ömer Hayyam
C) Farabi D) Biruni
E) Nizamülmülk

10. Türkiye Selçukluları,

- I. Miryokefalon,
- II. Yassı Çimen,
- III. Köseadağ

savaşlarını aşağıdaki devletlerden hangileri ile yapmıştır?

I	II	III
A) Harzemşahlar	Eyyubiler	Memlükler
B) Moğollar	Bizans	Büyük Selçuklular
C) Bizans	Harzemşahlar	Moğollar
D) Musul Atabeyliği	Haçlılar	Eyyubiler
E) Haçlılar	Memlükler	Harzemşahlar

11.



Yukarıda numaralandırılmış yörelerde kurulan beylikler aşağıdakilerden hangisinde doğru olarak gösterilmiştir?

I	II	III
A) Osmanoğulları	Karesioğulları	Dulkadiroğulları
B) Candaroğulları	Hamitoğulları	Germiyanoğulları
C) Saruhanoğulları	Aydinoğulları	Karamanoğulları
D) Ramazanoğulları	İnançoğulları	Dilmaçoğulları
E) Karesioğulları	Menteşeoğulları	Candaroğulları

12. Anadolu Selçukluları Dönemi'nde ticaret, sanat ve sosyal hayatta etkili olan Ahi Teşkilatı'nın kurucusu aşağıdakilerden hangisidir?

- A) Hacı Bektaş Veli
B) Yunus Emre
C) Sadettin Konevi
D) Nasirüddin Evranı Veli
E) Hoca Nasreddin

13. Türk İslam Kültüründe çoğunlukla eski yazma kitaplarda bulunan, ışık, gölge ve hacim duygusu yansıtılmayan küçük renkli resim tekniği aşağıdakilerden hangisidir?

- A) Minber B) Minyatür C) Tezhip
D) Ebru E) Cilt

14. I. Birinci Kosova Savaşı
II. Ankara Savaşı
III. Niğbolu Savaşı
IV. İkinci Kosova Savaşı
V. Varna Savaşı

Yukarıdaki savaşlardan hangisi iki Türk - İslam devleti arasında olmuştur?

- A) I B) II C) III D) IV E) V

15. Orhan Bey döneminde İznik şehri fethedildiğinde burada ilk Osmanlı medresesi kurulmuştur.

Bu gelişmenin aşağıdaki alanlardan hangisine katkı sağlaması **öncelikli** olarak beklenebilir?

- A) Mimari B) Sanat C) Tarım
D) Eğitim E) Ticaret

16. Osmanlı Devleti'nin Beylikten Devlete Geçiş Dönemi'nde;

- I. Bizans'a karşı ilk zaferlerin kazanılması,
- II. Haçlılara karşı ilk savaşların yapılması,
- III. Venedik'le ilk olarak deniz savaşlarının yapılması

gelişmeleriyle ilgili olarak aşağıdaki eşleştirmelerden hangisi doğrudur?

	Osman Bey	I. Murat	I. Mehmet
A)	II	I	III
B)	I	III	II
C)	II	III	I
D)	I	II	III
E)	III	II	I

17. Fatih döneminde aşağıdakilerden hangisi ile sorun yaşanmamıştır?

- A) Venedik B) Memlükler C) Rus Çarlığı
D) Sırp Krallığı E) Akkoyunlular

18. Osmanlı Devleti'nin Dünya Gücü Dönemi Savaşları ve sonuçları ile ilgili aşağıda verilen eşleştirmelerden hangisi yanlıştır?

Savaş	Sonucu
A) Mohaç	Macaristan'ın ele geçirilmesi
B) Çaldıran	Erzincan ve Erzurum'un ele geçirilmesi
C) Mercidabık	Filistin ve Suriye'nin ele geçirilmesi
D) Turnadağ	Maraş ve çevresinin ele geçirilmesi
E) Ridaniye	Memlük Devleti'nin yıkılması

19. • Osmanlı'nın iç sorunu iken dış sorununa dönüşü.

- Batı'daki fetihlerin duraklamasına neden oldu.
- Endülüs Müslümanlarına yardım gönderilmesini engelledi.

Yukarıda sonuçları verilen olay aşağıdakilerden hangisidir?

- A) Hicaz Su Yolları Sorunu
B) Don - Volga Projesi
C) Şark Sorunu
D) Cem Sultan Olayı
E) Çınar Vakası

20. Osmanlı devlet yöneticileri, kuruluşundan I. Murat dönemine kadar bey ve gazi unvanlarını kullandılar.

Aşağıdakilerden hangisi bu dönemden sonra Osmanlı hükümdarları tarafından kullanılan bir unvan **değildir**?

- A) Hüdavendigar B) Sultan C) Han
D) Padişah E) Şah

21. Osmanlı Devleti'nde başta padişahlar olmak üzere hanedan üyeleri yüksek dereceli devlet görevlileri ve zengin kişiler vakıflar kurmuşlardır.

Aşağıdakilerden hangisi bu vakıfların amaçlarından birisi **değildir**?

- A) Hac yolunda parasız kalanlara para dağıtmak
B) Maddi durumu iyi olmayan gençlerin evlendirilmesi
C) Çalışmak istemeyen kişilere maaş bağlanması
D) Kışın aç kalan kuşların beslenmesi
E) Cami ve türbe duvarlarının yosunlarından temizlenmesi

22. Reform Hareketleri'nin sonuçları arasında aşağıdakilerden hangisinin Osmanlı Devleti'nin batı yönündeki ilerleyişini olumlu yönde etkilediği söylenebilir?

- A) Kilisenin toprak ve mallarına el konulması
B) Hristiyanlar arasında birliğin bozulması
C) Katolik Kilisesi'nin kendini yenilemek zorunda kalması
D) Laik eğitim anlayışının yaygınlaşması
E) Papa ve din adamlarının saygınlıklarının azalması

23. Yeni Çağ'da Avrupa'da görülen,
I. Derebeylik sisteminin zayıflaması,
II. Monarşik kralların güçlenmesi,
III. Mezhep savaşlarının yaşanması
gelişmelerinden hangisi ya da hangileri merkezi otoriteyi kuvvetlendirdiği söylenebilir?
- A) Yalnız I B) Yalnız II C) Yalnız III
D) I ve II E) II ve III
24. Aşağıdakilerin hangisinde Osmanlı Devleti'nin Karlofça Antlaşması'nda kaybettiği topraklar doğru verilmiştir?
- A) Podolya - Ukrayna - Mora - Erdel
B) Ukrayna - Kırım - Erdel - Boğdan
C) Eflak - Boğdan - Erdel - Mora
D) Mora - Ukrayna - Podolya - Bosna
E) Podolya - Hersek - Mora - Erdel
25. Aşağıdakilerin hangisi XVI. yüzyılda Almanya'da başlayan Reform Hareketleri'nin sonunda ortaya çıkan mezheplerden biri değildir?
- A) Presbiteryenlik B) Anglikanlık
C) Ortodoksluk D) Kalvenistlik
E) Protestanlık
26. Osmanlı Devleti'nin XVIII. yüzyılda da imzaladığı,
I. Prut,
II. Pasarofça,
III. Belgrad,
IV. Küçük Kaynarca
antlaşmalarından hangileri aleyhte hükümler taşımamaktadır?
- A) Yalnız I B) I ve II C) II ve III
D) III ve IV E) I, II ve III

27. Aşağıdakilerden hangisi XVII. yüzyılda Lehistan ile imzalanan en son antlaşmadır?
- A) Bucaş B) Karlofça C) Vasvar
D) Hotin E) Kasrışirin
28. Osmanlı Devleti'nin, XVIII. yüzyılda kaybettiği toprakları geri alma ümidini artıran ve azaltan antlaşmalar aşağıdaki devletlerden hangisiyle yapılmıştır?
- A) Avusturya - Fransa
B) İran - Rusya
C) Rusya - Venedik
D) Malta - Lehistan
E) Rusya - Avusturya
29. I. Kanunuesasi'nin ilanı
II. Senediittifak'ın yapılması
III. Islahat Fermanı'nın yayınlanması
IV. Tanzimat Fermanı'nın ilanı
XIX. yüzyılda meydana gelen yukarıdaki olayların oluş sırası aşağıdakilerden hangisinde doğru olarak verilmiştir?
- A) III - II - IV - I B) II - IV - III - I
C) II - IV - I - III D) I - II - III - IV
E) IV - I - II - III
30. Osmanlı Devleti'nde,
I. Bütün dünya Türklerini bir bayrak altında toplamak
II. Bütün Müslümanları halifenin etrafında birleştirmek
III. Her alanda Avrupa'yı örnek almak
düşünceleri aşağıdaki fikir akımları ile ilişki bakımından hangisinde doğru olarak gruplandırılmıştır?
- | | Batıcılık | Turancılık | İslamcılık |
|--------|-----------|------------|------------|
| A) I | | II | III |
| B) II | | III | I |
| C) III | | I | II |
| D) II | | I | III |
| E) III | | II | I |

31. Aşağıdakilerden hangisi Türkiye'nin 1929 Dünya ekonomik bunalımından çıkmak için uyguladığı alış - veriş yöntemidir?
- A) Yap - İşlet Devret modeli
B) Klining Yöntemi
C) Monroe Doktrini
D) Yap Sat Yöntemi
E) Peşin alış - veriş yöntemi
32. I. Dünya Savaşı devam ederken İngiltere, Rusya ve Fransa aralarında yaptıkları Boğazlar Protokolü, Mac Mohan Antlaşması, Sykes Picot Antlaşması gibi antlaşmalarla Orta Doğu'yu paylaştılar.
Gizli antlaşmaları aşağıdaki devletlerden hangisi dünya kamuoyuna açıklamıştır?
- A) Almanya B) ABD
C) Sovyet Rusya D) Osmanlı Devleti
E) Prusya Krallığı
33. 18 Ocak 1919'da toplanan Paris Barış Konferansı çalışmaya başlamasından sonra ABD'nin isteğine uygun olarak Milletler Cemiyeti'nin statüsünün belirlenmesine rağmen İngiltere ve Fransa'nın Wilson Prensipleri'ni dikkate almadan kendi çıkarları doğrultusunda barış şartlarını belirlemiştir.
Bu durumun sonucu olan gelişme aşağıdakilerden hangisidir?
- A) Polonya, Estonya, Letonya gibi yeni devletlerin ortaya çıkması
B) ABD'nin yalnızlık politikasına geri dönmesi
C) İtilaf Devletleri'yle Almanya arasında Versay Antlaşması'nın imzalanması
D) 1815 Viyana Kongresi kararlarının uygulanması
E) Milliyetçilik ilkesinin önemsenmemesi

34. XX. yüzyılın başlarında Avrupa'da ortaya çıkan bir sanat akımıdır. Şair ve ressamlar, I. Dünya Savaşı'nın yol açtığı yıkım karşısında dehşete kapılmış, akılcı tutuma karşı tavır alarak bilinç dışının düşsel dünyasına yönelmeye başlamıştır.
Aşağıdakilerden hangisi metinde verilen sanat akımıdır?
- A) Realizm B) Merkantalizm
C) Naturalizm D) Sürrealizm
E) Makyavelizm
35. Japonya 2 Eylül 1945'te II. Dünya Savaşı'ndan çekilmek için aşağıdaki zırhlılardan hangisinde imza atmıştır?
- A) Nusret Mayın Gemisi B) Bouvet Zırhlısı
C) Missoui Zırhlısı D) Yavuz Zırhlısı
E) Quen Elizabeth Zırhlısı
36. İtalya'nın Habeşistan'ı işgal etmesi;
I. İtalya'nın Alman desteğini alması,
II. İtalya'nın İngiltere ile sömürge rekabetine girmesi,
III. İtalya'da Cumhuriyetin ilan edilmesi
durumlarından hangileri üzerinde etkili olmuştur?
- A) Yalnız I B) Yalnız II C) Yalnız III
D) I ve II E) I ve III
37. Türkiye 1950'de Birleşmiş Milletler Teşkilatı'nın kararıyla aşağıdaki savaşlardan hangisinde yer almıştır?
- A) I. Dünya Savaşı B) II. Dünya Savaşı
C) Kore Savaşı D) Kurtuluş Savaşı
E) Vietnam Savaşı

38. I. ABD ve SSCB arasında siyasi, ekonomik, kültürel rekabet yaşanması
II. Bloklar arası gerginliklerin silahlı çatışmaya dönüşmesi
III. İkinci Dünya Savaşı'ndan sonra ortaya çıkması
- Yukarıdakilerden hangileri, Soğuk Savaş Dönemi'yle ilgilidir?

A) Yalnız I B) Yalnız II C) Yalnız III
D) I ve III E) II ve III

39. Aşağıdakilerden hangisi 1980 Askeri İhtilali'ni yapan komuta kademesinde yer almamıştır?

A) Kenan Evren B) Nurettin Ersin
C) Sedat Celasun D) Nejat Tümer
E) Semih Sancar

40. Aşağıdakilerden hangisi Mihail Gorbaçov'un oluşturduğu Perestroika politikasının amaçlarından değildir?

A) Bürokratik ayrıcalıkları kaldırmak
B) Rüşvet ve adam kayırmayı önlemek
C) Siyasi, sosyal ve ekonomik hayatta yeniden yapılandırmayı sağlamak
D) Sivil toplum faaliyetlerinin yapılmasını sağlamak
E) Çarlık Rusya'sının yeniden canlandırılmasını sağlamak

41. Sputnik yapay uydusunu 4 Ekim 1957'de uzaya fırlatan devlet aşağıdakilerden hangisidir?

A) Çin B) ABD
C) Japonya D) Sovyetler Birliği
E) İngiltere

42. Soğuk Savaş döneminde Sovyetler Birliği'ne karşı,

I. İtalya,
II. Çekoslovakya,
III. Macaristan

devletlerinden hangilerinde ayaklanmalar ortaya çıkmıştır?

A) Yalnız I B) Yalnız II C) I ve II
D) II ve III E) I, II ve III

43. Aşağıdakilerden hangisi küresel ısınma ve buna bağlı meydana gelen iklim değişikliklerinden olamaz?

A) Sel felaketleri B) Aşırı kuraklık
C) Buzul erimeleri D) Fırtına ve tayfunlar
E) Hızlı sanayileşme

44. Nisan 1986'da ortaya çıkan Çernobil olayı aşağıdaki ülkelerden hangisinde meydana gelmiştir?

A) Doğu Almanya B) Çekoslovakya
C) Ukrayna D) Ermenistan
E) Romanya

TARİH TESTİ

1. Bu testte 44 soru vardır. Bu test için verilen süre 65 dakikadır.
2. Cevaplarınızı, cevap kâğıdının Tarih Testi için ayrılan kısmına işaretleyiniz.

1. Aşağıdakilerden hangisi "Ulusal Kurtuluş Savaşı" nı başlatarak II. Köktürk devletini kuran Kağandır?

- A) Kappan Kağan B) Kutluk Kağan
C) Kürşat D) Ko - lo Kağan
E) İstemi Yabgu

2. Aşağıdakilerden hangisi Türk destanlarından biri değildir?

- A) Şu B) Alp Er Tunga
C) Yaradılış ve Türeyiş D) Ergenekon
E) Gilgamiş

3. • Moğolların Türkleşmesini sağladılar.
• Tahta harflerden oluşan matbaayı oluşturdular.
• Yerleşik hayata geçerek tarım toplumu oluşturdular.

Yukarıda bazı özellikleri verilen Türk Devleti aşağıdakilerden hangisidir?

- A) Batı Hunları B) Türgişler C) Kırgızlar
D) Uygurlar E) Köktürkler

4. Türklerde ceza işlerinin kesin hükme bağlanması ve devlet tarafından takip edilmesi toplumda aşağıdakilerden hangisini engellemiştir?

- A) Kanun üstünlüğünü
B) Sosyal Devlet olgusunu
C) Kan gütme duygusunu
D) Savaşçılık özelliğini
E) Toplumsal dayanışmayı

5. Türkler, Müslümanlığı benimsedikten sonra Arap ve Fars kültürünün etkisinde kalarak edebiyat, şiir ve yazışma dili olarak Arapça ve Farsça'yı kullanmışlardır.

Bu durum aşağıdaki devletlerden hangisi için geçerli değildir?

- A) Gazneliler B) Karahanlılar
C) Tolunoğulları D) Selçuklular
E) İhşidiler

6. I. Mali işleri düzenlemek
II. Adalet işlerini yürütmek
III. Melikleri yetiştirmek

Yukarıdakilerden hangileri atabeylerin görevlerindedir?

- A) Yalnız I B) Yalnız II C) Yalnız III
D) I ve II E) II ve III

7. Türkler arasında İslamiyet'in yayılmasıyla,
I. hakimiyet anlayışı,
II. hukuk sistemi,
III. fetih politikası

alanlarından hangilerinde daha çok değişim yaşandığı söylenebilir?

- A) Yalnız I B) Yalnız II C) I ve II
D) II ve III E) I, II ve III

8. Büyük Selçuklularda vakıflarla,
I. vergi gelirlerini artırmak,
II. adalet işlerini yürütmek,
III. sosyal dayanışmayı gerçekleştirmek

durumlarından hangilerini amaçlamışlardır?

- A) Yalnız I B) Yalnız II C) Yalnız III
D) I ve II E) I, II ve III

9. Karluklar'ın 751 yılında Talas Savaşı'nda Müslüman Arapları desteklemelerinin,

- I. Türgişler'e yardım etmek istenmesi,
- II. Çin'in Orta Asya egemenliğinin engellenmek istenmesi,
- III. Karluklar'ın Müslüman olmasının istenmesi

durumlarından hangilerinde etkili olmuştur?

- A) Yalnız I B) Yalnız II C) Yalnız III
D) I ve II E) I, II ve III

10. Köktürk devleti ile Karahanlılar aşağıda verilen özelliklerden hangisiyle farklılık gösterir?

- A) Türkler tarafından kurulmuş olmaları
- B) Doğu - Batı diye ikiye ayrılmaları
- C) Orta Asya'da kurulmuş olmaları
- D) Türk kültürünü yaşamaları
- E) İslam dinini kabul etmeleri

11. Karahanlılar; Türk töresinin gereği Doğu ve Batı diye ikiye ayrılarak "Kara Han" unvanlı iki hükümdar tarafından yönetilmiştir.

Buna göre, Karahanlılarda,

- I. federatif,
- II. teokrasi,
- III. cumhuriyet

yönetim sistemlerinden hangilerinin uygulandığı söylenebilir?

- A) Yalnız I B) Yalnız II C) Yalnız III
D) I ve II E) II ve III

12. I. Divanı Lügati't Türk
- II. Divanı Hikmet
- III. Siyasetname
- IV. Şehname
- V. Atabetü'l Hakayık

Yukarıdakilerden hangisi ünlü Selçuklu veziri Nizamü'l tarafından devlet idarecilerine öğütler içeren yazılmış eserdir?

- A) I B) II C) III D) IV E) V

13. Aşağıdakilerden hangisi Türk İslam Devletleri'nde gayrimüslümlerden alınan arazi ve ürün vergisidir?

- A) Cizye B) Haraç C) Ganimet
D) Öşür E) Bacı Bazar

14. Osmanlı Beylikten Devlete Geçiş Dönemi'nde;

- Kadı Burhaneddin Devleti'nin egemenlik altına alınması,
- Ahilerin kontrolünde bulunan Ankara'nın alınması,
- Karesi Beyliği'nin alınması,
- Hamitoğulları Beyliği'nin topraklarının satın alınması

gelişmelerinin ortak amacı aşağıdakilerden hangisidir?

- A) Orta Anadolu'da egemenliği ele geçirme
B) Deniz ticaretinde etkinlik sağlama
C) Türk Beylikleri arasındaki antlaşmazlıklardan yararlanma
D) Anadolu Türk siyasi birliğini kurma
E) İslam dünyasının liderliğini ele geçirme

15. Osmanlılar Doğu Avrupa'da ele geçirdikleri yerlerde egemenliklerini uzun bir süre devam ettirmeyi başarmışlardır.

Aşağıdakilerden hangisi bu durumun temel nedenlerinden biri olamaz?

- A) Fethedilen yerlerde iskan politikasının uygulanması
B) Farklı kültürlerle karşı asimilasyon uygulaması
C) Yönetimde adalet anlayışını öne çıkarması
D) Egemen olduğu bölgelerde halkın refah düzeyini arttırması
E) Balkanlarda dini ve siyasi birliğin olmaması

16. Aşağıdakilerden hangisi Osmanlı Devleti'nin Marmara Havzası'nda egemenlik sağlama çalışmalarına yönelik değildir?

- A) Koyunhisar Savaşı B) İznik'in fethi
C) Maltepe Savaşı D) Bursa'nın fethi
E) Sırpsındığı Savaşı

17. Yavuz Sultan Selim dönemi kısa süreli ancak yoğun mücadelelerle geçen bir dönemdir.

Aşağıdakilerden hangisi bu dönemde yaşanan olaylardan biri olamaz?

- A) Memlûklülerle savaş yapılması
B) Avrupa'da fetihlerin yapılması
C) Anadolu beylikleri ile mücadele edilmesi
D) İç isyanların çıkması
E) Halifeliğin Osmanlı'ya geçmesi

18. Bugünkü dünya devletleri içerisinde aşağıdakilerden hangisinin topraklarının tamamı belirli bir dönem Osmanlı Devleti sınırlarında yer almamıştır?

- A) İspanya B) Ukrayna C) Ermenistan
D) Eritre E) Malta

19. Aşağıdakilerden hangisi Osmanlı Devleti'nin Akdeniz hakimiyetini elde etmek amacıyla yaptığı fetihlerden biri değildir?

- A) Amasra B) Cerbe C) Trablusgarp
D) Midilli E) Zenta

20. Osmanlı Devleti Ridaniye Savaşı sonunda Baharat Yolu'nu egemenliği altına almış, ancak bu yoldan istediği ölçüde yararlanamamıştır.

Aşağıdakilerden hangisi bu durumun temel nedeni olabilir?

- A) Sömürgecilik yarışıyla beraber hammadde arayışının başlaması
B) Coğrafi Keşifler sonucunda yeni yollar bulunması
C) Sanayi İnkılabı'nın olumsuz etkileri
D) İtalya'da başlayan Rönesans Hareketleri'nin etkisi
E) Osmanlı yöneticilerinin bu yola gerekli önemi göstermemesi

21. Osmanlı Ordusu'nun kara kuvvetleri ile ilgili olarak aşağıda verilen eşleştirmelerden hangisi doğru değildir?

Kapıkulu Askeri	Eyalet Askeri
A) Acemi Ocağı	Tımarlı Sipahiler
B) Deliler	Silahtarlar
C) Cebeciler	Akıncılar
D) Topçular	Azaplar
E) Ulufeciler	Beşliler

22. Gelirleri yirmi bin ile yüz bin akçe arasındadır. Eyalet merkezlerinde oturan üst düzey yöneticilerine, hazine ve tımar defterdarları, alay katipleri, kale dizdarları gibi görevlilere verilir.

Yukarıda özellikleri verilen toprak çeşidi aşağıdakilerden hangisidir?

- A) Has B) Mukataa C) Yurtluk
D) Zeamet E) Tımar

23. – Okyanuslara dayanıklı gemiler yapılması
– Cesur gemicilerin yetişmesi
– Pusulanın bulunması ve geliştirilmesi

Yukarıdaki gelişmeler aşağıdakilerden hangisine ortam hazırlamıştır?

- A) Rönesans B) Haçlı Seferleri
C) Reform D) Coğrafi Keşifler
E) Yüzyıl Savaşları

24. Avrupa'da Viyana Kongresi'nden Navarin olayına kadar (1815 - 1827) geçen dönemin adı aşağıdakilerden hangisidir?

- A) Restorasyon B) Rönesans C) Reform
D) Antikite E) Tanzimat

25. I. Reform - Almanya
II. Rönesans - Fransa
III. Sanayi İnkılabı - İngiltere
IV. Coğrafi Keşifler - İspanya - Portekiz

Yeni ve Yakın Çağ'da Avrupa'da meydana gelen önemli gelişmeler ve bunlara öncülük eden devletlerle ilgili yukarıdaki eşleşmelerden hangisi ya da hangileri yanlıştır?

- A) Yalnız I B) Yalnız II C) Yalnız III
D) Yalnız IV E) II ve III

26. Osmanlı Devleti'nin Arayış Yıllarına girmesinin nedenleri arasında aşağıdakilerden hangisinin etkisi yoktur?

- A) Devlet kurumlarında ıslahatlar yapılması
B) Devletin doğal sınırlarına ulaşması
C) Girilen savaşların kaybedilmesi ya da uzun sürmesi
D) Yöneticilerin yeterince deneyimli olmaması
E) Aynı anda farklı bölgelerde savaşmak zorunda kalınması

27. XVII. yüzyılda Osmanlı Devleti'nin Arayış Yılları Dönemi'ne girmesinde aşağıdakilerin hangisinin etkisi diğerlerine göre daha fazladır?

- A) Sık sık padişah değişmesi
B) Saray kadınları ve ağaların yönetime karışması
C) İdari, mali ve askeri yapının bozulması
D) Coğrafi Keşifler'in olumsuz sonuçları
E) İhracatın azalması, ithalatın artması

28. I. Yeniçerilerin devlet yönetiminde etkin hale gelmesi
II. Yeniçeri Ocağı'na usulsüz asker alımı yapılması
III. Yeniçerilerin İstanbul'da isyanlara öncülük etmesi

Yukarıdaki gelişmeler aşağıdakilerden hangisinde verilen sıraya göre gerçekleşmiştir?

- A) I - III - II B) II - III - I C) III - II - I
D) II - I - III E) I - II - III

29. • Senediittifak
• Tanzimat Fermanı
• I. Meşrutiyetin İlanı

XIX. yüzyılda Osmanlı Devleti'nde meydana gelen yukarıdaki gelişmelerin ortak sonucu aşağıdakilerden hangisidir?

- A) Eşitlik ilkesinin benimsenmesi
B) Demokratik hayatın güçlenmesi
C) Halkın yönetime katılması
D) Azınlıkların devlet memuru olabilmesi
E) Padişahın, yetkilerini meclisle paylaşması

30. Aşağıdakilerden hangisinde I. de verilen II. ye ortam hazırlamamıştır?

I	II
A) Fransız İhtilali	Osmanlı Devleti'nin dağılmasının hızlanması
B) Sanayi İnkılabı	Hammaddeye duyulan ihtiyacın artması
C) Reform	Osmanlı Hristiyanları'nın yönetime karşı ayaklanması
D) Rönesans	Avrupa'da bilim ve sanatın gelişmesi
E) Coğrafi Keşifler	Akdeniz Limanlarının öneminin azalması

31. Aşağıdakilerden hangisi Türk Sinema tarihinin ilk filmi olarak bilinmektedir?

- A) Himmet Ağa'nın İzdivacı
B) Ayastefanost'taki Rus Abidesi'nin Yıkılışı
C) Ateşten Gömlek
D) Bir Millet Uyanıyor
E) İstanbul Sokakları

32. 1990 yılında Doğu Almanya aşağıdaki ülkelerden hangisiyle birleşmiştir?

- A) Sovyet Rusya B) Batı Almanya
C) Avusturya D) Slovakya
E) Slovenya

33. Aşağıdaki ülkelerden hangisi Türk azınlığa baskı ve asimilasyon politikası uygulayarak Naim Süleymanoğlu gibi birçok Türk'ün Türkiye'ye göç etmesine neden olmuştur?

- A) Bulgaristan B) Yunanistan
C) Makedonya D) Sırbistan
E) Karadağ

34. 16 Şubat 1999'da terör örgütünün başı Abdullah Öcalan aşağıdaki ülkelerden hangisinde yakalanarak Türkiye'ye getirilmiştir?

- A) Yunanistan B) Suriye C) Kenya
D) Somali E) Sudan

35. Aşağıdakilerden hangisi Türkiye'de yaşanan terör olayları sonucunda yaşamını yitirmemiştir?

- A) Özdemir Sabancı B) Bahriye Üçok
C) Uğur Mumcu D) Turgut Özal
E) Muammer Aksoy

36. Aşağıdakilerden hangisi kültürel küreselleşmeye örnek olamaz?

- A) ABD kanalları birçok ülkede izlenmektedir.
B) MTV yayınları tüm dünyada izlenmektedir.
C) Ülkemizde yerel dillerle yayın yapan kanallar açılmaktadır.
D) Dünya'da iki milyardan fazla insan İngilizce konuşmaktadır.
E) Dünya televizyonlarının yayınladığı haberlerin % 55'i ABD kaynaklıdır.

37. ASALA adlı terör örgütünün,

- I. Ermeniler,
II. Yunanistan,
III. Sovyetler Birliği

toplum ve devletlerinden hangileri desteklemiştir?

- A) Yalnız I B) Yalnız II C) Yalnız III
D) I ve III E) I, II ve III

38. Enonis'in gerçek amacı aşağıdakilerden hangisidir?

- A) Kıbrıs'ta Federal devleti yaşatmak
B) Kıbrıs Türk Devleti'ni kurmak
C) Kıbrıs'ı Yunanistan'a katmak
D) Kıbrıs'a demokrasiyi getirmek
E) Birleşmiş Milletleri adaya davet etmek

39. 1983 yılında kurulan Anavatan Partisi'nin ilk genel başkanı aşağıdakilerden hangisidir?

- A) Turgut Özal B) Semra Özal
C) Yıldırım Akbulut D) Mesut Yılmaz
E) Erkan Mumcu

40. 6 Kasım 1983 seçimlerine katılan siyasi partiler aşağıdakilerden hangisidir?

- A) Anavatan Partisi - Halk Partisi - Demokratik Sol Parti
- B) Cumhuriyet Halk Partisi - Doğru Yol Partisi - Milliyetçi Hareket Partisi
- C) Anavatan Partisi - Halkçı Parti - Milliyetçi Demokrasi Partisi
- D) Adalet Partisi - Demokrat Parti - Güven Partisi
- E) AK Parti - Cumhuriyet Halk Partisi - İşçi Partisi

41. 1979'da İran Şahı'nın devrilmesi ve Humeyni'nin iktidara gelmesiyle İran devletinin ismi aşağıdakilerden hangisi olmuştur?

- A) İran Krallığı
- B) İran İslam Cumhuriyeti
- C) Demokratik İran Devleti
- D) Sosyalist İran Cumhuriyeti
- E) İran Halk Cumhuriyeti

42. Aşağıdakilerden hangisi Anayasal Hukuk Devleti ile bağdaştırılamaz?

- A) 1983 yılında seçimlerin yapılması
- B) 1975'ten itibaren Milliyetçi Cephe Hükümetleri'nin kurulması
- C) 1971'de Mevcut hükümete askerlerin muhtıra vermesi
- D) 1974 Ecevit ile Erbakan'ın koalisyon kurması
- E) Kurulan hükümetlerin meclisten güven oyu alması

43. 16 Ağustos 1960'da Kıbrıs Anayasası'nın yürürlüğe girmesiyle Kıbrıs Cumhuriyeti resmen kurulmuştur. Kurulan bu devletin Cumhurbaşkanı Rum, Başbakanı Türk olacaktır.

Kıbrıs Cumhuriyeti'nin ilk Cumhurbaşkanı ve ilk başbakanı aşağıdakilerden hangisidir?

İlk Cumhurbaşkanı	İlk Başbakan
A) Başpsikopos Makarios	Dr. Fazıl Küçük
B) Nikos Sampson	Rauf Denktaş
C) Glafkos Klerides	Derviş Eroğlu
D) Constantin Karamanlis	Mehmet Ali Talat
E) Johnson	Ferit Sabit Soyer

44. Soğuk Savaş dönemi eserlerinden olan,

- I. Silahlara Veda,
- II. Güneş de Doğar,
- III. Çanlar Kimin İçin Çalıyor.

aşağıdaki yazarlardan hangisine aittir?

- A) George Bernard Shaw
- B) Pablo Picasso
- C) Ernest Hemingway
- D) John Steinbeck
- E) Berthold Brecht

TARİH TESTİ

1. Bu testte 44 soru vardır. Bu test için verilen süre 65 dakikadır.
2. Cevaplarınızı, cevap kâğıdının Tarih Testi için ayrılan kısmına işaretleyiniz.

1. Bozkırlarda yaşayan Türkler;

- Atı evcilleştirerek binek olarak kullanmışlardır.
- Hayvanların otlak ve su ihtiyaçları için konar - göçer bir hayat sürmüşlerdir.

Bu durum Türklerde aşağıdakilerden hangisinin ortaya çıkmasını engellemiştir?

- A) Kendilerine güven duymalarını
- B) Güçlü bir iradeye sahip olmalarını
- C) Dayanıklı bir yapıya sahip olmalarını
- D) Kanaatkar bir toplum olmalarını
- E) Yerleşik bir medeniyet ortaya koymalarını

2. Attila, Bizanslılarla yaptığı Anatolyos Barışı'nda Tuna Nehri'nin güneyindeki toprakların askerden arındırılmasını şart koşmuştur.

Attila bununla aşağıdakilerden hangisini doğrudan amaçlamıştır?

- A) Hun sınırlarının güvenliğini sağlama
- B) Bizans'ın askeri yükümlülüklerini artırma
- C) Bizans ile takas usulü ticaret yapma
- D) Bizans - Roma ilişkilerini kesme
- E) Barbar kavimlerle ilişkileri geliştirme

3. Hunlar ve Köktürkler dönemlerinde hukuk kurallarının yazılı olmamasında,

- I. halkın göçebe yaşaması,
- II. yazının yaygın olarak kullanılmaması,
- III. ülkenin kağan'ın soyunun arasında paylaşılması

durumlarından hangileri etkili olmuştur?

- A) Yalnız I
- B) Yalnız II
- C) Yalnız III
- D) I ve II
- E) II ve III

4. Timur'un;

- I. Hindistan'ın kuzey kısımlarını topraklarına katması,
- II. Altın Orda Devleti'nin zayıflamasını sağlaması,
- III. Osmanlı Devleti'ni yenilgiye uğratması

gelişmelerinden hangileri Türk - İslam dünyasının aleyhine sonuçlar ortaya çıkarmıştır?

- A) Yalnız I
- B) Yalnız II
- C) Yalnız III
- D) I ve II
- E) II ve III

5. Karahanlılar ve Büyük Selçukluların önemli yollar üzerinde çok sayıda kervansaray yapmalarında,

- I. tüccarların yol güvenliğini sağlamak,
- II. göçebe topluları yerleşik hayata geçirmek,
- III. ticareti geliştirmek

gibi durumlarından hangilerini amaçlamışlardır?

- A) Yalnız I
- B) Yalnız II
- C) Yalnız III
- D) I ve III
- E) I, II ve III

- ## 6.
- Kaşgarlı Mahmut
 - Edip Ahmet Yükeki
 - Yusuf Has Hacip

Yukarıda verilen kişilerin ortak özelliği aşağıdakilerden hangisidir?

- A) Hindistan'da hükümdarlık yapmışlardır.
- B) Ordu komutanlığını yapmışlardır.
- C) Türk İslam edebiyatının ilk eserlerini ortaya koymuşlardır.
- D) İktisad sisteminin yaygınlaşmasına çalışmışlardır.
- E) Devirlerinin önemli hukuk adamlarıdır.

ESEN YAYINLARI

7. I. Harzemşahlar
II. Gazneliler
III. Memlükler
- Yukarıdaki devletlerden hangileri Moğollarla mücadele etmişlerdir?

A) Yalnız I B) Yalnız II C) I ve II
D) I ve III E) II ve III

8. I. Topraklarının bir bölümünü Osmanlı Devleti'ne para karşılığı satmıştır.
II. Topraklarının bir bölümünü Osmanlı Devleti'ne çeyiz olarak vermiştir.

Yukarıda özellikleri verilen beylikler aşağıdaki-lerden hangisinde doğru olarak sıralanmıştır?

I	II
A) Ramazanoğulları	Saruhanogulları
B) Hamitoğulları	Germiyanogulları
C) Karamanoğulları	Karesioğulları
D) Dulkadiroğulları	Aydinoğulları
E) Candaroğulları	Menteşeoğulları

9. Türkiye Selçuklularında devlet işleri divan denilen bir kurulda görüşülür ve karara bağlanırdı. Divan'a sultan veya vezir başkanlık ederdi.

Aşağıdakilerden hangisi divanın aldığı kararlardan oluşmaz?

- A) Ordunun ihtiyacının karşılanması için tedbirler
B) Devlet yazışmalarının nasıl yapılacağı
C) Veraset sisteminin değiştirilerek hükümdarın seçilmesi
D) Devletin gelir giderlerinin ayarlanması
E) Arazi kayıtlarının yapılması

10. Aşağıdakilerden hangisi Anadolu Selçuklularında mülkiyeti ve vergi gelirleri hükümdara ait olan topraklardır?

A) Has arazileri B) İktâ arazileri
C) Mülk arazileri D) Vakıf arazileri
E) Divan arazileri

11. • Kalem ve Karasi Beyler tarafından kurulmuştur.
• Orhan Bey döneminde Osmanlı egemenliğine girmiştir.
• Ankara Savaşı'ndan sonra tekrar kurulmamıştır.

Yukarıda bazı özellikleri verilen beylik aşağıdakilerden hangisidir?

A) Eratna Beyliği B) Karesi Beyliği
C) Dulkadir Beyliği D) Menteşe Beyliği
E) Teke Beyliği

12. Tuğrul Bey ülke topraklarını ve feth edilmesi planlanan toprakları hanedanın erkek evlatlarına paylaştırmıştır.

Aşağıdaki eşleştirmelerden hangisi yanlıştır?

- A) Irak toprakları – İbrahim Yinal
B) Horasan – Çağrı Bey
C) Sistan ve Herat – Musa Yabgu
D) Kirman – Arslan Kavurd
E) Anadolu – Sultan Sencer

13. Aşağıdakilerden hangisi Büyük Selçuklu Devleti'nin yıkılma nedenlerinden değildir?

- A) Ülkenin hanedanının ortak malı sayılması
B) Atabeylerin güçlenerek bağımsızlıklarını ilan etmesi
C) Batınilerin zararlı çalışmaları
D) Abbasilerin eski gücüne kavuşmak istemeleri
E) Çağrı ve Tuğrul Beylerin Anadolu'ya akınlar yapması

14. Osmanlı Beylikten Devlete Geçiş Dönemi'nde beyliklerin katılımı;

- çeyiz yolu,
– savaşlar,
– para ile satın alma,
– akrabalık kurma yöntemleriyle olmuştur.

Buna göre,

- I. Anadolu Türk siyasi birliğinin kurulmasında farklı politikalar izlendiği,
II. her zaman zor kullanılarak birliğin sağlandığı,
III. beyliklere karşı Haçlılarla ittifak kurulduğu durumlarından hangileri söylenebilir?

A) Yalnız I B) Yalnız II C) Yalnız III
D) I ve II E) I ve III

- 15.

Yönetim Birimi	Yönetici	Güvenlik	Adalet
Eyalet	Beylerbeyi	Subaşı	Kadı
Sancak	Sancak beyi	Subaşı	Kadı
Kaza	Kadı	Subaşı	Kadı

Osmanlı Devleti'ndeki yönetim birimleri ve görevlileri ile ilgili yukarıda verilen tabloya göre,

- I. Eyaletlerde yönetim ve yargı birbirinden ayrılmıştır.
II. Sancak ve kazalarda güvenliği subaşı sağlamaktadır.
III. Kazalarda yargının tam bağımsız olduğu söylenemez.

yargılarından hangilerine ulaşılabilir?

A) Yalnız I B) Yalnız II C) Yalnız III
D) I ve III E) I, II ve III

16. Aşağıdaki savaşlardan hangisi Osmanlı Devleti'nin Dünya Gücü Dönemi'nde yapılmıştır?

A) Koyunhisar B) Çirmen C) I. Kosova
D) Varna E) Çaldıran

17. Osmanlı ekonomisi büyük ölçüde tarıma dayalıydı. Bu nedenle Osmanlı iktisat anlayışı toprağın iyi değerlendirilmesi, boş bırakılmaması ve iyi bir vergilendirme esasına dayanmaktaydı.

Bu bilgilere göre,

- I. tarımı destekleyici önlemlerin alınması,
II. yabancılara kapitülasyonlar verilmesi,
III. toprağın çoğunluğu devlet mülkiyetinde tutulması

uygulamalarından hangileri bu doğrultuda yapılan çalışmalardandır?

A) Yalnız I B) Yalnız II C) I ve III
D) II ve III E) I, II ve III

18. Osmanlı Devleti XVII. yüzyılda Avusturya karşısındaki siyasi ve ekonomik üstünlüğünü aşağıdaki antlaşmalardan hangisiyle kaybetmiştir?

A) Hotin B) Bucuş C) Kasrışirin
D) Zitvatorok E) Ferhat Paşa

19. Osmanlı Devleti'nde; başlangıçta nişancıya bağlı görev yaparken devletin siyasi ilişkilerinin artması üzerine uluslararası yazışmaları yapan ve XVII. yüzyılda divanın tabii üyesi olan görevli aşağıdakilerden hangisidir?

A) Şeyhülislam B) Defterdar
C) Reisülküttap D) Kazasker
E) Kaptanıderya

20. 1770 yılında Osmanlı donanmasının Çeşme'de Ruslar tarafından yakılması,

- I. Osmanlı Devleti'ni denizlerde savunmasız bırakma,
II. Rusya'nın sıcak denizlere çıkma politikasını gerçekleştirme,
III. Osmanlı Devleti'ni zayıf duruma düşürme amaçlarından hangilerine yöneliktir?

A) Yalnız I B) Yalnız II C) Yalnız III
D) I ve II E) I, II ve III

21. Osmanlı Devleti'nde toplumun önde gelenleri tarafından farklı zaman ve yerlerde bir çok vakıf kurulmuştur.

Bu durumun sonuçları arasında aşağıdakilerden hangisi gösterilemez?

- A) Toplumun ihtiyaçlarının karşılanması
B) Ülkenin bayındır hale gelmesi
C) İhracaat faaliyetlerinin geliştirilmesi
D) Sağlık kurumlarının çoğalması
E) Sosyal kurumların giderlerinin karşılanması

22. Osmanlı Devleti'nde,

- I. Avrupa'da sürekli elçilikler açılması,
II. Avrupa'ya öğrenciler gönderilmesi,
III. Yeniçeri Ocağı'nın kaldırılması

gelişmelerinden hangileri askeri alanda yapılan bir uygulamadır?

- A) Yalnız I B) Yalnız II C) Yalnız III
D) II ve III E) I, II ve III

23. Devlet memuru idareci komutan ve sanatkar yetiştirmek amacıyla kurulan saray okulu aşağıdakilerden hangisidir?

- A) İptidai B) Rüştiye C) Sıbyan
D) Enderun E) Lonca

24. Osmanlı Devleti, salyaneli adı verilen eyaletlerinde toprak sistemi olarak iltizamı uygulamıştır.

İltizam sistemi içerisinde vergi toplayan görevli aşağıdakilerden hangisidir?

- A) Sahibi Tımar B) Beylerbeyi
C) İhtisab Ağaları D) Kaptanıderya
E) Mültezim

25. I. Rusya'nın güneye inmesinin Avrupalılarca engellenmesi üzerine Rusya'nın Orta Asya'da genişleme politikasına önem vermesi
II. XIX. yüzyılda Osmanlı Devleti'nin denge politikası uygulaması
III. İngiltere'nin 1878 Berlin Antlaşması'ndan sonra Osmanlı Devleti'ni paylaşma düşüncesi

Yukarıdaki gelişmelerden hangileri devletlerin politikalarında zamanla zorunlu değişiklikler olabileceğinin göstergesidir?

- A) Yalnız I B) Yalnız II C) Yalnız III
D) I ve II E) I, II ve III

26. II. Mahmut döneminde;

- Avrupa'ya öğrenciler gönderilmiştir.
– Medreselerin yanında Avrupa tarzı eğitim veren okullar açılmıştır.

Bu yeniliklerin,

- I. toplumda kültürel birliğin bozulması,
II. çağdaş eğitim anlayışının gelişmesi,
III. Batılılaşma sürecinin hızlanması

sonuçlarından hangilerinin ulaşılmak istenen hedeflerin arasında olduğu savunulamaz?

- A) Yalnız I B) Yalnız II C) Yalnız III
D) I ve II E) II ve III

27. Osmanlılarda eğitim-öğretim işlerinin yürütüldüğü temel kuruluş aşağıdakilerden hangisidir?

- A) Medreseler B) İmarat C) Enderun
D) Vakfiye E) Divanihümayun

28. Osmanlı Devleti'nin zaman zaman iç işlerine karışan Avrupa devletlerinin, iç işlerine karışmasını önlemek için aşağıdakilerden hangisini gerçekleştirmiş olduğu söylenemez?

- A) Tanzimat Fermanı'nın ilanı
B) Islahat Fermanı'nın ilanı
C) I. Meşrutiyetin ilanı
D) Osmanlılık politikasının uygulanması
E) Senediittifak'ın imzalanması

29. Avrupa'da XIX. yüzyılda siyasi birliğini sağlayarak güçler dengesini bozan devlet aşağıdakilerden hangisidir?

- A) İngiltere B) Almanya C) Romanya
D) Fransa E) Avusturya

30. Aşağıdakilerden hangisi, Osmanlı Devleti'nin dağılma nedenlerinden biri **değildir**?

- A) Osmanlı Devleti'nin Batı'daki bilimsel ve teknolojik gelişmelere ayak uyduramaması
B) Avrupa devletlerinin stratejik öneme sahip Osmanlı topraklarını sömürgeleştirmek istemesi
C) Osmanlı Devleti'nin her alanda bozulmalar yaşaması
D) Fransız Devrimi'nin yarattığı ulusçuluk ve bağımsızlık düşüncesinin Osmanlı uluslarını etkilemesi
E) Osmanlı devletinin merkezî yapıya sahip olması

31. 1929 Dünya Ekonomik Bunalımı;

- I. Amerika ve Avrupa'da işsizliğin büyümesi,
II. Sovyetler Birliği'nin gelişmesinin durması,
III. Faşist ve Nasyonal Sosyalist partilerin güçlenmesi

durumlarından hangilerine yol açmıştır?

- A) Yalnız I B) Yalnız II C) Yalnız III
D) I ve III E) I, II ve III

32. Sovyet Rusya'nın egemenliğini istemeyen Türkistan Türklerinin başlattığı "Basmacı Hareketi"yle ilgili olarak aşağıdakilerden hangisi **söylenemez**?

- A) Türkistan'ın bağımsızlığını istemek
B) Türkistan'ın birliğini sağlamak
C) Bolşeviklerle mücadele etmek
D) Çarlık Rusyası'nın devamını sağlamak
E) Çağdaş eğitim yolu ile örgütlenmek

33. Japonya XIX. yüzyılda aşağıdaki gelişmelerden hangisiyle hızlı bir gelişme içine girmiş ve sömürgeci devlet olmuştur?

- A) Meiji Restorasyonu
B) 1815 Viyana Restorasyonu
C) 1917 Sovyet Devrimi
D) Harbour Baskını
E) Locarno Antlaşması

34. Aşağıdakilerden hangisi II. Dünya Savaşı'nda Müttefik ve Mihver Devletleri'nin Türkiye'yi kendi yanında savaşa dahil etmek istemelerinin nedenlerinden biridir?

- A) Türkiye'nin coğrafi konumu
B) Türkiye'nin matematiksel konumu
C) Güçlü bir ordusunun olması
D) Ekonomik yönden güçlü olması
E) Dış politikadaki başarısı

35. Aşağıdakilerden hangisi II. Dünya Savaşı döneminde Türkiye için **söylenemez**?

- A) İthalatı azaldı.
B) İhracatı azaldı.
C) Fiyat artışı yaşandı.
D) Üretim ve tüketim özel sektöre verildi.
E) Hükümet ekonomik hayata müdahale etti.

36. II. Dünya Savaşı sonunda savaş suçları işleyenler aşağıdakilerden hangisinde yargılanmıştır?

- A) Lahey Adalet Divanı
B) Nürnberg Mahkemeleri
C) Azınlık Mahkemeleri
D) Tokyo Mahkemeleri
E) Konsolosluk Mahkemeleri

37. Aşağıdakilerden hangisi Kominformun amaçlarından birisidir?

- A) Emperyalizme karşı mücadele etmek
- B) Sovyetler Birliği'ni dağıtmak
- C) Truman Doktrini'ni yaygınlaştırmak
- D) NATO'nun kurulmasını sağlamak
- E) Bağlantısızlar örgütünü kurmak

38. Aşağıdakilerden hangisi İkinci Dünya Savaşı sonrası oluşan uluslararası ilişkilerde doğrudan etkili olmuştur?

- A) Milletler Cemiyeti'nin kurulması
- B) Uluslararası ilişkilerde ideolojilerin etkili olması
- C) Wilson Prensipleri'nin yaygınlaşması
- D) Osmanlı Devleti'nin dağılması
- E) ABD'nin kurulması

39. Amerika Birleşik Devletleri, Komünizm tehdidi-ne karşı,

- I. Truman Doktrini'ni yayınlama,
- II. Marshall Planı'nı uygulama,
- III. Birleşmiş Milletler Teşkilatı'nı kurma

önlemlerinden hangilerini almıştır?

- A) Yalnız I
- B) Yalnız II
- C) Yalnız III
- D) I ve II
- E) II ve III

40. Aşağıdakilerden hangileri 1960 ve 1980 Askeri Darbesi'yle devlet başkanlığı elde etme fırsatını yakalamışlardır?

- A) Süleyman Demirel - Bülent Ecevit
- B) Cemal Gürsel - Kenan Evren
- C) Fahri Korutürk - Cevdet Sunay
- D) Celal Bayar - İsmet İnönü
- E) Turgut Özal - Abdullah Gül

41. Yunanistan'ın Kıbrıs'ı ilhak etmek istemesi aşağıdaki politikalarından hangisinin sonucudur?

- A) Enosis - Megola İdea
- B) 1829 Edirne Antlaşması
- C) ASALA'nın desteklenmesi
- D) Pontos Rum Cemiyeti'nin çalışmaları
- E) Kıta Sahaneliği Sorunu

42. 1978 yılında imzalanan Kamp David Antlaşması'nda,

- I. Orta Doğu barışını sağlama,
- II. İsrail Devleti'ni kurma,
- III. Arap Birliğini kurma

gelişmelerinden hangileri ele alınmıştır?

- A) Yalnız I
- B) Yalnız II
- C) Yalnız III
- D) I ve II
- E) I, II ve III

43. Kyoto Protokolü'nde,

- I. sera gazlarının azaltılması,
- II. küresel iklim değişikliklerine karşı önlemler alınması,
- III. hidrolik ve nükleer enerji santrallerinin yasaklanması

gibi konulardan hangileri ele alınarak karara bağlanmamıştır?

- A) Yalnız I
- B) Yalnız II
- C) Yalnız III
- D) II ve III
- E) I, II ve III

44. Küresel Isınma,

- I. sel felaketleri,
- II. buzul erimeleri,
- III. depremler

gibi doğa olaylarından hangisine yol açmamıştır?

- A) Yalnız I
- B) Yalnız II
- C) Yalnız III
- D) I ve II
- E) II ve III

COĞRAFYA – 2 TESTİ

1. Bu testte 16 soru vardır. Bu test için verilen süre 25 dakikadır.
2. Cevaplarınızı, cevap kâğıdının Coğrafya – 2 Testi için ayrılan kısmına işaretleyiniz.

(1 ve 2. soruları aşağıdaki paragrafa göre cevaplayınız)

Jeolojik ve jeomorfolojik etken ve süreçlerle gelişmiş, yerkabuğunun evrimini anlatan, doğada çok ender bulunan ve görsel güzelliği olan şekil ve yapılar jeolojik miras olarak tanımlanmaktadır. Sanayi ve teknolojinin hızla gelişmesi, artan nüfus ve aşırı hammadde tüketimi doğal çevreyi hızla tehdit etmekte, doğal kaynaklarımız ve yaşama alanlarımız daralmaktadır. Birçok canlı türü yok olmuş, bir kısmı ise yok olma tehlikesi ile karşı karşıyadır. Canlı türleri gibi dünyamızın bugüne kadar geçirmiş olduğu evrelerin sıralarını içerisinde barındıran jeolojik mirası da yok olma tehlikesi ile karşı karşıyadırlar.

1. Yukarıdaki tanıma göre aşağıdaki oluşumlardan hangisinin jeolojik miras olduğu söylenebilir?

- A) Hindistan, Taç Mahal B) Çin, Çin Seddi
C) ABD, Colorado Kanyonu D) İtalya, Pisa Kulesi
E) Mısır, Keops Piramidi

2. Paragrafa göre çeşitli beşeri faktörlerle yok olma tehlikesi yaşayan jeolojik mirasları korumak için alınacak aşağıdaki tedbirlerden hangisi diğerlerine göre, köklü bir çözüm değildir?

- A) Sürdürülebilir doğal kaynak kullanımını yaygınlaştırma
B) Dünya genelinde halkı bilinçlendirme çalışmaları yapma
C) Çevre koruma projelerini dünya genelinde yaygınlaştırma
D) Yerel örgütlerle bölgesel çalışmalar yapma
E) Yer bilimcilerinin jeolojik mirasları koruma çalışmalarına global ölçekte destek verme

3. Dünya Enerji Komitesi riski olmayan hiçbir enerji kaynağının bulunmadığını, bu yüzden enerji kaynaklarının seçimi yapılırken maliyet faktörleri ile birlikte çevresel etkilerin göz önüne alınması gerektiğinin ortaya çıktığını belirtmiştir.

Buna göre Türkiye'deki aşağıdaki enerji santrallerinden hangisinin çevresel etkisi dikkate alındığında diğerlerine göre daha olumlu sonuçlar alınır?

- A) Manisa, Seyitömer B) İzmir, Alaçatı
C) Muğla, Gökova D) Zonguldak, Çatalağzı
E) İstanbul, Ambarlı

4. Değerli maden yataklarına sahip olan bir yerleşim yerinde insanların hayat tarzları kültürleri ve birbirleriyle olan ilişkileri büyük ölçüde değişikliğe uğrayabilir.

Buna göre aşağıdaki şehirlerden hangisi yukarıdaki paragrafta anlatılan duruma uymaz?

- A) Musul B) Johannesburg
C) Marsilya D) Kerkük
E) Abadan

5. Sürdürülebilir kalkınma, insanoğlunun parçası olduğu ve varlığını sürdürebilmesi için temel desteği sağlayan ekosistemlerle uyumlu ve denge içinde, yaşam kalitesinin yükseltilmesi ve geliştirilmesi olarak tanımlanmaktadır.

Buna göre ülkelerin sürdürülebilir kalkınma modelini uygulaması aşağıdaki unsurlardan hangisini gerektirir?

- A) Yenilenebilir doğal kaynakların kullanımını azaltma
B) Tarım toplumları dışındaki toplumlarda nüfus artışını durdurma
C) Doğal kaynak üretimi ve tüketimi arasında denge oluşturma
D) İthalat olanaklarını kısıtlama yoluyla ihracat mallarını artırma
E) Nüfus miktarı ile sanayi tesisleri sayısını dengeli hale getirme

6. Biokütle, elektrik ve diğer enerji şekillerinin üretiminde kullanılan; tarımsal bitkiler ve atıklar, endüstriyel odun ve tomruk atıkları, çiftlik hayvanı atıkları ve yöresel organik madde atıkları gibi maddelerden üretilen yenilenebilir bir enerji kaynağıdır. Ancak çevre dostu olmasına rağmen bilinçli kullanılmadığında olumsuz çevresel etkilere neden olabilmektedir.

Buna göre aşağıdakilerden hangisi biokütle enerjisinin olumsuz çevresel etkisi olabilir?

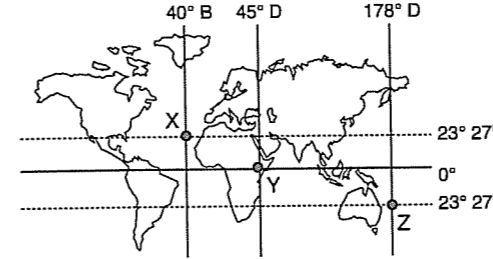
- A) Atmosferik karbon döngüsünü sağlaması
B) Asit yağmurlarını azaltması
C) Küresel ısınmayı azaltması
D) Sülfür emisyonu üretmemesi
E) Su kütlelerinin yüzeyini kaplayarak oksijen alışverişini engellemesi

7. İngiltere jeomorfolojik ve klimatolojik özellikleri nedeniyle sel ve taşkın riski ile karşı karşıyadır. Ülkede bu tehlikenin ortaya çıkması durumunda oluşacak zararları en aza indirmek için çeşitli çalışmalar yapılmaktadır. Örneğin göl, akarsu gibi su kütlelerinin su seviyeleri her gün gönüllü kişilerce incelenmekte en küçük bir seviye yükselmesinde tüm ülkede sel-taşkın tehlikesine karşı alarm verilmektedir.

Yukarıdaki paragrafta anlatılan durum;

- I. Sivil toplum bilincine
II. Karbon emisyonlarının azaltılma yöntemlerine
III. Meteoroloji erken uyarı sisteminin faydalarına
IV. Arazi ıslah çalışmalarına
durumlarından hangisine örnek oluşturmaktadır?
A) I ve II B) II ve III C) III ve IV
D) II ve IV E) I ve III

8. Aşağıdaki Dünya haritasında X, Y ve Z merkezleriyle, bu merkezlerden geçen meridyen ve paralel dereceleri verilmiştir.



Buna göre, bu merkezlerle ilgili olarak aşağıda verilen bilgilerden hangisi yanlıştır?

- A) X–Y ile Y–Z merkezleri arasındaki gece-gündüz süre farkı eşittir.
B) Y'de gurup ve tan süresi Z'ye göre daha uzundur.
C) X, Başlangıç Meridyeni'ne göre Batı Yarım Küre'dedir.
D) X'te yılın en kısa gölgesi oluşurken, Y'de güneş ışınlarındaki tutulma oranı en fazla olur.
E) Yerel saati en ileri olan merkez Z'dir.

9. Anadolu coğrafi ve jeopolitik konumu nedeniyle birçok medeniyetin beşiği konumunda olmuş bu özelliği ile ortaya çıkan tarihi ve kültürel pek çok variik günümüzde Türkiye'yi sembolize eden mekanlar haline gelmiştir. Buna göre;

- I. Meryem Ana Kilisesi
II. Antalya Falezleri
III. Safranbolu Evleri
IV. Mardin Evleri
V. Xantos Letoon
gibi Türkiye'yi sembolize eden mekanlardan hangileri UNESCO Dünya Mirası listesinde olması dolayısıyla yurt dışında da ülkemizi sembolize etmektedir?
A) I ve II B) II ve III C) IV ve V
D) I ve IV E) III ve V

10. Aşağıda seçilmiş dört ülkenin GSMH (Gayri Safi Milli Hasılat) ve kişi başına düşen milli gelirleri verilmiştir.

	GSMH (milyar dolar)	Kişi başına GSMH (Dolar)
Hollanda	607.7	37,361
Almanya	2.745	33,328
Fransa	2.047	33,882
İtalya	1.678	28,902

Hollanda'nın milli gelirinin diğer ülkelerden daha az olmasına rağmen kişi başına düşen milli gelirinin diğerlerinden fazla olması;

- I. Tarımsal faaliyetlerin yoğunluğu
II. Dış ticaret açığının fazlalığı
III. Sanayileşmenin yoğunluğu
IV. Nüfus miktarının azlığı
V. Doğal kaynaklarca zengin oluşu

durumlarından hangisi ile açıklanır?

- A) I B) II C) III D) IV E) V

11. Aşağıda Türkiye'de şeker pancarı tarımının yapıldığı alanlar verilmiştir.



Sadece bu haritadaki bilgilere bakılarak aşağıdakilerden hangisi kesin söylenebilir?

- A) Kıyıların iklimi şeker pancarı tarımına uygun değildir.
B) Şeker fabrikalarının dağılımı şeker pancarı ekim alanları dağılımı ile paraleldir.
C) Şeker pancarı ekim alanı geniş olan bitkilerden biridir.
D) Şeker pancarı üretimi devlet kontrolündedir.
E) Şeker pancarı ekim alanları çevresinde ahır hayvancılığı gelişmiştir.

12. Aşağıda siyanürleme yöntemi ile altın çıkarımı yapılan bazı bölgelerdeki kazalar verilmiştir.

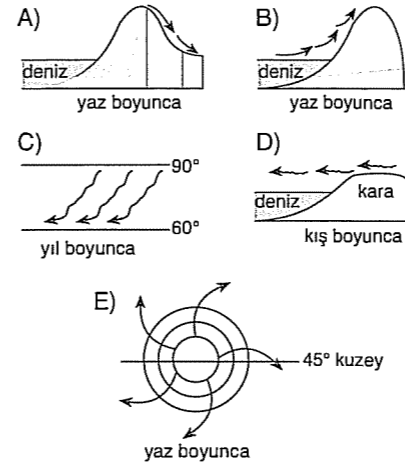
- 1995; Guyana'da Omai altın madeninde atık barajının seddesi yarıldı, 4. 2 milyon m³ siyanürlü atık boşaldı ve Essequibo nehrini Atlantik'e kadar zehirledi.
- 1995; Filipinlerde Surigao del Norte altın madeninde barajın temelinde yenileme olunca 500 000 m³ zehirli atık tarım alanlarına yayıldı.
- 1998; Kırgızistan'daki Kumtör altın madenine siyanür taşıyan bir kamyon Barskun nehrine uçtu. Zehir, 8 km sonra Orta Asya'nın en büyük kaplıcalarının bulunduğu noktada Issık Gölü'ne ulaştı.
- 2000; Romanya'da Baia Mare altın madeninde aşırı yağışlar sonucunda baraj taşıp yırtılınca 100 000 m³ siyanürlü akışkan Tırsa ve Tuna ırmaklarına boşaldı.

Buna göre aşağıdakilerden hangisi bu olaylardan çıkarılabilecek en kapsamlı yargıdır?

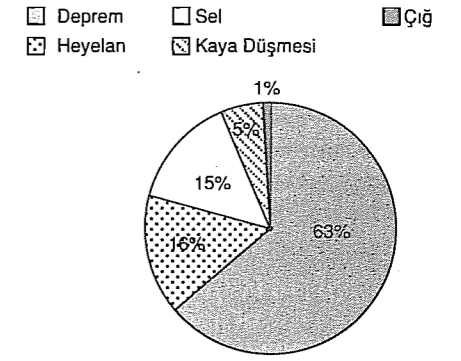
- A) Doğal kaynak kullanımının farklılığının çevresel sonuçları geri dönülmez zararlara yol açar.
 B) Tuna ırmağı siyanür nedeniyle akarsu ekosistemleri bakımından fakirleşmiştir.
 C) Issık gölü çevresi kaplıcaları kullanılmaz durumdadır.
 D) Filipinlerdeki tarım alanları siyanürün olumsuz etkisi nedeniyle günümüzde kullanılmaz durumdadır.
 E) Altın madeni çıkarım alanları yerleşim bölgeleri dışına kurularak olumsuz etkisi azaltılmalıdır.

13. Rüzgârlar doğdukları yerin sıcaklık ve nem özelliklerini estikleri bölgeye taşıyarak o bölgenin iklimi üzerinde etkili olurlar.

Bir bölgede rüzgârın etkisiyle sıcaklık, buharlaşma ve kuraklık artış gösteriyorsa, bu bölgeye estiği varsayılan rüzgâr yönü ve ortamı aşağıdakilerden hangisinde doğru olarak verilmiştir?



14. Aşağıda Türkiye'deki doğal afetlerin oransal dağılımı verilmiştir.



Buna göre;

- I. Beşeri süreçler
 II. Jeolojik ve jeomorfolojik yapı
 III. Aşırı yağış
 IV. Aşırı sıcaklık
 V. Kuraklık
- etmenlerinden hangisi bu afetlerin oluşmasında hepsi için ortak bir nedendir?

- A) I B) II C) III D) IV E) V

15. Yer kabuğunu harekete zorlayan, yer kabuğunun levhalar şeklinde parçalanmasını sağlayan, levhaların hareket etmesine neden olan temel etken aşağıdakilerden hangisidir?

- A) Fay hatlarındaki sıcak su kaynakları
 B) Kara ve denizlerin dağılışı
 C) Mantodaki konveksiyonel akıntılar
 D) Yer kabuğundaki engebeler
 E) Mantonun hacmi

16. Türkiye'de iç ticaretin çekim ve dağıtım merkezlerinin etki alanını; üretim ve tüketim hızı, coğrafi konum, ulaşım olanakları ve nüfus miktarı gibi pek çok faktör etkilemektedir.

Buna göre;

- I. İstanbul
 II. Elazığ
 III. Bursa
 IV. Adana
 V. İzmit

şehirlerinden hangisinin ticari anlamdaki etki alanı paragrafta anlatılan durum nedeniyle diğerlerinden daha dardır?

- A) I B) II C) III D) IV E) V

COĞRAFYA – 2 TESTİ

1. Bu testte 16 soru vardır. Bu test için verilen süre 25 dakikadır.

2. Cevaplarınızı, cevap kâğıdının Coğrafya – 2 Testi için ayrılan kısmına işaretleyiniz.

1. Canlıların yeryüzündeki dağılışını belirleyen temel etken coğrafi koşullardır. Sıcaklık, nem, toprak yer şekilleri gibi fiziki coğrafya unsurları dünyanın her yerinde aynı değildir. Bu da bitki ve hayvan türlerinde çeşitliliğin artmasına neden olmuştur. Çünkü her canlı türü kendi yaşam şartlarına uygun alanlarda yayılış gösterir. Coğrafi koşulların değişmesi halinde, canlı türleri yeni ortama uyum sağlar ya da uygun yaşam ortamının olduğu yerlere göç eder. Göç yeteneği veya uyum becerisi olmayan canlı türlerinin nesli önce azalır, sonra da yok olup ortadan kalkar.

Buna göre, aşağıdakilerden hangisi canlıların yeryüzündeki dağılışını belirleyen fiziki coğrafya koşullarından biri değildir?

- A) Bakı faktörü B) Kara ve denizlerin dağılımı
C) Yükselti D) Kara ve demir yolları ağı
E) Boğazlar

2. Aşırı yağışların oluşum nedenleri, en çok görüldüğü yerler ve doğa süreçlerine olan etkileri için aşağıda verilenlerden hangisi yanlıştır?

- A) Güneydoğu Asya kıyılarında görülmesinde yaz musonları etkilidir.
B) Toprak kayması riskini artırır.
C) En çok görüldüğü yerlerden biri Kuzey Afrika kıyılarıdır.
D) Oluşumunda sıcak - nemli deniz yüzeyinden hızla yükselen hava kütleleri etkilidir.
E) Yabancıl hayatın zarar görmesine neden olabilir.

3. Ekonomik faaliyetlerin temel aşamaları üretim, dağıtım ve tüketimdir. Bu faaliyetler birbirini tamamlayarak ekonomik döngünün devam etmesini sağlar.

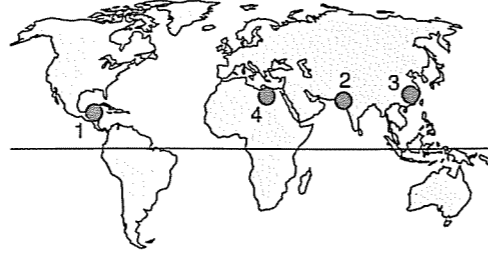
Buna göre, üretimle tüketim arasındaki bağlantıyı sağlayan dağıtım süreci üzerinde etkili olan,

- I. Ulaşım
II. Tarımsal faaliyetler
III. Pazarlama teknikleri
IV. Yerleşim özellikleri
V. İnsan kaynakları

faktörlerinden hangisi beşeri kökenli değildir?

- A) I B) II C) III D) IV E) V

4. Aşağıdaki haritada ilk medeniyet merkezlerinden dördü numaralarla gösterilmiştir.



Bu medeniyet merkezleri için aşağıdakilerden hangisi söylenemez?

- A) 1'de İnka Uygarlığı kurulmuştur.
B) 2'de medeniyetin kurulmasında İndus Nehri etkili olmuştur.
C) 3'te porselen yapımı gelişmiştir.
D) 4'te anatomi, tıp, eczacılık alanlarına katkı sağlanmıştır.
E) 1'deki uygarlık diğer üçüne göre daha geç kurulmuştur.

5. Türkiye'nin tarih boyunca bir medeniyet merkezi olmasında coğrafi konum özelliklerinin payı çok yüksektir. Türkiye insanların yaşamasına ve yerleşmesine elverişli koşullara sahiptir.

Buna göre, Türkiye'nin üzerinde yer aldığı topraklarda farklı medeniyetlerin kurulmasında etkili olan,

- I. Farklı kıtalar arasında yer alması
II. İklim çeşidinin fazla olması
III. Dünyanın önemli su yollarından olan boğazlara sahip olması
IV. Tarihi ticaret yolları üzerinde yer alması
V. Göç yolları üzerinde bulunması

özelliklerinden hangilerinin öneminin zaman içinde artıp azaldığı söylenemez?

- A) I ve II B) II ve III C) III ve IV
D) III ve V E) IV ve V

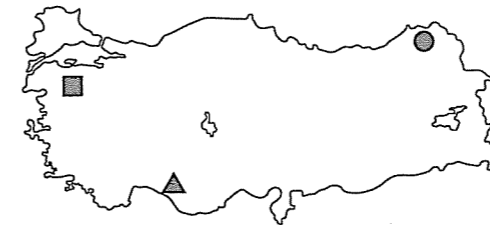
6. Bir yerin iklimi ve ekonomik özellikleri arasında yakın bir ilişki vardır. İklim olayları ekonomik faaliyetleri hem olumlu, hem olumsuz yönde etkileyebilir. Aşağıda Türkiye'deki iklim olaylarından beş tanesi verilmiştir.

- I. Yoğun kar yağışı
II. Don olayı
III. Güneşlenme süresinin uzun olması
IV. Yağışların yıl boyunca görülmesi
V. Yazların kurak geçmesi

Bu iklim olaylarının ekonomi üzerindeki etkileriyle ilgili olarak aşağıda verilenlerden hangisi yanlıştır?

- A) I. Kış turizmini olumlu etkilerken, işletme ve enerji maliyetini artırır.
B) II. Yer altı suyunun azalmasına yol açıp tarımda su ihtiyacını artırır.
C) III. Seracılığı ve sebzeçiliği olumlu etkiler. Ancak işletmelerin soğutma sistemlerindeki maliyeti artırır.
D) IV. Orman zenginliğini artırırken, toprağın verimini düşürür.
E) V. Deniz turizmüne uygun ortam sağlarken, tarımda sulama ihtiyacını artırır.

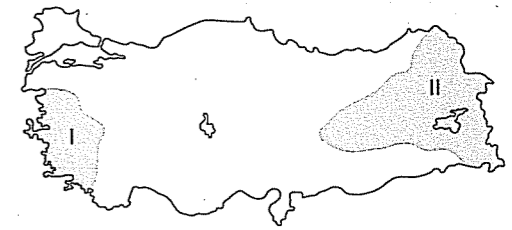
7. Aşağıdaki haritada kullanılan, ■, ▲, ● sembollerinden her biri, Türkiye'deki madenlerden birini göstermektedir.



Buna göre, sembollerin ait olduğu madenler aşağıdakilerden hangisinde doğru verilmiştir?

- | | ■ | ▲ | ● |
|----|--------|---------|-------|
| A) | Bor | Demir | Bakır |
| B) | Bor | Volfram | Bakır |
| C) | Bakır | Boksit | Bor |
| D) | Boksit | Bor | Bakır |
| E) | Bor | Boksit | Bakır |

8.



Yukarıdaki Türkiye haritasında taralı olarak belirlenen alanlar doğal, beşeri ve ekonomik özellikleri bakımından aşağıdaki gibi karşılaştırıldığında hangisi yanlış olur?

I daha öndedir	II daha öndedir
A) Tarım ürünü çeşidinde	Yer altı kaynaklarında
B) Jeotermal enerjide	Hidroelektrikte
C) Tarım ürünü ihracatında	Büyükbaş hayvancılıkta
D) Tarım alanlarının oranında	Volkanik alanlarda
E) Tarımda çalışan nüfus oranında	İyi cinst linyit üretiminde

9. Türkiye'de ulaşım sistemlerinin etkileri için,
I. Boğazlar Türkiye'nin dışarıya açılımında çok önemlidir.
II. Hinterlandı geniş olan İzmir limanı ihracat ve ithalat faaliyetlerini canlandırmaktadır.
III. Elverişli ulaşım olanakları Sakarya ve Kocaeli gibi sanayi şehirlerinin doğmasında etkili olmuştur.
IV. Aksaray, Malatya, Konya gibi şehirlerin gelişmesinde kara yolunun kavşak noktaları olmalarının payı fazladır.
V. Sinop ve Muğla gibi merkezlerin ekonomisine demir yolu ulaşımının katkısı fazladır.

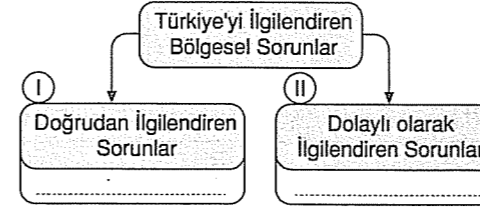
yargılarından hangisine ulaşılamaz?

- A) I B) II C) III D) IV E) V

10. Aşağıda verilen uluslararası örgüt ve üye devlet eşleştirmelerinden hangisi yanlıştır?

- A) Birleşmiş Milletler - Rusya
B) Avrupa Birliği - İsviçre
C) NATO - Hırvatistan
D) KEİ - Ukrayna
E) OECD - Türkiye

11. Aşağıdaki kavram haritası Türkiye'nin çevresindeki bölgesel sorunları göstermektedir.



Buna göre, numaralı kutucuklara aşağıdakilerden hangisinin yazılması uygun olmaz?

I	II
A) Kosova sorunu	Kıbrıs sorunu
B) Irak sorunu	Filistin sorunu
C) Sınır aşan akarsular	Kafkasya sorunu
D) Kıta sahanlığı sorunu	Bosna - Hersek s.
E) Batı Trakya sorunu	Makedonya s.

- 12.



Yukarıdaki haritada kişi başına kullanılabilir içme suyu miktarının en az olduğu yerler taralı olarak gösterilmiştir. Bu bölgelerde su sorununun ortaya çıkma nedenleri için aşağıdakilerden hangisi söylenemez?

- A) Buharlaştırma şiddetinin fazla olması
 B) Aşırı nüfus artışı
 C) Akarsuların açık havza şeklinde olması
 D) Yağış miktarının az olması
 E) Su kullanımının giderek artması
13. Hızla gelişen ekonomik sektörlerden biri olan turizm sosyal, kültürel, ekonomik, çevresel ve ekolojik yönden etkili olan, giderek küresel bir nitelik kazanarak önemini artırmaktadır. Bir ülkedeki ekonominin hemen her alanına etki eden turizm için "bacasız sanayi", "görünmeyen ihracat" gibi tanımlamalar da yapılır.
- Buna göre, turizm faaliyetleriyle ilgili olarak aşağıda verilen bilgilerden hangisi yanlıştır?
- A) Turizm gelirlerinde ilk sırada yer alan ülke ABD dir.
 B) En fazla turist çeken kıta Avrupa'dır.
 C) Milli parkların en çok olduğu yerler ABD ve Afrika'dır.
 D) İnanç turizmine yönelik turizm hareketinin en fazla olduğu kıta Afrika'dır.
 E) Dünyanın Yedi Harikası'ndan olan Kral Mozales'in Mezarı ve Artemis Tapınağı Anadolu sınırları içerisinde.

14. Aşağıda bir ülkeye ait bazı özellikler verilmiştir.
- Hiç dağ yoktur.
 - Ortalama yükseltisi genel olarak deniz seviyesindedir.
 - Akarsuları kıyısında yer aldığı açık denize ulaşır.
 - Ülkenin hemen yerinde aynı iklim tipi etkilidir.

Yukarıdaki özelliklere dayanarak bu ülke için,

- I. Güçlü gelgit dalgalarından zarar görme olasılığı fazladır.
 II. Akarsuların ağzında haliç oluşmuştur.
 III. Deniz ulaşımına elverişli değildir.
 IV. Tarımda makineleşme kolaydır.
 V. Tarım ürünü ve bitki çeşidi yönünden çok zengindir.

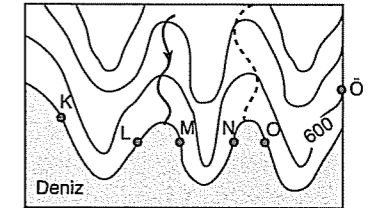
yargılarından hangilerine ulaşılabilir?

- A) I ve II B) II ve III C) II ve IV
 D) III ve V E) IV ve V

15. Asit yağmurlarının aşağıda verilen etkilerinden hangisinin diğerlerinden farklı olduğu söylenebilir?

- A) Ağaçların büyümesini ve gelişmesini engellemesi
 B) Yer altı sularını kirlenmesi
 C) Tarihi ve kültürel yapıları tahrip etmesi
 D) Su ekosistemini bozması
 E) Toprak kirliliğini artırması

16. Aşağıda eş yükselti eğrileriyle çizilmiş bir topoğrafya haritası verilmiştir.



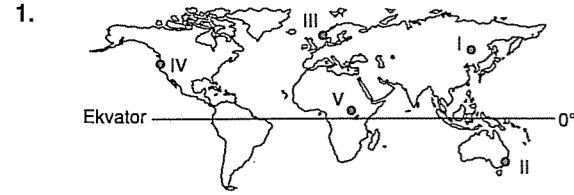
Haritada belirtilen K ve Ö noktaları arasında elde edilecek en kısa kara yolu için; yapılacak yol çalışmalar arasında aşağıdakilerden hangisinin yer alması beklenmez?

- A) K-L arasında tünel yapılmalıdır.
 B) L-M arasında köprü kurulmalıdır.
 C) O-Ö arasında tünel açılmalıdır.
 D) M-N arasında önce güneybatıya sonra kuzeydoğuya doğru yol yapılmalıdır.
 E) Tünel ile köprüler arasında doğrudan bağlantı kurulmalıdır.

COĞRAFYA – 2 TESTİ

1. Bu testte 16 soru vardır. Bu test için verilen süre 25 dakikadır.

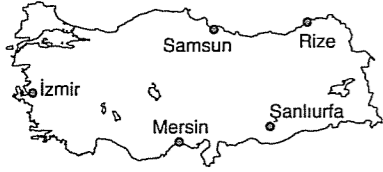
2. Cevaplarınızı, cevap kâğıdının Coğrafya – 2 Testi için ayrılan kısmına işaretleyiniz.



Yıllık yağışın fazla olduğu buna karışık yıllık sıcaklık farkının çok az olduğu bir iklim bölgesinde yetişme imkanı bulan bir bitkinin işaretli alanlardan hangisinde uygun yaşam koşullarını bulması beklenir?

A) I B) II C) III D) IV E) V

2. Aşağıdaki Türkiye haritasında bazı merkezler verilmiştir.



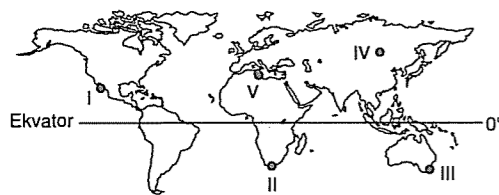
Haritadaki merkezlerle ilgili olarak verilen;

- I. İzmir'de kışların Şanlıurfa'dan daha ılık geçmesi
- II. Rize ve Samsun'da güneş ışınlarındaki tutulma oranının diğerlerine göre daha fazla olması
- III. Mersin'de kışların Samsun'a göre daha ılık geçmesi
- IV. Rize'de yerel saatin İzmir'e göre daha ileri olması

özelliklerinden hangileri enlem etkisiyle açıklanabilir?

A) I ve II B) I ve III C) II ve III
D) II ve IV E) III ve IV

3. Akdeniz bölgesinde yazları sıcak ve kurak kışları ılık ve yağışlı bir iklim vardır. Bu iklimde keçi boynuzu ve zeytin ağaçlarına sık rastlanır.



Buna göre haritada işaretli alanlardan hangisinde keçi boynuzu ve zeytin ağaçlarına rastlanmaz?

A) V B) IV C) III D) II E) I

4. Aşağıda nüfus miktarının etkili olduğu alanlar verilmiştir.

- I. Vergi gelirlerini artırır.
- II. Doğal kaynakların işletilmesini sağlar.
- III. Km² ye düşen kişi sayısını artırır.
- IV. Askeri güç oluşturur.

Buna göre hangileri günümüz teknolojisinde etkisini yitirmiştir?

A) I ve II B) II ve III C) III ve IV
D) I ve III E) II ve IV

5. Şiddetli deprem ve volkanizmanın tetiklediği tsunami büyük okyanus ve çevresindeki adalarda ciddi zararlara yol açmaktadır.

Aşağıdaki adalardan hangisi bunlardan biri değildir?

A) Yeni Zelanda B) Japon Adaları
C) Azor Adaları D) Hawaii Adaları
E) Galapagos Adaları

6. I. İnkâ Uygarlığı
II. Mezopotamya Uygarlığı
III. Çin Uygarlığı
IV. Mısır Uygarlığı
V. Maya Uygarlığı

medeniyetlerinden hangilerinin kurulduğu yerde büyük akarsuların etkisi olmamıştır?

A) I ve V B) II ve III C) III ve IV
D) IV ve V E) II ve V

7. Aşağıda ülkemizdeki ulaşım faaliyetlerinin önemli unsurları verilmiştir.

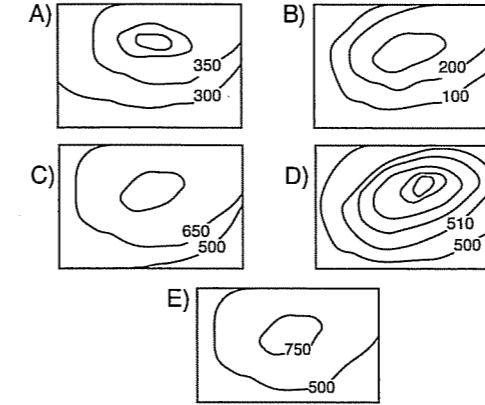
- I. Marmaray projesi
- II. İstanbul Boğazı
- III. Çanakkale boğazı
- IV. Enerji nakil yolları
- V. Ortadoğu'ya açılan kara yolları

Buna göre hangisi diğer ülkeler ile olan ilişkilerimizde daha az önem taşımaktadır?

A) I B) II C) III D) IV E) V

8. Bir izci takımının lideri olan Ali Bey, takımını kamp alanına götürmüştür. Dağlık ve ormanlık bir yapıya sahip olan kamp alanını tanıtan çeşitli haritalar üzerinde bölgenin tanıtımını yapan Ali Bey, izcilerin herbirine birer harita dağıtarak çevre ve kamp alanı hakkında bilgi edinmelerini istemiştir.

Buna göre, Ali Bey'in dağıttığı aşağıdaki haritalardan hangisinin kamp bölgesini daha ayrıntılı olarak göstermesi beklenir?



9. Aşağıda Türkiye, Meksika, Polonya ve OECD ülkelerinde 1994-2005 yılları arasında işsizlik oranları verilmiştir.

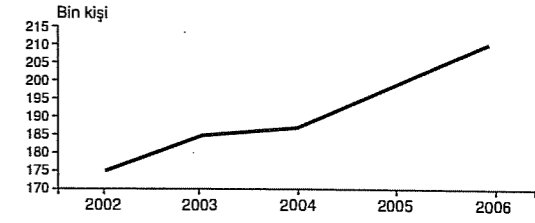
İşsizlik Oranı (15-64 yaş, %)

Ülke	1994	2001	2002	2003	2004	2005
Türkiye	8,8	8,6	10,6	10,8	10,6	10,5
OECD Ort	7,8	6,3	6,9	7,1	6,9	6,7
Meksika	4,4	2,2	2,5	2,6	3,1	3,6
Polonya	14,8	18,6	20,3	20,0	19,3	18,0

Tablodaki verilere göre aşağıdakilerden yargılardan hangisine ulaşamaz?

- A) Ülkemizde işsizlik oranı 2003 yılına kadar artmış sonra azalmıştır.
- B) Ülkemiz nüfusunda son yıllarda azalma görülmektedir.
- C) OECD ülkelerindeki işsizlik oranı, verilen yılların hepsinde Türkiye'dekinden daha düşüktür.
- D) Meksika'daki işsizlik oranı verilen diğer ülkelerden az olmuştur.
- E) Polonya'daki işsizlik oranı verilen ülkelerden daha fazladır.

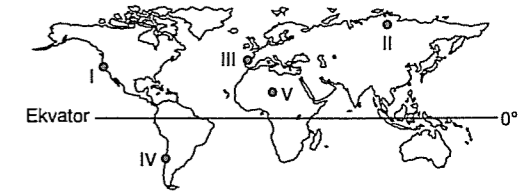
10. Aşağıda 2002-2006 yılları arasında Türkiye'deki ölümler verilmiştir.



Aşağıdakilerden hangisi bu grafikten çıkarılabilecek doğru bir sonuçtur?

- A) Sağlık hizmetleri gerilemektedir.
- B) Ölümlerin çoğu trafik kazalarından kaynaklanmaktadır.
- C) 2002 yılında sağlık hizmetlerinin kalitesi daha yüksek olmuştur.
- D) 2002 yılından itibaren ölümler sürekli artmıştır.
- E) Salgın hastalıkların ölüm oranındaki payı yüksektir.

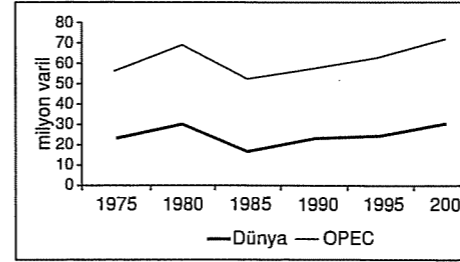
11. Kırıklı ve genç, magmanın yüzeye yakın olduğu araziler sıcak su kaynakları bakımından zengindirler. Sıcak su kaynakları bol miktarda eriyik madde içerdiğinden sağlık turizminde termal kaynaklar kaplıcalar olarak önemli bir yere sahiptirler.



Buna göre yukarıdaki işaretli alanlardan hangisinde bu tür kaynaklara rastlanma ihtimali daha azdır?

A) I ve III B) II ve V C) I ve IV
D) III ve V E) II ve III

12. OPEC petrol ihraç eden ülkeler örgütü olarak Orta-doğu ülkelerinin bir kısmının katılımıyla 1960 yılında kurulmuştur. Aşağıdaki grafikte 1975–2000 yılları arasında OPEC ülkelerinin petrol üretimi ile dünya toplam petrol üretimi verilmiştir.



Aşağıdakilerden hangisi sadece bu grafikten yararlanılarak ulaşılabilecek doğru bir sonuçtur?

- A) OPEC ile dünya petrol üretimindeki değişimler birbirine paraleldir.
 B) 1980 yılından sonra dünya petrol üretimi sürekli artmıştır.
 C) OPEC ülkelerinin petrol üretiminin azaldığı yıllarda dünya genelindeki üretimi artmıştır.
 D) OPEC ülkelerinin içinde en fazla petrol üretimini Suudi Arabistan üretmiştir.
 E) 1985'ten sonra petrol üretimi azalmıştır.

13. Ülkelerin uluslararası ticarete, yolcu ve yük taşımacılığında tercih edeceği ulaşım yolları üzerinde coğrafi konumun etkisi fazladır. Coğrafi konuma bağlı olarak bazı ülkeler, uluslararası ulaşımında kara yolu, demir yolu, deniz yolu ve hava yolu sektörlerinin hemen hepsini kullanabilme avantajına sahipken, bazı ülkeler bunlardan bir veya ikisini tercih etmek zorunda kalmaktadır.

Ülkelerin coğrafi konumları göz önüne alındığında;

- I. Japonya
 II. İngiltere
 III. Türkiye
 IV. Endonezya

Ülkelerinden hangilerinin başka ülkelerle olan ilişkilerinde tercih edebileceği ulaşım yolu çeşitliliğinin daha fazla olduğu söylenebilir?

- A) Yalnız I B) Yalnız II C) Yalnız III
 D) II ve III E) II ve IV

14. I. Van Gölü
 II. Tuz Gölü
 III. Aral Gölü
 IV. Baykal Gölü
 V. Superior Gölü

Yukarıda verilen göllerden hangilerinde son 20 yılda yanlış arazi kullanımı ve kuraklık yüzünden alanında diğerlerinden daha fazla daralma görülmüştür?

- A) I ve II B) II ve III C) III ve IV
 D) III ve V E) IV ve V

15. I. Linyit
 II. Petrol
 III. Jeotermal
 IV. Taşkömürü
 V. Doğalgaz

Yukarıda verilen enerji kaynaklarından hangileri diğerlerine göre çevre kirliliğine yol açmaz?

- A) I ve III B) II ve IV C) III ve IV
 D) IV ve V E) III ve V

16. Coğrafya dersinde sunum yapan bir öğrenci, gazetelerden ve çevre ile ilgili internet sitelerinden küresel çevre sorunlarıyla ilgili şu haberleri arkadaşlarıyla paylaşmıştır.

Bu haberden hangisinin ozon seyrelmesinin nedenlerine yönelik olduğu söylenebilir?

- A) Türkiye'deki bir çevre kuruluşu, ülkemizdeki yaban keçisi, Van kedisi, alageyik gibi endemik hayvanların ve kasnak meşesi, ispir meşesi, Datça hurması gibi endemik bitkilerin orman yangınları, sanayileşme ve şehirleşmenin etkisiyle tehlike altında olduğu uyarısında bulundu.
 B) Türkiye'de kırsal kesimde büyük şehirlere olan göçler sonucunda şehirlerin çevresinde yaygınlaşan gecekondu semtlerinde atık sular insan sağlığını tehdit edecek boyutu aşmış bulunmaktadır.
 C) Plastik köpük yapımında, buzdolaplarında, klimalarda ve spreylerde kullanılan flüoroklorokarbon gazlarının kullanımına çeşitli sınırlamalar getirilmesi için uzmanlar yetkililere çağrıda bulundu.
 D) 6 Ağustos 1945'te İkinci Dünya Savaşı sırasında Hiroşima'ya atılan atom bombasının insan ve çevre sağlığı üzerindeki olumsuz etkileri yıllarca devam etti.
 E) Evsel katı atıklar olan çöplerin oluşturduğu çöp dağlar; yer altı suyunun kirlenmesine, zehirli gazların birikmesine ve hastalık taşıyan sinek, böcek ve farelerin üremesine ortam hazırladı.

COĞRAFYA – 2 TESTİ

1. Bu testte 16 soru vardır. Bu test için verilen süre 25 dakikadır.

2. Cevaplarınızı, cevap kâğıdının Coğrafya – 2 Testi için ayrılan kısmına işaretleyiniz.

1. Ekosistemin unsurlarından olan üreticiler bitkiler, bazı bakteriler ve alglerden oluşur.

Buna göre, aşağıdakilerden hangisi üreticilerin özelliklerinden biri değildir?

- A) Fotosentez yaparlar.
B) Canlılar için organik madde üretirler.
C) Besin piramidinin en geniş kesitini oluştururlar.
D) Güneşten aldıkları enerjiyi, besin enerjisine çevirirler.
E) Besin piramidinin üçüncü beslenme seviyesinde yer alır.

3. Aşağıdaki tabloda dört farklı bölgenin enlem ve boylam değerleri verilmiştir.

Bölge	Enlem Değerleri	Boylam Değerleri
I	5° – 20° K	10° – 140° D
II	65° – 84° G	25 – 30° B
III	4° K – 4° G	10° B – 5° D
IV	25° – 63° K	30° – 45° D

Yalnız tablodak bilgilere dayanarak bu ülkeler için aşağıdaki yargılardan hangilerine ulaşamaz?

- A) I'de aynı anda birden fazla saat dilimi kullanılır.
B) 21 Aralık tarihinde II'de yaşanan gündüz süresi, IV'te yaşanan gece süresinden daha kısadır.
C) Silindirik projeksiyonla hazırlanan haritalarda bozulmanın en az olacağı bölgeler III ve I'dir.
D) Yeryüzünde çevresi en geniş olan paralel, III numaralı bölgenin tam ortasından geçer.
E) Bitki ve iklim çeşidi bakımından en zengin olan bölge IV'tür.

4. Aşağıdakilerden hangisi, yakın bir gelecekte nüfusu 20 milyonu aşması beklenen şehirlerden biri değildir?

- A) Dakka (Bangladeş)
B) Delhi (Hindistan)
C) Sao Paulo (Brezilya)
D) Meksiko City
E) Paris (Fransa)

5.

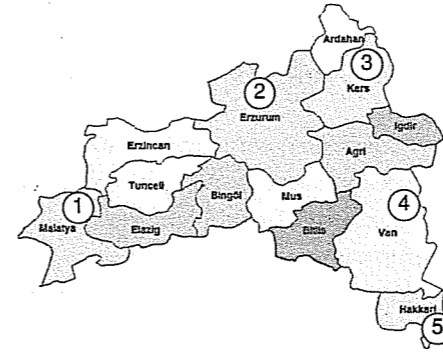


- Tarımda makineleşme olanağı az
- Nadas ihtiyacı en az
- Sulama ihtiyacı en az

olan bir yerin yukarıdaki Türkiye haritasında numaralanmış alanların hangisinde bulunduğu söylenebilir?

- A) I B) II C) III D) IV E) V

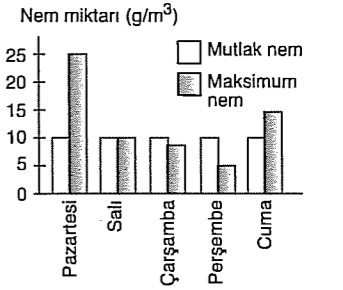
6.



Yukarıda verilen Doğu Anadolu Bölgesi haritasında numaralanmış alanlardan hangisinde iklim koşullarının tarımsal faaliyetlere daha elverişli olduğu söylenebilir?

- A) 1 B) 2 C) 3 D) 4 E) 5

8. 1 m³ havada var olan nem miktarına mutlak nem denir. Aynı sıcaklıkta 1 m³ havanın taşıyabileceği en fazla nem miktarına da maksimum nem denir. Mutlak nem miktarı ile maksimum nem miktarı eşit olan hava kütesinde hava doyma noktasına erişir, bağıl nem oranı %100 olur. Maksimum nem miktarı mutlak nem miktarını geçtikçe bağıl nem oranı azalır, hava doyma noktasından uzaklaşır, buharlaşma şiddeti artar.



Yukarıdaki grafikte, Ankara'da beş gün boyunca etkili olan hava kütlelerinin mutlak nem miktarları ile maksimum nem miktarları gösterilmiştir.

Buna göre, hangi gün Ankara'ya düşen yağış miktarının daha fazla olması beklenir?

- A) Pazartesi B) Salı C) Çarşamba
D) Perşembe E) Cuma

7.



Yukarıdaki Türkiye haritasında numaralanmış alanlar için en riskli olan doğal afetler aşağıdakilerin hangisinde doğru verilmiştir?

- | 1 | 2 | 3 |
|-------------|---------------|---------------|
| A) Heyelan | Orman yangını | Erozyon |
| B) Erozyon | Heyelan | Deprem |
| C) Sel | Orman yangını | Deprem |
| D) Kuraklık | Orman yangını | Deprem |
| E) Heyelan | Deprem | Orman yangını |

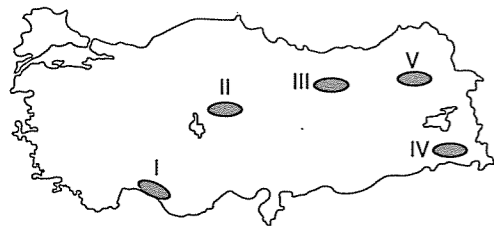
9. Bir ülkede 1990–2012 yılları arasındaki süreçte;

- Nüfus piramidinin tabanı giderek daralmıştır.
- Çalışan nüfusun yaş ortalaması büyümüştür.
- Dış satım ürünleri içerisinde sanayi ürünlerinin payı %95'i geçmiştir.
- Aldığı beyin göçünde artış olmuştur.
- Bilişim sektöründe, araştırma-geliştirme merkezlerinde ve büyük şirketlerin yönetim yapılarında önemli gelişmeler olmuştur.

Buna göre, bu ülke için, aşağıdaki yargılardan hangisine ulaşamaz?

- A) Dördüncül ve beşincil sektörde gelişmeler olmuştur.
B) Doğum oranı azalmıştır.
C) Nitelikli iş gücü açığı vardır.
D) Tarım ürünü çeşidi fazladır.
E) Nüfus dağılışı ile doğal koşullar arasındaki ilişki zayıftır.

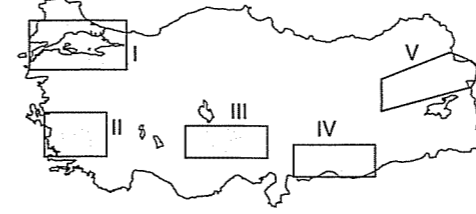
2.



Don olayının ekstrem değerlerde yaşanması durumunda, yukarıdaki Türkiye haritasında numaralanmış alanlardan hangisindeki tarımsal faaliyetlerin daha çok zarar görmesi beklenir?

- A) I B) II C) III D) IV E) V

10. Bölge sınırlarını belirlemede fiziki özellikler (iklim, bitki toplulukları, yer şekilleri, toprak ...) ile beşeri özellikler (nüfus, yerleşme, ekonomik faaliyetler ...) dikkate alınır.



Türkiye'nin coğrafi özellikleri göz önüne alındığında, numaralanmış taralı alanların bölge sınıflandırması için aşağıdaki yargılardan hangisine ulaşamaz?

- A) V'te seyrek nüfuslu bölge, volkan konileri bölgesi, dağlık bölge, karasal bölge gibi bölge türleri oluşturulabilir.
 B) II'de Akdeniz iklim bölgesinden karasal iklim bölgesine geçiş aniden ve net sınırlarla olur.
 C) İklim tiplerine göre bölge çeşidi yönünden en zengin olan I'dir.
 D) IV'te düzlük, ovalık bölgeler yer alır.
 E) III'te ekonomik özelliklerine göre oluşturulacak bölge çeşidi I'e göre daha azdır.

11. Günümüzde enerji kaynaklarının temini, pazar alanı yaratma, su kaynaklarına erişim gibi ekonomik faktörlerin yanı sıra etnik, dini, kültürel ve siyasi yapılar da çatışmalara neden olmaktadır. Birden fazla ülkenin müdahale etmesiyle bu sorunlar uluslararası boyut kazanarak sıcak çatışmalara dönüşmektedir.

Buna göre günümüzde;

- Zengin petrol rezervleri
- Su kıtlığı
- Sınır aşan akarsuların varlığı
- Ekonomik, sosyal, kültürel, etnik ve dinsel sorunların canlı olması

nedenlerine bağlı olarak sıcak çatışmaların yaşandığı bölge aşağıdakilerden hangisidir?

- A) Doğu Timor B) Bolivya C) Orta Doğu
 D) Kosova E) Kafkasya

12. Aşağıdakilerden hangisi, Nijerya'nın coğrafi özelliklerinden biri değildir?

- A) Kuzeye doğru gidildikçe yağış azalır.
 B) En önemli akarsuyu Nijer'dir.
 C) Ülkede homojen bir kültür vardır.
 D) İhracatında en büyük payı petrol alır.
 E) Alt yapı olanakları yetersizdir.

13. Hindistan ve Hollanda coğrafi özellikleri bakımından ülke genelinde karşılaştırıldığında, Hindistan için aşağıdakilerden hangisi söylenemez?

- A) İklim çeşidi daha fazladır.
 B) Hidroelektrik enerji potansiyeli daha yüksektir.
 C) Tarımsal verim daha düşüktür.
 D) Yağışlı gün sayısı daha fazladır.
 E) Doğal kaynak potansiyeli daha zengindir.

14. Karalardaki çanaklarda biriken su kütlelerine göl denir. Doğal göl çanaklarının oluşmasında çeşitli faktörler etkilidir.

Buna göre;

- I. Buzul gölleri
 II. Karstik göller
 III. Heyelan set gölleri
 IV. Krater gölleri

göllerinden hangilerinin çanaklarının oluşmasında jeolojik yapının veya iç kuvvetlerin etkili olduğu söylenemez?

- A) Yalnız I B) Yalnız II C) Yalnız III
 D) II ve IV E) III ve IV

15. İnsanın aşağıdaki faaliyetlerinden hangisinin su döngüsüne zarar verdiği söylenemez?

- A) Sulak alanların tarıma açılması
 B) Baraj ve kanal yapılması
 C) Erozyonla mücadele edilmesi
 D) Şehirsel alanların artması
 E) Bitki örtüsünün tahrip edilmesi

16. Aşağıdakilerden hangisi, gelişmiş ülkelerde yaşanan çevre sorunlarının nedenlerinden biri değildir?

- A) Üretimin artması sonucu kirliliğin oluşması
 B) Toprağın aşırı işlenmesi sonucu erozyonun hızlanması
 C) Üretimde ham madde kullanımının doğal kaynak tüketimini hızlandırması
 D) Tüketimin fazla olması
 E) Hızla değişen, yenilenen teknoloji ürünleri kullanımının atık miktarını artırması

COĞRAFYA – 2 TESTİ

1. Bu testte 16 soru vardır. Bu test için verilen süre 25 dakikadır.

2. Cevaplarınızı, cevap kâğıdının Coğrafya – 2 Testi için ayrılan kısmına işaretleyiniz.

1. Aşağıdaki dünya haritasında bazı alanlar işaretlenmiştir.



Bunlardan hangisi NAFTA'ya üye ülkelerin bulunduğu alana işaret etmektedir?

A) 1 B) 2 C) 3 D) 4 E) 5

2. I. İnsuyu Mağarası
II. Kestel Polyesi
III. Kızılören Obruğu
IV. Cennet Cehennem Obruğu
V. Karain Mağarası

yukarıdaki karstik oluşumlardan hangisi, turizm faaliyetleri dışındaki bir ekonomik faaliyete hizmet etmektedir?

A) I B) II C) III D) IV E) V

3. Aşağıda Cumhuriyet döneminde gerçekleşen bazı olaylar verilmiştir.

- I. İzmir İktisat kongresi
II. Teşvik-i sanayi kanunu
III. Kabotaj kanunu
IV. Montrö sözleşmesi

Buna göre hangilerinin denizyollarını doğrudan etkilediği söylenebilir?

A) I ve II B) II ve III C) III ve IV
D) I ve III E) II ve IV

4. İtalya'nın Vigenella köyü dağlar arasındaki bir vadi-de yer aldığından güneş ışığını görememe sıkıntısını aşmak için maliyeti fazla olan bir ayna düzeneği kurmuştur.

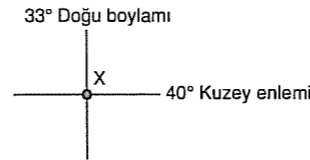
Yer şekilleri özellikleri dikkate alındığında aşağıdaki ülkelerden hangisinde yer alan köylerin böyle bir sıkıntı çekeceği söylenemez?

A) Afganistan B) Polonya C) Avusturya
D) Norveç E) İsviçre

5. Kızıldeniz'i Akdeniz'e bağlayan Süveyş Kanalı'nın açılması aşağıdakilerden hangisini etkilememiştir?

- A) Akdeniz Hint okyanusu gemi ulaşım süresini
B) Çevresindeki bitki ve hayvan türleri geçişini
C) Bölgedeki gelir kaynaklarını
D) Kıtalararası hava ulaşımını
E) Bölgenin jeopolitik önemini

6.



Yukarıdaki şekilde koordinatları verilen X merkezinde yaşayan Hakan, uluslararası bir kongreye katılmak üzere başka bir ülkedeki Y merkezine gidiyor. Hakan X merkezine göre Y merkezinde;

- Gündüz süresinin daha uzun
- Yerel saatin daha geri
- Gece ve gündüz süreleri arasındaki farkın daha az olduğunu tespit etmiştir.

Buna göre, kongrenin gerçekleşebileceği tarihlerden biri ve Hakan'ın hareket yönü aşağıdakilerden hangisinde doğru olarak verilmiştir?

	Kongrenin Tarihi	Hareket Yönü
A)	21 Aralık	Güneybatı
B)	21 Aralık	Güneydoğu
C)	21 Aralık	Kuzeybatı
D)	21 Mart	Güneybatı
E)	21 Haziran	Güneybatı

7. Yerkabuğunda meydana gelen salınım ve titreşim hareketleri olarak tanımlanan deprem can ve mal kayıplarına neden olan doğal bir afettir.

Aşağıdakilerden hangisi depremin yol açtığı can ve mal kayıplarını en aza indirmek için başvurulan yollarından biri değildir?

- A) Fay hatları üzerinde büyük yerleşim merkezleri kurulmamalı ve yüksek katlı binalar yapılmamalıdır.
B) Binalardaki yapı malzemesi ve yapı tekniği sarsıntılara dayanıklı olmalıdır.
C) Deprem konusunda halk eğitilmelidir.
D) Binaların yapıldığı yerler genelde yer altı suyu bakımında zengin olan alüvyal alanlar olmalıdır.
E) Deprem sırasında merdiven ve tavan boşluklarında durulmamalıdır.

8. İnsanların gezmek, görmek, eğlenmek, dinlenmek amacıyla yaptığı gezilere turizm denir. Her hangi bir ülkede turizmin gelişmesinde doğal güzelliklerin yanı sıra ülkenin matematik konumunun, beşeri ve ekonomik şartlarının da önemli bir yeri vardır.

Buna göre, aşağıdaki ülkemiz turizm olanaklarının hangisinin gelişmesinde beşeri şartların rolü en büyüktür?

- A) Akdeniz Bölgesinde plajların geniş yer kaplaması
B) İstanbul'da Yerebatan Sarnıcı'nın bulunması
C) Denizli'de Pamukkale Travertenlerinin bulunması
D) İç Anadolu Bölgesi'nde Peribacalarının bulunması
E) Uludağ'da kış turizminin gelişmesi

9. İngiltere'de yaz turizminin Fransa ve İspanya'daki gibi yaygın ve önemli bir gelir kaynağı olmamasında;

- I. Yağış rejiminin düzenli olması
II. Okyanus üzerinde bir ada olması
III. Yüzey şekillerinin sade olması
IV. Bulutluluk oranının fazla olması

özelliklerinden hangileri etkili değildir?

A) I ve II B) III ve IV C) I ve IV
D) II ve III E) II ve IV

10. Aşağıda verilen kıta ve bulundurduğu kanal, boğaz ya da tünel eşleşmelerinden hangisi yanlıştır?

- A) Asya – Don Volga Kanalı
B) Güney Amerika – Macellen Boğazı
C) Asya – Kiel Kanalı
D) Avrupa – Manş Tüneli
E) Asya – Hürmüz Boğazı

11. Aşağıdaki tabloda 2004, 2005 ve 2006 yıllarında aylara göre yabancılardan elde edilen turizm gelirleri verilmiştir. (100 dolar olarak)

Aylar	2004	2005	2006
Ocak	394 025	457 173	457 390
Şubat	365 087	402 539	379 758
Mart	475 519	603 573	530 307
Nisan	620 106	695 016	718 863
Mayıs	1 017 825	1 226 584	1 034 000
Haziran	1 176 696	1 321 326	1 303 122
Temmuz	1 645 294	2 017 491	1 801 297
Ağustos	2 165 634	2 503 710	2 312 933
Eylül	1 739 695	1 968 761	1 764 319
Ekim	1 450 009	1 603 360	1 161 131
Kasım	643 278	681 659	606 459
Aralık	430 890	448 105	484 381
toplam	12 124 059	13 929 300	12 553 966

Kaynak: TÜİK 2006

Tablodaki bilgilere dayanarak aşağıdakilerden hangisine ulaşılamaz?

- A) Toplam gelen turist sayısının 12 milyonun altına düşmediğine
B) En fazla turizm gelirinin yaz mevsiminde kazanıldığına
C) Üç yılda da en az turizm gelirinin Şubat ayında olduğuna
D) Turizm gelirinin şubat ayından itibaren Ağustos ayına kadar sürekli arttığına
E) En fazla turizm gelirinin yaz aylarında olduğuna

12. Aşağıdaki haritada aktif volkanların yeryüzündeki dağılışı gösterilmiştir.



Aşağıdaki oluşumlardan hangisinin bu dağılışıyla paralellik göstermesi beklenmez?

- A) Levha sınırlarının
B) Jeotermal bölgelerin
C) Genç kıvrım dağların
D) Diri fay hatlarının
E) Karstik göllerin

13. Uluslararası alanda işbirliğinin ve uyumun artması, ülkelerin ortak hareket etme bilincinin gelişmesi ve sosyal, ekonomik, siyasi ve çevresel sorunların küresel boyut kazanması uluslararası alanda faaliyet yürüten örgütlerin doğmasına neden olmuştur. Bu örgütlerin amaçları ile kuruluşları ve üyeleri arasında yakın bir ilişki vardır.

Buna göre, aşağıdaki uluslararası örgütlerden hangisine hiç bir devlet veya hükümet üye değildir?

- A) OECD B) NATO C) Greenpeace
D) NAFTA E) OPEC

14. Aşağıda tarihsel süreçteki bazı teknolojik gelişim aşamaları verilmiştir.

- I. Pulluğun icadı
II. Kimyasal gübre kullanımı
III. Makine kullanımı
IV. Biyoteknoloji

Buna göre yukarıda verilen teknolojik gelişimler aşağıdaki ekonomik faaliyetlerden hangisi ile ilgilidir?

- A) Sanayi B) Ticaret C) Tarım
D) Ulaşım E) Turizm

15. Ülkemizde;

- I. Tarım ürünü
II. Hammadde
III. Mamul madde
IV. Hizmet

ürünlerinden hangileri kentsel alandan kırsal alana doğru olan iç ticarete konu olmamaktadır?

- A) I ve II B) II ve III C) III ve IV
D) II ve IV E) I ve III

16. Türkiye'nin Cumhuriyetin ilk yıllarında nüfusu arttırmaya yönelik politika izlemesindeki aşağıdaki amaçlardan hangisi kırsal alandaki işleyişe yöneliktir?

- A) Tarımda makineleşmenin yetersizliği
B) Sanayileşmeyi hızlandırma
C) Askeri güç sağlama
D) Siyasi otoriteyi güçlendirme
E) Halk sağlığını iyileştirme

COĞRAFYA – 2 TESTİ

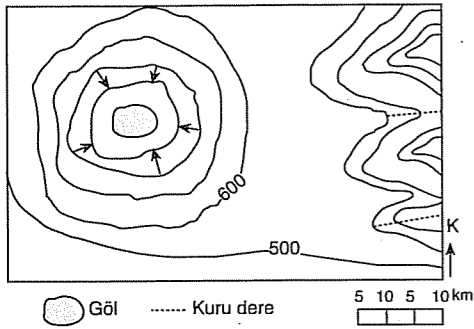
1. Bu testte 16 soru vardır. Bu test için verilen süre 25 dakikadır.

2. Cevaplarınızı, cevap kâğıdının Coğrafya – 2 Testi için ayrılan kısmına işaretleyiniz.

1. Türkiye’de ekstrem sıcaklıkların sıkça görülmesi ile aşağıdaki faktörlerden hangisi arasında bir ilişki olduğu söylenemez?

- A) Çevresindeki kara kütleleri
B) Çevresindeki hava kütleleri
C) Basınç sistemleri
D) Çevresindeki bitki kuşakları
E) Yerçekilleri

2. Aşağıda bir bölgenin eş yükselti eğrileriyle çizilmiş topoğrafya haritası verilmiştir.



Bu haritaya bakılarak aşağıdakilerden hangisine ulaşamaz?

- A) Bölgenin doğu kesiminde sırtların ve kuru vadilerin yer aldığına
B) Genel olarak engebeli bir bölge olduğuna
C) Göldeki su seviyesinin mevsimden mevsime belirgin olarak değiştiğine
D) Yükseltisi en fazla olan eğrinin bölgenin kuzeydoğusunda yer aldığına
E) İki kuru dere arasındaki kuş uçuşu uzaklığın ölçek yardımıyla hesaplanabileceğine

3. Fabrikaların, üretim tesislerinin kuruluş yerleri belirlenirken çeşitli ölçütler göz önüne alınmaktadır.

Buna göre, aşağıdaki tesislerden hangisinin kuruluş yerini belirleyen faktörün diğerlerinden farklı olduğu söylenebilir?

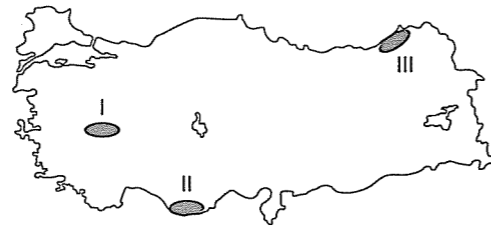
- A) Çay işleme
B) Salça
C) Ekmek fırını
D) Şeker fabrikası
E) Meyve suyu fabrikası

4. • Matematikte sıfır (0) kavramını bulan
• Cebirin ilk ilkelerini belirleyen
• Müzikte notalama çalışmaları yapan
• Tıp ve astronomi alanında önemli çalışmalar yapan

medeniyet aşağıdakilerden hangisidir?

- A) Hint
B) Çin
C) Mısır
D) Akdeniz
E) Mezopotamya

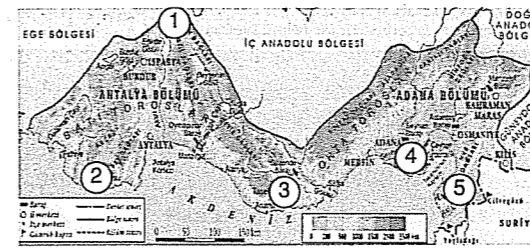
5.



Yukarıdaki haritada numaralanmış taralı alanlarda, Türkiye’deki başlıca üretim alanları belirtilen tarım ürünleri aşağıdakilerden hangisinde doğru verilmiştir?

- | I | II | III |
|--------------|------------|--------|
| A) Haşhaş | Ş. Pancarı | Pamuk |
| B) Haşhaş | Muz | Çay |
| C) Fındık | Mısır | Haşhaş |
| D) Zeytin | İncir | Üzüm |
| E) Turunçgil | Muz | Çay |

6.



Yukarıda verilen Akdeniz Bölgesi haritasında numaralanmış alanlar için aşağıdakilerden hangisi söylenemez?

- A) 1’de tektonik göller oluşmuştur.
B) 2 ve 3’te karstik yapıları fazla.
C) Bölgenin tarım alanı en fazla olan kesimi 4’tür.
D) 5’te uzun bir graben yer alır.
E) 1 ve 4’teki tarımsal faaliyetler hemen hemen aynıdır.

7. Yerleşim özelliklerine göre belirlenen aşağıdaki bölgelerden hangisinin diğerlerinden farklı olduğu söylenebilir?

- A) Rize ve çevresi
B) İzmir ve çevresi
C) Antalya ve çevresi
D) Bursa ve çevresi
E) Ankara ve çevresi

8. Bir bölgede üretilip yine daha çok orada tüketilen ürünlerin, bölge ticaretine katkısı azdır.

Buna göre, aşağıdaki ürünlerden hangisinin Karadeniz Bölgesi’nin ticaretine olan katkısı diğerlerine göre daha azdır?

- A) Fındık
B) Mısır
C) Demir - Çelik
D) Kağıt
E) Çay

9. Hemen hemen bütün sanayi kuruluşlarının kuruluşunda ve gelişiminde etkili olduğu için stratejik madenlerden sayılan yer altı zenginliğimiz aşağıdakilerden hangisidir?

- A) Demir
B) Boksit
C) Civa
D) Fosfat
E) Mermer

10. Türkiye’nin jeopolitiğinde etkili olan Akdeniz’in önemini azaltmasında ve yeniden önemini azaltan ve yeniden önem kazandıran gelişmeler aşağıdakilerden hangisinde doğru verilmiştir?

Önemini Azaltan Gelişme	Önemini Yeniden Kazandıran
A) Süveyş Kanalı’nın açılması	Panama Kanalı’nın açılması
B) Coğrafi Keşifler	Panama Kanalı’nın açılması
C) Halifelğin Osmanlılara geçmesi	Coğrafi Keşifler
D) Coğrafi Keşifler	Süveyş Kanalı’nın açılması
E) Soğuk Savaş Dönemi	Coğrafi Keşifler

11. K ve L olarak belirtilen, farklı konumlarda yer alan iki merkezin şu özellikleri bilinmektedir.

- Aralarındaki sıcaklık farkı kışın artarken yazın azalmaktadır.
- Merkezlerin ikisine de güneş ışınları yıl boyunca aynı açıyla düşmektedir.
- K’da gerçek alanla iz düşüm alan arasındaki fark daha fazladır.
- L’de öğle vakti daha erken yaşanmaktadır.

Buna göre, K ve L merkezlerinin aşağıdaki özelliklerinden hangisinin kesinlikle ortak olduğu söylenebilir?

- A) Yer şekillerinin
B) Boylam değerlerinin
C) Nem oranlarının
D) Enlem değerlerinin
E) Denize göre konumlarının

12. Almanya'nın ulaşım özellikleri için aşağıdakilerden hangisi söylenemez?

- A) Otoyol ağı gelişmiştir.
- B) Akarsuları ulaşım elverişlidir.
- C) Akarsular arasında kanal bağıntısı vardır.
- D) Coğrafi konumu nedeniyle Avrupa'nın bir kavşak noktası sayılır.
- E) Ülke içi ulaşım daha çok doğu - batı yönlüdür.

13. • Dış satımında sanayi ürünleri
• Çalışan nüfus içinde hizmet sektörü

birinci sırada olan bir ülke için aşağıdakilerden hangisi söylenemez?

- A) Gelişmiş bir ülkedir.
- B) Yer altı kaynakları yönünden zengindir.
- C) Tarımsal faaliyetlerde doğaya bağımlılık azdır.
- D) İnsani gelişim endeksi yüksektir.
- E) Enerji tüketimi fazladır.

14. Uluslararası örgütler coğrafi kriterlere göre gruplandırıldığında, aşağıdakilerden hangisinin bölgesel bir örgüt olduğu söylenemez?

- A) AB
- B) BM
- C) NATO
- D) NAFTA
- E) KEİ

15. 1973 yılından sonra özellikle gelişmiş ülkelerin nükleer enerji üretimine yönelmesinde etkili olan temel faktör aşağıdakilerden hangisidir?

- A) Nüfus artışı
- B) Sanayileşme
- C) Küresel ısınma
- D) Petrol krizi
- E) Kuraklık

16. Az gelişmiş ve gelişmekte olan ülkelerde doğal kaynak tüketiminin, ekolojik sorunların gelişmiş ülkelere göre fazla olması ile,

- I. Nüfus artış hızının fazla olması
- II. Su kaynaklarının bilinçsizce tüketilmesi
- III. Yatırım yaparken ekolojik dengenin göz önüne alınmaması
- IV. Toprağın aşırı derecede işlenmesi
- V. Besi hayvancılığının yaygın olması

faktörlerinden hangisi arasında bir ilişki olduğu söylenemez?

- A) I
- B) II
- C) III
- D) IV
- E) V

COĞRAFYA – 2 TESTİ

1. Bu testte 16 soru vardır. Bu test için verilen süre 25 dakikadır.

2. Cevaplarınızı, cevap kâğıdının Coğrafya – 2 Testi için ayrılan kısmına işaretleyiniz.

1. Aşağıdakilerden hangisi küresel ısınmayı azaltma yolunda imzalanan sözleşmelerdendir?

- A) Stockholm sözleşmesi
B) Varşova paktı
C) Kyoto Protokolü
D) NATO
E) Ramsar Sözleşmesi

2. Büyük okyanusun batısında Ekvador'a bağlı Galapagos Adaları yeryüzünün doğal miras bakımından en zengin yerlerinden birini oluşturur.

Coğrafi konumu göz önüne alındığında aşağıdakilerden hangisi Galapagos Adalarının zengin faunası içerisinde yer almaz?

- A) Köpek balığı
B) İguana
C) Kaplumbağa
D) Zürafa
E) Penguen

3. Çöpün içindeki geri dönüştürülebilir malzemelerini tekrar üretim sürecine geçmesi için uygulanacak basamaklar;

- I. Yeni ürünü ekonomiye kazandırma
II. Değerlendirilebilir atıkları ayrı toplama
III. Sınıflama
IV. Değerlendirme
V. Kaynaktan ayırma

şeklinde verilmiştir. Buna göre sıralamanın doğru olabilmesi için hangileri yer değiştirmelidir?

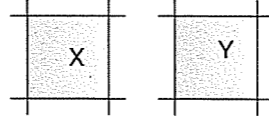
- A) I ve II
B) II ve III
C) I ve V
D) III ve IV
E) IV ve V

4. I. Enerji üretme
II. Karbon emisyonlarını azaltma
III. Su ekosistemlerini artırma
IV. Kara ekosistemlerini göçe zorlama
V. Sosyoekonomik bozulmalara yol açma

Yukarıdakilerden hangileri akarsu üzerinde kurulan barajların olumsuz sonuçlarına örnek verilebilir?

- A) I ve II
B) II ve III
C) III ve IV
D) I ve V
E) IV ve V

5. Aşağıdaki şekillerde onar enlemi ve boyları bulunan iki farklı bölgenin koordinatları ve belirli özellikleri verilmiştir.



- X bölgesinin tam ortasından Ekvator geçmektedir.
- X bölgesinin yerel saati Başlangıç Meridyeni'ne göre daha geridir.
- Y bölgesinde güneyden kuzeye doğru gidildikçe gece ve gündüz süreleri arasındaki fark azalır.
- Y güneş ışınlarını hiç dik açıyla almaz.

Buna göre, X ve Y merkezleri için;

- I. X'in en kuzeyinden ve en güneyinden geçen enlemlerin dereceleri aynıdır.
II. X'in iz düşümsel alanı Y'den daha geniştir.
III. Doğu-batı yönündeki kuş uçuşu uzunlukları aynıdır.
IV. Kuzey-güney doğrultusundaki kuş uçuşu uzunlukları aynıdır.

yargılarından hangilerine ulaşamaz?

- A) Yalnız I
B) Yalnız II
C) Yalnız III
D) II ve IV
E) III ve V

6. Yatırım ve üretimin fazla olması, büyük pazarların bulunması, yer altı ve yer üstü kaynaklarının zengin olması üretilen ürünlerin pazarlanmasının kolay olması bazı bölgelerin küresel ticarete önemli yere sahip olmasında etkili olmuştur.

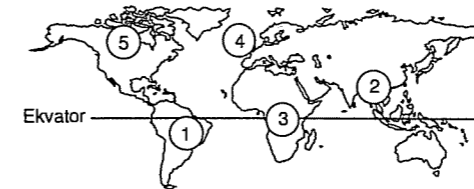
Aşağıdaki yerlerden hangisi buna örnek verilemez?

- A) Batı Avrupa
B) Orta Doğu
C) Kuzey Amerika
D) Doğu ve Güneydoğu Asya
E) Kuzey Afrika

7. Aşağıda verilen ülkelerden hangisi levha sınırlarında yer aldığından jeotermal enerji olanaklarının fazla olduğu bir ülkedir?

- A) Madagaskar
B) İzlanda
C) Brezilya
D) İsveç
E) Avustralya

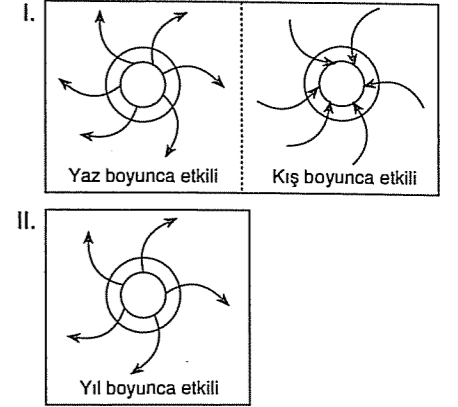
8. Deniz seviyesinden yükseltisi az olan yerlerde yıl içinde oluşan yağışların fazlalığı bu ülkeleri ani su baskınları ile karşı karşıya bırakmıştır.



Buna göre haritada işaretli alanlardan hangisinde yağış fazlalığına ve yer şekillerinin sade olmasına bağlı olarak ani su baskınları yaşanır?

- A) 1 ve 2
B) 2 ve 3
C) 4 ve 5
D) 2 ve 4
E) 1 ve 4

9. Aşağıdaki şekillerde iki farklı alanda etkili olan basınç sistemleri ile hava hareketlerinin yönü ve etkili oldukları dönemler verilmiştir.



I. alanda esen rüzgârların yazın serin, kışın ılık karakterde; II. alandaki rüzgârların ise yıl boyunca soğuk karakterde olduğu bilindiğine göre, bu alanlar için aşağıdaki yargılardan hangisine ulaşamaz?

- A) I. alan denizel ortamdadır.
B) II. alandaki rüzgârın hızı daha fazladır.
C) Alanların ikisi de Kuzey Yarımküre'dedir.
D) Basınç sistemlerinin ikisi de termik oluşumludur.
E) I. alanda yıllık basınç değişimi daha belirgindir.

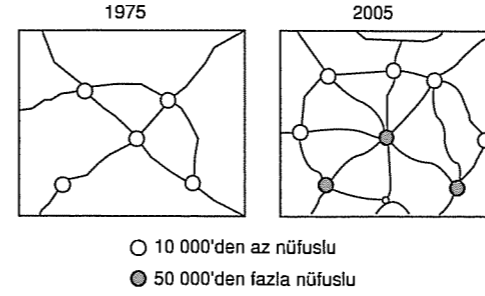
10. Doğal kaynakları fazla olan ülkeler doğal kaynakları az olan ülkelere göre daha hızlı gelişir.

- I. Japonya
II. Hindistan
III. Çin
IV. Güney Afrika Cumhuriyeti
V. Güney Kore

Buna göre yukarıdaki ülkelerden hangilerinin zenginliğinde doğal kaynaklarının fazla olması etkili değildir?

- A) I ve II
B) II ve III
C) IV ve V
D) I ve IV
E) I ve V

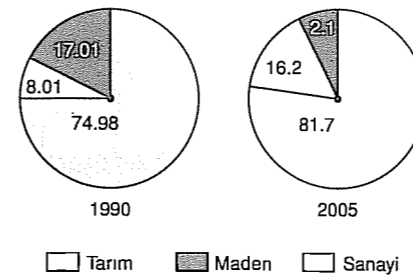
11. Aşağıdaki haritalarda yerleşim merkezlerinin 1975 ve 2005 yıllarındaki karayolları ile bağlantısı verilmiştir.



Yalnızca haritadaki bilgilere göre, bu bölge için aşağıdaki yargılardan hangisine ulaşamaz?

- A) Ulaşım ağı sıklaşmıştır.
B) Tarımsal faaliyetler artmıştır.
C) Yeni yollar yapılmıştır.
D) Yeni yerleşim merkezleri kurulmuştur.
E) Nüfusu 150 bini geçmiştir.

12. Aşağıda bir ülkenin 1990 ve 2005 yıllarında sattığı ürünlerin yüzde olarak sektörlere dağılımı verilmiştir.



Buna göre, grafikteki bilgiler dikkate alındığında aşağıdakilerden yorumlardan hangisi yapılamaz?

- A) Ülkede sanayii gelişmiştir.
B) Sanayinin payı bir önceki döneme göre on katından fazla artmıştır.
C) Tarımın payı 1990 yılına göre dört katından fazla azalmıştır.
D) Enerji tüketimi artmıştır.
E) Madencilik ile uğraşanların sayısı azalmıştır.

13. Ortadoğu ülkeleri içerisinde Basra Körfezine kıyısı olan ülkeler dünyanın en önemli petrol yataklarının bulunduğu bölgedir. Buradaki ülkeler bu doğal zenginliğe bağlı olarak ekonomilerini geliştirmişlerdir.

Buna göre aşağıdaki ülkelerden hangisi bu ülkeler içerisinde yer almaz?

- A) Kuveyt
B) İran
C) Ürdün
D) Birleşik Arap Emirlikleri
E) Suudi Arabistan

14. Türkiye'de 2005 – 2012 yılları arasındaki sağılan koyun ve sığır sayıları ile bunların herbirinden elde edilen süt miktarını gösteren bir grafik incelendiğinde aşağıdakilerden hangisine ulaşamaz?

- A) Süt verimindeki değişime
B) Süt verimi en yüksek olan hayvan türüne
C) Hayvan sayılarındaki değişime
D) Uygulanan hayvancılık yöntemlerinin hayvan sayıları üzerindeki etkisine
E) Süt üretiminin en çok ve en az olduğu yıllara

15. Dünya mirası listesinde yer alan Hititlerin başkenti Hattuşaş UNESCO'nun katkılarıyla dünyaya tanıtılmıştır.

Buna göre bu durum aşağıdaki bölgelerden hangisinin turizm gelirlerini arttıracaktır?

- A) Akdeniz B) Karadeniz C) Ege
D) Marmara E) İç Anadolu

16. Aşağıda bazı medeniyetlere ait izlerin bulunabileceği alanlar verilmiştir.



Hangilerinin yeri doğru verilmiştir?

- A) I, II ve III B) I, III ve V C) II, III ve IV
D) III ve V E) I, IV ve V

COĞRAFYA – 2 TESTİ

1. Bu testte 16 soru vardır. Bu test için verilen süre 25 dakikadır.
2. Cevaplarınızı, cevap kâğıdının Coğrafya – 2 Testi için ayrılan kısmına işaretleyiniz.

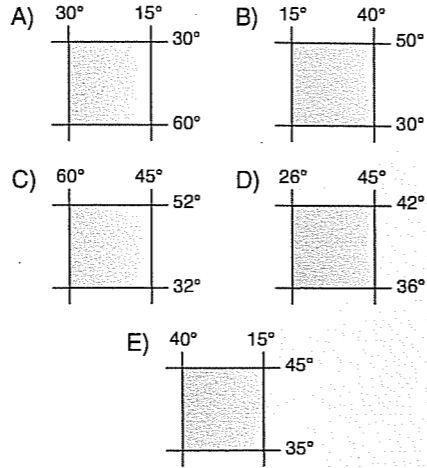
1. Azot döngüsüyle ilgili olarak aşağıda verilenlerden hangisi yanlıştır?

- A) Atmosferde serbest halde bulunan azot canlılar tarafından doğrudan kullanılır.
B) Şimşek, yıldırım, volkanik faaliyetler azotla oksijenin birleşerek nitrit ve nitratlara dönüşmesini sağlar.
C) Azot besin zinciri yoluyla bitkilerden otçullara geçer.
D) Ayrıştırıcılar ölü organizmalardaki azotu nitrit ve nitrate dönüştürür.
E) Azot toprağın verimini etkiler.

3. Bir araştırmacı gittiği bölgede;

- Dört mevsimin belirgin olarak yaşandığını
- Sıcaklığın güneyden kuzeye doğru azaldığını
- Konik projeksiyonla hazırlanan haritalarda bozulmasının en az olduğunu
- En doğusunda geçen meridyende yerel saatin Başlangıç Meridyeni'ne göre 1 saat daha geri olduğunu tespit etmiştir.

Bu araştırmacı aşağıda koordinatları verilmiş olan bölgelerden hangisine gitmiş olabilir? (Bölgelerin özel konumlarının benzer olduğu varsayılacaktır.)



4. Coğrafya öğretmeni Harita Genel Komutanlığı'na ait www.hgk.msb.gov.tr. sitesinden indirdiği iki farklı Türkiye haritasını öğrencilerine tanıtırken şu bilgiler verilmiştir:

"Ölçeği 1/200.000 olan birinci harita Türkiye'nin illerini ve ilçelerini sınırlarıyla beraber gösterirken ölçeği 1/1.000.000 olan ikinci haritada Türkiye'nin dağları, ovaları, platoları gibi yer şekilleri görülmektedir."

Buna göre, öğretmenin tanıttığı haritalar için aşağıdaki yargılardan hangisine ulaşamaz?

- A) Birinci haritanın boyutu daha büyüktür.
B) Haritalardan ikisinin de kullanım amacı aynıdır.
C) İkinci haritanın küçültme oranı daha fazladır.
D) Haritalardan ikisinin de coğrafi koordinatları aynıdır.
E) İkinci haritada kullanılan renkler yükselti ve derinlik basamaklarını gösterir.

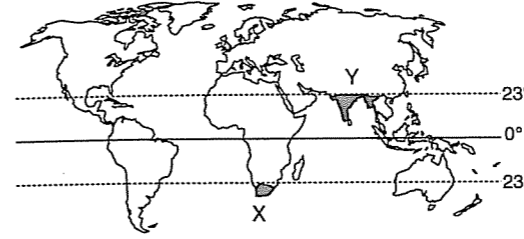
2. Sıcaklık ekstremlerinin uzaması sonucunda;

- I. Akarsuların debilerindeki yükselme dönemi değişir.
II. Bitki ve hayvanların yayılış alanları değişir.
III. Ada ülkeler sular altında kalabilir.
IV. Orman yangını riski artar.
V. Volkanik olaylar artar.

durumlarından hangisinin gerçekleşmesi beklenmez?

- A) I B) II C) III D) IV E) V

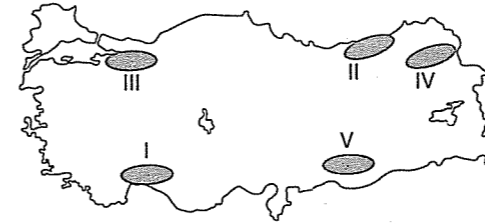
5. Aşağıdaki haritada X ve Y olarak belirtilen iki farklı bölge gösterilmiştir.



Bu bölgelerin iklim özellikleriyle ilgili olarak aşağıdakilerden hangisi söylenemez?

- A) İkisinde de yağış rejimi düzensizdir.
B) X bölgesinin yıllık yağış miktarı Y'dekine göre daha fazladır.
C) X'te Akdeniz iklimi etkilidir.
D) En fazla yağış alan mevsim X'te kış, Y'de yazdır.
E) Y'de yağış rejimi ile rüzgâr yönü arasında sıkı bir ilişki vardır.

6. • Toprakta yıkanmanın en fazla olduğu bölgedir.
• Yazın bol yağış alır.
• Buharlaşma şiddetinin en fazla olduğu bölgedir.
• Kolay eriyebilen kayalar yaygındır.



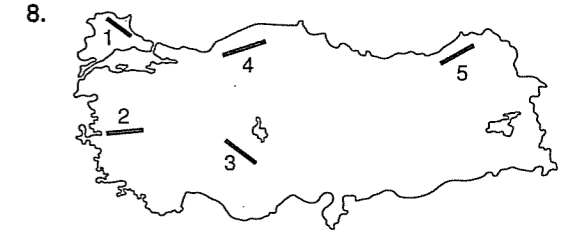
Yukarıda haritada belirlenen bölgelerden hangisi hakkında bilgi verilmemiştir?

- A) I B) II C) III D) IV E) V

7. I. Boksit
II. Fosfat
III. Bor minerali
IV. Krom
V. Civa

Yukarıdaki yeraltı kaynaklarından hangi ikisinin kullanım alanının diğerlerine göre daha geniş olduğu söylenebilir?

- A) I ve II B) II ve III C) II ve IV
D) III ve IV E) IV ve V



Tarihi İpek Yolu üzerinde yer alan Anadolu'da tarihi ticareti canlandırmak amacıyla özellikle Selçuklular döneminde çok sayıda kervansaray yapılmıştır.

Buna göre, yukarıdaki haritada numaralanmış güzergâhlardan hangisinde kervansarayların daha yoğun olduğu söylenebilir?

- A) 1 B) 2 C) 3 D) 4 E) 5

9. Aşağıda Türkiye'deki iki farklı bölge tanımlanmıştır.
- K bölgesinde dağınık kır yerleşmesi yaygındır. Bölgede doğum oranı yüksek olmasına karşın nüfus sayısı giderek azalmaktadır.
 - L bölgesinde nüfus yazın artarken, kış aylarında belirgin bir azalma göstermektedir. Bölge genelinde toplu yerleşme dokusu hakimdir.

Buna göre, bu iki bölge için;

- I. Yüzey şekilleri bakımından K engebeli, L sade ve düz bir yapıya sahiptir.
II. K bölge dışına göç göndermektedir.
III. L'de hakim ekonomik sektörler turizm ve tarımdır.
IV. K'nın nüfus sayısı L'den fazladır.
V. Bölgelerden ikisinin de iz düşüm alanları aynıdır.

- hangilerine ulaşamaz?
- A) Yalnız I B) Yalnız III C) II ve IV
D) III ve IV E) IV ve V

10. Türkiye'de mekânsal farklılıkların olması, gelişme düzeyinin bölgeden bölgeye farklılık göstermesine yol açmıştır. Mekânlar arasındaki gelişmişlik düzeyinin farklı olması çeşitli sorunlara neden olmaktadır. Bu sorunları gidermek, dengeli kalkınmayı sağlamak ve gelişmemiş bölgelere yatırımları özendirme için çeşitli teşvik uygulamaları yapılmaktadır. Buna göre, aşağıdakilerden hangisi Türkiye'de mekânsal farklılıkları gidermeye yönelik olan özendirici teşvik uygulamalarından biri değildir?
- A) Araç alımında gümrük vergisi ve KDV indirimi veya muafiyeti
B) Arsa temini
C) Ucuz enerji temini
D) Vergi indirimi veya ertelenmesi
E) Tesislerde enerji kaynağı olarak petrol kullanımının özendirilmesi
11. Nüfus artışı şehirleşme, sanayileşme ve insan ihtiyaçları doğal kaynak tüketimini hızlandırmaktadır. Doğal kaynaklardan olan madenlerin çıkarılması ve işlenmesi çevreye zarar vermektedir. Aşağıdakilerden hangisi madencilik faaliyetinin çevre kirliliğine olan etkilerine örnek gösterilemez?
- A) Su kaynaklarının kirlenmesi
B) Yabani hayattaki biyoçeşitliliğin artması
C) Toprağın asit oranının değişmesi
D) Bitki örtüsünün tahrip edilmesi
E) Toprakta zehirli madde birikiminin artması
12. Aşağıdakilerden hangisi, az gelişmiş ülkelerin özelliklerinden biri değildir?
- A) Birim alandan alınan verim düşüktür.
B) İç göç azdır.
C) Çalışan nüfusun yaş ortalaması düşüktür.
D) Ticari tarım azdır.
E) Kişi başına düşen milli gelir azdır.
13. Günümüz küresel ticaretinde ham maddeye olan ihtiyacın giderek artması ile,
- I. İmalat sanayisi dallarının çeşitlenmesi
II. Teknik buluşların artması
III. Büyük sermayeli üretim sahalarının yaygınlaşması
IV. Küresel ısınmanın artması
- etkenlerinden hangileri arasındaki ilişkinin da-ha zayıf olduğu söylenebilir?
- A) Yalnız IV B) Yalnız III C) I ve II
D) I ve III E) II ve III

14. Aşağıda Türkiye'yi enerji koridoru yapacak petrol ve doğal gaz boru hatlarından dördü tanıtılmıştır.
- Azeri petrolünü Ceyhan terminalinden dünya piyasalarına sürmektedir.
 - Bakü'den başlayıp Türkiye üzerinden Orta ve Güney Avrupa'ya uzanır. Hazar Bölgesi'nin doğal gazının Avrupa'ya taşınması planlanmaktadır.
 - 2002 yılında tamamlanmıştır. Rusya'dan Türkiye'ye uzanır. Doğal gaz hattının bir bölümü deniz altından geçmektedir.
 - Azerbaycan'ın Şahdeniz Bölgesi'ndeki doğal gazın Türkiye'ye ulaştırılmasını sağlayacaktır.

Buna göre, aşağıdaki boru hatlarından hangisine değilmiştir?

- A) Bakü - Tiflis - Ceyhan
B) Bakü - Tiflis - Erzurum
C) Nabucco
D) Türkmenistan - Türkiye - Almanya
E) Mavi Akım Projesi

15. 19. yüzyılda akarsuların enerji kaynağı olarak yeniden önem kazanmasına yol açan gelişme aşağıdakilerden hangisidir?

- A) Petrolün kullanımı
B) Dinamonun icadı
C) Su ve yel değirmenlerinin icadı
D) Kömürün kullanımı
E) Fabrikalaşmanın artması

16. Birleşmiş Milletler Örgütü'nün yönetim yapısı için,

- I. Genel Kurul, tüm üye devletlerinden oluşur.
II. Örgütün programı ve politikaları Genel Sekreterlik tarafından uygulanır.
III. Güvenlik Konseyi'nin beş daimi üyesi vardır.
IV. Lahey Adalet Divanı, örgütün en önemli adalet mekanizmasıdır.
V. Ekonomik ve Sosyal Konsey, askeri sorunlara, silahlı çatışmalara karşı önlem alır.

yargılarından hangisi söylenemez?

- A) I B) II C) III D) IV E) V

COĞRAFYA – 2 TESTİ

1. Bu testte 16 soru vardır. Bu test için verilen süre 25 dakikadır.

2. Cevaplarınızı, cevap kâğıdının Coğrafya – 2 Testi için ayrılan kısmına işaretleyiniz.

1. İngiltere'den yola çıkan bir gözlemci uçakla Atlas ve Büyük Okyanus üzerinden Japonya'ya oradan Hindistan'a, oradan, Nijerya'ya oradan da tekrar yolculuğa ilk başladığı yere gelmiştir.

Gözlemci yolculuk boyunca sırasıyla genel olarak hangi yönlere doğru hareket etmiştir?

- A) Doğu – Kuzey – Güney – Batı
B) Batı – Güneybatı – Batı – Kuzey
C) Kuzey – Güneydoğu – Güney – Batı
D) Doğu – Güneydoğu – Batı – Kuzey
E) Batı - Güneydoğu – Kuzey – Güney

3. Aşağıdaki haritada üç farklı merkez taralı olarak gösterilmiştir.



Bu merkezlerle ilgili olarak aşağıda verilen bilgilerden hangisi yanlıştır?

- A) Z'de gölge yönü her gün saat 12.00'de güneyi gösterir.
B) 21 Haziran tarihinde gündüz süresi en uzun olan merkez X'tir.
C) Y merkezinde bulunan cisimlerin yılda iki kez gölgesi oluşmaz.
D) 21 Aralık tarihinde Z'den Y merkezine doğru gidildikçe gölge boyu düzenli olarak uzar.
E) Yer çekimi ivmesi en az olan merkez Y'dir.

ESEN YAYINLARI

2. Nüfusu 10.000 den az olan temel geçim kaynağını tarım, hayvancılık, ormancılık, balıkçılık gibi faaliyetlerin oluşturduğu yerleşmelere kırsal yerleşmeler denir.

Aşağıdakilerden hangisi kırsal yerleşmelerin özelliklerinden biri değildir?

- A) Altyapı yetersizdir.
B) Geçimlerini topraktan da sağlarlar.
C) Sanayi ve hizmet sektörü çok gelişmemiştir.
D) Doğurganlık oranı azdır.
E) Konutların yapımında daha çok doğal yapı malzemeleri kullanılır.

4. Dünya üzerindeki karbondioksit oranını dengeleyen en önemli unsur yağmur ormanlarıdır.

Yağmur ormanlarının aşırı tahribi sonucunda aşağıdakilerden hangisinde bir artış beklenmez?

- A) Ahşap eşya üretimi
B) Hava kirliliği
C) Yer altı suları
D) Küresel ısınma
E) Karbondioksit miktarı

5. Delta gelgit genliğinin az olduğu kıyılarda, haliç ise gelgit genliğinin fazla olduğu kıyılarda görülür. Okyanus kıyılarında gelgit genliği fazla iken iç denizlerde gelgit genliği azdır.

Buna göre aşağıda verilen ülkelerin hangisinde hem haliç hem de delta görülebilir?

- A) Fransa B) İtalya C) İngiltere
D) Türkiye E) Mısır

6. Ülkemizde önemli bir sorun olan erozyonun hızlanması aşağıdakilerden hangisine yol açmaz?

- A) Tarımsal üretimin azalması
B) Doğal bitki ve hayvan türlerinin azalması
C) Yer altı suyunun azalması
D) Çıplak kayalık alanların ortaya çıkması
E) Kentlerden kırsal kesime göç

7. Aşağıda verilen akarsulardan hangisi tek başına diğerlerinden farklı bir projenin uygulama alanındadır?

- A) Fırat B) Çoruh C) Dicle
D) Aras E) Murat

8. Azerbaycan'ın petrolünü batıya pazarlamasında Türkiye'den yardım alması Türkiye'nin hangi özelliği ile ilgilidir?

- A) Gelişmişliği B) Jeopolitik konumu
C) İklimi D) Toprak özellikleri
E) Su kaynakları

9. Dünya üzerinde faaliyet gösteren siyasi, ekonomik, askeri ve çevre kuruluşları vardır. Buna göre, dış ticaretimizin çoğunluğunu, aşağıdaki uluslararası kuruluşlardan hangisine üye olan ülkeler oluşturur?

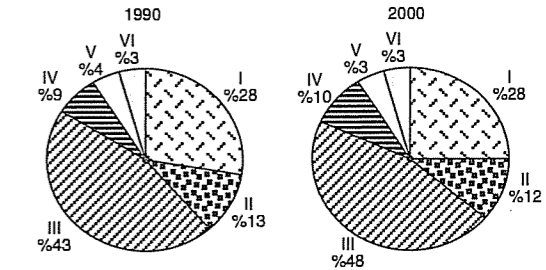
- A) KEİ B) İKO C) OPEC
D) AB E) NAFTA

10. Aşağıda Türkiye'nin asker gönderdiği alanlar verilmiştir.

Bunlardan hangisinin NATO üyeliği gerekçesiyle gönderildiği söylenebilir?

- A) Kuzey Irak B) Kıbrıs
C) Kore D) Afganistan
E) Bosna Hersek

11. Aşağıdaki grafikte 1990 ve 2000 yılları arasında altı ülkede demir yolu ulaşımının tüm ulaşım sistemleri içerisindeki payının değişim oranı verilmiştir.



Aşağıdakilerden hangisi bu grafiklerden çıkarılabilecek doğru bir sonuçtur?

- A) I. ve VI. ülkede demir yolu ulaşımının 2000 yılında ulaşım sistemleri içindeki payı değişmemiştir.
B) V. Ülkede 2000 yılında kara yolu ulaşımı daha yoğun olmuştur.
C) III. Ülkede 2000 yılında demir yoluna olan yatırım azalmıştır.
D) II. Ülkede hava yolu ulaşımına rağbet fazladır.
E) IV. Ülkede demir yolu ile taşınan yolcu sayısı 2000 yılında artmıştır.

ESEN YAYINLARI

12. Aşağıda 2006 yılında Dünya turizm gelirlerinde önde olan ilk beş ülkenin yıllık gelirleri ve dünya turizm gelirleri içerisindeki oranları verilmiştir.

	Milyar \$	Dünyadaki payı %
ABD	85,7	11,7
İspanya	51,1	7
Fransa	46,3	6,3
İtalya	38,1	5,2
Çin	33,9	4,6

Yalnızca bu grafikteki bilgilere dayanarak aşağıdakilerden hangisi söylenemez?

- A) Çin 30 milyar dolardan fazla gelir elde etmiştir.
 B) İspanya dünya turizm gelirlerinde ikinci sıradadır.
 C) İtalya ve Çin'in turizm gelirleri toplamı ABD'nin turizm gelirlerinden azdır.
 D) ABD dünyada turizmde en çok para kazanan ülke konumundadır.
 E) Fransa turizmde elde ettiği gelir toplam gelirin yarısına yakındır.

13. Gelişmiş ülkeler kalkınma hızlarının fazla ekonomik kaynaklarının fazla ve çok çeşitli olmasına bağlı olarak kişi başına düşen milli gelirlerini arttırmışlardır. Dolayısıyla bir ülkede kişi başına düşen gelir o ülkelerin gelişmişliği hakkında bilgi verir.

Ülke	Kişi başına düşen milli gelir (\$)
İsviçre	44.355
Norveç	34.550
Mozambik	80
Etiyopya	100

Yalnızca tablodaki bilgilere dayanarak aşağıdakilerden hangisi söylenebilir?

- A) Avrupa ülkelerinin hepsinde kişi başına düşen milli gelir fazladır.
 B) Mozambik geri kalmış bir ülke konumundadır.
 C) Afrika kıtasının her yerinde kişi başına düşen milli gelir azdır.
 D) Norveç'te nüfus yoğunluğunun az olması kişi başına düşen milli geliri arttırmıştır.
 E) İsviçre milli gelirin fazlalığı ile dünyada birinci ülke konumundadır.

14. Türkiye'de 1950'li yıllara kadar kırsal kesimden kentlere doğru gerçekleşen iç göçler, 1980'lerden sonra daha çok küçük şehirlerden büyük şehirlere doğru gerçekleşmiştir. İç göç hareketliliğinin fazla olması özellikle büyük şehirlerde büyük sorunlara zemin hazırlamaktadır. Bu durum kentlere olan göçleri azaltıcı çözümler arayışlarını zorunlu kılmaktadır.

Buna göre, aşağıdakilerden hangisinin Türkiye'deki iç göçleri azaltıcı önlemler arasında yer aldığı söylenemez?

- A) Nitelikli eğitim ve sağlık hizmetlerini yaygınlaştırmak
 B) Bölgeler ve şehirler arasındaki yatırım dengesizliğini gidermek
 C) Büyük şehirlerdeki fabrika sayısını artırmak
 D) Modern tarım yöntemlerini ve besiciliği yaygınlaştırmak
 E) Küçük şehirlerde ekonomik faaliyet çeşidini arttırmak

15. Doğu Karadeniz Bölümünde yükselti ve engenbenin fazla olması;

- Hidroelektrik potansiyel
- Yol yapım maliyeti
- Sıcaklık ortalaması
- Fiziki haritalarda renk çeşitliliği
- Heyelan
- Erozyon

olaylarından kaç tanesinin fazla olmasında etkili olmuştur?

- A) 2 B) 3 C) 4 D) 5 E) 6

16. Büyük Okyanusta olabilecek bir depremde;

- Hindistan
- Avrasya
- Avustralya
- Filipin
- Nazaka

Levhalarından hangilerinin etkisi olmaz?

- A) Yalnız I B) Yalnız V C) I ve IV
 D) I, II ve IV E) I ve V

COĞRAFYA – 2 TESTİ

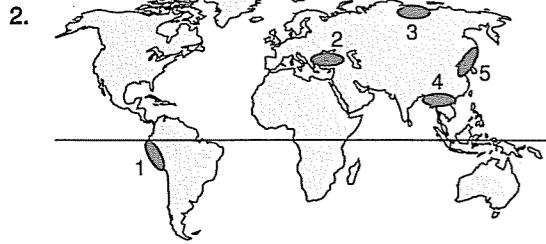
1. Bu testte 16 soru vardır. Bu test için verilen süre 25 dakikadır.

2. Cevaplarınızı, cevap kâğıdının Coğrafya – 2 Testi için ayrılan kısmına işaretleyiniz.

1. I. Tayga
II. Savan
III. Tropikal yağmur ormanları

Yukarıdaki biyomlardan hangisinin Kuzey Yarımküre'deki yayılış alanı Güney Yarımküre'ye göre daha geniştir?

- A) Yalnız I B) Yalnız II C) I ve II
D) I ve III E) II ve III



Yukarıdaki haritada numaralanmış alanlardan hangisinde jeolojik ve jeomorfolojik karakterli ekstrem olayların görülmesi beklenmez?

- A) 1 B) 2 C) 3 D) 4 E) 5

3. Günümüzde aşağıdaki ülkelerden hangisindeki şehirleşme hızının diğerlerine göre daha yavaş olduğu söylenebilir?

- A) Türkiye B) Norveç C) Hindistan
D) Pakistan E) Brezilya

4. Günümüzdeki anlamda şehirleşme sürecinin başlamasında Sanayi Devrimi etkili olmuştur.

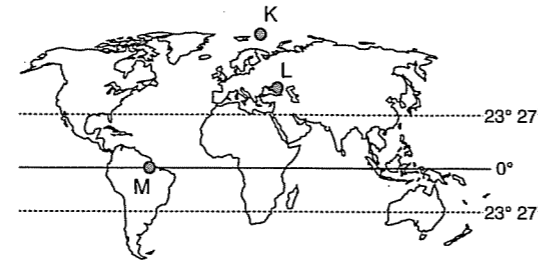
Buna göre, dünyanın ilk sanayi şehri aşağıdakilerden hangisidir?

- A) New York B) Frankfurt C) Essen
D) Manchester E) Paris

5. Aşağıdakilerden hangisi, Türkiye'de mekanlar arasındaki gelişmişlik farkını azaltmaya ve dengeli kalkınmayı sağlamaya yönelik uygulamalardan biri değildir?

- A) Vergide kolaylık sağlanması
B) Arsa temin edilmesi
C) Ucuz enerji sağlanması
D) Araç alımında çeşitli vergi muafiyetlerinin getirilmesi
E) Nüfus artışının teşvik edilmesi

6. Aşağıdaki haritada K, L ve M merkezlerinin konumları gösterilmiştir.



Bu merkezlerin haritalarının çizimine en elverişli olan projeksiyon tipleri aşağıdakilerden hangisinde doğru olarak verilmiştir?

	K	L	M
A)	Düzlem	Silindirik	Konik
B)	Düzlem	Konik	Silindirik
C)	Konik	Silindirik	Düzlem
D)	Konik	Düzlem	Silindirik
E)	Silindirik	Düzlem	Konik

7. Aşağıdakilerden hangisinde bir yöre burada bulunmayan sanayi kuruluşuyla beraber verilmiştir?

	Yöre	Sanayi kuruluşu
A)	Çaycuma	Kağıt Fab.
B)	Ayvalık	Zeytinyağı
C)	Bursa	İpekli dokuma
D)	Uşak	Halı - kilim dokuma
E)	Kayseri	Petrol arıtım

8. Limanların gelişmesinde çevresindeki ekonomik faaliyetlerin büyük bir payı vardır.

Buna göre, aşağıdaki limanlardan hangisinin gelişmesi üzerinde petro - kimya tesislerinin payı çoktur?

- A) Samsun B) İzmit C) Antalya
D) Trabzon E) Ereğli

9. Aşağıdakilerden hangisinde Türkiye'de bir yöre, burada bulunmayan enerji kaynağıyla bir arada verilmiştir?

	Yöre	Enerji kaynağı
A)	Denizli - Sarayköy	Jeotermal
B)	Alaçatı - İzmir	Rüzgâr
C)	Çamurlu - Mardin	Doğal gaz
D)	Adıyaman	Petrol
E)	Şanlıurfa	Linyit

10. Türkiye'nin aşağıdaki bölgesel kalkınma projelerinden hangisinin günümüzdeki hidroelektrik üretim kapasitesi en fazladır?

- A) Güneydoğu Anadolu Projesi
B) Zonguldak, Bartın, Karabük Projesi
C) Doğu Karadeniz Projesi
D) Yeşilirmak Havzası Gelişim Projesi
E) Doğu Anadolu Projesi

11. Aşağıdaki ülkelerden hangisinin küresel petrol ticaretinde etkili olduğu söylenemez?

- A) Suudi Arabistan B) İran
C) Rusya D) Nijerya
E) İtalya

12. Yer şekillerinin oluşumunda iç kuvvetler ile dış kuvvetler karşılıklı etkilidir. İç kuvvetlerin oluşumunda mantodaki konveksiyonel akıntılar etkiliyken, dış kuvvetlerin temel enerji kaynağı Güneş'tir.

Buna göre, aşağıdaki oluşumlardan hangisinin meydana gelmesinde hem iç kuvvetlerin, hem dış kuvvetlerin payı vardır?

- A) Horst ve grabenlerin
B) Haliçlerin
C) Peri bacalarının
D) Kayaçlardaki başkalaşım sürecinin
E) İç püskürük kayaçların

13. Aşağıdakilerden hangisi, Japonya yüz ölçümünün % 97 sini oluşturan dört büyük adadan biri değildir?

- A) Honshu B) Hokkaido C) Shikoku
D) Kyushu E) Borneo

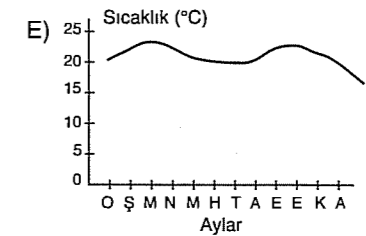
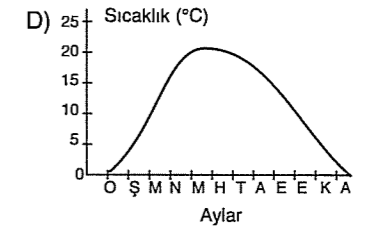
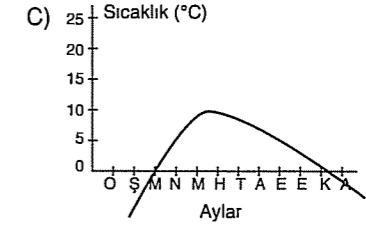
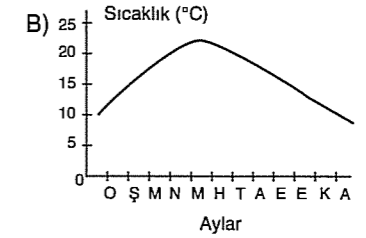
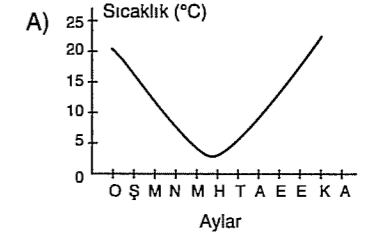
14. Çin, sanayi alanında önemli yatırımlar yapmaktadır. Ülkede sanayileşme giderek gelişmektedir. Buna göre, Çin'de sanayinin giderek gelişmesi ile,

- I. Ucuz iş gücü avantajının olması
II. Teknoloji transferini teşvik etmesi
III. Ar - Ge alanına yatırım yapması
IV. Üretim sisteminin özgün olması
V. Tarım ürünü çeşidinin fazla olması

faktörlerinden hangisi arasında doğrudan bir ilişki kurulamaz?

- A) I B) II C) III D) IV E) V

15. Aylık sıcaklık grafiği aşağıdakilerden hangisine benzeyen bir bölgede dağların aynı yükseltideki kuzey yamaçlarının güney yamaçlarına göre yerleşmeye ve tarıma taha elverişli olması beklenir? (Bölgelerin beşinin de denize kıyısının olmadığı varsayılmıştır.)



16. Uluslararası sıcak çatışma ve gerilimle yol açan aşağıdaki unsurlardan hangisinin diğerlerinden farklı olduğu söylenebilir?

- A) Ekonomik sorunlar
B) Su kaynaklarının paylaşımı
C) Sınır anlaşmazlıkları
D) Bağımsızlık talepleri
E) Dinsel ve etnik farklılıklar

FELSEFE GRUBU TESTİ

1. Bu testte 30 soru vardır. Bu test için verilen süre 45 dakikadır.

2. Cevaplarınızı, cevap kâğıdının Felsefe Grubu Testi için ayrılan kısmına işaretleyiniz.

1. Psikolojide incelenen davranışların çoğu sevinmek üzülmek, algılamak hayal kurmak gibi iç yaşantılar yani zihinsel oluşumlardır. Psikoloji dıştan gözlemlenebilen davranışları bile çoğu zaman iç yaşantıları anlamak için inceler.

Parçaya göre psikoloji hakkında aşağıdakilerden hangisi söylenemez?

- A) Psikoloji iç yaşantıları inceler.
B) Psikolojide zihinsel oluşumlar ile iç yaşantılar aynı anlamda kullanılır.
C) Sevinmek ve üzülmek iç yaşantı örneklerdir.
D) Psikoloji gözlemlenebilen davranışları incelemez.
E) Psikolojide daha çok zihinsel oluşumlar ele alınır.

2. Doğal olayların kendi koşulları içinde nasıl olup bittiğini saptamaya doğal gözlem adı verilir. Gözlemin türlerinden biri de aktif gözlemdir. Bu gözlemden gözlemci konuyla ilgili kendi varsayımını test etmek için bir ortam hazırlayarak araştırmasını yapar.

Aşağıdakilerden hangisi aktif gözlemin bir özelliği değildir?

- A) Olayları gözlemci yönlendirir.
B) Olayların yeri, gözlemci tarafından saptanır.
C) Gözlemci ortam koşullarını belirler.
D) Olayların zamanı gözlemci tarafından saptanır.
E) Araştırmacı gözleme müdahale etmez.

3. "Beyin değişik resimlerden, tek bir resim kurgulamayı başarır. Eksik sözcükleri doğru okumak bunu gösterir. Bir sözün doğrusu, depolanmış bilgilerimiz arasında zaten 'bulunulduğundan', şimdi okuduğunuz tümcedeki yanlış yazılmış 'bulunduğundan' sözcüğünü, büyük olasılıkla doğru okumuşsunuzdur."

Parçada anlatılan durum algı ile ilgili özelliklerden hangisine uygundur?

- A) Algı dayanağı
B) Algıda yanılısama
C) Algıda bütünlük
D) Algıda değişme
E) Algı alanı

4. Kolumuzda takılı olan saatimizin sesini, normal şartlarda duymayız; ancak, kulağımıza yaklaştırdığımız zaman duyarız.

Bu durumun nedeni hangilerden hangisidir?

- A) Aşırı uyarılma
B) Duyum eşiği
C) Yanılısama
D) Homeostatis
E) Uyarıcı duyum

5. Öğretmenin sınav uygulaması sonrasında, cevapları öğrencilerle birlikte çözümlenmesi, öğrenmeyle ilgili aşağıdaki ilkelere hangisine uygun bir davranış olarak görülebilir?

- A) Öğrenilecek konuların birbiriyle bağlantılı olması.
B) Öğrenmede elde edilen sonuçların bilinmesi
C) Konunun bütün olarak öğrenilmesi
D) Programlı öğrenme
E) Konunun tekrarlanması

6. "Güdülenmiş davranış seçicidir."

Bu durum aşağıdaki örneklerin hangisinde en iyi görülmektedir?

- A) Çok uyuyan bir insanın dış dünyadan gelen uyarıcılara karşı duyarsızlaşması.
B) Aç bir insanın ayıp olur diye aç olduğunu söylememesi
C) Susuz birinin önüne yiyecek ve su bulunduğu önce su içmesi
D) Göze fazla ışık geldiğinde göz bebeğinin küçülmesi
E) Organizmanın yaşamını sürdürebilmesi için çevresiyle uyumlu yaşaması

7. Bir çingenenin, kızgın bir saç üzerindeki ayıyı, tef çalarak oynatması bir koşullanmadır. Fakat, çingenenin, ayıyı, uzun bir süre kızgın saç üzerine çıkarmaması durumunda, hayvanın oynama tepkileri ortadan kalkar.

Ayının oynama tepkisinin ortadan kalkması koşullanma ile ilgili aşağıdaki kavramlardan hangisine örnektir?

- A) Uyarıcı genellemesi
B) Uyarıcının ayırt edilmesi
C) Kendiliğinden geri gelme
D) Koşullanmanın sönmesi
E) Koşullu ketleme

8. Amerika'da bir deneyde, deneklere bazı zencilerin resimleri gösterilmiş, sonra bunları toplu bir fotoğrafın içinde bulmaları istenmiştir. Zenci karşıtı denekler "tüm zenciler birbirine benzer" kalıp yargısından yola çıkarak pek azını toplu resimde tanıyabilmişler, zenci yandaşları ise her zencinin fiziksel özelliklerini algılayabildikleri için simaları toplu fotoğrafta seçebilmişlerdir.

Bu deneyde algı üzerinde hangi faktörün etkisi araştırılmıştır?

- A) Beklentilerin
B) Tutumların
C) İlgilerin
D) Ortamın
E) İhtiyaçların

9. İnsanın bir işi gerçekleştirme ve başarıma gücüne "yetenek" denir.

Aşağıdaki faktörlerden hangisi yetenek üzerinde en az etkilidir?

- A) Doğuştan getirilen bazı özellikler
B) İlişki kurduğumuz sosyal gruplar
C) Bireyin konuyla ilgili aldığı temel eğitim
D) Bireyin ailesinin tanınmış olması
E) Bireyin genetik yapısı

10. Türlü kaygılarını içki içmekle gidermeye alışmış bir kimse neden bu kadar içtiği sorulduğunda "içki sağlığıma iyi geliyor ve damarlarımın açılmasına yardım ediyor." demektedir.

Bu kişinin kullandığı savunma mekanizması aşağıdakilerden hangisidir?

- A) Eksiklik duygularını, başkalarının başarısıyla giderme.
B) İçinde bulunduğu kötü durum için başkalarını suçlama
C) Başarısızlığını kabullenmeyip bilinç altına itme
D) Bir alandaki eksikliğini, üstünlük sağlayabileceği başka bir alanda giderme
E) Doğru olmayan ama mantığa uygun nedenlerle kendini savunma

11. Ormanların yok edilmesi, teknolojinin doğal dengiyi bozacak biçimde kullanılması, bunların dışında deprem, sel gibi doğal afetlerin olması iç göçlere, işsizliğe ve ekonomik sıkıntılara neden olmaktadır.

Bu durum aşağıdaki yargılardan hangisini destekler?

- A) Toplumsal olaylar ile doğal olaylar arasında ilişki vardır.
B) Toplumsal değişme hızı toplumdan topluma değişir.
C) Üyelerinin beklentilerini karşılayamayan toplumsal gruplar ortadan kalkar.
D) Toplumsal kurumlar toplumsal değişime ayak uydurmalıdır.
E) Toplumsal kurumlar yapı ve işlev bakımından zamanla değişebilir.

12. Özel televizyon ve radyo kanallarının artması, bu kanalların düzenlenmesi yönünde kanunların oluşmasını; trafik kazalarının artması da, kazaların önlenmesi yönünde kanunların oluşturulmasını gerekli hale getirmiştir.

Bu durum aşağıdaki genellemelerden hangisine bir örnek olabilir?

- A) Hukuk sisteminin yenilenmesi ilerlemeyi hızlandırır.
- B) Karşılaşılan toplumsal sorunlar yeni hukuk kurallarının doğmasına neden olur.
- C) Hukuk kurallarının ardında devletin gücü vardır.
- D) Toplumlar düzeni sağlayan kurallar her zaman varolmuştur.
- E) Hukuk kuralları toplumdan topluma değişir.

13. İki veya daha çok insanın kendi aralarında ve sosyal hayat alanı üzerinde karşılıklı sürdürdükleri kısa veya uzun süreli anlamlı etkileşim içindeki ilişkileri sosyal niteliktedir.

Buna göre bir ilişkinin sosyal nitelikli sayılması için hangi özelliğin olması gerekmez?

- A) En az iki insan arasında olması
- B) İlişkinin ortak bir anlam taşıması
- C) İnsanların karşılıklı etkileşimde bulunması
- D) İlişkilerin tümüyle olumlu nitelikte olması
- E) Belli bir süre devam etmesi

14. Hukuk kurallarımıza göre resmi nikahı olmayan eşlerin beraberlikleri meşru değildir. Fakat bazı yörelerimizde halk arasında yalnız dini nikâh, evliliğin meşru sayılması için yeterlidir.

Bu durum aşağıdakilerden hangisine örnektir?

- A) Halkın aile kurumuna önem vermediğine
- B) Resmi normların toplumda geçerli olduğuna
- C) Aile kurumunu kuralların etkilemediğine
- D) Resmi ve resmi olmayan normların çatıştığına
- E) Bireylerin kişisel görüşlerinin daha önemli olduğuna

15. Toplumlar, kurak bölgelerde genellikle tarım dışı üretim, dağlık bölgelerde hayvancılık, sulu ve verimli bölgelerde ise tarımsal üretim gerçekleştirilmektedir.

Bu anlatımda hangi tür ilişkiden söz edilmektedir?

- A) Nüfus özelliklerinin üretim ilişkilerini belirlemesi
- B) İhtiyaçların üretim biçimini belirlemesi
- C) Doğal çevrenin üretim biçimine etkisi
- D) İşbölümünün üretim biçiminden etkilenmesi
- E) Üretim biçiminin doğal çevreyi etkilemesi

16. Ülkemizde kentleşme oranı bölgeler arasında olduğu gibi kentler arasında da farklılıklar gösterir. Örneğin; İstanbul'daki nüfus artış oranı Marmara bölgesinin diğer kentlerindeki göre daha fazladır.

Bu durumun temel nedeni aşağıdakilerden hangisidir?

- A) Altyapı hizmetlerinin yeterli olması
- B) Okur – yazar oranının yüksek olması
- C) Ölüm oranının düşük olması
- D) Tarımda çalışan nüfusun artması
- E) İş olanaklarının fazla olması

17. "Her nesil kendinden sonraki nesile nasıl davranacağını, neleri yapıp neleri yapmayacağını öğretir. Böylece insanların yaşamları kolaylaşmış olur."

Burada toplumsal değerlere ait özelliklerden hangisi vurgulanmaktadır?

- A) Toplumsal denetimi sağlar.
- B) Zaman içinde ve toplumdan topluma değişir.
- C) Kuşaktan kuşağa aktarılır.
- D) İnsanların birlikte yaşamasıyla ortaya çıkar.
- E) Bir bütün halinde incelenir.

18. Bilinen çoğu toplumda aile kurumunun çözülmesi hoş karşılanmaz. Bu nedenle boşanmayı güçleştiren ve aileyi koruyan önlemler alınır. Örneğin Hristiyanlığın katolik mezhebi boşanmayı yasaklamış, Musevilik ve Hristiyanlıkta drahoma sistemi boşanmayı güçleştirmiştir. Müslümanlıkta da hütle olayı boşanmalara karşı alınmış bir önlemdir. Ayrıca çağdaş toplumlar yasalarda boşanmayı güçleştirici önlemler vardır.

Toplumları bunu yapmaya iten en önemli neden aşağıdakilerden hangisidir?

- A) Ailenin toplumsal bir kurum olması
- B) Eşler arasındaki anlaşmazlıkların önlenmesi
- C) Ailenin toplumun temeli sayılması
- D) Ailenin çocukların sosyalleşmesini sağlaması
- E) Ailenin evrensellik özelliği gösteren kurum olması

19. Belli bir düşünüş ve davranış biçimini gerçekleştirme konusunda toplumun bireye uyguladığı baskıya toplumsal denetim (sosyal kontrol) denir.

Aşağıdakilerden hangisi toplumsal denetim için söylenemez?

- A) Her toplumda aynı biçimde görülme
- B) Toplumsal düzeni sürdürmeyi amaçlama
- C) Toplumsal norm ve değerleri araç olarak kullanma
- D) Her toplumda görülme
- E) Bireye nerede, nasıl davranacağını gösterme

20. Toprağa yerleşmemiş toplumlar merkezi otorite olmadığı için devlet yoktur. Toplumların toprağa yerleşmeleriyle birlikte otorite bir kişi ya da grup tarafından temsil edilmeye başlanmış ve insanların toplumu yaşamını düzenlemek için başvurdukları bir örgütlenme biçimi olarak devlet ortaya çıkmıştır.

Bu parçadan aşağıdaki yargılardan hangisi çıkarılamaz?

- A) Devlet bir ihtiyaçtan doğmuştur.
- B) Devlet sosyal bir örgütlenme biçimidir.
- C) En ilkel toplumlar bile devlet örgütü vardır.
- D) İlk kez devlet örgütü aşiret tipi toplumlar da görülmüştür.
- E) Devlet, toplumda otorite ve düzeni sağlayan bir kurumdur.

21. Mantık, insana açık seçik düşünme ve düşündüklerini anlaşılır bir dil ile ifade etme imkanı sağlar. Bunun sonucu, tutarlı olmayı, birbiriyle çelişen düşünce ve iddialara zihinde yer vermemeyi, yeter derecede kanıtlanmamış hiçbir iddia ve teoriyi doğru kabul etmememizin gerekliliğini öğretir. Böylece insana doğru ile yanlış, kanıtlanabilen ile kanıtlanamayanı ayırma gücü verir.

Parçada mantığın hangi yönü üzerinde durulmuştur?

- A) Faydası
- B) Konusu
- C) Yöntemi
- D) Tarihçesi
- E) Diğer bilimlerle ilişkisi

22. I. Özdeşlik ilkesi
II. Çelişmezlik ilkesi
III. Üçüncü halin olanaksızlığı ilkesi
IV. Yeter sebep ilkesi

Yukarıdaki ilkelerden hangisi "Hiçbir düşünce kendisiyle çelişen bir düşünceyle aynı doğruluk değerini alamaz." sözünün ifadesidir?

- A) Yalnız I
- B) Yalnız II
- C) Yalnız III
- D) Yalnız IV
- E) I ve IV

23. "Gül ile Yılan", "Koç ile Kedi" ve "Duygulu ile Taş" terimleri arasında "ayrıklık" ilişkisi vardır.

Bu örneklere göre aşağıdaki yargılardan hangisi "ayrıklık" ilişkisini dile getirir?

- A) İki kavramdan her birinin diğerinin bütün bireylerini karşılamasıdır.
- B) İki kavramdan her birinin diğerinin hiçbir bireyini karşılamamasıdır.
- C) İki kavramdan sadece birinin diğerinin bütün bireylerini karşılamasıdır.
- D) İki kavramdan her birinin diğerinin bazı bireylerini karşılamasıdır.
- E) İki kavramdan sadece birinin diğerinin bazı bireylerini karşılamasıdır.

24. Bileşik önermeler "bileşikliği gizli olanlar" ve "bileşikliği açık önermeler" olarak ikiye ayrılır. Bileşikliği gizli olan önermelerden biri de "sınırlandırıcı önermeler"dır. Sınırlandırıcı önermeler, yüklem belirtiği özelliğin belli zamanla sınırlandırıldığı önermelerdir.

Parçaya göre, aşağıdaki önermelerden hangisi sınırlandırıcı önermeye örnektir?

- A) Yusuf, Berkay'dan daha az ders çalışır.
- B) Yengeçler mavi kanlıdır.
- C) Okulumuzda 2002 yılından bu yana eğitim ve öğretim verilmektedir.
- D) Kameralı cep telefonları da vardır.
- E) Ülkemiz yarımadadır.

p	q	$p \Rightarrow q$	$q \Rightarrow p$	$(q \Rightarrow p) \vee (p \Rightarrow q)$
D	D	D	D	?
D	Y	Y	D	?
Y	D	D	Y	?
Y	Y	D	D	?

Yukarıdaki doğruluk tablosunda soru işaretlerinin olduğu sütüne aşağıdaki doğruluk değerlerinden hangisi gelir?

A)	B)	C)	D)	E)
Y	D	Y	Y	D
Y	Y	Y	D	D
Y	D	Y	Y	D
D	D	Y	D	D

27. Kırmızı mercimekte fiyat düşüşünü ithalat sağlamazsa, üretim artışı sağlar. ($\sim p \Rightarrow q$)

önermesine denk (eş değer) olan önerme aşağıdakilerden hangisidir?

- A) Kırmızı mercimekte fiyat düşüşünü ithal etme sağlar, ama üretim artışı sağlamaz. ($p \wedge \sim q$)
- B) Hem ithal etme hem de üretim artışı kırmızı mercimekte fiyat düşüşünü sağlar. ($p \wedge q$)
- C) Kırmızı mercimekte fiyat düşüşünü ithal etme sağlamadığında üretim artışı sağlamaz. ($\sim p \wedge \sim q$)
- D) Kırmızı mercimekte fiyat düşüşünü ithal etme veya üretim artışı sağlar. ($p \vee q$)
- E) Kırmızı mercimekte fiyat düşüşünü ithal etmenin ve üretim artışının sağladığı doğru değildir. ($\sim(p \wedge q)$)

28. Günlük dilde iki veya daha fazla önermeyi birleştirilen "veya" (\vee) eklemine tikel evetleme eklemi denir.

Aşağıdakilerden hangisi tikel evetleme şeklindeki önermeye örnektir?

- A) Yarıyıl tatilinde Antalya'ya gideceğim.
- B) Felsefede aynı soruya farklı cevaplar verilebilir.
- C) Bazı kuşlar göçmendir.
- D) Bazı arılar bal yapmaz.
- E) İstanbul'a otobüsle ya da uçakla gidilecek.

29.	I	II	III	IV	V
	D	Y	D	Y	Y
	D	Y	D	Y	Y
	D	Y	Y	D	D
	D	Y	Y	D	D

Yukarıdaki doğruluk değerlerine göre aşağıdakilerden hangisi doğru değildir?


- A) IV. ile V. önerme eş değerdir.
- B) II. önerme tutarsızdır.
- C) I. önerme geçerlidir.
- D) I. ile III. önerme eş değerdir.
- E) III. önerme tutarlıdır.

30. " $\forall xFx$ " önermesi basit, genel önermedir.

" $\forall xFx \wedge \exists xGx$ " önermesi bileşik, genel önermedir.

Verilen örneğe göre, genel bir önermenin bileşik olarak nitelendirilebilmesi için aşağıdakilerden hangisine sahip olması gerekir?

- A) Önerme eklemine
- B) Niceleyiciye
- C) Birden fazla terime
- D) Yargıya
- E) Doğruluk değerine



FELSEFE GRUBU TESTİ

1. Bu testte 30 soru vardır. Bu test için verilen süre 45 dakikadır.
2. Cevaplarınızı, cevap kâğıdının Felsefe Grubu Testi için ayrılan kısmına işaretleyiniz.

1. Uyku süresinin başarıya etkisi inceleniyor ve bunun için de bir deney yapılıyor olsun. Bu deneyde etkisi araştırılan bağımsız değişken uyku süresi, sonuçta başarının artıp artmaması ise bağımlı değişkendir. Ancak bir de hem bağımlı hem de bağımsız değişken üzerinde etkili olan ara değişkenler vardır ki buna etkileşimli değişken adı verilir.

Yukarıdaki örnekte etkileşimli değişken aşağıdakilerden hangisi olabilir?

- A) Uyku süresi B) Başarı
C) Öğrenme D) Başarının düşmesi
E) Ortam sıcaklığı

2. Bazı davranışçılar, insan olmayan primatların da bir tür "dil" öğrendiklerini gösterdiler. Şempanze ve maymunlara, koşullanma ve taklit etme yoluyla, simgelerle iletişim kurmak öğretilmiştir. Onların dilini kazanmalarını insanınki ile karşılaştırmak aydınlatıcı olmaktadır.

Yukarıdaki parçadan hareketle, psikologların hayvan davranışlarını inceleme amaçları hakkında aşağıdakilerden hangisi söylenebilir?

- A) Hayvan davranışlarının ilgi çekici olması
B) İnsanlarda yapılamayan deneylerin hayvanlarda yapılabilmesi
C) İnsan davranışlarını anlamada yardımcı olması
D) Kısa zamanda ve çok sayıda deney yapılabilmesi
E) İnsan ve hayvan davranışlarını ayırt edebilmek

3. Duyarsızlaşma, bireyin aşırı üzüntü, acı, sevinç gibi iç uyarıcılarla tekrar karşılaşması sonucunda önceleri gösterdiği duygusal davranışın zayıflaması veya kaybolması durumudur.

Parçadan yola çıkarak aşağıdaki hangi örneğin duyarsızlaşma örneği olduğu söylenebilir?

- A) Başlangıçta gürültüden rahatsız olan bireyin zamanla sestten rahatsız olmaması
B) İlk günlerde açlıktan çok etkilenen bireyin sonradan daha az etkilenmesi
C) Sürekli korku filmi izleyen bireyin korku filmlerinden etkilenmemeye başlaması
D) Baştan bir bardak içkiden sarhoş olan kişinin sonradan daha az etkilenmesi
E) Sürekli aynı kokuyu duyan bireyin bir süre sonra kokuyu hissetmemeye başlaması

ESEN YAYINLARI

5. Herhangi bir ev bir çok insan için farklı anlam ve değer taşıyabilir. Bir mimar, emlakçı ve hırsızın eve bakış açıları farklıdır. Emlakçı evin kaç para edeceğini, hırsız eve nasıl girileceğini, mimar ise yapı biçimini ele alarak bu evi görür.

Burada algısal seçimi etkileyen hangi etkenden söz edilebilir?

- A) İlginçlik
B) Uyarıcının niteliği
C) İlgiler ve gereksinimler
D) Doğa koşulları
E) Uyarıcının şiddeti

6. Annesi tarafından lunaparka götürülen çocuk oradaki oyuncaklardan birinden düşmüş ve daha sonra hiçbir oyuncağa binmemiştir.

Bu durum aşağıdakilerden hangisine örnektir?

- A) Pekiştirme
B) Ayırt etme
C) Genelleme
D) Sönme
E) Kendiliğinden geri gelme

7. Bir öğretmenin "Anlatacağım konudan üniversite sınavında her yıl iki soru çıkıyor" diyerek çeşitli yıllardaki sınav sorularından örnek vermesi, öğrenmede hangi olayla ilgilidir?

- A) Genel uyarılmışlık hali
B) Güdülenme (motivasyon)
C) Olgunlaşma
D) Ayırt etme
E) Genelleme

8. Aile çevresinde ve içinde yetiştiği toplumsal – kültürel ortamda paradan başka şey konuşulmayan bir kişinin, manevi değerlerin ağır bastığı "kendini gerçekleştirme" aşamasına geçmesi zor olur. Öbür yandan, Yunus Emre'nin mistik görüşü içinde yetişmiş ve "Bir ben vardır bende benden içeri" anlayışı çerçevesinde yaşamın anlamını arayan biri için maddi kazanç ve başarılar pek önemli sayılmaz.

Maslow'la ilgili parçada anlatılan durum aşağıdakilerden hangisini göstermektedir?

- A) Öğrenmede motivasyonun önemini
B) Bireysel farklılıkları
C) Aile ve kültürel değerlerin bireye etkisini
D) Kendini gerçekleştirmenin zorluğunu
E) Fizyolojik güdülerin önemini

9. İzlediği bir filmi sıkıcı bulan bir kişi, sinemadan çıktığında arkadaşlarının konuşmalarından filmi çok beğendiklerini anlar. Arkadaşları fikrini sorduğunda ise, biraz duraklayıp, filmi beğenmediği halde, onlarla aynı düşünceleri paylaştığını söyler.

Kişiyi bu davranışa yönelten en önemli neden aşağıdakilerden hangisidir?

- A) Sonradan filmin önemini anlaması
B) Arkadaşlarının düşüncelerinin doğruluk değerinin yüksek oluşu
C) Sosyal grubun davranış üzerindeki etkisi
D) Davranışların sürekli olarak değişmesi
E) Filminden hiçbir şey anlamamış olması

10. 20 yıldır hiç tatile çıkmamış, çok çalışkan bir iş adamını düşünün. Bu adam, aynı zamanda bilinç düzeyinde "hippi"ler ve onların sorumsuz yaşantılarından da nefret ediyor olsun. Bilinç dışında ise kendisinin bastırıldığı "gölge"si, onların bu davranışlarına aslında hayran olduğundan gölgesinin varlığı onu rahatsız etmekte ve sıkıntı vermektedir.

Parçada verilen örnek aşağıdaki hangi savunma mekanizmasına uygun düşer?

- A) Mantiğa bürüme B) Yüceltme
C) Ödünleme D) Karşıt Tepki Geliştirme
E) Özdeşleştirme

ESEN YAYINLARI



11. Günümüzde sosyal bilimciler "gelir ve eğitim düzeyi yüksek ailelerde çocuk sayısı azdır." örneğinde olduğu gibi "A oldu mu B de olur" diyen kesin belirleyicilik anlayışını benimsememektedir. Bunun yerine "Ailelerin gelir ve eğitim düzeyi arttıkça çocuk sayısının azalması beklenir." örneğinde olduğu gibi "A olursa B'nin gerçekleşme olasılığı artar." diyen olasılığa dayalı belirleyicilik anlayışını benimsemektedirler.

Aşağıdakilerden hangisi, sosyal bilimcileri olasılığa dayalı bir yaklaşıma yönelten nedenlerden biridir?

- A) Sosyal olaylara karşı ilginin giderek artması
- B) Sosyal olayların doğa olaylarıyla açıklanmak istenmesi
- C) Sosyal olaylarda sonucu etkileyen birçok etken bulunabilmesi
- D) Veri toplamada çeşitli araçlardan yararlanılabilmemesi
- E) Farklı olaylar arasında benzer ilişkiler bulunabilmesi

ESEN YAYINLARI

13. Sosyal sistem, istikrarı esas tutan bir statikliğe, değişmeyi yansıtan dinamik bir niteliğe, tek belirleyici faktöre göre değil, çok faktöre, ahenkli uyuşmanın yanı sıra çatışmaya açık işleyen bir parçalar bütünüdür.

Bu tanımda sosyal sistemle ilgili aşağıdaki yargılardan hangisi çıkarılamaz?

- A) Sosyal sistemin varlığının devamı bir çok etmene bağlıdır.
- B) Sosyal sistemi meydana getiren unsurlar arasında uyum vardır.
- C) Sosyal sistemde belirli bir istikrar vardır.
- D) Sosyal sistemin sınırları değişmeye açıktır.
- E) Sosyal sistemin unsurları arasında çatışma olmaz.

14. Türk kültüründe başkalarının bizim için ne düşündüğü önemlidir. Çocuklarımızı eğitirken sık sık "Sonra başkaları ne der" diye terbiye ederiz. Bir kişiyi toplum içinde zor duruma düşürmek, başkalarının yanında azarlamak, istenmeyen davranışlarımızdandır.

Bu parçada vurgulanan temel düşünce aşağıdakilerden hangisidir?

- A) Değerler toplumsal yapı içinde zamanla değişir.
- B) Toplumsal değerler toplumsal yapıya göre belirlenir.
- C) Toplumsal yapının dışı kapalı olması değerlerin değişimini engeller.
- D) İnsan ihtiyaçları davranışların temelini oluşturur.
- E) Kişisel çıkarlar toplumsal değerleri zayıflatır.

15. Ülkemizde 40 yaşın üzerindeki bilir; bayramlarda tebrik kartları gönderdiklerini, başka illerden aileleriyle mektupla iletişim kurduklarını. Günümüzde ise tebrik kartlarıyla bayram kutlayan ya da mektupla iletişim kuran neredeyse kalmadı.

Bu durum aşağıdaki toplumsal olgulardan hangisini gösterir?

- A) Toplumsal değişimin yaşandığını
- B) Toplumsal kurumlar arasında çatışmaların olabileceğini
- C) Toplumda olumsuz sapsmaların olabileceğini
- D) Bireyin aynı zamanda birden fazla statüsü olabileceğini
- E) Kültürün yeni kuşaklara dil aracılığıyla iletilmediğini

16. İnsanlar yaşayabilmek için birtakım ihtiyaçlarını karşılamak zorundadır. İhtiyaçların doyurulabilmesi için doğanın sundukları ise; ihtiyaçlar kadar çeşitli ve çok değildir. İhtiyaçların başında yiyecek, giyecek şeyler ve barınacak bir yer gelir. Şüphesiz, sadece bu üç ihtiyacı karşılamakla yetinen ne bir insan, ne de bir toplum vardır.

Bu parça göz önüne alındığında ekonomik faaliyetlerin ortaya çıkış nedeni aşağıdakilerden hangisidir?

- A) İhtiyaçların karşılanması için emek sarf edilmesinin gerekliliği
- B) İhtiyaçların sınırsız oluşuna karşılık, kaynakların sınırlı oluşu
- C) Kaynak ve ihtiyaçların toplumdan topluma farklılık göstermesi
- D) İnsanların sosyal gruplar içinde yer alışı
- E) İhtiyaçların karşılanması için insana gereksinim duyulması

17. Kişi, içinde yaşadığı toplumun tüm özelliklerini doğrudan başlayarak kazanır. Kültürün bu kazanımında aile, çevre ve okul eğitiminin katkısı çok büyüktür.

Bu parçada kültürün hangi özelliği vurgulanmaktadır?

- A) Kültür maddi ve manevi öğeler bütünüdür.
- B) Kültür öğrenilir.
- C) Kültür tarihsel bir özellik gösterir.
- D) Kültür sürekli değişir.
- E) Kültür bir soyutlamadır.

18. İnsanı toplumsal yaşantısından soyutlamak ya da toplumu açıklarken, toplumsal yapıyı insandan soyutlamak yanlıştır. Çünkü, insan toplumun, toplum da insanın içindedir.

Bu parçada sosyoloji ile hangi bilim dalının ilişkisi vurgulanmaktadır?

- A) Kültürel Antropoloji
- B) Hukuk Bilimi
- C) Tarih
- D) Ekonomi
- E) Psikoloji

19. Kullanılan araç ve gereçlerin niteliği, bulunduğu dönemin özelliklerini yansıtır. Örneğin tarımda karasabanın kullanıldığı dönemlerle traktörün kullanıldığı dönemler birbirinden ayrı özellikler taşır. Ancak karasabanın bugün bile kullanıldığını görüyoruz. Bu o ülkenin gelişmişlik düzeyini ortaya koyan bir nitelik sayılabilir.

Bu parçada, maddi kültürün hangi özelliği anlatılmak istenmiştir?

- A) Maddi kültürün öğeleri toplumlarda ortak olabilir.
- B) Maddi kültürel öğelerdeki değişiklik manevi öğeleri de etkiler.
- C) Her toplum kendi kültürel öğelerini kendisi ortaya koyar.
- D) Maddi kültürel öğeler toplumun gelişmişlik düzeyini gösterir.
- E) Sanayinin gelişmesi, toplumların manevi kültürünü ortadan kaldırır.

ESEN YAYINLARI

12. Ön yargılardan uzaklaşmamış bir sosyoloğun toplumsal olaylar üzerindeki gözlemi sağlıklı olmaz ve böyle bir gözlem bilimsel olarak kabul edilemez.

Buna göre bir gözlemin bilimsel olabilmesi aşağıdakilerden en çok hangisine bağlıdır?

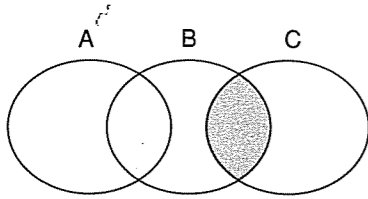
- A) Gözlem zamanının iyi seçilmesine
- B) Gözlemin uygun koşullarda yapılmasına
- C) Gözlemin nesnel olmasına
- D) Gözlemde yeterli araç – gereç kullanılmasına
- E) Gözlenen olayın genellenebilir olmasına

21. Orta Çağ'ın dogmatik ve skolastik karakterlerine uygun düşen Aristoteles mantığı ve onun temelini oluşturan kıyas, bu dönemde bir gelişme gösteremedi. Çünkü, Orta Çağ'da mantığın problemleri devrin metafizik ve ontolojik problemlerine sıkı bir şekilde bağlı bulunuyordu. Dolayısıyla, felsefede olduğu gibi mantık da teolojinin (ilahiyatın) yardımcı bir disiplin durumunda bulunduğundan gözden uzak kalmıştı.

Parçayı destekleyen yargı aşağıdakilerden hangisinde verilmiştir?

- A) Aristoteles mantığı çağlardan bağımsız bir özellik gösterir.
B) Yeni Çağ'da Aristo mantığının yetersizliği anlaşılmıştır.
C) Aristo mantığının yetersiz kalması kullandığı yöntem ile ilgilidir.
D) Mantık Orta Çağ'da skolastik düşüncenin etkisi altında kalmıştır.
E) Mantığın temel konusu Yeni Çağ'la birlikte değişmiştir.

22.



Yukarıdaki diyagramlarda taralı alan aşağıdakilerden hangisiyle ifade edilir?

- A) Bazı A'lar B'dir.
B) Bazı A'lar C'dir.
C) Bazı B'ler C'dir.
D) Bütün C'ler A'dır.
E) Hiçbir A B değildir.

23. Özne ile yüklemi aynı terimlerden oluşan iki önermenin hem nicelikleri hem de nitelikleri farklı ise bu tür önermeler "çelişik"tir.

Buna göre;

- Tümel olumlu (A)
Tümel olumsuz (E)
Tikel olumlu (I)
Tikel olumsuz (O)

önermelerinden hangileri çelişiktir?

- A) A ile E B) E ile O C) I ile O
D) E ile I E) I ile A

24. "Bazı hayvanlar memelidir." önermesi,

- I. Basit
II. Bileşik
III. Tümel
IV. Tikel
V. Tekil
VI. Olumlu
VII. Olumsuz

hangileri için örnektir?

- A) Basit – Tümel – Olumlu
B) Bileşik – Tikel – Olumsuz
C) Basit – Tekil – Olumlu
D) Basit – Tikel – Olumlu
E) Bileşik – Tekil – Olumsuz

25. Ali trende ya da otobüste yer bulursa bayram tatiline gidecek.

Oysa Ali bayram tatiline gidemedi.

Yukarıdaki öncüllerin mantıksal sonucu aşağıdakilerden hangisidir?

- A) Ali otobüste yer bulmuştur.
B) Ali trende yer bulamamıştır.
C) Ali ne trende ne de otobüste yer bulmuştur.
D) Ali hem trende hem de otobüste yer bulmuştur.
E) Ali otobüste yer bulmuş, fakat trende yer bulamamıştır.

26. Aşağıda günlük dilde verilmiş olan önermelerden hangisi koşul evetleme (\Rightarrow) önermesidir?

- A) Ankara ve İstanbul büyük kentlerimizdendir.
B) Hem Ali hem de Ayşe Üniversite sınavına girecek
C) Yaktığın ateşi söndürmezsen yangın çıkar.
D) Ali sınıfını geçemez.
E) Ali ancak ve ancak çalışırsa sınıfını geçer.

27. " $p \Rightarrow q$ " önermesi aşağıdaki önermelerden hangisinde ana bileşen durumundadır?

- A) $r \wedge [(p \Rightarrow q) \vee (p \Leftrightarrow q)]$
B) $[(r \wedge q) \wedge (p \Rightarrow q)] \wedge \sim p$
C) $[(p \wedge q) \vee q] \wedge \sim[(p \Rightarrow q) \wedge r]$
D) $(p \wedge q) \vee (p \Rightarrow q)$
E) $[(p \Rightarrow q) \wedge r] \Leftrightarrow \sim q$

28. p, q, r gibi bir çıkarımın çözümleyici çizelge ile denetlemesi sonucunda geçerli olması aşağıdaki koşullardan hangisine bağlıdır?

- A) p, q ve $\sim r$ önermelerinin birlikte çözümlemesi yapılır. Bütün yollar kapalı ise çıkarım geçerlidir.
B) $p \Rightarrow q$ önermesinin çözümlemesi yapılır. Bütün yollar açıksa çıkarım geçerlidir.
C) p, q ve $\sim r$ önermelerinin birlikte çözümlemesi yapılır. En az bir yol açıksa çıkarım geçerlidir.
D) $q \Leftrightarrow r$ önermesinin çözümlemesi yapılır. Bütün yollar açıksa çıkarım geçerlidir.
E) $q \wedge \sim r$ önermesinin çözümlemesi yapılır. Bütün yollar kapalı ise çıkarım geçerlidir.

29. – En az bir yorumu yanlış olan önerme geçersizdir.
– Bütün yorumlamaları doğru olan önerme geçerlidir.
– Bütün yorumlamaları yanlış olan önerme tutarsızdır.
– En az bir yorumlaması doğru olan önerme tutarlıdır.


Buna göre, aşağıdakilerden hangisi eş değerdir?

- A) İki geçersiz önerme
B) İki tutarlı önerme
C) İki tutarsız önerme
D) Bir tutarlı bir tutarsız önerme
E) Bir tutarlı bir geçersiz önerme

30. I. " $\exists xFx$ "
II. " x katıdır."
III. " $\forall xFx \wedge \exists xGx$ "

Yukarıdaki ifadeler sırasıyla nasıl adlandırılır?

	I	II	III
A) Tikel basit genel önerme	Açık önerme	Bileşik, genel önerme	
B) Açık önerme	Tikel basit genel önerme	Tümel, basit önerme	
C) Tümel, basit genel önerme	Açık önerme	Tikel basit önerme	
D) Tikel, basit genel önerme	Tümel, basit genel önerme	Açık önerme	
E) Tikel, basit genel önerme	Tikel, basit genel önerme	Bileşik, genel önerme	



FELSEFE GRUBU TESTİ

1. Bu testte 30 soru vardır. Bu test için verilen süre 45 dakikadır.
2. Cevaplarınızı, cevap kâğıdının Felsefe Grubu Testi için ayrılan kısmına işaretleyiniz.

1. Günlük hayatta psikolojinin gereği açıktır. Psikolojik bilinçlenmeyle kendini daha iyi anlayabilen kimse, eşini çocuğunu, öğrencisini, yanında çalışan kişileri de daha iyi anlar. Ayrıca okul sadece öğretim değil hayata hazırlama işlevi de taşır. O halde liselerde psikoloji dersinin önemi ve gereği de anlaşılacaktır.

Parçaya göre psikoloji öğretiminin niçin gerekli olduğu sorusuna verilecek yanıt aşağıdakilerden hangisidir?

- A) Okullarda eğitime yeterince önem verilmemesi
B) Eğitimin yalnızca psikolojik bilinçle alınabilmesi
C) Bilme ve anlama isteği
D) Liselerin zorunlu hale getirilmesi
E) Bireyin kendi duygu, düşünce ve davranışlarının nedenlerini anlayabilmesi

ESEN YAYINLARI

3. Dünyanın kendi etrafında dönme hızının yarattığı sesi ya da kelebeklerin kanat seslerini duymuyorumuz.

Bu durumun nedeni aşağıdakilerden hangisidir?

- A) Duyu organlarının sağlıklı olmaması
B) Bireyin alışkın olduğu uyarıcılardan yoksun kalması
C) İçinde bulunulan ortamın elverişli olmaması
D) Bireyin sağlıklı ve normal olmaması
E) Uyarıcıların şiddetinin duyum eşiği sınırları dışında olması

4. Bir deneyde her yönden eşlenmiş iki çocuk grubundan birindekiler, oyuncak bir bebeğe sert bir biçimde, diğer gruptakiler hafif bir şekilde vurdukları zaman kendilerine şeker verilmiştir. Daha sonra bu çocuklar, deneye katılmayan çocuklarla oynadıkları zaman dirsek vurma, itme v.b. davranışlarda bulunmuşlardır. Ayrıca bu davranışlar oyuncuğa sert biçimde vuran grupta daha çok gözlenmiştir.

Bu deney aşağıdaki hipotezlerden hangisini sınamak amacıyla yapılmıştır?

- A) Ödül, saldırganlığın genellenip yayılmasını sağlar.
B) Saldırganlık doğuştandır.
C) Engellemeler saldırganlığa yol açar.
D) Örnek alma saldırganlığın öğrenilmesinde önemli bir rol oynamaz.
E) Saldırganlık kalıtsaldır.

2

Diğer sayfaya geçiniz.

5. Güzel çiçek, güzel resim, güzel çocuk, güzel yazı gibi nesnel verilerden "güzellik" kavramını oluşturabiliriz. Ancak bu kavram belirtilen güzel varlıklardaki gibi somut, olgusal değildir. Bu varlıklardaki ortak bir özelliği ayırarak bu kavram elde edilmektedir.

Bu tür kavram oluşturma aşağıdakilerden hangisiyle adlandırılır?

- A) Sembolleştirme B) Deneyleme
C) Hatırlama D) Soyutlama
E) Bağ kurma

6. Öğrenme, bireyin tekrar ya da yaşantı sonucu davranışlarında meydana gelen kalıcı değişikliktir. Bu davranışsal değişiklik olumlu ya da olumsuz yönde olabilir. Örneğin birey okuma yazmayı öğrenebileceği gibi, küfür etmeyi de öğrenebilir.

Aşağıdaki hangi yargı parçayla karşıt durumdadır?

- A) Öğrenme tekrar sonucu oluşabilir.
B) Öğrenme belirli bir yaşantı sonucudur.
C) Öğrenme olumsuz davranış değişimine yol açabilir.
D) Öğrenme devam eden bir süreçtir.
E) Öğrenme her zaman olumlu davranışlar kazandırır.

7. Duyu organlarının bir çok uyarıcı arasından özellikle birine yönelmesine algıda seçicilik denir. Algıda seçiciliği etkileyen faktörler, organizmadan kaynaklanan faktörler ve organizmanın dışından kaynaklanan faktörler olmak üzere ikiye ayrılır.

Aşağıdakilerden hangisi nitelik yönüyle diğerlerinden farklıdır?

- A) Esmer bayanların arasında sarışın bir bayanın dikkat çekmesi.
B) Bir Türkçe öğretmenin imla hatasını matematikçiden daha çabuk fark etmesi.
C) Bir spor meraklısının televizyondaki spor haberlerini öncelikle dinlemesi.
D) Bir terzinin elbisedeki dikim hatasını müşterilerden daha çabuk görmesi
E) Bir şoförün motordaki ses değişikliğini yolcudan önce fark etmesi.

8. Öğrencilik yıllarında öğretmen ve idare baskısından bıkan ve disipline karşı olan bir genç, öğretmen olduğunda disiplin uygulamak zorunda kalmıştır.

Bu durum aşağıdakilerden hangisine bir örnek oluşturur?

- A) Rol çatışması bireyde çözümlenmez sorunlar doğurur.
B) Statü farklılığı davranış ve tutumların değişmesine neden olur.
C) Statüye uygun davranış, tutumlara aykırılık oluşturabilir.
D) Disiplin, bireyin kişiliğine bağlı bir olgudur.
E) Eğitim ancak disiplin ve baskı ile gerçekleşebilir.

9. "Kızın kismetlisi çıkmış ve ailesi fikrini alarak kızını evine gelmişler fakat kız iki gözü iki çeşeme ağlıyormuş. Babası 'kızım niye ağlıyorsun?' dediğinde kız gözyaşları içinde 'Babacığım sen benim ağlamama bakma, ben hem ağlarım, hem de giderim!' diye cevap vermiş."

Kızın içinde bulunduğu durum aşağıdakilerden hangisine örnek oluşturur?

- A) Yaklaşma – Yaklaşma
B) Yaklaşma – Kaçınma
C) Kaçınma – Kaçınma
D) Engellenme
E) Kaygı

10. Genç insanlar, ergenlik döneminde doğal bir ruh hali olarak kabul edilen "otoriteye başkaldırı" psikolojisi kapsamında toplumsal değerlerin dışına çıkmak, yanlış alışkanlıklar kazanmak eğilimi göstermektedirler. Ailesinden ve okuldan göremediği ilgi ve yakınlığı arkadaş gruplarında arayan genç, bu grupların eğilimleriyle bütünleşmektedir.

Parçaya göre ergenlik dönemi davranışları üzerinde hangi faktörün etkisi vardır?

- A) Fiziksel uyarıların
B) Biyolojik yapının
C) Zihinsel faaliyetlerin
D) Toplumsal grupların
E) Geçmiş yaşantıların

ESEN YAYINLARI

3

Diğer sayfaya geçiniz.

11. I. Toplumsal değişmeye yön vermeye çalışan bilimlere öncelik sağlamak
II. Toplumsal sistemin nasıl işleme gerektiğini saptamak
III. Sosyal olaylar arasındaki benzerlikten faydalanarak genelleme yapmak
IV. Toplumsal yaşam hakkında uyulması gereken kurallar koymak
V. Toplumsal yapının işleyişini araştırmak

Yukarıdakilerden hangileri sosyoloji biliminin amaçlarındandır?

- A) I ve II B) II ve III C) III ve IV
D) II ve IV E) III ve V

12. "İnsanlar toplumsal yaşama geçtikleri aşamadan başlayarak, toplumsal sorunlar üzerinde düşünmeye, toplum olaylarını açıklayarak toplumsal yaşama bilinçli olarak bir düzen ve yön vermeye çalışmışlardır."

Bu parçada öncelikle sözü edilen görüş aşağıdakilerden hangisidir?

- A) Sosyolojinin konuları toplumların tarihi kadar eskidir.
B) Sosyoloji genel olanı incelemiştir.
C) Toplumlar varolalı beri, kurallar da varolmuştur.
D) Bilimsel düşünce toplumsal sorunlarla başlamıştır.
E) İlk insanların amacı da topluma yön vermektir.

13. Hemen bütün toplumlarda geçerli olan ve yasak olan bir norm, bir insanın canını almaktır. Ancak bu norm bazı gruplar örneğin polisler için geçerli değildir. Polisler veya güvenlik güçleri belirli durumlarda; girdikleri silahlı çatışmalarda bir kimseyi öldürebilir veya kendini korumak amacıyla silah kullanabilir.

Burada normlarla ilgili olarak aşağıdaki özelliklerden hangisi belirtilmiştir?

- A) Normlar toplumun her bireyi için geçerlidir.
B) Her toplumun sahip olduğu normların önem dereceleri farklılık gösterir.
C) Bazı normlar, toplumun bazı bireyleri için geçerli, diğerleri için değildir.
D) Normlar, toplumda ödül ve ceza ile güvence altına alınır.
E) Normlar yoluyla toplumun kontrolü bir ölçüde mümkün olmaktadır.

14. Hukuk devletinde yasama organı olan meclisi anayasa mahkemesi, yürütme organı olan hükümeti mali açıdan Sayıştay, idari açıdan Danıştay denetler. Bağımsız mahkemelerin kararlarını ise inceleyen üst mahkeme Yargıtay'dır.

Hukuk devletindeki bu uygulamanın gerekçesi aşağıdakilerden hangisidir?

- A) Güçler birliğini sağlamak.
B) Yasama, yürütme ve yargı uygulamalarını yasal denetime tabi tutmak.
C) Devletin bağımsızlığını korumak.
D) Yasama yürütme yargı gibi güçlerin hareket kabiliyetini sınırlamak.
E) Tek bir merkeze bağlı hale getirmek.

15. Toplu halde yaşamının bir sonucu olarak bütün insanlar hayatları boyunca bir gruptan diğerine girip çıkarlar. Sabah aile grubunda günlük hayatına başlayan insan, iş gruplarına ve arkadaşlarına katılarak akşam eve döner. Bu durum insanın hayatı boyunca devam eder.

Parçadan aşağıdaki sonuçlardan hangisine ulaşılr?

- A) Sosyoloji yalnızca insan yaşamını ele almalıdır.
B) Toplum çeşitli gruplardan meydana gelir.
C) Bireyin yaşamını sürdürmesi grup normlarına uymasına bağlıdır.
D) Sosyal yaşam bireyin çeşitli gruplarla ilişki kurmasına yol açar.
E) Sosyal gruplar karşılıklı olarak birbirlerini etkilerler.

16. Rönesans'tan önce sanatçılara, özellikle ressamlara pek önem verilmezdi. Oysa Rönesans'ın sonlarına doğru sanatçıların toplumsal konumlarının yükseldiği gözlenir.

Bu örnek statülerin hangi özelliğini vurgular?

- A) Saygınlığının zamanla değişmesi.
B) Bir bireyde çok sayıda olabilmesi.
C) Saygınlığının bireyin yakınlarına da geçmesi
D) Saygınlığının toplumdan topluma değişmesi
E) Bazılarını bireyin kendi çabaları ile kazanabilmesi

17. I. Hastanede yatan bir dostu ziyaret etmek gerekir.
II. Derneklerin kuruluşu ile ilgili olarak mülki amirliğe bilgi vermek gerekir.

Bu normlardan birincisi sosyal normlara, ikincisi ise resmi normlara örnektir.

Buna göre, bu iki normun ortak yanı aşağıdakilerden hangisidir?

- A) Örgütsüz güçler tarafından desteklenmeleri
B) Yazılı belgelere dayanmaları
C) Belli bir zorlayıcılık taşımaları
D) Bireylere göre değişiklik göstermeleri
E) Yaptırımların devlet tarafından uygulanması

18. Avrupa'da 18. yüzyılda insanların büyük bir kısmı köylü idi. Ulaşım araçları kısıtlı olduğundan, insanlar bir yerden bir yere çıkamıyordu. İnsanların büyük bir kısmı okur – yazar değildi. Kültür; belirli bir sınıfın tekelindeydi. Bu toplumsal durum, sanayi devriminin sonucu ortadan kalktı.

Buna göre, aşağıdaki toplumsal değişmelerden hangisi, Sanayi Devrimi'nin nedenlerinden biridir?

- A) Serf – Senyör çatışması
B) Sendikaların doğuşu
C) Sosyalizmin doğuşu
D) Sanayicilerin kentlere yerleşmesi
E) Yeni sosyal sınıfların ortaya çıkışı

19. Bir tiyatrodan oyun izleyenler toplumsal bir grup değildir. Fakat oyunu sergileyen oyuncular bir toplumsal grup oluşturur.

Buna göre bir insan topluluğuna grup denebilmesi için hangi özelliğin olması gerekir?

- A) Üyeler arasında ortak bir amaç
B) Aynı mekanı paylaşma
C) Türü özellikler yönünden birbirine benzeme
D) Aynı uyarıcıdan etkilenme
E) Farklı toplumsal konumlara sahip olma

20. Durkheim'a göre, basit ve gelişmemiş toplumlarda bireylerin benzer işleri yapmaları sonucunda, tam bir uyum ve birleşme şeklinde ortaya çıkan dayanışmaya "mekanik dayanışma" denir.

Bu tür dayanışmanın bulunduğu bir toplumda, aşağıdakilerden hangisi görülmez?

- A) İnsan ihtiyaçlarının az olması
B) İşbölümünün gelişmemiş olması
C) Geleneklerin çok güçlü olması
D) Duygusal etkileşimin yoğun olması
E) Ben duygusunun gelişmiş olması

21. Mantiğa yaklaşılması, insanı yanılmalardan koruyacak ve yanılmaları ortaya çıkaracak bir dayanağı arama çabasına girmeye mümkündür.

Parçadaki yargıya uygun düşen mantık tanımı aşağıdakilerden hangisidir?

- A) Düşünme sanatıdır.
B) Kanıtlama bilimidir.
C) Akıl yürütmeyi temel konu alan bilimdir.
D) Doğru düşünmenin kural ve ilkelerinin bilgisidir.
E) Akıl yürütme bilimidir.

22. "Ali sınıftadır." bir önermedir. $3 > 2$ de bir önermedir. Ama, "Ah bir üniversiteyi kazanabilsem." bir önerme değildir.

Buna göre aşağıdakilerden hangisi, bir terim kümesinin önerme sayılması için gerekli bir koşul değildir?

- A) En az iki terimden oluşması
B) Yargı bildirmesi
C) Terilerinin bir bağla bağlanması
D) Duygu veya istek bildirmesi
E) Bir doğruluk değeri taşıması

23. I. Bütün çocuklar güzeldir.

II. Bazı çocuklar güzeldir.

III. Bazı öğrenciler gözlüklü değildir.

IV. Hiçbir öğrenci gözlüklü değildir.

I. ile II. önerme ve III. ile IV. önermeler arasında "altık" ilişkisi vardır.

Buna göre altık önermeler için aşağıdakilerden hangisi söylenebilir?

- A) Sadece nitelikleri farklıdır.
B) Sadece nicelikleri farklıdır.
C) Hem nicelik hem de nitelikleri farklıdır.
D) Aynı yargıda bulunurlar.
E) Farklı terimlerden oluşurlar.

24. I. Birçok türde ortaklaşa bulunan özelliklerdir.

II. Bir türün, cinsinden farkını gösteren temel özelliğidir.

III. Yalnız bir türe ait özelliklerdir.

Yukarıdaki tanımlar sırasıyla aşağıdakilerden hangisinde verilmiştir?

	I	II	III
A) İlinti	Özgünlük	Ayrım	İlinti
B) Özgünlük	Ayrım	İlinti	Özgünlük
C) İlinti	Ayrım	Özgünlük	İlinti
D) Ayrım	İlinti	Özgünlük	İlinti
E) Ayrım	Özgünlük	İlinti	İlinti

25. I. Aklın genelden genele ve genelden özele izlediği yoldur.

II. Aklın özelden genele izlediği yoldur.

III. Nesnelerin benzerliğinden hareketle biri hakkında verilen yargının, diğeri hakkında da verilmesidir.

Yukarıdaki akıl yürütme biçimleri sırasıyla hangisidir?

	I	II	III
A) Tümdengelim	Anoloji	Tümevarım	Tümevarım
B) Tümevarım	Tümdengelim	Anoloji	Anoloji
C) Tümdengelim	Tümevarım	Anoloji	Anoloji
D) Anoloji	Tümevarım	Tümdengelim	Tümdengelim
E) Anoloji	Tümdengelim	Tümevarım	Tümevarım

26. Öncülleri,

– İthalat artarsa pirinç fiyatları düşer. ($p \Rightarrow q$)

– Pirinç fiyatları azalırsa, pirinç tüketimi artar. ($q \Rightarrow r$)

önermeleri olan geçerli bir çıkarımın sonucu aşağıdakilerden hangisidir?

- A) İthalat artarsa pirinç tüketimi artar. ($p \Rightarrow r$)
B) İthalat artmazsa pirinç tüketimi artar. ($\sim p \Rightarrow r$)
C) İthalat artmazsa pirinç tüketimi artmaz. ($p \Rightarrow \sim r$)
D) Pirinç fiyatları azalırsa ithalat artar. ($q \Rightarrow p$)
E) Pirinç tüketimi artarsa ithalat artar. ($r \Rightarrow p$)

27. I. ($p \Rightarrow q$) \vee ($q \wedge r$)

II. ($p \wedge q$) \wedge \sim ($p \Leftrightarrow r$)

III. \sim [($p \Rightarrow q$) \vee ($p \vee r$)] \Rightarrow r

Yukarıda verilen önermelerin ana eklemi sırasıyla aşağıdakilerden hangisidir?

	I	II	III
A) \vee	\wedge	\Rightarrow	
B) \Leftrightarrow	\wedge	\Leftrightarrow	
C) \wedge	\vee	\Rightarrow	
D) \Rightarrow	\wedge	\Rightarrow	
E) \vee	\Rightarrow	\Leftrightarrow	

28. p yerine Y

q yerine Y

r yerine D

konulduğunda aşağıdaki önermelerden hangisi yanlış olur?

- A) ($p \Rightarrow q$) \Rightarrow r
B) ($p \vee q$) \wedge r
C) ($q \Rightarrow r$) \vee p
D) ($p \Leftrightarrow q$) \wedge r
E) $p \Rightarrow$ ($q \vee r$)

29.

		I.	II.	III.	IV.	V.
p	q	$p \vee q$	$q \wedge p$	\sim ($p \vee q$)	$p \Rightarrow q$	$(p \vee q) \vee (p \Rightarrow q)$
D	D	D	D	Y	D	D
D	Y	D	Y	Y	Y	D
Y	D	D	Y	Y	D	D
Y	Y	Y	Y	D	D	D

Yukarıdaki doğruluk tablosunda verilenlerden aşağıdakilerden hangisine ulaşamaz?

- A) I. önerme tutarlıdır.
B) II. önerme tutarlıdır.
C) III. önerme tutarsızdır.
D) IV. önerme geçersizdir.
E) V. önerme geçerlidir.


30. " Kuş uçucudur." a F

a F

önermesi Fa ile gösterilirse

"Her kuş uçucudur." önermesinin sembolik ifadesi aşağıdakilerden hangisidir?

- A) $\sim \forall x \sim Fa$ B) $\forall x Fa$ C) $\exists x \sim Fa$
D) $\sim \exists x Fa$ E) $\forall x \sim Fa$



FELSEFE GRUBU TESTİ

1. Bu testte 30 soru vardır. Bu test için verilen süre 45 dakikadır.

2. Cevaplarınızı, cevap kâğıdının Felsefe Grubu Testi için ayrılan kısmına işaretleyiniz.

1. Bugüne kadar çevre psikolojisinde ele alınan konular çevreyi fiziksel çevre ile sınırlandırmakta, çevredeki sosyal, kurumsal ve kültürel faktörleri göz ardı etmektedir. Zaten bu yeni bilim dalına yapılan eleştirilerin belli başlıları bu noktada toplanmaktadır. Ancak çevre psikologları, "Eğer çevre psikolojisi, insan yapısı çevrenin tasarlanıp planlanmasına, doğal çevrenin korunmasına, etkili çevre politikalarının oluşturulmasına; kısacası, çevre sorunlarının çözümüne katkıda bulunacaksa özellikle fiziksel çevreye odaklanmak zorundadır" görüşünü savunmaktadırlar.

Yukarıdaki parçada anlatılan durum (çevre psikologlarının fiziksel çevreye odaklanması) bilimsel araştırmada ahlaksal ilkelerden hangisine uygundur?

- A) Elde edilen bulgular, sonuçlar tarafsız olarak değerlendirilmelidir.
B) Tüm insanlığın yararı göz önünde tutulmalıdır.
C) Konuyu açıkça ortaya koymalıdır.
D) Yeterli sayıda gözlemlerde bulunmadan genel yargılara varılmamalıdır.
E) Sonuçlar kötü amaçlarla kullanılmamalıdır.

2. Nasıl ki bir puzzle (yap – boz)'ın bir parçasından bütününü anlamak mümkün değilse, insan davranışlarını anlamak için de insanın bir yönünü değil "bünyeleşmiş bütünleri" incelemelidir.

Yukarıdaki görüş aşağıdaki ekollerden hangisinin açıklaması niteliğindedir?

- A) Yapısalcılık
B) Davranışsal yaklaşım
C) Fonksiyonalizm (İşlevselcilik)
D) Bilişsel yaklaşım
E) Gestaltçılık (Bütüncülük)

3. İlk Çağ'da Zenon hareketin bir yanılısama (illüzyon) olduğunu öne sürüyordu. Örneğin okun her bir noktada duruşunu, okun hareketi olarak görmekteyiz, diyordu. Günümüz psikolojisi de hareket yanılısaması (fi fenomeni) üzerinde durmaktadır. Buna göre bir saniye içinde sinema perdesine yansıtılan en az 20 resim, hareket yanılısamasına sebep olur. Beyin parça parça görüntüleri bir bütün olarak algılar ve böylece bir yanılısama oluşur.

Parçadan yola çıkarak aşağıdakilerden hangisi söylenemez?

- A) Zenon hareketin bir yanılısama olduğunu söyler.
B) Günümüz psikolojisi hareketin varlığını reddeder.
C) Hareket yanılısaması psikolojinin bir konusudur.
D) Beyin parça parça görüntüleri bir bütün halinde algılar.
E) Sinema görüntüleri (film) hareket yanılısaması örneğidir.

4. Gerekli ölçüde uyarıcılarla karşılaşan bebeklerin çevresiyle daha ilgili olduğu, daha fazla bilgiyi özümseyebildiği, ayrıca bu bilgileri problem çözme durumlarında zekice uygulama yeteneği kazandıkları ve genetik yönden belirlenmiş entellektüel güçlerini daha iyi geliştirebildikleri görülmüştür.

Bebeklerde bu değişime yol açan temel neden aşağıdakilerden hangisidir?

- A) Bebeklerin yeterli uyarım alabilmeleri
B) Bebeklerin gerekli oranda beslenebilmeleri
C) Bebeklerin çevresel etmenlerden etkilenmeleri
D) Gerekli fiziksel olgunluk seviyesine ulaşmaları
E) Bebeklerin genetik yönden gelişmiş olmaları

5. Organizmayı faaliyete yönelten açlık, susuzluk gibi gereksinmelere "dürtü" adı verilir. Buna karşılık insana özgü olan başarıma, beğenilme gibi gereksinimler dürtü kavramıyla ifade edilmez.

Buna göre, dürtüyü diğer gereksinimlerden ayıran özellik aşağıdakilerden hangisidir?

- A) Organizmayı olumsuz etkilemesi
B) Davranışların yönünü belirlemesi
C) Organizmada gerginlik yaratması
D) İnsan davranışlarının tümünü açıklaması
E) Sadece biyolojik gereksinimlerden kaynaklanması

6. Bir köpeğe ya da insana uçmayı öğretmeyiz. Çünkü her ikisi de uçmak için gerekli yapıya sahip değildir.

Aşağıdaki hangi kavram bu örneği açıklar?

- A) Transfer
B) Olgunlaşma
C) Yaş
D) Türe özgü hazır olma
E) Motivasyon (Güdülenme)

7. İnsanlarda koşullanma yoluyla öğrenme örneklerine, sosyal yaşamda da rastlanabilir. Bir çok toplumsal önyargılar, kültürel algılayışlar, korkular ve hatta batıl inançlar böyledir.

Aşağıdakilerden hangisi buna örnek gösterilemez?

- A) "Kara kedi uğursuzluk getirir" inancı
B) Sevilen sanatçının giyim biçimini benimseme
C) Doğacak çocuğun erkek olmasının iyi olduğu kabulü
D) "Merdiven altından geçmek uğursuzluk getirir" düşüncesi
E) "Karanlıkta mezarlıktan geçme" korkusu

8. Bizde güçlü olma ya da uyma davranışı daha çok görülürken, Amerikan toplumunda bağımsızlık gereksinmesine bağlı olarak bu tür davranışlara yönelme daha ağır basmaktadır.

Bu durum davranışlar ve gereksinimleri belirlemede hangi etkenin önemini göstermektedir?

- A) Kültür
B) Öğrenim
C) Motivasyon (güdülenme)
D) Aile
E) Kişilik

9. Düşünme, nesnelerin ya da olayların yerini tutan semboller arasında bağ kurmaktır.

Buna göre aşağıdakilerden hangisi düşünmeye örnek değildir?

- A) Belirli bir olayın çocukluk günlerini çağrıştırması
B) Vücutta su oranının azalmasıyla suya olan isteğin artması
C) Bir kimsenin geleceğine ilişkin planlar yapması
D) Rüyada bazı sorunların çözülmesi
E) Okunan bir şiir kitabının eleştirilmesi

10. En yaygın heyecan biçimlerinden olan korku, çocukların bir olaya karşı gösterdikleri doğal bir tepkidir. Hiç kimse korkuyla doğmaz. Bebeklik döneminde, yüksek ses, acı duyma, yabancı bir kişi, bilinmeyen bir yer ve obje, hayvanlar korku nedeni olabilir. Çocuklar büyüdükçe korkular giderek hayali olma yönünde yoğunlaşır ve çocuk karanlığa, ölümüne ya da yaralanmaya bağlı olarak yaratılan hayali olaylardan korkmaya başlar.

Bu açıklamayla ilgili olarak aşağıdaki yargılardan hangisine ulaşılr?

- A) Korku, öğrenme ile kazanılır ve erginleşme ile birlikte değişir.
B) Korkunun ortaya çıkmasında ortamın rolü yoktur.
C) Heyecan biçimi olan korku kalıtım yoluyla aktarılmaktadır.
D) Korkuya yol açan etkenler kontrol edilemez.
E) Her insanın korkusu aynıdır.

11. Sosyolog bir toplum içinde yaşar. Yaşadığı toplumun bir parçası olan sosyolog kendi yaşadığı toplumda araştırma yapabilir. Ancak yaşadığı toplumun bir parçası olan sosyoloğun kendisini toplumdan ayırabilmesi ve incelediği konuya tarafsız olarak yaklaşabilmesi oldukça zordur.

Parçada sosyoloğun karşılaştığı hangi zorluk vurgulanmaktadır?

- A) Toplumsal değişme süreci ile ilgili olarak öngörülerde bulunma
- B) Toplumsal olaylar karşısında tarafsızlığını koruma
- C) Diğer bilim adamlarıyla işbirliği yapma
- D) Teknoloji kullanımına hakim olma
- E) Ele alacağı olaylar arasında seçim yapma

12. Bir ülkede kendi dilinin yerine yabancı dillerin kullanılması, alış veriş merkezlerinin isimlerinin yabancı kelimelerden oluşmasının bazı nedenleri vardır. Bu durum bir toplumun, başka toplumlar üzerine uyguladığı kültürel sömürü politikasının sonucu olabilir. Bunun için günümüzde daha çok kitle iletişim araçlarından yararlanılmaktadır.

Aşağıdakilerden hangisi bir toplumun diğer bir toplum üzerine uyguladığı kültürel sömürün temel amacıdır?

- A) O ülkenin kültürel gelişimine katkıda bulunmak
- B) Kültürel düzeyde ilişkileri geliştirmek
- C) O ülkenin ekonomik yönden gelişimini sağlamak
- D) O ülkeyle aynı kültürden geldiklerini ispat etmek
- E) Kendi ekonomik ve siyasi çıkarlarını gerçekleştirmek

13. Sosyolojide deney ile sosyal olayların araştırılmasının olanaksızlığına rağmen, Durkheim "intihar" adlı eserinde, intihar olgusunu bağımlı değişken, bu olguyu şu veya bu düzeyde belirlediği varsayılan boşanma, doğum oranı, din, eğitim, medeni hal gibi toplumsal verileri ise bağımsız değişken olarak ele almıştır.

Durkheim bu uygulamasıyla aşağıdakilerden hangisini göstermek istemiştir?

- A) Sosyal olaylarda doğal olayların etkisini
- B) Sosyal olaylarda siyasal olayların etkisini
- C) Sosyal olayların da incelenmesinde bir kısmıyla deney unsurlarının kullanılabilceğini
- D) Toplumsal değişimin kaçınılmazlığını
- E) Sosyal olayların zorlayıcılığını

14. Bireyin toplum içinde sahip olduğu konumlar, özellikler bireyin statülerini oluşturur. Toplumsal statülerin bir kısmı doğuştan gelirken bir kısmı da bireyin kendi isteği ve çabasıyla kazanılır.

Aşağıdakilerden hangisi bireyin sonradan kazandığı statülere örnek olarak verilebilir?

- A) Kız olmak
- B) İngiliz olmak
- C) Hristiyan olmak
- D) Fabrika işçisi olmak
- E) Soylu olmak

15. Devlet, iktidar ve iktidara etki eden güçleri ele alıp incelemeye çalışan bir sosyolog en çok aşağıdaki bilim dallarından hangisinden yararlanır?

- A) Siyaset bilim
- B) Hukuk
- C) Ekonomi (iktisat)
- D) Kültürel Antropoloji
- E) Tarih

16. Toplumsallaşma, bireyin başka bireylerle karşılıklı etkileşimi sonunda bir toplumun yapma, duyma ve düşünme biçimlerini öğrenmesi ve benimsemesidir.

Toplumsallaşma için aşağıdakilerden hangisi öncelikle gerçekleşmelidir?

- A) Bir dili konuşabilme
- B) Düşünme gücüne sahip olma
- C) Uygun bir fiziki çevre içinde olma
- D) Bir toplum içinde yaşama
- E) Uyarıcıları dikkatle izleme

17. Bir devlet okulunda müdürlük yapan ve oldukça sevilen, sayılan bir kimsenin öğrenci velilerinden rüşvet aldığı ve görevini kötüye kullandığı tespit ediliyor.

Bu olumsuz durum özellikle aşağıdakilerden hangisine neden olur?

- A) Kuralsızlık (Anomi)
- B) Rol çatışması
- C) Prestij kaybı
- D) Norm çatışması
- E) Toplumsal hareketlilik

18. Aşağıdakilerden hangisi endüstrileşmiş (gelişmiş) toplumlara özgü bir durum değildir?

- A) Eğitim düzeyi yüksektir.
- B) İnsan ve hayvan işgücü kullanım oranı düşüktür.
- C) Değişme hızı yavaştır.
- D) Ekonomik faaliyetler bilimsel ve akılcı ilkelere dayanır.
- E) Tarımda çalışan işgücü oranı azalmıştır.

19. Bir taksiye bindiğimiz zaman şoförün bizi istediğimiz adrese götürmesini, bir annenin çocuklarına iyi bakmasını, bir öğretmenin öğrencileri ile yakinen ilgilenip, onlara en iyi davranış biçimlerini öğretmesini bekleriz.

Bu açıklamadan aşağıdaki genellemelerden hangisine ulaşabiliriz?

- A) Aynı statü bir çok rol davranışını gerektirmektedir.
- B) Toplumsal davranışlarımızın çoğu insanların oluşturduğu gruplar içerisinde yer alır.
- C) Statüler rollere bağlıdır.
- D) Bireyin aynı anda birden fazla statüsü olabilir.
- E) Her rolün bireyden bazı beklentileri vardır.

20. "Ahlak kurallarına uymayanlar ayıplanır, hukuk kurallarına aykırı hareket edenler maddi biçimde cezalandırılır, din kurallarına uymayan günah işlemiş sayılır."

Burada toplumsal denetim mekanizmalarının hangi özelliği vurgulanmaktadır?

- A) Toplumun devamlılığını sağlama
- B) Toplumdan topluma değişme
- C) Farklı yaptırımlara sahip olma
- D) Aynı toplumda zamanla değişme
- E) Toplumsal ilişkilerde etkili olma

21. Canımız yanınca çıkardığımız bir ses herhangi bir duygusal tepkimizin belirtisidir. Elimizde olmadan bizim belli bir duygusal durumumuzu belirten bu ses doğal bir işaret olmakla birlikte, dilsel bir işaret değildir.

Parçada aşağıdakilerden hangisi vurgulanmıştır?

- A) Her bağlamda belli bir dilsel deyimden hangi niyet veya amaçla kullanılmış olabileceğini bilmek veya sezmenin şart olduğu
- B) Hayvanların da işaret dili kullandığı
- C) İnsanın çıkardığı her sesin dilsel bir işaret olmadığı
- D) Dilin çok karmaşık görevlerinin olduğu
- E) Dilin görevlerinden birinin de yaptırma görevi olduğu

22. "Bütün kobralar zehirlidir." ($\forall xGx$) basit önermeye, "Bütün kobraların zehirli olduğu doğru değildir." ($\sim\forall xGx$) bileşik önermeye örnektir.

Buna göre, bir önermenin bileşik olarak nitelendirilebilmesi için aşağıdakilerden hangisine sahip olması gerekir?

- A) Doğruluk değerinin olmasına
- B) Aynı terimlerden oluşmasına
- C) Niceleyiciye sahip olmasına
- D) Önerme eklemi almasına
- E) En az iki terimden oluşmasına

23. Bir tartışmada "Bazı öğrencilerimiz üniversiteye girmeye hak kazandı." önermesiyle ileri sürülen bir savı kanıtlamak için aşağıdaki yollardan hangisine başvurmak daha uygundur?

- A) Dershanelerin üniversiteye girme oranını artırdığını ispatlamak
- B) Hiçbir öğrencinin üniversiteye giremediğini söyleyerek sava karşı çıkmak
- C) Kimi öğrencilerin çeşitli nedenlerden dolayı üniversiteye giremediğini söylemek
- D) Üniversiteye girme hakkı kazanan öğrencilerden birini, söz gelimi Berkay'ı örnek göstermek
- E) Üniversite sorularının zor olduğunu ispatlamak

24. "Bütün kuşlar kanatlıdır." ile "Bazı kuşlar kanatlıdır." önermeleri arasında karşı olma ilişkisi vardır. "Bütün çocuklar yaramazdır." ile "Bazı hayvanlar kuyrukludur." önermeleri arasında karşı olma ilişkisi yoktur.

Buna göre iki önerme arasında karşı olma ilişkisinin olmamasının nedeni aşağıdakilerden hangisidir?

- A) Farklı nicelikte olma
- B) Farklı nitelikte olma
- C) Farklı terimlerden oluşma
- D) Farklı yargıda bulunma
- E) Farklı doğruluk değerlerine sahip olma

25. Bütün insanlar duygusaldır.

İnsanım.

O halde, duygusalım.

şeklindeki bir kıyas

"İnsanım. O halde duygusalım." şeklinde de düzenlenebilir.

Bu şekilde düzenlenen kıyas, aşağıdaki kıyas türlerinden hangisine örnek olur?

- A) Entimem (Eksik önermeli kıyas)
- B) İkilem (Dilemma)
- C) Koşullu kıyas
- D) Zincirleme kıyas
- E) Sorit

26. "Sokrates düşüncelerinde annesinin mesleğinden (ebelik) etkilenmiştir." tekil önermeye

"Her filozof kendinden önceki felsefi düşünce birikimlerinden etkilenir." önermesi genel önermeye örnektir.

Örneklere göre, bir önermenin genel önerme olarak nitelendirilebilmesi için aşağıdakilerden hangisine sahip olması gerekir?

- A) Niceleyiciye
- B) Yargıya
- C) Doğruluk değerine
- D) Değişkene
- E) Önerme eklemine

27. Herhangi "p" gibi basit önermenin tutarlı olması, en az bir yorumlamasının doğru olmasına, geçerli olması ise bütün yorumlamalarının doğru olmasına veya hiç yanlışlayanının olmamasına bağlıdır.

Buna göre "p" gibi basit bir önerme aşağıdaki durumlardan hangisini birlikte alamaz?

- A) Tutarsız – Geçerli
- B) Tutarsız – Geçersiz
- C) Tutarlı – Tutarsız
- D) Tutarlı – Geçerli
- E) Tutarlı – Geçersiz

28. Emre programlı çalışır ve çok soru çözerse sınavı kazanır. ($p \wedge q$) \Rightarrow r

Yukarıda verilen önerme aşağıdaki değerlerden hangisini aldığında doğru olmaz?

- A) p yanlış q yanlış r yanlış ise
- B) p doğru q doğru r doğru ise
- C) p doğru q yanlış r doğru ise
- D) p doğru q doğru r yanlış ise
- E) p yanlış q doğru r yanlış ise

29. "Tavşanın arka ayakları daha uzundur." önermesi açık önerme değildir.

"x dört ayaklı bir hayvandır." ise açık önermedir.

Buna göre, bir önermenin açık önerme olarak nitelendirilebilmesi için aşağıdakilerden hangisine sahip olması gerekir?

- A) Birden fazla terime
- B) Doğruluk değerine
- C) Önerme eklemine
- D) Değişkene
- E) Niceleyiciye


30. "Sıla çok soru çözmezse felsefe sorularını yapamaz." $\sim p \Rightarrow \sim q$

"Sıla çok soru çözüyor." p

"Sıla felsefe sorularını çözer." q

Bu çıkarımı denetlemeye yarayan çözümleyici çizelge aşağıdakilerden hangisidir?

- A) $1 \sim p \Rightarrow \sim q$
- | | | |
|---|---|---|
| | p | q |
| 1 | | |
| | | X |
- B) $1 \sim p \Rightarrow \sim q$
- | | | |
|---|---|----------|
| | p | $\sim q$ |
| 1 | | |
| | | X |
- C) $1 \sim (p \Rightarrow q)$
- | | | |
|---|----------|---|
| | $\sim p$ | q |
| 1 | | |
| | X | X |
- D) $1 \sim p \vee \sim q$
- | | | |
|---|----------|----------|
| | p | $\sim q$ |
| 1 | | |
| | $\sim p$ | X |
| | | X |
- E) $1 \sim p \wedge q$
- | | | |
|---|----------|---|
| | p | q |
| 1 | | |
| | $\sim p$ | X |
| | $\sim q$ | X |



FELSEFE GRUBU TESTİ

1. Bu testte 30 soru vardır. Bu test için verilen süre 45 dakikadır.

2. Cevaplarınızı, cevap kâğıdının Felsefe Grubu Testi için ayrılan kısmına işaretleyiniz.

1. Düşünmenin sessiz konuşma olduğu fikri Platon'a kadar dayanır. Günümüzde psikolojide de benzer şekilde düşünmeyi psikolojide içsel konuşma olarak gören psikologlar vardır. Bu görüşte olanlar bunu düşünme sürecinde dilde, dudaklarda ve boğazda bazı hareketler olmasına bağlamaktadırlar.

Parçadan hareketle günümüz psikologların Platon'un düşüncesinden daha ileri olarak ne yaptığını söyleyebiliriz?

- A) Kavramsal değişiklik yaptıklarını
- B) Görüşlerini bilimsel olarak temellendirmeye çalıştıklarını
- C) Biyolojik sonuçlardan hareket ettiklerini
- D) İnsanı daha iyi tanıdıklarını
- E) Düşünmeyi yalnızca içsel konuşma olarak gördüklerini

ESEN YAYINLARI

3. Bireyin gece karanlıkta yerde durmakta olan eldiveni fare zannetmesi psikolojik illüzyona; herhangi bir eldiven olmadığı halde yerde, duvarda veya yatakta fare varmış gibi görmesi ise halüsinasyona örnektir.

Örnekten hareketle halüsinasyon ve illüzyonun temel farkı aşağıdakilerden hangisidir?

- A) Uyarıcının olup olmaması
- B) Karanlık veya aydınlık olması
- C) Bireyin yaşı
- D) Uyku esnasında gerçekleşmesi
- E) Duyu organlarının sağlıklı olması

4. Organizma belirli bir uyarana sürekli olarak karşılıksa, bir süre sonra o uyarana tepki göstermez. Bu duruma "alışma" denir.

Buna göre, aşağıdakilerden hangisi bir alışma örneği değildir?

- A) Eve girdiğimizde burnumuza çarpan yemek kokusunun, bir kaç dakika sonra fark edilmemesi.
- B) Her sınav öncesi aynı şiddetle heyecanlanmamız ve soruları yanlış okumamız.
- C) Diskoya gittiğimizde aşırı sesin ilk dakikalarda rahatsız edip daha sonra etmemesi.
- D) Soğuk bir ortama girdiğimizde belli bir süre sonra o soğuğa tepki vermememiz.
- E) Karanlık bir odaya girdiğimizde önce hiçbir şey görmeyip daha sonra eşyaları seçebilmemiz.

5. Tekrar ya da yaşantı sonucu davranışta meydana gelen değişikliğe öğrenme denir.

Buna göre aşağıdakilerden hangisi öğrenme değildir?

- A) Örümceğin ağ örmesi
- B) Herhangi bir müzik aletini çalmak
- C) Sigara içmek
- D) Kravat bağlamak
- E) Köpekten korkmak

6. Annesinin yaptığı yemeklerden daha iyi bir yemek yapan genç kızın bu davranışı eğer diğer aile bireyleri tarafından övgüyle karşılanırsa, genç kızın yemek yapma davranışını tekrarlama eğilimi gösterdiği görülür.

Burada davranışın tekrarlanmasını ve güçlendirilmesini sağlamaya ne ad verilir?

- A) Taklit
- B) Deneme
- C) Öğrenme
- D) Pekiştirme
- E) Özdeşleştirme

7. Bir konuyu öğrendikten hemen sonra ona benzer bir başka konuyu çalışmak; öğrenmeden hemen sonra başka konularla ve beyin yorucu faaliyetler ile ilgilenmek öğrenmeyi olumsuz etkilemektedir. Öğrenme sonrası dinlenme ve uyku ise öğrenilenlerin unutulmasını azaltmaktadır.

Yukarıdaki parçada öğrenme ile ilgili hangi unsur ifade edilmiştir?

- A) Aralıklı öğrenme
- B) Parça öğrenme
- C) Öğrenme sonu faaliyetleri
- D) Programlı öğrenme
- E) Bilişsel öğrenme

8. I. Karşı cinse ilgi duyma
II. Ağaç kovuklarına, mağaralara sığınma
III. Avlanarak karnını doyurma
IV. Yırtıcı hayvanlardan, doğa felaketlerinden kaçma
V. İhtiyaçlar için araç – gereç yapıp kullanma

Yukarıdakilerden hangisi, zekanın daha çok etkili olduğu insan davranışına örnektir?

- A) I
- B) II
- C) III
- D) IV
- E) V

9. Paranoyak bir hastada daha çok, sanrılar görülür. Hasta kendisinin ardından biri geldiğini; aslında var olmayan birinin kendisini öldüreceğini ya da sürekli olarak kendisine komplo kurulduğunu ileri sürmektedir. Ancak paranoyak hastanın kişiliğinin bütünlüğü bozulmamıştır. Sanrılarına aykırı olmadıkça davranışları normaldir.

Parçadan aşağıdaki yargılardan hangisine ulaşılamaz?

- A) Paranoya, olmayan bir şeyi varmış gibi algılamayla ilgilidir.
- B) Hayal ürünü izlenme paranoyanın belirtisi olabilir.
- C) Düşünme ve davranışlarda gerileme görülür.
- D) Normal yaşantısında sanrıları dışında davranış bozukluğu görülmez.
- E) Hastanın kişiliğinin bütünlüğü bozulmamıştır.

10. "Sınavı kazanamayan adayın puan kartını yırtması", "Telefonda kötü bir haber alan kişinin telefon ahizesini yere fırlatması" gibi davranışlar sergileyen insanların, kullandığı savunma mekanizması aşağıdakilerden hangisidir?

- A) Bir alandaki eksikliği başka bir alandaki başarıyla dengeleme
- B) Hataların sorumluluğunu başkalarına atarak kurtulma
- C) Kabul edilebilir gerçekler bularak, acı verici gerçekleri inkâr etme.
- D) Hoş olmayan yaşantıları hatırlamaktan kaçma
- E) Tepkisini başka nesnelere yöneltme

ESEN YAYINLARI

11. Politik bir sistem olarak demokrasiyi benimseyen bir ülkede, diğer kurumlar demokrasinin yanlışlığını savunuyorlar ve desteklemiyorlarsa kurumlar arası çatışmalar başlar ve toplumsal düzen bozulur.

Bu parçada toplumsal kurumların hangi özelliğinin önemi vurgulanmaktadır?

- A) Her toplumsal kurum değişmeye karşı dirençlidir.
- B) Toplumsal kurumlar birbirine bağlı olarak zaman içinde değişirler.
- C) Kurumlar arasında uyum ve bağlılık olmalıdır.
- D) Her kurum belirli ihtiyaçları karşılamak için vardır.
- E) Kurumların herhangi birinde gerçekleşen değişim diğerlerini de etkiler.

12. "Nerede bir toplum varsa, orada hukuk vardır."

Bu iddiadan hareketle, aşağıdaki genellemelerden hangisine ulaşılabilir?

- A) İnsan haklarını koruyan kuralların hukuk olduğu
- B) Kuralların tüm toplumlarda var olduğu
- C) Toplumsal ilişkileri düzenleyen kuralların gelişmiş toplumlarda var olduğu
- D) Kuralların yasa koyucularla oluşturulmuş olduğu
- E) Uluslararası sorunları çözümlen kurallar olduğu

13. Her toplumda birey davranışları sayısız tabularla kısıtlanmıştır. Örneğin; Bengal'deki bazı ilkel gruplarda, oturma, kalkma, yemek yeme gibi günlük eylemler bile kurallarla sınırlandırılmıştır. Dolayısıyla birey toplumdaki ayrı bir bütün olarak var olamaz.

Bu parçadan aşağıdaki yargılardan hangisine ulaşamaz?

- A) Birey davranışları normlarla denetlenmektedir.
- B) Sosyal kontrol nedeniyle bireyler baskı altındadır.
- C) Toplumsal denetim ilkel toplumlarda daha yoğundur.
- D) Bireylerin yaşantıları sosyal normlardan etkilenir.
- E) Toplumsal denetim kültürün değişimini engeller.

14. Aile, zamanla değişmiş olmasına rağmen, toplum hayatında vazgeçilemeyen bir sosyal gruptur. Sanayileşmeye ve şehirleşmeye paralel olarak gelişen ve genişleyen sosyal organizasyonlar bile ailenin varlığını ortadan kaldıramamaktadır.

Parçadan yola çıkarak aşağıdakilerden hangisi söylenemez?

- A) Aile, devamlılık özelliği taşıyan bir gruptur.
- B) Ailenin yapısında zamanla değişimler olmaktadır.
- C) Aile, toplumsal düzenin sürekliliğini sağlar.
- D) Aile, bireylerin özgür gelişimini engelleyen bir gruptur.
- E) Aile toplumun vazgeçilmez bir sosyal birliğidir.

15. İnsanoğlu kültür sayesinde içinde yaşadığı çevreye uyum sağlar. Kültür genetik bir faktör değildir. Kalıtsal olarak babadan oğula geçmez. Hiçbir gen bize neyi yiyip, neye ibadet edeceğimizi, nasıl ev kuracağımızı bildirmez.

Burada kültürün hangi özelliği üzerinde durulmaktadır?

- A) Kültürün aktarıcısı dildir.
- B) Kültür öğrenilir.
- C) Her toplumun kültürü kendine özgüdür.
- D) Kültür dinamiktir.
- E) Kültür toplumun varlığını sürdürür.

16. Tütün üretimi yapılan yerlerde, tütün sadece bir geçim aracı değildir. Aynı zamanda bu bölgelerde tütün genç kızların kınasıdır ve tütün üzerine türküler yakılır. Evlenme zamanları, şenlikler hep tütün hasatı sonrasında yapılır. Törenlerdeki danslar da tütün üretim aşamalarını temsil eder.

Bu durum aşağıdakilerden hangisi için uygun bir örnektir?

- A) Gelenekler toplumdan topluma farklılaşır.
- B) Tütün üretimi toplumların ekonomik yapılarında önemlidir.
- C) Toplumlar ihtiyaçlarını giderecek üretimi yaparlar.
- D) Benzer üretim toplumlarda farklı etkileşimler oluşturabilir.
- E) Toplumlarda üretilen mal ve bu malın niteliği sosyal yaşamı etkiler.

17. "Sosyal değişim toplumsal yapıda var olan bir durumdan bir başka duruma geçiştir. Toplumsal değişim ilerleme yönünde olabileceği gibi gerileme yönünde de olabilir."

Aşağıdakilerden hangisi sosyal değişim ile ilgili diğerlerinden farklı bir örnektir?

- A) Teokratik yönetim biçiminden demokrasiye geçiş.
- B) Geniş aile yapısından çekirdek aileye geçiş
- C) Tarıma dayalı ekonomiden sanayileşmeye geçiş
- D) Laik eğitim modelinden teokratik eğitim modeline geçiş
- E) Eski devlet anlayışının yerini çağdaş devlet anlayışına bırakması

18. Toplumda bir davranışın sapma olarak tanımlanabilmesi için, onunla ilgili norm üzerinde çoğu bireyin fikir birliğine varması gerekir.

Buna göre bir davranışın normal ya da anormal olduğunu belirleyen ölçüt aşağıdakilerden hangisidir?

- A) Davranışın sürekli olması
- B) Çoğunluğun sahip olduğu düşünce
- C) Diğer toplumlarda da bu tür durumların olma olasılığı
- D) Davranışın başkalarına zarar vermesi
- E) Hukuk kurallarınca suç sayılması

19. Toplumsal yapı ve olayları inceleyen bir sosyolog günümüzdeki herhangi bir toplumsal olayı araştırırken geçmişten bağımsız hareket edemez.

Buna göre aşağıdakilerden hangisi öncelikle vurgulanmaktadır?

- A) Toplum dinamik bir yapıya sahiptir.
- B) Araştırmacı sadece günümüz toplumlarını incelemelidir.
- C) Toplumsal olaylar birbirinden bağımsız olamaz.
- D) Toplumsal olaylar çok nedenlidir.
- E) Sosyolojinin inceleme alanı geçmiş dönemler olmalıdır.

20. Aile toplumun en küçük ve en temel birimidir. Billenen çoğu toplumlarda aileye özel önem verilir.

Aşağıdakilerden hangisi ailenin temel işlevlerinden değildir?

- A) İnsanın toplumsal ve kültürel bir varlık olmasını sağlar.
- B) Toplumsal değişmeyi hızlandırır.
- C) Kültürün yeni kuşaklara aktarımını sağlar.
- D) Toplumun devamını sağlar.
- E) Toplumun değerlerini bireylere benimsetir.

21. Bir düşünürün göre mantık, ilmin aleti ya da biçimi, ilimlere giriştir. Hatta her ilim kendisine muhtaç olduğu için mantık ilimlerin ilmidir.

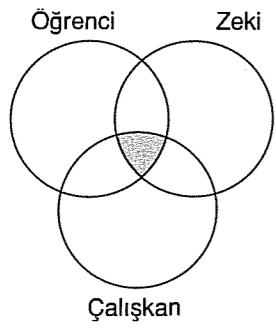
Parçadan mantık ile ilgili aşağıdaki sonuçlardan hangisine ulaşılır?

- A) Mantık doğru düşünmenin kurallarını araştırır.
- B) Mantık gerçek bilgiye ulaşmada bir araçtır.
- C) Mantığın temel konusu doğru düşünen akıldır.
- D) Mantık bilgilerini deney ile elde eder.
- E) Mantıklı düşünmek mantık bilimini bilmeye bağlıdır.

22. "Hiçbir üçgenin iç açıları toplamı 200 derece değildir." önermesi nicelik ve nitelik bakımından **ne tür bir önermedir?**

- A) Tümel olumlu
- B) Tümel olumsuz
- C) Tikel olumlu
- D) Tikel olumsuz
- E) Tekil olumlu

23.



Yukarıdaki diyagramda taralı alanı ifade eden önerme aşağıdakilerden hangisidir?

- A) Bazı öğrenciler hem zeki hem de çalışkandır.
 B) Bazı öğrenciler çalışkan değildir.
 C) Bütün çalışkan olmayan öğrenciler zeki değildir.
 D) Bütün zeki öğrenciler çalışkandır.
 E) Çalışkan olmayan öğrenciler vardır.

24. I. Bütün çocuklar şeker yemekten hoşlanır.
 II. Hiçbir çocuk şeker yemekten hoşlanmaz.

Birinci önerme ile ikinci önerme hangi yönden farklıdır?

- A) Yargı sayısı bakımından
 B) Nicelik bakımından
 C) Nitelik bakımından
 D) Terim sayıları bakımından
 E) Hem nicelik hem de nitelik bakımından

25. Aşağıdakilerden hangisi kıyas kurallarına göre yanlıştır?

I. Öncül	II. Öncül	Sonuç
A) Tümel olumlu	Tümel olumlu	Tümel olumlu
B) Tümel olumlu	Tikel olumlu	Tikel olumlu
C) Tikel olumlu	Tikel olumlu	Tikel olumlu
D) Tümel olumlu	Tikel olumsuz	Tikel olumsuz
E) Tümel olumsuz	Tümel olumsuz	Sonuç yok

26. Kuraklık su sıkıntısını etkiler (p)
 İsrاف su sıkıntısını etkiler (q)

Buna göre, aşağıdaki önermelerden hangisi (p ∧ q) biçiminde sembolleştirilir?

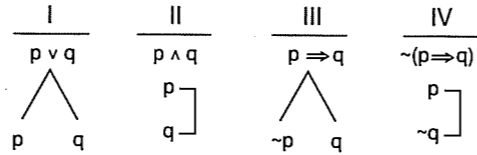
- A) Kuraklığın ve israfın su sıkıntısını etkilediği doğru değildir.
 B) Kuraklık ve israf su sıkıntısını etkiler.
 C) Kuraklık ve israf vardır.
 D) Kuraklık su sıkıntısını etkilemez, fakat israf su sıkıntısını etkiler.
 E) Kuraklık ve israf olursa su sıkıntısı olur.

27. "Havanın aydınlanması (a) için güneşin doğması (d) gerekli ve yeterli koşuldur.

Bu örneğe göre hangi durumda "d", "a" için gerekli ve yeterli koşuldur?

- A) "d" olduğunda "a" da oluyor ve "d" olmadıkça "a" da olmuyorsa
 B) "a" olduğunda "d" de oluyor ve "a" olmadığında "d" olabiliyorsa
 C) "d" olmadıkça "a" olabiliyor ve "a" olmadıkça "d" olabiliyorsa
 D) "a" olmadıkça "d" olmuyor ve "d" olduğunda "a" olmayabiliyorsa
 E) "d" olduğunda "a" olmayabiliyorsa ve "a" olmadıkça "d" de olmuyorsa

28.



Yukarıda dört ayrı önermenin çözümleyici çizelgesi verilmiştir.

Buna göre, bu çözümlerlerin doğru yapılar yapılmadığına ilişkin aşağıdakilerden hangisi söylenebilir?

I	II	III	IV
A) Doğru	Yanlış	Yanlış	Doğru
B) Doğru	Doğru	Doğru	Doğru
C) Yanlış	Yanlış	Yanlış	Yanlış
D) Yanlış	Yanlış	Doğru	Doğru
E) Doğru	Doğru	Yanlış	Doğru

29. I. $A \Leftrightarrow B$ önermesi geçerli ise
 II. $\sim(A \Leftrightarrow B)$ önermesi tutarsız ise
 III. $A \wedge B$ önermesi geçerli ise
 IV. $A \Rightarrow B$ önermesi geçersiz ise
 V. $A \vee B$ önermesi tutarsız ise


Yukarıdakilerden hangileri A ile B önermesinin eş değerlik denetleme yoludur?

- A) I ve II B) III ve IV C) IV ve V
 D) II ve IV E) III ve V

30. I. $\sim \forall x \sim Fx \equiv \sim \exists x Fx$
 II. $\sim \forall x Gx \equiv \exists x \sim Gx$
 III. $\sim \exists x \sim Tx \equiv \forall x Tx$
 IV. $\sim \exists x Kx \equiv \sim \forall x \sim Kx$

Yukarıda verilen eşdeğerliliklerden hangileri doğrudur?

- A) I ve II B) II ve III C) III ve IV
 D) I ve III E) II ve IV



FELSEFE GRUBU TESTİ

1. Bu testte 30 soru vardır. Bu test için verilen süre 45 dakikadır.
2. Cevaplarınızı, cevap kâğıdının Felsefe Grubu Testi için ayrılan kısmına işaretleyiniz.

1. Psikolog, psikoloji bölümünde dört yıllık fakülte eğitimi almış ve psikoterapi yöntemleriyle kliniklerde bireyin uyum bozukluklarının teşhis ve tedavisinde rol alan kişi ; psikiyatrist ise tıp eğitimi almış, uzmanlık alanı olarak psikiyatriyi seçmiş, ilaç yazabilen bir doktordur.

Yukarıdaki parçadan hareketle aşağıdakilerden hangisi söylenemez?

- A) Psikolog ilaç yazamaz.
B) Psikiyatristler psikoloji eğitiminden sonra 2 yıllık uzmanlık eğitimi alır.
C) Psikologlar psikoterapik teknikler kullanır.
D) Psikologlar bireyin uyum bozukluklarının tanımlanmasına çalışırlar.
E) Psikiyatristler ilaçla tedavi edebilir.

ESEN YAYINLARI



2. Gözlemcinin gözlenen olayların oluş biçimine katıldığı, gözlemin koşullarını belirlediği, denetimli gözlem olarak da adlandırılan gözlem türüdür.

Yukarıda açıklanan gözlem biçimi aşağıdakilerden hangisidir?

- A) Gündümsüz gözlem B) İç gözlem
C) Doğal gözlem D) Aralıklı gözlem
E) Aktif gözlem

3. Uyarımların duyu organlarına ulaşması ve sinirleri etkilemesiyle duyum oluşurken algı daha üst bir süreçtir. Algı ile beyin devreye girer ve duyum anlam kazanır.

Aşağıdakilerden hangisinde algılama söz konusudur?

- A) Sesin iç kulaktaki sinir uçlarına ulaşması
B) Yiyeceğin acılığının hissedilmesi
C) Işığın gözü etkilemesi
D) Duyulan sesin tren sesi olduğunun anlaşılması
E) Mutfaktan gelen kokunun hissedilmesi

2

Diğer sayfaya geçiniz.

4. Çocuklukta geçirilen çeşitli yoksunluk dönemlerinin beyin yapısına olan etkisi araştırılırken şempanzeler üzerinde de deneyler yapılır. Deneylerde şempanzeler, görsel uyarıcılardan yoksun bırakılarak büyütülürler. Sonuçta şempanzelerin görme merkezlerinde, hem işlev (fonksiyon) hem de yapı düzeyinde görmeyi güçleştiren ve bozan olumsuzluklara rastlanır.

Aşağıdaki yargılardan hangisi bu araştırmanın zorunlu bir sonucudur?

- A) Beyin farklı yaşlarda farklı oranlarda gelişir.
B) Geçmişteki yetersiz uyarılma, ileride algılamayı güçleştirir.
C) Bireylerin uyarıcı yoksunluğuna dayanıklılıkları aynı değildir.
D) Yetersiz ilgi çocuğun kendisine olan güvenini azaltır.
E) Aşırı uyarılma algılamayı önler.

5. "Bir bireyin atomun yapısı, radyasyonun etkisi ve nükleer santraller konusunda edinmiş olduğu bilgiler doğrultusunda bu santrallerin ülke insanların sağlık konusundaki çıkarlarına ters düşeceği inancına sahip olması..."

Parçada aşağıdaki kavram çiftlerinden hangileri arasındaki ilişki örneklendirilmiştir?

- A) Yetenek – Öğrenme
B) Algı – Geçmiş Yaşantı
C) Öğrenme – Tutum
D) Davranış – Beklenti
E) Transfer (aktarım) – öğrenme

6. Örümcekler ağlarını hep aynı biçimde ördükleri halde, insanlar evlerini değişik biçimlerde yapmaktadırlar.

Yukarıdaki örnekte hangi özellikler arasındaki fark vurgulanmaktadır?

- A) Zeka – Kişilik B) Kültür – Kalıtım
C) Kültür farklılığı D) İçgüdü – Zeka
E) İçdürtü – içgüdü

7. "Yapılan bir araştırmada çok fazla televizyon, özellikle de müzik klipleri izleyen gençlerin alkole alışması olasılığının yüksek olduğu ileri sürülüyor. Bunun sebebinin de; kliplerde genellikle; çekici, başarılı, toplum içinde sözü geçen, yaratıcı kişilerin alkol alıyormuş gibi gösterilmesi olduğu söyleniyor."

Bu durum aşağıdakilerden hangisi için örnek oluşturur?

- A) Model alarak öğrenme
B) Transfer (Aktarım)
C) Koşullanma
D) Sezgisel öğrenme
E) Olumlu pekiştirme

8. İnsanların karşısındaki diğer insanlardan neler beklediğinin farkında olması ve buna uygun davranması saygı ve sevgiyi aşınmış bir kavram olmaktan çıkartır ve ilişkileri daha sıcak ve anlamlı kılar.

Aşağıdaki hangi davranış diğer insanlarla sağlıklı ilişki kurmamızı engeller?

- A) Karşımızdakinin yansıttığı kişiliği kabul ettiğimizde
B) Karşımızdakini iyi dinlediğimizde
C) Karşımızdakini değiştirmeye çalıştığımızda
D) Karşımızdakine doğru bilgi verdiğimizde
E) Karşımızdakine seçim hakkı tanıdığımızda.

9. Bandura; 1973 yılında üç grup çocuk üzerinde bir araştırma yapıyor. Bir grup çocuğa saldırgan davranışlar içeren bir film seyrettiriyor. Daha sonra filmde saldırgan davranışları izleyen çocukların birbirlerine tekme ve tokat atarak saldırgan davranışlarda bulduklarını gözlemliyor.

Bu deneyde saldırganlık davranışının hangi özelliği vurgulanmak istenmiştir?

- A) Saldırganlık davranışında toplumlar ve kültürler arası farklar vardır.
B) Saldırganlık davranışı, insanın doğuştan getirdiği bir eğilimdir.
C) Saldırganlık davranışı, canlının çevresindeki tehlikeleri önlemekte kullandığı bir araçtır.
D) Saldırganlık davranışı, ifade edilmediğinde belirli bir tür enerji olarak içimizde kalır.
E) Saldırganlık davranışı, çocuğun çevresinde gördüğünü taklit etmesi ile oluşan toplumsal bir öğrenmedir.

ESEN YAYINLARI



10. Fiziksel görünümü çekici olmayan bir kişi akademik çalışmalarıyla dikkati çekerek güven tazelemektedir.

Bu kişinin sergilediği savunma mekanizması aşağıdakilerden hangisidir?

- A) Eksikliğini başka bir alanda giderme
B) Eksikliğini görmezden gelme
C) Eksikliğini nedenini başkasında arama
D) Eksikliğini diğer bireylere de yayma
E) Doyurulamamış güdülerini toplumun beğeneceği bir alanda doyurma

3

Diğer sayfaya geçiniz.

11. Toplumların tarih içinde geçirdiği aşamalara baktığımızda, üretimin tarıma dayandığı veya emek yoğun üretimin olduğu toplumlarda demokrasinin değerinin, üretimin daha çok makine yoğun veya sanayiye dayandığı toplumlardan daha az olduğunu görürüz.

Demokrasiye bir toplumsal değer olarak baktığımızda aşağıdakilerden hangisi parçada anlatılanların bir sonucu olur?

- A) Toplumsal değerler aynı toplumda zamanla değişebilir.
- B) Toplumsal değerler, bir toplumun geçirdiği maddi koşullara göre oluşur.
- C) Toplumsal değerler toplumsal birliği sağlar.
- D) Bir toplumda bireyler arası ilişkiler toplumsal değerlere göre şekillenir.
- E) Toplumsal değerler bireyler arası dayanışmayı güçlendirir.

ESEN YAYINLARI

13. Toplumun devamını sağlayan unsurlardan biri de manevi değerlerdir. Manevi değerler etrafında bütünleşmeyle milli birlik sağlanır. Toplumsal çözümlenin nedenlerinden biri de milli birlik bilincinin zayıflamasıdır.

Bir toplumda aşağıdakilerden hangisi milli birlik bilincinin zayıflama nedenlerinden değildir?

- A) Dilin geliştirilmeyip yabancı dillerin olumsuz etkisi altına girmesi
- B) Toplumsal kurumların toplumsal değişmelere ayak uyduramaması
- C) Çoğulcu demokratik toplumsal ilişkilerin geliştirilmesi
- D) Aydınların ve sanatçıların toplumsal sorunlara duyarsız kalması
- E) Gelir dağılımının adaletli gerçekleşmemesi

14. Durkheim "Yurttaşlarımla Fransızca konuşmak zorunda olmadığım gibi, geçerlikteki parayı da kullanmak zorunda değilim ama başka türlü de davranmam. Aslında bu kuralların dışına çıkma gücü gösterip onları başarıyla ihlâl etsem bile, bunu hiçbir zaman onlara karşı mücadele etmeden yapamam" derken sosyal oluşumlarda özellikle neyin önemini belirtmiştir?

- A) Toplum tarafından belirlenen kuralların gereksizliğini
- B) İnsanların istemediği davranışları yapmak zorunda olmadığını
- C) Toplumda yenilik için mücadele eden insanların sürekli olarak başarısızlığa uğradığını
- D) Toplum içinde, geçerliliğini yitirmiş kurallara karşı kayıtsız kalmanın gerekliliğini
- E) Bireylerin direnseler bile toplumun davranış kurallarına uymak zorunda kaldıklarını

15. Atatürk: "Din, daima siyaset aracı, çıkar aracı ve baskı aracı yapılmıştır. Din, Allah ile kul arasındaki bağıdır. Biz dine saygı gösteririz; fakat biz din işlerini devlet işlerine karıştırmamaya çalışıyoruz." demiştir.

Buna göre, aşağıdakilerden hangisi bu açıklama ile bağdaşmaz?

- A) Din, her toplumda gerekli bir kurumdur.
- B) Çağlar boyunca yöneticiler, dini siyasette kullanarak insanların inançlarını sömürmüşlerdir.
- C) Devlet gerektiğinde, dini inançlara karışmalıdır.
- D) Din bir vicdan olayıdır, inançlar insan ile Tanrı arasındadır.
- E) Din, devlet işlerine karıştığında, Tanrı ile kul arasındaki bağa da karışılmış olur.

16. Günümüzde kentsel yaşamın en belirgin sonuçlarından biri de insanların sürekli olarak yığınlarda bulunmaları hatta giderek yığınlarda yaşamalarıdır.

Buna göre, günümüzde bireyler arası ilişkilerde aşağıdakilerden hangisinin gerçekleşmesi beğlenmez?

- A) İlişkinin duygusal boyutunun azalması
- B) İlişkinin gelenek ve göreneklerce düzenlenmesi
- C) İlişki süresinin kısalması
- D) Toplumsal dayanışmanın zayıflaması
- E) Çıkarıcı yaklaşımların ilişkilere egemen olması

17. Üzerinde uyuduğumuz yatak Ortadoğu'da icat edilmiş, Kuzey Avrupa'da değişikliğe uğradıktan sonra dünyaya yayılmıştır. Yataklar üzerine serilen pamuklu çarşafar Hindistan'dan, ketenler Ortadoğu'dan ipekler ise Çin'den gelmiştir.

Bu durum aşağıdakilerden hangisi ile açıklanır?

- A) Kültürel ilerleme
- B) Kültürleşme
- C) Kültürel yozlaşma
- D) Kültürlenme
- E) Zorla kültürleme

18. Her ülkenin kendisine özgü bayrağı vardır. Bayrak hammadde olarak kumaş veya naylon olabilir. Bayrağı değerli kılan, neden üretildiği veya maddi yapısı değil, bağımsızlığın simgesi olması yönüyle manevi değerinin olmasıdır.

Bayrağın bu özelliği toplumsal değerlerle ilgili aşağıdaki yargılardan hangisini destekler?

- A) Toplumsal değerler toplumsal birliği sağlar.
- B) Toplumsal değerler nedeniyle maddi varlıklar manevi bir anlam kazanır.
- C) Toplumsal değerler ile toplumsal yapı arasında ilişki vardır.
- D) Toplumsal değerler aynı toplumda zamanla değişebilir.
- E) Toplumsal değerler toplumsal dayanışmayı artırır.

19. Bireylerin, grupların, ailelerin toplumda sahip oldukları bir statüden başka bir statüye geçişlerine toplumsal hareketlilik denir. Toplumsal hareketlilik demokratik yapıya sahip toplumlarda daha kolaydır.

Bu kolaylığın gerekçesi aşağıdakilerden hangisidir?

- A) Statülerin daha çok doğumla belirlenmiş olması
- B) Bireylerin aynı eğitim seviyesine sahip olmaları
- C) Statüler arası geçişin serbest bırakılması
- D) Bireyin dünya görüşünün farklılaşması
- E) Okur – yazar oranının artması

20. Göç olgusunda, kişilerin içinde yaşadığı şartların elverişsizliği nedeniyle, eski yaşadığı bölgeden ayrılmalarının nedenleri, itici faktörlerdir.

Aşağıdakilerden hangisi göçe neden olan bu faktörlerden sayılamaz?

- A) Sağlık, eğitim ve diğer imkânların artması
- B) Geleneklerden uzaklaşma isteği
- C) Toprağın fakirliği
- D) Sınırlı sosyal hareketlilik
- E) Sınırlı iş olanakları

21. Mantık, düşüncenin kendisi ile olan uygunluğunu araştırır. Onun olaylara bağlı olmadan, açık, kesinlik ve evrensellik özelliğine sahip olması, başka bilimlerden bağımsız olmasını sağlar. Ayrıca, mantığın diğer bilim alanlarında bir ölçü aleti olarak kullanılması, bilimlerin kesinliklerini mantık kurallarından almaları, bu ilkelerin üstün değerini göstermektedir.

Yukarıdaki parçada mantık ile ilgili hangi nokta üzerinde durulmuştur?

- A) Mantık bilmenin faydaları
- B) Mantığın konuları
- C) Mantığın diğer bilimlerle ilişkisi
- D) Mantığın felsefeden farkı
- E) Mantığın amacı

22. Bu ilkeye göre, bir akıl yürütmeye her kavram ve önerme kendisiyle aynı olmalı, kendisinden başka bir şey olmamalıdır.

Aşağıdaki ifadelerden hangisi parçadaki ilkeyle ilgilidir?

- A) Bir şey ne ise odur. Herşey kendisinin aynısıdır.
- B) Birşey aynı zamanda hem kendisi hem de başkası olamaz.
- C) Her olayın bir sebebi vardır.
- D) Bir şey ya kendisidir ya da kendisi olmayandır.
- E) Hiçbir düşünce kendisiyle çelişen bir düşünceyle aynı doğruluk değeri alamaz.

23. "ve, ile, öyleyse" gibi kelimeler terim değildir. "silgi, insan, genç" gibi kelimeler terimdir.

Buna göre, bir kelimenin terim olarak nitelendirilmesi aşağıdaki koşullardan hangisine bağlıdır?

- A) Tek başına bir anlam ifade etmesine
- B) Soyut olmasına
- C) Somut olmasına
- D) Bir cümle içinde kullanılabilmesine
- E) Bir özellik bildirmesine

24. I. "Hiçbir üniversite mezunu sigara kullanmaz."
II. "Hiçbir bekar evli değildir."
II. önermenin I. önermeden farkı aşağıdakilerden hangisidir?

- A) Yargı bildirmesi
- B) En az iki terimden oluşması
- C) Terimleri bir birine bağlayan bağın olması
- D) Doğruluk değeri taşıması
- E) Doğru olup olmadığının gözlem ve deneye başvurmadan belirlenebilmesi

25. Bütün leylekler göçmendir.
Bazı uzun gagalılar leylektir.

Yukarıda verilen geçerli kıyasın sonuç önermesi aşağıdakilerden hangisidir?

- A) Her leylek göçmendir.
- B) Bazı leylekler göçmendir.
- C) Bazı uzun gagalılar göçmendir.
- D) Bütün uzun gagalılar göçmendir.
- E) Hiçbir leylek göçmen değildir.

26. Sembolik mantıkta, herhangi bir önerme eklemi almayan önermeye basit önerme denir.

Buna göre, aşağıdaki matematiksel ifadelerden hangisi basit önerme değildir?

- A) $(3 + 2) - 2 = 3$
- B) $5 = 5$
- C) $6 > 2$
- D) 2 tek sayı değildir.
- E) 3 tek sayıdır.

27. "Bu yaz kuraklık ve israf olursa su sıkıntısı çekilir."

önermesinin sembolik mantıktaki ifadesi aşağıdakilerden hangisidir?

- A) $(p \Rightarrow q) \Rightarrow r$
- B) $(p \wedge q) \wedge r$
- C) $(p \wedge q) \Leftrightarrow r$
- D) $(p \wedge q) \Rightarrow r$
- E) $(p \Rightarrow q) \Leftrightarrow \neg r$

28. Çözümleyici çizelge ile denetlemede "p" gibi bir önermenin denetlemesiyle ilgili aşağıdaki ifadelerden hangisi doğrudur?

- A) p önermesinin tutarlı olması bütün yollarının kapalı olmasına bağlıdır.
- B) p önermesinin geçerli olması en az bir yolunun açık olmasına bağlıdır.
- C) p önermesinin geçerli olması $\neg p$ önermesinin bütün yollarının kapalı olmasına bağlıdır.
- D) p önermesinin tutarsız olması bütün yollarının kapalı olmasına bağlıdır.
- E) p önermesinin geçersiz olması $\neg p$ önermesinin bütün yollarının kapalı olmasına bağlıdır.


29. $5 + 2 = 7$ o halde $7 = 5 + 2$ geçerli bir çıkarımdır.
 $6 > 6, 7 > 5$ o halde $6 > 7$ geçersiz bir çıkarımdır.

Buna göre, geçerli bir çıkarım için aşağıdaki önermelerden hangisi doğrudur?

- A) Öncüller yanlışsa sonuç doğru olmalıdır.
- B) Öncüller doğruysa sonuç da doğru olmalıdır.
- C) Öncüller doğruysa sonuç yanlış olmalıdır.
- D) Öncüller doğru olmalıdır.
- E) Öncüller doğruysa sonuç doğru olmayabilir.

30. "Her x için x çift sayıdır." Çx gibi bir açık önermenin doğru olması için verilecek evrensel küme aşağıdakilerden hangisi olmalıdır?

- A) $E = \{1, 2, 3, 4\}$
- B) $E = \{1, 3, 5, 7\}$
- C) $E = \{1, 3, 6, 8\}$
- D) $E = \{2, 4, 6, 8\}$
- E) $E = \{2, 4, 6, 7\}$



FELSEFE GRUBU TESTİ

1. Bu testte 30 soru vardır. Bu test için verilen süre 45 dakikadır.

2. Cevaplarınızı, cevap kâğıdının Felsefe Grubu Testi için ayrılan kısmına işaretleyiniz.

1. İnsanlar geçmişte de ruhsal problemlerin çözümünü ilgilendirmişlerdir. Eski Yunan'dan başlayarak günümüze kadar uzanan ve bellek, öğrenme, motivasyon, algı ve rüyalar gibi insan doğasına ait konulara ait sorgular psikolojide geçmiş ile şimdiki zaman arasındaki etkileşimin önemli bir göstergesidir. Ancak psikolojinin modern bir bilim olması henüz bir asırlık dönemi yeni geride bırakmıştır.
- Bu durum aşağıdaki hangi sözle ifade edilebilir?**

- A) Psikoloji Eski Yunan'la modern bir bilim haline gelmiştir.
 B) İnsanoğlu ruhsal problemlere yeni yeni ilgi duymaya başlamıştır.
 C) Psikoloji uzun bir geçmişe; fakat kısa bir tarihe sahiptir.
 D) Rüyalar psikolojinin ilk ele aldığı konudur.
 E) İlk psikolojik yaklaşım ve metotlar Eski Yunan'da kullanılmıştır.

ESEN YAYINLARI

2. Bir insanın su içmesi bir davranıştır. Ancak davranışçı yaklaşıma göre; insanın hangi bardaktan suyu içeceğini düşünmesi davranış değildir.

Bu ekole göre davranış tanımlanırken aşağıdakilerden hangisinin temel ölçüt olarak alındığı söylenebilir?

- A) İnsana özgü olması
 B) Sonradan öğrenilmesi
 C) Gözlenebilmesi
 D) Duyusal olması
 E) Eğitimle değişebilmesi

3. Bir markete giren kişiler arasında aç olan birinin davranışı ile susuzluk çeken birinin davranışı farklıdır. Biri yiyeceklere öteki ise içeceklerle yönelmektedir.

Davranışlar arasında görülen bu fark güdülenmiş davranışların hangi özelliğini göstermektedir?

- A) Amaçlılık B) Seçicilik C) Bağımlılık
 D) Kararlılık E) Yoruculuk

4. Bazı atasözlerimiz psikolojik verileri yansıtır.

Aşağıdaki atasözlerinden hangisi geçmiş yaşantıların algı üzerindeki etkisine örnektir?

- A) Üzüm üzüm baka baka kararır.
 B) Körle yatan şaşşı kalkar.
 C) Sütten ağzı yanar yoğurdu üfleyerek yer.
 D) Dervişin fikri neyse, zikri de odur.
 E) Kurunun yanında yaş da yanar.

5. "Aç kalmaktansa, toplum tarafından itibar görmeyen işleri yapmak daha akıllıcadır."

Bu görüş özellikle aşağıdakilerden hangisiyle açıklanabilir?

- A) İşten doyum sağlamayan bireyin verimi düşer.
 B) İşine ilgi duymayan bireyde huzursuzluk başlar.
 C) Çatışma durumunda kaygıyı azaltmak için savunma mekanizmalarına başvurulmalıdır.
 D) Açlık organizmanın biyolojik dengesini değiştirir.
 E) Güdülerin çatışmasında fizyolojik güdüler daha baskındır.

6. Utanmanın "doğal" bir şey olması için, doğuştan gelen bir şey olması gerekir. Utanmak doğal bir şey midir? Yoksa toplumun yarattığı bir şey mi? Çok gezip görmüş birisi için bu sorunun yanıtı basittir: Çıplak görünmekten utanmak "doğal" ya da doğuştan gelme bir şey değildir. Utanma ya da utanmama öncelikle toplumun gelenek ve göreneklerine bağlı bir şeydir.

Bu parçada utanma ya da utanmama duygusunun hangi yolla kazanıldığı vurgulanmaktadır?

- A) Öğrenmeyle B) Kalıtımla
 C) İçgüdüsel olarak D) Kişilikle
 E) Kültürle

7. Bebeklerin toplumsal çevresinin ve en başta ailesinin kendi ilk sözcüklerini biçimlendirmede ve dilin derece derece düzelmesinde önemli bir rol oynadığı düşünülmektedir. Çocuk ilkin, istediği bir şeyi örneğin yiyeceği nasıl isterse annenin olumlu tepki verdiğini görerek, daha sonra da büyüdükçe ailenin yaklaşımına bakarak dilini düzelterek.

Parçada ailenin çocuğun dilini düzeltme davranışını oluştururken, yaklaşımında aşağıdakilerden hangisini kullandığı söylenebilir?

- A) Tekrar B) Transfer C) Pekiştirme
 D) Ayırt etme E) İlgı ve şefkat

8. İletişim sadece dil ile yapılacak diye bir şey yoktur. Çeşitli araçlarla, sembollerle, sinyallerle, işaret ve hareketlerle de iletişim gerçekleşebilir. Dil sadece iletişimin daha çok kullanılan ve insana özgü yönüdür.

Parçadan hareketle aşağıdakilerden hangisi söylenebilir?

- A) İletişim, dile göre daha geniş kapsamlıdır.
 B) Günümüzde iletişim araçları çok gelişmiştir.
 C) Dil iletişimin en alt seviyesidir.
 D) İletişim soyut, dil ise somuttur.
 E) İletişim araçları dilin kullanımını azaltmıştır.

9. Bir psikolog, tavşanlardan korkan 3 yaşındaki bir çocuğa, tavşanın ona hiç bir zarar vermeyeceğini göstermek için, tavşanla çocuğun gözleri önünde oynamıştır. Daha sonra tavşan ortaya çıktığında, sevimli bir uyarım ortaya çıktığından, korku görülmemiştir. Bir gün çocuk yemek yerken, tavşan odanın bir ucunda iç kapının yanına bırakılır. Çocuk hayvandan gözlerini ayırmadan yemeğini yemeye devam etmiştir. Her gün tavşan biraz daha yakına bırakılır. Sonunda çocuk, tavşan yanında iken mutlu bir şekilde yemeğini yiyebilmiştir.

Bu deneyden, aşağıdaki yargılardan hangisine ulaşabiliriz?

- A) Korkulan şeyleri hoş hale getirerek etki etmeye çalışılırsa, korkular azalacaktır.
 B) Korkuyu azaltmak için, korkulan nesneyi ortadan kaldırmak yeterlidir.
 C) Korkulan şeylerin kötü yanlarını göstermek korkuyu azaltır.
 D) Kötü bir davranışın cezalandırılması istenmeyen davranışı azaltır.
 E) Belli zaman aralıklarında ödüllendirilen davranışlar, istenen davranış değişikliğine yol açar.

ESEN YAYINLARI

10. Babasından azar işiten gencin, yanına gelen kardeşine çatması; "şimdi seninle mi uğraşacağım" diyerek tokatlaması aşağıdakilerden hangisine örnektir?

- A) Ulaşılmak istenen hedef yerine başka bir hedef koyarak çarpıtma
 B) Olumsuz durumlar karşısında öfke duyduğu halde bunu saklama
 C) Tepkiyi uyarandan başkasına yöneltme
 D) Bir amacı gerçekleştirmediğinde bu amacın olumsuz yanlarını vurgulama
 E) İnsanın erişmiş olduğu gelişim düzeyine göre daha ilkel olan davranış basamaklarına dönme

11. Çocukluk ve gençlik yıllarında kağıt ve el arabası kullananlar, orta yaşlarda en lüks arabaları kullanabilmektedir. Çocukluğunda yer sofrasında bağdaş kuran biri, lüks otellerde şeref konuğu olmakta ve bireyler sadece doğduğu yerde yaşayıp yaşamını tamamlamamaktadır.

Bu parçada özellikle aşağıdaki yargılardan hangisinin önemi vurgulanmaktadır?

- A) Kuşaklar arası çatışma
- B) Sosyalleşme
- C) Kültür yozlaşması
- D) Köyden kente göç
- E) Sosyal hareketlilik

12. Fransızlar salyangoz yer ama çekirge yemezler. Zulular çekirge yer ama balık yemezler. Museviler ise balık yer ama domuz eti yemezler. Hintliler domuz eti yer ama dana eti yemezler. Buna karşılık Yeni Gine'de yaşayan Yale Kabilesi üyeleri ise insan etini çok lezzetli bulurlar.

Burada kültürün hangi özelliği vurgulanmaktadır?

- A) Zamanla değişme
- B) Öğrenme yoluyla kazanılma
- C) Bireylerin ihtiyaçlarını karşılama
- D) Bir toplumda kuşaktan kuşağa aktarılma
- E) Toplumdan topluma değişiklik gösterme

13. Ekonomi, siyaset, aile, eğitim gibi toplumsal kurumlar kültürün somutlaşmış göstergeleridir. Toplumsal kurumlar kültür sayesinde gerçek varlık haline gelir. Her toplumun temel toplumsal kurumları kültür ile birbirinden ayrılır, kültür ile ulusal ve evrensel bir özelliğe sahip olur.

Parçada anlatılanları aşağıdaki yargılardan hangisi destekler?

- A) Her toplumsal kurumun kendine özgü yapısı vardır.
- B) Bir toplumun toplumsal kurumları ile kültürü arasında ilişki vardır.
- C) Toplumsal kurumlar birbirini etkiler.
- D) Toplumsal kurumlar yapı ve fonksiyon bakımından zamanla değişebilir.
- E) Toplumsal kurumlar bireylerin ortak gereksinimlerini giderirler.

14. Ülkemize baktığımızda, Karadeniz bölgesinde balıkçılığın, Doğu Anadolu bölgesinde ise hayvancılığın geliştiğini görürüz.

Bu durum aşağıdaki ifadelerden hangisini örnekendirir?

- A) Ekonomik sıkıntılar toplumsal sapmalara neden olur.
- B) İşlevini yürütemeyen toplumsal kurumlar bu işlevlerini başka kurumlara devredebilirler.
- C) Yaşanılan coğrafya üretim biçimini belirler.
- D) Toplumsal yapı ile nüfus özellikleri arasında ilişki vardır.
- E) Toplumsal kontrol üretimin devamını sağlar.

15. Aynı olaylar aynı şartlar altında aynı sonuçları verir. Olayın meydana gelmesi için şartların yeterli olması gerekir. Bu ilke sosyal olaylar için de geçerlidir. Örneğin küçük bir firma için aşırı rekabet beraberinde iflası getirir.

Bu açıklama toplumsal olayların aşağıdaki özelliklerinden hangisi için uygun bir örnektir?

- A) Aynı toplumda zaman içinde değişirler.
- B) Bireye baskı yapıp davranışına yön verirler.
- C) Bireyin iradesi dışında gelişirler.
- D) Toplumsal yaşantı içinde ortaya çıkmışlardır.
- E) Toplumsal olaylar sebep – sonuç bağına dayanır.

16. Fichte'ye göre "Toplumsal grup, ortak amaçların izlenmesi konusunda, toplumsal normlara ve değerlere uygun olarak, karşılıklı rollerini yerine getiren kişilerden oluşmuş, benzerlerinden ayrılıp bütünleşebilen bir topluluktur."

Buna göre, aşağıdakilerden hangisi toplumsal grubun özelliklerinden değildir?

- A) Yüzeysel ve geçici bir etkileşim içindedirler.
- B) Grup, üyelerinin nasıl davranması gerektiğini bildiren normlara sahiptir.
- C) Grup, üyeleri çeşitli rollere sahiptir.
- D) Grup üyeleri arasında amaç birliği vardır.
- E) Birden fazla insanın biraraya gelmesiyle oluşmuştur.

17. Sınırları belirlenmiş tek bir konunun derinlemesine incelenmesi anlamındaki monografi çalışmalarına ilk defa Le Play işçi ailelerini inceleyerek başlamıştır.

Bu çalışmalarda nesnel bir sonuca ulaşmak için öncelikle hangi ilke dikkate alınmalıdır?

- A) Aileler toplumun işgücünü yansıtmalıdır.
- B) Araştırmacı sosyal grupları iyi tanımalıdır.
- C) Hazırlanan soru listeleri çok ayrıntılı olmalıdır.
- D) Seçilecek örnek aile, araştırma konusu olan diğer ailelerle benzer özellikte olmalıdır.
- E) Sosyal grubun çevresi ve genel geçim kaynakları belirlenmelidir.

18. İnsanlar ilk günden itibaren birlikte yaşamının önemini anlamış ve birlikte yaşama sonucu birbirlerini etkileyerek zengin toplumsal değerler birikimi olan toplumsal kültür olgusunu yaratmışlardır.

Aşağıdakilerden hangisi bu durumu sağlayan etkenlerden biri değildir?

- A) Birlikte yaşama isteği
- B) Birbirleriyle yardımlaşma isteği
- C) İhtiyaçları giderme isteği
- D) Korunma isteği
- E) Tarihi geçmişi koruma isteği

19. Sosyolojik araştırma yaparken yenilmesi gereken güçlüklerden biri de nesnel davranmaktır.

Nesnel davranmadaki güçlük, aşağıdakilerden hangisinden kaynaklanmaktadır?

- A) Toplumsal olayların birçok nedeni olması
- B) Sosyoloğun kendi toplumunu yakından tanıması
- C) Sosyoloğun kendi toplumunun değer yargılarını benimsemesi
- D) Toplumsal olaylar arasındaki nedensellik ilişkisinin kesin olmaması
- E) Toplumsal olayların karmaşık olması

20. Aile kurumu çocuğun bakımı ve korunmasını üstlenirken, eğitim kurumu kültürel bilgi birikimini gelecek nesillere aktarır. Politik kurumlar güç ve düzenin sağlanması görevini üstlenir, ekonomi kurumu ise, mal ve hizmetlerin üretimi ve bölüşümü konularıyla ilgilenir.

Parçadan aşağıdaki yargılardan hangisine ulaşılır?

- A) Toplumsal kurumlar zamanla birbirine bağlı olarak değişebilirler.
- B) Toplumda insanların belirli ihtiyaçlarını karşılamak için bazı görevleri yerine getirecek değişik kurumlar yer alır.
- C) Her toplumsal kurum değişmeye karşı dirençlidir.
- D) Her toplumsal kurum diğer kurumlarla yoğun bir ilişki içerisindedir.
- E) Kurumların değişmesinde toplumun gereksinimleri önemli rol oynar.

21. Romalı filozof Epiktetos'tan mantık dersi alan bir öğrenci ona:

- Mantığı "Kanıtlanma ilmidir diyorsunuz, öyle ise mantık okumanın gerekliliğini kanıtlayınız." der.
- Öğretmenin öğrencisine cevabı şu olur:
- Kanıtımın bağlayıcı olduğunu nasıl bileceksin?

Parçada mantık ile ilgili hangi nokta üzerinde durulmuştur?

- A) Mantığın diğer bilimlerle ilişkisi
- B) Mantığın konusu
- C) Mantığın metodu
- D) Mantığın diğer bilimler arasındaki yeri
- E) Mantık öğrenmenin faydaları

22. "Bir şey aynı zaman ve şartlar içinde hem var hem yok olamaz."

Aşağıdaki ifadelerden hangisi yukarıdaki verilen ifadeyle özdeştir?

- A) Bir şey ne ise odur. Her şey kendisinin aynısıdır.
- B) Sebepsiz bir şey olamaz.
- C) Bir şey ya A'dır, ya da A'nın dışında bir şeydir; başka bir ihtimal yoktur.
- D) Bir şey aynı zamanda hem kendisi olup hem de kendisinden başka bir şey olamaz.
- E) Her olayın mutlaka bir sebebi vardır.

23. "Zehirli" terimi "Kobra" teriminin işleminde yer alır.

Buna göre aşağıdakilerden hangisi doğrudur?

- A) Zehirli teriminin kapsamı kobra teriminin kapsamından daha geniştir.
- B) Kobra teriminin kapsamı zehirli teriminin kapsamından daha geniştir.
- C) Her iki terimin kapsamı aynıdır.
- D) İki terimin işlemleri eşittir.
- E) Zehirli teriminin işlemi kobra teriminin işleminden daha çoktur.

24. "Bütün çiçekler bitkidir." önermesi ile "Bazı çiçekler bitki değildir." önermesi birbiriyle çelişiktir.

Herhangi iki önermenin çelişik olmaları için aşağıdakilerden hangisi gereklidir?

- A) Niteliklerinin farklı olması
- B) Niceliklerinin farklı olması
- C) Nitelik ve niceliklerinin farklı olması
- D) Doğruluk değerlerinin aynı olması
- E) Aynı yargıda bulunmaları

25. – Bazı öğrenciler gözlüklüdür.

– Bazı gözlüklüler başarılıdır.

öncüllerinden kıyas kurallarına göre sonuç çıkmaz.

Verilen öncüllerden sonuç çıkmamasının nedeni aşağıdakilerden hangisiyle ilgilidir?

- A) Her iki öncülün de olumlu olması
- B) Her iki öncülün tikel olması
- C) Her iki öncülün niteliklerinin aynı olması
- D) Her iki öncülde iki adet terim bulunması
- E) Her iki öncülün farklı yargıda bulunması

26. Aşağıdaki önermelerde hangisinde önerme eklemi kullanılmıştır?

- A) Sınıfın öğrenci sayısı 24'tür.
- B) Berkay kahvaltısını yaptı.
- C) Emre ve Berkay Denizli'ye gitti.
- D) Ay Dünya'nın uydusudur.
- E) Bir gün 24 saattir.

27. $(p \Rightarrow q) \vee (p \wedge q)$

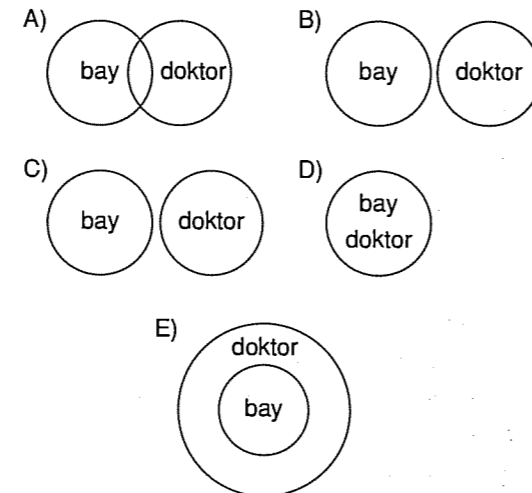
I II III

Yukarıdaki önermede I, II ve III için aşağıdakilerden hangisi doğrudur?

	I	II	III
A) Ana eklem	Ana eklem	Ana bileşen	Ana eklem
B) Ana bileşen	Ana eklem	Ana eklem	Ana bileşen
C) Ana eklem	Ana eklem	Ana eklem	Ana eklem
D) Ana eklem	Ana eklem	Ana bileşen	Ana bileşen
E) Ana eklem	Ana eklem	Ana bileşen	Ana eklem

28. B: Bay D: Doktor

Buna göre, $\exists x(Bx \wedge Dx)$ önermesinin diyagramı aşağıdakilerden hangisidir?



29. $p, q \therefore r$ çıkarımında p ve q önermeleri öncül önerme, r önermesi ise sonuç önermesidir.

Aşağıdakilerden hangisi $p, q \therefore r$ gibi bir çıkarımın geçerlilik denetleminde kullanılan bir yoldur?

- A) $p \Leftrightarrow q$ geçerli ise
- B) $P \vee r$ tutarsız ise
- C) $(p \wedge q) \Rightarrow$ geçerli ise
- D) $(p \rightarrow q) \Leftrightarrow \sim r$ tutarlı ise
- E) $q \wedge r$ geçerli ise


30.

p	q	r	s
D	Y	D	D
Y	Y	D	D
Y	Y	D	D
Y	Y	Y	D
Tutarlı	Tutarsız	Tutarlı	Tutarlı

Yukarıda ayrı ayrı önermelere ait tutarlılık denetlemleri verilmiştir.

Buna göre, bir önerme kalıbı, hangi durumda tutarsızdır?

- A) Bütün yorumlamaları doğru ise
- B) Bütün yorumlamaları yanlış ise
- C) En az bir yorumlaması doğru ise
- D) İki yorumlaması yanlış ise
- E) Üç yorumlaması doğru ise



FELSEFE GRUBU TESTİ

1. Bu testte 30 soru vardır. Bu test için verilen süre 45 dakikadır.

2. Cevaplarınızı, cevap kâğıdının Felsefe Grubu Testi için ayrılan kısmına işaretleyiniz.

1. "Peri Psyche" adlı eserinde, günümüz psikolojisinin konularını ele alan ve "Eğer göz bir hayvan olsaydı, görme onun ruhu olurdu" diyen Aristoteles aşağıdakilerden hangisini vurgulamak istemiştir?

- A) Ruhun beden bir işlevi olduğunu
B) Ruhun bir organ olduğunu
C) Ruhun var olmadığını
D) İnsanın gelişmiş bir ruha sahip olduğunu
E) Hayvanların ruha sahip olmadığını

2. Doğal gözlem ile araştırmacı organizmanın tepkilerini kendi oluşumları ve uyum faaliyetleri içinde incelemektedir. Örneğin; ağ kuran bir örümceği, yavrusuyla oynayan bir hayvanı, gülen, oynayan, sevenen bir çocuğun davranışlarını hiç bir etkide bulunmadan habersizce izleme gibi.

Aşağıdakilerden hangisi doğal gözlemin özelliklerinden biri değildir?

- A) Araştırmacının isteklerine göre oluşmaması
B) Gözlem şartlarının araştırmacı tarafından kontrol edilebilmesi
C) Olayların meydana gelişinin rastlantılara bağlı olması
D) Organizmanın gözlemlendiğinin farkına varmaması
E) Gözlem objesinin, gözleyiciden bağımsız olması

3. – Hayatında asansör görmemiş birinin asansör gördüğünde ne olduğunu algılayamayışı
– Aşılama "domuz gribi" sözünün bile olumsuz algılamaya yol açması

Yukarıdaki örnekler algılamada aşağıdakilerden hangisinin etkili olduğunu gösterir?

- A) İlgî – Tutum
B) Dikkat – öğrenme
C) Deneyim – Kültür
D) Yetenek – Bilgi
E) Zeka – İhtiyaç

4. Algılama ne olursa olsun bir birleşik deneyimdir. Örneğin bir saate baktığımızda onun parçalarını görmeyiz, bir zaman dilimi olarak algılarız. Bir elma alıp tadına bakarsak, içindeki besin maddelerini ayrı ayrı değil, bir elma tadı olarak algılarız.

Bu durum aşağıdakilerden hangisine örnek oluşturur?

- A) Algıda seçicilik
B) Algıda örgütlenme
C) Algıda yanılma
D) Farklılaşma eşiği
E) Algıda değişmezlik

5. Canlılar arasında sadece insana özgü olan, öğrenmeyle kazanılan, toplumsal farklılık gösteren ve bir çok özel davranışımıza kaynaklık eden güdülere sosyal güdüler denir.

Bu tanıma göre aşağıdakilerden hangisi sosyal güdüye örnektir?

- A) Annelik
B) Dinlenme ve uyuma
C) Cinsellik
D) Oksijen eksikliği
E) Onay görme

6. "ABD'de yapılan bir araştırmada, televizyonda saldırganlık filmlerinin yayınlandığı, üstelik saldırganlık görüntülerinin yakın çekimle verildiği günlerde ülkede, cinayet ve intihar olaylarının arttığı görülmüştür."

Bu davranış şekli, aşağıdaki öğrenme yollarından hangisiyle açıklanır?

- A) Farkında olmadan öğrenme
B) Model alarak öğrenme
C) Bilişsel öğrenme
D) Kavrayış yoluyla öğrenme
E) Şartlanma yoluyla öğrenme

7. Çocuklar üzerinde yapılan bir öğrenme deneyinde, küçük çocukların oynamaları için yapılan parmaklıkları oyun yerinin dışına, çocukların ulaşamayacakları bir yere oyuncak bir bebek, ulaşabilecekleri bir diğer yere ise sopa konur. Denek çocukların ellerini uzatarak bebeği alma çabaları sonuçsuz kalmışken, onları gözleyen ve onlardan birkaç ay daha büyük olan çocuğun aniden sopayı görüp, onun yardımıyla bebeği içeri çekmeyi başardığı görülmüştür.

Bebeği elde etmede başarılı olan çocuğun bu durumu, öğrenmenin hangi etmeniyle açıklanabilir?

- A) Ket vurma
B) Güdülenmeyle
C) Pekileştirmeyle
D) Transferle
E) Olgunlaşmayla

8. Masa kavramı, tüm masaları içine alan ve tüm masalar için geçerli ortak özellikleri kendinde barındıran (örneğin üzerine nesne konulmak) bir kavram olarak oluşmuştur.

Parçadan hareketle kavramların oluşumunda zihnin aşağıdakilerden hangisini kullandığı söylenebilir?

- A) Ayrıştırma
B) Sembolleştirme
C) Genelleme
D) Deneyleme
E) Problem çözme

9. Düşünme, karşılaşılan bir problemi zihinde semboller aracılığı ile çözebilme gücüdür. Davranışlarımızın temelini çoğu kez bu yetenek oluşturur. Ama bazen de düşünmeden hareket ettiğimiz olur.

Buna göre aşağıdaki davranışların hangisinde düşünmenin rolü yoktur?

- A) Zil sesini duyan öğrencinin sınıfa koşması.
B) Öğrencinin yapamadığı ödevini rüyasında yapmaya çalışması.
C) Aşırı sıcaktan bunalan kişinin terlemesi.
D) Gencin çok sevdiği arkadaşını görünce çığlık atması.
E) Karnı acıkan çocuğun yiyecek hazırlaması.

10. Ruhsal sağlık alanında her ne kadar pek çok karşıt düşünce olsa bile, hemen herkes duygusal sorunların ilk çocukluk dönemlerinde ortaya çıktığında ve bu çağlarda yerleşen anormal davranış kalıplarının yetişkinlikte düzeltilmesinin son derece güç olduğu konusunda uzlaşmaktadır.

Parçadan aşağıdaki yargılardan hangisine ulaşamaz?

- A) Anormal davranışlar, tamamen ergenlik döneminin duygusal davranış özelliğidir.
B) Çocukluk dönemlerinin duygusal sorunların oluşumunda belirleyici bir rolü vardır.
C) Bireyin bugünkü davranışlarının anlaşılabilmesi için geçmiş yaşantılarının incelenmesi gerekir.
D) Kişilik bireyin geçmiş yaşantılarında gizlidir.
E) Çocukluk yaşantılarında ortaya çıkan anormal davranış kalıplarının daha sonradan düzeltilmesi güçtür.

11. Ekonomi kurumunda, özellikle de teknoloji alanındaki değişimler, aile ve din kurumundaki değişimlerden daha hızlı gerçekleşir ve daha kısa süreyi kapsar.

Parçadaki durum toplumsal değişimler ile ilgili aşağıdaki yargılardan hangisini destekler?

- A) Toplumsal değişimin hızı toplumdaki topluma değişir.
B) Toplumsal değişim, toplumsal hayatın her alanını kapsar.
C) Toplumsal değişim her toplum için zorunludur.
D) Toplumsal kurumlardaki toplumsal değişim hızı farklıdır.
E) Toplumsal kurumlardaki toplumsal değişim hızları toplumdaki topluma değişir.

12. Göçle birlikte kentlerde gecekondulaşma ve çarpık kentleşme artar. Bu durum, sağlık, eğitim, alt yapı gibi hizmetleri zorlaştırır. Bazı göç edilen bölgelerde sanayileşmenin gelişmemiş olması, işsizliğe veya yasalara uygun olmayan işlerle uğraşılmasına neden olur. Şiddet, alkoholizm, fuhuş, intihar gibi davranışların arttığı görülür.

Bu durum aşağıdaki yargılardan hangisine dayanak oluşturur?

- A) Göç kırsal alanda tarım ve hayvancılığı geriletmektedir.
- B) Kırsal kesimde tarım işçisine duyulan azalma göçün nedenlerindedir.
- C) Göç toplumca onaylanmayan bazı davranışların artmasına neden olur.
- D) Göç, kültürler arası etkileşimi sağlar.
- E) Siyasi olaylar göçü zorlayan etmenlerdendir.

ESEN YAYINLARI

13. "Sapma davranışlarında bu faktörler oldukça etkilidir. Örneğin köyden kente göç etmiş birey, tamamıyla farklı bir kültürel ortama girer ve zaman zaman kent yaşamıyla bütünleşmede zorlanır. Göç sonucu, özellikle kentlerde farklı kültürden gelen bireyler arasında kültürel çatışmalar ortaya çıkabilir. Farklı gruplar içinde yer alan yaşlılar ve gençler arasındaki kuşak çatışmaları toplumsal sapmalara neden olur."

Parçaya göre toplumsal sapmaların temel nedeni aşağıdakilerden hangisidir?

- A) Toplumsal değişmelerin hızlı olması
- B) Siyasal olaylar
- C) Grubun, üyelerinin ihtiyaçlarını karşılayamaması
- D) Bireyde psikolojik uyumsuzluğun ortaya çıkması
- E) Grup farklılıkları ve farklı kültürlerden gelmiş olma

4

14. Yakın akraba evlilikleri endogami (grup içi) evliliğe örnektir. Özellikle kapalı toplumsal tabakalaşma ya da yarı kapalı toplumsal tabakalaşmanın görüldüğü toplumlarda yaygındır. Kast sisteminde yukarı ve aşağı kastların birbirleriyle evlenmesinin yasak olması da bu evliliğe örnektir.

Parçaya göre aşağıdakilerden hangisi bu tür evlilik için geçerlidir?

- A) Evlenen kadın, erkeğin ailesine katılır.
- B) Evlenen erkek, kadının ailesine katılır.
- C) Erkek ve kadın evlendikten sonra kendi ailelerinden ayrı bir yerde oturur.
- D) Aynı toplumsal gruptan olan bireyler birbiriyle evlenir.
- E) Farklı toplumsal grup veya sınıftan olanlar birbiriyle evlenir.

15. Sosyoloji toplumu incelerken toplum düzeninin adil, ahlâki, insanların isteklerine uygun olup olmadığına bakmaz. Bu gibi problemleri ele alıp inceleme, belli kurullarla düzenleme, hukuk ve ahlâkın yetki alanına girer.

Buna göre sosyoloji hangi niteliği ile hukuk ve ahlâktan ayrılmaktadır?

- A) Olması gerekeni incelemesi
- B) Toplumsal değer yargılarını incelemesi
- C) Kural koyucu (normatif) olmaması
- D) Toplumun belli bir kesimi ile ilgilenmesi
- E) Toplumsal adalete önem vermesi

16. Gerçek, insanın dışındadır fakat insan sosyal gerçeği algılamak onu yaratır da. İnsan toplumun, toplum insanın içindedir. İnsan gerçeği oluştururken kendini de oluşturur.

Yukarıdaki düşünce sosyoloji ile hangi bilim arasındaki ilişkiyi doğru olarak dile getirmektedir?

- A) Hukuk
- B) Coğrafya
- C) Ekonomi
- D) Siyaset felsefesi
- E) Psikoloji

17. İçkiye düşkün bir genel müdür veya bir taşra avukatı, yüksek bir statüde olmalarına karşın, kişi olarak büyük bir saygınlık taşımazlar.

Burada toplumsal prestij (saygınlık) ile ilgili hangi özellikten söz edilmektedir?

- A) Statüler toplumsal yapıca belirlenir.
- B) Bir statünün saygınlığı o statüde bulunan kişinin saygınlığını da artırır.
- C) Statüsel saygınlık kişisel saygınlığın güvencesi değildir.
- D) Bir statü, o statüyü hak etmemiş kişilerce doldurulmuş olursa o statünün saygınlığı da yok olur.
- E) Bir statünün saygınlığı o statüde bulunan kişinin yakınlarına da geçer.

18. İnsanlar arasındaki ilişkiler bireylerin birbirlerini karşılıklı olarak etkiledikleri ve böylece ortak eylem biçimi yaratıp, koruyup, değiştirip ve gerektiğinde bitirdikleri bir süreçtir.

Sosyal ilişkinin ortaya çıkış ve devamında aşağıdakilerden hangisi en az etkilidir?

- A) Güç kullanımı
- B) Bireysel gereksinimler
- C) Ortak çıkarlar
- D) Bireylerin beklentileri
- E) Ortak değerler

19. Bir toplumdaki ekonomi, aile, hukuk eğitim, siyaset vb. gibi kurumlar hep birlikte belli bir toplumsal düzeni oluşturacak biçimde bağlantı içindedirler. Nitekim teokratik yapıya sahip bir devlet düzeni ile laik bir yapıya sahip bir eğitim düzeni birlikte bulunmazlar.

Bu açıklamada toplumsal kurumların hangi özelliği üzerinde durulmaktadır?

- A) Hiçbir kurum, toplum olmaksızın tek başına var olamaz.
- B) Kurumlar kendi aralarında uyum ve eşgüdüm içinde bulunurlar.
- C) Kurumların herhangi birinde baş gösteren bir değişim, bunalım bir süre sonra diğer kurumlarda da kendini gösterir.
- D) Her kurumun değişme hızı ve yönü aynı değildir.
- E) Kurumların değişmesinde toplumun gereksinimleri önemli rol oynar.

20. Ekonomide üretilen mal ya da hizmetlerin bireyler açısından önemli ya da önemsiz oluşu o mal ya da hizmetlerin değerini belirler.

Aşağıdakilerden hangisi bir malın değerini belirleyen faktörler arasında en az etkili olanıdır?

- A) Üretilen malın kaliteli olması
- B) Malın sürekli aranır özellik taşıması
- C) Malın insan ihtiyaçlarını giderecek fayda yaratması
- D) Üretilen malın özel girişimler sayesinde gerçekleşmesi
- E) Malın değişim değerinin yüksek olması

21. – Yarın hava yağmuru geçecek.
– Ankara Türkiye'nin başkentidir.
– Bir su molekülü bir oksijen atomuyla iki hidrojen atomundan meydana gelir.

- I. Belirtme görevi
- II. Yaptırma görevi
- III. Bildirme görevi

Yukarıdaki örnekler dilin hangi görevi ile ilgilidir?

- A) Yalnız I
- B) Yalnız II
- C) Yalnız III
- D) I ve II
- E) II ve III

22. Aynı zamanda bir pencere için açık veya kapalı yargılarından yalnızca birini kullanabiliriz. Bir pencere aynı zamanda ve aynı şartlarda hem kapalı hem açık olamaz.

Bu durumu ifade eden yargı aşağıdakilerden hangisidir?

- A) Bir şey aynı zamanda ve aynı şartlarda hem kendisi olup hem de kendisinden başka bir şey olamaz.
- B) Bir şey ne ise odur. Her şey kendisinin aynıdır.
- C) Her olayın bir sebebi vardır.
- D) Bir şey ya A'dır ya da A'nın dışında bir şeydir; başka bir ihtimal yoktur.
- E) Her olayın bir amacı vardır. Amaçsız hiçbir şey yoktur.

ESEN YAYINLARI

5

23. İnsan, düşünebilendir.

Bu yargı aşağıdakilerden hangisine bir örnektir?

- A) Tümevarım B) Anoloji C) Öncül
D) Tanım E) Kıyas

24. Önergeler yargının niteliğine göre "olumlu önerme" ve "olumsuz önerme" olarak ikiye ayrılır.

Aşağıdaki önermelerden hangisi yargının niteliği bakımından diğerlerinden farklıdır?

- A) Kuş kanatlı bir hayvandır.
B) Bu araba diğerinden daha pahalıdır.
C) Hayvan canlıdır.
D) Hakan gözlüklü değildir.
E) Kobra zehirli bir yılanıdır.

25. Eğer sen iyi bir eş isen onu sever ve yaşamını kolaylaştırırsın.

Ona ne sevgi gösteriyorsun ne de yaşamını kolaylaştırıyorsun.
İyi bir eş değilsin.

Yukarıdaki kıyas, aşağıdaki kıyas çeşitlerinden hangisine örnektir?

- A) Sorit (Yığın) B) İkilem (Dilem)
C) Karma kıyas B) Koşullu kıyas
E) Zincirleme kıyas

26. I. $(D \wedge D) \Rightarrow Y$
II. $(D \vee Y) \Leftrightarrow D$
III. $(D \Rightarrow Y) \Rightarrow (D \vee Y)$
IV. $(D \wedge D) \vee (Y \wedge Y)$
V. $(Y \Rightarrow D) \vee (D \Rightarrow Y)$

Yukarıdakilerden hangisinin çözüm sonucu "Y" dir?

- A) I B) II C) III D) IV E) V

27. I. İnsan taş değildir.

II. İyi bir öğretmen olmanın tek koşulu bilgili olmaktır.

III. Ali çalışkan ise başarılıdır.

IV. Ne Ali ne de Mehmet maça gitti

V. Ali dershaneye gidecek veya özel ders alacak

Yukarıdaki önermelerde sırasıyla aşağıdaki önerme eklemlerinden hangileri kullanılmıştır?

	I	II	III	IV	V
A)	~	\Leftrightarrow	\Rightarrow	\wedge	\vee
B)	\Rightarrow	\vee	\wedge	\Leftrightarrow	~
C)	~	\wedge	\vee	\Leftrightarrow	\Rightarrow
D)	\Leftrightarrow	\Rightarrow	\vee	\wedge	~
E)	\vee	~	\wedge	\Rightarrow	\Leftrightarrow

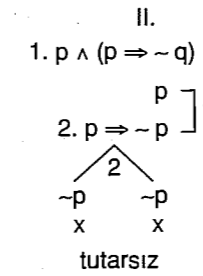
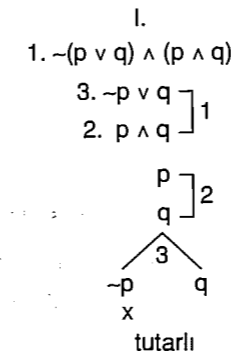
28.

	I	II	III	IV	V
D	D	D	Y	D	D
D	Y	Y	Y	D	D
Y	D	Y	D	D	Y
Y	D	Y	D	D	Y

Yukarıdaki doğruluk çizelgesinde numaralarla gösterilen önermelerle ilgili aşağıdaki ifadelerden hangisi doğrudur?

- A) I. ile II. önerme eş değerdir.
B) III. önerme tutarlıdır.
C) IV. önerme geçersizdir.
D) V. önerme tutarsızdır.
E) I. ile V. önerme eş değerdir.

29.



Yukarıdaki çözümleyici çizelgelere göre I. önerme tutarlı, II. önerme tutarsızdır.

Buna göre, çözümleyici çizelge ile denetlemede bir önermenin tutarlılığının koşulu aşağıdakilerden hangisidir?


- A) En az bir yolunun açık olması
B) Bütün yollarının kapalı olması
C) Her yolunun açık olması
D) Önergelerde ana eklem "∧" olması
E) Çözümlemeye alt alta yazma kuralıyla başlanması

30. "Bazı öğrenciler gözlüklüdür."

Öğrenci: Ö Gözlüklü: G

Buna göre, yukarıdaki önermenin niceleme mantığındaki sembolik ifadesi aşağıdakilerden hangisidir?

- A) $\exists x \sim Gx$ B) $\forall x \sim Gx$ C) $\forall x \bar{O}x$
D) $\sim \exists x Gx$ E) $\exists x (\bar{O}x \wedge Gx)$



FELSEFE GRUBU TESTİ

1. Bu testte 30 soru vardır. Bu test için verilen süre 45 dakikadır.

2. Cevaplarınızı, cevap kâğıdının Felsefe Grubu Testi için ayrılan kısmına işaretleyiniz.

1. Psikoloji insan davranışlarını tanıma ve tanımlamanın yanında bu davranışların nedenlerini de belirlemeye çalışır. Bunu "neden ve nasıl" sorularını cevaplamaya çalışarak yapar.

Yukarıdaki parçada psikolojinin amaçlarından hangisi vurgulanmaktadır?

- A) İnsan davranışlarını önceden kestirebilme
B) İnsan davranışlarını etkileme ve denetleme
C) İnsan davranışlarını anlama ve açıklama
D) Bir bilim haline gelme
E) Davranışları objektif olarak ele alma

2. Ödülün öğrenmeyi nasıl etkilediğini incelemek için, her bakımdan eşit iki grup alınarak, gruplardan biri üzerinde herhangi bir değişiklik yapılmaz. Diğer grubun ise yalnızca etkisini araştırdığımız "ödül" unsuru değiştirilir. Gruba değişik zamanlarda değişik ödüller uygulanır. Sonuçta iki grubun başarısı karşılaştırılır.

Bu deneyde, sırasıyla bağımsız ve bağımlı değişken aşağıdakilerden hangisidir?

- A) Öğrenme derecesi – Ödül
B) Başarının övülmesi – Öğrenme
C) Ödül – Öğrenme derecesi
D) Ödül verilen grup – Ödül verilmeyen grup
E) Konuyu anlatan öğretmen – Anlatılan konular

3. Bir araştırmada odaya alınan ilkökul öğrencilerinin odadaki bir tabloyu ne kadar zamanda algılayacakları araştırılıyor.

Aşağıdakilerden hangisi tablonun algılanma süresini en az etkileyen faktördür?

- A) İlgisi ve ihtiyaçlar
B) Uyarıcının büyük ya da küçük oluşu
C) Uyarıcının bulunduğu yer
D) Tabloda kullanılan renklerin göz alıcı olması
E) Tablonun taşıdığı değerlerin yüksek oluşu

4. Nesnelere gelen uyarıcıların duyu organlarımız üzerindeki etkisi, bulunduğumuz yere bağlı olarak değişmektedir. Örneğin bir kapının tam karşısında durduğumuz zaman bu kapının gözümüz üzerine düşen imgesi dikdörtgen şeklindedir. Bir yana doğru yürüdüğümüzde bu şekil giderek bozulur. Buna rağmen nereden bakarsak bakalım, kapıyı her zaman dikdörtgen şeklinde algılarız.

Burada algının hangi özelliği belirtilmektedir?

- A) Algıda seçicilik B) Algıda bütünleme
C) Algı yanılması D) Algıda örgütlenme
E) Algıda değişmezlik

5. "Yabancı bir ülkede çalışacak olan bir kişi, ülkenin dilini öğrenmeye çalışır ve bunda başarılı olur. Ancak yaşamını bir dağ köyünde geçiren kişi, yabancı dil öğrenmek için kendini zorlama gereği duymaz."

Bu durumda öğrenmeyi hangi faktör etkilemektedir?

- A) Transfer
B) Motivasyon
C) Türe özgü hazır olma
D) Olgunlaşma
E) Ödül – ceza

6. Yorgun olmamıza rağmen tren beklerken bavulumuzu sandalye gibi kullanmayı düşünmeyiz. Çünkü bavulu giysileri taşımak için kullanılan bir nesne olarak öğrenmişizdir.

Bu parçada yaratıcı düşüncenin önündeki engellerden hangisi anlatılmaktadır?

- A) Zihinsel kurgu B) Duyusal baskı
C) İleriye ket vurma D) Eksik güdülenme
E) İşleve takılma

7. Matematiği iyi bilen bir öğrencinin fizik ve kimyada daha başarılı olması beklenir.

Bu durum aşağıdakilerden hangisine örnektir?

- A) Güdülenmeye B) Negatif aktarıma
C) Pozitif aktarıma D) İleriye ket vurmaya
E) Geriye ket vurmaya

8. Bir araştırma salonuna tek tek alınan insanların, bir resim hakkında düşünceleri alınıyor. Farklı farklı düşünceler ileri süren bu insanların topluluk halinde odaya alındıklarında ise aynı resim hakkında düşüncelerini değiştirip çoğunluğun düşüncesini kabul ettikleri görülmüştür.

Bu araştırmadan çıkarılabilecek sonuç aşağıdakilerden hangisidir?

- A) Bu grupta alınan kararlar herkesi bağlayıcı niteliktedir.
B) Grup kararları kişisel kararlardan daha baskındır.
C) Güdülenmemiş davranışlar değişme özelliği gösterir.
D) Bireyler gerçeği genellikle grup içinde bulabilirler.
E) Algılarımız sürekli değişir.

9. Uykunun tamamında REM (Rapid eye movement: Hızlı göz hareketleri) ve NREM (REM olmayan) olmak üzere iki tip uyku vardır. REM uykusunda fizyolojik etkinliklerin yüksekliği dolayısıyla kan basıncı, vücut hareketleri ve kaslarda kasılmalar artmış, solunum ve kalp atışı hızlanmıştır. Toplam uyku süresinin yüzde 20 – 22'sini oluşturan bu dönemin temel özelliklerinden biri de rüyaların neredeyse tamamının bu dönemde görülüyor olmasıdır.

Parçaya göre aşağıdakilerden hangisi söylenmez?

- A) REM uykusu derin ve dinlendiricidir.
B) Uyku süresinin çoğunu NREM dönemi kapsar.
C) Uyku REM ve NREM olmak üzere iki dönemde oluşur.
D) Rüyalar genellikle REM döneminde görülür.
E) REM uykusunda kalp atışı ve solunum sayısı artar.

10. Derslerinde başarısız olan bir öğrencinin, başarısızlığının nedenini derslerin sayısının fazlalığına bağlaması özellikle hangi savunma mekanizmasına örnektir?

- A) Yön değiştirme
B) Mantığa bürüme
C) Karşıt tepki geliştirme
D) Ödünleme
E) Bastırma

11. Hepimiz günlük yaşantımızda bir takım kurum ve grupların içinde etkinliklerimizi sürdürürüz. Örneğin bir ailenin üyesi olarak, bir sendikanın başkanı olarak, bir dernekte personel olarak bulunabiliriz.

Bu durum aşağıdakilerden hangisini gösterir?

- A) Toplumsal kurumların toplumsal değişmelere ayak uyduramadığını
B) Bireyin birden fazla toplumsal statüsünün olabileceğini
C) Bireyde rol çatışmalarının yaşanabileceğini
D) Toplumsal grupların zamanla işlevini yitirebileceğini
E) Yaşanılan coğrafyanın toplumsal ilişkileri etkilediğini

12. – Hindulardaki çarımha germe törenleri,
– İspanyolların boğa güreşleri,
– Hindistan'da ineklere gösterilen saygı,

farklı toplumlarda farklı şekillerde algılanır. Hintliye İspanyolların boğa güreşleri, İspanyollara ise ineye saygı gösterilmesi anlamsız gelebilir.

Parçadan aşağıdaki sonuçlardan hangisine ulaşılır?

- A) Kültürel değerler aynı toplumda zamanla değişebilir.
B) Kültür göreceli bir sürekliliğe sahiptir.
C) Kültürel değerler o toplumda birlik ve beraberliği sağlar.
D) Bir toplumda saygın olan bir kültürel değer, başka toplumlar için anlamsız gelebilir.
E) Üzerinde yaşanan coğrafya kültürel değerleri etkiler.

13. Günümüzde eğitim ve meslek edindirme işlevini geniş aile değil, eğitim kurumları üzerine almıştır. Bu da bize geniş ailenin sahip olduğu görevlerin, çekirdek aileye doğru gittikçe, azaldığının örneğidir.

Bu parçaya dayanarak aşağıdaki yargılardan hangisine ulaşılabilir?

- A) Günümüze gelene kadar aile kurumunun işlevlerinde değişimler olmuştur.
- B) Her toplumda boşanma biçimleri de farklıdır.
- C) Aile; üyelerinin beslenme, barınma ve korunma gibi ihtiyaçlarını karşılar.
- D) Aile, çocuğun kişilik yapısının oluşmasında etkilidir.
- E) Aile, toplumsal gelişmenin her evresinde görülmüştür.

14. Onun söyledikleri, beğeniye değil, yapıya yöneliktir. Amacı yapıtı olabildiğince tarafsız değerlendirmektir. Kuşkusuz her eleştirmen gibi onun da bir beğenisi vardır. Ancak bu yargılayan türden değildir. Metinlerin seçiminde, değerlendirilmesinde ister istemez kişiselliğin payı olur. Ne var ki o, eser üzerinde düşünürken ön yargılardan olabildiğince kaçınmıştır.

Parçada bilimsel bir çalışmada neyin önemi vurgulanmaktadır?

- A) Kişisellik B) Evrensellik C) Objektiflik
- D) Birikimlilik E) Ölçülülük

15. Şehir nüfusunun artması, çok katlı binaları kurma ve ulaşımı metrolarla sağlama düşüncesi ile bunları uygulama tekniklerini doğurdu. Zaman zaman yaşanan petrol krizleri de uzmanları güneş ve rüzgar enerjisinden yararlanma yollarını araştırmaya itti.

Bu bilgilere dayanarak aşağıdaki yargılardan hangisine ulaşılır?

- A) Geleneklerle çatışmayan yenilikler daha kolay yaygınlaşır.
- B) Yeni ihtiyaçlar buluşları özendirip artırır.
- C) Bazı buluşlar toplumsal sorunlara neden olur.
- D) Yerleşik yaşama geçiş nüfus yoğunluğunu artırır.
- E) Yeniliklerin yaygınlaşma hızı birbirinden farklıdır.

- 16. I. Kültür toplumları birbirinden ayırt etmeye yarar.
- II. Kültür, toplumda yaşayan insanların ortak ihtiyaçlarından doğar.
- III. Kültür bir toplumun bireylerini birbirine yaklaştırır.

Aşağıdakilerden hangisi, bu tanımların üçüne de uygun düşen bir kültür özelliğidir?

- A) Kültür sürekli olan, tarihsel bir süreçtir.
- B) Kültürün taşıyıcısı dildir.
- C) Kültürün bir yönü ulusal diğer yönü ise evrenseldir.
- D) Kültür toplumlar arası etkileşimi sağlar.
- E) Kültür toplumsaldır.

17. Tek turlu ve iki turlu gerçekleştirilen çoğunluk sistemi, en fazla oy alan adayların seçilmesine olanak tanıyan bir seçim sistemidir.

Aşağıdakilerden hangisi bu sistemin olumlu bir yanını yansıtmaktadır?

- A) Küçük partilere yaşama şansı tanımaması
- B) Bütün düşüncelerin parlamentoda temsil hakkını elde etmesi
- C) Kanunların daha çabuk çıkarılmasının sağlanması
- D) Halk iradesinin tüm yönleriyle parlamentoya yansması
- E) Koalisyonlar kurulup her partinin hükümette yer almasının sağlanması

18. Bir toplumda insanlar tasarrufa yöneldikleri zaman üreticiler zarar ederler. Buna bağlı olarak yatırımlar azalır bu da nüfusun istihdam olanaklarının azalmasına neden olur.

Burada sözü edilen süreç aşağıdakilerden hangisidir?

- A) Toplam talebin toplam arzdan az olması, yatırımların azalması – işsizliğin artması
- B) Talep fazlalığı, ihracatın azalması – işsizliğin azalması
- C) Talebin arzdan fazla olması, yatırımların artması – işsizliğin artması
- D) Arzın fazla olması, işsizliğin artması – yatırımın artması
- E) Talebin fazla olması, yatırımların artması – işsizliğin artması

19. Köylerde makinalı tarıma geçilmesi, at sayısını azaltmış ve cirit oyunları oynamaz olmuş; televizyonun köy yaşamına girmesi de köy odalarında toplanması ve misafirlik olayını ortadan kaldırmıştır.

Parçadan aşağıdaki genellemelerden hangisine ulaşılır?

- A) Fiziksel çevre, kültür üzerinde etkilidir.
- B) Maddi kültür öğelerindeki değişme, manevi kültür öğelerinin de değişmesine yol açar.
- C) Maddi ve manevi kültür birbirini etkilemez.
- D) Her toplumsal yapının kendine özgü kültürü vardır.
- E) İnsan kültürden etkilenir, kültür yaratır.

20. Polis olan bir bireyin üniversite de olay çıktığı haberi üzerine ekibiyle olay yerine gitmesi sonucunda kendi çocuğunda olayın içinde olduğunu görmesi ve bu durumda bir baba gibi mi yoksa bir polis gibi mi davranması gerektiği konusunda içine düştüğü durumu aşağıdaki kavramlardan hangisi en iyi açıklar?

- A) Sosyal statü B) Rol çatışması
- C) Rol pekişmesi D) Sosyal kontrol
- E) Sosyal değer

21. Bir yargının doğru veya yanlış olması onun bir doğruluk değeri taşıdığını gösterir. Gerçek ise, yargının konusudur. Örneğin, "Dünya" bir gerçektir. Bu nedenle doğru veya yanlış denilemez. "Dünya Güneş sisteminde bir gezegendir." yargısı ise doğru veya yanlış değer alır. Bu nedenle, doğruluk veya yanlışlık zihinde bulunan veya zihnin ürettiği bir şeyle, yani önerme ile ilgilidir.

Parçadan "doğruluk değeri" ile ilgili aşağıdaki yargılardan hangisine ulaşılır?

- A) Var olanın özelliğidir.
- B) Deney ve gözlemlerle ispatlanabilen olgulardır.
- C) Akıl ilkeleri ile tutarlı olan yargılardır.
- D) Var olanı olduğu gibi açıklayan yargılardır.
- E) Düşüncenin özelliğidir.

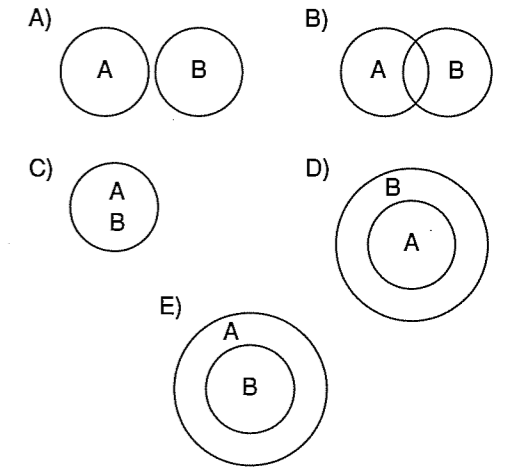
- 22. I. Tümdengelim
- II. Tümevarım
- III. Anoloji

Yukarıdaki akıl yürütme biçimlerinden hangileri aklın genelden genele ve genelden özele izlediği bir yoldur?

- A) Yalnız I B) Yalnız II C) Yalnız III
- D) I ve II E) II ve III

23. A ile B terimlerinden her biri diğerinin bazı bireylerini içine alırsa bu iki terim arasında eksik girişimlilik ilişkisi vardır.

Buna göre, aşağıdakilerden hangisi eksik girişimlilik ilişkisinin diyagramıdır?



24. Bir tartışmada;

"Bütün leylekler göçmendir." önermesi ile öne sürülen bir sava karşı çıkmak için aşağıdaki yollardan hangisine başvurmak daha uygundur?

- A) Göçmen olmayan bir leylek türü göstermek
- B) Savı öne sürenden, bir örnekle savını kanıtlanmasını istemek
- C) Öne sürülen savın olgusal olmadığını söylemek
- D) Öne sürülen savın kanıtlanabilir olmadığını öne sürmek
- E) Bazı leyleklerin göçmen olduğunu söylemek

25. Öncülleri,

- I. Eğer insanın hakları varsa insanın ödevleri de vardır.
II. İnsanın ödevleri yoktur.

önermeleri olan kıyasın sonucu aşağıdakilerden hangisidir?

- A) Bazı insanların ödevleri vardır.
B) Bazı insanların hakları vardır.
C) İnsanın hakları yoktur.
D) İnsanların ödevleri yoktur.
E) Bütün insanların ödevleri yoktur.

26. "Hiç değilse bir kişi üniversiteyi kazanamadı."

önermesi değillenirse aşağıdaki önermelerden hangisi elde edilir?

- A) Hiç kimse üniversiteyi kazanamadı.
B) En az bir kişi üniversiteyi kazandı.
C) Az kişi üniversiteyi kazandı.
D) Bazı kimseler üniversiteyi kazandı.
E) Herkes üniversiteyi kazandı.

27. I. \Rightarrow II. \vee III. \Leftrightarrow IV. \wedge

p	q	a		a?b
		$p \vee q$	$p \wedge q$	
D	D	D	D	D
D	Y	D	Y	D
Y	D	D	Y	D
Y	Y	Y	Y	Y

Tablodaki değerlerin oluşması için a ile b önermesi yukarıdaki eklemlerden hangileri ile birleştirilmelidir?

- A) Yalnız I B) Yalnız II C) Yalnız III
D) Yalnız IV E) III ve IV

28. I. Bütün yorumlamalarında yanlış değer alan önerme

II. Bütün yorumlamalarında doğru değer alan önerme

Yukarıdaki önermeler için aşağıdaki ifadelerden hangisi doğrudur?

	I	II
A) Tutarlı	Tutarlı	Tutarlı
B) Tutarlı	Tutarsız	Tutarsız
C) Tutarsız	Geçerli	Geçerli
D) Geçerli	Tutarsız	Tutarsız
E) Geçerli	Geçersiz	Geçersiz

29.

p	q	r
D	D	Y
D	Y	Y
D	Y	Y
D	Y	Y
Geçerli	Geçersiz	Tutarsız
	Tutarlı	

Yukarıdaki değerlendirmelere göre,

- Tüm yorumlamaları doğru olan önerme geçerli,
- En az bir yorumlaması doğru olan önerme geçersiz, fakat tutarlı
- Tüm yorumlamaları yanlış olan önerme tutarsızdır.


Buna göre, aşağıdakilerden hangisi her yorumlamada eş değerdir?

- A) İki geçersiz önerme
B) İki tutarlı önerme
C) İki geçerli önerme
D) Bir geçerli bir tutarsız önerme
E) Bir geçersiz bir tutarsız önerme

30. $(\sim Ga \wedge \sim Gb \wedge \sim Gc) \Rightarrow (Hav \sim Hbv \sim Hc)$

açılımının E = {a, b, c} evrenine göre önermesi aşağıdakilerden hangisidir?

- A) $\forall xGx \Rightarrow \exists x \sim Hx$ B) $\forall x \sim Gx \Rightarrow \exists x Hx$
C) $\sim \forall xGx \Rightarrow \sim \exists x \sim Hx$ D) $\exists x \sim Gx \Rightarrow \forall x \sim Hx$
E) $\exists x \sim Gx \Rightarrow \sim \forall x \sim Hx$



FELSEFE GRUBU TESTİ

1. Bu testte 30 soru vardır. Bu test için verilen süre 45 dakikadır.
2. Cevaplarınızı, cevap kâğıdının Felsefe Grubu Testi için ayrılan kısmına işaretleyiniz.

1. Psikolojide "organizma" olarak ifade edilen canlı varlıklardan sinir sistemi gelişmiş hayvanlar ve insanlar özellikle de insanlar ele alınır. Bitkiler ise psikolojinin inceleme alanı dışındadır.

Psikolojinin bitkileri ele almayış nedeni aşağıdakilerden hangisidir?

- A) Bitki sayısının fazlalığı
B) Bitkilerin gözlemlenebilen ve ölçülebilen davranışlarının olmayışı
C) Bitkilerin ruhunun olmayışı
D) Bilimin bitkileri orgnaizma kabul etmemesi
E) Bitkilerin yaşam süresinin kısalığı

ESEN YAYINLARI

3. Hakim ilgili kişileri sükûnete davet ederken tokmağını birkaç kez vurur, annemiz yemeğe çağırırken ismimizi birkaç kez tekrarlar.

Bu durum "dikkatin çekilmesi" konusunda temel ilkelerden hangisiyle ilgilidir?

- A) Hareket halindeki uyarıcılar dikkati önce çeker.
B) Alışılmışın dışındaki uyarıcılar dikkati çeker.
C) Tekrarlanan uyarıcının dikkati çekme olasılığı fazladır.
D) Geçmiş yaşantılar algılamada etkilidir.
E) İlgil ve ihtiyaç algılamayı etkiler.

4. Bir çocuğun babasıyla birlikte sigara içtiğini gören bir Türk köylüsü bunu saygısızlık olarak algılamak, bir Avrupalı ise her ikisinin de zararlı bir alışkanlığa sahip olduğu şeklinde algılar.

Yukarıdaki örnekte farklı algılamaları en iyi açıklayan seçenek aşağıdakilerden hangisidir?

- A) Algılama kişiden kişiye değişir.
B) Önyargılar ve tutumlar algıya göre değişir.
C) Algılar kültürden kültüre değişir.
D) İhtiyaçlar ve ilgiler kişiden kişiye değişir.
E) Algılamada kişinin içinde bulunduğu ruhsal durum rol oynar.

5. Fizyolojik güdüler sosyal ve psikolojik güdülerden önde gelmektedir. Çünkü bu tür güdülerin doyurulması zorunludur.

Aşağıdakilerden hangisi doyurulması önce gelen fizyolojik güdüler arasında yer almaz?

- A) Uyku B) Annelik C) Açlık
D) Susuzluk E) Sevgi

6. Öğrenciler "y, ş, s, n" harflerini kaynaştırma harfleri olarak öğrenmekte güçlük çekerken, genellikle bunu "yaşasın" olarak öğrenirler ve daha kalıcı bir hale getirirler.

Yukarıdaki anlatımı genelleyen ifade aşağıdakilerden hangisidir?

- A) İlgil çekici konular daha kolay öğrenilir.
B) Anlamlı konular daha kolay öğrenilir.
C) Güdülenme öğrenmeyi etkiler.
D) Zeka ile öğrenme arasında pozitif korelasyon vardır.
E) Öğrenme bireyin olgunluk seviyesine göre değişir.

7. Sürekli aynı göle balık tutmaya giden bir kişi her seferinde istediği kadar balık tutmaktadır. Bir süre sonra aynı gölde balık tutamamaya başlar ve göle gitmekten vazgeçer.

Bu durum aşağıdakilerden hangisi için uygun bir örnektir?

- A) Deneme yanılma yoluyla öğrenmeye
B) Şartlanmanın sönmesine
C) Genellemeye
D) Ayırt etmeye
E) Şartlanmanın yeniden canlanmasına

8. Her insan, Maslow'un insan güdü ve ihtiyaçlarına yönelik tesbit ettiği piramidin en üst noktasına yani kendini gerçekleştirme aşamasına ulaşamaz. Hatta bu aşamaya ulaşan insanların sayısının oldukça az olduğu görülmektedir. Ancak çoğunca kendini gerçekleştirmiş kişiler olmadığımız halde kısa süren doruk yaşantılarımız olmuştur. Bu tür yaşantılar sürekli olmasa da herkesin yaşayabileceği türden, yaşamdan kısa süreli de olsa insani ve anlamlı bir doyum almayı sağlayan, kendine değerli olduğunu hissettiren, genellikle de başkalarına karşı yapılan yaşam anlarıdır.

Aşağıdakilerden hangisi parçada bahsedilen doruk yaşantılardan değildir?

- A) Verilen görevi tam anlamıyla, adil ve dürüstçe yapmak.
B) Başkasına hiç karşılık beklemeden yardım etmek
C) Birini karşılık ve çıkar beklemeden sevmek
D) Kendi kişiliğini başkalarından üstün görmek
E) Bir vecibe ya da emir olduğundan değil de sırf insan olma bilinciyle, yardım severlik.

ESEN YAYINLARI

9. Hamam böceklerinden çok korkan bir annenin çocuğunun da "hamam böceği" korkusu yaşadığı gözlenmiştir.

Aşağıdakilerden hangisi bu gözlemin sonucu olabilecek niteliktedir?

- A) Korku kalıtsal olarak geçen bir özelliktir.
B) Kişiliğin oluşması anne babanın genetik yapıyla ilgilidir.
C) Korku tepkisi tüm aile bireylerinde aynı biçimde görülür.
D) Korku öğrenilmiş bir davranıştır.
E) Bireyler bazı uyarım türlerine karşı çok duyarlı olarak doğarlar.

10. Okuldaki veliler toplantısına katılan bir veli çocuğu hakkında "uyumlu", "saygılı", "başarılı" değerlendirmeleri karşısında şaşırıp kalmıştır. Oysa bu özellikleri evde hiç yansıtmıyordu.

Bu parçaya göre davranışlara ilişkin olarak aşağıdaki genellemelerden hangisine ulaşılabilir?

- A) Bireyin davranışlarında içsel yaşantıların büyük payı vardır.
- B) Birey grupça beğenilmeyen davranışlarını devam ettirmiştir.
- C) Bireyin davranışları içinde bulunduğu gruba göre farklılık gösterebilir.
- D) Gruplar arasındaki davranış farklarında sosyal motivin etkisi vardır.
- E) Grup davranışlarında bireylerin etkisi vardır.

12. Bir anaokulunda aynı odada yalnız olarak oyun oynayan iki çocuk, kendi oyuncaklarına dalmış durumdayken birbirlerinin farkında değildirler. Aynı yerde olmalarına rağmen aralarında hiçbir etkileşim yoktur. Bu durumda toplumsal ilişkiden söz edilemez. Ne zaman biri diğerinin farkına varır ve söz veya davranışlarıyla onu etkilerse o zaman toplumsal ilişki başlıyor demektir.

Bu parçada anlatılanlar toplumsal ilişkinin oluşması için aşağıdakilerden hangisinin gerekli olduğuna işaret etmektedir?

- A) İlişkinin belli bir süre devam etmesi
- B) Bireylerin aynı ortamda bulunmaları
- C) Bireylerin aynı yaş grubunda olmaları
- D) Bireylerin benzer eylemlerde bulunmaları
- E) Bireylerin birbirinden haberdar olmaları

ESEN YAYINLARI

11. Sosyologlar, toplumsal yaşam içinde gerçekleşen sosyal olaylar üzerinde inceleme yaparken bu olayları olduğu gibi yani bir nesne gibi ele alıp incelemelidir.

Bu parçada bir sosyologta bulunması gereken hangi özellik vurgulanmaktadır?

- A) Sosyal olaylar incelenirken topluma faydalı olanlar ele alınmalıdır.
- B) Sosyal olaylar diğer sosyal olaylarla birlikte ele alınmalıdır.
- C) Sosyal olayların incelenmesinde değer yargılarından arınmak gerekir.
- D) Sosyal olaylar ele alınırken değişimleri de göz önüne almak gerekir.
- E) Sosyal olaylar ele alınırken bu olaylara etki eden tüm faktörler göz önüne alınmalıdır.

13. Din, insanın yaşamsal bir gereksinmesini, ruhsal istemini karşılamaya yöneliktir. Sığınma ve tapınma gereksinimi, dış dünyanın olumsuz, kimi zaman yıkım getiren, acımasız koşulları karşısında, bireyi sığınabileceği yetkin bir güç arayışına yöneltmiştir.

Bu parçada dinin aşağıdaki ifadelerden hangisine bağlı olarak ortaya çıktığı vurgulanmıştır?

- A) Toplumsal düzeni sağlama
- B) İnsanların nasıl yaşamaları gerektiği konusunda onlara yol göstererek yardımcı olma
- C) İnsanların psikolojik olarak rahatlamalarını ve kaygılardan uzaklaşmalarını sağlama
- D) Bireysel dayanışmayı artırma
- E) Kurallar getirerek toplumsal kontrolü sağlama

14. Televizyonda bazı kişilerin yaşam öykülerini seyrettiğimizde, kimilerinin yumurta satarken holding sahibi olduğunu, kiminin bakkalken marketler zinciri oluşturduğunu görürüz. Bu kişilerin bu süreçte toplumsal statülerinde, gelirlerinde ve hayat tarzlarında önemli değişimler meydana gelmiştir.

Parçaya uygun örnek aşağıdakilerden hangisinde yaşanır?

- A) Bir valinin merkez valiliğine atanması
- B) Köydeki tarım işçisinin, şehre göç ederek inşaatlarda işçi olarak çalışması
- C) Bir fabrika işçisinin başka fabrikada çalışmaya başlaması
- D) Yurt dışında işçi olan birinin kesin dönüş yaptıktan sonra ayakkabı fabrikası açması
- E) Bir memurun başka bir ile atanması

16. Belirli bir statüdeki insanın oynadığı birçok rol vardır. Örneğin statüsü üniversite profesörü olan bir kimsenin rolü hocalıktır. Bu hocanın yerine getireceği rollerden bir tanesi öğretmektir. Ancak bunun yanında diğer öğretim üeleriyle meslektaşlık rolü, araştırmacı rolü, yazarlık rolü, danışmanlık rolü de vardır.

Yukarıdaki durumu aşağıdakilerden hangisi en iyi açıklar?

- A) Aynı rol birden fazla kişiye verilebilir.
- B) Her toplum üyelerinden üstlendikleri rolü en iyi biçimde yerine getirmelerini bekler.
- C) Bireyin toplum içinde birden çok statüsü vardır.
- D) Bir statü birçok rolü gerektirmekte veya ortaya çıkarmaktadır.
- E) Roller, çatışmaya yol açabilir.

ESEN YAYINLARI

17. Sosyoloji de kullanılan araştırma tekniklerinden biri de Monografidir. Monografi, bir sosyal grubu belirli bir plân ve ayrıntılarıyla somut olarak incelemektir.

Aşağıdakilerden hangisi bu teknik kullanılarak yapılmış bir çalışmaya örnektir?

- A) Piyasaya yeni sürülen bir mal hakkındaki tüketicici düşüncelerini öğrenmek için bir soru formu hazırlamak.
- B) Nüfusun miktarı, doğum ve ölüm oranları, eğitim düzeyi gibi konuların açıklanmasında yardımcı olmak için elde edilen verilerin grafiklerle gösterilmesi.
- C) Grup içerisinde beğenilen ve dışlanan bireyleri ortaya çıkarmak için gruplaşma ilişkilerini ölçme.
- D) Kan davasının olduğu bir köyde bunun nedenini anlamak için köyde yaşayarak inceleme yapma.
- E) Toplumun yapısını anlamak için örnek bir işçi ailenin tüm ayrıntılarıyla incelenmesi.

15. Teknolojik yönden gelişmiş en modern toplumların bile atalarından kalan bazı gelenekleri ve inançları sürdürdükleri görülür.

Bu durumu aşağıdakilerden hangisi daha iyi açıklar?

- A) Kültürün manevi öğeleri, maddi öğelere göre daha yavaş değişir.
- B) Kültür zamanla değişir.
- C) Maddi öğeler, manevi öğeleri etkiler.
- D) Manevi öğeler, maddi öğeleri etkiler.
- E) Toplumsal değişme ve kültürel değişmeye, sosyo – kültürel değişme denir.

18. Değişik yerleşim birimlerinde yaşayan insanların ihtiyaçları çeşitlilik gösterir. Örneğin gelir düzeyleri aynı olan iki bireyden, Karadeniz bölgesinde yaşayan ile, Doğu Anadolu'da yaşayanın ihtiyaçları farklılık gösterebilir.

Yukarıdaki açıklamada ihtiyaçların çeşitlilik göstermesinin nedeni olarak aşağıdakilerden hangisi gösterilmektedir?

- A) Ülkenin ekonomik sistemi
- B) Bireylerin gelir düzeyi
- C) Yapılan meslekler
- D) İnsanların içinde bulunduğu doğal çevre
- E) Ülkenin gelenek ve görenekleri

ESEN YAYINLARI

19. Orta Çağ Avrupa'sında bir astronomi bilgini olan Bruno ileri sürdüğü bilimsel sonuçlardan dolayı engizisyonda yargılanmış, görüşlerinden vazgeçmediği için ateşe atılarak yakılmıştır. Bruno gibi tarihte sayısız bilim adamı vardır. Bruno gibi bilim adamlarının olmasaydı, belki de insanlık çok daha ilkel bir yaşam sürdürmek zorunda kalacaktı. Bu yüzden bilim adamlarını kendi çıkarlarını bir kenara bırakıp var olan gerçekleri yansıtmalıdır.

Parçada anlatılanlar bilimsel araştırmalarda aşağıdakilerden hangisinin gerekli olduğuna işaret etmektedir?

- A) Araştırma konusunun sınırlarını belirlemenin
- B) Araştırma yöntemini belirlemenin
- C) Doğru olup olmadığı belirlenebilir bir hipotez oluşturmanın
- D) Fiziksel olaylarla sosyal olaylar arasındaki farkı kavramanın
- E) Araştırmalara kendi çıkarlarını karıştırmama ve doğruyu savunmanın

20. Toplum içinde yaşadığımızdan bize ne yapıp, ne yapmamamız gerektiği öğretilir. Eğer beklenen davranışların dışında birşey yaparsak ayıplanır, kınanır ve hatta dışlanır.

Bu durum toplumsal olayların hangi özelliği ile ilgilidir?

- A) Toplu halde yaşamaktan ortaya çıkarlar.
- B) Sayısal olarak ifade edilirler.
- C) Kuşaklar arasında aktarılırlar.
- D) Bireye baskı yapar ve kendine uymaya zorlarlar.
- E) Zaman içinde aynı toplumda bile değişirler.

21. Psikoloji ister normal olsun isterse normal olmasın, ayırım yapmadan her türlü insan zihnini konu edinir. Mantık ise yalnız yetişkin ve normal insan zihninin etkinliğini konu edinir.

Parçada psikoloji ile mantığın hangi yönden farklı oldukları vurgulanmıştır?

- A) Olgusalıkları
- B) Amaçları
- C) Zihni ele alışları
- D) Deneysel olup olmamaları
- E) Sonuçlarının kesin olup olmamaları

22. Dil aracılığıyla inanç, düşünce, tasarı ve isteklerimizi başkalarına bildirdiğimiz gibi, bazı duygu veya tutumlarımızı açığa vurur, hatta bazı isteklerimizin yerine getirilmesini sağlar.

Parçada aşağıdakilerden hangisi vurgulanmıştır?

- A) Dilde işaret sistemlerinin kullanıldığı
- B) Dilin bir inanç veya iddiayı dile getirdiği için her zaman doğru olduğu
- C) Hayvanların da işaret sistemleri kullandığı
- D) Belli bir dilsel deyimden hangi niyet veya amaçla kullanıldığını bilmek gerektiği
- E) Dilin birçok görev yüklediği

23. Farklı yargıda bulunmalarına rağmen, aynı doğruluk değerine sahip olan iki önerme eş değerdir.

Buna göre, "Her insan canlıdır" önermesinin eş değeri aşağıdakilerden hangisidir?

- A) Bazı canlılar insandır.
- B) Bazı insanlar canlı değildir.
- C) Hiçbir canlı insan değildir.
- D) Bütün canlılar insandır.
- E) Bazı insanlar canlıdır.

24. Özne ile yüklemi aynı olan iki önerme yalnız nicelik yönden farklı ise bu tür önermelere altık önerme denir.

Buna göre,

- I. Tümel olumlu (A)
- II. Tümel olumsuz (E)
- III. Tikel olumlu (I)
- IV. Tikel olumsuz (O)

önermelerinde hangilerinde "altık" ilişkisi vardır?

- A) I ile III ve II ile IV arasında
- B) I ile II ve III ile IV arasında
- C) II ile III ve I ile IV arasında
- D) I ile III ve I ile IV arasında
- E) II ile III ve III ile IV arasında

25. Kıyas kurallarına göre sonuç önermesi "tikel olumlu" olan bir kıyasın öncül önermeleri için aşağıdakilerden hangisi kesinlikle söylenebilir?

- A) Öncüllerden biri tikedir.
- B) Her iki öncül tikedir.
- C) Öncüllerden biri tümeldir.
- D) Birinci öncül olumludur.
- E) İkinci öncül tikedir.

26. I. Üretim artırılırsa enflasyon azalır.
II. Taş sert değildir.
III. Seniha ve Esra uzun boyludur.
IV. Murat ancak ve ancak suya girerse yüzme öğrenir.
V. Abim ile parka veya markete gideceğiz.

Yukarıdaki önermelerde kullanılan önerme eklemeleri sırasıyla aşağıdakilerden hangisidir?

	I	II	III	IV	V
A)	^	v	⇔	~	⇔
B)	v	^	⇒	⇔	~
C)	⇒	v	⇔	^	~
D)	~	^	⇒	⇔	v
E)	⇒	~	^	⇔	v

27. "p" önermesi basit önermedir.
"~ p" önermesi bileşik önermedir.

Buna göre, bir önermenin bileşik olması için aşağıdakilerden hangisine sahip olması gerekir?

- A) Doğruluk değeri almasına
- B) Bir yargı bildirmesine
- C) Bir niceleyiciye sahip olmasına
- D) Bir önerme eklemi almasına
- E) Doğru değeri almasına

ESEN YAYINLARI

28.

p	q	r	s
D	Y	D	Y
Y	Y	Y	D
D	D	Y	D
D	Y	D	Y

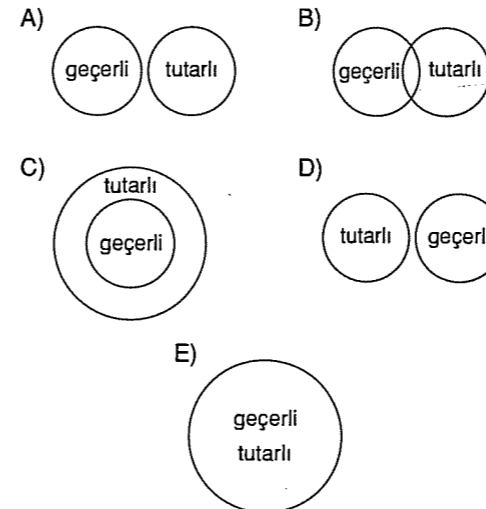
Yukarıdaki doğruluk çizelgelerinde p ile q önermesi birlikte tutarlı, r ile s önermeleri birlikte tutarsızdır.

Buna göre, iki ayrı önermenin birlikte tutarlı olması için aşağıdakilerden hangisi gereklidir?

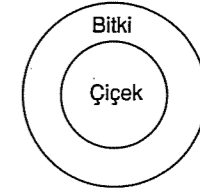
- A) Her iki önermenin ayrı doğruluk değerlerine sahip olması
 B) Her iki önermenin yanlışlayıcı yorumunun olması
 C) Her iki önermenin en az birer doğru değerlerinin olması
 D) Her iki önermenin aynı satırında doğru değerinin olması
 E) Her iki önermenin bütün yorumlamalarının farklı değerinde olması

29. I. En az bir yorumlaması doğru olan önerme tutarlıdır.
 II. Bütün yorumlamaları doğru olan önerme geçerlidir.

Buna göre, geçerlilik ile tutarlılık ilişkisini gösteren diyagram aşağıdakilerden hangisidir?



30.



B: Bitki Ç: Çiçek

Yukarıdaki diyagramdan aşağıdaki önermelerden hangisine ulaşılır?

- A) $\forall x(\text{Ç}x \Rightarrow \text{B}x)$ B) $\forall x(\text{B}x \wedge \text{Ç}x)$
 C) $\exists x(\text{B}x \wedge \text{Ç}x)$ D) $\sim \exists x(\text{Ç}x \Rightarrow \text{B}x)$
 E) $\exists x(\sim \text{B}x \Rightarrow \sim \text{Ç}x)$

TARİH

1. Türk bozkır kültüründe atlı göçebelik esastır. Temel uğraş alanları hayvancılıktır. Göçebe bir toplum olduklarından yerleşik hayatın gerçeklerinden olan tarımla uğraşmamışlardır. Ayrıca göçebe toplumlardaki sanatsal faaliyetler kalıcı malzemeler yerine taşınabilir malzemeden yapılmıştır. Bu nedenle her üç öncüde cevapta yer alır.

Cevap E

2. Hun - Çin mücadelesinde Türklerin genel taktiği vur - kaçtır. Çünkü Çin nüfusu kalabalıktır. Hunlar askeri anlamda Çin topluluklarını işgal edebilecek güçte olmalarına rağmen Mete Han milletin kalabalık Çin nüfusu ve yerleşik Çin kültürü içinde asimile olmasını önlemek istemiştir. Bu nedenle B şıkkı Mete'nin politikasını karşılamaktadır.

Cevap B

3. Köktürkler : Türk dilinin en eski alfabesi olan Köktürk alfabesini kullanmıştır. Uygurlar : Uygurlar kendilerine has 18 harfli Uygur alfabesini kullanmışlardır. Avarlar, Hazarlar, Peçenekler gib Türk devletleri çeşitli yerlere dağılmışlar ve dolayısıyla gittikleri yerlerin ve etkilendikleri kültürlerin alfabelerini kullanmışlardır. Büyük Selçuklu ve Osmanlılar Arap alfabesini kullanırken, Türkiye Cumhuriyeti ve Kuzey Kıbrıs Türk Cumhuriyeti Latin alfabesini kullanmaktadırlar.

Cevap A

4. Türk tarihindeki "Devlet (ülke) hanedanın ortak malıdır". anlayışının varlığı sık sık taht kavgalarına neden olmuştur. Bu kavgaların sonucunda devlet kısa sürede yıkılmıştır. Uzun süreli devletin yaşayamaması güçlü medeniyet oluşumunu da etkilemiştir. Taht kavgaları düşman devletlerin Türk devletlerinin işlerine karışmasına zemin hazırlamıştır. Türkler'de töre gereği toplumsal sınıflaşma ve sosyal tabakalaşma yoktur.

Cevap E

5. Karahanlılar'da devletin resim dili ve halkın konuşma dili Türkçe'nin Hakaniye lehçesidir. Yazı olarak Uygur alfabesini kullanmışlardır. Gazneliler'de saray ve ordu Türkçe konuşurken yazışma Arapça, edebiyat dili Farsçadır. Büyük Selçuklular'da ve Türkiye Selçuklularında edebiyatta Farsça kullanılmıştır. Osmanlılar'da da şiir ve edebiyatta Arapça ve Farsça'nında karışmasıyla oluşan Osmanlıca kullanılmıştır. Dolayısıyla Fars kültüründen özellikle edebiyatta Karahanlılar hariç diğerleri etkilenmiştir.

Cevap D

6. İktâ : Türk İslam devletlerindeki toprakların genel adıdır. Toprak devlete aittir. İşlemesi maaş karşılığı devlet memurlarına bırakılırdı. Vakıf : Türk İslam toplumlarında gelirleri sosyal amaçlı kullanılmak için ayrılan topraklardı. Mülk arazileri ise ev, bahçe ve ağıl gibi taşınmaz mallardı. Mülk araziler çocuklarına miras bırakılabilir, alınıp satılabilir. İktâ ve vakıf arazilerinin alınıp satılması ve miras bırakılması söz konusu değildi.

Cevap C

7. **Kutadgu Bilig:** Uygur Alfabesiyle Yusuf Has Hacip tarafından yazılmıştır. İdeal devlet yönetiminden bahseder. İslami Türk edebiyatının ilk yazılı örneğidir.

Siyasetname: Selçuklu veziri Nizamülmülk tarafından yazılıp Sultan Melikşah'a sunulmuştur. Eserde devlet yönetimi ile ilgili öğütler vardır.

Divan-ı Hikmet: Hoca Ahmet Yesevi tarafından dini ve ahlaki öğütler içeren şiirsel bir anlatımla yazılmıştır.

Şehname: Firdevsi'nin İran - Turan Savaşları'nı anlatan eseridir. Gazneli Mahmut'a sunulmuştur.

Divan-ı Lugatı't Türk: Kaşgarlı Mahmut'un yazdığı Ansiklopedik sözlük niteliği taşıyan eserdir.

Türkçe'nin Arapça kadar zengin bir dil olduğunu göstermeyi amaçladığını söyler.

Cevap E

8. Tuğrul ve Çağrı Bey'lerin 1048 Pasinler Savaşı öncesi Anadolu'ya keşif amaçlı birlikler göndermesi Anadolu'yu tanımak ve Bizans'ın gücünü kırmak içindir. Psikolojik olarak Bizans'ı yıpratana Selçuklular 1048 Pasinler Savaşı ile Bizans'ın etkinliğine büyük bir darbe vurmuş oldu. 1071 Malazgirt Savaşı ile de Anadolu toprakları Türklerin eline geçmeye başladı. 1077 de Selçuklular Marmara'ya ulaştılar.

Cevap A

9. İslam öncesi ve İslami dönem Türk töresinde ülkenin ikiye ayrılması vardır. Ülke doğu ve batı diye ikiye ayrılarak doğu'da büyük kağan batı da ise Yabgu oturur ve ülkeyi idare ederlerdi.

Karahanlılar ikili yönetimi devam ettirdi. Böyle bir yönetim anlayışı federatif yönetim anlayışıdır.

Cevap B

10. Türk İslam, devletlerinde hükümdarın görevleri öğüt kitaplarında şöyle sıralanır;

- Ekonomik istikrarı sağlamak
- Geçim sıkıntısı oluşturmamak
- Kanunları adalete uygun olarak belirleyip uygulamak
- Zorbalık ve kargaşaya engel olmak
- Ülke içinde dirlik ve düzeni sağlamak
- Halkın mutluluk ve refah içinde yaşamasını sağlamak

Dolayısıyla hazine hakkı olan vergiyi ödemek halkın vazifesidir.

Cevap D

11. Malazgirt Savaşı'ndan sonra Sultan Alp Arslan komutanlarını Anadolu'nun fethi için görevlendirmiştir. "Feth edilen toprak edenindir." anlayışını ortaya koyarak komutanların daha istekli fetih politikası gütmelerini sağlamak istemiştir. Bu nedenle 1077'ye geldiğinde Kutalmışoğlu Süleyman Bey İznik merkezli Anadolu Selçuklu Devleti'ni kurmuştur.

Cevap B

12. Mekke ve Medine İslam toplumları için Kabe ve Hz. Muhammed'in kabrinden dolayı kutsal kabul edilmiştir. Bu kentler İhşidiler, Memlükler, Selçuklular ve Osmanlılar döneminde Türklerin egemenliğinde bulunmuştur. Karahanlı sınırları Aral Gölü ve Horasan bölgesinde bitmiştir. Bu nedenle Mekke ve Medine'ye sahip olamamışlardır.

Cevap A

13. 1048 Pasinler Savaşı Büyük Selçuklular'ın Bizans'la Anadolu için yaptığı ilk savaştır. 1071 Malazgirt Savaşı, Büyük Selçuklular'ın Bizansla yaptığı ve Anadolu'nun kapısının Türklere açıldığı savaştır. 1176 Miryokefalon Savaşı, Bizans'ın amacı Türkleri Anadolu'dan çıkartmak Türklerin amacıysa Anadolu'da kalıcı olmaktır.

Cevap C

14. Osmanlı Devleti'nde başlangıçta; hanedan üyelerinin erkek çocukları tahta geçerken, I. Murat'la birlikte ülke padişah ve çocuklarının malıdır anlayışına geçilmiştir. Duraklama Dönemi'nde ise I. Ahmet'le birlikte "erşed ve ekber" sistemine geçilerek en akıllı ve en yaşlı hanedan üyesi tahta geçmiştir.

Cevap D

15. Yavuz Sultan Selim'in 1516 - 1517 Mısır Seferi sonucunda Halifelik Memlüklerden Osmanlılara geçmiştir.

Cevap D

16. Osmanlılar'da Divan ilk defa Orhan Bey döneminde kurulmuştur. II. Mahmut Divanühümayunu kaldırarak nazırlıkları kurmuştur.

Yeniçeri Ocağı'nın temeli I. Murat döneminde atılmış ve II. Mahmut zamanında kaldırılmıştır. Enderun mektebi, II. Murat zamanında temeli atılmış Fatih döneminde kuruluşu tam gerçekleşmiştir. Dağılma döneminde kaldırılmıştır.

Cevap E

17. Osmanlı Devleti 1683'deki II. Viyana Kuşatması'nda başarısız olunca Avrupalı devletler birleşerek 1683'ten 1699'a kadar sürecek Kutsal İttifak Savaşları'nı başlatmışlardır. Osmanlı Devleti Podolya ve Ukrayna toprakları başta olmak üzere Macaristan'ın büyük bir kısmını Dalmasya kıyılarını kaybetmiştir. Bu durum Osmanlı Devleti'nin gerilediğini göstermiştir.

Cevap B

18. Kazasker: Divanda adalet ve eğitimle ilgili konulardan sorumludur. Donanma ve askeri konularda görüş bildiren ise Kaptanıderya'dır.

Cevap C

19. Osmanlı Devleti'nde tüccar ve zanaatkarların oluşturduğu şehirli nüfusunun, köylerde yaşayan nüfustan az olmasında çarpık bir kentleşme yaşanmasının etkisi yoktur.

Cevap B

20. Osmanlı Devleti'nde ulemanın karşı çıkması, hattatların çok olması ve onların işsiz kalmasının önlenmesi için Müslüman ahalinin matbaayı kullanmasına karşı çıkmıştır. Matbaa'nın gelmesi ulema ve hattatların çıkarlarına terstir.

Cevap D

21. Coğrafi Keşifler sonucu Amerika kıtasının yeni bir kıta olduğunun anlaşılması Avrupa'dan göçleri hızlandırdı. Amerika kıtasında İngiliz, Fransız, İspanyol ve Portekiz koloniliği başladı. Bunun sonucunda hammadde kaynakları bakımından zengin Amerika topraklarında hammaddeyi kullanmışlardı. Böylece ekonomik faaliyetler hız kazanmış oldu. Amerika kıtasında nüfus artışı azalma yerine göçlerle çoğaldı.

Cevap D

22. Viyana Kuşatması Kutsal İttifak Savaşları'nın başlamasına, büyük oranda toprak kaybına ve Osmanlı'nın başarısız olmasına neden olmuştur. Celali İsyanları'nın çıkmasında ise tımar sistemi ve merkezi otoritenin bozulması etkili olmuştur.

Cevap C

23. Osmanlı Devleti'nin XVIII. yüzyılda Avrupa'da sürekli elçilikler açması Avrupa ile olan diplomatik ilişkilere önem verdiğini gösterir.

Cevap A

24. Rusya'nın en büyük amacı Balkan uluslarını Osmanlı'dan ayırarak, panislavizm politikasını gerçekleştirmektir. Bulgaristan, Sırbistan, Karadağ ve Romanya'nın bağımsız olması Rusya'nın panislavizm politikasının amacına ulaştığını gösterir.

Cevap D

25. Napolyon'un Mısır'ı işgaliyle İngiltere ve Rusya, Osmanlı Devleti'yle ittifak kurmuştur. Böylece ilk kez Osmanlı toprakları üzerinde çıkar tartışması başlamıştır. Hatta İngiliz donanması Ebukır'da Fransız Donanmasını yakmıştır. Ruslar'da Boğazlar'dan savaş gemilerini Akdeniz'e indirmiştir.

Cevap C

26. Osmanlı Devleti'nde Divan'da adalet işlerinden "kazas-ker" sorumludur. Bu nedenle yargı ve mahkemelerde kazas-ker'e bağlıdır. Defterdar, mali işler, Nişancı, tapu kadastro, işleriyle uğraşır. Padişahın mührünü taşırdı.

Reisülküttap: Yazışmalara, dış işlerine bakardı.

Kaptanıderya: Deniz ordusunun başıdır.

Cevap A

27. Osmanlı Devleti'nde her din, ırk ve mezhep özgürce yaşamıştır. Kimsenin ibadetine, dinsel törenlerine karıştırılmamıştır. Devletin düzenine karşı çıkılmaması karşısında ferdi ve toplumsal özgürlükler genellikle kısıtlanmamıştır.

Cevap C

28. Osmanlı Devleti'nin Kuruluş Dönemi'nde daha çok askeri yapılanmaya ve fetihlere öncelik vermesi eğitim ve kültür faaliyetlerine gerektiği gibi önem vermesini engellemiştir.

Cevap D

29. Lale Devri (1718 - 1730)'nde askeri ve dini mimariden çok sivil mimari gelişme göstermiştir. İstanbul'da birçok köşk, kasır ve konak inşaa edilmiştir. Batı tarzı mimari üslup benimsenmiştir. III. Ahmet çeşmesi devrin önemli sivil mimari eserlerinden biridir.

Cevap B

30. 1878 Berlin Antlaşması'yla; Karadağ, Sırbistan ve Romanya bağımsız olmuştur. Yunanistan 1829 Edirne Antlaşması'yla bağımsız olmuş. Bulgaristan ise 1908'de bağımsız olmuştur.

Cevap A

31. Çanakkale Savaşlarından sonra müttefiklerinden yardım alamayan Rusya'da Bolşevik İhtilali çıkmış ve Rusya savaşta çekilmiştir

Cevap B

32. Tarihi olaylarda birinin sonuçları diğer bir olayın nedenleri olabilir. Sorudaki şıklardan A şıkkı hariç hepsi I. Dünya Savaşı sonrası olaylardır. Fransız İhtilali'nin yaydığı milliyetçilik, eşitlik, adalet ve hürriyet fikirleri birçok toplum ve devleti etkilemiştir. Özellikle milliyetçilik düşüncesi I. Dünya Savaşı'nın son kıvılcımını oluşturmuş ve ateşlemesine neden olmuştur.

Cevap A

33. I. Dünya Savaşı'na "Büyük Savaş" denmesinin ana nedeni uzun sürmesi, ya da çok sayıda devletin katılması değildir. Büyük Savaş denmesinin nedeni topyekün savaş olmasıdır.

Cevap C

34. II. Dünya Savaşı 6 Kasım 1937'de kurulan Berlin - Roma - Tokyo mihveri denilen "Mihver Grubu" ve İngiltere, Fransa, Sovyet Rusya'nın oluşturduğu "Müttefik Grubu" SSCB II. Dünya Savaşı'nda müttefik grubundadır.

Cevap C

35. II. Dünya Savaşı sırasında Almanya'nın üzerinde bulunduğu toprakların Alman ırkına yeterli gelmeyeceğine ilişkin mevcut olan fikir, Hitler tarafından Almanya'nın Avrupa'da yayılma politikasının bir gerekçesi olarak kabul edilmesi sonucunda "Hayat Sahası" ortaya çıkan fikirdir. Maginot Hattı: Fransız Generaller 1830'da dünyanın en güçlü savunma hattını kurmuşlardı. Almanlar İkinci Dünya Savaşı sırasında kısa sürede bu hattı geçtiler. Meiji Restorasyonu: Japon kalkınmasının ana hatlarını çizen projelerdir.

Bizim Akdeniz: İtalya'nın Faşist lideri Mussoloni'nin eski Roma topraklarına sahip olma hayalidir.

1815 Viyana Restorasyonu: Fransız İhtilali'ni sonuçsuz bırakmak için Avusturya'nın öncülüğünde Avrupa Devletleri'nin mevcut sınırlarını koruma düşünceleridir.

Cevap A

36. II. Dünya Savaşı öncesi (17 Eylül 1933) Albert Einstein, Mustafa Kemal Atatürk'e Almanya'da ırkçılık nedeniyle yeni profesör olmuş kırk kadar bilim adamının görev yapmadığını ülkenize kabul ederseniz bunların faydalı olacağını belirtir bir mektup yazmıştır.

Türkiye Alman Yahudilerini kabul etmiş ve üniversitelerin kurulmasında bunlardan yararlanmıştı. Bu durum gösteriyor ki Türkiye hoşgörülü bir devlettir. Türkiye mültecilere her zaman kapılarını açmıştır. Aynı zamanda barışçı bir devlettir.

Cevap A

37. II. Dünya Savaşı'nda İngiltere, Fransa, ABD ve Sovyet Rusya galip gelen devletlerdendir. Ancak İngiltere ve Fransa'nın ekonomik kayıpları, sömürgelerin bağımsızlaşmaya başlaması nedeniyle güç kaybı olmuştur.

Sovyet Rusya'nın komünist ideolojiye dayalı devlet anlayışı, sömürgeci ve yayılmacı politika gütmesi, Doğu Avrupa'daki sanayi tesislerini sökerek ülkesine taşınması onu öne çıkartmıştır.

ABD ise güçlü ekonomisi nedeniyle Sovyet Rusya'nın karşısında yer almış ve iki kutuplu dünya ortaya çıkmıştır.

Cevap E

38. Adolf Hitler, Benito Mussoloni ve Josef Stalin'in ortak yönleri diktatör olmalarıdır. Üç liderde ülkelerinde herşeyi kontrol altına almış ve bunu yaparken de baskı ve şiddete başvurmadan kaçınmamışlardır.

Cevap A

39. II. Dünya Savaşı'ndan sonra dünya iki kutuplu hale gelmiştir. Bir tarafta ABD'nin başını çektiği demokratik ülkeler ve onların siyasi ve askeri örgütleri diğer tarafta Sovyetlerin başını çektiği komünist ülkeler ve onların siyasi askeri örgütleri.

Soğuk Savaş'ın müttefik olmayan sadece düşman olabilir mantığı Batı Blok'u ve Doğu Blok'unun kurulmasına neden oldu. Bu duruma Soğuk Savaş dendi.

Cevap D

40. Salt II Antlaşması'nın imzalanmasının önemi, stratejik ve uzun menzilli nükleer silahların sınırlandırılmasıdır. Ancak bu antlaşmalar yürürlüğe girmemiştir. Amerika kamuoyu üstünlüğün Sovyetlere geçtiğini düşünerek tepki göstermiştir. Sovyetlerin Afganistan'ı işgali Amerikayı antlaşmaları onaylamaktan vazgeçirmiştir.

Cevap A

41. ABD ve Sovyet Rusya'nın uzay yarışı ve silahlanma yarışı dünyada dehşet dengesinin ortaya çıkmasına neden olmuştur. Her iki tarafın aşırı silahlanması çıkabilecek bir üçüncü dünya savaşının felaketinden korktukları için dengeli olmaya çalışmışlardır. Bu durum Yumuşama Dönemi ni başlatmış ve silahların sınırlandırılması görüşmelerini başlatmıştır.

Cevap B

42. Özbekistan : 447. 400 km²
Kazakistan : 2. 717. 300 km²
Kırgızistan : 198. 500 km²
Türkmenistan : 488. 100 km²
Azerbaycan : 86. 600 km²

Cevap B

43. TİKA, 24 Ocak 1992'de başta Türk dilinin konuşulduğu ülkeler ve komşu ülkeler olmak üzere, gelişmekte olan ülkelerin kalkınmalarına yardımcı olmak, bu ülkelerle ekonomik, teknik, sosyo - kültürel ve eğitim alanlarında iş birliğini geliştirmek amacıyla kurulmuştur.

TİKA, Türk soylu ülkelerin devlet yapılarını güçlendirmeye de çalışmaktadır. Ancak bunların dış politikalarına karışmamaktadır.

Cevap E

44. Mihail Gorbaçov'un ortaya koyduğu Glasnost ve Perestroika politikasının amacı yeniden yapılanmadır. Köhneleşmiş komünist sistemin revize edilmesidir. SSCB'de gerek ekonomik gerekse siyasi merkezîyetçiliğin ortadan kaldırılmasına dönük faaliyetlerdir.

Glasnost ve perestroika'nın kapitalist sisteme tamamen geçme, ayrılıkçılık çıkartma, savaşlara son verme, silah yarışını bırakma gibi politikaları yoktur.

Cevap A

COĞRAFYA

1. Taç Mahal, Çin Seddi, Pisa Kulesi ve Keops Piramidi insan emeği olarak ortaya çıkmıştır. Jeolojik ve jeomorfolojik süreçlerle ortaya çıkan yapı Colorado Kanyonu'dur.
Cevap C
2. Jeolojik mirasları korumak amaçlı yerel örgütlerle bölgesel çalışmalar yapmak köklü çözüm değildir. B, C ve E şıkları çözümü global ölçekte aldığından, A şıkkı ise sürdürülebilir doğal kaynak kullanımı ile doğal kaynakları korumayı taahhüt ettiği için köklü çözümlerdir.
Cevap D
3. İzmir Alaçatı rüzgâr ile enerji üreten santraldir. Dolayısıyla çevresel riski daha azdır.
Cevap B
4. Marsilya maden rezervi ile değil limancılık faaliyetleri ile ön plandadır.
Cevap C
5. Sürdürülebilir kalkınma doğal kaynak üretimi ile tüketimi arasında dengeyi gerektirir.
Cevap C
6. A, B, C ve D seçenekleri biokütlenin olumlu etkileridir.
Cevap E
7. İngiltere'de gözlemlerin gönüllü kişilerce yapılması sivil toplum bilincine, sele önceden tedbir alınması ise erken uyarı sistemine örnektir.
Cevap E
8. Gurup ve tan süreleri Ekvator'dan kutuplara doğru gidildikçe kısalır. Verilen noktalardan Y Ekvator'da X ve Z ise dönenceler üzerindedir. Bu nedenle Z'de gurup ve tan süresi Y'dekine göre daha uzundur.
Cevap B

9. Xantos Letoon Antalya, Kaş'ta yer alan tarihi yer ile Sfaranbolu evleri UNESCO Dünya mirası listesindedir.
Cevap E
10. Hollanda'nın milli gelirinin diğer ülkelerden daha az olmasına rağmen kişi başına düşen milli gelirinin diğerlerinden fazla olması ülke nüfusunun diğer ülkelerden daha az olması ile ilgilidir.
Cevap D
11. Haritada sadece şekerpancarının ekim alanları verilmiştir. Bu yüzden sadece ekim alanları ile ilgili yorum yapılabilir.
Cevap C
12. Paragrafta siyanürün ortaya çıkardığı sonuçlar verilmiştir. Bu maddenin tarım alanlarına, derelere ve biyolojik hayata verdiği zararlar örneklendirilmiştir.
Cevap A
13. Esiş yönü, ortamı ve dönemi verilen rüzgârlardan A seçeneğindeki rüzgâr yamaç boyunca alçalarak ısınan föhn rüzgârını göstermektedir. Diğer rüzgârlar ise estikleri ortamın sıcaklığını düşürür.
Cevap A
14. Deprem, heyelan, sel, çığ ve kaya düşmesi afetlerinde arazinin jeolojik ve jeomorfolojik yapısının etkisi vardır.
Cevap B
15. Mantonun üst kesimi kızgın ve akışkandır. Astenosfer de denilen bu bölümde gerçekleşen konveksiyonel akıntılar belirtilen tektonik olaylara neden olur.
Cevap C
16. İstanbul iç ticaretin çekim ve dağıtım merkezlerinde büyük şehirlerden, İzmit, Adana ve Bursa orta büyüklükteki şehirler konumundadır.
Cevap B

FELSEFE GRUBU

1. Paçada psikolojinin iç yaşantıları (zihinsel oluşumlar da denebilir) incelediğinden bahsedilmektedir. Diğer seçenekler psikolojinin bu özelliği ile ilgili parçadan çıkarılabilecek ifadelerken "psikolojinin gözlemlenebilen davranışları incelemediği" söylenemez.
Cevap D
2. Aktif gözlemden gözlemci olaya katılıp yönlendirmekte, gerektiğinde müdahale etmekte ve gözlemin koşullarını (ortam, yer ve zaman gibi) belirlemektedir. Ancak bu gözlem türünde "araştırmacı gözleme müdahale edemez" denemez.
Cevap E
3. Nesnelerin tek tek parça halinde değil de bir bütün olarak algılanmasına algıda bütünlük denmektedir. Burada da bir cümledeki kelimeyi bütün olarak algılamakta olduğumuz görülebilir.
Cevap C
4. Uyarıcının şiddetinin organizmanın duyum eşiği sınırları içerisinde olması gerekir. Duyum eşiği: Uyarıcıların organizma tarafından alınabileceği sınırları belirtir. Burada da kulağın duyması için saatin sesinin bu eşiğe yakın bir degerde olması gerekir.
Cevap B
5. Öğretmenin soruları, sınav sonrası öğrencilerle birlikte gözmesi sonuçların bilinmesini -öğrencinin neyi bilip bilmediğini görmesini- sağlayacaktır (bu ise öğrenmeyi kolaylaştıran bir ilkedir.).
Cevap B
6. Organizma ihtiyacı yönünde seçici davranmaktadır. Susuz biri de susuzluk gereksinmesine bağlı olarak yiyeceğe değil suya yönelecektir.
Cevap C
7. Bu parçadaki örnekte de görülen koşullanma yoluyla oluşmuş, koşullu davranışın zaman içerisinde kaybolmasına koşullanmanın sönmesi denmektedir.
Cevap D

8. Parçadaki örnekteki zenci karşıtı veya yandaşı olmak bir tutum olup algı üzerinde etkili olmaktadır.
Cevap B
9. Yetenek üzerinde doğuştan gelen özelliklerin, toplumsal grupların, alınan eğitimin ve genetik yapının etkisi olduğu ancak bireyin ailesinin tanınmış olmasının fazla etkisinin olmayacağı düşünülebilir.
Cevap D
10. Bireyin yapmış olduğu belirli bir davranışa hafifletici mazeretler bulma biçiminde görülen "rasyonalizasyon"da (bahane bulma, mantığa bürüme) birey mazeretler bularak, kendi davranışını olduğundan daha az yanlış, ya da tuhaf gösterme eğilimindedir. Burada da birey içki içme davranışının sebebini sağlığını bahane ederek açıklamakta ve kendini savunmaktadır.
Cevap E
11. Parçada yer alan ormanların yok olması, deprem, sel v.s. doğal olaylar olup bu olayların toplumsal sorunlara ya da olaylara yol açtığı söylenmektedir. Dolayısıyla toplumsal olaylar ile doğal olaylar arasında ilişki olduğu görülmektedir.
Cevap A
12. Parçada verilen örnekler karşılaşılan yeni durumların doğurduğu sorunlar karşısında yeni hukuksal düzenlemeler gerektirdiğini göstermektedir. Bu durum "karşılaşılan toplumsal sorunlar yeni hukuk kurallarının doğmasına neden olur" yargısına örnektir.
Cevap B
13. Sosyal ilişki, en az iki insan arasında olan, ortak bir anlam taşıyan, karşılıklı etkileşim, belli bir süreklilik taşıyan ilişkilere dir. Ancak sosyal ilişki olumlu nitelik taşımak zorunda değildir.
Cevap D
14. Toplum içinde bazen resmi ve resmi olmayan normlar tartışılmaktadır ki verilen parça da bu duruma örnektir.
Cevap D

15. Parçada yer alan açıklamalarda görüleceği gibi (örneğin kurak iklim veya dağlık bölgeye sahip olmak), doğal çevre yapılan üretimin ne olduğunu (üretim biçimini) etkilemektedir.

Cevap C

16. Parçada verilen örnekte, kentleşmede, nüfus artış oranının fazla olmasında iş olanaklarının fazla olduğu düşüncesi temel neden olarak görülebilir.

Cevap E

17. Parçada toplumsal değerlerin nesilden nesile, kuşaktan kuşağa aktarılabilmesinden bahsedilmektedir.

Cevap C

18. Toplumsal düzende devamlılık aile ile sağlanır; toplumun değer ve normları ilkin ailede öğrenilir. Bu nedenlerle aile toplumun temel kurumu sayıldığı için toplumlar ve dinler ailenin korunmasını ve devamını sağlamak için parçadaki gibi tedbirler almışlardır.

Cevap C

19. Toplumsal denetim (sosyal kontrol), toplumun düzenini sağlama amacıyla, toplumsal norm ve değerlerle bireye nerede nasıl davranacağını gösteren ve her toplumda varolan bir toplumsal mekanizmadır. Ancak her toplumda aynı biçimde görülmez çünkü toplumların değerleri, kuralları ve yapısı birbirinden farklıdır.

Cevap A

20. Parçada vurgulandığı gibi toprağa yerleşmemiş (ilkel) toplumlarda devlet örgütü yoktur.

Cevap C

21. Parçada mantığın insana sağladığı faydalar vurgulanmıştır.

Cevap A

22. Birbiriyle çelişik olan iki düşünceden biri doğru ise diğeri mutlaka yanlış, biri yanlış ise diğeri mutlaka doğrudur. Bu çelişmezlik ilkesi gereğidir.

Cevap B

23. Örnek verilen kavramlara baktığımızda, her bir kavramın diğerinin hiçbir bireyini kapsamadığını görürüz.

Cevap B

24. Sınırlandırıcı önerme, yargıda sözü edilen konunun önceki ve sonraki halini bildiren önermelerdir. Bu tür önermelerdeden beri,dan beri,den bu yana,dan bu yana gibi kelimeler kullanılır.

Cevap C

25. "Öğrencilerin çoğu" yerine "Öğrencilerin bir kısmı", "Bazı öğrenciler", "Bir kaç öğrenci" kullanılabilir. Bazı, kimi, kimileri, bir kaç, bir kaç kelimeleri çoğu yerine kullanılabilir.

Cevap D

26. Veya (v) eklemine ana eklem olarak kullanıldığı bir bileşik önermenin doğru değerini alması, ana bileşenlerden herhangi birinin "D" değerini almasına bağlıdır. Yani, bileşenlerden birinin "D" olması yeterlidir. Bu nedenle $(p \Rightarrow q) \vee (q \Rightarrow p)$ önermesinin doğruluk değerleri şöyle olur:

p	q	$p \Rightarrow q$	$q \Rightarrow p$	$(q \Rightarrow q) \vee (q \Rightarrow p)$
D	D	D	D	D
D	Y	Y	D	D
Y	D	D	Y	D
Y	Y	D	D	D

Cevap E

27. $p \Rightarrow q$ önermesinin eş değeri $\sim p \vee q$ önermesidir. Buna göre, $\sim p \Rightarrow q$ önermesinin eşdeğeri $p \vee q$ önermesidir.

Cevap D

28. "Veya" eklemiyle "ya da" aynı anlama gelmektedir.

Cevap E

29. Eğer iki önerme bütün yorumlamalarında aynı değerleri alıyorsa, bu iki önerme eş değerdir. I. ile III. önermenin bütün değerleri aynı olmadığı için bu iki önerme eş değer değildir.

Cevap D

30. $\forall xFx$ genel önermesi önerme eklemi almamıştır, basit önermedir. $\forall xFx \wedge \exists xGx$ genel önermesinde ise \wedge eklemi kullanılmıştır. Önerme eklemi aldığı için de bileşik önermedir. Bir basit önermenin bileşik önerme olabilmesi için önerme eklemlerinden birini alması gerekir.

Cevap A

Cevap Anahtarı

TARİH

1. E	6. C	11. B	16. E	21. D	26. A	31. B	36. A	41. B
2. B	7. E	12. A	17. B	22. C	27. C	32. A	37. E	42. B
3. A	8. A	13. C	18. C	23. A	28. D	33. C	38. A	43. E
4. E	9. B	14. D	19. B	24. D	29. B	34. C	39. D	44. A
5. D	10. D	15. D	20. D	25. C	30. A	35. A	40. A	

COĞRAFYA - 2

1. C	5. C	9. E	13. A
2. D	6. E	10. D	14. B
3. B	7. E	11. C	15. C
4. C	8. B	12. A	16. B

FELSEFE GRUBU

1. D	6. C	11. A	16. E	21. A	26. E
2. E	7. D	12. B	17. C	22. B	27. D
3. C	8. B	13. D	18. C	23. B	28. E
4. B	9. D	14. D	19. A	24. C	29. D
5. B	10. E	15. C	20. C	25. D	30. A

TARİH

1. Hunlar Balamir komutasında Kuzey Doğu Avrupa'ya gelmişlerdir. Buradaki yerleşik kavimleri (Gotlar, Danlar, Gepitler, Vandallar, Fanklar, Germenler, Vizigotlar, Östrogotlar gibi) yerlerinden ederek bugünkü Avrupa'nın şekillenmesine neden olmuşlardır. Hunlar Asya'da Çinlilerle mücadele etmişlerdir. Hem Asya, hem de Avrupa'nın siyasi ve kültürel hayatında yer almışlardır. Avarlar'da Asya'da ortaya çıkmışlar, Avrupa'ya göç etmişlerdir. İstanbul'u kuşatmışlardır. Türgişler ise Asya topraklarının dışına çıkmamışlardır. Sadece Asya'nın siyasi ve kültüründe yer almışlardır.

Cevap C

2. Sulama kanallarının varlığı o toplumun doğrudan tarım yaptığını gösterir. Saban demirleri ve orakların bulunması da çiftçilik yapıldığını gösterir. Tahıl ambarlarının olması doğrudan tarım yapıldığına delil değildir. Tahıl ithalat yapılarak da ambarlara konulabilir.

Cevap E

3. I. Köktürk devletinin ilk kurucusu olan hakan Bumin Kağan'dır. Ko - lo Kağan Bumin'in ölümüyle yerine geçti. Daha sonra Mukan Kağan geçti. Tapo Kağan Mukan Kağan'ın yerine geçti. Tapo'nun 582'de ölümü üzerine İşbara geçti.

Cevap A

4. Semerkant, Hive, Mevr özellikle Karahanlı, Gazneli, Selçuklu Devletleri döneminde Türk - İslam kültürünün en yoğun yaşandığı yerlerdendir. Kahire ise Tolunoğulları, İhşidiler ve Memlükler'den dolayı Türk İslam kültürüne başkentlik yapmıştır. Kurtuba şehri Endülüs Emevileri döneminde parlak bir devir yaşamıştır. Endülüs Emevileri Arap İslam devletidir.

Cevap D

5. Salgurlar (Fars) (1147-1284) İldenizoğulları (Azerbaycan) (1146 - 1225) Beg Teginoğulları (Erbil) (1146 - 1232) Zengiler (Musul - Halep) (1127 - 1259) Büyük Selçuklulara bağlı atabeylikler. Türkiye Selçuklu Devleti Kutalmışoğlu Süleyman Şah tarafından Büyük Selçuklulara bağlı bir devlet olarak kurulmuştur. (1077 - 1308) Ancak daha sonra bağımsız olmuştur. Atabeylik değildir.

Cevap E

6. Büyük Selçuklular'da hukuk şeri ve örfi olmak üzere ikiye ayrılmıştı. Şeri hukukun temelini Kuran-ı Kerim, Hadis-i Şerifler, icma ve kıyas oluşturuyordu. (İslam Hukuku). Örfi hukuk ise eski Türk gelenek ve görenekleri ile hükümdarın emir ve buyruklarından oluşuyordu.

Cevap B

7. Köseadağ Savaşı (1243) Moğollar ile Anadolu Selçukluları arasında yapılmıştır. Anadolu Selçukluları yenildi. Anadolu Moğal istilasına uğradı. Moğollar Anadolu'da beyliklerin kurulmasını teşvik ettiler. Amaçları siyasi bütünlüğü bozmaktı. Karamanoğulları, Dulakadiroğulları, Menteşeoğulları, Hamitoğulları, Ramazanoğulları, Germiyanoğulları, Saruhanoğulları, Candaroğulları, Eratna Devleti, Osmanlı Beyliği, Karesi Beyliği gibi ikinci dönem Türk beylikleri kuruldu. Danişmentliler, Artuklar, Mengücekerler, Saltuklular ve Çaka Beyliği gibi beylikler 1071 Malazgirt Savaşı'ndan sonra kurulan birinci dönem Türk beylikleridir.

Cevap C

8. Batınlık Selçuklu Devleti'nin içini kemiren bir kurt gibiydi. Hasan Sabban'ın fedaileri ülkenin her yerinde karışıklıklar çıkıyorlardı. İleri gelen Selçuklu devlet adamları ve bilim adamlarını öldürüyordu. Karışıklık döneminde bilimsel çalışmalarından gereği gibi yararlanılmadı.

Cevap B

9. Has arazi: Geliri hükümdara ait olan arazidir.
İkta arazi: Devlet görevlerine maaş karşılığı gelirleri verilen arazilerdir.
Mülk arazi: Şahıslara özel mülk olarak verilen arazilerdir.
Vakıf arazi: Gelirleri ilmi ve sosyal kurumların kurulması ve masrafların karşılanması için ayrılan topraklardır.
Mukataa arazi: Osmanlılar döneminde gelirleri doğrudan hazineye giden arazilerdir.

Cevap D

10. I. Haçlı Seferi (1096 - 1099)' nin hedefi Kudüs'tü.
II. Haçlı Seferi (1147 - 1149)' Urfa, Suriye idi.
III. Haçlı Seferi (1189 - 1192) Selahaddin Eyyubi'nin 1187'de Hittin Savaşı sonucu Kudüs'ü almasıdır. Amaç Kudüs'ün yeniden alınmasıdır.
IV. Haçlı Seferi (1202-1204) Eyyubilerin Filistin'deki Yafa şehrini ele geçirmesi üzerine düzenlendi. Ancak İstanbul'a gelen Haçlı ordusunun şehri yağmalaması ve Bizans tahtında değişikliğe gidilmesi üzerine Haçlılar İstanbul'da Latin devletini kurdular.

Cevap D

11. Otrar Faciası : Alaaddin Muhammed zamanında Harzemşahlar Moğollarla ticari anlaşmalar yapmıştır. Ancak Otrar valisi İnalçık Harzem ülkesine gelen bir Moğol kervanının tüccarlarını Otrarda tutukladı ve onları casuslukla suçlayarak öldürttü.
Bu olay sonrasında Moğollar Harzem şehirlerine saldırdılar. Otrar başta olmak üzere birçok Harzem şehir ve kasabaları Moğolların eline geçti.

Cevap B

12. Nizamiye Medreseleri: Büyük Selçuklu veziri Nizamülmülk tarafından kendi adına kurulmuştur. Nizamiye medreseleri devrin en önemli bilim ve kültür merkezleridir. Tarihte bilinen ilk üniversite özelliği taşıyan kurumlardır. Arapça ve Farsça'nın kullanılması, anıt mezarların yapılması eğitimle ilgili değildir. Anıt mezarlar mimari ve kültürel olsa bile eğitimle ilgisi yoktur.

Cevap A

13. Ahmet Bin Tolun tarafından Mısır'da kurulan İlk Türk İslam Devleti Tolunoğullarıdır. (868 - 905)
İhşidiler ise Tolunoğulları'nın yıkılması sonunda kurulmuştur. (935 - 969)
Mısır her iki devletin kurulma aşamasında Abbasi halifeliğine bağlı idi. Abbasi halifelerinin siyasi otoritelerinin zayıflaması Mısır'da Abbasi valiliği yapan Tolunoğlu Ahmet ve Muhammed bin Togaç'ın devlet kurmasına neden olmuştur.

Cevap D

14. Osmanlı eyalet sistemi toprak gelirlerine göre; Salyaneli; Tımar sisteminin uygulanmadığı eyaletler Salyanesiz; Dirlik sisteminin uygulandığı eyaletler olmak üzere ikiye ayrılmıştır. Bunlar merkeze bağlı eyaletlerdir. Mısır, Habeş, Bağdat ve Trablusgarp salyaneli (Yıllıklı) eyaletlerdir. Bunlarda iltizam sistemi uygulanmıştır. Trabzon, Van, Kars, Kefe, Erzurum, Diyarbakır, Karaman ve Dulkadir eyaletleri ise salyanesiz eyaletlerdir. Bunlarda dirlik sistemi uygulanmıştır.

Cevap C

15. • Copernicus: Dünyanın Güneş etrafında döndüğünü ileri sürdü.
• Newton: Yer çekimi kanununu buldu.
• Kepler: Gezegenlerin Güneş etrafında elips şeklinde bir yörünge izlediğini tespit etti.
• Harvey: Modern cerrahinin temellerini attı.
• Galileo: Bilginin deney ve gözleme dayalı olduğunu ortaya koydu.

Cevap E

16. Çaldıran Savaşı (1514) İran - Osmanlı Savaşı'dır. Mercidabık Savaşı (1516) Memlükü - Osmanlı Savaşı'dır. Ridaniye (1517) Memlükü - Osmanlı Savaşı'dır. Kasr-ı Şirin Antlaşması (1639) Osmanlı - İran Antlaşması'dır. Turnadağı Savaşı (1515) Osmanlı Dulkadir Beyliği savaşı'dır.

Cevap C

17. Resmi Çift: Çiftçilik yapan köylülerden koştugu çift sayısına alınan ürün vergisidir. Örfi vergidir. Çift bozan: Köylü köyünü terk edip şehre göç edecekse bozduğu çift adedince alınan vergidir. Örfi vergidir. Adet-i Ağnam: Küçük baş hayvan sahiplerinden alınan vergidir. Örfidir. Cerime: Suçlulardan alınan vergidir. Bir diğer ismi Ba'dı heva'dır. Örfi vergidir. Aşar (Öşür): Müslüman çiftçilerden ürün üzerinden alınan vergidir. Şeri vergidir.

Cevap E

18. Belgrad (1521)'de Kanuni Sultan Süleyman döneminde alınmıştı. Mohaç Savaşı'ndan öncedir. Mohaç Savaşı 1526'da yapılmıştır.

Cevap D

19. 1535 Kapitülasyonlarının ileride oluşacak duruma göre yeniden değerlendirilmesi için "bu kapitülasyonlar her iki hükümdarın sağlığında geçerlidir." denilmiştir.

Cevap C

20. IV. Murat yapacağı islahatların daha etkili olması için Koçi Bey'e daha önceki dönemlerle ilgili bir rapor hazırlatmıştır. 22 bölümden oluşan bu risalenin ilk bölümü Osmanlı devlet ve toplum yapısının temel ilkelerini belirtir ve bunu problemlerin çözümü olarak sunar. Din ve devlet kaidelelerinin pekiştirilmesini ister. İkinci bölümde ise bozulmasının nedenlerini anlatır.

Cevap D

21. Canberdi Gazali İsyanı: Kanuni Dönemi isyanıdır. Bozoklu Celal İsyanı: Yavuz Dönemi isyanıdır. Patrona Halil İsyanı: Lale Devri'nin kapatılması için çıkan isyanıdır. Kabakçı Mustafa İsyanı: III. Selim Dönemi isyanıdır. III. Selim tahtından indirilmiştir. 31 Mart Olayı (1909)'da yaşanmıştır.

Cevap C

22. Mutlak Monarşi'yle yönetilmek Sanayi İnkılabı'nın ortaya çıkmasına neden değildir. O dönemde Rusya, Osmanlı Devleti, Fransa, Avusturya - Macaristan İmparatorluğu gibi bir çok devlet mutlak monarşi ile yönetiliyordu.

Cevap E

23. Ocaklık; Geliri tersane giderleri ve kale muhafızlarına ayrılan topraklardır. Yurtluk; Gelirleri sınır boylarında görev yapan komutanlara ve akıncılara verilen topraklardır. Kaza; Osmanlı Devleti'nde Beylerbeylik, Eyalet, Vilayet, Sancak, Kaza, Nahiye, Köy gibi yönetim birimi ayrımından olup yöneticileri kadılardır.

Cevap A

24. 17. Yüzyılın en büyük kaside şairi olarak tanına Nefi birçok eser vermiştir. Sorudaki verilen eserlerde onundur. Siham-ı Kazada: Hicivleri toplanmıştır. Türkçe Divan: 57 kasideden oluşmaktadır. Farsça Divan: Nat, kaside, gazel ve rubailerden oluşur. Tuhfetü'l Uşşak: Farsça bir kasidedir. Fuzuli'nin Enis'tü kalp adlı eserine benzer.

Cevap C

25. Divanîhümayun : Osmanlı merkez teşkilatının en önemli organıdır. Orhan Bey döneminde kurulmuştur. Divanda ül-ke meselesi görüşülür ve karara bağlanırdı. Divan toplantıları kubbeatlı adı verilen yerde yapılırdı. İş-leyişi bugünkü Bakanlar Kurulu'na benzerdi. Divan'da önemli davalara da bakılırdı. Kadıların verdiği kararı beğenmeyen halktan herhangi biri davayı şahsi müracaatla da divana taşıyabilirdi. Bu nedenle yüksek mahkeme görevini de görürdü.

Cevap B

26. II. Osman Hotin Seferi (1620) sırasında Yeriçeri askerleri-nin savaşmak istemediğini anlamıştı. Yeniçeriler İstan-bul'da sürekli bahanelerle isyan ediyorlardı. Bu duruma son vermek, padişah otoritesini sağlamak ve yeni bir ordu ihtiyacı olduğunu düşünerek Yeniçeri Ocağı'nı kaldırıp Anadolu ve Suriye Türklerinden oluşan yeni bir ordu kur-mak istemiştir. Bu durum Yeniçerilerin isyanına ve II. Os-man'ın öldürülmesine neden olmuştur.

Cevap E

27. 18. Yüzyıl ıslahatlarının özellikleri

- Batı anlaşılmalıdır. Islahatlar batılı anlamda yapılmıştır.
- Islahatlar her alanda yapılmıştır.
- Sorunların özüne inilmeye çalışılmıştır.
- Devlet politikası haline getirilmiştir.

17. Yüzyıl ıslahatlarının özellikleri

- Baskı ve şiddete dayalıdır.
- Daha çok askeri alanda yapılmıştır.
- Geriye yöneliktir.
- Batı anlaşılmamıştır.
- Kişisel özellik taşıır. Devlet politikası haline getirilme-miştir.

Cevap D

28. Prut Savaşı (1711) Rusya ile Osmanlı Devleti arasında ol-muştur. Osmanlı Devleti Rusya'yı savaşta yenmiştir.

Prut Antlaşmasının maddeleri,

- İsveç Kralı serbestçe ülkesine dönecektir.
- Rusya Lehistan'ın içişlerine karışmayacaktır.
- Lehistan'ı tehdit eden Rus kaleleri yıkılacaktır.
- Ruslar İstanbul'da elçi bulundurmayacaktır.
- Azak kalesi ve çevresi Osmanlılara geri verilecektir.
- Kuşatma altındaki Rus ordusu serbest bırakılacaktır.

Cevap E

29. Karabağ Hanlığı: Kurucusu Penah Ali Han'dır. Azerbay-can hanlıklarındandır. 1804 yılında Ruslar tarafından kal-dırılmıştır.

Şeki Hanlığı: Değişik aileler tarafından yönetilen hanlık 1820'de Rus hakimiyetine girmiştir.

Derbent Hanlığı: 1747'de müstakil hanlık olmuştur.

1806'da Rus istilasına uğramışlardır.

İlisu Hanlığı: 1747'de kurulmuş 1844 yılında Rus işgaline uğramıştır.

Kırım Hanlığı: Azerbaycan Hanlıklarından değildir. Kırım Hanlığı Altın Orda devletinin zayıflamasıyla kurulan dev-letlerdendir.

Cevap D

30. 1833'te imzalanan Hünkar İskelesi Antlaşması'yla Rusya sıcak denizlere inme amacına ulaşmıştır. Bu durum İngi-liz ve Fransızların Doğu Akdeniz'deki çıkarlarını tehdit et-meye başlamıştır.

Boğazlara Rusya'nın inmeye başlamasıyla İngiltere ve Fransa müdahale etmiş ve Boğazlar uluslararası sorun haline gelmiştir. Osmanlı Devleti Boğazlar'daki egemenli-ğini kaybetmiştir. Boğazlar konusunda tek başına karar verememiştir. Boğazların yönetiminin uluslararası bir ko-misyona bırakılması Sevr Antlaşması'nda olmuştur.

Cevap E

31. I. Dünya Savaşı sonrasında;

- Dünya barışını korumak için Cemiyet-i Akvam (Millet-ler Cemiyeti) kurulmuştur.
- Sömürgecilik yayılmıştır.
- Yugoslavya, Çekoslovakya, Polonya, Litvanya, Maca-ristan, Ukrayna, Estonya, Türkiye gibi yeni devletler kurulmuştur.

II. Dünya Savaşı sonrasında;

- Dünya barışını korumak için Birleşmiş Milletler Cemi-yeti kuruldu.
- Sömürgecilik isim değiştirerek yayıldı.
- Doğu Almanya, Çin Halk Cumhuriyeti, İsrail gibi bir-çok devlet kuruldu.

Cevap E

32. Londra Antlaşması (26 Nisan 1915) İngiltere, Fransa, Rusya ve İngiltere arasında yapılmıştır. Antalya bölgesi ve 12 ada İtalya'ya verilmiştir.

Sykes Picot (1916) İngiltere ve Fransa arasında imzalan-dı. Osmanlı Devleti'ni paylaştılar.

Boğazlar Antlaşması (1915), İngiltere, Fransa ve Rusya arasında imzalandı, Boğazlar bölgesi Rusya'ya verildi.

Petrogard Antlaşması (1916) İngiltere, Fransa ve Rusya arasında imzalandı. Rusya'ya Karadeniz sahilleri ve Do-ğu Anadolu verildi.

Sevres Antlaşması (1920) I. Dünya Savaşı'nı bitiren ant-laşmadır. Osmanlı devleti parçalanacaktı. Anadolu hare-keti başladı. Uygulanamadı.

Cevap B

33. Tahran Konferansı (1943),

Türkiye'nin savaşa katılıp katılmaması İngiltere, Rusya ve ABD arasında görüşüldü.

Casablanca Konferansı (1943),

Roosevelt ve Churchill arasında yapılmıştır. Türkiye'nin sa-vaşa girmesini sağlamak için çalışma kararı alınmıştır.

Kahire Konferansı (1943),

İngiltere ve Türkiye görüştü. İkinci defa Roosevelt, Chur-cill ve İnönü görüştü. İsmet İnönü prensip olarak savaşa katılmayı kabul etti. Ancak askeri yardım istedi.

Yalta Konferansı (1945),

Stalin, Churchill ve Roosevelt katıldı. II. Dünya Savaşı'nın sonuçlarının neler olacağı kararlaştırıldı. Dünya barışını korumak için bir teşkilatın kurulması kararı alındı.

Postdam Konferansı (1945),

ABD, İngiltere ve Sovyetler arasında yapıldı. Birçok konu-da karar alındı.

Cevap D

34. II. Dünya Savaşı'nda Almanya ve Japonya Mihver gru-bunda yer almıştır. Almanya Belçika'yı işgal etmiştir. Do-layısıyla Belçika müttefiklerin yanında olmuştur. ABD sa-vaşa sonradan müttefiklerin yanında katılmıştır. İsviçre ta-rafsızlığını ilan etmiş ve savaş sonuna kadar da sürdür-müştür.

Cevap E

35. Almanya ve İtalya'nın Kuzey Afrika'da İngiltere ve Fran-sa'ya karşı cepheler açmasının nedenleri,

- Akdeniz ve Doğu Afrika'da İngiltereyi zor durumda bı-rakmıştır.
- İngilizleri tüm Afrika'dan çıkararak bunları kendi sö-mürgelerine almak
- Almanya ise Orta Doğu'daki İngiliz sömürgelerini ele geçirerek hem İngiltere'ye zarar vermek hem de sö-mürge elde etmek istiyordu.
- Sovyetlere yardım bu yolla düşünülen bir şey olmadı-ğı için engelde söz konusu değildi.

Cevap C

36. Sovyet Rusya Finlandiya'dan haklar almaya çalıştı. Diplo-matik yollardan bunu alamayınca 30 Kasım 1939'dan iti-baren Finlandiya'ya saldırmaya başladı. Milletler Cemiye-ti Sovyetlerin bu tutumunu haksız bularak Milletler Cemi-yeti Konseyi Sovyetleri üyelikten çıkarttı.

Cevap C

37. Bağdat Paktı (24 Şubat 1955) ABD'nin isteği ile Türkiye ve Irak Bağdat Paktı'nı kurdu. 4 Nisan 1955'te İngiltere, 23 Eylül 1955'te Pakistan, 3 Kasım 1955'te İran pakta ka-tılmıştır. Bu pakta Mısır'ın başını çektiği Arap ülkelerinin bazıları karşı çıktı.

14 Temmuz 1958'de Irak'taki askeri darbe ve yeni kurulan Irak hükümeti Pakttan çekildi. Pakttın adı değiştirilerek CENTO oldu. Bu teşkilat 1979'a kadar sürmüştür.

Cevap D

38. AGİK (Avrupa Güvenlik ve İşbirliği Konferansı) ilki 1973'te Helsinki'de çalışmaya başladı. 1 Ağustos 1975'te Helsin-ki Nihai Senedi imzalandı. 1990'da Paris Şartı imzalandı. 1994 Budapeşte zirvesinde AGİT'e dönüştü.

Türkiye bu kuruma üyedir. AGİT'in temel işlevi daha yaşa-nılabilir bir dünya, eşitlik ve paylaşım dayalı bir yapı, in-san haklarının korunduğu devletlerdir. AGİT'in iki Alman-ya'nın birleştirilmesiyle ilgili kararı olmamıştır.

Cevap E

39. Asya ve Afrika ülkeleri, Mısır ve Hindistan'ın öncülüğünde Bağlantısızlar Hareketini kurdular. Amaçları bağımsızlığına yeni kavuşan Asya ve Afrika ülkelerinin ABD ve SSCB gibi iki nükleer güce karşı varlıklarını korumaktır. Bağlantısızlar hareketi Endonezya'nın Bandung kentinde 1955'te bir araya gelerek oluşturulmuştur.

Cevap D

40. Türkiye II. Dünya Savaşı yıllarında savaştan uzak durmaya çalışmıştır. Diğer taraftan uluslararası ve bölgesel barışı korumaya çalışmıştır.

Cevap D

41. İsrail Devleti 1948'de bağımsızlığını ilan etmiştir. Arap ülkeleri buna şiddetle karşı çıkmıştır. Türkiye İsrail'in bağımsızlığını tanıyan ilk ülkelerden birisi olmuştur. Bu durum Arap toplumlarının Türkiye'ye tepkisine neden olmuştur.

Cevap C

42. Sovyetler Birliği kurulunca Karabağ, Azerbaycan sınırları içinde özerk bir bölge haline getirilmiştir. Zamanla Ermeni nüfusu arttı. Bu oran % 75 Ermeni, % 25 Azeri şekline geldi. Sovyet Rusya'nın dağılması sürecinde Ermenistan Dağlık Karabağ'ın kendisine bağlı olmasını istedi. Azerilerin karşı çıkması nedeniyle çatışmalar başladı. Olay Ermenistan - Azerbaycan Savaşı'na dönüştü. Ermeniler Azerbaycan'a ait Hocalı'da katliam yaptılar. Laçın ve Şuşa'yı işgal ettiler. İşgal hala sürmektedir. Bu sorunu çözmek için AGİK Minsk Grubu çalışmaktadır.

Cevap A

43. Türeyiş Destanı: Uygurlara ait destandır. Satuk Buğra Han: Karahanlılara ait bir destandır. Alp Er Tunga Destanı: Saka Türklerine aittir. İran - Turan Savaşları'nı anlatır. Manas Destanı: Kırgızların destanıdır. Dünyanın en uzun destanıdır. Oğuz Kağan Destanı: Hunlar dönemi Türk Destanıdır.

Cevap D

44. Altay Cumhuriyeti: Güney Sibirya'da yer alır. Tarım ve hayvancılık temel geçim kaynaklarıdır. 202 bin nüfusları vardır. Rusya Federasyonuna bağlıdır.

Gökoğuz: Moldova devletine bağlıdır. Tarım ve hayvancılıkla uğraşırlar. 200 bin civarında nüfusları vardır.

Dağıstan Cumhuriyeti: Azerbaycan'ın kuzeyindedir. Rusya Federasyonuna bağlıdır. Nüfusları 200 bin civarındadır.

Hakas Cumhuriyeti: Sibirya'nın güneyinde yer alırlar. 300 bin civarında nüfusları vardır. Rusya Federasyonuna bağlıdır.

Tataristan Cumhuriyeti: Volga Nehri kıyısında yer alırlar. 4. 000. 000 civarında nüfusları vardır. Rusya Federasyonu içinde yer alırlar.

Cevap B

ESEN YAYINLARI

ESEN YAYINLARI

COĞRAFYA

1. Kara ve demir yolları ağı, insan faaliyetlerinden biri olup biyolojik faktörler içerisinde yer alır.

Cevap D

2. Kuzey Afrika kıyılarında Akdeniz iklimi ve çöl iklimi etkilidir. Ekstrem yağışların görüldüğü alanlardan biri değildir.

Cevap C

3. Tarımsal faaliyetler üretim aşamasında etkili olan faktörlerdendir.

Cevap B

4. 1'de Maya Uygarlığı kurulmuştur. İnkâ Güney Amerika'dadır.

Cevap A

5. Türkiye'nin farklı kıtalar arasında bulunması ile iklim özellikleri gibi fiziki coğrafya unsurları tarihsel değişimden etkilenmemiştir. Oysa Coğrafi Keşiflerden sonra boğazların, tarihi ticaret yolları olan İpek Yolu'nun ve Baharat Yolu'nun önemi azalmıştır. Göç olayı da dönemseldir.

Cevap A

6. Donma olayı suyun yüzeysel akışı geçmesini önler, bu yüzden su toprağa yavaş yavaş sızacağı için yer altı su miktarını artırır.

Cevap B

7. Verilen sembollerden ■ ile (Balıkesir) bor minerali, ▲ ile (Seydişehir) boksit ve ● (Murgul) bakır yatağı gösterilmiştir.

Cevap E

8. Haritadaki taralı alanlarda I. Ege Bölgesi'nin II ise Doğu Anadolu Bölgesi'ni yaklaşık olarak göstermektedir. Buna göre, tarımda çalışan nüfus oranında II'nin, iyi cins linyitte ise I'in daha önde olduğu söylenebilir.

Cevap E

9. Sinop ve Muğla'da demir yolu ağı yoktur.

Cevap E

10. İsviçre, tarafsızlık politikası gereği birçok uluslararası örgüte üye olmamıştır.

Cevap B

11. Kıbrıs Türkiye'yi doğrudan, Kosova ise dolaylı olarak ilgilendiren bölgesel sorunlardandır.

Cevap A

12. Akarsularının denize ulaşmasının, o ülkede su miktarını azaltması beklenemez.

Cevap C

13. İnanç turizminde en çok insan katılımı olan kıta Asya'dır. Örneğin Müslümanların hac ziyareti ve Tibet gibi çok sayıda insan çeken merkezler bu kıtadadır.

Cevap D

14. Haliçler liman yapılmasına elverişli ortamlardandır. Ayrıca ülkede tek iklim tipi etkili olduğuna göre tarım ürünü ve bitki çeşidi azdır.

Cevap D

15. Tarihi ve kültürel yapılara olan etkisi, beşeri unsurlarla ilgiliyen, diğerleri doğal unsurlara aittir.

Cevap C

16. K-L, M-N ve O-Ö arasında birer sırt yer alırken; L-M ve N-O arasında birer koy bulunmaktadır. Bu nedenle en kısa kara yolunu elde etmek için sırtları aşmak için tünel, koyları geçmek için de köprü yapılmalıdır.

Cevap D

ESEN YAYINLARI

ESEN YAYINLARI

FELSEFE GRUBU

1. Parçada bağımsız değişken tanımlanmış ve bu deneyde uyku süresi olarak belirlenmiş, bağımlı değişken ise başarının artıp artmaması olarak verilmiştir. Bu her iki değişkenin üzerinde etkisi olan ısı, ışık, soğuk, gürültü gibi değişkenler etkileşimli değişken olup buradaki seçeneklerde yer alan ortam sıcaklığı etkileşimli değildir.
Cevap E
2. Parçada, yapılan deneylerle, şempanze ve maymunların dili kazanmalarını insanınki ile karşılaştırarak incelemenin, aydınlatıcı yani insan davranışlarını anlamada yardımcı olmasından bahsedilmektedir.
Cevap C
3. Duyarsızlaşma parçada da belirtildiği gibi iç uyarıcılara dayalı duygusal davranışın zayıflamasıdır. Alışma da ise dış uyarıcıya verilen tepkinin azalması söz konusudur ki burada diğer seçeneklerin alışmaya örnek olduğu görülebilecekken, "sürekli korku filmi izleme sonucu etkilenmeye başlama" ise duyarsızlaşma örneğidir.
Cevap C
4. Parçada harekete dayalı öğrenme becerileri olarak açıklanan motor öğrenmeye yazmak, müzik aleti çalmak, alet kullanmak, bisiklete binmek örnek gösterilebilir. Ancak şiir yazma kavramsal ya da bilişsel öğrenme biçimidir.
Cevap B
5. Algıyı etkileyen etmenler arasında iç etmenlerden biri de ilgi ve ihtiyaçlar (gereksinimler) olup parçadaki örnek bu etkenlere uygundur.
Cevap C
6. Genelleme, bir organizmanın koşullandığı duruma benzer durumlara da aynı davranışı göstermesidir. Parçadaki örnekte çocuğun davranışı genellemeye uygun bir davranıştır.
Cevap C
7. Amaçlanan davranışa yönelirken, bireye güç veren ve yoğunlaştıran etkileşime güdülenme denir. Güdülenme, öğrencinin davranışları, şiddeti ve kararlılığı ile yakından ilgilidir. Güdülenmemiş öğrenci derse hazır değildir ve bu durumda ilk şart onu derse hazır hale getirmek yani güdülemektir. Burada da öğretmenin sözleri öğrencileri olumlu olarak yönlendirmek ve ilgiyi arttırmak içindir.
Cevap B

8. Parçada aile çevresi ve toplumsal- kültürel ortamın -iki farklı örnekle- birey üzerindeki etkisi gösterilmek istenmiştir.
Cevap C
9. İnsanlar genellikle davranış ve görüşlerini, toplum ya da grubun yargı ve düşüncelerine göre düzenlemekte ve değiştirebilmektedirler. Parçada verilen örnekteki bireyin davranışında da sosyal grubun etkisi söz konusudur.
Cevap C
10. Savunma mekanizmalarından "karşıt tepki geliştirme", bilinç dışı duyu ve eğilimleri, onların karşıtı olan davranışlarla açığa vurma özelliğidir. Bu parçada da bilinç düzeyinde nefret, bilinç dışında ise hayranlık duygusu söz konusudur.
Cevap D
11. Parçada anlatılan, sosyal bilimcilerin olasılığa dayalı bir yaklaşıma yönelmesinin nedenlerinden biri, sosyal olaylarda sonucu etkileyen bir çok etken bulunabilmesidir.
Cevap C
12. Ön yargılardan uzak olmak yani nesnellik bilimselliğin temel ölçütlerindendir. Bir sosyolog da gözlem yaparken nesnel olmalıdır.
Cevap C
13. Parçada sosyal sistemde çok etmenliliğe, uyuma, istikrara ve değişmeye yer olduğundan bahsedilmiş ancak parçadaki görüşün de aksi olan çatışma olmayacağı düşüncesine yer verilmemiştir.
Cevap E
14. İçinde bulunulan kültür, değer yargıları, toplumsal davranış kalıpları v.s. toplumsal yapıyı oluşturur. Parçada vurgulanan düşünce toplumsal yapının toplumsal değerleri belirlediğidir.
Cevap B
15. Mektup ya da tebrik kartı kullanımının ortadan kalkması toplumsal değişimin yaşandığını gösterir.
Cevap A
16. Parçada ihtiyaçların çok ve çeşitli olmasına karşın doğanın sunduklarının yeterli olmadığı anlatılmaktadır. Ekonominin ortaya çıkış nedeni de zaten ihtiyaçların sınırsızlığına karşılık kaynakların sınırsız oluşudur.
Cevap B
17. Parçada kültürün aile, çevre ve okul eğitimi ile kazanıldığı yani öğrenildiği vurgulanmaktadır.
Cevap B

18. İnsanı ele alan bilimler arasında burada psikoloji seçeneklerde yer almaktadır. Antropolojinin bir dalı olan kültürel antropoloji ise kültürü inceler; toplumsal ve kültürel benzerlik ve farklılıkları tanımlar. İnsanın toplum içinde yer alması da sosyoloji-psikoloji bağına gösterir.
Cevap E
19. Parçada yer alan "karasaban kullanılan toplumların günümüzde de varlığı ülkenin gelişmişlik düzeyini ortaya koyar" şeklinde özetlenebilecek yargı maddi kültürel öğelerin toplumun gelişmişlik düzeyini gösterdiğini anlatmaktadır.
Cevap D
20. Parçada yer alan domates üretiminin fazlalığı arzın (sunumun, piyasaya çıkan malın) fazla, ihtiyacın azlığı talebin (isteğin) az olmasına ve fiyatın düşmesine neden olur.
Cevap D
21. Parçada Orta Çağ'da Mantığın skolastik düşüncenin etkisi altında kaldığı vurgulanmıştır.
Cevap D
22. Diyagramda taralı olan hem "B" hem de "C"nin alanı içindedir. Bu nedenle "B"nin bazı elemanları "C", "C"nin bazı elemanları "B"dir. Bu durumu "Bazı B'ler C'dir" ifade eder.
Cevap C
23. Bir önermenin tümel veya tikelliği niceliğini, olumlu veya olumsuzluğu niteliğini bildirir. Çelişik önermelerde hem nicelik hem de nitelik farklıdır. Bu nedenle Tümel olumsuz (E) ile Tikel olumlu (I) önermeleri hem nicelik hem de nitelik yönüyle farklıdır.
Cevap D
24. "Bazı hayvanlar memelidir." önermesi nicelik bakımından "tikel", nitelik bakımından "olumlu", tek yargı bildirmesi yönüyle de "basit" önermedir.
Cevap D
25. İkinci öncülde Ali'nin bayram tatiline gidemediği verilmiştir. Trende ya da otobüste yer bulsaydı gidebilecekti. Gidemediğine göre ne trende ne de otobüste yer bulamamış demektir.
Cevap C
26. Koşul eklemi (\Rightarrow), ise, -se, -sa ile ifade edilir. Koşul önermelerde ön bileşen ard bileşene koşul eklemi ile bağlanır. "Yakıtın ateşi söndürmezsen yangın çıkar." önermesi bu türdendir.
Cevap C

27. Bileşik önemeler, ana eklem ve ana bileşenlerden oluşur. Örneğin;
- $$(p \vee q) \Rightarrow (p \wedge q)$$

ana bileşen ana bileşen

ana eklem

$$p \wedge q$$

ana bileşen ana bileşen

ana eklem
- Bu örneklere göre, $(p \wedge q) \vee (p \Rightarrow q)$ önermesinde $p \Rightarrow q$ önermesi ana bileşendir.
Cevap D

28. Bir çıkarımın çözümlenici çizelge ile geçerlilik denetlemesinin yapılabilmesi için öncelikle öncülleri ile sonucunun değilinin birlikte çözümlenmesi yapılır. Bu çözümlenme sonucunda bütün yollar kapalı ise çıkarım geçerlidir.
Cevap A
29. Bir önermenin tutarsız olması bütün yorumlarının "Y" olması demektir. Bu nedenle iki tutarsız önermenin bütün yorumlamaları aynı olduğu için iki tutarsız önerme aynı zamanda eş değerdir.
Cevap C
30. Önermeler şu bölümlere ayrılır:
- Tekil önerme:** İçinde niceleyici sembolü geçmeyen önermedir. İkiye ayrılır.
- Basit önerme: İçinde önerme eklemi taşımayan önermelerdir. Çekirdek önerme de denir.
 - Bileşik önerme: İçinde önerme eklemi bulunan önermedir.
- Genel önerme:** İçinde niceleyici sembolü geçen önermedir. İkiye ayrılır.
- Tümel önerme: İçinde tümel niceleyici ($\forall x$) geçen önermedir.
 - Tikel önerme: İçinde tikel niceleyici ($\exists x$) geçen önermedir.
- Açık önerme:** İçinde x, y, z gibi değişken bulunan önermelerdir.
- Bu açıklamalara göre:
- önerme " $\exists xFx$ " tikel, basit ve genel önerme,
 - önerme "x katıdır" açık önerme,
 - önerme " $\forall xFx \wedge \exists xGx$ " bileşik, genel önermedir.
- Cevap A

Cevap Anahtarı

TARİH

1. C	6. B	11. B	16. C	21. C	26. E	31. E	36. C	41. C
2. E	7. C	12. A	17. E	22. E	27. D	32. B	37. D	42. A
3. A	8. B	13. D	18. D	23. A	28. E	33. D	38. E	43. D
4. D	9. D	14. C	19. C	24. C	29. D	34. E	39. D	44. B
5. E	10. D	15. E	20. D	25. B	30. E	35. C	40. D	

COĞRAFYA - 2

1. D	5. A	9. E	13. D
2. C	6. B	10. B	14. D
3. B	7. E	11. A	15. C
4. A	8. E	12. C	16. D

FELSEFE GRUBU

1. E	6. C	11. C	16. B	21. D	26. C
2. C	7. B	12. C	17. B	22. C	27. D
3. C	8. C	13. E	18. E	23. D	28. A
4. B	9. C	14. B	19. D	24. D	29. C
5. C	10. D	15. A	20. D	25. C	30. A

TARİH

1. Türklerin ilk yazılı belgeleri olan Orhun Kitabelerini II. Köktürk (Kutluk) Devleti yazmıştır. Hazarlar ve Türgişler Emelilerle mücadele ederek Arapların Kafkasya ve Orta Asya'da yayılmasını engellemişlerdir.

Cevap E

2. Türkler İslamiyet öncesinde; idikut, han, hakan ve şanyu gibi unvanları kullanırken, Türk İslam devletlerinde halife tarafından "sultan" gibi unvanlar verilmiştir. Bu nedenle sultan unvanı İslamiyet öncesi Türklerde görülmez.

Cevap D

3. İslamiyet öncesi Türk toplulukları genelde göçebe bir yaşantı sürdürdükleri için "mimari" fazla gelişmemiştir.

Cevap E

4. İpek ve Kürk Yollarının Türklerin yaşadığı yerlerden geçmesi ticari faaliyetlerin gelişmesine, böylece; değişik kültürlerle etkileşime girilerek Türk kültürünün yayılmasına ortam hazırlamıştır.

Cevap E

5. Ülkenin hanedanın ortak malı sayılması İslamık öncesi birçok Türk devletinin ortak özelliğidir. Tımar sisteminin uygulanması ve halifenin desteğinin alınması ise Türk İslam devletlerinin özelliklerindedir.

Cevap A

6. Karahanlılar Devleti'nde halkın çoğunluğunun Türklerden oluşması; Türkçe'nin resmi dil ilan edilmesine, ulusçuluk ilkesini benimsenmesine ve milli benliğin korunmasına neden olmuştur.

Cevap E

7. Türk-İslam devletlerinde bağımsızlık sembolleri; hükümdar adına hutbe okutmak, para bastırmaktır.

Cevap C

8. Haçlı Seferlerinin geniş bir alana yayılmasında bilimsel ve teknolojik gelişmeleri öğrenmek istemesi gibi bir neden yoktur

Cevap B

9. Türkiye Selçukluları kalabalık Türkmen topluluklarını küçük gruplara ayırarak "iç isyanların çıkmasını" önlemeyi amaçlamışlardır.

Cevap B

10. "Kösedağ Savaşı'yla Anadolu'da beylikler kurularak Anadolu Türk birliği bozulmuş, Anadolu Selçukluları siyasi yönden zayıflamış Erzincan, Sivas ve Kayseri gibi önemli kültür merkezleri Moğollar tarafından tahrip edilmiştir.

Cevap C

11. Anadolu Beyliklerinden Karamanoğulları Beyliği'nin Türkçeyi resmi dil ilan etmesi Türkçe'nin gelişmesinde etkili olmuştur.

Cevap A

12. İktisat sahibinin toprağı üst üste boş bırakmaması ekonomik kaybı önlemek amaçlıdır. İktisat sahibi halka zulmedemez kararı hukukla ilgilidir.

İktisat sahibinin savaşa hazırlıklı olması amacıyla altı asker beslemesi askeri amaçlıdır.

Cevap A

13. Çetr: Büyük bir şemsiyeye benzeyen altın sırmalı kadife veya atlastan yapılmış güneşlik gibidir. Hükümdarın başı üzerinde tutulurdu. Bağımsızlık alametidir.
Para bastırmak: En önemli bağımsızlık alametidir. Hükümdar kendi adına altın ya da gümüş sikke kestirirdi.
Nevbet çaldırmak: Beş vakit namazdan önce sarayın kapısında çalınan çeşitli müzik aletidir. Bağımsızlık alametidir.
Hutbe okutmak: Hükümdarların sahip olduğu ülkelerde hutbelerde isminin okunmasıdır. Bağımsızlık alametidir.
Su kemeri: Şehirlerin ya da tarlaların suya kavuşması için bir dağdan diğerine geçişin engel olması nedeniyle dere üzerine yapılan kemerdir. Bağımsızlık alameti değildir.
- Cevap E**
14. Türk İslam devletlerinde vakıf topraklarıyla halkın sosyal ihtiyaçları karşılanırdı. Devlet vakıfları teşvik etmek için vergiden muaf tutmuştur.
- Cevap D**
15. XVII. yüzyılda Celali İsyanları'nın çıkması halkın toprağını ekmesine engel olmuştur. Çünkü asayiş bozulmuştur. Toprak sistemi değişik nedenlerle bozulmuştur. Halk toprağını terk ederek kasaba ve şehirlere göç etmiştir. Bu nedenle işsizlik artmıştır. Her üç öncülün sonucu devlet vergi kaybına uğramıştır.
- Cevap E**
16. XIX. yüzyılda milliyetçilik akımının yayılmasıyla azınlık isyanlarını önlemek için Osmanlı yöneticileri Osmanlılık düşüncesini benimsemişlerdir. Böylece devletin dağılmasını önlemeyi amaçlamışlardır.
- Cevap B**

ESEN YAYINLARI

17. Osmanlı Devleti Mutlak Monarşi ile yönetilen bir devlettir. 1876'da I. Meşrutiyet ve Kanunuesası'nın yapılarak uygulanması padişahın yetkilerinin kısıtlanması ve parlamenter sisteme geçilmesine neden olmuştur. Meşrutî monarşi ortaya çıkmıştır. Böylece egemenlik anlayışı değişmiştir.
- Cevap D**
18. Osmanlı Devleti Lale Devri'nde Avrupa'ya geçici elçilikler açmıştır. III. Selim Dönemi'nde bu elçilikler sürekli hale getirilmiştir. Amaç Avrupa'nın Osmanlı Devleti'ne karşı siyasi ve askeri hareketlerini öğrenmektir. Fransa'nın Mısır'a asker çıkarması isteğini öğrenememiştir.
- Cevap A**
19. Tımar sisteminin bozulması tımar ordusunun güç kaybetmesine neden olmuştur. Bunun nedeni de iç isyanlar ve üretimin düşmesidir. Ayrıca Avrupa'da sürekli talim yapan düzenli orduların oluşması ve savaş zamanında toplanan barış zamanında toprakla uğraşan tımar ordusunun önemini azaltmıştır.
- Cevap E**
20. Osmanlı Devleti Rusya'ya tarihinde ilk kez Küçük Kaynarca Antlaşmasıyla (1774) Savaş tazminatı ödeyecekti. 1878 Berlin Antlaşması'nda da savaş tazminatı ödeme maddesi vardır. 1856 Paris Antlaşması'nda savaş tazminatı maddesi yoktur.
- Cevap D**

21. Osmanlı Devleti'nin XIX. ve XX. yüzyılda toprak kayıpları artmıştır. 1829 Edirne Antlaşmasıyla, Yunanistan'ın bağımsızlığını kazanması ile ulusçu isyanlar artmış 1878'de Romanya, Karadağ ve Sırbistan bağımsız olmuştur. 1908'de Bulgaristan bağımsız olmuştur. Bu nedenle öncelikle ulusçu isyanlar toprak kaybına neden olmuştur.
- Cevap B**
22. Ayanlık: Osmanlı Devleti'nin taşra topraklarında söz sahibi olan beylere verilen isimdir. Ayanlar 1808 Senedi-ittifak'la padişahla pazarlık yapacak güç elde etmişler ve padişahın yetkilerini ilk defa kısıtlamasına neden olmuşlardır. Bu da merkezi otoritenin bozulduğunu gösterir.
- Cevap A**
23. II. Mahmut Dönemi Osmanlı Devleti'nde her alanda ıslahatların yapıldığı dönemdir. A - B - C - D şıkları normal yenileşme hareketleridir. Kılık - kıyafet ise batılılaşmayla ilgilidir. Pantolon giyilmesi gibi.
- Cevap E**
24. Panslavizm, Rusların Slavları birleştirme politikasıdır. Bu nedenle Rusya XIX. yüzyılda Osmanlı Devleti'yle imzaladığı antlaşmalarda Balkan uluslarının haklarını koruyan maddeler koydurmuştur. Hünkar İskelesi Antlaşması ise Rusya ile Osmanlı arasında ittifak antlaşmasıdır.
- Cevap A**
25. Müsadere Usulü: Ölen devlet memurlarının malına devletçe el konulmasıdır. II. Mahmut Dönemi'nde müsadere usulünün kaldırılması ile özel mülkiyet gelişmiştir. Arazi Kanunnamesi'nin çıkarılması ile özel mülkiyet gelişmiştir.
- Cevap C**

ESEN YAYINLARI

26. Rusya 1877 - 1878 Savaşı'nda Osmanlı Devleti'ni yenerek Ayastefanos Antlaşması'nı imzalamıştır. Böylece bağımsız bir Bulgaristan kurarak Rusya sıcak denizlere inmeyi amaçlamıştır. Bu gelişme üzerine Avrupalı devletler Ayastefanos Antlaşması yerine Berlin Antlaşmasını imzalarak bağımsız Bulgaristan'ın kurulmasını önleyerek Rusya'nın sıcak denizlere inmesini engellemişlerdir.
- Cevap B**
27. XIX. Yüzyılda Tanzimat Fermanı'nın yayınlanması azınlık isyanlarını engellemeye yöneliktir.
- Cevap E**
28. Kapitülasyonların etkisiyle, Osmanlı Devleti'nde küçük atölyeler kapandı. Böylece işsizlik arttı. Yerli sanayi zarar gördü. Ekonomide dışa bağımlılık arttı.
- Cevap E**
29. Osmanlı Devleti Fransız İhtilali'yle ortaya çıkan ulusçuluk akımlarının etkisini azaltmak için Tanzimat, Islahat Fermanlarını ve Kanunuesası'yi ilan edip, sosyal eşitliği sağlamayı, halkın yönetime katılmasını, kanun üstünlüğünü ve devletin çöküşten kurtulmasını amaçlamıştır. Ülke sınırlarının genişlemesi amaçlanmamıştır.
- Cevap B**
30. I. Dünya Savaşı sonunda yenilen devletlerle ilgili barış antlaşmaları "Paris Barış Konferansı'nda" belirlenmiştir.
- Cevap E**
31. Osmanlı Devleti I. Dünya Savaşı sonrası, Filistin, Irak, Suriye, Arap Yarımadası topraklarını kaybetmiştir. Cezayir ise 1830 yılında Fransızlar tarafından işgal edilmiştir.
- Cevap E**

32. Hatay 20 Ekim 1921 Ankara Antlaşması ile Suriye ile birlikte Fransız mandasına girdi. Ancak Türkiye Ankara Antlaşmasına İskenderun Sancağı ile ilgili özel hükümleri koydurdu. 1926'da Halep'e bağlı İskenderun Sancağında ki seçimlerle "Bağımsız İskenderun Hükümeti" kuruldu. 1930 Birleşmiş Milletler Mandalar Komisyonu İskenderun Sancağına özel bir statü verdi. Fransa 1935'te Suriye ve Lübnan üzerindeki mandasını kaldırdı. İskenderunla ilgili haklarını Suriye'ye devretti. Türkiye ve İskenderun Hükümeti bunu kabul etmediler. 23 Temmuz 1939'da Hatay Türkiye'ye katıldı.

Cevap D

33. Türkiye 1934 yılında Yunanistan, Yugoslavya ve Romanya ile birlikte Balkan Antantı'nı kurdu. 1932 yılında Milletler Cemiyeti'ne üye oldu. 1952 yılında NATO'ya üye oldu. Atatürk 1938'de öldüğü için NATO'ya girişi göremedi.

Cevap D

34. Liberalizm: Düşünce ve ekonomide serbestiyeti savunan sistemdir. ABD başta olmak üzere bir çok batı ülkesi İkinci Dünya Savaşı yıllarında bu sistemi uyguluyordu. Faşizm: Irkçı bir sistemdir. Herşey devlet için anlayışını benimsemiştir. İtalya İkinci Dünya Savaşı yıllarında Faşizmle yönetiliyordu. Sosyalizm: İşçi hareketlerini ön plana alan her şeyi ortak olma esasına dayalı bir sistemdir. İkinci Dünya Savaşı yıllarında Sovyetler Birliği bu sistemle yönetiliyordu.

Cevap E

35. Berlin - Roman Mihveri'nin kurulmasına İngiltere ve ABD'nin ses çıkartmaması, ABD'nin Monroe Donktrini gereği Avrupa işlerine karışmaması ve tarafsızlık politikası, Japon - Alman yakınlaşmasıyla Sovyet Rusya'nın baskı altına alınması, İngiltere'nin yatıştırma ve uzlaşma politikası Japonya'nın Çin'i işgal etmek için fırsat bulmasına neden olmuştur. Washington Deniz Silahlanma Konferansıyla ilgili yoktur.

Cevap C

36. SSCB, II. Dünya Savaşı'nda Almanları yenen ilk devlet olmuştur. 1944 yazından itibaren Almanları topraklarından çıkardı ve batıya doğru işgal hareketlerini sürdürdü. SSCB, 1945 Yalta Konferansı'nda işgal ettiği ülkelere serbest seçimi kabul etti. Ancak seçimlerde çoğunluk koalisyon kabineleri şeklinde oldu. Bu kabinelerde önemli bakanlıklara SSCB yanlılarını seçti. 1947'de Polonya, Çekoslovakya, Bulgaristan, Romanya ve Macaristan'da SSCB muhaliflerinin tamamı tasfiye edildi. Bu ülkelerde komünist rejim uygulanmaya başladı.

Cevap E

37. Soğuk Savaş Dönemi'nde Türkiye ve Yunanistan Batı blokunda yer almışlardır. Bu iki ülkeye sosyalist rejimin gelmemesi için ABD, Marshall yardımı yapmıştır. Yugoslavya II. Dünya Savaşı sonrası tam Sovyet egemenliğine girmese bile kendine has sosyalizmi benimsemiştir.

Cevap C

38. NATO: SSCB'nin yayılmasına karşı, 4 Nisan 1944'te 12 Batılı ülke tarafından kurulmuştur. Balkan Antantı: Alman ve İtalya tehlikesine karşı Balkanları korumak amacıyla İngiltere'nin teşviki Türkiye, Yunanistan, Romanya ve Yugoslavya arasında kurulmuştur. Kellogg Paketi: 1927'de ortaya atılan "Savaş kanun dışı" fikri 1928'de ortam buldu. Avrupa'da güvenliği sağlamak için kurulan pakettir. COMECON: 24 Ocak 1949'da Sosyalist ülkeler arasında ekonomik işbirliğini geliştirmek amacıyla kurulmuştur. Varşova Paketi: 1955'te SSCB'nin önderliğinde üye ülkelerin siyasi ve askeri alanda dayanışması ve NATO'dan gelebilecek bir saldırıya karşı konulması amacıyla kuruldu.

Cevap D

39. Mısır kralı Faruk'un devrilmesiyle Sosyalist Cemal Abdül Nasır iş başına geçmiştir. Bunun döneminde Arap milliyetçiliği hareketleri başlamıştır. 1956'da Nasır Süveyş Kanalı'nı millileştirmiştir. Bunun üzerine İngiltere, Fransa ve İsrail, Mısır'a saldırmıştır.

Cevap C

40. I. ve II. Dünya Savaşları Avrupa'da çıkmış ve çatışmaların çoğu bu kıtada olmuştur. 1945 yılına kadar dünya siyasetinde sözü geçen devletler İngiltere ve Fransa daha sonra Almanya ve Rusya'dır. 1945 Yalta Konferansı'ndan sonra ABD ve Sovyetler Birliği'nin iki kutuplu dünya politikası ve Soğuk Savaş dönemi başlamıştır.

Cevap B

41. Kore 1910 - 1945' Japon egemenliğindeydi. 1948 Postdam Konferansı'nda Sovyetler Birliği Uzakdoğu Savaşı'na karar vermiştir. Bu nedenle Kore askeri hareket bakımından 38. Enlem çizgisi ile ikiye ayrıldı. Sovyetler birliği 38. Enleme kadar ilerledi. Kore, Japonya'nın II. Dünya Savaşı'nda yenilmesi üzerine ikiye ayrıldı. Kuzey Kore Sovyet, Güney Kore ABD işgali altındaydı. 1949'da Komünist Çin'in varlığını güçlendirmesi Sovyetlerin ABD'yi Asya'dan atma politikasına başlamasına neden oldu. 25 Haziran 1950'de Sovyet destekli Kuzey birlikleri Güney'e saldırdılar. Böylece ABD Birleşmiş Milletleri harekete geçirdi.

Cevap A

42. Kafkas ülkeleri, Azerbaycan, Gürcistan ve Ermenistan'dır. Özbekistan Orta Asya devletidir.

Cevap A

43. Küresel ısınmayla, birlikte aşırı kuraklık çekecek bölgelerden birisi de Orta Ddoğu'dur. Bu durum su savaşlarını öncelikle ortaya çıkarır. Bunun sonucu olarak bölgesel çatışmalar başlar.

Cevap A

44. 1993'te Oslo Antlaşması ile Gazze Şeridi ve Batı Yakası'ndaki Eriha kentinde Özerk Filistin yönetiminin kurulması kararlaştırılmıştır. İsrail Devleti 1948'de kurulmuştu. Tam bağımsız Filistin devleti henüz kurulamadı.

Cevap B

COĞRAFYA

1. Yıllık yağışın fazla, yıllık sıcaklık farkının çok az olduğu bir iklim bölgesinde yetişme imkanı bulan bir bitki Ekvatorial iklimde uygun yaşama alanı bulur.

Cevap E

2. l'de verilen durum denize göre konumla, IV'te verilen özellik ise boylam faktörüyle açıklanabilir. Türkiye Kuzey Yarım Küre'de yer aldığı için güneyden kuzeye doğru gidildikçe, güneş ışınlarındaki tutulma oranı artar ve sıcaklık azalır.

Cevap C

3. Haritada verilen IV numaralı yer karasal iklimde yer alır. Bu yüzden burada zeytin ağaçlarına rastlanmaz.

Cevap B

4. Nüfus miktarının fazla olması günümüz teknolojisinde askeri güç oluşturmada ve doğal kaynakların işletilmesini sağlamada etkisini yitirmiştir.

Cevap E

5. Azor Adaları Atlas Okyanusu'nda yer alır. Diğer adalar Büyük Okyanusla bağlantılı adalardır.

Cevap C

6. İnk ve Maya'ların kurulduğu alanlarda büyük akarsular yoktur.

Cevap A

7. Marmaray Projesi ülke içi ulaşımı ilgilendiren bir projedir. Bu yüzden diğer ülkeler ile olan ilişkilerimizde daha az önem taşır.

Cevap A

8. Topoğrafya haritalarında eş yükselti eğrileri arasındaki yükselti farkı azaldıkça ölçek büyür, ayrıntı artar.

Cevap D

9. Tablodaki verilere göre ülkemiz nüfusunda son yıllarda azalma görülmektedir diyemeyiz. İşsizlik oranındaki azalma nüfusun azaldığını değil iş olanaklarının arttığını gösterir.

Cevap B

10. Grafikteki bilgilere dayanarak 2002 yılından sonra ölümlerin sürekli arttığına ulaşılabılır.

Cevap D

11. II ve V numaralı bölgeler eski zaman arazileri olduğu için buralarda deprem ve volkanik olaylar görülmediğinden bu kaynaklara rastlanmaz.

Cevap B

12. Grafikte sadece OPEC ülkeleri üretimi ve dünya toplam petrol üretimi verilmiştir. Bu grafikten OPEC ile dünya petrol üretimindeki değişimler birbirine paralel olduğu söylenebilir.

Cevap A

13. Japonya, İngiltere ve Endonezya birer ada ülkesidir. Bu nedenle başka ülkelerle ancak hava yolu ve deniz yolu sektörleriyle ilişki kurulabilir. Oysa Türkiye bir yarımada olması ve konum özellikleri nedeniyle ulaşım sektörlerinin hepsini kullanabilme avantajına sahiptir.

Cevap C

14. Tuz Gölü, ve Aral Gölü yanlış arazi kullanımı ve kuraklık yüzünden son yıllarda verilen göller içerisinde alanı en çok daralan göllerdir.

Cevap B

15. Jeotermal enerji yeraltındaki sıcak su kaynaklarından elde edilen enerjidir. Bu kaynak çevre kirliliğine yol açmaz. Fosil yakıtlar içerisinde ise en az kirlilik yapan yakıt doğalgazdır.

Cevap E

16. Ozon tabakasının seyrelmesinin en önemli nedeni, insan faaliyetleri sonucunda artan flüoroklorokarbon emisyonudur.

Cevap C

FELSEFE GRUBU

1. Parçada, psikolojik bilinçlenmeyi sağlayan psikoloji derslerinin, günlük hayatta bireyin kendini yani duygu, düşünce ve davranışlarının nedenlerini anlayabilmesi için okullarda verilmesinin gerekli olduğu belirtilmiştir.

Cevap E

2. Toplumun değerleri, ahlak, hukuk ve din kuralları kültür içerisinde yer almaktadır. Bu parçada söz edilen durum da yaratıcı düşünmeyi etkileyen bu kültürel engeller arasındadır.

Cevap B

3. Uyarıcı şiddetinin organizmanın duyum eşiği sınırları içerisinde olması gerekir. Parçadaki her iki örnekte de uyarıcıların şiddeti duyum eşiği sınırları dışındadır.

Cevap E

4. Deneyde oyuncak bebeğe vurma davranışı (saldırganlık), şekerle ödüllendirilmekte ve böylece daha sonra diğer çocuklarla oynarken de saldırganlık davranışı ortaya çıkmaktadır. Ödül, saldırganlığın genellenip yayılmasını sağlamıştır.

Cevap A

5. Kavram elde etmede kullanılan bir yöntem olan soyutlama nesnelere herhangi bir özelliğin ayrılmasıyla yapılan bir zihinsel işlemdir. Parçada verilen örnekte de bu durum görülmektedir.

Cevap D

6. Parçada vurgulanan düşünce öğrenmenin olumlu ya da olumsuz olabileceğidir. "Öğrenme her zaman olumlu davranışlar kazandırır" yargısı parçayla karşıt durumdadır.

Cevap E

7. Seçeneklerde yer alan örneklerden dördü bireyin kendi özelliklerinden kaynaklanmakta olan iç faktörler iken, diğerlerinden ayrı nitelikte (dış faktörler arasında yer alan aşırı zıtlıklara) bir örnek olarak "esmerler arasında görülen tek bir sarışın" örneği verilmektedir.

Cevap A

8. Öğrenci statüsünden öğretmen statüsüne geçmesi ile bireyin tutum ve davranışlarında değişiklik meydana gelmektedir.

Cevap B

9. Hem istenilen (iyi) hem de istenilmeyen (kötü) özelliklere sahip bir durum örneği olduğundan yaklaşma kaçınmaya örnektir.

Cevap B

10. Parçada toplumsal gruplar arasında yer alan arkadaş gruplarının ergenlik dönemi davranışları üzerindeki etkisi açıklanmaktadır.

Cevap D

11. Sosyoloji olması gerekenle ilgilenmez; somut verilerle uğraşan bir bilimdir, örneğin kural koymaz varolan kuralları ele alır. Sosyal olaylardan genellemelere ulaşır ve toplumsal yapıyı inceler.

Cevap E

12. İnsanlar toplumsal yaşama geçtikleri yani toplumlar oluşalı ben toplumsal sorun ve konular (sosyolojinin konuları) var olmuştur.

Cevap A

13. Toplum içinde bazı bireyler burada olduğu gibi belirlenen kurallara meslekleri gereği uymayabilirler. Yani her kural herkes için geçerli olamaz

Cevap C

14. Parçada hukuk devletinde yasama, yürütme ve yargının uygulamalarının denetim altına alındığı vurgulanmıştır.

Cevap B

15. Parçada görüldüğü üzere, insanlar toplum içinde sürekli olarak farklı gruplar içinde yer alırlar. Yani sosyal yaşam bireyin çeşitli gruplarla ilişki kurmasını sağlar.

Cevap D

16. Rönesans'tan önce sanatçılara verilmeyen önemin daha sonradan verilmeye başlanması statülerin saygınlığının zamanla değişebilirliğine örnektir.

Cevap A

17. Hastanede yatan dostun ziyaretine gitmek ile dernek kuruluşunu bildirmek, dereceleri farklı da olsa kural(norm) olarak belli bir zorlayıcılık taşırlar.

Cevap C

18. Köylü sınıfı ve soylu sınıfı 18. yy sonlarına kadar Avrupa'da var olan temel sınıflar iken Sanayi Devrimi ile birlikte işçi ve burjuva sınıfının yeni sosyal sınıflar olarak ortaya çıktığını görüyoruz.

Cevap E

19. Parçada verilen örnekte tiyatro oyunun sergileyen oyuncuların ortak bir amaç taşıdıkları görülmektedir.

Cevap A

20. Daha çok gelişmemiş toplumlarda görülen mekanik dayanışmanın görüldüğü toplumlarda ben duygusu görülmez; aksine biz duygusu yaygındır.

Cevap E

21. Parçada mantığın insanı yanılmamalardan koruduğunu; ayrıca da yanılmaları ortaya çıkaracak dayanağı arama çabası olduğu vurgulanıyor. Bu açıklamaya uygun tanım D seçeneğinde verilmiştir.

Cevap D

22. Bir terim kümesinin önerme olabilmesi için

- Yargı bildirmesi
- En az iki terimden oluşması
- Terimlerin bir bağla bağlanması
- Bir doğruluk değeri taşıması gerekir.

Duygu ve istek bildirmesi önerme için gerekli koşul değildir.

Cevap D

23. I ile II. önerme III. ile IV. önermelerin nitelikleri aynı, nice-likleri ise farklıdır. Altık önermelerin sadece nicelikleri farklıdır.

Cevap B

24. Birçok türde ortaklaşa bulunan özelliklere ilinti, bir türün cinsinden farkını gösteren temel özelliğe ayırım, yalnız bir türe ait özelliklere de özgünlük denir.

Cevap C

25. Aklın genelden genele ve genelden özele izlediği yola tüm dengelim, özelden genele izlediği yola tümevarım, nesnelere benzerliğinden hareketle biri hakkında verilen yargının diğeri hakkında da verilmesine de anoloji denir.

Cevap C

26. I. öncül $p \Rightarrow q$
II. öncül $q \Rightarrow r$ olarak verilmiştir. Her iki öncülde ortak olan önerme "q" dur. "q" önermeleri atıldığında $p \Rightarrow r$ önermesi elde edilir. Öncüllerin anlamlarına da bakıldığında aynı sonuca ulaşılır.

Cevap A

27. I. önermenin ana eklemi "v", II. önermenin ana eklemi "∧", III. önermenin ana eklemi "⇒"dir.

Cevap A

28. Verilen değerleri önermelerde yerine koyduğumuzda "Y" değerini alan önerme $(p \vee q) \wedge r$ önermesidir.
 $(p \vee q) \wedge r$
 $(Y \vee Y) \wedge D$
 $Y \wedge D$
Y

Cevap B

29. Verilen doğruluk tablosunda III. önerme tutarlıdır. Tutarsız olması için bütün yorumlamalarının "Y" değeri alması gerekirdi. III. önerme 4.yorumlamada D değeri almıştır.

Cevap C

30. "Her kuş uçucudur." önermesinde "Her" $\forall x$ şeklinde gösterilir. Bu nedenle "Her kuş uçucudur." önermesi $\forall xFa$ şeklinde sembolleştirilir.

Cevap B

Cevap Anahtarı

TARİH

1. E	6. E	11. A	16. B	21. B	26. B	31. E	36. E	41. A
2. D	7. C	12. A	17. D	22. A	27. E	32. D	37. C	42. A
3. E	8. B	13. E	18. A	23. E	28. E	33. D	38. D	43. A
4. E	9. B	14. D	19. E	24. A	29. B	34. E	39. C	44. B
5. A	10. C	15. E	20. D	25. C	30. E	35. C	40. B	

COĞRAFYA – 2

1. E	5. C	9. B	13. C
2. C	6. A	10. D	14. B
3. B	7. A	11. B	15. E
4. E	8. D	12. A	16. C

FELSEFE GRUBU

1. E	6. E	11. E	16. A	21. D	26. A
2. B	7. A	12. A	17. C	22. D	27. A
3. E	8. B	13. C	18. E	23. B	28. B
4. A	9. B	14. B	19. A	24. C	29. C
5. D	10. D	15. D	20. E	25. C	30. B

TARİH

1. Alp Er Tunga Destanı, İskit (Saka) Türkleri ile ilgilidir. İran - Turan Savaşları'nda Türklerin kahramanlıklarını anlatır. Oğuz Kağan Destanı; Hunlar dönemiyle ilgilidir. Manas Destanı; Kırgızlara aittir. Dünya'nın en uzun destanıdır. Ergenekon Destanı, Köktürk'lere aittir. Ergenekondan çıkışı anlatır. Dede Korkut Hikayeleri ise Oğuz Türkleri ile Kıpçak Türkleri'nin mücadelesini anlatır.

Cevap C

2. Kurgan: Türklerin ölülerini gömdükleri mezarlardır. Yuğ: Yas, ölü gömme törenidir. Balbal: Türk savaşçılarının öldürdüğü her düşman için mezarının başına dikilen sivri taşlardır. Şaman: Şamanizm'de din adamı görevini yerine getirenlerdir. Yazıt: Taşlara, ağaçlara vb. yazılarak dikilen büyük tabletlerdir. Koşuk: Sözlü edebiyat türünden şiirin bir türüdür. Sav: Sözlü edebiyat türünden birisidir. Sagu: Sözlü edebiyat türünden birisidir. Uçmağ: Cennet demektir. Tamu: Cehennem demektir.

Cevap B

3. Uygur Hükümdarı Böğü Kağan döneminde "Manihaizm" dini kabul edilmiştir. Manihaizm dini et yemeyi ve savaşmayı yasaklayan bir dindir. Uygurlar bu dinin etkisiyle yerleşik hayata geçip hayvancılıktan çok tarımla uğraşmışlardır. Buldukları bölge ticaret yolu (ipek) güzergahından olduğu için ticaretle uğraşmışlardır.

Cevap B

4. Asya Hun Devleti bilinen ilk Türk devletidir. MÖ 220'de kurulmuş MS 226 da yıkılmıştır. Batı Hunları, Asya Hunları'nın Batı'ya göçen grupları tarafından Avruda'da kurulmuştur. 378 - 469 yılları arası varlığını devam ettirmiştir. Köktürkler I ve II diye ikiye ayrılmaktadır. I. Köktürk devleti 552 - 659 yılları arasında yaşamıştır. Uygurları ise 744 - 840 yılları arasında siyasi varlığını sürdürmüştür.

Cevap A

5. 751 yılında yapılan savaşı Abbasiler kazanmıştır. Türkler Abbasilere yardım etmiştir. Orta Asya Çin egemenliğine girmekten kurtulmuştur. (Siyasi) Arapların bölgeye gelmesiyle Türkler İslamla tanışmış ve din değiştirmeye başlamıştır. (Dini) Kağıt yapımı Çin'de başlamıştır. Türkler kağıt Çinlilerden öğrenerek Araplara öğretmişlerdir. Kağıt'ın İslamlarda yaygın kullanılmaya başlamasıyla kültür gelişmiştir. (Kültürel)

Cevap E

6. Peçenek: Bir Türk boyunun adıdır. Peçenekler etnik kökene göre isimlendirilmiştir. Büyük Selçukluların kurucusu "Selçik ya da Selçuk" bey olarak bilinen bir kişidir. Kurucusuna göre isimlendirilmiştir. Gazne bir şehrin ismidir. Gaznelilerde şehrin ismini almıştır.

Cevap A

7. 12 Hayvan Resimli Türk Takvimi; İslamiyet öncesi Türkler ve Çinliler tarafından kullanılan takvimdir. Gregoryan Takvimi; Romalılar tarafından geliştirilen güneş yılı esaslı takvimdir. Celali Takvim; Başlayış tarihi 1079 olarak Melikşah adına Ömer Hayyam tarafından yapılan takvimdir. Selçuklular ve Babürler tarafından kullanılmıştır. Rumi Takvim; 1839 yılından itibaren Hicri takvimle birlikte mali işlerde Osmanlılar tarafından kullanılan takvimdir. Hicri Takvim; Hz. Ömer döneminde 622 Hicret başlangıç kabul edilerek yaptırılan takvimdir.

Cevap C

8. Risale't'ün Nushiye, dini tasavvufi ve ahlaki öğüt kitabıdır. Yazarı Yunus Emre'dir. Makalat, Hacı Bektaş Veli'nin tasavvuf konularını işleyen dini ve ahlaki davranışları öğreten bir kitaptır. Divan-ı Kebir, Mevlana Celaleddin-i Rumi'nin şiirlerinin toplandığı eserdir. Gülşehri'nin Mantuk'ut Tayr kitabı Farsça'dan tercümedir. Mevlana'nın mesnevisi ve diğer eserlerden alınan hikayelerdir. Kutadgu Bilig, Nizamülmülk'ün eseri değildir. Kutadgu Bilig "mutluluk veren bilgi" Yusuf Has Hacip'in eseridir. Nizamülmülk'ün eseri devlet adamlarına öğüt veren siyasetnamedir.

Cevap E

9. Ahilik 13. yüzyılda Anadolu'da Müslüman tüccarların kurduğu esnaf örgütlenmesidir. Bunlar, toplumsal dayanışma, esnafın dini ve sosyal ihtiyaçlarını karşılama, üretimde (esnaf ve sanatkarlar arası) kalite kontrolünü sağlama, pazarda fiyat ayarlaması yaparak haksız rekabeti önleme ile ilgili görevler yapmışlardır. Tarımsal üretimi artırma iktisadi sahipleri ve devletin görevidir.

Cevap E

10. Tuğ: Birkaç tane at kuyruğunun bir sırtın ucuna takılmasıyla olurdu. Tuğ'u İslam öncesi ve İslami dönem Türk devletleri bağımsızlık alameti olarak kullanmışlardır. Otağ: Hükümdarların seferlerde ve başkent dışına çıktıklarında oturdukları çadırıdır. Otağ'da İslam öncesi ve İslami dönem Türk hükümdarları tarafından kullanılmıştır. Hutbe:Hükümdarların bağımsızlığını ilan ettiği ülke ya da yönetimi altındaki ülkelerin camilerinde adına okuttuğu sözlerdir. Cuma hutbelerinde isminin geçmesidir. Hutbeler İslami dönem geleniğidir.

Cevap B

11. Büyük Selçuklu Devleti'nin sınırları Seyhun Nehri'ni de içine alan Orta Asya'dan başlayıp kuzeyde Aral Gölü, Kafkasya, güneyde Umman Denizi, Mekke ve Medine'yi de içine alan sınırlar, doğu'da Marmara'ya kadar uzanıyordu. Diyarbakır, Bağdat, Tus, Rey bu sınırların içindedir. İstanbul ancak Osmanlılar Dönemi'nde Türklerin eline geçmiştir.

Cevap C

12. Hacı Bayram Veli Osmanlılar Dönemi'nde yaşamıştır. (II. Murat Dönemi), Yunus Emre, Mevlana, Hoca Dehşani, Ahi Evran-ı Veli Selçuklular döneminde yaşamışlardır.

Cevap A

13. Uc: Sınır demektir. Selçuklularda batı sınırına verilen isimdir. Vilayet-i Uc: Sınır vilayeti demektir. Ucbeyi: Selçuklularda batı sınırında kendisine toprak verilen beydir. Uc'ların temel amacı sınır güvenliğini sağlamaktır. Bunun yanında Bizans'a yapılan akınlarda kullanılmış ve sınırlar genişletilmiştir. Bizans topraklarının alınmasıyla da Anadolu İslamlaştırılmış ve Türkleştirilmiştir.

Cevap E

14. Osmanlı Devleti'nin kısa sürede güçlenmesinin ve yayılmasının nedenleri;
- Hanedanın özelliği
 - Osmanlı Devlet teşkilatının sağlam olması
 - Anadolu ve Rumeli'de siyasi birliğin olmaması
 - Bizans'ın güçsüzlüğü ve Tekfurların kendi aralarında mücadele etmesi
 - Hoşgörü politikası
 - Gaza ve cihat anlayışı
 - Osmanlı iskan politikası gibi etkenlerdir.
 - Osmanlı Devleti'nin idari yapısı güçlüdür.

Cevap D

15. Cerbe Deniz Savaşı: Turgut Reis'in İspanyolların elindeki Cerbe adasını alması nedeniyle Haçlılarla Osmanlılar arasında olmuştur (1560). İnebahtı Deniz Savaşı: Kıbrıs Adası'nın Venediklilerden alınması nedeniyle Haçlılarla yapılmış ve Osmanlılar yenilmiştir (1571). Preveze Deniz Savaşı: Osmanlıları Akdeniz'de egemenlik kurmak için Haçlılarla yaptığı savaştır (1538). Vadi's Seyl savaşı: Osmanlıların Fas'taki iç karışıklıklara müdahale etmesi ve himayesine alması nedeniyle Portekizlilerle yaptığı savaştır (1578). Hind Deniz Savaşları Portekizlilerle Osmanlıların Hint Sularındaki savaşlarıdır (1538'den 1555'e kadar sürmüştür).

Cevap D

16. Alman din adamlarından olan Martin Luther Roma'ya gidip Papa'yı ziyaret ettikten sonra burada lüks bir yaşam süren din adamları ile kendi halkının yoksulluğunu düşünmüş ve Roma'dan döndükten sonra 1517'de Wittenberg Kilisesi'nin kapısına meşhur bildirisini asmıştır. Kilisenin Tanrı ile kul arasına giremeyeceği, günahları affedemeyeceği, siyasi işlerden uzak durulmasını, endüljans satmanın doğru olmadığını, iman etmenin ahiret hayatı için yeterli olacağını savunmuştur. Katolik Kilisesi'nin kendini yenilemesi istenmiştir. Skolastik düşünceyi eleştirmiştir.

Cevap E

17. Reaya halk demektir. Her zaman vardır. Garip Gureba: Fakir ve yoksul kimselerdir. Bunlarda her dönem her toplumda vardır. Beşik Uleması: Osmanlılarda Müderrislerin kendi çocuklarını yerine getirmek için böyle bir uygulama yapmışlardır. Amaç çocuklarının geleceğini kanunsuz bir şekilde garanti altına almaktır. Böylece ilmiye sınıfı bozulmuştur. Saraylı Sınıfı: Osmanlı toplumunda sınıfsal fark kanunen olmasa da saray her zaman özel bir yerdir. Harem Ağalığı: Bir sınıf değildir. Bir sistem olarak vardır.

Cevap C

18. Zitvatarok Antlaşması (1606) I. Ahmet döneminde Avusturya ile imzalandı. Osmanlı Devleti Kanuni döneminde Avusturya karşısında ele geçirdiği siyasi ve ekonomik üstünlüğü kaybetti. Vasvar Antlaşması: IV. Mehmet döneminde başlayan Osmanlı - Avusturya Savaşları sonucunda imzalandı. (1664) Hotin Antlaşması: II. Osman'ın Lehistan Seferi sonucunda Lehlilerle imzalandı (1621).

Cevap D

19. XVII. yüzyıl Osmanlı politikasının temeli fetihlere devam ve bir kısım ıslahatlar yapılmasıdır. Bu nedenle kaybedilen toprakları geri alma politikası gerileme dönemine aittir. Ferhat Paşa Antlaşması (1590) doğuda en geniş sınırlara ulaşılmıştır. (Azerbaycan, Luristan ve Dağıstan) Bucaş Antlaşmasıyla (1672) batıda en geniş sınırlara ulaşılmıştır (Podolya ve Ukrayna alınmıştır). İslahatlar Kanuni dönemi özlemiyle yapılmıştır. İç isyanlar (İstanbul ve Anadolu) merkezi otoriteyi sarmıştır. Halkın devlete güveni azalmıştır. Askeri alanda düzenlemeler yapılmış ve ordu disiplin altına alınmaya çalışılmıştır.

Cevap A

20. XVII. yüzyılda Avrupa devletlerinin Yeniçeri İsyancıları'nı ve Celali İsyancıları'nı desteklemeleri söz konusu değildir. Çünkü her ikisi de içe dönük isyanlardır. Celali İsyancıları'nda İran kışkırtması vardır. Avrupa'ya yakın Eflak ve Boğdan İsyancıları gibi isyanları desteklemiştir. Bu desteklerin amaçları ise Osmanlı Devleti ile siyasi ve askerî mücadeleleri ve Osmanlı Devleti'nin zayıflamasını sağlamaktır.

Cevap B

21. 1700 İstanbul
1711 Prut
1792 Yaş
Antlaşmaları Osmanlı Devleti ile Rusya arasında imzalanmıştır.

Cevap E

22. Avrupa'daki bilimsel ve teknik gelişmelerin, sermaye ile birleşmesi sonucu Sanayi Devrimi doğmuştur. Sanayi Devrimi ile köyden şehre göç başlamıştır. Büyük Sanayi kentlerinin kurulmasına neden olmuştur. Bu da işsizlik sorununu ve işçi sorunlarını ortaya çıkarmıştır.

Cevap C

23. III. Selim yapacağı yenilikler için Türk ve yabancı uzmanlara Layihalar adı verilen raporlar yazdırmıştır. Meclisimeşveret (danışma meclisi) ile bu raporları uygulamak istemiştir. III. Selim dönemi yapılan yeniliklerin tümüne ve kurulan orduya Nizamıcedit adı verilmiştir.

Cevap A

24. Babıali: Yüce kapı demektir. Osmanlı Devleti'nin devlet yönetiminin yapıldığı yerdir. XVII. yüzyılda dış ilişkilerin artması sonucu reisülküttaplık kalemî nişancıdan ayrılarak bağımsız hale getirilmiştir.

Cevap C

25. Osmanlı Devleti Lale Devri ile birlikte Klasik Dönem Osmanlı mimarisi olan İsfahan tarzından Avrupai tarz olan Barok ve Rokok'ya geçmeye başlamıştır. Bunun nedeni Batılılaşma çabalarıdır. Barok ve Rokoko tarzının en önemli eserleri, Sadabat Kasrı, Nuri Osmaniye Külliyesi, Laleli Külliyesi, Beylerbeyi Camii, İshak Paşa Sarayı, Koca Ragıp Paşa ve Murat Molla külliyeleridir. Edirne Selimiye Camii Klasik dönem Osmanlı mimarisinin en muhteşem eserlerindedir.

Cevap E

26. II. Mahmut bir çok alanda ıslahatlar yapmıştır. Divanühümayunu kaldırarak nazırlıkları kurmuştur. Reisülküttaplık yerini Hariciye Nezareti (Dış İşleri Bakanlığı) na bırakmıştır. Sadaret Kethüdası kaldırılmış Dahiliye Nezareti (İçişleri Bakanlığı) kurulmuştur. Sadrazamlık kaldırılarak başvekalet (Başbakanlık) getirilmiştir. Şeyhülislamlık Cumhuriyet devrinde kaldırılmıştır.

Cevap B

27. 17. Yüzyıl isyanlarının temel nedenleri, asayiş ve düzenin bozulmasıdır. Bununla birlikte kötü yöneticiler, merkezi otoritenin bozulması, paranın değer kaybetmesi, ordunun bozulması gibi nedenler de vardır. Sırp isyanı, Yunan isyanı Karadağ'ın bağımsızlık elde etmesi azınlık isyanlarıdır. Ermenilerin tehcire tabi tutulmasının nedeni de Ermeni milliyetçiliği yaparak isyan çıkartmalarıdır.

Cevap D

28. Osmanlı tarihinde Osmanlı Mebusan Meclisi'nin aldığı kararlar tahttan indirilen ilk padişah II. Abdülhamittir. Çünkü Mebusan Meclisi ilk defa onun zamanında açılmıştır. (1876)

31 Mart olayını fırsat bilen İttihat ve Terakkiciler Abdülhamit'i tahttan indirmek için Mebusan Meclisi'nden karar çıkarttılar. (1909)

Cevap C

29. Kavalalı Mehmet Ali Paşa, Mora Rumlarının isyanının bastırılmasında Osmanlı Devleti'ne yardım etmiştir. Yunanistan bağımsız olunca Mora valiliği Kavalalıya verilmiştir. Kavalalı bunun üzerine Suriye valiliğini istemişti. II. Mahmut bu isteği kabul etmemiştir. Bunun üzerine Kavalalı isyan ederek Osmanlı Devleti'yle savaşa tutuştu. Osmanlı ordularını Konya ve Antakya'da peşpeşe iki kez malup etmiştir. Bu durum karşısında II. Mahmut Rusya'dan siyasi ve askeri yardım istemiştir.

Cevap C

30. Osmanlı Devleti'nin XIX. yüzyıldaki temel politikası denge politikası olmuştur. Mısır meselesinden itibaren kendi toprağını kendi başına korumayacağını anlamıştır. Kavalalı Mehmet Ali Paşa'ya karşı Rusya'dan yardım almıştı. Rusya'ya karşı ise Kırım Savaşı'nda İngiltere, Fransa ve Piyomente Devletleri'nden yardım almıştır. Denge politikasına yönelmesinin nedeni eski gücünü kaybetmesidir.

Cevap D

31. Lozan Antlaşması'nda ele alınan konulardan birisi de (Türk - Rum) nüfus mübadelesiydi. Yunanlılar İstanbul'da daha çok Rum ahali bırakmak istiyordu. Bu sorun Lozan'da tam çözünme kavuşamamıştı. 1930 yılında Yunanistan Cumhurbaşkanı Venizelos'un İstanbul ziyareti Türk Yunan dostluğunu başlattı. Hemen arkasından İsmet İnönü başbakan olarak Atina'yı ziyaret etti. 1930'da Batı Trakya'daki Türkler ve İstanbul'da 10.000 civarındaki Rumlar yerlerinde kalarak Yunanistan'ın değişik bölgelerindeki Türkler ve Anadolu'daki Rumlar yer değiştirecektir, kararı alındı.

Cevap B

32. Türkiye, Yunanistan, Romanya ve Yugoslavya arasında 1934'te Balkan Antantı kurulmuştur. Arnavutluk bir Balkan ülkesi olmasına rağmen İtalya'nın baskısı ve Yunanistan'la sorunları nedeniyle bu pakta katılmamıştır. İran, Irak ve Afganistan'la Türkiye Sadabat Pakti'nı imzalamıştır (1937). Suriye Fransız mandasından tam çıkmadığı ve Türkiye ile Hatay sorunu Irak ile sınır sorunu olduğu için pakta girmemiştir.

Cevap A

33. Temmuz 1924'te imzalanan Lozan Antlaşması'nda Türkiye bir kısım sorunlarını tam olarak çözememiştir. Bunlardan birisi de Musul sorunudur. İngiltere zengin petrol kaynakları nedeniyle Musulu Türkiye'ye bırakmak istememiştir. 1926 Ankara Antlaşması'na kadar sorun devam etmiştir.

Cevap C

34. Türk Milli Mücadelesi Batı Emperyalizmine karşı yapılmıştır. Sovyet Rusya 1917 Ekim Devrimi ile yeni bir rejime geçmiştir. Kendi çıkarları gereği Türkiye'ye yaklaşmak istemiştir. Çünkü kendisi de yeni ideolojisinde Batı Emperyalizmine karşı mücadeleyi esas almıştır. İtalya I. Dünya Savaşı sonrası ortaya çıkan Sevr Antlaşması gereği Güneybatı Anadolu'yu işgal etmişti. Almanya ile bu dönemde yaklaşmak söz konusu olmazdı. Çünkü Almanya mağluplar safındaydı.

Cevap A

35. I. Dünya Savaşı ekonomik, siyasi, silahlanma yarışı gibi nedenlerden çıkmıştı.

- Hammadde sağlama
 - Pazar bulma
 - Sanayi İnkılabı'nın etkileri
 - Sömürgecilik
- gibi gelişmeler ekonomik amaçlıdır.

Cevap E

36. Birleşmiş Milletler Teşkilatı'nın, temel organları şunlardır;

- Genel kurul
- Güvenlik konseyi
- Uluslararası Adalet Divanı
- Ekonomik ve Sosyal Konsey
- Sekreterlik
- Vesayet Konseyi

Uluslararası Çalışma Örgütü temel organ değildir. Ekonomik ve sosyal konseye bağlı bir organdır.

Cevap D

37. II. Dünya Savaşı öncesi ve savaş sırasında Hitler'in Almanya'da uyguladığı Yahudi katliamları uluslararası soykırım suçu statüsü'nde değerlendirilmiştir. Suçlular Nürnberg mahkemelerinde yargılanmıştır.

Almanya Yahudilere yüklü miktarda tazminat ödemiştir.

Cevap B

38. Demokrat Parti 1950 seçimlerinde çoğunluğu sağlayarak tek başına iktidara gelmiştir.

- Tarımsal üretimin artması
- Liberal ekonominin uygulanması
- IMF ile ekonomik antlaşmalar yapılması
- Dış ülkelerden ekonomik yardım alınması gibi faaliyetler bu dönemde yoğun olarak yaşanmıştır.

Devletçi ekonomi Cumhuriyet Halk Partisi'nin ekonomik anlayışıdır. Demokratik Parti serbest piyasa yanlısıdır.

Cevap E

39. I. Dünya Savaşı'ndan sonra sömürge ülkelerde bağımsızlık savaşları başlamasına rağmen II. Dünya Savaşı'nın sonuna kadar başarıya ulaşamamıştır. II. Dünya Savaşı'ndan İngiltere ve Fransa gibi büyük sömürge ülkeleri büyük yara alarak çıkmış bu durum Asya ve Afrika'daki ülkelerin bağımsızlık mücadelesine girmesine neden olmuştur. Ayrıca bu dönemde toplumlardaki değişiklikte etkili olmuştur.

Cevap D

40. İngiltere Türkiye'nin NATO'ya girdikten sonra Orta Doğu'da kendine düşen rolü oynamasını istemiştir. Orta Doğu'da savunma ve güvenlik amaçlı Bağdat Pakti (24 Şubat 1955) kurulmuştur. Pakt Türkiye ile Irak arasında kurulmuş pakta İngiltere, İran ve Pakistan'da katılmıştır.

Cevap E

41. NATO kuruluşundan itibaren savunma politikalarını "NA-TO Stratejisi" adı verilen ana başlıklar altında toplamıştır. Bunlar;
- Sınırlı Savaş Stratejisi
 - Kitlesele Karşılık Stratejisi
 - Esnek Karşılık Stratejisi
 - İleri Savunma Doktrini
 - Soğuk savaş sonrası NATO stratejileri şeklindedir. sürekli savaş stratejisi yoktur.

Cevap C

42. 24 Ocak 1980'de Turgut Özal 24 Ocak kararları adı verilen ekonomik kararları almıştır.

Bunlar;

- Ödemeler dengesini düzeltmek
- Enflasyonu düşürmek
- Serbest piyasa ekonomisini uygulamak
- Taban ücretlerinin ve maaşlarının sınırlandırılması
- KİT ürünlerine zam yapılması
- Bazı KİT'lerin özelleştirilmesidir.

Bunların hepsi Türk ekonomisini güçlendirmeye yönelik kararlardır.

Cevap E

43. Türkiye ve Yunanistan Batı Trakya sorununu Lozan Antlaşması'nda çözüme kavuşturmuştur.

- Kıta sahanlığı,
- Kara suları
- Ege adalarının silahsızlandırılması
- Kıbrıs sorunu

hala devam etmektedir.

Cevap A

44. GAP (Güney Doğu Anadolu Projesi) nin ana hedefleri bölgenin sosyo - ekonomik kalkınmasını sağlamak. Bölgede istihdamı artırmak, bölge insanların hayat standartlarını yükseltmek ve tarımı geliştirmektir. Bölgeye yurtdışından bir göç hareketi başlatmak hedefler arasında değildir.

Cevap E

COĞRAFYA

1. Üreticiler, besin piramidinin birinci beslenme seviyesini oluşturur.

Cevap E

2. Akdeniz kıyılarında don olayının yaşanması beklenmediği için, tarımsal faaliyetler daha çok etkilenir.

Cevap A

3. Yer ekseni yörünge düzlemine tam dik olmadığı için yarım kürelerde zıtlıklar yaşanır. Örneğin, Kuzey Yarım Küre'de gündüzler uzunken, Güney Yarım Küre'de geceler uzun olur. Gece-gündüz süreleri arasındaki fark Ekvator'dan kutuplara gidildikçe artar. II numaralı bölge, IV'e göre kutba daha yakın olduğu için gece-gündüz süre farkı daha fazla olur.

Cevap B

4. Gelişmekte olan ülkelerde şehirleşme hızı yüksektir. Oysa Paris'te (Fransa) şehirleşme belirli bir doyuma ulaştığı için, nüfusunun daha az artması beklenir.

Cevap E

5. Bu alanın dağlık, engebeli ve yıl boyunca yağışlı olması gerekir. Bu özelliklere en çok uyan yer Doğu Karadeniz'dir.

Cevap E

6. Bölgenin batı kesiminde yer alan Yukarı Fırat Bölümü'nde Malatya'nın iklimi daha elverişlidir.

Cevap A

7. Doğu Karadeniz'de (1) heyelan, Van Gölü çevresi (2) deprem, Taşeli Platosu (3) orman yangınları bakımından riskli yerlerdendir.

Cevap E

8. Verilen günlerin hepsinde de mutlak nem miktarı hemen hemen aynıdır. Maksimum nem ise artış azalmıştır. Maksimum nem miktarının en düşük olduğu günde yağış miktarı en fazla olur.

Cevap D

9. Bir ülkedeki tarım ürünü çeşidini iklim koşulları belirler.

Cevap D

10. Bir iklim bölgesinden diğer iklim bölgesine aşamalı geçiş özelliği vardır.

Cevap B

11. Orta Doğu sıcak çatışmaları tetikleyebilecek çok sayıda unsura sahip hassas bir bölgedir. Dünya petrol rezervinde birinci sırada olması bunda temel etkindir.

Cevap C

12. Nijerya'da 250 den fazla etnik grup bulunmaktadır. Bu nedenle kültürel yönden çeşitlilik fazladır.

Cevap C

13. Hindistan'da muson rüzgarlarının etkisiyle yazlar yağışlı, kışlar kurak geçer. Oysa Hollanda yıl boyunca yağış alır.

Cevap D

14. Buzul göllerinin oluşmasında iklim koşullarına bağlı olarak dış kuvvetler etkilidir.

Cevap A

15. Erozyonla mücadele, suyun yüzeysel akışını azaltacağından yer altı suyunun artmasına yardımcı olur. Bu da su döngüsünü olumlu etkiler.

Cevap C

16. Az gelişmiş ülkelerde nüfus artışı hızı yüksek temel geçim kaynağı tarım olduğundan toprak aşırı derece işlenir.

Cevap B

FELSEFE GRUBU

1. Parçada çevre psikologlarının daha çok fiziksel çevre ile ilgilenmelerinin nedeni olarak çevre sorunlarının çözümüne yönelik katkı sağlama çabası gösterilmiştir. Çevre sorunlarının çözümü tüm insanlığın yararına. Dolayısıyla araştırmacıların fiziksel çevreye odaklanması bu ahlaksal ilkeye uygundur.

Cevap B

2. Temel ilkesi "Bütün parçaların toplamından fazla bir şeydir." olan bütüncülük (Gestaltçılık) ekolü, insanın davranışlarını anlamak için psikolojik olayları "bünyleşmiş bütünler" (parçalanamaz bir bütün) olarak görmek gerektiğini öne sürmüştür.

Cevap E

3. Parçada Zenon' un hareketin varlığını reddettiğinden bahsedilmektedir. Ancak günümüz psikolojisi gözün görüntüyü izleyen kesintiyi fark etmemesi sonucu oluşan hareket yanılması beynin duyu verilerini yanlış yorumlamasına bağlıdır; gerçek hareketi bir yanılma olarak görmez veya hareketin varlığını reddetmez.

Cevap B

4. Parçada bebeklerin yeterince uyarım almalarının zeka ve entellektüel gelişmelerini hızlandırdığı anlatılmaktadır.

Cevap A

5. Dürtü kavramı biyolojik kökenleri açık seçik görülebilen gereksinimler için kullanılır.

Cevap E

6. Canlı türlerinin öğrenme kapasiteleri , çeşitli öğrenme türlerine yakınlıkları birbirinden farklıdır. Ancak uygun türe, uygun konular öğretilir ki buna "türe özgü hazır olma" denir.

Cevap D

7. Parçada da belirtildiği gibi, toplumsal inançlar, kabuller, önyargılar, korkular v.s. koşullanma yoluyla öğrenilebilir. Bunun örnekleri seçeneklerde görülmektedir. Sevilen sanatçının giyim biçimini benimseme ise model alarak öğrenmeye örnektir.

Cevap B

8. Bizim toplumumuzda güçlü olma veya uyuma davranışının sık görülmesi; Amerikan toplumunda ise bağımsızlık davranışının ağır basması bu iki toplumun kültür farklılığından kaynaklanmaktadır

Cevap A

9. Vücutta su oranının azalması biyolojik kökenli bir ihtiyaç doğurmakta ve her organizmada (bitki, hayvan, insan) su isteği doğmaktadır; düşünme söz konusu değildir.

Cevap B

10. Parçada korkunun doğuştan değil sonradan öğrenmeyle kazanıldığı ve zamanla çocuklar büyüdükçe hayali olma yönünde değiştiği belirtilmiştir.

Cevap A

11. Parçada belirtildiği gibi sosyolog içinde bulunduğu toplumun bir parçası olduğundan toplumsal olaylar karşısında tarafsızlığını korumakta zorlanabilir.

Cevap B

12. Parçada anlatılan durumun yani kültürel sömürünün temel amacı, kendi ekonomik ve siyasi çıkarlarını gerçekleştirmektir.

Cevap E

13. Durkheim "intihar" olgusunu birtakım deneysel unsurlar (bağımlı- bağımsız değişken) kullanarak incelemek istemiştir; böylelikle sosyal olayların incelenmesinde de deney unsurlarının kullanılabilceğini göstermek istemiştir

Cevap C

14. Kız olmak, Hıristiyan olmak, İngiliz olmak, belirli bir soydan gelmek doğuştan ; fabrika işçisi olmak ise sonradan kazanılan statülerdendir.

Cevap D

15. Devlet, iktidar ve ilgili kavramları ele alan bilim siyaset bilim olup sosyolog araştırmasında bu bilimden yararlanacaktır.

Cevap A

16. Diğer seçeneklerden de önce sosyalleşme (toplumsallaşma) için gerekli olan temel unsur belirli bir toplum içinde yaşamadır.

Cevap D

17. Parçada verilen örnekte müdürlük statüsüne sahip birey bu statüsünün saygınlığına (prestijine) gölge düşürmüş, hatta prestijini kaybetmiştir.

Cevap C

18. Endüstrileşmiş (gelişmiş) toplumlarda; eğitim düzeyi yüksek, insan ve hayvan işgücü kullanımı düşük (makineleşme oranı yüksek), tarımsal işgücü oranı az ve ekonomik faaliyetler bilimsel temellere sahip olup tam tersine değişme hızı da oldukça yüksek olacaktır.

Cevap C

19. Toplum içinde statüden beklenen davranışlara (rol) uygun olarak bireylerin bunları gerçekleştirmesine yönelik beklentiler vardır.

Cevap E

20. Ahlakta ayıplanma, hukukta cezalandırılma, dinsel olarak günah işlemiş sayılma ; toplumsal denetim mekanizmalarının farklı yaptırımlara sahip olduğunu göstermektedir.

Cevap C

21. Parçada insanın çıkardığı her türlü sesin dilsel bir işaret olmadığı vurgulanmıştır.

Cevap C

22. $\forall xGx$ önermesi ile $\sim\forall xGx$ önermesi arasındaki fark " \sim " eklemidir. Önerme eklemi alan önerme ise bileşik önermedir.

Cevap D

23. "Bazı öğrencilerimiz üniversiteye girmeye hak kazandı." tikel önermedir. Tikel önermeyi doğrulamak için bir örnek yeterlidir.

Cevap D

24. İki önerme arasında "karşı olma" ilişkisi olması için aynı terimlerden oluşması gerekir.

Cevap C

25. Verilen kıyas türü entimeme (kısaltılmış kıyasa) örnektir. Entimem türü kıyaslar, kıyasın sonucu ile öncüllerin biri ifade edilerek yapılır. Kıyasın yalnız öncüllerinden birisi ifade edilir, fakat kıyasın tam anlamı verilir.

Cevap A

26. Tekil önerme; içinde niceleyici sembolü geçmeyen önerme, genel önerme; içinde niceleyici sembolü geçen önermedir. İki önerme arasındaki fark, ikinci önermenin niceleyici (her) almasıdır.

Cevap A

27. "p" gibi bir önerme bütün yorumlamalarında "Y" değeri alıyorsa tutarsız, en az bir yorumlaması "D" ise tutarlıdır. Bu nedenle "p" gibi bir önerme aynı anda tutarlı ve tutarsız olamaz.

Cevap C

28. \Rightarrow eklemine ana eklem olarak kullanıldığı bir bileşik önerme sadece ön bileşenin "D", art bileşenin "Y" olduğu durumda önerme "Y" olur. Buna göre "p"nin D, "q"nin D ve "r"nin Y aldığı yorumlamada önerme Y olur.

$$(p \wedge q) \Rightarrow r$$

$$\underline{D \wedge D} \Rightarrow Y$$

$$\underline{D \Rightarrow Y}$$

$$Y$$

Cevap D

29. Açık önerme, içinde x, y, z gibi değişkenler bulunan önermedir. Bu nedenle, bir önermenin açık önerme olarak nitelendirilebilmesi için bir değişkene sahip olması gerekir.

Cevap D

30. Bir çıkarımın çözümleyici çizelge ile denetlemenin yolu; öncüllerle sonucun değilinin çözümleyici çizelge kurallarına göre çözümlenmesidir. Bu çözümleme sonucunda açık yol varsa çıkarım geçersiz, açık yol yoksa çıkarım geçerlidir. Bu denetlemeye yarayan çözümleyici çizelge B seçeneğinde verilmiştir.

Cevap B

Cevap Anahtarı

TARİH

1. C	6. A	11. C	16. E	21. E	26. B	31. B	36. D	41. C
2. B	7. C	12. A	17. C	22. C	27. D	32. A	37. B	42. E
3. B	8. E	13. E	18. D	23. A	28. C	33. C	38. E	43. A
4. A	9. E	14. D	19. A	24. C	29. C	34. A	39. D	44. E
5. E	10. B	15. D	20. B	25. E	30. D	35. E	40. E	

COĞRAFYA - 2

1. E	5. E	9. D	13. D
2. A	6. A	10. B	14. A
3. B	7. E	11. C	15. C
4. E	8. D	12. C	16. B

FELSEFE GRUBU

1. B	6. D	11. B	16. D	21. C	26. A
2. E	7. B	12. E	17. C	22. D	27. C
3. B	8. A	13. C	18. C	23. D	28. D
4. A	9. B	14. D	19. E	24. C	29. D
5. E	10. A	15. A	20. C	25. A	30. B

TARİH

1. İpek Yolu'nu egemenlik altında tutma, komşu devletlerle ticari antlaşmalar yapma, ülkede istikrarı sağlama ve yöneticilerin tutumları ticaretin gelişmesinde etkili olmuştur. Devlet işlerinin kurultayda görüşülmesi ise yönetimle ilgilidir.

Cevap D

2. İslamiyet öncesi Türk devletlerinde kurultay savaşa ve barışa karar vererek, yabancı devletlerle yapılan antlaşmaları onaylamıştır. Hükümdarlık makamına hanedan üyeleri geçtiği için, kurultayın hükümdar seçme yetkisi yoktur.

Cevap B

3. Türklerde kast sistemi benzeri sosyal tabakalaşma olmamıştır. Bunun temel nedeni;
- Törelere müsaade etmemesi
 - Göçebe toplum olmaları
 - Toplumun tüm kesimlerinin ortak kültür havzası içerisinde yaşamaları ve hakanların toplumla birlikte hareket etmeleridir.

Cevap E

4. Büyük Selçuklu Devleti'nin sınırları Süveyş'in batı yakasına geçmemiştir. Bu nedenle Merv, İsfahan, Nişabur Selçukluların kurulduğu bölgededir. Bağdat ise Tuğrul Bey döneminde alınmıştır. Kahire Süveyş'in batı yakasında kaldığı için Selçuklu topraklarına katılmamıştır.

Cevap D

5. Memlûklular Devleti'nin, Abbasi Halifesini korumaları, ümetçi anlayışla ilgili. Ordu ve yönetimde Türklerin görev alması, Türkçe'nin resmi dil ilan edilmesi ise milliyetçi anlayışla ilgilidir.

Cevap E

6. Peçenekler Avrupa'ya göç ettiği için, Fatımilerde Mısır'da kurulduğu için İpek Yolu üzerinde egemenlik kurmamıştır.

Cevap B

7. Türklerin Anadolu'yu yurt edinmelerinde göçebe Türkmenlere yeni yerleşim yerleri bularak yurt edinme amacı etkili olmuştur.

Cevap B

8. Orta Çağ (375 - 1453) Avrupa'sında Avrupa'da siyasal birlik yoktur. Feodalite rejimi yaygındır. Toplum din adamları, burjuvalar, soylular, köylüler şeklinde ayrılmıştır.

Papalar kralların tahta çıkma törenlerinde taç giydiriyorlar ve kutsuyorlardı.

Eğer papa kutsamazsa kralın otoritesi sarsılıyordu. Dinin siyasal alana nüfusu papaların krallara taç giydirmesiyle ilgilidir.

Cevap C

9. Haçlı Seferleri'nden sonra Katolik Kilisesi ve din adamlarının eski gücünü kaybetmesi özgür düşünce ortamının gelişmesine ortam hazırlamıştır.

Cevap A

10. Anadolu'nun kesin Türk yurdu olmasında 1176 Miryokefalın Savaşı etkili olmuştur. Bu savaşla Bizans'ın Anadolu'yu tekrar alma ümidi sona ermiştir.

Cevap C

ESEN YAYINLARI

11. Hükümdar: Töre ve müesseselerin tanıdığı haklarla ülkenin tek hakimidir.
Atabey: Selçuklu meliklerini yetiştiren hocalardır.
Melik: Selçuklu şehzadelerine verilen unvan. Hanedan üyesi valiler.
Mütevfi: Divan-ı İstifa'nın başında bulunan kişi
Naib: Yardımcı demektir.

Cevap C

12. Türkiye Selçukluları Rumeli'de fetihlerde bulunmadığı için, Edirne'de Türkiye Selçuklularına ait mimari eserler olması mümkün değildir.

Cevap E

13. Büyük Selçuklularda Hassa askerleri ve Guleman-ı Saray sultana bağlı özel birliklerdir. Hassa askerlerine hizmetlerinin karşılığı ikta denilen belirli bir arazi verilir.
Guleman-ı Saray ise sultana bağlı muhafız birlikleridir. Farklı milletlerden seçilip özel yetiştirilirdi. Eyalet askerleri, melik ya da eyalet valilerinin askerleriydi.

Cevap D

14. Osmanlı Devleti Doğu'da en geniş sınırlarına 1577-1590 Osmanlı İnan Savaşları'nın sonunda imzalanan Ferhat Paşa Antlaşması'yla ulaşmıştır. (1590)
Osmanlı Devleti Batı'da en geniş sınırlara IV. Mehmet'in Lehistan Seferi sonunda imzalanan Bucaş Antlaşması'yla ulaşmıştır (1672). Bugünkü Türk-İnan sınırı büyük oranda 1639 yılında yapılan I. Kasrışirin Antlaşması'yla çizilmiştir.

Cevap B

15. III. Mustafa çeşitli alanlarda ıslahat yapan padişahlardan birisidir. O'nun döneminde devlet maliyeyi düzeltmek için "Esham Kanunu" çıkarmıştır. Buna göre zengin esnaflardan borç para alınmış ve ilk kez iç borçlanmaya gidilmiştir. Amacı ise hazinenin nakit ihtiyacını karşılamaktır.

Cevap C

16. Mebusan Meclisi'nin açılması (1876): II. Abdülhamit Dönemi.
Redif Birliklerinin kurulması: 1834'te tımar ordusunun açılığını kapatmak için kurulmuştur.
Polis Teşkilatı'nın kurulması: II. Mahmut döneminde kuruldu. 19. yüzyıl.
Sekbanıcedit Ocağı: II. Mahmut tarafından Yeniçerilerin Nizamıcedit'i kaldırması üzerine kurulmuştur.
İltizam Usulü: 17. yüzyılda uygulanmıştır.

Cevap E

17. Osmanlı devleti içerisinde bir çok etnik yapıyı birleştiren çok uluslu bir devlettir. Bu durum Rusya'nın Balkanlardaki Slav halkları kışkırtması ve 1789 Milliyetçilik akımının Balkan halklarını etkilemesiyle aleyhine olmuştur. Etnik uluslar ayaklanmış ve teker teker bağımsızlıklarını elde etmişlerdir.
Topraklarının ticaret yolları üzerinde olması ve hammaddenin bol bulunması nedeniyle sömürgeci devletlerin açık ve kapalı hedefi olmuştur. 1830'da Cezayir 1881'de Mısır 1912 Trablusgarp sömürge amaçlı kaybedilmiştir.

Cevap E

18. 1750'lerden sonra İngiltere'de başlayan sanayileşme hamlesi sendikacılık faaliyetlerini hızlandırmıştır. Çünkü sanayi işçisi ortaya çıkmıştır.
Sanayileşmenin getirdiği bol üretimin hammaddesine ulaşmak için sömürge yarışı hız kazanmıştır. Dolayısıyla hammadde arayışı da artmıştır.

Cevap E

19. 1815'te toplanan Viyana Kongresi'nde Avrupa'nın Fransız İhtilali'nden etkilenmemesi üzerine politikalar geliştirilirken, Osmanlı toprakları paylaşılmak istenmiştir. Bu nedenle Rusya İstanbul'u alıp Bizans'ı yeniden canlandırma, Balkanlardaki slavları kışkırtarak Osmanlı'nın Balkan egemenliğine son vermek istemiştir. İngiltere, Fransa ve Rusya gerek İslahat Fermanı gerekse Berlin Antlaşmaları'nda azınlıklara yönelik ıslahatlar istemişlerdir. Gizli Antlaşmalarla Anadolu dahil Osmanlı topraklarını paylaşmışlardır.

Cevap C

20. Osmanlı Devleti Ordusu Kapıkulu Askerleri, Eyalet Askerleri, Yardımcı kuvvetler ve Donanma'dan oluşmaktaydı.
Piyadeler; Acemi Ocağı, Yeniçeri Ocağı, Cebeci Ocağı, Topçu Ocağı, Top Arabaları Ocağı, Humbaracılar, Lağım-cılar'dan oluşmaktaydı.
Süvariler: Sipah ve silahtar, sağ ve sol ulufeciler, sağ ve sol gariplerden oluşmaktaydı.
Eyalet Askerleri: Tımarlı Sipahiler, Akıncılar, Azaplar, Yaya ve Müsellemeler, Deliler, Gönüllüler, Beşliler ve Sakalar'dan oluşmaktaydı.

Cevap B

21. Meclisiahkama'diye: II. Mahmut döneminde hukuk işlerini düzenlemek için kurulan kurum.
Meclisimebusan: Seçimlerle gelen millet vekilleridir. Her 50 bin Osmanlı erkeği bir millet vekili seçilebiliyordu.
Meclisiayan: Anadolu'daki eşraflardan padişah tarafından atanarak oluşturulan meclisdir.
Darışurayıbabalı: Yönetim işlerini yerine getiren kurum.
Saltanat Şurası: Hükümet gibi görev yapan bir kurul.

Cevap B

22. Azınlık Cemaat Mahkemeleri: Osmanlı vatandaşı gayrimüslimlerin davalarına bakan mahkemelerdir.
Konsolosluk Mahkemeleri: Osmanlı devletinde konsolosluk hakkı elde etmiş devletlerin vatandaşlarının Osmanlı topraklarındaki davalarına bakarlar.
Nizamiye Mahkemeleri: Mecelle hukukunun uygulandığı mahkemelerdir.
Karma Mahkemeler: Müslim ve gayrimüslim üyelerden oluşan mahkemelerdir.
Şeriye Mahkemeleri: Dini konularla ilgili (evlenme boşanma) konulara bakan mahkemelerdir.

Cevap B

23. Kazaskerler: Divan'ın tabi üyelerindendir. Yönetimde karar alma yetki ve söz hakkı vardır. Müderris ve kadıların atamalarını yaparlardı.
Subaşılari: Güvenlikten sorumlu kişilerdir.
Yığıtbaşı: Köylerde güvenlikten sorumludur.
Muhtesip: Çarşı ve pazarların güvenliğinden sorumlu kişi
Tüccar: Mal ihraç ve ithalatıyla uğraşan esnaflardır.

Cevap A

24. Dirlik: Devlet memuru ve askerlerine maaş yerine toprak verirdi. Verilen toprağın geliri bunlara ait olurdu. Toprak sistemini kapsayıcı genel isimdir.
Yurtluk: Sınır boylarında görev yapan askerlere verilen topraklardır.
Ocaklık: Kale muhafızları ve tersane giderleri için ayrılan topraklardır.
Paşmaklık: Padişah kızları ve eşlerine ayrılan topraklardır.
Mukataa: Gelirleri doğrudan hazineye giden topraklardır.

Cevap D

25. Kalenderoğlu İsyanı: Kanuni döneminde Karaman ve çevresinde tımarların dağıtımında yaşanan sorundan dolayı çıkmıştır.
Baba Zünnün İsyanı: Kanuni döneminde Yozgat ve çevresinde vergi sorunlarından dolayı çıkmıştır.
Canbolatoğlu İsyanı: XVII. yüzyılda çıkan Celali isyanlarından birisidir.
Ahmet Paşa İsyanı: Kanuni döneminde Sadrazamlık beklerken Mısır valiliğine atanan Ahmet Paşa çıkartmıştır.
Canberdi Gazali İsyanı: Kanuni döneminde Şam'da Memluk Devleti'ni yeniden kurmak için çıkmıştır.

Cevap C

26. Divan teşkilatı, yaya ve müselleme ordusu, ilk tersane ve ilk medrese Orhan Bey döneminin gelişmeleridir. I. Murat döneminde ise Divan teşkilatı geliştirildi. Ayrıca Veziriazamlık, Defterdarlık, Kazaskerlik, Rumeli Beylerbeyi, Tımar sisteminin uygulanması başladı. Yeniçeri Ocağı ve Pençik Sistemi de I. Murat dönemiyle ilgilidir. Enderun denilen saray okulu ise II. Murat dönemi gelişmelerindendir.

Cevap A

27. Fatih denizlerde egemenlik kurmak için Gelibolu, Gemlik ve İstanbul'daki tersanelerde yeni gemiler yaptırıp, güçlü bir donanma kurulmasını sağladı. 1460 yılında Cenevizlilerin kolonisi olan Amasra'yı aldı. 1461'de Trabzon Rum Devleti'nin elinden Trabzon'u aldı. 1475'te Kırım'ın Kefe limanı ele geçirildi. Böylece Doğu ve Batı Karadeniz ticareti ele geçirilmiş oldu.
Memlük Devleti Mısır ve Suriye topraklarında egemenlik kurmuştu. Fatih döneminde Hicaz Su Yolları sorunu nedeniyle Osmanlı - Memlük ilişkileri gerginleşmişti. Savaş durumu II. Bayezit döneminde ortaya çıkmıştır.

Cevap D

28. Osmanlı Devleti'nde kağıt ve bez fabrikasının kurulması Lale Devri ıslahatlarındandır. Fabrikalaşma işi sanayi ile ilgilidir. Matbaa'nın kurulması kültürle ilgilidir.

Cevap E

29. Yabancı kitaplardan tercüme yapılarak yabancı kültürünün etkisine girilmiştir.

Dış borçlanma ve yabancı tüccarlardan düşük gümrük alınması ticari ve ekonomik anlamda Batılı devletlerin etkisi altına girilmesine neden olmuştur.

Cevap E

30. XIX. yüzyılda Osmanlı aydınları toplumda birlik ve beraberliği sağlamak için meşrutiyet yönetimine geçerek azınlıklara da mecliste temsil hakkı verip, hürriyet ve eşitliği sağlamaya çalışmışlardır.

Cevap E

31. 18 Ocak 1919'da toplanan Paris Barış Konferansı'nda I. Dünya Savaşı'nın kesin olarak bitirilmesi ve yenilen devletlerin durumunun görüşülmesi ele alınmıştır.

A, B, C ve E şıklarındaki galip devletler beklenti ilişkisi doğrudur. Çünkü 1823'te yayınlanan Monroe Doktrini ABD'nin Avrupa işlerine karışmamasını ilke edinmiştir. Wilson Prensipleri ile ABD dengeyi sağlayıp ABD'nin kendi topraklarına çekilmeyi amaçlamıştır.

Cevap D

32. İngiltere I. Dünya Savaşı'nın galip devletlerinden birisidir. İngiltere kıta Avrupası'ndaki en büyük rakibi Almanya'yı saf dışı etmiştir. Orta Doğu'daki Osmanlı topraklarını alarak yerleşmiştir (Irak, Suudi Arabistan, Filistin).

Özellikle Orta Doğu'da yeni sömürgeler elde etmiştir. İngiltere I. Dünya Savaşı'ndan II. Dünya Savaşı'nın sonuna kadar Avrupa'nın en etkili devleti haline gelmiştir. İngiltere, Rusya'da komünist rejimin kabulüyle hiç bir zaman kazanç elde etmemiştir.

Cevap B

33. Türkiye 1923 - 1938 yılları arası dış politikasını iki ana eksene oturtmaya çalışmıştır. Lozan'dan kalan sorunlar olan Musul sorunu, borçlar, yabancı okullar ve Suriye sınırı, nüfus mübadelesi sorunlarını çözmeye çalışmıştır.

1931-1939 yıllarında ise uluslararası çevrede barışın yaşaması için bölgesel ve Dünya'da oluşan oluşumlarda yer almıştır. Sovyet Rusya ile ilişkileri zaman zaman gelişse de zaman zaman problem yaşanmıştır.

Cevap D

34. Rusya'da 1917 Ekim devriminin oluşum süreci Karl Marks'ın öğretileriyle başlamıştır. Özellikle 1789 Fransız İhtilali'nin ortaya koyduğu özgürlük, eşitlik ve adalet kavramları marksistler tarafından kullanılıyordu. Eşitliğinde işçi sınıfının liderliği ile gerçekleştirileceğine inanılıyordu.

Rusya'nın sanayileşmesine rağmen işçi sınıfı ve toplumun büyük bir kesimi zenginleşmemiştir. Bu durum I. Dünya Savaşı'nın olumsuzluğu ile birleşince devrim düşüncesi hız kazanmıştır. Bu nedenle her üç öncülde Bolşevik İhtilali'nin oluşmasına etki eden gelişmelerdendir.

Cevap E

35. 1916'da Rus Çarlığı'nın Orta Asya Türklerini askere alma emrini vermesi üzerine başlamış bir harektir. Basmacı hareketi, Zeki Velidi TOĞAN, Türkistan bağımsızlık birliğinin başkanıydı. Bu nedenle Basmacıların bir dönem liderliğini yapmıştır.

Enver Paşa 8 Kasım 1921'de Türkistan'a gelmiş ve Basmacılara katılmıştır. Yusuf Akçura Orta Asya ve tüm Türk dünyasının birleşmesini istiyordu. Bu nedenle her üç öncülde Basmacılık hareketinin düşünsel işlevini desteklemektedir.

Cevap E

36. Japonya Meiji Restorasyonu ile güçlenmişti. Gelişen sanayisine hammadde ve pazar bulmak için Kore ve Çin'e sahip olmak istiyordu. Japonya'nın Çin'e saldırmasına Almanya ve İtalya'nın saldırgan tutumlarına dünyanın yeterince ses çıkarmaması, İtalya ve Almanya'nın birleşmesine tepkinin tam olmaması, İngiltere'nin yumuşak politikası ve ABD'nin tarafsızlık politikaları neden olmuştur.

Wilson prensipleri saldırganların aleyhine maddeler içermektedir. I. Dünya Savaşı sırasında yayınlanmıştır.

Cevap B

37. II. Dünya Savaşı'na katılan Almanya'nın lideri, Adolf Hitler İtalya'nın lideri, Benito Mussoloni, ABD'nin lideri Roosevelt, SSCB'nin lideri, Joseph Stalin Japonya'nın lideri, Hirohito, De Gaulle ise Fransa'nın lideridir.

Cevap B

38. II. Dünya Savaşı başlamadan önce özellikle Almanya'nın Ren bölgesine saldırması, İtalya'nın Habeşistan'a saldırması, Japonya'nın Mançurya'ya saldırmasına ses çıkararak yatıştırma politikası güden İngiltere'dir.

Cevap A

39. 9 - 10 Ağustos 1941'de İngiliz Başbakanı Churchill ile ABD Başkanı Roosevelt bir araya gelerek Wilson'un 14 noktasına benzeyen "Atlantik Demeci"ni yayınladılar. Atlantik Demeci ABD'nin tarafsızlık politikasını bıraktığını kanıtlamaktadır. Buna göre, savaştan sonra toprak kazanılamayacak, her ulus kendi geleceğini kendisi tayin edecek, ilgili halkın onayı olmadan toprak değişimi yapılamayacak, hammaddeler eşit paylaşılacak, insanlar korku ve açlıktan kurtararak, açık denizlerde ticaret serbest olacaktır. Manda ve himayenin devam etmesi söz konusu değildir.

Cevap C

40. IAEA: Uluslararası Atom Enerji Ajansı
IBRD: Uluslararası Bayındırlık ve Kalkınma Bankası
HABİTAT: BM İnsan yerleşimleri merkezi
UNDOF: BM Gözlemci Gücü
UNESCO: BM Eğitim Bilim ve Kültür Teşkilatı

Cevap A

41. 14 Mayıs 1948'de toplanan Yahudi Milli Konseyi İsrail Devleti'nin kuruluşunu ilan etti. İngiltere, ABD ve Sovyetler Birliği İsrail'i tanıdılar.

İsrail'in kuruluşu Arap - İsrail Savaşları'nı başlattı. Mısır, Ürdün, Lübnan, Suriye ve Irak orduları İsrail'e savaş açtılar. Bir yıl süren savaşlar sonunda Araplar yenildiler. İsrail, Filistin topraklarının dörtte üçünü ele geçirdi.

Az sayıdaki İsrail ordusunun beş Arap ülkesinin ordularını yenmesi Arap Milliyetçiliğinin gelişmesini sağladı.

Cevap B

42. Panmunjom Ateşkesi: Kuzey Kore ile Güney Kore'nin savaşı bıraktığı antlaşmadır (1953).

Rethandos Ateşkesi: I. Dünya Savaşı sonrası Almanya ile müttefikler arasında yapıldı.

Villa Gusti Ateşkesi: I. Dünya Savaşı sonrası, müttefikler ile Avusturya - Macaristan arasında oldu.

Selanik Ateşkesi: I. Dünya Savaşı sonrası müttefikler ile Bulgaristan arasında oldu.

Mudanya Mütarekesi: Kurtuluş Savaşı sonrası TBMM ile Yunanistan (adına İngiltere) ile oldu.

Cevap A

43. Türkiye Cumhuriyeti çok partili seçimi 1946'da yaptı. Bu seçimde açık oy - gizli sayım, çoğunluk sistemi, tek dereceli ve yargı denetimine kapalılık uygulaması yapıldı. Tam demokratik bir seçim sistemi değildir.

Bu sistem 1950'de değiştirildi. Gizli oy - açık sayım sistemine geçildi.

Cevap B

44. 1948 Olimpiyat oyunlarına Güreş Milli takımımız iddialı bir şekilde gitmiştir. Müsabakalar sonrasında Yaşar Doğu, Celal Atik, Gazanfer Bilge ve Nasuh Akar altın madalya aldılar.

Hamza Yerlikaya son dönem güreşçilerimizdendir.

Cevap E

COĞRAFYA

NAFTA'ya üye ülkelerin bulunduğu alan 5 nolu alandır.

Cevap E

1. Kestel Polyesi turizme değil tarıma uygun ortam hazırlamıştır.

Cevap B

3. Kabotaj kanunuyla Türk gemileri Türk limanlarında serbestçe dolaşma hakkını, Montrö sözleşmesi ise boğazları ilgilendirdiğinden denizyollarını doğrudan etkileyecek maddelerdir.

Cevap C

4. Polonya düz bir alanda kurulmuş bir ülkedir. Bu yüzden güneş ışığını görememe sıkıntısı olan yerleri yoktur.

Cevap B

5. Kızıldeniz'i Akdeniz'e bağlayan Süveyş Kanalı'nın açılması kıtalararası hava ulaşımını hiçbir şekilde etkilemez.

Cevap D

6. Yerel saati daha geri olduğu için X'e göre daha batıdadır. Gece-gündüz süre farkı daha az olduğu için Ekvator'a daha yakındır, yani daha güneydedir. Daha güneydeki bir merkezde gündüz süresi daha uzun olması, verilen tarihlerden ancak 21 Aralık'ta yaşanabilir.

Cevap A

7. Deprem yol açtığı can ve mal kayıplarını en aza indirmek için binaların yapılacağı yerin iyi etüt edilmesi gerekir. Binalar alüvyal alanlara değil sert zeminler üzerine yapılmalıdır.

Cevap D

8. İstanbul'da Yerebatan Sarnıcı'nın bulunması doğal değil beşeri şartlara bağlıdır. Diğer alanlarda görülecek turizm gelişmesinde doğal şartlar etkili olmuştur.

Cevap B

9. İngiltere'de yaz turizminin gelişmeme nedeni iklimiyle ilgilidir. Okyanus üzerinde bir ada olması ve yer şekillerinin sadeliği ile yaz turizmi arasında bir bağlantı yoktur.

Cevap D

10. Kiel Kanalı Asya'da değil Avrupa'da Almanya'da yer alan Baltık Denizini Kuzey Denizine bağlayan kanaldır.

Cevap C

11. A şıkında belirtilen toplam turist sayısıdır. Oysa tabloda verilenler turizm gelirlerinin aylara dağılımıdır. Diğer şıklar tablodan çıkarılabilecek şıklardır.

Cevap A

12. Karstik göllerin oluşumu, kalker, jips gibi kolay eriyebilen kayaların varlığıyla ilgilidir.

Cevap E

13. Greenpeace devlet dışı, devletlerden bağımsız bir örgüttür. Faaliyetlerini bağımsız olarak yürütebilmek için devletlerin veya hükümetlerin üyeliğini kabul etmez.

Cevap C

14. Verilen gelişmeler tarımsal alanda yapılan gelişmelerdir.

Cevap C

15. Kentsel alandan kırsal alana doğru olan iç ticarete tarım ürünleri ve hammadde konu olmamaktadır. Kentsel alandan kırsal alana mamul madde ve hizmet gitmektedir.

Cevap C

16. Türkiye'nin Cumhuriyetin ilk yıllarında nüfusu arttırmaya yönelik politika izlemesindeki amaç tarımda makineleşmenin yetersizliğidir. Bu dönemde tarım alanlarının yeterli olması nüfusu doyurabilecek güçte olması nedeniyle nüfus arttırmaya yönelik bir politika izlenmiştir.

Cevap A

FELSEFE GRUBU

1. Platon'un düşünmeyi sessiz konuşma olarak nitelendirmesine benzer görüşe sahip günümüz psikologlarının, bu görüşü düşünme sürecinde dilde, dudaklarda ve boğazda bazı hareketlerin olduğunu söyleyerek, bilimsel bir temele oturtmaya çalıştıkları söylenebilir.

Cevap B

2. Diğer seçeneklerde bir değişken artarken diğeri azalmakta iken, motivasyon arttıkça öğrenme de artmaktadır. Yani negatif değil pozitif korelasyon vardır.

Cevap D

3. Halisünasyon (Sanrı) ile illüzyon (Yanılsama) arasındaki temel fark uyarıcının illüzyonda varken halisünasyonda olmamasıdır.

Cevap A

4. Koku, ses, ısı, karanlık gibi fiziksel (dış) uyarıcılarla uzun süre karşı karşıya kalan organizmada uyarıcının ilk etkisini yitirmesi alışmadır. Burada heyecan olayında azalma olmaması ve de heyecanın iç uyarıcıya bağlı olması alışma örneği olmadığını göstermektedir.

Cevap B

5. Köpekten korkmak, kravat bağlamak, sigara içmek, müzik aleti çalmak öğrenme ile edinilen davranışlar iken örümceğin ağ örme davranışı içgüdüselidir.

Cevap A

6. Bir uyaran karşısında ortaya çıkan davranışın ceza ya da ödül gibi başka bir uyaran ile güçlendirilmesine pekiştirme denir. Burada da yemek yapma davranışı övgü ile pekiştirilmiştir.

Cevap D

7. Parçada öğrenme sonrası yapılan etkinliklerin (çalışma, dinlenme, uyku) öğrenme üzerindeki olumlu, olumsuz etkisi ele alınmıştır.

Cevap C

8. İlk dört madde hayvanların da sahip olduğu, zekanın pek rolünün olmadığı davranışlar iken; ihtiyaçlar için araç-gereç yapma zeka isteyen, insana özgü davranışlardır.

Cevap E

9. Paranoyada hayal ürünü izlenme gibi sanrıların sıklığından bahsedilen parçada normal hayatta paranoyak kişilerin davranışlarının, kişiliğinin bozulmadığı belirtilmiştir. Yani düşünme ve davranışlarında gerileme görülmez.

Cevap C

10. Savunma mekanizmalarından yön değiştirmeye örnekler verilen parçada birey tepkisini başka nesnelere yöneltmektedir.

Cevap E

11. Parçada yer alan örnekte, demokrasinin var olduğu ülkede demokrasinin bazı kurumlarca benimsenmemesi toplumsal düzenin bozulmasına yol açmaktadır. Toplumsal düzen için kurumlar arasında uyum ve bağlılık olmalıdır.

Cevap C

12. "Nerede bir toplum varsa orada hukuk vardır" sözü kuraların tüm toplumlarda söz konusu olduğunu göstermektedir.

Cevap B

13. Parçadan birey davranışlarının normlarla denetlendiğine, sosyal kontrol ile bireylere baskı yapıldığına, ilkel toplumlarda daha yoğun olduğuna, normların birey yaşantılarını etkilediğine ulaşılabılır. Ancak "toplumsal denetim kültürün değişimini engeller" yargısına ulaşılamaz.

Cevap E

14. Parçadan yola çıkarak, ailenin devamlılığından, değişimlere açıklığından, toplumsal düzeni sağlayan vazgeçilmez bir kurum olduğundan bahsedilebilir. Ancak "aile bireylerin özgür gelişimini engelleyen bir gruptur" denemez.

Cevap D

15. Parçada kültürün doğuştan ya da genetik olarak oluşmadığı vurgulanmıştır; bu kültürün öğrenilir olduğunu göstermektedir.

Cevap B

16. Parçada yer alan örnekte görüldüğü gibi bütün üretimi toplumsal yaşamı etkilemektedir; yani toplumlarda üretilen mal ve bu malın niteliği sosyal yaşamı etkiler.

Cevap E

17. Toplumsal değişimin ilerlemeye yönelik olmadığına örnek "Laik eğitim modelinden teokratik eğitim modeline geçiş" tir.

Cevap D

18. Bireylerin çoğunun fikir birliğine varması yani çoğunluğun sahip olduğu düşünce davranışların normal ya da anormal olduğunu belirleyen ölçüttür.

Cevap B

19. Parçada verilen örnekte görüldüğü gibi sosyolog, günümüz ve geçmişte yaşanan olayları göz önüne almalıdır. Çünkü toplumsal olaylar birbirinden bağımsız olamaz.

Cevap C

20. Ailenin temel işlevleri diğer seçeneklerde yer almıştır. Ancak "toplumsal değişmeyi hızlandırmak" ailenin temel işlevi değildir.

Cevap B

21. Parçada mantığın gerçek bilgiye ulaşmada bir araç olduğu vurgulanmıştır.

Cevap B

22. "Hiçbir üçgenin iç açıları toplamı 200 derece değildir." önermesi;
– Nicelik bakımından tümeldir.
– Nitelik bakımından olumsuzdur.

Cevap B

23. Diyagramda taralı alan hem öğrenci, hem zeki hem de çalışkan kümesinin elemanıdır. Diyagramda taralı alanı "Bazı öğrenciler hem zeki hem de çalışkandır." önermesi ifade eder.

Cevap A

24. Her iki önermenin niceliği aynı, fakat niteliği farklıdır.

Cevap C

25. Kıyas kurallarına göre iki tikel önermeden sonuç çıkmaz. C seçeneğinde I. öncül tikel, II. öncül tikel verildiği halde sonuç çıkartılmıştır.

Cevap C

26. $(p \wedge q)$ önermesinde ana eklem \wedge (ve)dir. Bu eklem "Kuraklık ve israf su sıkıntısını etkiler." önermesinde yer almıştır.

Cevap B

27. Gerekli ve yeterli koşul eklemi ancak ve ancak (\Leftrightarrow) dir. \Leftrightarrow eklemının ana eklem olarak kullanıldığı önermelerde her iki bileşen birbirini gerektirir. Yani, "d" olduğunda "a" da olur, "d" olmadıkça "a" da olmaz.

Cevap A

28. Verilen bütün önermelerin çözümlenmeleri doğrudur. "v" eklemi çatal açma, "∧" eklemi ise alt alta yazma kuralıyla çözümlenir. $p \Rightarrow q$ önermesinin eş değeri $\sim p \vee q$ olduğu için çatal açma, $\sim(p \Rightarrow q)$ önermesinin eşdeğeri $p \wedge \sim q$ olduğu için alt alta yazma kuralı geçerlidir.

Cevap B

29. A ile B önermesinin eş değerlilik denetlemesinin yolları şunlardır:

1. $A \Leftrightarrow B$ önermesi geçerli ise
2. $\sim(A \Leftrightarrow B)$ önermesi tutarsız ise
3. A.:B çıkarımı ve B.:A çıkarımı geçerli ise

Bu yollardan ikisi I. ve II. seçeneklerde verilmiştir.

Cevap A

30. Niceleyicilerin değillemelerinin eşdeğeri alınırken " $\forall x$ "in değili $(\sim \forall x) \exists x$, " $\exists x$ "in değili $(\sim \exists x) \forall x$ 'dir. Niceleyicilerin yanındaki Fx gibi önermelerin değili varsa $(\sim Fa)$ eş değeri alınırken Fa olarak, değili yoksa (Fa) eş değeri alınırken $\sim Fa$ olarak alınır. Örneğin $\sim \forall x \sim Fx$ 'in eş değeri $\exists x Fx$ 'dir. Buna göre, II. ve III seçeneklerdeki eş değerlilikler doğrudur.

Cevap B

Cevap Anahtarı

TARİH

1. D	6. B	11. C	16. E	21. B	26. A	31. D	36. B	41. B
2. B	7. B	12. E	17. E	22. B	27. D	32. B	37. B	42. A
3. E	8. C	13. D	18. E	23. A	28. E	33. D	38. A	43. B
4. D	9. A	14. B	19. C	24. D	29. E	34. E	39. C	44. E
5. E	10. C	15. C	20. B	25. C	30. E	35. E	40. A	

COĞRAFYA - 2

1. E	5. D	9. D	13. C
2. B	6. A	10. C	14. C
3. C	7. D	11. A	15. C
4. B	8. B	12. E	16. A

FELSEFE GRUBU

1. B	6. D	11. C	16. E	21. B	26. B
2. D	7. C	12. B	17. D	22. B	27. A
3. A	8. E	13. E	18. B	23. A	28. B
4. B	9. C	14. D	19. C	24. C	29. A
5. A	10. E	15. B	20. B	25. C	30. B

TARİH

1. Tapınak ve putçuluk yerleşik toplumlar için geçerlidir. Türklerde göçebe yaşantıdan dolayı tapınak mimarisi gelişmemiştir.

Cevap D

2. Kavimler Göçü sırasında Avrupa Hun Devleti'nin kurulması Avrupa'da Türk kültürünün tanınmasında etkili olmuştur.

Cevap A

3. Arapça'nın resmi dil ilan edilmesinin Türklerin İslamiyete girmesinde bir etkisi yoktur. Türkler İslamı benimsedikten sonra Arapça'yı resmi dil yapmışlardır.

Cevap D

4. Türk toplum yapısında aileler, obaları, obalar birleşerek boyları, boylar birleşerek de budun yani milleti oluşturur.

Cevap D

5. Büyük Hun İmparatorluğu'nun parçalanmasında; Çinlilerin bölücü politikalar uygulaması, İpek Yolu'nun Çinlilerin eline geçmesi ve ülkenin hanedan üyelerinin ortak malı sayılması ile taht kavgalarının çıkması etkili olmuştur.

Cevap E

6. Asya Hun Devleti yazıyı kullanmadığı için yazılı kültür fazla gelişmemiştir. Kutluk Devleti, Köktürk Alfabeti'ni Uygurlar Sogd Alfabeti'ni kullandıkları için yazılı kültür gelişmiştir.

Cevap A

7. " Karahanlılar " Türkistan'da kurularak, Türkçe'yi resmi dil ilan etmişler ve Türk tarihinde ilk kez medreseler kurmuşlardır.

Cevap B

8. İslamiyet'in ilk kez Avrupa'da yayılması Emeviler Dönemi'nde 711 Kadiks Savaşıyla Müslümanların İspanya'yı fethetmesiyle olmuştur. Bu nedenle Türklerin İslamiyeti ilk kez Avrupada yaymaları söz konusu değildir.

Cevap B

9. Orta Çağ Avrupası'nın düşünce sistemi "Skolastik" düşünce sistemine dayanmaktaydı.

Cevap B

10. Haçlı Seferleri sonucunda Avrupalıların kağıt yapımını öğrenmelerinin dünya kültür tarihi açısından önemli sonuçları olmuştur.

Cevap A

11. Türklerin Anadolu'yu yurt edinmesinde, Anadolu nüfusunun az olması, halkın Bizans yönetiminden memnun olmaması ve topraklarının verimli olması etkili olmuştur.

Cevap E

12. Dandanakan Savaşı (1040): Gazneliler - Selçuklular arasında olmuştur. Gazneliler yıkılış sürecine girerken Selçuklular kuruluş sürecine girmiştir.

Katvan Savaşı (1141): Karahitaylarla - Selçuklular arasında olmuştur. Büyük Selçuklular yıkılış sürecine girmiştir.

Malazgirt (1071): Bizansla - Büyük Selçuklular arasında olmuştur. Anadolu kapıları Türklere açılmıştır.

Yassı Çimen (1230): Harzemşahlılar - Türkiye Selçukluları arasında oldu. Harzemşahlılar yenilmiştir.

Cevap A

ESEN YAYINLARI

13. Büyük Selçuklular Oğuzların Kınık boyuna aittir. Osmanlılar Oğuzların Kayı boyuna aittirler.

Cevap B

14. II. Murat Dönemi'nde Erdel Seferi sırasında Osmanlı akıncılarının Erdel Voyvodası Hünyadi Yanoş'a yenilmesi Avrupalıların haçlı ordusu hazırlamasına neden oldu. II. Murat bu sıralarda Karamanoğulları sorunuyla uğraşıyordu. Bu nedenle Macarlarla 1444 Edirne - Segedin Antlaşması yapıldı. II. Murat Karamanoğulları seferinden sonra kendi isteği ile tahttan çekilerek yerini küçük yaştaki oğluna bıraktı. Bu durum Haçlıların yeniden Osmanlılara saldırı hazırlığına neden olmuştur. 1444 Varna Savaşı'nda devlet adamlarının isteği ile II. Murat tekrar tahta çıktı.

Cevap B

15. 1444 Edirne - Segedin Antlaşması Osmanlı Devleti ile Macarlar arasında olmuştur. Nedeni ise Osmanlı Devleti'nin Balkanlarda anlaşma yaparak Karamanoğulları ile mücadele etmek içindir.

Cevap B

16. Osmanlı Devleti Kanuni döneminde Fransa ile dostluk ilişkisi kurmuştur. Alman İmparatoru Şarlken'e karşı Fransa kralı Fransuva'ya yardım edilmiştir. Hatta 1535 kapitülasyonları karşılıklı olarak verilmiştir.

Cevap A

17. XVI. yüzyıl ve XVII. yüzyılda Osmanlı - İran ilişkileri İran'ın mezhep ve siyasi düşüncesi Osmanlı devleti ile aralarını açmıştır. Yavuz Sultan Selim dönemiyle başlayan savaş durumu zaman zaman dursa da sürekli devam etmiştir. Bu mücadelenin nedenlerinden birisi de her iki tarafın Doğu Anadolu'ya sahip olmak istemeleridir.

Osmanlı - İran Savaşları: Yavuz Dönemi (1514) Çaldıran Savaşı, Kanuni Dönemi (1534 Irakeyn), 1548 - 1553 Osmanlı - İran Savaşları, Duraklama Dönemi, 1577 - 1590 Osmanlı - İran, 1603 - 1611 Osmanlı - İran, 1614 - 1618 Osmanlı - İran, 1635 - 1639 Osmanlı - İran Savaşları şeklinde olmuştur.

Cevap C

18. Osmanlı Devleti yazışmalarda Türkçeyi kullanmasına rağmen ulus devlet değildir. Çünkü farklı etnik yapıdan oluşmuş bir imparatorluktur.

Her milletin kendi dilini konuşması ve hoşgörülü davranmaları etnik unsurların kültürel ve dini varlıklarını korumalarına zemin hazırlamıştır.

Cevap E

19. Osmanlı Devleti'nde Fatih Sultan Mehmet'le beraber Diwan'a veziriazam başkanlık etmeye başlamıştır. 16. yüzyılda vezirlerin sayısı artırılmıştır. Ayrıca I. Murat döneminde Rumeli Beylerbeyliği, I. Bayezit döneminde Anadolu Beylerbeyliği kurulmuştur. Bununla birlikte fetihlerin artması ve sınırların genişlemesiyle sürekli eyalet sayısı artmıştır. Her üç öncülde sınırların genişlemesi ve devletin büyümesiyle ilgilidir.

Cevap A

20. Kadıların adli ve idari olmak üzere iki görevi vardır. I. II. ve III. öncüller adli (Hukuki) görevlerdir. IV. ve V. öncüller ise siyasi (idari) görevlerdir.

Cevap C

21. Şehremini: Bugünkü anlamda belediye başkanlarıdır. Sadrazam: Bugünkü anlamda başbakanıdır. Padişahın sonra ikinci adamıdır. Taht Kadısı: İstanbul kadısıdır. Yani başkentteki davalara bakan kadılara verilen isimdir.

Cevap A

22. Osmanlı Devleti 1533 İstanbul Antlaşması'yla Avusturya karşısında siyasi ve ekonomik üstünlük elde edilmiştir. Bu antlaşmada "Avusturya Arşüdüğü" protokolde Osmanlı sadrazamına denk sayılacak ve her yıl vergi ödeyecektir. 1606 Zivatorok Antlaşmasıyla elde ettiği siyasi ve ekonomik üstünlüğü kaybetmiştir. Buna göre, "Avusturya Arşüdüğü" protokol bakımından Osmanlı Padişahına denk sayılacak ve her yıl vergi ödemeyecek bir defalığına savaş tazminatı ödeyecektir.

Cevap E

23. Osmanlı Devleti 17. yüzyılda celali isyanları, eyalet isyanları ve merkez isyanlarıyla sarsılmıştır. Bazı savaşıları ya kaybetmiş ya da zor kazanmıştır. Savaşlar uzun sürmüştür. Bunun üzerine kurumların bozulmasını durdurmak için başta askeri olmak üzere islahatlar yapmaya çalışmıştır. Islahatların öncelikli amacı idari, askeri ve mali açıdan devleti eski görkemine yeniden getirmektir.

Cevap A

24. I. Abdülhamit döneminde başlayan Osmanlı - Rus savaşına Avusturya'da katılmıştır. Ancak Fransız İhtilali'nin başlaması, içerisinde birçok ulusu barındıran Avusturya'nın savaştan çekilmesine neden olmuştur. Avusturya III. Selim döneminde Osmanlı Devleti'yle 1791'de Zıştovi Antlaşması'nı imzalayarak savaştan çekilmiştir.

Cevap C

25. Ortaçağ'da kilise ve papalık skolastik düşüncenin yaygınlaşmasıyla, afaroz, enterdi ve endüljans uygulamalarıyla ve Haçlı Seferleri'ni kullanmalarıyla dinsel bir güç haline gelmiştir. Krallara taç giydirilmesiyle siyasi güç elde edilmiştir.

Cevap B

26. Osmanlı Devleti'nde askeri amaçlı ilk nüfus sayımı II. Mahmut döneminde yapılmıştır.

Cevap A

27. 1833 Hünkar İskelesi Antlaşması Rusya bir saldırıya uğrarsa Osmanlı Devleti diğer devletlere Boğazları kapatarak; Rus gemilerinin geçişine izin verilecektir." 1841 Londra Antlaşması; "Boğazlar Osmanlı egemenliğinde kalacak, barış zamanında bütün devletlerin savaş gemilerine kapalı, ticaret gemilerine açık olacaktır." 1809 Kaleisultaniye "Barış zamanında Boğazlar savaş gemilerine kapalı, ticaret gemilerine açık olacaktır.

Cevap A

28. Osmanlı Devleti'ndeki hoşgörü politikası sonucu ülke dışardan sürekli göç almıştır. Zulme uğrayan toplumlar Osmanlı Devleti'ne sığınmıştır. Ancak dolaylı bir artıştır. Doğuda ve Batıda sınırların genişlemesi nüfusun doğrudan artışına nedendir.

Göçebelere yerleşik hayata geçişi bir hareketlilik olmasına karşın içeride bir hareket olduğundan nüfusun artışına neden olmamıştır.

Cevap C

29. Her üç öncülde de birincil amaç azınlıkların durumu ile ilgilidir. Birincisinde eşitlik sağlanıyor. İkincisinde pozitif avantaj sağlanıyor. Üçüncüsünde ise mecliste siyasi temsil hakkı veriliyor. Bunların ortak sonucu azınlık sorunlarının çözümüyle ilgilidir.

Cevap C

30. Kapanemini: Büyük şehirlere gelen malların kapan adı verilen büyük tartıların olduğu yerlerde tartılması ve vergilendirilmesi ve adaletli bir şekilde dağıtılmasını yapan kişidir. Mahalle bekçisi değildir. İcazet: Ustalık belgesini almak için kalfaların aldığı belgedir. Gedik: Loncalarda dükkan açma yetkisini almaya denirdi. Köy kethüdası: Köyleri yöneten kişilerdir. Muhtarlardır. Şehremini: Belediye başkanlarına verilen isimdir.

Cevap A

31. Rusya'nın I. Dünya Savaşı nedeniyle mali dengesi çok bozulmuştu. 1917 yılına geldiğinde maliye iflas etmişti. Vergi yükü halkı eziyordu. Dış borçların sürekli artması devleti iflasa sürüklüyordu. XIX. yüzyılın ortalarından beri Rusya'da oluşan sosyalist hareket I. Dünya Savaşı'nın dış etkisiyle siyasal bir devrim hareketine dönüştü. Mart 1917'de Çarlık yönetimine son verildi. Bolşevikler iktidarı ele geçirerek Ekim 1917'de sosyalist devrimini yaptılar.

Cevap B

32. Çin Halk Cumhuriyeti 1 Ekim 1949'da Mao önderliğinde kuruldu. Çin Halk Cumhuriyeti komünizmi bir rejim olarak benimsemesine rağmen Sovyetlere katılmamıştır. Diğer şıklardaki devletler Sovyet yayılcılığı sonrası SSCB'yi oluşturan devletlerdendir.

Cevap E

33. 1934'te Türkiye, Yunanistan, Romanya ve Yugoslavya arasında kurulan Balkan Antantı'na Bulgaristan katılmamıştır. Bulganistan, yayılcı bir politika izliyordu. I. Dünya Savaşı sonunda yapılan Neully Antlaşması'yla Balkan Savaşları sonunda elde ettiği Ege Denizi'ne çıkışı kaybetmiştir.

Cevap C

34. İngiltere tarihin en büyük Sömürge İmparatorluğu'dur. Uzak Doğu'dan Amerika kıtasına kadar geniş sömürge toprakları vardı. Orta Doğu'da ise Filistin, Irak ve Mısır İngiltere'nin sömürgesindeydi. İtalya Akdeniz'de bir devletti. İngiltere'nin Orta Doğu ve Uzak Doğu sömürge yolları üzerindeydi. Bu durum İngiltere'yi rahatsız edecekti. İtalya'nın Almanya'ya yakınlaşması en çok İngiltere'yi rahatsız etmiştir.

Cevap B

35. ABD başkanı Eisenhower Doktrini gereği Sovyetlerin Orta Doğu'da etkili hale gelmesini engellemeye çalışmıştır. Süveyş bunalımı sırasında Mısır'a karşı batılı devletlerin ambargosu ve kanala saldırıyı kınayan Sovyetlerin Orta Doğu'da prestijinin artması ve Mısır'ın giderek Sovyetlere yaklaşmasını engellemek istemiştir.

Cevap B

36. Cumhuriyet Halk Partisi katı devletçi ekonomiyi savunuyor ve uyguluyordu. II. Dünya Savaşı'nın olumsuz şartları ekonomik olarak halkı bunaltmıştı. 1945 bütçe görüşmelerinde bazı milletvekilleri partinin bazı politikalarını eleştirmişlerdi. Özellikle çiftçiyi topraklandırma kanunu nedeniyle. İsmet Paşa eleştiren milletvekillerinin parti kurarak karşılarına geçmelerini söylemiştir. Dörtlü takririni yayınlayan "Celal Bayar, Refik Koraltan, Fuat Köprülü ve Adnan Menderes" Cumhuriyet Halk Partisi'nden ayrılarak Demokrat Partiyi kurdular.

Cevap E

37. İran geleneksel Şii anlayışını her dönem çevre ülkelere yaymaya çalışmıştır. Ancak Irak - İran Savaşı'nın birincil nedeni bu değildir. İran'daki devrimle birlikte İran iç sorunlara yönelmiştir. Irak bunu fırsat bilerek 1975 Cezayir Antlaşması'nı tanımadığını ilan edip Arap liderliğine soyunmuş ve İran'ı Şattül Arap Su Yolu'ndan uzaklaştırmak istemiştir. Bu savaşın ana nedeni Basra Körfezi mücadelesidir.

Cevap B

38. Uzay yarışı SSCB ile ABD arasında 1957'den başlayarak 1975'e kadar sürmüştür. Uzay yarışı Soğuk Savaş'ın bir uzantısıdır. SSCB 1957'de ilk defa Sputnik yapay uydusunu fırlattı.

ABD 1958'de NASA'yı kurdu Sovyetler 1957'de Uzaya ilk canlı olan Laika adlı köpeği gönderdi. Uzay'a ilk insanı "Yuri Gagarin" yine Sovyetler Birliği göndermiştir. Uzaya ilk kez insansız aracı ise ABD göndermiştir.

Cevap D

39. I. Dünya Savaşı'nda Osmanlı Devleti Mondros Mütarekesi ve Sevr Antlaşması'nı imzalayarak yenik çıkmıştı. Batılı devletler daha önceleri yaptıkları gizli antlaşmaları yürürlüğe koyup işgalleri başlatmışlardı.

TBMM ve Anadolu hareketi işgalleri kabul etmeyerek mücadeleye girişildi. Bu mücadelenin temel çizgisi Misakımilli sınırlarını korumak ve vatanın parçalanmasını önlemek olmuştur.

Cevap D

40. Hitler iktidara gelirken Versay Antlaşması'nı tanımayacağını deklare etmiştir. Alman dış politikasının temel hedefini Hitler şöyle anlatmaktadır. "Nasyonel - Sosyalist akım, onu bugünkü dar yurdundan çıkarıp yeni topraklara doğru yürütmek cesaretini göstermek zorundadır. Almanya'yı I. Dünya Savaşı sonunda dar topraklara hapseden Versay Antlaşmasıdır.

Cevap A

41. Sovyet dış politikasının değişmesi bloklar arasındaki "söz düellosu" ile savaş tehlikesinin azalması komünist ülkeler ile komünist olmayanlar arasındaki siyasal, ekonomik, kültürel ve teknolojik antlaşmaların yapılması yumuşamayı tetiklemiştir.

Nükleer silahlar azalmamış tersine artmıştır. Bu durum "dehşet dengesi" ni ortaya çıkartmıştır. Böylece iki tarafı birbirine yaklaştırmıştır. Bağlantısızlar blokunun kurulması ve barış çağrıları da etkili olmuştur.

Cevap E

42. Güney Vietnam'ın, Komünist Kuzey Vietnam'la birleşmek istememesi üzerine Kuzey Vietnam'ın komünist lideri Güney Vietnam'daki komünist karşıtı Diem Hükümeti'ni devirmek için terörist faaliyetler ve gerillaları destekledi.

ABD Güney Vietnam'ın komünistlerin etkisi altına girmesini istemiyordu. Bu nedenle Güney Vietnamı korumak için asker gönderdi.

Cevap B

43. Ermeniler 1877 - 1878 Osmanlı - Rus Harbi yıllarına kadar hiç problem olmadılar. Bu yıllarda Rusların Doğu Anadolu'yu işgali ve Ermenileri kıskırtmasıyla ilk defa Ermeni sorunu ortaya çıktı.

I. Dünya Savaşı yıllarında İngiliz ve Ruslar'ın Ermenileri kıskırtması sonucu Ermeni isyanları çıktı. Osmanlı Devleti 1915'te Ermenileri tehçire tabi tuttu. Ermeniler bu olayı bir soykırım olarak göstererek Türkiye'ye düşmanlık yapmaktadırlar.

Cevap A

44. ABD 11 Eylül 2001'deki El Kaide saldırısı sonucu üç bin kişinin öldüğü Dünya Ticaret Merkezi saldırısını bahane ederek Afganistan ve Irak'a saldırı düzenlemiş ve bunları işgal etmiştir.

Cevap B

COĞRAFYA

1. Bitki örtüsü iklimin özelliklerinin nedenlerinden olmayıp sonuçlarından biridir.

Cevap D

2. Bölgenin iklimi ve gölün beslenme kaynakları ile derinliği bilinmediğinden su seviyesindeki mevsimlik değişimler hakkında yorum yapılamaz.

Cevap C

3. İşlenen ürün çok kolay bozulacak özellikte olduğu zaman, tesisler pazara yakın yerde kurulur. Örneğin ekmek fırını bu kurala göre kurulmuştur.

Cevap C

4. Verilen gelişmeler Hint Uygarlığına aittir.

Cevap A

5. I'de haşhaş, II'de muz, III'te çay üretimi yapılmaktadır.

Cevap B

6. I'de (Göller Yöresi) Akdeniz İklimi etkili değildir. Bu nedenle 4'le (Çukurova) tarımsal faaliyetleri birbirine benzer.

Cevap E

7. Bölgeler yerleşim özelliklerine göre kentsel ve kırsal bölge olarak ikiye ayrılır. Buna göre, Rize ve çevresi kırsal, diğerleri kentsel bölgedir.

Cevap A

8. Bölgenin kıyı kesiminde buğday yetişmediği için, halkın temel tüketim maddesi mısır olmuştur. Bu nedenle bölge içi tüketimi fazla olan bir üründür.

Cevap B

9. Bütün sanayi kuruluşlarında payı olan demir stratejik önemdedir.

Cevap A

10. Coğrafi Keşiflerle ticaret yolları yön değiştirince Akdeniz'in önemi azaldı. Ancak 1869'da Süveyş Kanalı'nın açılmasıyla Hint Okyanusu ile Avrupa arasındaki ticaret yolu kısaldı, Akdeniz yeniden önem kazandı.

Cevap D

11. Aynı enlem üzerinde yer alan noktalar güneş ışınlarını yıl boyunca eşit açıyla alır.

Cevap D

12. Ülke içi ulaşım, coğrafi konumdan dolayı daha çok kuzey - güney yönlüdür.

Cevap E

13. Yer altı kaynakları yönünden zengin olup olmama, ülkelerin gelişmişliğini belirleyen ölçütlerden değildir.

Cevap B

14. BM evrensel bir örgüttür.

Cevap B

15. 1973 yılında küresel ölçekte petrol krizi yaşandı. Bu nedenle özellikle petrol yataklarına uzak gelişmiş ülkeler nükleer enerjiye yöneldi.

Cevap D

16. Mera hayvancılığı yaygın olduğu için otlaklar, yaylalar ve çayırılar hızla tüketilmektedir.

Cevap E

FELSEFE GRUBU

1. Psikologlar, edebiyat fakültesinde dört yıllık psikoloji eğitimi alırlar. Psikiyatristler ise önce tıp eğitimi alırlar. Daha sonra psikiyatri alanında uzmanlaşmak için psikiyatri de uzmanlık eğitimi (Beş yıl) alırlar. Yani psikiyatristler psikoloji eğitimi almazlar.

Cevap B

2. Gözlemcinin, gözlemlerde koşulları belirleyip kendisinin gözlemlerde rol aldığı bu gözlem biçimine aktif gözlem de denmektedir.

Cevap E

3. Diğer seçenekler duyum ile ilgili iken "duyulan sesin tren sesi olduğunun anlaşılması" sesin ne olduğunun farkına varmak yani algılamaktır.

Cevap D

4. Deneyde şempanzeler görsel uyarıcılardan yoksun bırakılmaktadır. Bu yetersiz uyarılma sonucunda daha sonra şempanzelerde görsel bozukluklar oluşmaktadır. Bu durum geçmişteki yetersiz uyarılmanın, ileride algılamayı güçleştirdiğini gösterir.

Cevap B

5. Edinilmiş olan bilgiler (öğrenme), bireyin nükleer santrallere karşı tutum gelişmesine neden olmuştur. Dolayısıyla parçada "Öğrenme-Tutum" ilişkisi örneklendirilmiştir.

Cevap C

6. Örümceklerin ağ örmesi içgüdüsel, insanların çeşitli biçimlerde evler yapması zekaya dayalı bir davranış olup parçada bu fark vurgulanmaktadır

Cevap D

7. Parçada toplumda sözü geçen, çekici, yaratıcı ve başarılı (model olan) insanların davranışlarının taklit edilmesi söz konusudur. Bu ise "Model olarak öğrenme" ye örnektir.

Cevap A

8. Karşımızdakini değiştirmeye çalışmayı, bireyler kendi kişiliklerine yönelik olarak gördüklerinden tepki duyarlar. Zaten aslında bireyin kişiliğine saygı karşımızdakini değiştirmeye çalışmamayı da gerektirir. Dolayısıyla bu yaklaşım saygısızlık olarak algılanır ve diğer insanlarla sağlıklı ilişki kurmayı engeller.

Cevap C

9. Bandura, sosyal öğrenme kuramının temsilcisidir. Bu deneyden de ; saldırganlık davranışının çevrede, toplumda öğrenildiği sonucuna ulaşılmıştır. Yani saldırganlık davranışı taklit yoluyla oluşan toplumsal bir öğrenmedir.

Cevap E

10. Savunma mekanizmalarından yüceltme de doyurulmamış güdülerin bireyi toplumca beğenilen etkinliklere yönlendirmesi söz konusudur ki verilen parçada sergilenen davranış da bu şekilde açıklanabilir.

Cevap E

11. Toplumsal değerler, toplumdan topluma değişir. Üretimin daha çok tarıma dayalı olduğu feodal toplumlarda demokrasi fazla bir değer taşımazken, üretimin sanayiye dayalı olduğu toplumlarda demokrasinin değeri artmıştır. Çünkü toplumsal değerler bir toplumun geçirdiği maddi koşullara göre oluşur ve her toplumun maddi koşulları birbirinden farklıdır.

Cevap B

12. Sosyoloji doğa olaylarını incelemeyiz; çünkü bir doğa bilimi değildir. Toplumsal yapının değişiminde etkili olan güçlerden biri de doğa olaylarıdır. Bu nedenle sosyoloji doğa olaylarının topluma ve insan yaşamına etkilerini ele alan bir sosyal bilimdir.

Cevap A

13. Milli birlik toplumsal bütünlüğün sağlanabilmesi açısından zorunludur ve manevi değerler etrafında bütünleşmeyle sağlanır. Milli birlik bilincini sağlayan unsurlar arasında, gelir dağılımındaki adaletsizlik, toplumsal kurumların toplumsal değişimlere ayak uyduramaması, dilin yabancı dillerin olumsuz etkisi içine girmesi, toplumsal bilinç sahibi aydınların toplumsal sorunlara karşı duyarsız kalması gösterilebilir. Ancak çoğulcu demokratik toplumsal ilişkilerin geliştirilmesi milli birlik bilincini zayıflatmaz hatta güçlendirir.

Cevap C

14. Toplumsal kurallar (normlar) zorlayıcıdır. Yani her birey istenilen bu kurallara uygun davranmak zorunda kalır. Aksi halde dışlanır ve çeşitli yaptırımlarla karşılaşır. Bu nedenlerle bireyler direnseler bile toplumun davranış kurallarına uymak zorunda kalırlar.

Cevap E

15. Parçada yer alan Atatürk'ün sözünden hareketle dinin toplumlar için gerekli, vicdani bir olay olduğu, dinin siyasette çıkar aracı olarak kullanıldığı, din ve devlet işlerine karışılmaması gerektiği söylenebilir. Ancak devletin dini inançlara karışması laiklik ilkesiyle ve Atatürk'ün bu sözüyle bağdaşmaz.

Cevap C

16. Kentsel yaşamla birlikte toplumsal ilişkiler de değişmiştir. Kentlerde ilişkiler; çıkarların ön planda olduğu, ilişkinin duygusal boyutunun ve toplumsal dayanışmanın azaldığı, anlık, kısa süreli ilişkilerdir. Ancak bu ilişkilerde gelenek ve göreneklerin etkisi azalmıştır.

Cevap B

17. Kültürleşme, insanın başka toplumlardan öğrendikleri ve ya bir toplumun diğerinden aldığı öğeler ve farklı toplumların karşılıklı olarak birbirinden etkilenmesidir. Kültürleşme ile her iki kültür ögesi de değişmeye uğrar.

Cevap B

18. Toplumsal değerler sayesinde maddi ve manevi varlıklar özel anlam kazanırlar. Bu parçada yer alan örnekte bayrak aslında maddi bir varlıktır, ancak bağımsızlığın sembolü olarak manevi bakımdan değerli hale gelmiştir. Yani toplumsal değerler aslında manevi olarak bir değeri olmayan maddi bir varlığı değerli hale getirebilmektedir.

Cevap B

19. Statüler arası geçişin serbest bırakılması açık toplumsal tabakalaşmaya sahip demokratik toplumların temel özelliğidir. Demokrasi ile birlikte toplumsal hareketlilik (statüden statüye geçiş), özellikle yasal engellerin ortadan kalkmasıyla, kolaylaşmıştır.

Cevap C

20. Göç olgusunda itici faktörler etkilidir. Bunda gelenek ve göreneklerden uzaklaşma isteği, toprağın fakirliği, sosyal hareketliliğin ve iş imkânlarının sınırlı olması etkilidir. Ancak sağlık, eğitim ve diğer olanakların artması tam tersi bir etki yaratır.

Cevap A

21. Parçada mantığın diğer bilimlerle ilişkisi vurgulanmıştır.

Cevap C

22. Parçada özdeşlik ilkesi vardır. Özdeşlik ilkesi "Bir şey ne ise o dur. Her şey kendisinin aynısıdır." şeklinde ifade edilir.

Cevap A

23. Bir kelimenin terim sayılabilmesi için tek başına bir anlam ifade etmesi gerekir.

Cevap A

24. Birinci önermede hiçbir üniversite mezununun sigara kullanmadığı belirlemek için gözleme ihtiyaç vardır. Fakat, bekar kavramı evli olmayanlar için kullanılır; gözlem ve deneye başvurmaya gerek yoktur.

Cevap E

25. Verilen öncüllerden "Bazı uzun gagalılar göçmendir." önermesine ulaşılır.

Cevap C

26. Önerme eklemi alan önermeler bileşik, almayanlar ise basittir. Önerme eklemeleri "-" (değil) "v" (ve), "∧" (veya), "⇒" (ise), "⇔" (ancak ve ancak)dır.

Cevap D

27. Bu yaz kuraklık ve israf olursa su sıkıntısı çekilir.

$$p \wedge q \Rightarrow r$$

Cevap D

28. "p" gibi bir önermenin tutarlılığını denetlemek için önerme çözümle kurallarına göre çözümlenir. En az bir açık yol varsa önerme tutarlı, bütün yollar kapalıysa tutarsızdır. Geçerliliği denetlenirken verilen önermenin değili alınır (\neg) ve çözümlenmesi yapılır. Çözümleme sonucunda bütün yollar kapalıysa önerme geçerli, açık yol varsa önerme geçersizdir. Bu açıklamalara uygun ifade C seçeneğinde verilmiştir.

Cevap C

29. Bir çıkarımın geçerli olması, doğru öncüllerden doğru sonucun çıkarılmasına bağlıdır. İkinci verilen çıkarımda öncüller doğru ($6 > 5$ ve $7 > 5$ öncüllerinin ikisi de doğru), sonuç ise ($6 > 7$) yanlıştır. Doğru öncüllerden yanlış sonuca ulaşıldığı için çıkarım geçersizdir.

Cevap B

30. Tümel bir önermenin doğrulanması için evrendeki bütün elemanlarca gerçekleşmesi gerekir. Bütün elemanları çift sayı olan evren D seçeneğinde verilmiştir.

Cevap D

Cevap Anahtarı

TARİH

1. D	6. A	11. E	16. A	21. A	26. A	31. B	36. E	41. E
2. A	7. B	12. A	17. C	22. E	27. A	32. E	37. B	42. B
3. D	8. B	13. B	18. E	23. A	28. C	33. C	38. D	43. A
4. D	9. B	14. B	19. A	24. C	29. C	34. B	39. D	44. B
5. E	10. A	15. B	20. C	25. B	30. A	35. B	40. A	

COĞRAFYA - 2

1. D	5. B	9. A	13. B
2. C	6. E	10. D	14. B
3. C	7. A	11. D	15. D
4. A	8. B	12. E	16. E

FELSEFE GRUBU

1. B	6. D	11. B	16. B	21. C	26. D
2. E	7. A	12. A	17. B	22. A	27. D
3. D	8. C	13. C	18. B	23. A	28. C
4. B	9. E	14. E	19. C	24. E	29. B
5. C	10. E	15. C	20. A	25. C	30. D

TARİH

1. İslam öncesi Türk Devletleri'nin çoğunun Çinlilerle siyasi, ekonomik, ve kültürel ilişkileri olmuştur. Hunlar, Köktürkler, Uygurlar Çinlilere komşu olmuşlardır. Hatta Orhun Abidelerinin bir yüzü Köktürk alfabesiyle yazılmış diğer yüzü Çince yazılmıştır. Köktürk alfabesinin okunması da Çince ile mümkün olabilmektedir. Diğer devletlerde de İslami dönem ve İslam öncesi kısmi ilişkiler yaşansa da en çok Çin kaynaklarına başvurulabilir. Köktürk 'ler ve Eftalitler'in Bizans'la ilişkileri olmuştur.

Cevap D

2. Kavimler Göçü 375 yılında başlayıp bir süre de devam etmiştir. Bu göçlere neden olan Avrupa'daki Hunların baskısı olmuştur. Avrupa'da (375 - 1453) yılları arasında devam eden Orta Çağ Kavimler Göçü sonucu oluşmuştur. Avrupa Hun Devleti'nin yıkılması Kavimler Göçü'ne neden olmamıştır. Barutun ateşli silahlarda kullanılmasının Kavimler Göçü'yle ilgisi yoktur. Feodalite'nin çözülmesiyle ilgilidir.

Cevap A

3. Teoman ve Mete Han Asya Hunları'nın hükümdarlarıdır. Bilgi Kağan ve Kültigin II. Köktürk (Kutluk) hükümdarlarıdır. Yazıtlar da bunlar adına dikilmiştir. Balamir ve Attila, Avrupa Hun Devleti'nin hükümdarlarıdır. Kutluk Kağan ve Kapğan Kağan (II. Köktürk) Kutluk Devleti'nin hükümdarlarıdır. Ancak yazıtlar bunlar adına dikilmemiştir. Almış Han ve Kubrat Han Bulgar Devleti'nin hükümdarlarıdır.

Cevap B

4. Türklerde parayı kullanan ilk Türk Devleti Köktürklerdir. İstanbul'u ilk kuşatan Avarlardır. Museviliği benimseyen ilk Türk Devleti Hazarlardır.

Cevap C

5. Talas Savaşı: Çinlilerle - Araplar arasında olmuştur. Araplar Türkleri'nde yardımıyla Çinlileri yenerek sınırlarını genişletmiştir ve Orta Asya'nın İslamlaştırılmasını sağlamışlardır. Haçlı Savaşları İslam Coğrafyasında tahribata neden olmuştur. Bir sürede olsa bazı topraklarını kaybetmişlerdir. Köseadağ Savaşı, Türkiye Selçukluları ile Moğallar arasında olmuştur. İslam toprakları Moğol İstilasına uğramıştır. Coğrafi Keşifler sonucu eski ticaret yolları önemini kaybetmiş İslam Dünyası iktisaden kayba uğramıştır. Fransız İhtilali milliyetçiliği körüklemiş Osmanlı Devleti'nin parçalanmasına neden olmuştur.

Cevap A

6. Avrupa'ya giden Türk boyları yerleşik Hristiyan kültürü içinde eski Türk kültürünü koruyamayarak benliklerini kaybetmişlerdir. Bulgarlar, Avarlar, Peçenekler ve Macarlar bunlardandır. Gagavuzlar ise sayıları 200 bin civarında olmasına rağmen (Moldova Devleti'nde özerk bir yerdi). Benliklerini kaybetmemişlerdir. Kiliseye giderler ancak Türkçe konuşurlar, Türk örf ve adetini yaşarlar.

Cevap E

7. Sosyal Devlet: Halkının mutluluk ve refahını sağlayan devlettir. Açıkların doyurulması, açıkların giydirilmesi, fakirlerin zenginleştirilmesi ve toplumsal dayanışmayı sağlamak için toy şölenlerine halkın davet edilmesi devlet millet kaynaşmasını sağlamaktadır. Bu da sosyal devlet olmanın bir gereğidir.

Cevap B

8. Nevbet: Beş vakit namazda saray kapısında çalınan çeşitli müzik aletleri.
Tuğ: Bir kaç at kuyruğundan oluşmuş beylerin ve hükümdarın rütbesini ve nüfusunu gösteren alamet.
Otağ: Hükümdarların seferlerde ve başkent dışında oturdukları çadır. Yer.
Sancak: Sırma işlemeli kenarı olan saçaklı bayrak
Tuğra: Hükümdarların imzası yerine geçen yazılı mühürlendir.

Cevap E

ESEN YAYINLARI

9. Divanıistifa: Devletin mali işleriyle uğraşır. Başkanına müstevfî denirdi.
Divanıarz: Ordunun her türlü ihtiyacını karşılardı. Hassa askerlerinin maaşlarını verirdi. Başkanlarına "Emiriazar" denirdi.
Divanıişraf: Devletin idari işlerinin düzenli gidip gitmediğini kontrol ederdi. Başkanına müşfik denirdi.
Divanıinşa: Devletin iç ve dış yazışmalarını yürütürdü. Başkanına "Tuğrai" denirdi.
Divanısaltanat: Hükümdar başkentte olmadığı zaman devlet işlerini yürütürdü. Sultana vekalet eden kişiye "Naib" denirdi.

Cevap A

10. Emriahur: Sultanın atları ve saraydaki diğer hayvanların bakımı ile ilgilendir.
Serhenk: Törenlerde ve sultanın seyahatlarında yol düzenini sağlardı.
Emrimeclis: Sultanın ziyafetlerini hazırlayıp teşrifatçılık yapardı.

Cevap B

11. Haçlı Seferleri sonucunda Akdenizdeki Marsilya, Venedik ve Cenova limanları önem kazandı. Seferler sırasında Doğu - Batı ticareti gelişti. Papalar ve krallar seferlere mali destek sağlamak için İtalyan bankerlerden kredi aldı. Bu durumda bankacılığı geliştirdi. Avrupa'da toprağa dayalı zenginliğin yanında ticarete dayalı zenginlik ortaya çıktı. Bunun sonucunda burjuva sınıfı doğdu. Avrupalıların cam ve deri işlemeciliğini öğrenmesi her ne kadar ekonomik getiri elde ettirse de daha çok bilimsel bir sonuçtur.

Cevap D

12. Divanımezalim'e sultanlar başkanlık etmişlerdir.
Emiridad: Örfi hukukla ilgili davalara bakan mahkemenin başıydı.
Kazasker: Askeri davalara bakardı.
Hacip: Hükümdarla halk arasında ilişkileri düzenleyen kişi.

Cevap A

13. 1176'da Bizansla - Türkiye Selçukluları arasında yapılan savaş Miryokefalon Savaşı'dır.

Cevap C

14. Beyliklerin Osmanlı'ya katılmasına çalışılmasının en büyük nedeni Anadolu Türk Siyasi birliğini sağlama çalışmalarıdır. Toprakların genişlemesi gelirleri de doğrudan artırmıştır. Dulkadiroğulları'nın alınması (Maraş - Elbistan) doğu yönünde Aydın, Saruhan ve Menteşe yöresinin alınması batı yönünde sınırları genişletilmiştir. Türk nüfusunun artması da sağlanmıştır. Dulkadiroğulları'nın alınması Balkanlara kıyısı olan beyliklerin alınması tezini ortadan kaldırmıştır.

Cevap B

15. Osmanlı Devleti Anadolu Türk siyasi birliğini sağlarken I. Murat döneminde Hamitoğulları'ndan Isparta ve Yalvaç çevresini 80 bin altına satın almıştır. Germiyoğulları'nın kızını I. Bayezit'e alarak çeyiz karşılığı Tavşanlı ve Emet çevresini almıştır. Orhan Bey döneminde Karesibeyliği içerisindeki taht kavgasına karışarak Karesibeyliğini almıştır. Birçok beyliği ise Karamanoğulları gibi savaşarak topraklarına katmıştır. Asimile politikası yapmasına gerek yoktur. Zaten nüfus Türk ve kültür olarak Türk kültürü yaşamaktadır.

Cevap A

16. Niğbolu Savaşı (1396) Osmanlı - Haçlı Savaşı şeklinde olmuştur. Savaş sonunda Macarlar etkisiz hale getirildi. Eflak ve Boğdan Osmanlı Devleti'nin etkisine girdi. Bulgaristan ise 1393'te büyük oranda Osmanlı Devleti'ne katılmıştı. Niğbolu sonrası tamamen Osmanlı topraklarına katılmıştır.

Cevap C

17. Osmanlı Devleti Fatih Dönemi'nde Venediklilerle (1463-1479) mücadele etti. Venediklilerin Mora'ya saldırması ile savaş başlamıştı. Bu durumda Fatih Venedikli tüccarlara ticaret ambargosu uyguladı. Zorda kalan Venedik barış istedi. 1479 da barış yapıldı.

Bu barışa göre;

- Venedik Osmanlı'ya her yıl 100 bin düka altın verecek ve 100 bin düka savaş tazminatı ödeyecektir.
 - Arnavutluk'taki İškodra ve Kroya kaleleri Osmanlılara verilecektir.
 - Esirler karşılıklı değiştirilecektir.
 - Alınan yerler geri verilecektir.
- Bu savaş sonrası Osmanlı Devleti ticari, hukuki ve siyasi kapitülasyon vermiştir.
- Venedikliler İstanbul'da Balyoz adı verilen elçi bulunduracak.
 - Balyoslar Osmanlı sınırları içindeki Venedik vatandaşlarının davalarına bakabilecektir.
 - Venedikli tüccarlar Osmanlı topraklarında serbestçe ticaret yapabilecektir.

Osmanlı Devleti'ndeki azınlıkların koruyucusu olacaktır diye bir madde yoktur.

Cevap D

18. Osmanlı Devleti'nin Balkanlar'da yaptığı fetihler sonrası buralarda kalıcı olmak, arkada tehlike bırakmamak ve savaş sırasında lojistik destek almak amacıyla ve buraları Türkleştirmek ve İslamlaştırmak düşüncesiyle Anadolu'dan Türkmenleri getirip yerleştirmiştir. Bölgede herhangi bir baskı, şiddet ve zorbalık uygulamamıştır. Asimile politikasına girmemiştir.

Cevap E

19. Osmanlı Devleti'nin XV. ve XVI. yüzyıldaki en önemli politikası fetihlerle sınırları genişletmektir. Diğerleri ise özellikle Anadolu Türk birliğini sağlama, İslam dünyasının liderliğini ele geçirmek (Dünya Gücü Dönemi), Hristiyan dünyasının birleşmesini engellemek (Dünya Gücü Dönemi) ve önemli ticaret yollarını ele geçirme (Dünya Gücü Dönemi) dir. İslahat fikri Arayış Yılları'yla birlikte başlamıştır.

Cevap E

20. 1683 II. Viyana Bozgunu'ndan sonra Papa'nın teşviki ile Avusturya, Lehistan, Rusya, Venedik ve Malta Kutsal İttifakı kurdular. 1683'den 1699'a kadar Osmanlı Devleti Kutsal İttifak Savaşlarını yapmak zorunda kaldı. Almanya Kutsal İttifak'ta yer almamıştır.

Cevap B

21. Avrupa'ya ilk kez elçiliklerin açılması Lale Devri (III. Ahmet) dir. İçki, tütün ve gece sokağa çıkma yasağı ile Kösem Sultanın devre dışı bırakılmasıyla kadınlar saltanatına son verilmesi IV. Murat dönemidir. Ordu'da yenilikler için Avrupalı uzmanlar getirilmesi daha çok XVIII. yüzyıla ilgilidir.

Cevap E

22. Süveyş Kanalı (Akdeniz ile Kızıl Denizi birbirine bağlayan kanal) Hindistan ticaretinin Avrupa'ya taşınması için önemlidir. Osmanlı Devleti Sokullu Mehmet Paşa'nın Sadrazamlığı döneminde bu kanalı açmak istemiş ancak başaramamıştır. İngiltere ve Fransa Uzak Doğu Sömürge yolları üzerindeki bu kanalı açmak için sürekli rekabet içinde olmuşlardır. Kanal Mısır Hidiyi İsmail Paşa'nın gayretleri ve Fransa'nın desteği ile 1869'da açılmıştır.

Cevap B

23. Osmanlı Donanması Navarin'de 1827'de yakıldı. Edirne Olayı (1703): Karlofça Antlaşması sonucu II. Mustafa Edirne'ye çekilmiştir. İstanbul'da bulunan Şeyhülislam Feyzullan Efendi'nin görevi kötüye kullanmasıyla asker ve ulema ayaklanmıştı.

II. Mustafa tahttan indirilmiş ve III. Ahmet tahta çıkarılmıştır.

Vakaivakvakiye: IV. Mehmet devri olayıdır. Yeniçeriler zü-yuf akçesinden dolayı isyan etmişlerdir. Bir kısım devlet adamlarını ağaca asıp (baş aşağı) öldürmüşlerdir. Olay çınar vakası diye geçer.

Cevap C

24. Yüz Yıl Savaşları (1337 - 1453)
Otuz Yıl Savaşları (1618 - 1648)
Yedi Yıl Savaşları (1756 - 1763)
tarihleri arasında olmuştur.

Cevap D

25. Endüljans: Para karşılığı kilisenin günahları affetmesi
Enterdi: Bir bölgede yaşayanların dinsel faaliyetlerden ya-
saklanması
Engizisyon: Kilisenin kurduğu mahkemeler
Aforoz: Kişileri dinden çıkartma

Cevap E

26. I. Murat döneminde Rumeli Beylerbeyliği kurulmuştur. I.
Bayezit döneminde Anadolu Beylerbeyliği kurulmuştur.
Amaç ülke sınırlarının genişlemesiyle birlikte yönetimi ko-
laylaştırmaktır.

Cevap A

27. Osmanlı Devleti'nde vergiler şeri ve örfi olmak üzere ikiye
ayrılmaktadır. Şeri vergiler cizye, haraç ve öşür'dür. Örfi
vergi ise çok çeşitlidir. Resmi çift, resmi bennak, resmi
avarız, resmi bac, resmi adetiğnam gibi, Resmi adetiğ-
nam ağıl hayvanları ile ilgili vergidir.

Cevap B

28. Millet Sistemi: Bünyesinde farklı unsurları barındıran bir
devletin onların bütün haklarını gözeterek barış ve hoşgö-
rü içerisinde yaşatmasıdır. Osmanlı Devleti genişlemesi-
yle birlikte mevcut etnik yapı olan Ermeni ve Rumlara ilave
olarak Arap, Bulgar, Yunan, Sırp, Macar gibi unsurları da
katmıştır. Bunlara hoşgörüyle yaklaşmış, kültürlerini, din-
lerini, mezheplerini yaşama hakkı tanımıştır. Can ve mal
güvenliklerini sağlamıştır. Böyle bir devlette her türlü asi-
mile söz konusu değildir.

Cevap C

29. Osmanlı Devleti eski Türk töresi olan "devlet hanedanını
ortak malıdır." anlayışını I. Murat'a kadar devam ettirmiştir.
I. Murat "devlet, padişah ve oğullarının ortak malıdır." an-
layışını getirmiştir. Bu uygulamanın nedeni taht kavgaları-
nı önlemek ve merkezi otoriteyi sağlamaktır.

Cevap C

30. Osmanlı toprak sisteminden olan kale muhafızlarına ve
tersanelere verilen topraklara ocaklık adı verilmiştir.
Paşmaklık: Padişah eşlerine ve kızlarına ayrılan toprak-
lardır.

Cevap A

31. Suriye ile Hatay sorunu Lozandan sonra yaşamaya baş-
lanmıştır. Hatay Meclisi'nin aldığı kararla Türkiye'ye katıl-
masını Suriye kabul etmemiştir (1939). Yunanistan'la nü-
fus mübadelesi Lozan'da tam çözülememişti. 1930'da Ven-
izelos'un İstanbul ziyareti sonrası çözülmüştür.
Fransa ile dış borçlar sorunu da Lozan'da tam çözüleme-
miştir. Bu sorun Osmanlı borçlarının taksimi esası üzerine
çözülmüştür. Sovyet Rusya ile kapitülasyon meselesi da-
ha önce Moskova Antlaşması'yla çözülmüştür.
İngiltere ile Musul sorunu ancak 1926 Ankara Antlaşma-
sı'yla çözülmüştür.

Cevap D

32. Batı Trakya Lozan'da alamadığımız Misakımilli toprakları-
mızdandır. Ege Adaları, Balkan Savaşları sonrasında kay-
bedilmişti. Lozan'da Yunanistan'a ait olduğu teyid edildi.
On İki Ada İtalya'nın II. Dünya Savaşı sonrası adaları bo-
şaltma kararı sonrası 1947 Paris Antlaşması'yla Yunanis-
tan'a geçmiştir.
Kıbrıs 1974 çıkartması ile ikiye bölünmüştür. Görüşmeler
hala devam etmektedir. Musul toprakları Türkiye Şeyh
Sait İsyanı ile uğraşırken kaybettiğimiz topraklardır.

Cevap B

33. 1943'de yapılan Kahire, Tahran ve Moskova Antlaşmaları-
nda bir çok konu görülmüştür. Ancak hepsinde de görü-
şülen ortak konu Türkiye'nin İkinci Dünya Savaşı'nda
müttefiklerin yanında savaşa girmesinin görüşülmesidir.

Cevap A

34. II. Dünya savaşı öncesi ve savaş sırasında dünyanın de-
ğişik yerlerindeki Yahudiler kutsal toprak kabul ettikleri Fi-
listin'e göç etmeye başlamışlardır. Bu durum bölgedeki
nüfus dengesini değiştirmiş İsrail'in 1948'de kurulmasını
sağlamıştır.

İsrail'in kurulması Arap - İsrail Savaşlarını başlatmıştır.
ABD Birleşmiş Milletler'de İsraili kınayan tüm gelişme va-
kalarını veto etmiş ve sınırsız destek sağlamıştır. Sovyet
Rusya Filistin Meselesinde genellikle Arapların yanında
yer almıştır.

Cevap D

35. Kurucu Meclis: Yeni bir anayasa hazırlayan meclistir. Ay-
nı zamanda siyasi partiler ve seçim kanununda hazırlar-
lar. TBMM açılıncaya kadar yasama görevini yerine geti-
rir. Örneğin 1980 ihtilali sonrası oluşturulan kurucu meclis
bu görevleri yerine getirerek seçimleri yaptırmış ve sonra
yeni meclise görevini devretmiştir.

Cevap E

36. 1980 İhtilali sonrası Milli Güvenlik Konseyi Prof Dr. Orhan
Aldıkaçtı'yı yeni anayasanın hazırlanmasında görevlen-
dirmiştir.

Cevap A

37. Kopenhag Kriterleri AB'ye üye olacak ülkeler için çıkartı-
lan bir yol haritasıdır. Her üç öncülde AB'ye uyum için üye
olacak aday ülkelerden istenmektedir.

Cevap E

38. Erozyon, su ya da rüzgar gibi etkenlerle toprağın üst kat-
manındaki verimli toprakların kaybedilmesidir.
Ülkemiz erozyonla toprak kaybeden ülkelerin başında
gelmektedir. Bu durum içme sularının azalmasına da ne-
den olur. Çünkü toprağın kaybı ile taşların çıkması ve
yağmur ya da kar sularının tutulmamasına neden olur.
Verimli toprak kaybı ürün kaybına da neden olur. Böylece
beslenme sorunu ortaya çıkar.

Cevap E

39. 1951'de Avrupa Kömür ve Çelik Topluluğu ortaya çıkmış-
tı. Bu gelişme Avrupa Birliği'nin temelini oluşturdu.
COMECON: Sovyet yanlısı ülkelerin ekonomik işbirliğini
amaçlayarak 25 Ocak 1949'da kurulmuştur.
Bağılantısızlar: Hindistan ve Mısır'ın öncülüğünde
1946'da ortaya atılan fikir 1955 Bandung Konferansı ile
hayat buldu.

Cevap A

40. Küreselleşme her alanda yaşanmaktadır. Dünya adeta bir
köy haline gelmiştir.
Küreselleşme kültürel alanda daha çok yaygınlaşmıştır.
Bugün dünya film sektörünün % 50 - 60 ABD sinemacıları-
nın eline geçmiştir. Küresel kültürün başat ülkeleri ABD
ve Batı Avrupa kültürü tüm dünyayı tehdit etmektedir. Gi-
yimden, müziğe, fastfood kültüründen oturma tarzına ka-
dar tüm alışkanlıklar değişmektedir.

Cevap B

41. Edison: Hem ampülü hem de radyo dalgalarıyla ilgili bu-
luşu buldu.
Ernest Alexanderson: Radyo çalışması yaptı.
Aleksander Stepanoviç Popof: Radyo dalgalarının iletişimi
ile ilgili çalışmaları yaptı.

Cevap C

42. Kitle iletişim araçlarının insanları hipnoza benzer etkiler altına aldığı bu nedenle insanların seyrederken aldatıldığı rapor eden Mac Bride insanların kitle iletişim araçlarını bilinçli kullanmasını tavsiye etmiştir.

Cevap E

43. Avrupa Ekonomik Topluluğu (AET)'nin kurulmasında İngiltere yer almamıştır. Birliğin temeli 9 Mayıs 1950'de Fransız dış işleri bakanı Schuman'ın yayımladığı bildiri ile atılmıştır.

Schuman bildirgesi Fransız, Alman kömür ve çelik üretiminin bir bütün olarak üretilmesi ve pazarlamasıyla ilgilidir. 1951'de Belçika, İtalya, Lüksemburg ve Hollanda birliğe katılmıştır. 1957 Roma Antlaşması'yla Avrupa Ekonomik Topluluğu kurulmuştur.

Cevap C

44. II. Dünya Savaşı sırasında İngiltere Başbakanı Winston Churchill ile o sırada savaşa girmemiş olan ABD Başkanı Franklin D. Roosevelt arasında Kanada açıklarında bir savaş gemisinde yapılan görüşmeler sonucu 14 Ağustos 1941'de Atlantik Bildirgesi'ni yayınladılar.

- Savaşın sonra toprak kazanılamayacaktır.
- İlgili halkın onayı alınmadan toprak değişimi yapılmayacaktır.
- Uluslar kendi geleceklerine kendileri karar verecektir.
- Uluslararası işbirliği gerçekleştirilmeye çalışılacaktır
- Temel hammaddelerden eşit biçimde faydalanılacaktır.
- İnsanlar korku ve açlıktan kurtarılacaktır.

Cevap A

ESEN YAYINLARI

COĞRAFYA

1. Kyoto Protokolü küresel ısınma ve iklim değişikliği konusunda mücadeleyi sağlamaya yönelik uluslararası tek çerçeve. Birleşmiş Milletler İklim Değişikliği Çerçeve Sözleşmesi içinde imzalanmıştır. Bu protokolü imzalayan ülkeler, karbon dioksit ve sera etkisine neden olan diğer beş gazın salınımını azaltmaya veya bunu yapamıyorlarsa salınım ticareti yoluyla haklarını arttırmaya söz vermişlerdir. Protokol, ülkelerin atmosfere saldıkları karbon miktarını 1990 yılındaki düzeylere düşürmelerini gerekli kılmaktadır. 1997'de imzalanan protokol, 2005'te yürürlüğe girebilmiştir. Çünkü, protokolün yürürlüğe girebilmesi için, onaylayan ülkelerin 1990'daki emisyonlarının (atmosfere saldıkları karbon miktarının) yeryüzündeki toplam emisyonun %55'ini bulması gerekmektedir ve bu orana ancak 8 yılın sonunda Rusya'nın katılımıyla ulaşılabilmiştir.

Cevap C

2. Ekvator çizgisine yakın bir yerde bulunan Galapagos Adalarında Zürafa bulunmamaktadır. Diğer hayvanlara rastlanır. Ekvator'da, sıcak sularda penguenlerin yaşadığı tek yer Galapagos Adalarıdır.

Cevap D

3. Yeni ürünü ekonomiye kazandırma son aşama, kaynaktan ayırma ise ilk aşamayı oluşturur.

Cevap C

4. Barajların olumsuz sonuçlarına; kara ekosistemlerini göçe zorlama, sosyoekonomik bozulmalara yol açma örnek verilebilir.

Cevap E

5. Y bölgesi güneş ışınlarını hiç dik açıyla almadığı için dönemler dışındaki bir alan olup X'e göre Ekvator'a daha uzaktır. Bu nedenle doğu-batı yönündeki kuş uçuşu mesafe X'ten daha azdır.

Cevap C

6. Küresel ticarete Kuzey Afrika'nın yeri pek yoktur. Diğer verilen alanlar önemli ticaret merkezleridir.

Cevap E

7. İzlanda, levha sınırlarında yer aldığından jeotermal enerji olanaklarının fazla olduğu bir ülkedir.

Cevap B

8. Soruda verilen "deniz seviyesinden yükseltisi az olan yerlerde yıl içinde oluşan yağışların fazlalığı bu ülkeleri ani su baskınları ile karşı karşıya bırakmıştır". ifadesine dayanarak harita üzerinden seçilecek yerler bu özelliklere sahip olan ülkelerin bulunduğu yerler olacaktır. 4 İngiltere'yi, 2 Bangladeş'i işaret etmektedir. Her iki ülkenin yükseltisinin az olması, İngiltere'nin yıl boyu, Bangladeş'in ise yaz musonları ile bol yağış alması bu doğal afetlere yol açacaktır.

Cevap D

9. Basınç farkı bilinmediğinden rüzgâr hızı hakkında yorum yapılamaz.

Cevap B

10. Japonya, Güney Kore doğal kaynak yönünden zengin ülkeler değildir.

Cevap E

11. Verilen haritalara bakılarak merkezlerin büyüdüğünü, geliştiğini, nüfusunun arttığını görmek mümkünken tarımsal faaliyetlerinin arttığını söylemek doğru değildir.

Cevap B

12. Verilen grafikte ülkenin sattığı ürünlerin yüzde olarak payı verilmiştir. Bu nedenle "madencilikle uğraşanların sayısı azalmıştır" yorumunu yapmak mümkün değildir.

Cevap E

13. Basra Körfezine kıyısı olan ülkeler Irak, İran, Suudi Arabistan, Birleşik Arap Emirlikleri, Kuveyt'dir. Ürdün'ün Basra Körfezi'ne kıyısı yoktur.

Cevap C

14. Grafik sadece belirli yıllar arasındaki sağılan koyun ve sığır sayıları ile elde edilen süt miktarını gösterdiği için uygulanan hayvancılık yöntemleri hakkında herhangi bir bilgi vermez.

Cevap D

15. Dünya mirası listesinde yer alan Hititlerin başkenti Hattuşaş İç Anadolu Bölgesi'nde yer almaktadır.

Cevap E

16. Haritada Frigya (IV) Anadolu Selçukluları (II) ve Bizanslıların (III) yeri doğru verilmiştir.

Cevap C

ESEN YAYINLARI

FELSEFE GRUBU

1. İnsanlar geçmiş dönemlerde de psikolojinin konuları (bel-lek, algı, rüyalar ve ruhsal problemler gibi) ile ilgilenmişler-dir. Ancak bir bilim olarak psikoloji kısa bir tarihe (yüz yıl-lık bir geçmişe) sahiptir.

Cevap C

2. Davranışçı yaklaşım, somut bir bilim olması gereken psi-kolojinin bilinci ve yapısını ele alamayacağını öne süre-rek, psikolojinin konusunun yalnızca gözlenebilir insan davranışları olabileceğini belirtmektedir.

Cevap C

3. Burada aç olan kişinin davranışı ile susuz olanın davranı-şı, güdülenmiş davranış ile güdülenmemiş davranışın far-kını gösterir. Güdülenmiş davranış seçicidir. (Algıda, uya-ranlar alanından kiminin seçilip kimilerinin ise görmezlik-ten gelinmesi seçiciliktir.) Birey güdülendiği konuya veya nesneye daha fazla ilgi duyar.

Cevap B

4. "Bir olayda zarar gören kimse, ona benzer bir işle karşı-laştığında daha tedbirlidir. Geçmiş davranışından ders alarak benzer hatalar yapmamaya çalışır" anlamındaki "Sütten ağzı yanan yoğurdu üfleterek yer" atasözü geç-miş yaşantıların algı üzerindeki etkisine örnektir.

Cevap C

5. Fizyolojik güdüler mutlaka doyumlanması gereken, birincil güdüler olup diğer güdülerden (toplumsal güdüler) bas-kındırlar.

Cevap E

6. Bir çok duygu gibi utanma duygusu da toplum tarafından, öğrenmeyle kazanılan bir davranıştır. Parçada da bundan bahsedilmektedir.

Cevap A

7. Çocuğun, yiyeceği nasıl isterse annenin olumlu tepki ve-receğini anlaması örneğinde anne tarafından gösterilen "olumlu tepki" olumlu pekiştirici ve böylece davranışın güçlendirilmesi olayı ise "pekiştirme"dir.

Cevap C

8. Parçada, iletişimin çok farklı yollardan yapılabileceği be-lirtilmektedir. Dil bu yollar arasında sadece insana özgü ve daha çok kullanılan bir yoldur. Parçadan hareketle ile-tişimin daha geniş kapsamlı olduğu söylenebilir.

Cevap A

9. Parçada psikolog, çocuktaki tavşan korkusunu yenmek için tavşanı oyunla sevimli bir uyarım gibi algılatmaya ça-lışmış böylece onu hoş bir hale getirerek çocuğun korku-sunu azaltmayı başarmıştır.

Cevap A

10. Parçada verilen örnek savunma mekanizmalarında yön de-ğiştirmeye uygundur. Yön değiştirme tepkiyi uyarandan başkasına yönelte biçiminde görülür.

Cevap C

11. Toplumsal hareketlilik, burada olduğu gibi tabakalar arası geçişle de mümkün olur. Parçada yer alan örnekte, önce kağıt kullanan bireyin daha sonra lüks araba kullanması, önce yer sofrasında yemek yerken daha sonra lüks otel-lerde yemeğe başlaması toplumsal hareketliliğe örnektir.

Cevap E

12. Kültür her toplumun kendine özgüdür, her toplumun ken-dine özgü değerleri, yaşam biçimi vardır. Parçadaki ör-neklerde olduğu gibi, bir toplumda iyi, hoş, güzel, v.s. olan bir başkasında böyle değildir. Yani kültür toplumdan toplu-ma değişir.

Cevap E

13. Kurumları somutlaşmış bir nesnel gerçek yapan, bütünlü-ğe dönüştüren temel faktör kültürdür. Bu bağlamda top-lumsal kurumlar ile kültür arasında ilişki vardır.

Cevap B

14. Üretimin temel unsurlarından biri olan doğa; iklim, toprak çeşitleri yani yaşanan coğrafya, nerede, hangi malı üre-teceğimizi belirleyici bir etkiye sahiptir.

Cevap C

15. Doğada olduğu gibi toplumda da belirli olaylar belirli ko-sullar altında belirli toplumsal sonuçlar doğurur. Bu durum toplumsal olayların da nedensellik ilkesine veya sebep – sonuç bağına dayandığını gösterir

Cevap E

16. Toplumsal grubun özellikleri arasında, normlara ve rollere sahip olma, amaç birliği, en az iki veya daha çok insan bu-lunması yer alırken grup üyeleri arasında yüzeysel veya geçici bir ilişki bulunmaz.

Cevap A

17. Monografi; aile, köy gibi küçük grupların ya da bir örnek olayın tüm değişkenleriyle derinlemesine bir şekilde ince-lenmesidir. Monografide tek bir toplumsal konu seçilip bütü-ne varıldığı için öncelikle seçilen birimin evreni temsil et-me özelliği göstermesi gerekir. Burada da seçilecek örnek ailenin diğerlerini temsil etmesi, onlarla benzer özelliklere sahip olması gerekir.

Cevap D

18. İnsanların birlikte yaşama veya bir araya gelmelerinde bir çok etken rol oynamıştır. Bunları doğal ve psikolojik et-kenlerle açıklayabiliriz. İhtiyaçları giderme, birlikte yaşa-ma, yardımlaşma ve korunma bu durumu sağlayan etken-ler arasında iken, tarihi geçmişi koruma isteği bunlar ara-sında yer almaz.

Cevap E

19. Sosyolog da belirli bir toplumun üyesidir ve o toplumun kültürünü, kurallarını, değer yargılarını öğrenir. Bu neden-le sosyologların nesneliliğini (tarafsız, yansız olmak) etki-leyen temel faktör kendi toplumunun değer yargılarını be-nimsemesidir.

Cevap C

20. Parçada aile, eğitim, siyaset, ekonomi kurumlarının varlı-ğından bahsedilerek bu kurumların insanların çeşitli ihti-yaçlarını gidermek için bazı görevleri yerine getirdiği vur-gulanmıştır.

Cevap B

21. Parçada mantık öğrenmenin faydaları vurgulanmıştır.

Cevap E

22. "Bir şey aynı zaman ve şartlar içinde hem var hem yok olamaz." ifadesi çelişmezlik ilkesiyle ilgilidir. Çelişmezlik ilkesinin diğer bir ifadesi de D seçeneğinde verilmiştir.

Cevap D

23. Kaplam ile işlem arasında ters orantılı bir ilişki vardır. Açıklamada "Kobra" teriminin işlemi "zehirli" teriminin işle-minden daha geniş olduğu verilmiştir. Ters orantılı ilişki nedeniyle "Zehirli" teriminin kaplamı "Kobra" teriminin kaplamından daha geniştir.

Cevap A

24. Çelişik önermeler birbirinden hem nicelik hem de nitelik yönüyle farklıdır.

Cevap C

25. Kıyas kurallarından biri de iki tikel öncül önermeden so-nuç önermesinin çıkmamasıdır.

Cevap B

26. önerme eklemeleri ~ (değil), \wedge (ve), \vee (veya), \Rightarrow (ise), \Leftrightarrow (ancak ve ancak)dır. "Emre ve Berkay Denizli'ye gitti." önermesinde ve (\wedge) eklemi kullanılmıştır.

Cevap C

27. $(p \Rightarrow q) \vee (p \wedge q)$ bileşik önermesinde II (\vee) ana eklem, ana eklem birleştirdiği $(p \Rightarrow q)$, $(p \wedge q)$ önermeleri ise ana bileşenlerdir.

Cevap B

28. $\exists x(Bx \wedge Dx)$ önermesi bazılarının hem bay hem de doktor olduğunun ifadesidir. Yani, bazı baylar doktor, bazı dokto-lar baydır. Bu durum A seçeneğindeki diyagramda veril-miştir.

Cevap A

29. p, q, r gibi bir çıkarımın geçerlilik denetlemesi üç yoldan yapılabilir.

I. Yol : Öncüller doğru olunca sonuç da doğrudur

II. Yol : p, q, ~r önermeleri birlikte tutarsız ise

III. Yol: $(p \wedge q) \Rightarrow r$ önermesi geçerli ise

C seçeneğinde III. yol verilmiştir.

Cevap C

30. Bir önerme bütün yorumlamalarında "Y" değeri alıyorsa tutarsız, en az bir yorumlaması "D" ise tutarlıdır.

Cevap B

Cevap Anahtarı

TARİH

1. D	6. E	11. D	16. C	21. E	26. A	31. D	36. A	41. C
2. A	7. B	12. A	17. D	22. B	27. B	32. B	37. E	42. E
3. B	8. E	13. C	18. E	23. C	28. C	33. A	38. E	43. C
4. C	9. A	14. B	19. E	24. D	29. C	34. D	39. A	44. A
5. A	10. B	15. A	20. B	25. E	30. A	35. E	40. B	

COĞRAFYA - 2

1. C	5. C	9. B	13. C
2. D	6. E	10. E	14. D
3. C	7. B	11. B	15. E
4. E	8. D	12. E	16. C

FELSEFE GRUBU

1. C	6. A	11. E	16. A	21. E	26. C
2. C	7. C	12. E	17. D	22. D	27. B
3. B	8. A	13. B	18. E	23. A	28. A
4. C	9. A	14. C	19. C	24. C	29. C
5. E	10. C	15. E	20. B	25. B	30. B

TARİH

1. Vezir Tonyukuk Bilgi Kağan'ın şehirlerin etrafına surların çevrilmesini isteğine "Zaferlerimiz yaşayışımızdandır. Kuvvetli zamanda ordular sevk eder akınlar yaparız, zayıf zamanlarımızda bozkırlara çekiliriz" diye karşı çıkmıştır. Aynı zamanda Bilgi Kağan'ın Budizmi kabul etme istediğine de "Bu din bizim milletimizin yapısına uygun değildir. Savaşçılık özelliğimizi yok eder." diyerek karşı çıkmıştır. Her iki durumda da asimile olmak istenmemiştir.

Cevap D

2. Mukan Kağan döneminde İpek yolunun kontrolü için Ak Hunlara karşı Sasanilerle işbirliği yapıp Ak Hun topraklarını paylaşmışlardır.

Cevap A

3. Türkler hükümdarlık yetkisinin kendilerine Gök Tengri tarafından verildiğine inanıyordu. Bu yetkiye "kut" deniliyordu. Kut kan yoluyla babadan oğula geçiyor. Kanında kut olan herkesin devlet yönetiminde hak sahibi olduğuna inanılıyordu.

Tanhu: İslam öncesi Türk devletlerinde hükümdarlara verilen unvanlardan birisidir.

Toy: İslam öncesi Türk devletlerinde devlet işlerinin görüldüğü yere "kurultay" "toy" ya da "kengeş" denilmekteydi.

Cevap A

4. Tolunoğulları, Mısır'da
Memlükler, Mısır'da
Akşitler, Mısır'da
Eyyubiler, Mısır'da kurulmuşlardır.
Gazneliler ise Gazne şehrinde Horasan bölgesi kurulmuştur.

Cevap D

5. İslami dönem İlik Türk edebiyatı eserlerinden olan Kutadgu Bilig Uygur alfabesi ile yazılmıştır. Mutluluk veren bilgiler denen eser hükümdarlara öğütleri içerir. Birey, devlet ve toplum ilişkileri ile ilgili erdemleri anlatır. Örneğin; "Ey kudret sahibi hükümdarım, bu beyler baştır, baş nereye giderse halk onu takip eder" gibi. Türk dilinin Arapça'dan üstünlüğünü ispat için Kaşgarlı Mahmut Divan - ı Lügati't Türk'ü yazmıştır.

Cevap E

6. Gazneliler devletinin siyasi ve sosyal yapısı sıkıntılı süreçten geçmiştir. Gazneliler çok çeşitli etnik unsurlardan oluşmuştur. Türk, Hint, Gurlular gibi bu durum çabuk yıkılmalarını sağlamıştır.

Tolunoğulları ve İnşidiler'inde yönetim tabakası Türk halk ise karışıktır.

Cevap B

7. Sultan Melikşah'ın hanımı Karahanlı prensesi Terke Hatun'un dört yaşındaki oğlu Mahmut'u veliyaht tayin ettirmek istemesi ve Melikşah'ın ölümü üzerine Mahmut adına hutbe okutması Mahmut, Berkyaruk, Mehmet Tapar ve Sencer arasında taht kavgalarına neden oldu. Böylece Fetret Devri yaşandı. Sultan Sencer'in hükümdarlığı ile Fetret Devri son buldu. Bu mücadelenin ortak nedeni ülkenin hükümdar ailesinin ortak malı olmasıdır.

Cevap A

8. Danişmentliler (1080 - 1178); Sivas merkezli kurulmuştur. Sınırları Kızılırmak nehrinden Fırat'a kadar uzanmıştır. Artuklular Beyliği (1102 - 1409); Diyarbakır merkezli kurulmuştur. Bizans'ın bu beylikler dönemindeki sınırları daha çok Batı Anadolu ile sınırlıdır. Bu nedenle daha çok Çaka Beyliği Bizansla mücadele etmiştir.

Cevap A

9. İbni Sina'nın Kanun Fit Tıb adlı eseri ünlüdür. Ömer Hayyam'ın rubailer, Celali takvimi ve Türk üçgeni ünlüdür.

Biruni'nin, Astronomi, kimya ve coğrafya ile ilgili birçok çalışması vardır. Nizamülmülk'ün siyasetname adlı eseri ünlüdür. Farabi'nin El Medinet-ül Fazıla, Fusûs'ül Hikem ve El Mania Akıl adlı eseri vardır.

Cevap C

10. Miryokefalon Savaşı (1176) Türkiye Selçuklu Devleti - Bizans arasında yapılmıştır.

Yassı Çimen Savaşı (1230) Türkiye Selçuklu Devleti ile Harzemşahlar arasında yapılmıştır.

Kösedağ Savaşı (1243) Türkiye Selçukluları ile Moğollar arasında yapılmıştır.

Cevap C

11. I. Numaralı, Balıkesir ve çevresinde kurulan beylik Karesioğulları'dır.

II. Numaralı, Muğla ve çevresinde kurulan beylik Menteşeoğulları'dır.

III. Numaralı, Kastamonu ve çevresinde kurulan beylik Candaroğulları'dır.

Cevap E

12. Ahi'lik 13. yüzyıl Anadolu Türk İslam esnaf örgütlenmesinin adıdır. Üyeleri arasında dayanışma buldukları yerin ekonomik ve sosyal kalkınmasını sağlama, malda kalite kontrol ve dükkan açma yetki belgesiyle ilgili çalışmalar yapmışlardır.

Kurucusu Kırşehir'de yatan Nasırüddin Ahi Evranı Veli'dir.

Cevap D

13. Minber: Camiler'de cuma ve bayram günleri imamların hutbe okudukları yerdir.

Minyatür: Işık, gölge ve hacim duyusu yansıtmayan küçük renkli resimlerdir.

Tezhip: Kitap süsleme sanatıdır.

Ebru: Su üzerine yazılan yazı ya da yapılan resimlerle ilgili sanattır.

Cilt: Kitapları kaplamak için, deri ve bunun gibi malzemelerden yapılan kapaklardır.

Cevap B

14. I. Kosova (1389) Osmanlı Devleti - Haçlılar
II. Ankara Savaşı (1402) Osmanlı Devleti - Timur İmparatorluğu

III. Niğbolu (1396) Osmanlılar - Haçlılar

IV. II. Kosova (1448) Osmanlılar - Haçlılar

V. Varna (1444) Osmanlılar - Haçlılar

Cevap B

15. İznik'in fethi ile Orhan Bey ilk medreseyi açmıştır. Medresenin açılması eğitim faaliyetleri ile ilgilidir.

Cevap D

16. İlk Osmanlı - Bizans Savaşı Koyunhisar Savaşı'dır. (1302) Bu savaş Osman Bey döneminde yapılmıştır. Haçlılara karşı yapılan ilk savaş Sırp Sındığı Savaşı'dır (1364). I. Murat döneminde yapılmıştır.

Venedikle yapılan ilk deniz savaşı Çelebi Mehmet döneminde yapılmıştır. (1416)

Cevap D

17. Fatih Sultan Mehmet döneminde,

- Venedik'le 1463 - 1479 yılları arasında mücadele yapılmıştır. 1479'da Venedik'le barış yapıldı.

- Memlüklerle Hicaz su yolları sorunu yaşanmıştır.
- Sırp Krallığı ile (1459) savaşlar yapılmıştır. Belgrad hariç Sırp toprakları alınmıştır.

- Akkoyunlularla (1473) Otlukbeli Savaşı yapılmıştır.

- Rus Çarlığı; Kiev ve Moskova Knezliği Kanuni döneminde güçlenmeye başlamış ve 17. yüzyılın sonlarında mücadele başlamıştır.

Cevap C

18. • Mohaç Meydan Savaşı (1526) Macaristan Osmanlı Devleti'ne bağlı krallık oldu.

- Çaldıran (1514) İran'la yapılan bu savaş sonunda Seffeviler devre dışı bırakıldı. Erzincan ve Erzurum Fatih döneminde Türk toprakları idi.

- Mercidabık (1516) Filistin ve Suriye Osmanlılara geçti.

- Turnadağ (1515) Maraş - Elbistan bölgesi Dulkadirlerden alındı.

- Ridaniye (1517) Mısır alınarak Memlüklüğe son verildi.

Cevap B

19. Cem Sultan'ın abisi II. Bayezit'le taht kavgasına girmesi mücadeleyi kaybedince Karamanoğulları - Memlükler - Rodos Şövalyeleri - Papalık ve Fransa'ya sığınması iç sorunu dış sorun haline getirdi. Osmanlılar Cem galesi ile uğraşırken fetihler bir süre durdu. Kastilya ve Argon kralığının birleşmesiyle İspanya'da birlik sağlandı ve İslam devletleri ortadan kaldırdı. Baskı ve zulme uğrayan Müslümanlar ve Yahudilerin isteğine askeri olarak cevap verilemedi.

Cevap D

20. I. Murat: Hüdâvendigâr

- Yavuz Sultan Selim Han

- Bir çoğu, padişah

- Sultan Orhan, Sultan Murat

- Şah unvanını daha çok İran Türk hükümdarları kullanmıştır.

Cevap E

21. Osmanlı Devleti bir vakıf devleti de denilebilir. Güvenlik, elçilerinin karşılanması ve saray masraflarının dışında birçok hizmet vakıflar aracılığı ile yapılmıştır.

Eğitim hizmetleri, sosyal hizmetler, bayındırlık hizmetleri, sağlık hizmetleri, vakıflar eliyle yapılmıştır. A , B, D, E şıklarındaki hizmetlerin hepsi vakıflar aracılığı ile yapılmıştır. Çalışmak istemeyene maaş bağlama gibi bir durum olmamıştır.

Cevap C

22. Reform Hareketleri'nin sonucunda Hıristiyan dünyasında mezhep birliği bozulmuştu. Ortodoksluk ve Katolikliğin yanına Protestanlık, Kalvenizm, Anglikanizm, Zwinglizm gibi yeni mezhepler ortaya çıkmıştı. Avrupa'da mezhep savaşlarının başlaması Osmanlı Devleti'nin ilerlemesini olumlu etkiledi. Çünkü siyasi ve dinsel birlik sağlanamamıştı.

Cevap B

23. Barut'un ateşli silahlarda kullanılması ve topların surları yıktığının görülmesi derebeylik sisteminin çökmesine neden olmuştur. Feodalite çözülürken merkezi krallıklar siyasal boşluğu doldurup konumlarını güçlendirmiştir. Mezhep savaşlarının yaşanması merkezi otoritenin aleyhine bir durumdur. Otoriteyi güçlendirmez, zayıflatır.

Cevap D

24. 1699 Karlofça Antlaşması'yla Osmanlı Devleti,

- Podolya ve Ukrayna arazisini Lehistan'a vermiştir.

- Temeşvar ili ve Banat Yaylası dışındaki tüm Macaristan'ı ve Erdel'i Avusturya'ya vermiştir.

- Dalmaçya ve Mora Yarımadası Venedik'e bırakılmıştır.

Cevap A

25. Ortodoksluk, İznik konsülü sonucunda ortaya çıkmış ve Doğu Hıristiyanlığın mezhebi olmuştur. Protestanlık, Anglikanizm, Kalvenistlik ve Presbiteryanlık Reform Hareketleri sonucunda ortaya çıkmıştır. Protestanlık daha çok Almanya'dan yayıldı. Kalvenistlik Fransa'da yazıldı. Anglikanizm İngiltere'de yayıldı. Presbiteryanlık Kalvenizm'in bir kolu olarak İskoçya'ya yayıldı.

Cevap C

26. Prut Antlaşması (1711) Osmanlı - Rus Savaşı (Prut Savaşı) sonunda imzalanmıştı. Bu savaşı Osmanlı Devleti kazanmış ve istediklerini antlaşmaya koydurmuştu. Pasarofça Antlaşması (1718) Osmanlı - Avusturya, Osmanlı - Venedik savaşları sonunda imzalandı. Osmanlı her iki devleti de savaşta mağlup etti. Mora'yı almasına rağmen Erdel, Belgrad ve Kuzey Sırbistan Avusturya'ya verildi. Küçük Kaynarca Antlaşması (1774). Her yönüyle Osmanlı'nın aleyhinedir.

Cevap A

27. Osmanlı Devleti,

- Bucaş (1672 - 1676) Osmanlı Lehistan (XVII. yüzyıl)

- Hotin (1621) Osmanlı - Lehistan (XVII. yüzyıl)

- Kasrışirin (1639) Osmanlı - İran (XVII. yüzyıl)

- Vasvar (1664) Osmanlı - Avusturya (XVII. yüzyıl)

- Karlofça (1699) Osmanlı (Avusturya - Lehistan ve Venedik) ile yapılmıştır. (XVII. yüzyıl)

Cevap B

28. Osmanlı Devleti 1699 Karlofça Antlaşması'yla kaybettiği toprakları geri alma politikasını 18. yüzyılın temel politikası yapmıştır. Bu nedenle birçok savaşa girmiştir. 1700 İstanbul Antlaşması'yla Rusya'ya verdiği Azak ve çevresini 1711 Prut Antlaşması'yla geri almıştır. Ancak 1699 Karlofça Antlaşması'yla Avusturya'ya verdiği yerleri almak için savaştığı Avusturya'dan 1718 Pasarofça Antlaşması'yla geri alamadığı gibi yeni yerler kaybetmiştir. Bu kaybın nedeni Osmanlı Devleti'nin İranla Doğu'da savaşa girmesidir.

Cevap E

29. – Senediittifak, II. Mahmut'la Ayanlar arasında olmuştur. (1808)
– Tanzimat Fermanı (1839) ilan edilmiştir.
– Islahat Fermanı (1856) ilan edilmiştir.
– Kanunuesasi (1876) ilan edilmiştir.

Cevap B

30. Dünya Türklüğünü bir bayrak altında toplamak Turancılık akımının amacıdır. Bütün Müslümanları halifenin etrafında birleştirmek İslamcılık akımının amacıdır. Her alanda Batılılaşma Batıcılığın amacıdır.

Cevap C

31. Türkiye 1929 Dünya Ekonomik Buhranını atlama için korumacı - devletçi politikaya yönelir. Halk hem tasarruf hem de yerli malı kullanmaya teşvik edilir. Türkiye bir taraftanda Klining Yöntemi denilen malını aldığınız ülke sizinde malınızı alacaktır, uygulamasına geçerek dış satımla ithalatı dengelemeye çalışmıştır.

Cevap B

32. Çarlık Rusya'sında 1917 Devrimi olmuştur. Rusya 3 Mart 1918'de yapılan Brest Litvosk Antlaşmasıyla I. Dünya Savaşı'ndan çekilmiştir.

Yeni kurulan Sovyet Rusya, Batılı devletlerle ters düşmeye başladı. İdeolojik olarak sömürgeye karşıydı. Bu nedenle uluslararası kamuoyuna gizli antlaşmaları açıkladı.

Cevap C

33. ABD I. Dünya Savaşı'na girmek için kendi kamuoyunu zor ikna edebilmiş hatta tam edememişti. Wilson, Monroe Doktrini'ni delmek için halk oylaması yapmış ancak halk savaşı onaylamamıştı. Almanya'nın ABD ticaret gemilerine saldırması ABD'yi savaşa soktu. Wilson, savaşa girerken barışçıl prensiplerini yayınladı. Bu prensipler İngiltere ve Fransa'nın işine gelmiyordu. Bu nedenle Paris Barış Konferansı'nda Wilson prensiplerini istedikleri gibi yorumladılar. Bunun nedeni de ABD'nin kıta Avrupası'nın işlerine karışmak istememesi ve kıtasına dönmek istemesidir.

Cevap B

34. Sürrealizm XX. yüzyılın başlarında ortaya çıkmıştır. Nedeni I. Dünya Savaşı'nın insanlara çektiği acılardır. Sanaatçılar akılcı tutuma karşı tavır alarak bilinç dışının düşsel dünyasına yönelmiştir.

Merkantalizm: Devletlerin zenginliğini altın ve gümüşle ölçen görüş.

Makyavelizm: Hedef ulaşmak için her şeyi yapma iyi veya kötü

Naturalizm: Tabiatçılık, herşeyi tabiata verme.

Realizm: Gerçekçi olma, gerçekçilik.

Cevap D

35. Japonya II. Dünya Savaşı'ndan çekilmek için Missoui Zirhlisi'nde imza atmıştır. Nusret Mayın Gemisi: Çanak-kale Savaşları'nın kahraman gemilerinden birisidir. Bouvet Zirhlisi, Quen Elizabet Zirhlileri, Çanak-kale savaşlarının müttefik donanmasındaki zirhlilerindendir. Yavuz Zirhlisi ise İngiliz, Fransız donanmasının önünden kaçıp Osmanlı'ya sığınan Goben savaş gemisinin değiştirilen isimli zirhlisidir.

Cevap C

36. İtalya I. Dünya Savaşı'nın galip devletlerinden olmasına rağmen İngiltere'nin engellemeleri nedeniyle istediklerine ulaşamamıştı. İtalya savaş sonrası siyasi, sosyal ve ekonomik sıkıntılarla karşılaştı. Bu durum Benito Mussolini'yi iktidara taşıdı. İtalya'nın sömürgeci emelleri, Mussolini ile "Roma İmparatorluğu'nun yeniden kuruluşu" politikasına dönüştü. Savaş sonrası ekonomik sıkıntısı doğal zenginliklere sahip Habeşistan'a yönelmesine neden oldu. İtalya bu politikasında Almanya'nın da desteğini almıştı. Ayrıca İngiltere ile rekabete de girişmiş oluyordu.

Cevap D

37. Türkiye 1932'de Milletler Cemiyetine girmişti. II. Dünya Savaşı nedeniyle bu cemiyet ortadan kalktı. II. Dünya Savaşı sonrası Dünya barışını korumak için Birleşmiş Milletler Teşkilatı kuruldu (1945). Yeni Dünya düzeninde Türkiye'de yerini aldı.

II. Dünya Savaşı sonunda Japonların Kore'den çıkartılması görevi ABD ve SSCB'ye verildi. SSCB Kuzey Kore'ye ABD Güney Kore'ye yerleşti. ABD ve SSCB Güney ve Kuzeyi birleştiremeyince kuzeyde SSCB destekli Kuzey Kore Halk Cumhuriyeti, Güneyde ABD destekli Güney Kore Cumhuriyeti kuruldu. SSCB'nin ve Çin Halk Cumhuriyeti'nin desteklediği kuzeyle ABD ve Birleşmiş Milletler kararı ile bir kısım devletler Güney Kore'nin yanında 1950'de savaştılar. Taraflar üstünlük sağlayamadılar. 1953'te mevcut devletlerin devamına karar verildi.

Cevap C

38. Soğuk Savaş kavramı II. Dünya Savaşı'ndan sonra ABD ve SSCB arasında silahlı çatışmaya dönüşmeyen ideolojik, ekonomik, siyasi ve askeri alanlarda yaşanan devamlı gerginlik durumudur. Dolayısıyla I ve III. öncül doğrudur.

Cevap D

39. 1980 Askeri İhtilali'ni yapan komutanlar şunlardır;

- Kenan Evren (Orgeneral: Genel Kurmay Başkanı)
- Nurettin Ersin (Orgeneral: Kara Kuvvetleri Komutanı)
- Tahsin Şahinkaya (Orgeneral: Deniz Kuvvetleri Komutanı)
- Nejat Tümer (Oramiral: Deniz Kuvvetleri Komutanı)
- Sedat Celasun (Jandarma Genel Komutanı)
- Semih Sancar (Orgeneral: Genel Kurmay Başkanı)

Semih Sancar, Kenan Evren'den önce emekli olmuştur.

Cevap E

40. Mihail Gorbaçov: SSCB'nin Devlet Başkanı olunca, bürokratik ayrıcalıkları kaldırmak, rüşvet ve adam kayırmayı önlemek, siyasi ve sosyal kalkınmayı sağlamak için sivil toplum faaliyetlerinin serbest olmasını savunuyordu. Çarlık Rusya'sını yeniden canlandırmak diye bir politikası olmamıştır.

Cevap E

41. 4 Ekim 1957'de Sputnik yapay uydusunu uzaya ilk fırlatan Sovyetler Birliğidir. Bu olay 1950'de başlayan uzaya uydur fırlatma yarışında SSCB'yi ABD'nin önüne geçirmiştir. Bunun üzerine ABD bir dizi uydur fırlatma girişiminde bulundu. Ancak başarısız oldu. Sovyetler 3 Kasım 1957'de uzaya ilk canlı olan Laika adında köpeği taşıyan Sputnik II uydusunun başarıyla gönderdi. Uydur geri dönemeyince Laika uzayda öldü.

Cevap D

42. Sovyetler Birliği'nin en baskıcı lideri Stalin'in ölümü üzerine peyk devletlerinin bazılarında ayaklanmalar görülmüştür. Bunların en önemlileri Macaristan ve Çekoslovakya'da olmuştur. İtalya Sovyet Rusya egemenliğinde olan bir ülke değildir.

Cevap D

43. Hızlı sanayileşme küresel ısınma ile ilgili değildir. Sel felaketleri, aşırı kuraklık, hızlı buzul erimesi, fırtına ve tayfunlar küresel ısınmanın bir sonucudur.

Cevap E

44. Çernobil Nükleer faciası Nisan 1986'da Ukrayna'nın başkenti Kiev'e yakın Çernobil reaktöründe bir kaza sonucu oldu. Çıkan yangında reaktörün damı patladı. Radyoaktif maddeler çevreye yayıldı. Bu maddeler İskandinav ülkelerine, Orta Avrupa'dan Almanya'ya kadar batıya, İspanya'dan Türkiye'ye kadar güneye yayıldı.

Cevap C

ESEN YAYINLARI

COĞRAFYA

1. Azotun bitkiler tarafından kullanılabilmesi için nitrit ve nitratlara dönüşmesi gerekir.

Cevap A

2. Volkanik olaylar jeolojik ve jeomorfolojik kökenli olaylardır. İklimden etkilenmez.

Cevap E

3. Verilen bilgilere göre bölge Kuzey Yarım Küre'nin orta kuşağında ve 15° Batı Meridyeni ile başlayan alanda bulunmaktadır.

Cevap E

4. Haritalardan birinci Türkiye idari, ikincisi ise Türkiye fiziki haritasıdır. Konuları farklı olduğundan, kullanım amaçları da farklı olur.

Cevap B

5. X'te Akdeniz, Y'de ise muson iklimi etkilidir. Muson iklim bölgesinde yıllık yağış miktarı Akdeniz iklimine göre daha fazladır.

Cevap B

6. III. numaralı bölge hakkında bilgi verilmemiştir.

Cevap C

7. Kullanım alanı en fazla olan madenler bor minerali ile kromdur.

Cevap D

8. Selçuklular Dönemi'nde 3 numaralı alan ticaret yolları güzergâhında yer alıyordu.

Cevap C

9. Bölgelerin nüfus sayıları ve yüz ölçümleri hakkında herhangi bir bilgi verilmemiştir.

Cevap E

10. Teşvik uygulamaları içerisinde dışarıya bağımlı olduğu müz ve maliyeti yüksek olan petrol tüketiminin özendirilmesi beklenmez.

Cevap E

11. Madenlerin çıkarılması ve işlenmesi çevre kirliliğine yol açtığı için biyoçeşitliliği azaltır.

Cevap E

12. Az gelişmiş ülkelerde genel olarak yatırımların ülkeye dağılımı dengesiz olduğundan iç göç fazladır.

Cevap E

13. Küresel ısınma ekolojik dengeyi bozucu etki yapar.

Cevap A

14. Açıklamalar sırasıyla; Bakü - Tiflis - Ceyhan, Nabucco Mavi Akım ve Bakü - Tiflis - Erzurum hatlarına aittir.

Cevap E

15. Su gücü ile çalışan dinamonun icadıyla, sanayi tesislerinin kömür yataklarına olan bağımlılığı azalmıştır.

Cevap E

16. BM'nin askeri sorunlarla, barış ve güvenlikle ilgili uygulamalarını Güvenlik Konseyi yürütür.

Cevap E

ESEN YAYINLARI

FELSEFE GRUBU

1. Gözün işlevi görmedir. Bu sözleyle de Aristoteles insan ruhunu bedeninin bir işlevi olarak görmektedir.
Cevap A
2. Doğal gözlem, olayların oluş biçimine gözlemcinin karışmadığı gözlemdir. Gözlem şartlarının araştırmacı tarafından kontrol edilebilmesi bu gözlemin bir özelliği olamaz.
Cevap B
3. Algı üzerinde bir çok etmen vardır. Burada daha önceden asansör görmeme algılamada deneyimin, "domuz" sözcüğünün olumsuz algılanması da kültürün etkili olduğunu gösterir.
Cevap C
4. Çevremizde gördüğümüz nesnelere alınan uyarıcılar değişik biçimlerde örgütlenecek algılanır. Biz dış dünyadaki nesnelere organize bütünler olarak algılıyoruz. Bu parçadaki örneklerle de duyumların düzenlenmesi yani algıda örgütlenme (organizasyon) anlatılmaktadır.
Cevap B
5. Diğer seçenekler fizyolojik güdüler olup "sosyal onay görme" ise başka kişilerce uyarılan sosyal bir güdüdür.
Cevap E
6. Farkında olarak veya olmadan birey başka bireylerin - olumlu ya da olumsuz nitelikteki- davranışlarını gözleyerek taklit edebilir. Parçada da örneklendirilen bu durum taklit yoluyla öğrenme veya model olarak öğrenme olarak adlandırılır.
Cevap B
7. Deneyde yaşça küçük çocukların oyuncak bebeği alması ve biraz daha büyük bir çocuğun sopayı kullanarak bebeği alması, olgunlaşmanın öğrenmeye etkisindedir.
Cevap E
8. Masa kavramı bütün masaları içine alan genel bir kavramdır. Bu kavram genelleme yoluyla elde edilmiştir. (Genellemeyi, "aynı türden nesne veya olguların aynı kavramda bir araya getirildiği bir zihin işlemi" olarak da tanımlayabiliriz.)
Cevap C

ESEN YAYINLARI

ESEN YAYINLARI

9. Diğer seçeneklerde yer alan davranışlarda düşünmenin rolü varken "aşırı sıcaktan bunalıp terleme" fiziksel bir olay olup düşünmeyle ilgisi yoktur.
Cevap C
10. Parçada, bireyin çocukluk döneminde ortaya çıkan sorunlarının ya da anormal davranış kalıplarının, bugünkü davranışlarını, kişiliğini etkilediği ve daha sonra düzeltilmesinin zor olduğundan bahsedilmekte ancak anormal davranışların tamamen ergenlik dönemine ait olduğu söylenmemektedir.
Cevap A
11. Toplumun manevi yapısındaki değişimler maddi yapıya göre daha yavaştır. Bu parçada verilen örnek olan teknolojik üretim ekonominin bir parçası olarak kabul edilirse; ekonomi kurumundaki değişim, aile ve din kurumundaki değişimden çok daha hızlı gerçekleşmektedir. Bu durum toplumsal kurumlardaki değişim hızının farklı olduğunun göstergesidir.
Cevap D
12. Parçada verilen örnekler, göçün toplumun yapısını bozduğunu, toplumca onaylanmayan türden davranışların artmasına neden olduğunu göstermektedir.
Cevap C
13. Herhangi bir toplumda var olan değer ve normlara aykırı davranışlar sapma olarak adlandırılır. Toplumsal sapmaların temel nedeni olarak parçada farklı kültürlerden gelmiş olma ve grup farklılıkları verilmiştir.
Cevap E
14. Eşin seçildiği gruba göre evlilik türleri arasındaki endogami (içten evlenme) aynı toplumsal grup içindeki bireylerin birbiriyle evlenmesi demektir.
Cevap D
15. Sosyoloji olanı ele alır, olması gerekeni incelemeyi ve toplumsal kuralları belirlemeyi. Bu durum sosyolojinin ahlak ve hukuk gibi normatif bir bilim olmadığını gösterir.
Cevap C
16. İnsan toplum içinde toplum da insanın içindedir. Yani insan ve toplum karşılıklı ilişki içindedirler. Bu nedenle de sosyoloji insanın davranışlarını ele alan psikoloji bilimiyle ilişki içindedir.
Cevap E

17. Bireyin toplumdaki saygınlığına sosyal prestij denir. Prestij, bireyin saygınlığına bağlıdır. Yüksek bir statü de de olsa içkiye düşkünlük prestij kaybına neden olabilmektedir. Bu nedenle de statüsel saygınlık kişisel saygınlığın güvencesi değildir.
Cevap C
18. Toplumsal ilişki de bireysel gereksinimler, ortak çıkarlar, beklentiler, ortak değerler belirleyici etkiye olabilmektedir. Güç kullanımı ise sosyal ilişki üzerinde en az etkiye sahiptir.
Cevap A
19. Toplumsal yapıyı oluşturan toplumsal kurumlar, birbiriyle karşılıklı ilişki içindedirler. Parçada bu kurumların kendi aralarındaki uyum ve eşgüdümünden bahsedilmektedir.
Cevap B
20. Parçada üretilen malın değerinin, birey açısından önemi ne bağlı olduğu vurgulanmaktadır. Üretilen malın özel girişimlerle gerçekleşmesinin bireyler açısından pek bir önemi yoktur.
Cevap D
21. Parçada verilen önermeler dilin bildirme görevini örneklerdir.
Cevap C
22. Bir pencere aynı zamanda ve aynı şartlarda hem kapalı hem de açık olamaz." yargısı çelişmezlik ilkesinin ifadesidir. Aynı ilkenin farklı bir ifadesi de A seçeneğinde verilmiştir.
Cevap A
23. "İnsan düşünebilendir." yargısında insanın tanımı yapılmıştır.
Cevap D
24. Verilen önermelerden "Hakan gözlüklü değildir." önermesi olumsuz, diğer önermeler ise olumludur.
Cevap D
25. Öncülleri iki ayrık önermeden oluştuğu halde bir tek sonuca ulaşılan kıyas şekline ikileme (dilemma) denir. Verilen kıyas da ikileme örnektir.
Cevap B

ESEN YAYINLARI

ESEN YAYINLARI

26. Verilen önermelerden $(D \wedge D) \Rightarrow Y$ önermesinin çözümü sonucu "Y", diğer önermelerin sonucu "D"dir.
 $(D \wedge D) \Rightarrow Y$
 $D \Rightarrow Y$
Y
Cevap A
27. I. önermede "~", II. önermede " \Leftrightarrow ", III. önermede " \Rightarrow ", IV. önermede " \wedge ", V. önermede " \vee " eklemi kullanılmıştır.
Cevap A
28. Verilen doğruluk tablosunda I ile V. önermeler aynı doğruluk değerlerini aldıkları için eş değerdir.
Cevap E
29. Çözümleyici çizelge ile denetlemede bir önermenin tutarlı olması en az bir yolunun açık olmasına bağlıdır. Bütün yollar kapalıysa önerme tutarsızdır.
Cevap A
30. "Bazı öğrenciler gözlüklüdür." önermesi niceleme mantığında iki şekilde sembolleştirilebilir.
1. $\exists xGx$
2. $\exists x(\bar{O}x \wedge Gx)$
Bu iki sembolleştirmeden ikincisi verilmiştir.
Ö: Öğrenci G: Gözlüklü olarak alınmıştır.
Cevap E

Cevap Anahtarı

TARİH

1. D	6. B	11. E	16. D	21. C	26. A	31. B	36. D	41. D
2. A	7. A	12. D	17. C	22. B	27. B	32. C	37. C	42. D
3. A	8. A	13. B	18. B	23. D	28. E	33. B	38. D	43. E
4. D	9. C	14. B	19. D	24. A	29. B	34. D	39. E	44. C
5. E	10. C	15. D	20. E	25. C	30. C	35. C	40. E	

COĞRAFYA - 2

1. A	5. B	9. E	13. A
2. E	6. C	10. E	14. D
3. E	7. D	11. B	15. B
4. B	8. C	12. B	16. E

FELSEFE GRUBU

1. A	6. B	11. D	16. E	21. C	26. A
2. B	7. E	12. C	17. C	22. A	27. A
3. C	8. C	13. E	18. A	23. D	28. E
4. B	9. C	14. D	19. B	24. D	29. A
5. E	10. A	15. C	20. D	25. B	30. E

TARİH

1. Türkler, I. Köktürk Devleti'nin yıkılışından sonra 50 yılı aşkın bir süre Çin esaretinde yaşamak zorunda kalmıştı. Bu süre içinde bağımsızlıklarını kazanmak için birçok kez ayaklanma çıkmış ancak Çinliler sert bir biçimde bastırmışlardır. Türkler, Kutluk liderliğinde birleşerek bağımsızlıklarını yeniden elde ettiler.

Cevap B

2. Alp Er Tunga ve Şu: Saka Türklerinin Yaradılış ve Türeyiş - Uygurların. Ergenekon: Köktürklerin Gılgamış: Sümerlerin destanıdır.

Cevap E

3. Yerleşik hayata geçen İlk Türk Devleti Uygurlardır. Uygurlar Çinlilerden öğrendikleri matbaayı geliştirdiler. Moğollar, Uygurlarla karışık kaynaşmışlardır. Uygur kültürü bir üst kültür olduğu için Moğolları etkilemişlerdir. Cengiz İmparatorluğu'na bir çok tarihçi Türk - Moğol İmparatorluğu demiştir.

Cevap D

4. Suçluların süratli bir şekilde cezalandırılması insanların ve toplumun devlete güveninin artmasına neden olur. Güven sağlandığı ve suçlular cezalandırılacağı için kimse suçluyu kendi cezalandırmak istemez. Türklerdeki ceza işlerinin kesin hükme bağlanması ve devletin suçluları takip etmesi kan gütmeyi ortadan kaldırmıştır.

Cevap C

5. Gazneliler dönemde medreselerde ve resmi yazışmalarda Arapça kullanılmıştır. Edebiyat dili ise Farsçadır. Büyük Selçuklularda resmi dil ve edebiyat dili Farsça bilim dili ise Arapça'dır. Tolunoğulları ve İhşidiler yönetim ve orduda Türkçe kullanılırken halk tamamen Arapça kullanmıştır. Karahanlılar ise resmi dil, edebiyat dili ve bilim dili Türkçe'yi kullanmışlardır. Harf olarak Uygur alfabesini kullanmışlardır.

Cevap B

6. Büyük Selçuklularda, atabeyler, melikleri (hükümdar ailesinden olan şehzadeler) yetiştiren ve gözeten hocalardır. Adalet işlerine kadılar bakarlar. Mali işlere ise müstevfiler bakarlardır.

Cevap C

7. Türklerin İslamiyeti kabul etmesiyle beraber hakimiyet anlayışında fazla bir şey değişmemiştir. Yönetimin yine kut olarak Allah tarafından verildiğine inanılmış ve ülke hanedanın erkek evlatlarına ait olmuştur. Hukuk anlayışında büyük değişiklik olmuştur. İslam hukuku uygulamaya başlanmıştır. Bunun yanında örfi hukuk revize edilmiştir. Fetih politikası cihan hakimiyeti şeklinde devam etmiştir.

Cevap B

8. Vakıflar, sosyal amaçlı kurumlardır. Amaç toplumda sosyal dayanışmayı sağlamaktır. Daha çok dini, hayır amaçlı kurulmuşlardır. Vakıfların adalet işlerini yürütme ve vergi gelirlerini toplama gibi bir görevi yoktur.

Cevap C

9. Çinlilerin Orta Asya'yı Çinileştirme politikası nedeniyle batıya yönelmesi İslamların cihat anlayışı ile Orta Asya'ya girmeleri iki tarafı karşı karşıya getirmiştir. Karluklar 751 yılında Çin - Arap Savaşı olan 751 Talas Savaşı'nda ezeleli düşmanları Çin'i değilde Arapları desteklemiştir. Savaşı Arapların kazanması Orta Asya'nın Çin egemenliğine girmesini engellemiştir.

Cevap B

10. Köktürk devleti İslam öncesi kurulan Türk devletlerinden- dir. Karahanlılar ise İslamı kabul eden ilk Türk devletidir. Bu yönüyle birbirinden ayrılırlar. Her ikisi de Türkler tara- rından kurulmuştur. Türk geleneğine uyularak Doğu - Ba- tı diye ayrılmışlardır. Her ikisi de Orta Asya'da kurulmuş- lar ve Türk kültürünü yaşatan milliyetçi devletlerdir.

Cevap E

11. Karahanlılarda Türk töresinin gereği olarak Doğu ve Batı Karahanlılar diye ikiye ayrılmışlardır. Böylece federatif bir yönetim uygulanmıştır.

Teokrasi: Kanunların dini kurallarla yapılması. Din devleti demektir.

Cumhuriyette ise seçimler vardır. Teokrasi ve cumhuriyet Karahanlılarda uygulanmamıştır.

Cevap A

12. Divanılıgati't Türk; Kaşgarlı Mahmut'un eseridir.

Divanîhikmet; Ahmet Yesevi'nin eseridir.

Siyasetname; Nizamülmülk'ün eseridir.

Şehname; Firdevsi'nin eseridir.

Atabetü'l Hakayık; Edip Ahmet Yükneki'nin eseridir.

Cevap C

13. Cizye; Gayrimüslim askerlik yaşı gelmiş erkeklerden alı- nan askerlik karşılığı vergidir. İslam devletlerinin çoğunda gayrimüslimler askere alınmazdı.

Haraç; Gayrimüslimlerden alınan ürün ve toprak vergisi- dir.

Ganimet; Savaşlarda Müslümanların elde ettiği malların beşte biri hazineye kalır, diğerleri askerlere verilir.

Öşür: Müslümanlardan alınan ürün vergisidir.

Bacı Bazar: Pazara gelen mallardan alınan vergidir.

Cevap B

14. Osmanlı Devleti Orhan Bey'den başlayarak Yavuz'un so- nuna kadar Anadolu Türk Birliğini kurma çalışmalarında bulunmuştur. Yukarıdaki öncüllerin hepsinin amacı budur.

Cevap D

15. Osmanlı Devleti'nin fethettiği yerlerde kalıcı olmasının en önemli nedeni yönetimde adalet, halklara dinsel özgürlük, halkın mutluluk ve refahını sağlamaktır. Ayrıca bölgede tam bir siyasi birliğinin olmaması Hristiyanlar arası siyasi ve dini kavgalar Osmanlı egemenliğinin süresini uzatmış- tır. Farklı kültürlere asimile hem dini hem örfi olarak Os- manlılara uygun değildir.

Cevap B

16. Koyunhisar (1302) Bizans - Osmanlı savaşı sonuç olarak Bursa'nın üç tarafı Osmanlıların eline geçti. Marmara hav- zasının güney kısmı.

İznik'in Fethi (1331) İznik Marmara'da Bizans'ın önemli bir şehridir.

Maltepe Savaşı (1329) İznik'i kurtarmak isteyen Bizansla yapılmıştır.

Sırp Sındığı Savaşı (1364) Balkanları ele geçirmek için Haçlılarla yapılan savaştır.

Cevap E

17. Yavuz Sultan Selim (1512 - 1520) Osmanlı - Memlük sa- vaşları yaşandı. 1516'da Mercidabık Savaşı ile Suriye toprakları 1517 Ridaniye Savaşı ile Mısır alındı.

Anadolu Beyliklerinden olan Dulkadiroğulları 1515 Turna- dağ Savaşı ile Osmanlılara geçti. Yavuz Dönemi'nde Yo- zgatlı Celal, Celali isyanlarına isim olan isyanı çıkardı. Ya- vuz Dönemi'nde Avrupa'da herhangi bir fetih olmamıştır.

Cevap B

18. Ermenistan toprakları 1577 - 1590 Osmanlı - İran Savaş- ları sonunda Osmanlıların eline geçmişti (Azerbaycan toprakları).

Eritre; Hint Deniz Seferleri sonunda (1538 - 1553) Os- manlı topraklarına katılmıştır.

Ukrayna; Arayış Yılları döneminde Osmanlı topraklarına katılmıştır.

Malta; toprakları 1565'te Osmanlı topraklarına katılmıştır. İspanya, Müslümanların eline geçmesine rağmen Os- manlı egemenliğine girmemiştir.

Cevap A

19. Amasra, Cenevizlilerden alındı (1459). Karadeniz ticareti için. Cerbe İspanyollar'dan alındı. Akdeniz ticareti için (1560) Midilli, Venediklilerden alındı (1462). Akdeniz tica- retini ile ilgili Trablusgarp, Sen Jan Şövalyelerinden alındı. Akdeniz ticareti için (1551) Zenta, Napoli krallığından alın- dı. Akdeniz üstünlüğü için.

Cevap A

20. Osmanlı Devleti Mısır'ın alınmasıyla Baharat Ticaret Yo- lu'nu denetimine almıştı (1517). Ancak İspanya ve Portekizlilerin başlattığı Coğrafi Keşifler sonucu Ümit Burnu Yo- lu bulundu. Ticaret Afrika'nın güneyine kaydı. Dolayısıyla Osmanlı Devleti eski yoldan gereğince faydalanma imka- nını bulamadı. Sokullu Mehmet Paşa Süveyş Kanalı'nı açmaya çalıştı. Bu da gerçekleşmedi.

Cevap B

21. Osmanlı Ordusunun Kara Kuvvetleri kapıkulu ve tımarlı (eyalet) askerleri olmak üzere ikiye ayrılmıştır. B şikkında deliler eyalet askerleriyle ilgilidir. Silahtarda kapıkulu or- dusunun süvari kısmındadır.

Cevap B

22. Has: Geliri 100 bin akçenin üzerinde olan topraklardır. Yüksek dereceli memurlara verilir (Padişah, vezirler, beylerbeyi gibi).

Mukataa: Geliri doğrudan hazineye aktarılan topraklardır. Yurtluk: Geliri sınır boylarında görev yapan komutanlar ve akıncı beylerine verilir.

Zeamet: Geliri 20 bin ile 100 bin akçe arasındaki toprak- ları. Orta dereceli devlet memurlarına verilir. Kale diz- darları, alay katipleri gibi.

Tımar: Geliri 3 ila 20 bin akçe arasındaki topraklardı. Tı- marlı siphilere verilir.

Cevap D

23. Her üç öncülde verilen gelişmeler Coğrafi Keşifler'in baş- laması ve başarılı olmasını sağlamıştır. Okyanuslara da- yanıklı gemilerle Hint Okyanusu ve Atlas Okyanusu'na açılmış yeni yerler keşfedilmiştir.

Gemiciler daha önce okyanusa çıkmaya korkuyorlardı. Maceraperest gemiciler bunu aşmışlardır. Pusulanın ge- liştirilmesi yön tayininde önemlidir. Okyanuslarda gemile- rin nereye gideceğini kolaylaştırmıştır.

Cevap D

24. 1815'te Avusturya'nın öncülüğünde Avrupa devletleri top- lanmıştır. Amaçları Fransız İhtilali'nin ortaya koyduğu "Mil- liyetçilik, eşitlik, adalet ve hürriyet" fikirlerinden etkilenme- mek ve imparatorluklarının dağılmasını önlemektir.

Viyana Kongresi'nde "Meternik Sistemi" adı verilen bir po- litika oluşturdular. Buna göre, Avrupa'nın herhangi bir ye- rinde ayaklanma çıkarsa müdahaleyi birlikte yapacaklar- dı. Ancak alınan bu kararı Osmanlı Devleti'ne karşı çıkan Yunan ayaklanmasında uygulamadılar. Hatta Rus, Fran- sız ve İngiliz donanmaları 1827'de Navarin baskını ile Os- manlı donanmasını yakarak Osmanlı'nın müdahalesini engellediler. 1815 - 1827 dönemine "Restorasyon Döne- mi" denmektedir.

Cevap A

25. Reform: İlk defa Almanya'da Martin Luther tarafından başlatılmıştır.

Rönesans: İlk defa İtalya'da başlamıştır. Sanayi İnkılabı: 1750'li yıllarda ilk defa İngiltere'de başla- mıştır.

Coğrafi Keşifler: İlk keşif hareketleri İspanya ve Portekiz krallarının teşvikiyle başlamıştır.

Cevap B

26. Osmanlı Devleti'nin Arayış Yılları içine girmesine neden olan iç ve dış gelişmeler şunlardır.

İç nedenler: 1. Merkezi yönetimin bozulması 2. Ekonomi ve maliyenin bozulması. 3. Askeri sistemin bozulması. 4. Sos- yal alandaki bozulmalar. 5. Eğitim sisteminin bozulması.

Dış nedenler: 1. Doğal sınırlara ulaşması 2. Avrupalıların Osmanlı Devleti'ne karşı birlikte hareket etmeye başlama- sı 3. Coğrafi Keşiflerin etkisi 4. Rönesans ve Reformun Avrupa'da bilim ve kültürü geliştirmesi.

A şikkındaki ıslahatlar neden değil sonuçtur.

Cevap A

27. Osmanlı Devleti'nde XVII. yüzyıl boyunca idari, mali ve askeri ıslahatlara girilmiştir. Çünkü idari kadronun ve anlayışın bozulması her şeye tesir etmiştir. Askeriye'nin bozulması savaşların uzun sürmesine, ekonomik ve toprak kayıplarına neden olmuştur. Diğer şıklar da Arayış Yılları'nın nedenlerindedir. Daha kapsayıcı olan C şıkkıdır.

Cevap C

28. III. Murat döneminden itibaren layık olmayanlar Yeniçeri Ocağı'na kaydedilmeye başlanmıştır. Ocak kanunları hiçe sayılmıştır. Bu durum ve diğer nedenler Yeniçeri İsyanlarına neden olmuştur. İsyanlar sonucunda devlet görevlilerine istediklerini çağrı zaman yaptırmışlardır. Ve etkili olmuşlardır.

Cevap B

29. Senediittifak (1808) II. Mahmut'la Ayanların arasında imzalanmış bir sözleşmedir. Padişahın yetkileri ilk defa kısıtlanmış ve Ayanlar'da yönetimde söz sahibi olmuştur. Tanzimat Fermanı (1839), fermanın ilanı ile kişi hak ve hürriyetlerine vurgu yapılmış ve kanun üstünlüğü benimsenmiştir. I. Meşrutiyet'in ilanı (1876). Mebusan Meclisi ve Ayan Meclisi oluşturularak seçimlerle yönetime ortak olunması başlatılmıştır. Her üç öncülün ortak sonucu Osmanlı Devleti gittikçe demokrasiyi hayatına hakim hale getirmeye başlamıştır. Tam demokratik hayat Cumhuriyetle birlikte sağlanmıştır.

Cevap B

30. Fransız İhtilali (1789): Milliyetçilik akımlarının çıkmasına neden olmuştur. Çok uluslu imparatorlukları etkilemiştir. Osmanlı Devleti'nde azınlık isyanlarını tetiklemiş ve dağılmasını hızlandırmıştır.

Sanayi İnkılabı (1750) Avrupalı devletler hammadde ve pazar arayışı, sömürgecilik düşüncesiyle Osmanlı topraklarına saldırmışlardır. Sanayi inkılabı ürünleri ile baş edemeyen Osmanlı sanayisi çökmüştür.

Reform (XVI. yüzyıl) Katolik Kilsesinin anlayış ve yolsuzluklarına karşı çıkmıştır. Osmanlı Hristiyanları dinsel özgürlüğe sahiptirler. Bu nedenle etkilenilmemiştir.

Rönesans (XV. yüzyıl) Bilim, sanat ve kültürün gelişmesine neden olmuş ve Avrupa gelişmiştir. Osmanlı devleti ayak uyduramamış ve Avrupa'nın gerisinde kalmıştır.

Coğrafi Keşifler; Akdeniz ticaretini etkilemiş bu durumdan Osmanlı ekonomisi en çok zarar gören ekonomi olmuştur.

Cevap C

31. Türkiye'nin ilk sinema filmi Ayastefanos'taki Rus Abidesi'nin Yıkılışı isimli filmidir.

Cevap B

32. Almanya II. Dünya Savaşı sonrası Yalta ve Postdam Konferansları'nda dört işgal bölgesine ayrılmıştı. Sovyetler Birliği topraklarının % 40'ını, nüfusun % 36'sını doğal kaynakların % 33'ünü oluşturan bölgeyi işgal etmişti.

23 Mayıs 1949'da Batı'da Federal Almanya kuruldu. Ekim 1949'da Doğu'da Demokratik Alman Cumhuriyeti kuruldu. İki Almanya Sovyetlerin dağılmaya başlamasından önce 1990'da birleşti.

Cevap B

33. Bulgaristan 1908 yılında Osmanlı Devleti'nden ayrılmıştı. Bundan sonra sürekli Türklerle uğraşmaya başladı. I. Balkan Savaşı'nda sınırlarını Türkiye aleyhine genişletti. Bulgaristan'ın sürekli baskılarıyla Türk nüfusu Türkiye'ye göç etmeye başladı. Todoro Jivkov'un milliyetçi söylem ve baskıları Türklerin isim değişikliğine zorlanması sonucu tekrar baskı dönemi başladı. Naim Süleymanoğlu Türkiye'ye sığındı.

Cevap A

34. PKK terör örgütünün başı Abdullah Öcalan 16 Şubat 1999'da Kenya'nın başkenti Nairobi'de yakalanarak Türkiye'ye getirildi. Öcalan önce idam cezasına çarptırıldı. Ancak TBMM'nin idam cezasını kaldırmasıyla cezası müebbet hapse çevrildi.

Cevap C

35. Muammer Aksoy; 31 Ocak 1990'da Ankara Bahçelievler'deki evine giderken üç kişi tarafından vurularak öldürüldü.

Özdemir Sabancı; 9 Ocak 1996'da İstanbul Levent'teki Sabancı Center'de Fehriye Erdal tarafından öldürüldü.

Bahriye Üçok, eski senatör olan Bahriye Üçok Ankara'daki evine gönderilen kargo paketinin patlamasıyla öldü.

Uğur Mumcu; 24 Ocak 1993'te Ankara'daki evinin önünde öldürüldü.

Turgut Özal'a, parti kongresinde Kartal Demirağ tarafından kurşun atıldı. Ancak Özal parmağından yaralandı ölmedi.

Cevap D

36. Günümüz dünyasında global kültür her yeri işgal etmektedir. Anglo - Sakson kültürü denilen kültür konuşmamızdan, oturup kalkmamıza, yemek alışkanlıklarımıza kadar herşeyi değiştirmektedir.

ABD kanallarının izlenmesi, MTV yayınlarının izlenmesi, İngilizce'nin yaygınlaşması, televizyon haberlerinin çoğunun ABD kaynaklı oluşu Anglo - Sakson kültürünün yayılmasını hızlandırmaktadır.

Ülkemizde son dönemde yerel dillerle yayınların yapılması yerellelikle ilgilidir. Küresel kültürle ilgili değildir.

Cevap C

37. ASALA Terör Örgütü Yurtdışındaki Ermeniler tarafından kurulmuştur. Amaçları sözde Ermeni soykırımının intikamını alma ve Türkiye'yi bunu tanımaya zorlamaktır. Terör Örgütü'nü Türkiye'nin zayıflamasını isteyen ülkeler desteklemiştir. En büyük destekçileri de Ermenistan, Yunanistan ve Sovyetler Birliği olmuştur.

Cevap E

38. Enosis; Kıbrıs'ın Yunanistan'a katılmasını sağlamak için oluşturulan ideolojidir. Makarios'u deviren Nikos Sampson bu amacı gerçekleştirmek için 1974 öncesi Kıbrıs Türklerini katletmeye başlamıştır. Kıbrıslı Türkler bunun karşısında Türk Mukavemet Teşkilatı'nı kurmuştur. 1974'te Türkiye adaya müdahale etmiş ve bugünkü statüye gelinmiştir.

Cevap C

39. 1983 yılında kurulan Anavatan Partisi'nin kurucu Genel Başkanı Turgut Özal'dır. İlk seçimi kazanmış ve Cumhurbaşkanı oluncaya kadar Genel Başkanlığa devam etmiştir. Özal'ın Cumhurbaşkanı olması sonucu Yıldırım Abbulut Genel Başkan olmuştur.

Cevap A

40. 1980 İhtilali sonrası oluşan durum 1983 seçimleriyle normale dönüşmüştür. 1983 seçimlerine Anavatan Partisi, Halkçı Parti ve Milliyetçi Demokrasi Partisi katılmıştır.

Cevap C

41. 1979'da İran'daki iç olaylar Şah Rıza Pehlevi'nin devrilmesiyle neticelenmiştir. İmam Humeyni İran'da yeni rejime dayalı bir sistem kurmaya çalışmıştır. Devletin Şah'lık olan rejimi değiştirmiştir. İran'ın yeni ismi İran İslam Cumhuriyeti'dir.

Cevap B

42. Demokratik Anayasal Hukuk devletinde siyasal partilerin varlığı, demokratik seçimler ve seçimler sonucu oluşan hükümetler ve hükümettekilerin güven oyu alması doğal bir sonuçtur.

1971'de yapılan askeri muhtıra anti demokratiktir. İktidarlar seçimle gelip seçimle değişebilir.

Cevap C

43. 16 Ağustos 1960'da kurulan Kıbrıs Cumhuriyeti'nin ilk Cumhurbaşkanı Başpiskopos Makarios ve ilk Başbakanı Dr. Fazıl Küçük olmuştur.

Cevap A

44. George Bernard Shaw; XX. yüzyıl İrlanda doğumlu İngiliz oyun yazarıdır.

Ernest Hemingway; Amerikalı yazardır. Romanlarında gerçek yaşamı işlemiştir. Yukarıdaki yapıtlar ona aittir.

Pablo Picasso; İspanyol ressamdır. Kübizm akımının başlatıcısıdır.

John Steinbeck; Amerikalı toplumcu yazardır. Berthold Brecht; Tiyatrocudur. Basit insan olarak ele aldığı fakir ve kimsesizlerin sesi olmuştur.

Cevap C

COĞRAFYA

1. İngiltere'den yola çıkan uçakla Atlas ve Büyük Okyanusu geçerek sürekli batıya gidip Japonya'ya ulaşılır. Japonya'dan Güneybatıya yolculuk yaparak Hindistan'a ulaşır. Hindistan'dan Nijerya'ya sürekli batıya giderek, Nijerya'dan da İngiltere'ye kuzeye ilerleyerek ulaşır.

Cevap B

2. Kırsal yerleşmelerde doğurganlık oranı az değil fazladır.

Cevap D

3. Z merkezi Oğlak Dönencesi'nin daha güneyindedir. Bu nedenle 21 Aralık tarihinde Z'den Y merkezine doğru gidildikçe gölge boyu önce kısalır, sonra uzar.

Cevap D

4. Yağmur ormanlarının aşırı tahribi sonucunda yer altı sularının artması beklenmez.

Cevap C

5. Fransa hem okyanusa hem iç denize (Akdeniz) kıyısı olan bir ülkedir. Okyanusa dökülen akarsu ağızlarında haliç, iç denize dökülen akarsu ağızlarında delta oluşur.

Cevap A

6. Kentlerden kırsal kesime göç erozyon sonucunda ortaya çıkmaz.

Cevap E

7. Çoruh Nehri Doğu Karadeniz projesinde, Aras, Murat, nehirleri Doğu Anadolu Projesinde Dicle ve Fırat ise Güneydoğu Anadolu Projesi kapsamındadır.

Cevap B

8. Azerbaycan'ın petrolünü batıya pazarlamasında Türkiye'den yardım alması Türkiye'nin jeopolitik konumuyla ilgilidir.

Cevap B

9. Dış ticaretimizin çoğunu Avrupa Birliği ülkeleri oluşturur.

Cevap D

10. Ülkemiz NATO üyeliği gerekçesiyle Kore'ye asker göndermiştir.

Cevap C

11. Grafikteki bilgilere dayanarak I. ve VI. ülkede demir yolu ulaşımının 2000 yılında ulaşım sistemleri içindeki payının değişmediğine ulaşılabılır.

Cevap A

12. Fransa turizm gelirleri 46,3 milyar dolardır. Bu toplam gelirin yarısına yakındır diyemeyiz.

Cevap E

13. Tablodaki bilgilere dayanarak Mozambik'in geri kalmış bir ülke konumunda olduğuna ulaşılabılır.

Cevap B

14. Büyük şehirlere olan yatırımları artırmak, bu şehirlerin daha çekici hale gelmesine neden olacağı için iç göç hareketliliğini artırır.

Cevap C

15. Doğu Karadeniz Bölümünde yükselti ve engebenin fazla olması; Hidroelektrik potansiyel, yol yapım maliyeti, Fiziki haritalarda renk çeşitliliği, heyelan ve erozyonun fazla olmasında etkilidir. Yükseltinin artması sıcaklığı azaltacaktır.

Cevap D

16. Hindistan Büyük Okyanusta değil Hint okyanusundadır.

Cevap A

FELSEFE GRUBU

1. Tüm bilimlerde olduğu gibi neden ve nasıl sorularına yanıt bulmak, anlama ve açıklama (nedensellik bağının ortaya konulması) aşamasıdır. Psikolojide de neden ve nasıl sorularına yanıt bulmak, davranışın anlaşılması ve açıklaması anlamına gelir.

Cevap C

2. Deneyde etkisi araştırılan koşul, bağımsız değişken olup burada "ödü"dür. Bağımsız değişkenin etkisinin araştırıldığı olay ya da bağımsız değişkene bağlı olarak ortaya çıkan sonuç ise bağımlı değişkendir ki burada "öğrenme derecesi"dir.

Cevap C

3. İlkokul öğrencilerinin tablonun değişim değerini bilmelerinin zorluğu da dikkate alınarak tablonun algılanma süresini en az etkileyecek unsurun bu değer yüksek olduğu görülebilir.

Cevap E

4. Bir nesnenin çevresindeki uyarılara, yapısındaki değişkenlere karşın algısal niteliğini koruması, aynı nesne olarak algılanması algıda değişmezliktir. (Bu parçada da kapı hep dikdörtgen şeklinde algılanmaktadır.)

Cevap E

5. Güdülenme (Motivasyon) öğrenme için gerekli ön şartlardan biridir. Öğrenmede ihtiyaçlar ve ilgiler güdülenmeyi artırır. Burada da kişinin yabancı dili öğrenme ihtiyacı güdülenmeyi sağlamakta ve güdülenmesi de bireyin öğrenmeye istekli olmasını sağlamaktadır.

Cevap B

6. Daha önceki deneyimlerimiz bize nesnelere belirli işlevlerini öğretmiştir. İşleve takılma nesnelere, belli işlevlerinin dışında kullanılmamaktır. Bu paragrafta da bu engelden bahsedilmiştir.

Cevap E

7. Önceden öğrenilen bir bilgi yeni bir bilgiyi öğrenmeyi kolaylaştırıyorsa pozitif aktarma (transfer) söz konusudur. Parçadaki durum, matematik bilmek fizik öğrenmeyi kolaylaştırdığından, pozitif aktarmaya örnektir.

Cevap C

8. Sosyal etki sonucu meydana gelen uyma davranışı kişilerin "benzerliğini" ve dolayısıyla sosyal davranış düzenliliğini yaratır. Burada da grubun etkisiyle birey kendi düşüncesini değiştirmekte olduğundan grup kararının kişisel kararlardan daha baskın olduğunu söyleyebiliriz.

Cevap B

9. Verilen parçadan da hareket ederek diğer seçeneklerin doğruluğu görülmektedir. Ancak REM uykusu derin ve dinlendirici değildir, aksine hafif, uyanıklığa yakın bir uykudur. Derin ve dinlendirici olan NREM uykusudur.

Cevap A

10. Başkasının onayını almak için, durumu akla uygun ve inandırıcı bir nedenle açıklama çabası mantığa bürümeye (rasyonalizasyon) olarak adlandırılan bir savunma mekanizmasıdır.

Cevap B

11. İnsanlar çeşitli kurum ve grupların içerisinde yer alırlar. Bu kurum ve gruplar içerisinde parçada verilen örnekte olduğu gibi, her birey birden fazla toplumsal statüye sahip olabilir.

Cevap B

12. Parçada verilen örneklerde görüldüğü gibi toplumların değer yargıları ve yaşam biçimleri yani kültürel anlayışları birbirinden farklı olabilir. Bu durum bir toplumda saygın olan bir kültürel değer bir başkasında anlamsız olabileceğini gösterir.

Cevap D

13. Eğitim ve meslek edindirme işlevi günümüzde artık ailenin bir işlevi değildir. Bu durum bize ailenin işlevlerinin değişim geçirdiğini gösterir.

Cevap A

14. Tarafsızlık ve ön yargılardan kaçınmak nesnel olmanın gereğidir. Parçada verilen örnekte de bilimsel çalışma ve değerlendirmelerde objektifliğin (nesnellığın) önemi vurgulanmıştır.

Cevap C

15. Parçadaki örneklerde görülebileceği üzere, zamanla ortaya çıkan yeni sorunlar yeni ihtiyaçları ortaya çıkarır ki bu durum bireyleri yeni arayışlara itmiştir. Dolayısıyla yeni ihtiyaçlar buluşları özendirip artırmaktadır.

Cevap B

16. Her üç maddede de belirtilen kültürle ilgili tanımlamalar arasında ortak nokta kültürün toplumsal olma özelliğidir.

Cevap E

17. Parçada belirtildiği gibi çoğunluk sistemiyle en fazla oy alan aday seçilmektedir. Böylelikle her siyasi partinin de-ğil de çoğunluğu ele geçiren partinin adaylarının mecliste temsil edilmesi durumu doğmakta ve bu durum tek başına iktidarı sağlamaktadır. Böylece kanunlar daha çabuk çıkarılabilmektedir.

Cevap C

18. İnsanların tasarrufa yönelmesi, talebin az arzın fazla olmasına, bu durum ise yatırımların azalmasına ve işsizliğin artmasına yol açmaktadır.

Cevap A

19. Parçada verilen örnekler maddi kültür öğelerindeki değişmelerin manevi kültür öğelerinin de değişmesine yol açtığını göstermektedir.

Cevap B

20. Bireyler birden fazla rolü yapmak zorunda olduğu için bireyin herhangi bir rolü bir başka rolünü gerçekleştirmesini zorlaştırabilir. Parçadaki örnek rol çatışmasını gösterir.

Cevap B

21. Parçada doğruluk değerinin düşüncenin bir özelliği olduğu vurgulanmış ve örneklendirilmiştir.

Cevap E

22. Aklın genelden genele ve genelden özele izlediği akıl yürütme yolu tümdengelimdir.

Cevap A

23. Eksik girişimlilik ilişkisinde, iki terimden her biri diğerinin bazı bireylerini içine alır. x ve y gibi iki terim arasındaki eksik girişimlilik ilişkisini; Bazı x'ler y'dir. Bazı y'ler x'tir. şeklinde ifade edebiliriz. Bu önermeleri doğrulayan diyagram B seçeneğinde verilmiştir.

Cevap B

24. "Bütün leylekler göçmendir." önermesi tümel bir önermedir. Tümel bir önermeyi yanıtlamak için bir örnek yeterlidir.

Cevap A

25. Verilen öncüllerden "İnsanın hakları yoktur." sonucuna ulaşılır.

Cevap C

26. "Hiç değilse bir kişi üniversiteyi kazanamadı." demek, "Bir kişi üniversiteyi kazanamadı." demektir. Bu önerme değiştirilirse, o bir kişi de üniversiteyi kazandı demektir. Yani, "Herkes üniversiteyi kazandı." önermesi elde edilmiş olur.

Cevap E

27. Tablodaki değerlerin oluşması için "a" ile "b" önermeleri arasına "v" eklemi getirilmelidir. "v" eklemine ana eklem olarak kullanıldığı önermelerde her iki bileşenden birinin "D" olması önermenin "D" olmasını sağlar. Her iki bileşen "Y" ise önerme de "Y"dir.

Cevap B

28. Bütün yorumlamalarında yanlış değer alan bir önerme hem tutarsız hem de geçersizdir. Bütün yorumlamalarında doğru değer alan önerme hem tutarlı hem de geçerlidir.

Cevap C

29. Geçerli bir önermenin bütün yorumlamaları "D" değeri aldığı için iki geçerli önerme her yorumlamada eş değerdir.

Cevap C

30. $(\neg Ga \wedge \neg Gb \wedge \neg Gc) \Rightarrow (Hav \wedge Hbv \wedge Hc)$ açılımında ana eklem "⇒"dir.

Ön bileşende; $\neg Ga$, $\neg Gb$, $\neg Gc$ önermelerini birleştiren "∧" eklemi "∀x"i,

Ha, Hb, Hc önermelerini birleştiren "v" eklemi "∃x"i temsil eder.

$\neg Ga$, $\neg Gb$, $\neg Gc$ "Gx" açık önermesinin evrendeki açılımlarını,

Ha, Hb, Hc "Hx" açık önermesinin evrendeki açılımlarını gösterir.

Buna göre, verilen açılımın önermesi $\forall x \neg Gx \Rightarrow \exists x Hx$ şeklindedir.

Cevap B

Cevap Anahtarı

TARİH

1. B	6. C	11. A	16. E	21. B	26. A	31. B	36. C	41. B
2. E	7. B	12. C	17. B	22. D	27. C	32. B	37. E	42. C
3. D	8. C	13. B	18. A	23. D	28. B	33. A	38. C	43. A
4. C	9. B	14. D	19. A	24. A	29. B	34. C	39. A	44. C
5. B	10. E	15. B	20. B	25. B	30. C	35. D	40. C	

COĞRAFYA - 2

1. B	5. A	9. D	13. B
2. D	6. E	10. C	14. C
3. D	7. B	11. A	15. D
4. C	8. B	12. E	16. A

FELSEFE GRUBU

1. C	6. E	11. B	16. E	21. E	26. E
2. C	7. C	12. D	17. C	22. A	27. B
3. E	8. B	13. A	18. A	23. B	28. C
4. E	9. A	14. C	19. B	24. A	29. C
5. B	10. B	15. B	20. B	25. C	30. B

TARİH

1. Türkler atı evcilleştiren ilk toplumlardandır. Atın evcilleştirilmesi göçleri kolaylaştırıp hızlandırmıştır. Hayvanlarına otlak ve su bulmak için sürekli göç etmişlerdir. Bu iki durum yerleşik bir medeniyetin kurulmasını zorlaştırmıştır. Göçebe toplumlarda kendilerine güven, dayanıklı bünyeye sahip olma, kanaatkar yaşama ve iradelerinin güçlülüğü yerleşik toplumlardan daha üst seviyededir.

Cevap E

2. Attila Balkanlar üzerine üst üste seferler yapmıştır. Bu seferlerin amacı Bizans'ı baskı altında tutmaktır. Bu seferler sonucunda Doğu Roma (Bizans) ile 447 yılında Anatolyos Barışı imzalanmıştır. Bu barışın nedenlerinden birisi de Hun sınırının güvenliğini sağlamaktadır. Tuna Nehri'nin güneyinin askerden arındırılması maddesi bu amaca yöneliktir.

Cevap A

3. Uygurlara kadar var olan Türk devletleri altı göçebe olarak varlıklarını sürdürmüşlerdir. Göçebe toplumlarda yazının yaygın kullanılması mümkün değildir. Göçebe toplumlarda hukuk kuralları genellikle töre kurallarıdır. Bunlarda yazılı kanunlar haline getirilmemiştir.

Bu nedenle I. ve II. öncül hukuk kurallarının yazılı hale getirilmesini engellemiştir. III. öncül yerleşik hayata geçen Türk devletlerinde de uygulanmıştır.

Cevap D

4. Timur Han'ın Altın Orda Devleti'ni yenerek iç kavgaya sürüklemesi Altın Orda Devleti'nin taht mücadeleleri sonrasında yıkılmasına neden oldu. Altın Orda Devleti'nin topraklarında Kazan, Küçüm, Nogay, Ejder, Kasım ve Kırım Hanlıkları kuruldu. Böylece büyüyen Rusya karşısında parçalanmış Türk devletleri mücadele edemediler.

1402 Ankara Savaşı sonrasında Osmanlı Devleti'nin Fetret Devri'ne girmesi, Anadolu Beylikleri'nin yeniden kurulması Osmanlı Devleti'nin Balkanlardaki ilerleme hızını kesti.

Cevap E

5. Türk tarihinde ilk kervansaraylar. "ribat" Karahanlılar döneminde yapılmıştır. Karahanlı toprakları tarihi İpek Yolu üzerindedir. Bu nedenle ticareti geliştirmek için kervansaraylar yaptırmışlardır.

Büyük Selçuklu toprakları da doğu - batı, güney - kuzey istikametinde İpek Ticaret Yolları üzerindedir. Bunlarda ticareti geliştirmek için Kervansaraylar yaptırmışlardır. Kervansarayların önemli geçitlerde yapılması aynı zamanda yol güvenliğini de sağlamıştır.

Cevap D

6. Kaşgarlı Mahmut'un "Divanılugati't Türk adlı eseri Yusuf Has Hacip'in "Kutadgu Bilig" adlı eseri ve Edip Ahmet Yükneki'nin "Atabetü'l Hakayık" adlı eseri İslami dönem, Türk edebiyatının ilk eserleridir.

Cevap C

7. Harzemşahlar Otrar Faciası'ndan sonra Moğollarla savaşmak zorunda kalmışlardır. Moğollar Harzem şehirlerine saldırarak yerle bir ettiler. Alaaddin Muhammed'in ölümü Harzem ülkesindeki Harzem egemenliğini sona erdirdi. Celaleddin Mengüberti Azerbaycan topraklarında Harzemşahları yeniden kurdu. Ancak Moğol saldırılarından kurtulamadı.

Moğolların İlhaneliler kolu Mısır ve Suriye'de hüküm süren Memlûklüler'de savaştılar. Hülagu Han Azerbaycan'a, Ab-basi topraklarına ve Anadolu'ya sahip olmuştu. Moğollarla Memlûkler Ayn-ı Calud Savaşı'nda karşı karşıya geldiler. Memlûkler bu savaşta Moğolları mağlup etti.

Cevap D

8. Hamitoğulları I. Murat döneminde İsparta, Yalvaç, Akşehir, Beyşehir ve Seydişehir çevresini Osmanlı Devletine 80 bin altın karşılığı satmıştır. Germiyanogulları kızını I. Murat'ın oğlu Yıldırım Bayezit'e vermiş aynı zamanda kız tarafı çeyize karşılık Kütahya, Emet, Tavşanlı ve Simav çevrelerini Osmanlılara vermiştir.

Cevap B

9. Divan Türk İslam devletlerinde olduğu gibi Türkiye Selçukluları'nda da yönetim merkezidir. Divan'da devletin işleri görüşülür ve kararlar alınır. Ordunun ihtiyacının karşılanması, yazışmaların yapılması, gelir giderlerin ayarlanması, arazi kayıtlarının nasıl yapılacağı divanda kararlaştırılırdı. Veraset sisteminin değiştirilmesi gibi bir durum yaşanmamıştır. Bu töre ve kut anlayışının oluşturduğu gerçekliktir.

Cevap C

10. Has araziler: Vergi gelirleri ve mülkiyeti hükümdara ait topraklardır.

İkta arazileri: Görevleri karşılığı ordu mensupları ve görevlerine ayrılan topraklardır.

Mülk arazileri: Başarı gösteren devlet adamlarına mükafat olarak verilen arazilerdir.

Vakıf arazileri: Gelirleri sosyal amaçlı kullanıma ayrılan arazilerdir.

Divan arazileri: Selçuklularda böyle bir toprak çeşidi yoktur.

Cevap A

11. Karesi Beyliği, Balıkesir ve Çanakkale çevresinde Kalem ve Karesi Bey tarafından kurulan beyliktir. Orhan Bey döneminde Osmanlı egemenliğine girmiştir. Güçlü bir denizcilik alt yapısı vardır.

Cevap B

12. Selçukluların fetih politikasında fethedilen yer fethedene aittir anlayışı vardır. Bu nedenle Tuğrul Bey fetihlerin hızlanması için;

- Irak topraklarını, İbrahim Yinal'a
- Horasan topraklarını Çağrı Bey'e
- Sistan ve Herat topraklarını, Musa Yabgu'ya,
- Kirman topraklarını, Arslan Kavurt'a vermiştir.
- Anadolu topraklarını ise Sultan Alp Arslan ve Kutalmış'ın oğulları fethetmiştir. Sultan Sencer-Büyük Selçukluların yıkılışı sürecindedir.

Cevap E

13. Büyük Selçuklu Devleti;

- Kardeş kavgaları
- Atabeyliklerin bağımsızlıklarını elde etmek için mücadeleye girişmeleri
- Batınilerin ileri gelen devlet adamlarını öldürmeleri ve toplumu bozmaları
- Abbasilerin eski güçlerine kavuşmak için Selçukluların aleyhine çalışmaları
- Türkmenlerin küstürülerek diğer etnik unsurların devlet yönetimine getirilmeleri sonucu yıkılmıştır.

Cevap E

14. Osmanlı Devleti Anadolu Türk Siyasi birliğini sağlamak için farklı metotlar izlemiştir.

I. Murat döneminde Hamitoğullarından İsparta Yalvaç, Akşehir, Beyşehir, Seydişehir gibi yerler 80 bin altına satın alındı. (1381)

I. Murat dönemi: Germiyan Beyi'nin kızını Yıldırım Bayezit'e alarak çeyiz karşılığı Kütahya, Emet, Simav, Tavşanlı alındı. Akabalık kuruldu.

Karamanoğulları ile kız alış veriş yapılarak akrabalık kuruldu.

Bir kısım beylikler savaşlarla alındı.

Cevap A

15. Eyaletlerde yöneticinin beylerbeyi ve adaletin kadı tarafından yapılması yönetim ve yargının birbirinden ayrıldığını gösterir. Sancak ve kazalarda güvenliği subaşı sağlamıştır. Kazalarda kadıların aynı zamanda yönetici olması yargının tam bağımsızlığını engellemiştir.

Cevap E

16. Koyunhisar Savaşı (1302): Beylikten Devlete Geçiş Devri
Çirmen Savaşı (1371): Beylikten Devlete Geçiş Devri
I. Kosova Savaşı (1389): Beylikten Devlete Geçiş Devri
Varna Savaşı (1444): Beylikten Devlete Geçiş Devri
Çaldıran Savaşı (1514): Dünya Gücü Devri
Dünya Gücü (1453 - 1600) yılları arasındadır.

Cevap E

17. Osmanlı Devleti tarıma dayalı bir ekonomiye sahipti. Bu nedenle devlet tarımı destekleyici önlemler almıştır. Ayrıca toprakların büyük bir kısmı devletin kontrolündedir.

Cevap C

18. 1533 İstanbul Antlaşması'yla Avusturya kralı Osmanlı sadrazamına denk sayılmış ve vergi alınmıştır. Böylece Osmanlı üstünlüğü kabul edilmiştir. Bu durum 1606 Zıttoruk Antlaşması'na kadar sürmüştür.

Cevap D

19. Şeyhülislam: Divan'da alınan kararların İslam'a uygun olup olmadığı hakkında karar verirdi.

Defterdar: Bugünkü anlamda maliye bakanıdır. Devletin gelir ve giderlerini ayarlardı.

Kazasker: Askeri davalara bakar, kadı ve müderrislerin atamasını yapardı.

Kaptanıderya: Deniz kuvvetlerinin başıydı.

Reisülküttap: Başlangıçta nişancıya bağlıydı. XVII. yüzyıldan itibaren ayrılmıştır. Yazışmalar ve dış işleriyle ilgilenirdi.

Cevap C

20. Ruslar 1770 yılında Çeşme'de Osmanlı donanmasını yarak, denizlerde Osmanlı'yı savunmasız bırakmayı ve zayıflatmayı amaçlamıştır. Böylece sıcak denizlere inmek istemiştir.

Cevap E

21. Osmanlı Devleti bir vakıf devleti niteliği taşımaktadır. Her alanda yüzlerce vakıf kurulmuştur. Leyleklerin kırılan kanadının tedavisi için, kışın aç kalan yaban hayvanlarına ot ve et temini için, grip gureba için vakıflar kurulmuştur.

Vakıfların temel amaçları;

- Yol, köprü, çeşme yaparak ülkenin bayındır hale gelmesi
- Sosyal toplum için ihtiyaçların karşılanması
- Sağlık ve tedavilerde ihtiyaçların giderilmesi
- İhracat tüccarın işidir. Vakıflarla ilgisi yoktur.

Cevap C

22. III. Selim döneminde Avrupa'ya sürekli elçiliklerin açılması'nın amacı Avrupa'daki gelişmeleri yakından takip etmektir. Avrupa'ya öğrenci gönderilmesi, Avrupa'daki bilimsel gelişmelerden faydalanmaktır. Yeniçeri Ocağı'nın Mahmut döneminde kaldırılması askeri alandaki bir uygulamadır. Yerine yeni ordu kurulmuştur.

Cevap

23. İdadi: Lise Mektebi
Rüştiye: Ortaokul
Sıbyan: İlkokul
Lonca: Esnaf Teşkilatı
Enderun: II. Murat dönemi açılan Fatih döneminde tam teşekküllü hale getirilen devlet adamı yetiştiren okulu.

Cevap

24. Sahibi Tımar: Tımar toprağı verilen kişi
Beylerbeyi: Beylerbeyi diye ayrılan eyaletlerin (Anadolu ve Rumeli) birleşmesiyle oluşan yönetim biriminin yöneticisi.

İhtisab Ağaları: İhtisab vergilerini toplayan kişilerin başı

Kaptanıderya: Deniz ordusunun başı

Mültezim: Tımar sistemi uygulanmayan yerlerde toprağın peşin vergi karşılığı olan iltizama ayrılması. İltizamı alan kişi mültezim

Cevap

25. Rusya'nın güneye inmesinin engellenmesi üzerine Orta Asya'da genişlemesi, Osmanlı'nın XIX. yüzyılda deniz politikası takip etmesi ve İngiltere'nin Osmanlı toprak bütünlüğünden vazgeçmesi zamanla devletlerin politikalarının değişebileceğini göstermektedir.

Cevap

26. II. Mahmut döneminde Avrupa'ya öğrenciler gönderilmesinde ve medreselerin yanında Avrupa tarzı okulların açılmasındaki amaçlar; çağdaş eğitim anlayışının gelişmesi ve Batılılaşma sürecinin hızlanmasıdır. Fakat bu gelişmeler amaçları içerisinde olmamasına rağmen eğitim birliktir. Bozularak kültürel çatışmaya ortam hazırlamıştır.

Cevap

27. Medreseler; Cumhuriyet döneminde kaldırılıncaya kadar Osmanlı döneminin temel eğitim ve öğretim kurumudur. İmaret: Aş evleridir. Kimsesizlerin ve gariplerin yararlandığı yerlerdir.

Enderun: Devlet adamı yetiştiren saray okuludur.

Vakfiye: Vakıfların hangi amaçla kurulduğu, işletme şartlarının yazıldığı kayıtlardır.

Divanîhumayun: Devlet işlerinin görüşüldüğü kuruldur.

Cevap A

28. Osmanlı Devleti Avrupalı devletlerin azınlık haklarını kullanarak içişlerine karışmasını engellemek için Tanzimat Fermanı, Islahat Fermanı ve I. Meşrutiyetin ilanı ile Osmanlılık düşüncesini benimseyerek azınlıklara yeni haklar vermiştir. Senediittifak ise padişah ile ayanlar arasında imzalanmıştır.

Cevap E

29. XIX. yüzyılın sonlarında "Almanya" siyasi birliğini kurarak Avrupa'da siyasi dengeleri değiştirmiştir.

Cevap B

30. Osmanlı Devleti'nin merkezîyetçi bir yapıya sahip olması devletin uzun süre siyasi varlığını devam ettirmesinde etkili olmuştur. Devletin dağılmasında etkisi yoktur.

Cevap E

31. 1929 Dünya ekonomik bunalımı, malî alandan sanayiye, ABD'den tüm dünyaya yayılmıştır. Amerika Avrupa kıtasına verdiği yardımları kesmiş, yatırımları durdurmuştu. Bu durum Avrupa'da işsizliğin artmasına neden oldu. Mali ve ekonomik kriz ABD'de işsizliği artırmıştı.

İşsizliğin artışı Milliyetçi ve Faşist partilere güç kazandırdı. Almanya'da Hitler, İtalya'da Mussoloni iktidara yürümeye başladılar. 1917 Bolşevik Devrimi'yle iktidara gelen Sovyet işçi hareketi bir anda ekonomik krizle sarsıldı. Ancak Sovyetlerin büyümesini durduramadı.

Cevap D

32. Basmacı Hareketi 1916'da, Çarlık Rusyası'nın Orta Asyalı orduya alma emrinden sonra başlamıştır. Basmacıların temel amacı Türkistan'ın bağımsızlığını sağlamaktır. Bunun içinde Türkistanlıların birlikte hareket etmesi gereklidir. Basmacılar Çarlık Rusya'sı yıkıldıktan sonra da mücadelelerini sürdürdüler. Basmacılar Türkistan'ın gelişmesi için modern eğitimi savunuyorlardı. Çarlık Rusyası'nın devamını sağlamak değil yıkılmasını sağlamak için mücadele etmişlerdir.

Cevap D

33. Japonya'da Meiji Restorasyonu (Aydın Hükümet) ile bir dizi ekonomik, siyasi ve sosyal değişim projesi yaşandı. İmparator Mutsihoto ülkesini kalkındırmak için 1868 - 1898 yılları arasında 2190 fabrika kurdu. 1870'de ilk demiryolu yapıldı. 1871'de ilk gazete çıkartıldı. 1871'de "daymiyo" denilen derebeylik sistemi kaldırıldı. 1872'de zorunlu askerlik sistemi kabul edildi.

Bu hızlı gelişim onu sömürgeci devlet haline getirdi. Çin ile yaptığı savaşı kazanarak Mançurya'nın güneyine yerleşti. Böylece Kore'yi kontrol etmeye başladı.

Cevap A

34. Türkiye stratejik önemi nedeniyle hem Müttefik Devletler, hem de Mihver Devletleri tarafından kendi yanlarında savaşa çekilmek istenmiştir (Coğrafi konumu).

Ancak Türkiye izlediği politika ile savaşın dışında kalmayı başarmıştır. Türkiye bir taraftan barışı savunurken diğer yandan Sovyet yayılması ve Alman yayılmasına karşı tedbirlerini almıştır. 19 Ekim 1939'da Üçlü (Türk - İngiliz - Fransız) ittifak antlaşması yapmıştır.

Türkiye savaşın bitmesiyle Birleşmiş Milletlerin dışında kalmamak için 23 Şubat 1945'te Almanya ve Japonya'ya savaş ilan etmiştir. Ancak fiilen savaşmamıştır.

Cevap A

35. Türkiye II. Dünya Savaşı'na fiilen girmese de savaşın olumsuzluklarından etkilenmiştir. Dış ülkelere mal ihracatı durma noktasına gelmiş ve ithalatta sınırlamalara gitmiştir.

Hükümet ekonomik hayata müdahale etmiş, ekmeğe karne ile dağıtılmıştır. Savaş nedeniyle fiyat artışları yaşanmıştır. Tarafsızlığını koruyabilmek için nüfusunun büyük bir kısmını silah altına almıştır. Bu durum üretimi düşürdü. Üretim ve tüketimin özel sektöre devri söz konusu olamazdı. Hatta daha devletçi politikaya geçildi.

Cevap D

36. II. Dünya Savaşı'nda savaş suçları işlemiş suçlular Nürnberg Mahkemelerinde yargılandılar.

Cevap B

37. Komünform: Sovyetler Birliği'nin işgali altındaki ülkelerin savunulması, emperyalizme karşı mücadele edilmesi ve tüm dünyayı kapsayacak bir Sovyet Cumhuriyeti'nin kurulması amacıyla kurulmuştur.

Bir diğer amaç ise ABD'nin Truman Doktrini ve Marshall Planı'yla Sovyet tehdidi altında kalan ülkelere yardım stratejisine karşı Sovyetleri destekleyen ülkelere yardımdır.

Cevap A

38. II. Dünya Savaşı, emperyalist, sömürgeci politikaların çeşitli ideolojilerle paketlenerek insanlara ve toplumlara sunulmasıdır.

Özellikle devletler arası ilişkilerde ideoloji ön plana çıkmıştır. Komünizm'i savunan Rusya ve Çin Soğuk Savaş döneminde beraber hareket etmiştir. Demokrasiyi savunan ABD, İngiltere ve Fransa birlikte hareket etmişlerdir.

Cevap B

39. ABD, Sovyetlerin komünist blok oluşturma ve sosyalist ideolojisini yaygınlaştırması üzerine Sovyet tehdidi altındaki ülkelere askeri, siyasi ve ekonomik yardım yapma kararı almıştır.

Bunu Truman Doktrini ve Marshall Planı şeklinde adlandırmıştır. Truman Doktrini (Mart 1947): Amacı Sovyet yayılmasını önlemek için bölge ülkelere yardımdır. Marshal Planı (Haziran 1947): Amacı özgür Avrupa'yı ekonomik bakımdan kalkındırmaktır.

Cevap D

40. 1960 İhtilali'ni Cemal Gürsel'in başında bulunduğu grup yapmıştır. 1961 Anayasası ve halk oylaması ile Cumhurbaşkanı olmuştur.

1980 İhtilali'ni Kenan Evren ve diğer kuvvet komutanları yapmıştır. 1982 Anayasası ve halk oylamasıyla Cumhurbaşkanı olmuştur.

Cevap B

41. 1829 Edirne Antlaşması ile Yunanistan Osmanlı Devleti'nden bağımsızlığını almıştır.

Pontos Rum Cemiyeti: Kurtuluş Savaşı yıllarında Doğu Karadeniz'de bir Rum Devleti kurmak için mücadele etmiştir.

ASALA: Ermeni Terör Örgütü'dür. 1970'li yıllarda Türk misyon elemanlarını öldürmesiyle gündeme gelmiştir.

Kıta Sahanlığı: Türkiye ile Yunanistan arasındaki karasuları ile ilgili problemidir.

Enosis: 1960'lı yıllardan itibaren Rumların Kıbrıs'lı Türkleri adadan kovarak Kıbrıs Yunanistanla birleştirme hedefleridir.

Megola İdea: Yunanlıların Batı Anadolu, İstanbul ve Kıbrıs'ı alma düşünceleridir.

Cevap A

42. Bu antlaşma Mısır, İsrail ve ABD arasında yapılmıştır. Amerika bu antlaşmalara tanık olarak katılmıştır. Bu antlaşmalarda Orta Doğu barışının esaslarının belirlenmesi, Gazze, Batı Şeria ve Filistin sorununu ele almak şeklinde fikir birliğine varılmıştır.

Ayrıca İsrail ve Mısır arasındaki barışın esasları ve Sina Yarım Adası'nın durumu ele alınmıştır.

Cevap A

43. Kyoto Zirvesi'nin amacı, 1992 tarihli İklim Değişikliği Çevre Antlaşması'nın imzalanmasıdır.

Burada sera gazlarının azaltılması ve küresel iklim değişikliğinin durdurulması için alınacak önlemlerin kararlaştırılması ele alınmıştır. Hidrolik ve nükleer enerjinin yasaklanmasıyla ilgili bir karar alınmamıştır.

Cevap C

44. Küresel ısınma, sel felaketleri, aşırı kuraklık, dev orman yangınları, ani buzul erimeleri, gittikçe artan tayfun ve fırtınalara neden olmaktadır. Depremler yer altı ile ilgilidir.

Cevap C

COĞRAFYA

1. Tayga, orta kuşakta Sibiryaya ve Kanada'da yayılış alanı bulunmuştur.

Cevap A

2. Sibiryaya'nın kuzey kıyıları levha sınırlarında ve fay hatlarında yer almaz.

Cevap C

3. Günümüzde, gelişmiş ülkelerdeki şehirleşme, normal seyirini tamamladığı için, günümüzdeki değişim hızının yavaş olduğu söylenebilir.

Cevap B

4. Sanayi Devrimi'nin yarattığı ortam Manchester'i dünyanın ilk sanayi şehri yapmıştır.

Cevap D

5. Gelişmişlik farkını azaltıcı teşvik ve uygulamalar arasında nüfus artışını özendirmek yer almaz.

Cevap E

6. Kutuplara yakın bölgeler için düzlem, orta enlem için konik, Ekvator çevresi için silindirik en uygun projeksiyon tipleridir.

Cevap B

7. İç Anadolu Bölgesi'ndeki petrol arıtım tesisi Kırıkkale'dedir.

Cevap E

8. İzmit limanı yakınında kurulu olan petro - kimya tesislerinin katkısıyla gelişmiştir.

Cevap B

9. Şanlıurfa'da linyit çıkarılmamaktadır.

Cevap E

10. Türkiye'de hidroelektrik enerji en çok GAP üzerinde kurulmuş olan barajlardan sağlanmaktadır.

Cevap A

11. İtalya petrol yönünden zengin ülkelerden biri değildir.

Cevap E

12. Peri bacaları volkan tüfleriyle kaplı arazilerde, akarsu aşındırmasıyla oluşmuştur. Bu nedenle oluşumunda hem iç kuvvetlerin, hem dış kuvvetlerin etkili olduğu söylenebilir.

Cevap C

13. Borneo Adası Hint Okyanusu'da yer alır.

Cevap E

14. Çin'de sanayi ucuz, kaliteli, özgün ve verimli bir tarzda gelişmiştir. Tarım ürünlerinin sanayileşmenin bu yapısı üzerinde bir etkisi yoktur.

Cevap E

15. Güney Yarım Küre'de dağların kuzey yamaçları güney yamaçlarından daha sıcak olduğundan yerleşmeye ve tarıma daha elverişlidir.

Cevap A

16. Su kaynaklarının paylaşımı doğal, diğerleri ise geçici ve ekonomik unsurlardandır.

Cevap B

FELSEFE GRUBU

1. Psikolojinin konusu gözlenebilen ve ölçülebilen davranışlardır. Bitkiler ise bu tür davranışlara sahip değildir.

Cevap B

2. Parçadaki örnekte etkisi araştırılan koşul yani bağımsız değişken yemek kuyruğunda beklemidir.

Cevap B

3. Parçada hakim tokmağı birkaç kez vuruşu ve annenin çocuğunun ismini birkaç kez tekrarlama, dikkati etkileyen etmenlerden "tekrar"ı gösterir. Tekrarlanan uyarıcının dikkati çekme olasılığı fazladır.

Cevap C

4. Çocuğun babasının yanında sigara içmesi bizim kültürümüzde saygısızlık olarak görülmekte, Avrupa ülkelerinde ise farklı algılanmaktadır. Bu durum, algıların kültürden kültüre değiştiğini gösterir.

Cevap C

5. Annelik, susuzluk, açlık ve uyku fizyolojik bir güdü olup birincil kabul edilen bu güdülerin doyurulması zorunludur. Sevgi ise toplumsal güdü kabul edilir.

Cevap E

6. Parçadaki örnekte y, ş, s, n harfleri anlamlı bir sözcük halinde "yaşasın" olarak daha kolay öğrenilmektedir. Öğrenilecek malzemenin-konuların anlamlı olması öğrenmeyi kolaylaştırır.

Cevap B

7. Göle her gittiğinde balık tutabilmesi balıkçının şartlanmasına neden olmuş, ancak bir süre sonra balık tutamayınca şartlanma sönmüştür.

Cevap B

8. Maslow, her insanın, kendini gerçekleştiremeye de doruk yaşantılar yaşayabileceğini vurgulamıştır. Bu doruk yaşantılar, yaşamdan insani ve anlamlı bir doyum almayı sağlayan, kendini değerli hissettiren, genellikle de başkalarına karşı yapılan anlardır. "Kendi kişiliğini başkalarından üstün görmek" insani doyum sağlayan bir durum değildir, hatta bencilce bir tutumdur.

Cevap D

9. Annesini model alan çocuk (taklit yoluyla öğrenme) hama böceklerinden korkmayı öğrenmiştir. Yani korku öğrenilmiş bir davranıştır.

Cevap D

10. Parçada yer alan örnekteki okulda uyumlu, başarılı ve saygılı çocuk evde farklı davranmaktadır. Yani bireyin davranışları içinde bulunduğu gruba göre farklılık gösterebilir.

Cevap C

11. Parçada verilen, sosyal olayların olduğu gibi yani nesnel olarak incelenmesi; bir sosyologun sosyal olayları incelerken değer yargılarından arınması gerektiğini gösterir.

Cevap C

12. Parçada verilen örnekte ilişkinin oluşması, çocukların birbirinin farkında olmalarına bağlanmıştır. O halde sosyal ilişki için bireyler birbirinden haberdar olmalıdırlar.

Cevap E

13. Bireylerin ruhsal istemini, sığınma ve tapınma ihtiyacını karşılamaya yönelik ortaya çıkan dinler böylelikle insanların psikolojik olarak rahatlamalarını ve kaygılardan uzaklaşmalarını sağlamıştır.

Cevap C

14. Dikey hareketlilik, parçadaki örneklerde olduğu gibi tabakalar arası geçişle de mümkün olur. Bu şekilde dikey hareketliliğe örnek bireyin yurt dışında işçi iken ülkesine dönüşünde ayakkabı fabrikası açmasıdır.

Cevap D

15. Parçadaki örnekte görüldüğü gibi teknoloji ileri olsa bile aynı toplumda gelenek-görenekler varlığını devam ettirmektedirler. Bu durum, toplumsal yapıda ve dolayısıyla kültürde maddi öğelerin çok hızlı değişmesine karşın manevi öğelerin zamanla, yavaş değişmekte olduğunu göstermektedir.

Cevap A

16. Toplum içinde her insanın sahip olduğu statüye bağlı olarak farklı rolleri söz konusu olabilir. Bu parçada da belirli bir statüye sahip olmanın bireyde bir çok rol ortaya çıkardığı görülmektedir.

Cevap D

17. Monografi; aile, köy gibi küçük grupların ya da bir örnek olayın tüm değişkenleriyle derinlemesine bir şekilde incelenmesidir. Seçenekler arasında yer alan "örnek bir işçi ailenin tüm ayrıntılarıyla incelenmesi" monografi çalışmasıdır.

Cevap E

18. Parçada farklı bölgelerdeki insanların farklı ihtiyaçlara sahip olduğu belirtilmiştir. O halde insanların içinde bulunduğu doğal çevre ihtiyaçların çeşitlilik göstermesinin nedenlerinden biridir.

Cevap D

19. Parçada verilen örnekte Bruno gibi bilim adamlarının kendi çıkarlarını düşünmeyip doğru bildiğini savunmasıyla insanlığın ilerleyebildiği vurgulanmıştır. Dolayısıyla bilim adamları araştırmalarında kendi çıkarlarını karıştırmamalı ve doğruyu savunmalıdırlar.

Cevap E

20. Sosyal olaylar zorlayıcıdır. Toplumun istemediği davranışlar bireyin toplumca dışlanmasına, ayıplanmasına neden olur. Bu nedenle, toplumsal olaylar bireye baskı yapar ve kendine uymaya zorlar.

Cevap D

21. Parçada psikoloji ile mantığın zihni ele alışlarının farkı verilmiştir.

Cevap C

22. Parçada dilin birçok görev yüklediği vurgulanmıştır.

Cevap E

23. "Her insan canlıdır.", tümel olumlu (A) bir önermedir. Tümel olumlu (A) önermesinin eş değeri "tikel olumlu" önermedir (Düz döndürme kuralına göre). Bir önermenin düz döndürmesi alınırken özne ile yüklem yer değiştirir.

Her insan canlıdır. (A)

~~Bazı canlılar insandır. (I)~~

Cevap A

24. Altık önermelerin nitelikleri aynı, nicelikleri farklıdır. Bu nedenle tümel olumlu ile tikel olumlu, tümel olumsuz ile tikel olumsuz önermeler arasında altık ilişkisi vardır.

Cevap A

25. Kıyas kurallarına göre iki tikel öncülden sonuç çıkmaz. Parçada kıyasın sonuç önermesinin tikel olumlu olduğu verilmiş, yani bir sonuç çıkarılmıştır. Bu nedenle, bir sonuç ulaşılmışsa, o kıyasın öncüllerinin her ikisinin de tikel olduğu söylenemez.

Cevap B

26. I. önermede \Rightarrow , II. önermede \neg , III. önermede \wedge , IV. önermede \Leftrightarrow , V. önermede \vee eklemi kullanılmıştır.

Cevap E

27. Bir önermenin bileşik olması \neg , \wedge , \vee , \Rightarrow , \Leftrightarrow eklemelerinden birini almasına bağlıdır.

Cevap D

28. p ile q gibi iki önermenin tutarlı olması en az bir defa aynı yorumlamada "D" değerini almalarına (p ile q önermesinin "D" lerden oluşan en az bir satırının olmasına) bağlıdır. p ve q önermeleri üçüncü yorumlamada "D" değeri almıştır. r ve s önermeleri ise hiçbir satırda "D" değeri almamıştır.

Cevap D

29. Geçerlilik ile tutarlılık ilişkisine baktığımızda kesin olan iki durum vardır.

I. Her geçerli önerme tutarlıdır.

II. Her tutarsız önerme geçersizdir.

I. durumu gösteren diyagram C seçeneğinde verilmiştir.

Cevap C

30. Verilen diyagramdan; "Her çiçek bitkidir." ve "Bazı bitkiler çiçektir." önermeleri çıkar. "Her çiçek bitkidir." önermesi "Çiçekse bitkidir." ($Cx \Rightarrow Bx$) anlamındadır. Önermenin başındaki "Her" tümel niceleyicidir. ($\forall x$) Bunun için "Bütün çiçekler bitkidir." önermesi $\forall x(Cx \Rightarrow Bx)$ şeklinde sembolleştirilir.

Cevap A

Cevap Anahtarı

TARİH

1. E	6. C	11. B	16. E	21. C	26. A	31. D	36. B	41. A
2. A	7. D	12. E	17. C	22. C	27. A	32. D	37. A	42. A
3. D	8. B	13. E	18. D	23. D	28. E	33. A	38. B	43. C
4. E	9. C	14. A	19. C	24. E	29. B	34. A	39. D	44. C
5. D	10. A	15. E	20. E	25. E	30. E	35. D	40. B	

COĞRAFYA - 2

1. A	5. E	9. E	13. E
2. C	6. B	10. A	14. E
3. B	7. E	11. E	15. A
4. D	8. B	12. C	16. B

FELSEFE GRUBU

1. B	6. B	11. C	16. D	21. C	26. E
2. B	7. B	12. E	17. E	22. E	27. D
3. C	8. D	13. C	18. D	23. A	28. D
4. C	9. D	14. D	19. E	24. A	29. C
5. E	10. C	15. A	20. D	25. B	30. A